

# 2009年四川省公务员录用考试《行测》真题（下半年-考生回忆版）

更新时间：2024年12月09日15:39:55

扫描下方二维码下载星光公考APP 刷海量题库掌握最新热点



QQ扫码直接下载  
微信扫码到应用市场下载  
支持所有机型哦

### 第一部分 - 数量关系

在这部分试题中，每道试题呈现一段表述数字关系的文字，要求你迅速、准确地计算出答案。你可以在草稿纸上运算。

1. 2, 8, 18, 32, ( )

- A. 48                          B. 50                          C. 64                          D. 72

2. 4, 3, 2, 0, -3, -8, ( )

- A. -15                          B. -16                          C. -17                          D. -18

3. 6, 22, 39, 60, 90, ( )

- A. 136                          B. 124                          C. 118                          D. 112

4. 33, 37, 42, 49, 59, ( )

- A. 71                          B. 72                          C. 73                          D. 74

5.  $\frac{1}{140}$ ,  $\frac{1}{80}$ ,  $\frac{1}{45}$ ,  $\frac{1}{25}$ , ( ) 【2009-四川下-005】

- A.  $\frac{1}{15}$   
B.  $\frac{1}{10}$   
C.  $\frac{1}{7}$   
D.  $\frac{4}{55}$

6.  $2010 \times 2010 \times 2009 - 2010 \times 2009 \times 10001 =$

- A. 2010                          B. 2009                          C. 1001                          D. 0

7. 式子  $\sqrt{3} - 1$ ,  $2 - \sqrt{2}$ ,  $\sqrt{6} - 2$ ,  $2\sqrt{2} - \sqrt{6}$ ,  $\sqrt{11} - 3$  中最大的一个是:

- A.  $\sqrt{3} - 1$   
B.  $2 - \sqrt{2}$   
C.  $2\sqrt{2} - \sqrt{6}$   
D.  $\sqrt{11} - 3$

8. 甲、乙、丙三名羽毛球选手某天训练中分别用了A、B、C个羽毛球，总数为56个，若A: B=B: C，那么乙选手所用羽毛球数是:

- A. 16                          B. 12                          C. 9                          D. 8

9. 某单位职员在健身活动中举行乒乓球比赛，每个选手都要和其他选手各赛一场，一共120场比赛，则该单位参加人数是多少人:

- A. 18                          B. 16                          C. 15                          D. 14

10. 某人将一张百元人民币换成零钱，他希望所换零钱的最低币值为10元，共有换法总数为:

- A. 8                          B. 6                          C. 4                          D. 9

11. 某医院统计某天求诊的病人，内科150人，外科90人，内外科都求诊的20人，这天一共有多少病人:

- A. 240                          B. 220                          C. 200                          D. 170

12. AB两地间有条公路，甲从A地出发步行到B地，乙骑摩托车从B地不停的往返两地之间，若它们同时出发，80



23. 中国特色社会主义理论体系产生、形成于改革开放的伟大实践，又指导着改革开放的历史进程。其中，邓小平理论是对什么是社会主义、怎么建设社会主义的\_\_\_\_\_解读；“三个代表”重要思想是对建设什么样的党、怎么建设党的\_\_\_\_\_的回答；科学发展观是对实现什么样的发展、怎样发展的\_\_\_\_\_总结。

- A. 奠基性 创造性 开拓性 B. 奠基性 深刻性 科学性  
C. 根本性 全面性 实践性 D. 根本性 先进性 时代性

24. 一些法学学者缺乏对\_\_\_\_\_在技术层面展开的研究，只是从表面上对儒家传统治理方式的批判，喜欢大的宏观理论而厌倦所谓的雕虫小技，这是对法律人集体经验和智慧的\_\_\_\_\_。

- A. 法制 漠视 B. 法制 敌视 C. 法治 漠视 D. 法治 敌视

25. 西南某高校校长日前在接受记者采访时透露，为预防研究生学位论文抄袭，学校下一步将考虑\_\_\_\_\_“反剽窃”软件。据悉，该校已经在网上发布软件研制招标公告和相关\_\_\_\_\_。

- A. 起用 启事 B. 起用 启示 C. 启用 启事 D. 启用 启示

26. 下列句子中，成语使用正确的一项是：

- A. 大家就环保问题缘木求鱼，踊跃发言，热烈讨论，已经预示着此次研讨会将获得巨大的成功。  
B. 暴雨导致山体滑坡，大量房屋塌陷，解放军战士明火执仗，在深山老林里寻找幸存者的下落。  
C. 日本侵略者的士气受到巨大重创，众多迹象集中显示其最主要的原因是师出无名，不得人心。  
D. 改革开放三十年来，电子技术企业经过革新，产量和质量迅速上升，收到了事倍功半的效果。

27. 下列句子中，有歧义的一项是：

- A. 没有人愿意说出这个秘密。 B. 组织上已经调查过黄主任。  
C. 教育局采取了我们的建议。 D. 我特别喜欢早晨起来读书。

28. 下列句子中，有语病的一项是：

- A. 篮球巨星奥尼尔深受广大球迷所欢迎，因为他不仅球艺精湛，而且很幽默，给球迷们带来了许多快乐。  
B. 一篇文章只有当它不仅能够给人以心智的启迪，也能够给人以美的陶冶的时候，才能算是一篇好文章。  
C. 衡量一个社会文明程度的标尺在于看它在多大程度上、多大的范围内为个人自由充分的发展提供可能。  
D. 人们的内心都有漂泊的冲动和流浪的向往，渴望新鲜的感受和生命的奇遇，这是自由探索的力量源泉。

29. 下列句子中，没有语病的一项是：

- A. “日全食”发生那天，各大媒体的新闻记者和新闻采访车、天文学家和天文爱好者都放弃了休息，自始至终关注这一天文奇观。  
B. 试问，高考文理分科的科学性在哪里？是不是只学习文科或者只学习理科，人人就可以顺利成才了呢？我的回答是肯定的。  
C. 现代派画家往往通过绘画来表达自己的敏锐的视觉感受，又从对艺术作品的感性体验，成功地过渡到对历史问题的理性思考。  
D. 国家推行“三支一扶”政策的目的，就是积极采取各种办法培养和提高中小学教师水平，尤其是西部地区的师资水平。

30. 下列句子中，没有歧义的一项是：

- A. 别急着走啊，我还没来得及和你算账呢。  
B. 塑造完美形象，引领时代潮流，需要从头开始。  
C. 那人已经没生气了，我们不用再管他了。  
D. 好的，我马上给你们办理。

31. 下列句子中，没有歧义的一句是：

- A. 我就不相信你今天不来。  
B. 晓明没有爸爸哪儿也不去。

C. 天天都吃同一种杂酱面真是倒胃口。

D. 一群兴高采烈的孩子和老师走在乡间的田野上。

32. 下列句子中，有歧义的一句是：

A. 因涉嫌洗钱案众多疑点，陈水扁一家人昨日再受传唤。

B. 考试制度催生和促进了中国类型多样的考试经济。

C. 岁末将近，北京瑟瑟的寒流中吹起一股热辣的“韩流”。

D. 注意区分普通感冒与H1N1病毒引发的高烧症状。

33. 下列语句中，没有语病的一项是：

A. 为减少对耕地的占用，京沪高铁这一中国最先进的铁路线全程4个多小时，被普遍应用。

B. 政府是公共服务的提供者，政府补贴铁路客运的低廉票价，是世界许多国家的通行做法。

C. 铁路部门考虑不仅在京沪高铁上开发多元化的客运产品，而且增设卧铺。

D. 正在建设的国家重点交通基础设施项目京沪高速铁路，将使有着百年铁路史的镇江进入全新的高速火车时代。

34. 下列语句中，有语病的一项是：

A. 各地要密切关注商品房价格运行态势，研究具体对策，加强价格行为监管力度。

B. 截止2007年开始，随着商品房价格上涨，居住用地的地价水平和增速达到了历史最高水平，呈现了前所未有的需求膨胀。

C. 对一些中低收入家庭而言，当商品房价格高涨时，他们很有可能就会进入二手房市场。

D. 然而，就在首批限价房建设过程中，房地产市场经历了一场波及全国的调整，限价房在一些城市逐渐失去价格优势。

35. 下列语句中，有歧义的一项是：

A. 我们这几天就像生活在云端，一切都不真实。

B. 随着新媒体的涉足，事件传播的范围日益扩大。

C. 李东告诉我，等他来了就开始工作。

D. 戴高乐机场屋顶坍塌是由于结构设计失误所造成的。

36. 从根本上讲，工具理性是一种技术理性。现代化资本主义将大规模工业研究和科学技术综合为一个系统，这使得科学失去了独立性，转而成为了行政化的控制手段。工具理性渗透到社会结构和社会生活的各个方面，开始对人进行全面的统治、控制以及把控。正如马尔库塞所言，韦伯所说的“理性化”所实现的是一种特殊的、未被公认的支配形式，科技的工具理性化的结果为一般既存体制的支配机器提供了合法性基础。

下列对“工具理性”的阐述，不符合文意的一项是：

A. 使得科学丧失了自主，沦为行政的附庸。

B. 已成为了行政的支配形式，成为了统治形式本身。

C. 作为一种技术理性，能够渗透到社会和统治的各个方面。

D. 成了社会的组织原则，为既存体制的运转提供了合法性依据。

37. 关于批评有一种概念，这种概念的批评表现得像是地方行政官和法官，正像另一种概念的批评表现得像是一个学究气十足的教师和暴君一样：这种概念认为批评的责任不是促进和指导艺术的生活——如果你愿意，可以说，艺术的生活只受到历史的促进和指导，即促进和指导艺术生活的是历史进程中心灵的复杂运动——而仅仅是在已经产生的艺术中区分美与丑，以完全严谨的见解严肃地肯定美的，否定丑的。

不符合文段中“这种概念的批评”意见的一项是：

A. 这种概念的批评表现得像是地方行政官和法官。

B. 这种概念的批评反对批评的责任是促进和指导艺术的生活。

C. 这种概念的批评反对艺术的生活只受到历史的促进和指导。

D. 这种概念的批评主张批评仅仅是在已经产生的艺术中区分美与丑。

38. 1998年1月，“中国第一个航天团队”组建，杨利伟、费俊龙、聂海胜、翟志刚、刘伯明和景海鹏等成为我国第一代航天员。杨利伟驾“神五”，圆了中国人千年飞天梦；费俊龙、聂海胜乘“神六”，逡巡天宇五日五夜；翟志刚、刘伯明和景海鹏驾“神七”，迈出了太空行走的第一步。“神舟系列”一次更比一次彰显着中国龙的腾飞力量。

从中不能得出的结论是：

- A. 从“神五”、“神六”到“神七”，三次飞天，三创辉煌
- B. 杨利伟、翟志刚等是新时代、新世纪里出现的新的中国英雄
- C. 中国的航天科技飞速发展，已跻身于世界第一流国家行列
- D. 中国航天事业蒸蒸日上，迈入了一个新时代

39. 在诗的形式上，早期白话诗主要表现出散文文化的倾向。基本不用韵，不顾及平仄，随情感的起伏变换长短句式，如同泉水缓缓流过，自然形成了舒缓自如的内在节奏；同时，大量运用虚词，采取了白话散文的句式与章法，以清晰的语义逻辑联结诗的意象；这都根本有别于传统诗歌。而另有少部分早期白话诗人则热衷于向民间歌谣传统的吸取与借鉴。

根据以上文字关于早期白话诗的说法，下列不正确的是：

- A. 散文化倾向明显，不强调韵律与平仄，明显区别于传统诗歌。
- B. 注重诗歌情感的内在张力，抒情舒展自如，形成行云流水般的表达风格。
- C. 不注重诗歌自身的句式与章法，偏重语义的清晰性与表达的逻辑性。
- D. 较早形成俯身向下关注民生疾苦，学习民歌精华的现实主义新诗传统。

40. 国家新闻出版总署署长柳斌杰一次在谈到版权保护问题时说：“中国政府大力推进软件正版化工程。国家领导人亲自到微软去采购正版软件，政府采购一次就是几十亿美元……正版化过程都是政府买单。所以，我觉得在这种情况下，微软公司应该和中国很好地合作，来解决技术进步中出现的问题，而不应该用这种损害用户利益的措施来保护知识产权。否则，技术垄断只能适得其反。”

通过柳斌杰的这段话可以看出其真实态度是：

- A. 打击盗版，提倡正版软件，保护知识产权
- B. 注重政府形象，重视并看好与微软公司的合作
- C. 对微软公司的技术垄断行为提出委婉批评
- D. 保护用户利益比保护知识产权更重要

41. 美国科学家本周宣称，到2100年，“温室效应”引发的地球升温造成气候发生巨大的改变。根据美国政府环保署发布的一份报告，地球大气层的温度正在不断上升，到本世纪中叶，全球温度会上升2℃，而到2100年时会上升5℃。环保署声称，“全球发生温度激增的时间可能比我们大多数人认为的要早”。

从这段话可以推知（）。

- A. 美国科学家已经发现地球的“温室效应”
- B. 人们已经普遍接受了地球“温室”理论
- C. 地球上的温度肯定会发生巨大的改变
- D. 我们大多数人低估了地球升温的速度

42. 现代经济以金融为核心，信贷一定程度上就是“信心”的代名词。货币信贷快速增长，有利于打掉通缩预期，提振市场信心，防止陷入通货紧缩与经济下行相互加强的恶性循环。目前，一些项目虽有政府信用为依托，但银行对地方政府未来的可支配财力、隐性负债等往往难以获得及时、全面、准确的信息，一旦地方财政出现困难，无疑将影响银行的信贷资产质量。

从这段话我们可以了解，货币信贷要注重（）。

- A. 适度增长
- B. 优化结构
- C. 防范风险
- D. 防止通胀

43. 2009年6月7日，上海普通高校统一招生考试第一天，上午10时59分，有网友在某论坛上发帖，题为《高考作文题出来了：金融风暴中的我》。新浪、网易、搜狐等网站均被误导，发布消息“2009年上海高考作文题目：金融风暴中的我”。当天下午，上海电视媒体也在新闻节目中作了误报。后经证实，今年高考上海卷语文考试

的作文是一道关于“郑板桥的书法”的材料题。

从这段话我们可以了解，造成上海高考报道失实的首要原因是（）。

- A. 网络监管不到位      B. 权威信息不透明      C. 新闻媒体的竞争      D. 记者素养的缺失

44. 成都草堂小学和水立方、国家大剧院等同获中国建筑学会建筑创作奖。从报道中的图片看，该小学的确外表美观，造型新颖。设计者称，校舍以“阳光下的水滴”为设计构思，充分表达了在我国素质教育的原则下，尊重个性发展，尊重少年儿童人格特征的理念。至于评委会是否这么认为，公众不得而知，但很显然的是，该校舍之所以能获得建筑最高奖，最主要的原因，恐怕还在于第二个理由：该校舍在“5·12”地震中未有丝毫损伤。对这段话的理解，错误的一项是：

- A. 缺乏人性的建筑是丑陋甚至邪恶的。      B. 生命关怀是一种令人尊敬的建筑创意。  
C. 只有传达生命、灵魂和美的才是建筑。      D. 只有在保证安全的基础上建筑才有意义。

45. 地震研究人员指出：“地震不仅对人类的现在造成巨大危害，也对世界的未来带来危险。幸运的是，科学家已经开始利用卫星系统预测地震的爆发。如果乐观者的估计正确的话，那么将来有一天人们随时会知晓地震的威胁。不过，存在一个问题，需要做的工作取决于不断运用卫星系统和地面监控系统。目前，地震学家正在发布一个新的警告，那就是，为这项工作筹集资金相当困难。”

这段话可以让我们了解，地震研究人员对于地震预测前景的态度是（）。

- A. 悲观的      B. 怀疑的      C. 忧虑的      D. 遗憾的

46. 互联网作为思想文化的集散地和社会舆论的放大器，发挥了越来越突出的作用。在社会矛盾的多发期，民生问题、环保问题、住房问题、腐败问题将在第一时间成为网上舆论的焦点和热点，能否善用网络正成为考验党和政府执政能力的新课题。在“华南虎事件”、“彭水诗案”和前些年的“孙志刚事件”中，网民参与的热情都成为事件本身以外的社会热点。

关于互联网，文段没有涉及的一项是（）。

- A. 成为政府与民众对话的有效方式      B. 成为公民参与政治问题的新途径  
C. 是现代生活不可或缺的舆论工具      D. 是对党和政府执政能力的新考验

47. 与国内老百姓的满意相比，对外宣传是次要的，和国家的国际形象没有特殊的关系。想通过加大宣传力度来改善形象，认为声音大、报道多、翻译成多种外文就能有好形象，这是中国人自己的思维方式，在信息充分披露的西方社会是行不通的。当然，宣传的手法应该改善，如果宣传的内容中国人自己都不信，又如何说服外国人？

对这段文字概括最准确的是（）。

- A. 对外宣传对塑造国家形象并不重要      B. 通过大力宣传来塑造国家形象是行不通的  
C. 国家国际形象的关键是国内老百姓的满意度      D. 对外宣传的手法应该改善

48. 现实地看，近几年快速增长的风电、太阳能光伏发电、生物质能以及发展了20多年的核电都难以改变我国的电力结构。依靠新能源的替代作用，实现节约能源，减少污染排放并不现实。在国家《可再生能源中长期规划》中，到2020年，可再生能源的比例要达到15%，其中水电要从2008年的1.7亿千瓦增长到3亿千瓦，是最大的增量。风电、生物质能发电、太阳能光伏发电等新能源只能占到4%左右，发电量的比例还要更低。

对这段文字概括最准确的是（）。

- A. 新能源难以改变我国的电力结构      B. 依靠新能源减少污染排放并不现实  
C. 水电在未来的发展是有最大的增量      D. 新能源发电量的比例越来越低

49. 《论语》中经常出现“君子”一词。“君子”原意为有地位的人。一国之主被称为君主，一村之长被称为里君。在儒教看来，即便是没有地位，但若是“有德之人”，同样可以成为君子。即便是在野之人，能以国家之责为己任，亦为君子。并且，《论语》中也有多处“君子”既可解释为在位者，也可以解释为有德才之人。

根据以上文段，对“君子”的理解最准确的是（）。

- A. 有地位的人是“君子”      B. “有德之人”是“君子”

C. 有地位的人和有德之人是“君子”

D. 在野之人也可以是“君子”

50. 在漫长的岁月中，新疆各族人民建立了深厚的感情，创造了了不起的业绩。民族有别，信仰有别，饮食有别，风俗有别，但是这丝毫不妨碍他们融合在一个伟大的共同体——中华民族的大家庭里边。这是比石油和黄金珍贵百倍的财富。没有这样一个基础，新疆不可能发生翻天覆地的变化；没有这样一个基础，乌鲁木齐这个最遥远的内陆城市，不可能以如此惊人的速度发展得如此繁华、如此现代。

对这段文字概括最准确的是（ ）。

A. 新疆各族人民建立了深厚的感情

B. 新疆各族人民融合在中华民族的大家庭里边

C. 新疆发生了翻天覆地的变化

D. 新疆各族人民的融合是新疆发展的基础

### 第三部分 - 判断推理

本部分包括图形推理、定义判断、类比推理与逻辑判断四种类型的试题，请按每道题的答题要求作答。

51. 假言判断是断定一个事物情况的存在是另一个事物情况存在的条件的命题，假言推理是指大前提是假言判断的演绎推理。

下列不属于假言推理的是：

A. 考试成绩不好，或是由于复习方法不对，或是由于临场发挥不好，王新同学这次考得不好，不是复习方法不对，所以一定是临场发挥不好

B. 想当翻译就要学外语，我又不想当翻译，何必费力学外语

C. 如果没有特别的原因，公司一般不会批准职员们的事假，公司批准了职员陈列的事假申请，看来一定有特别的原因

D. 如果太阳晒得厉害，李明就不会去游泳，今天太阳晒得很厉害，由此可以断定，李明没有去游泳

52. 边民互市贸易是指边境区边民在我国陆路边境20公里以内，经政府的批准开放点或指定的集市上，在不超过规定的金额或数量范围内进行的商品交换活动。

下列各项中最有可能属于边民互市贸易的是：

A. 家住四川的小李到北方旅游，在离中俄边境很近的俄罗斯境内购买了一些漂亮的但是价值并不高的俄罗斯民间艺术品

B. 胡某是越南人，生活在越中边境地区的越南境内，虽然家境不是很富裕，但是每天他都会步行二十分钟越过国境线到中国境内买他喜欢吃的中国美食

C. 在我国跟尼泊尔的边境方圆不超过20公里范围内的两国的外贸公司之间总是进行着一些小额贸易

D. 中国的工业产品在缅甸非常受欢迎，中国某公司生产的摩托车行销缅甸全国

53. 完全归纳推理是指根据某一类事物中的每一个事物都具有某种性质，推出该类事物普遍具有这种性质的结论。下列属于完全归纳推理的是（ ）。

A. 金导电；银导电；铜导电；铁导电；铝导电；锡导电；所以，一切金属都导电

B. 贪赃枉法的人是必定会受到惩罚的，你们一贯贪赃枉法，所以，你们今天是必定要受到法律的制裁、人民的惩罚的

C. 在奴隶社会里文学艺术有阶级性；在封建社会里文学艺术有阶级性；在资本主义社会里文学艺术有阶级性；在社会主义社会里文学艺术有阶级性；所以，在阶级社会里，文学艺术是有阶级性的

D. 我们在动物、植物中发现细胞，又在植物细胞中发现了细胞核，由此推导在动物细胞中也有细胞核，后来用显微镜观察，果然在动物的细胞中发现了细胞核

54. 市场定位是指企业根据竞争者现有产品在市场上所处的位置，针对顾客对该类产品某些特征或属性的重视程度，为本企业产品塑造与众不同的，给人印象鲜明的形象，并将这种形象生动地传递给顾客，从而使该产品在市场上确定适当的位置。

根据上述定义，下列各项中最符合市场定位的是：

A. 某地打算发展旅游业，经过对外地考察，发现一些地方因兴建仿古街、发展农家乐赚了不少钱，于是决定在



本地规划几条仿古街，并鼓励农民兴办农家乐

- B. 某公司根据自己自身技术优势，选择与农民合作发展种植业，采用类似野生的方式种植野菜
- C. 某企业为了让自己的产品销路更广、销量更大，打出广告说该产品适用于各种人群
- D. 由于社会竞争越来越激烈，年轻人的工作压力越来越大，很多人愿意在业余时玩一些不动脑筋的又能回归自然的游戏，而不是那些耗时耗精力的游戏，某网站趁机推出开心农场游戏

55. 舆论是指相当数量的个人、群体或组织对公共事务所发表的倾向一致的议论。

下列属于舆论的是：

- A. 某公司领导成员全体到会向新职工介绍公司发展前景
- B. 某航空公司发生飞行员集体返航事件后，很多乘客认为这些飞行员对乘客的安全不太负责任，表示不愿乘坐该航空公司的飞机
- C. 李勇的亲戚朋友对他家购买的新房一致赞赏
- D. 高山对本公司的某一决策发表不同意见

56. 技术壁垒是商品进口国在实施贸易进口管制时，通过颁布法律、法令、条例、规定、建立技术标准、认证制度、卫生检验检疫制度、检验程序以及包装、规格标签和标准等，提高对进口产品的技术要求，增加进口难度，最终达到限制进口、保障国家安全、保护消费者利益和保持国际收支平衡的目的非关税壁垒。

以下属于技术壁垒的是：

- A. 乙国政府认为，甲国在乙国的纺织品价格过低，已经使本国纺织品行业受到实质损害，于是对甲国纺织品实施反倾销调查，由此甲国纺织品的出口受到限制
- B. 某国生产的皮鞋，因被发现质量严重不合格，其使用的胶水含有大量有毒物质，而被欧盟禁止进口
- C. 日本于2006年5月29日，正式实施“肯定列表制度”，将进口茶叶残留检测项目由71项增加到276项
- D. 某国的法律规定，在政府采购时禁止采购外国商品，以支持本国产业的发展

57. 国际责任是指国际法主体对其国际不当行为或损害行为所应承担的法律责任。

下列事件中，应当承担国际责任的是：

- A. 甲国发生的叛乱运动已被甲国政府和国际社会承认为叛乱团体，该叛乱团体在其控制的一些地区，强行掠夺和占用外国侨民和外国国家的财产
- B. 甲国某船运公司的一艘核动力商船在乙国港口停泊时突然发生核泄漏使乙国港口被污染，造成严重损害后果
- C. 甲国警察布某，因婚姻破裂而绝望，某日持枪向路人射击，甲国警察迅速赶到事发现场，采取措施控制事态并围擒布某，但布某的射击已经造成数人死亡，其中包括乙国驻甲国的参谋科某
- D. 甲国远洋货轮在航行中撞翻了乙国渔船

58. 政治避难是指一国公民因政治原因，向另一国请求准予进入该国居留，或已进入该国请求准予在该国居留的行为，一个国家对于请求政治避难的外国人，准许其入境、居留并给予法律保护，国际法上称之为“庇护”，庇护的外国人，通称政治避难者，在所在国的保护下，不被引渡或驱逐。

以下各项中属于政治避难的是：

- A. 陈某是中国公民，跟朋友发生争执，错手将朋友打死，怕受到严厉的刑事处罚，偷渡到了甲国
- B. 李某是我国某商业银行行长，贪污受贿数额巨大，案发之前办好签证，顺利到了乙国，乙国是一个废除死刑的国家，以李某被引渡回国很可能会被判处死刑为由而拒绝引渡
- C. 丙国总理，因为本国发生了轰动世界的军事政变而流亡到了丁国，以巨额投资为代价，经申请被允许在丁国长期居住
- D. 卯国前总统，卸任以后在A国购置了不动产，一直居留于A国

59. 社会救助是指国家通过国民收入的再分配对因自然灾害或其他经济、社会原因而无法维持最低生活水平的社会成员给予救助，以保障其最低生活水平的制度。

根据上述定义，下列各项中不属于社会救助的是：

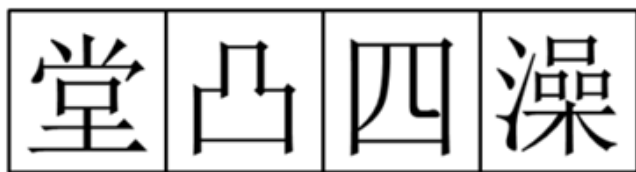
- A. 农村的五保户每年每人可按照一定标准从民政部领取一定的供养费
- B. 地震之后，政府向灾区群众每月发放必需的粮食和生活日用品
- C. 我国实行九年制义务教育，实施义务教育，不收学费、杂费
- D. 政府设立救助站对求助的流浪乞讨人员提供符合食品卫生要求的食物和符合基本条件的住处，对没有交通费返回其住所地或者所在单位的，提供乘车凭证

60. 挤出效应是指在一个相对平面的市场上，由于供应、需求有新的增加，导致部分资金从原来的预支中挤出，而流入到新的商品中。

下列不属于挤出效应的是（ ）。

- A. 张某换了新工作，上班地点离家太远，于是他从准备的购房款中抽出部分先买了车
- B. 路某父母从外地搬来和他一起居住，住房太拥挤，他把原来准备买车的钱拿出了一些租了一套更大的房子
- C. 金某弟弟意外受伤，需要大笔医药费，他把自己准备度蜜月的旅游费拿出一半付了弟弟的医药费
- D. 林某预计用10万元装修新房，结果少花了一万元，于是他买了一台手提电脑


61. 从所给四个选项中，选择最合适的一个填入问号处，使之呈现一定的规律性：【2009四川下061】



A                  B                  C                  D

- A. 如图所示
- B. 如图所示
- C. 如图所示
- D. 如图所示

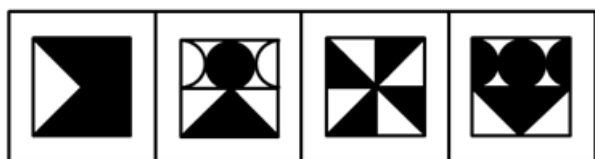

62. 从所给四个选项中，选择最合适的一个填入问号处，使之呈现一定的规律性：【2009四川下062】



A                  B                  C                  D

- A. 如图所示
- B. 如图所示
- C. 如图所示
- D. 如图所示

63. 从所给四个选项中，选择最合适的一个填入问号处，使之呈现一定的规律性：【2009四川下063】



A

B

C

D

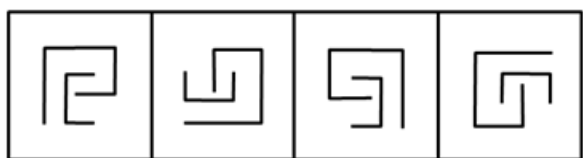

A. 如图所示

B. 如图所示

C. 如图所示

D. 如图所示

64. 从所给四个选项中，选择最合适的一个填入问号处，使之呈现一定的规律性：【2009四川下064】



A

B

C

D

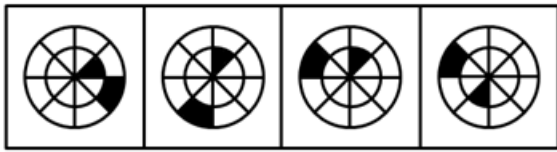
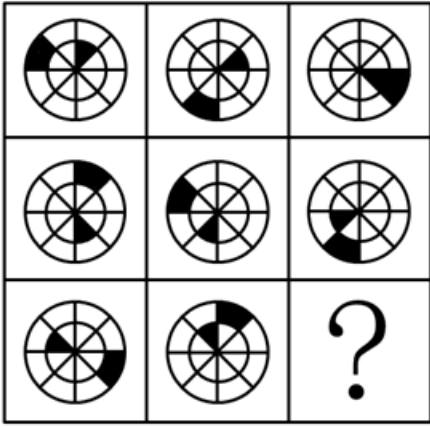
A. 如图所示

B. 如图所示

C. 如图所示

D. 如图所示

65. 从所给四个选项中，选择最合适的一个填入问号处，使之呈现一定的规律性：【2009四川下065】



A. 如图所示                      B. 如图所示                      C. 如图所示                      D. 如图所示

66. 小朱生日那天状态很好，特地邀约了小王、小张、小刘、小李这四个好朋友到家里吃饭，小朱妈妈为他们准备了丰盛的晚餐，按照当地习俗，小朱吃了妈妈专门给他煮的一只鸡蛋，用餐过程中，大家还开玩笑地警告肠胃最差的小王，不要吃太多，小心拉肚子。桌上的每道菜所有人都品尝了，小王不顾大家警告，吃得最多。结果饭后不久小朱便出现腹泻的症状，其他人却没有问题。

以下各项中，最能解释小朱腹泻的是：

A. 小朱的妈妈在做菜的过程中没有做好卫生防范，可能菜没有洗干净，或者可能生食熟食没有分开切

B. 小朱这天肠胃特别不好，只不过他没有感觉到而已

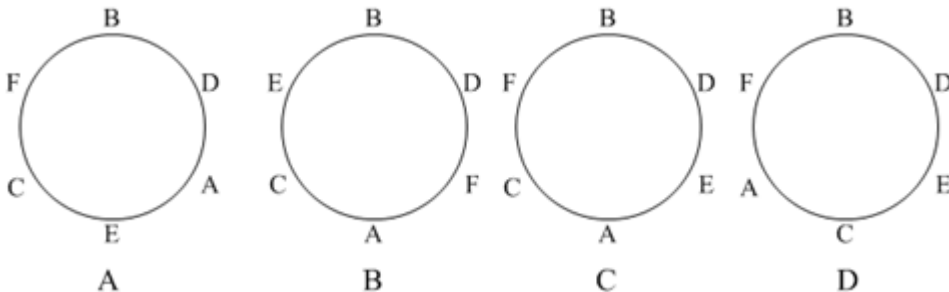
C. 某道菜用的原材料很可能是反季节菜或者转基因食品，食用过多容易引起腹泻

D. 桌上有菜是不能跟鸡蛋一起吃的，否则会引起腹泻

67. A、B、C、D、E、F分别代表六个人，他们团坐一张圆桌，安排座位时必须满足下列条件：

1. 按照英文字母排列顺序，相邻的字母不能成为邻座，如A、B不能邻座
2. B至少跟C、D中一个相邻
3. E和F之间不得少于两人。

那么下列各项中，符合上述要求的是：



A. A                                      B. B                                      C. C                                      D. D

68. 每个人都有自己的乐趣。有一位大师生前曾说过：“在工作和基本生活之外，我唯一做的事情就是看书。”可见：

A. 大师之所以成为大师，就是因为跟普通人不一样，他们把用于玩乐的时间全部用在了学习上，所以才取得了不同于常人的成就

B. 大师其实有自己的乐趣，之所以这么说，主要是想通过自身的影响力，号召年轻人养成看书的习惯

- C. 大师是想在大众面前树立一个爱学习爱钻研的形象，而把私人乐趣爱好隐藏起来  
D. 对于大师而言，看书本身就是他的乐趣

69. 某单位计划组织工会活动，到附近的古镇游玩，需统计参加人数。

小陈说：“如果天不下雨，我没有理由不去。”

小王说：“1月1号是我孩子生日，我必须在家陪他，只要不定在这一天，我就不可能不去。”

小刘说：“如果天下雨，我肯定不去。”

小张说：“如果有人去，我肯定会去。”

12月29号（星期二），工会的负责人通知说工会活动定在大后天，希望大家作好安排，而天气预报称这周之内不可能下雨。

由此可以推出：

- A. 小张会去，小刘不会去  
B. 小张会去，小王不会去  
C. 小陈、小刘和小张肯定都会去  
D. 小陈、小刘、小王和小张肯定都会去

70. 小曾在某银行开了账户，并且办理了网上银行业务，可是过了不久，小曾发现自己账户上的三万块钱在自己毫不知情的情况下通过网上操作被转走了，而账户的密码只有自己知道，从未泄露给他人，小曾找到银行，要求银行承担责任，而银行非常肯定的认为责任不可能在自己，责任在小曾，虽然小曾没有故意泄露密码，但是有可能无意为之。

以下各项中，最能支持银行观点的是：

- A. 小曾对妻子特别好，而妻子对小曾却有异心  
B. 小曾喜欢喝酒，而且经常醉的不省人事  
C. 该银行的网银系统无懈可击  
D. 该银行以前从来没有发生过类似的事件

71. 大公无私：公而忘私

- A. 毛骨悚然：胆战心惊  
B. 大智若愚：横七竖八  
C. 百读不厌：脍炙人口  
D. 旁敲侧击：真伪难辨

72. 重量：质量

- A. 主语：谓语  
B. 名词：动词  
C. 压力：压强  
D. 浮力：动力

73. 作战部：司令：参谋

- A. 教师：学生：教育  
B. 人事处：职工：管理  
C. 农技站：农民：服务  
D. 卫生局：研究所：咨询

74. 海洋：水：氧气

- A. 生物：植物：微生物  
B. 军队：战士：武器  
C. 草原：牧草：叶绿素  
D. 地球：山脉：森林

75. 扦插：播种

- A. 分株：嫁接  
B. 授粉：孤雌生殖  
C. 剪枝：分根  
D. 克隆：受精

#### 第四部分 - 常识判断

根据题目要求，在四个选项中选出一个最恰当的答案。

76. 小刘的一英国朋友爱丽丝来成都，她亲自开车到机场迎接，与小刘同行的还有她的本地好友小张，如果小刘的车是双排五座轿车，小刘应当请爱丽丝坐在（ ）的位置。

- A. 副驾驶座  
B. 后排右坐  
C. 后排左坐  
D. 后排中坐

77. 某企业2008年收入总额为5000万，为“5·12”汶川地震灾区先后捐款共计1000万，那么下列说法正确的是（ ）。

- A. 捐赠的1000万应当从纳税所得额中全部扣除  
B. 捐赠在年度利润总额12%以内的部分，准予在计算应纳税所得额时扣除  
C. 为了避免企业以捐赠方式逃税，捐赠部分不得从应纳税所得额中扣除

D. 捐赠部分是否从应纳税中扣除，以及如何扣除，要看该企业是中资企业还是外资企业

78. 小张和小王是夫妻，在财产方面双方没有特别约定，夫妻关系存续期间取得的下列财产中，不属于夫妻共同财产的是（ ）。

- A. 小王的父亲死后，小王通过法定继承的方式继承的遗产
- B. 小王是某公司的股东，从公司分取的红利
- C. 小王写了一部小说，因发表小说而取得的收益
- D. 小张因车祸身体受到伤害而获得的赔偿款

79. 风靡世界的“金砖四国”不包括（ ）。

- A. 中国
- B. 巴西
- C. 日本
- D. 印度

80. 某公司的下列行为中，构成不正当竞争行为的是（ ）。

- A. 长期对老客户在账内给予一定的利益返还
- B. 经营者的工作人员进行贿赂，但与为经营者谋取交易机会或者竞争优势无关
- C. 花高价聘请明星做产品形象代言人
- D. 设置最高抽奖为“非洲游”（价值56000元），以推销新型产品

### 第五部分 - 资料分析

针对下列图、表或文字回答问题。你应根据资料提供的信息进行分析、比较、计算、处理。你可以在题本上运算。

**我国税收收入占国民生产总值比重表**

年份	GDP(亿元)	税收收入(亿元)	税收收入/GDP(%)
1985	8964.4	2040.8	22.8
1986	10202.2	2090.7	20.5
1987	11962.5	2140.4	17.9
1988	14928.3	2390.5	16.0
1989	16909.2	2727.4	16.1
1990	18547.9	2821.9	15.2
1991	21617.8	2990.2	13.8
1992	26638.1	3296.9	12.4
1993	34643.4	4255.3	12.3
1994	46759.4	5126.9	11.0
1995	58478.1	6038.0	10.3
1996	67884.6	6906.8	10.2
1997	74462.6	8234.0	11.1
1998	79395.7	9262.8	11.7

81. 1985~1998年期间，我国国内生产总值(GDP)，税收收入，税收收入占我国国内生产总值(GDP)三者比上年同方向增减的年份共计有

- A. 1年
- B. 3年
- C. 5年
- D. 6年

## 扫一扫，对答案

