

# 2009年四川省公务员录用考试《行测》真题（考生回忆版）

更新时间：2024年12月09日15:16:43

扫描下方二维码下载星光公考APP 刷海量题库掌握最新热点



QQ扫码直接下载  
微信扫码到应用市场下载  
支持所有机型哦

**第一部分 - 数量关系**

在这部分试题中，每道试题呈现一段表述数字关系的文字，要求你迅速、准确地计算出答案。你可以在草稿纸上运算。

1.  $2/3, 3/2, 4/3, 3, 8/3, (\quad)$   
 A.  $8/3$                       B.  $16/3$                       C. 6                              D. 8
2. 2, 3, 6, 11, 20,  $(\quad)$   
 A. 35                            B. 37                            C. 38                            D. 39
3. 1, 2,  $3/2, 8/3, 15/8, (\quad)$   
 A.  $53/15$                       B.  $52/15$                       C.  $49/15$                       D.  $48/15$
4. 3, 5, 22, 42, 83,  $(\quad)$   
 A. 133                          B. 156                          C. 163                          D. 164
5. 28, 18, 32, 14, 36, 10,  $(\quad)$   
 A. 42                            B. 40                            C. 6                              D. 4
6. 甲乙两人在一条椭圆形田径跑道上练习快跑和慢跑，甲的速度为 $3m/s$ ，乙的速度为 $7m/s$ ，他们在同一点同向跑步，经过 $100s$ 第一次相遇，若他们反向跑，多少秒后第一次相遇：  
 A. 30                            B. 40                            C. 50                            D. 70
7. 有一堆钢管，最下面一层有30根，逐层向上递减一根，这堆钢管最少有多少根：  
 A. 450                          B. 455                          C. 460                          D. 465
8.  $[2 - (5/4 * 4/7 + 1.25 * 3/7)] / 0.375 =$   
 A. 2                              B. 1                              C. 0                              D. -1
9. 甲乙丙三名羽毛球选手训练共用了48个羽毛球，其中甲比乙多用了4个，乙比丙多用了4个，他们三个用的羽毛球数之比为：  
 A. 5: 4: 3                      B. 6: 5: 4                      C. 4: 3: 2                      D. 3: 2: 1
10. 将参与社会活动的108名学生平均分成若干小组，每组人数在8-30人之间，有多少种不同的分法：  
 A. 3                              B. 4                              C. 5                              D. 6
11. 在长为8宽为6的矩形四角截去4个边长为1的小正方形，余下图形的周长为：  
 A. 28                            B. 30                            C. 32                            D. 34
12. 某班35人外出春游，老师给了小明88元买冰激凌，买了两种口味。如果买20只巧克力味和15只草莓味的就差2元，买15只巧克力味和20只草莓味的剩下3元，一只草莓味道的冰激凌多少钱：  
 A. 4                              B. 3                              C. 2                              D. 1.5
13. 一个等差数列共有 $2N-1$ 项，所有奇数项的和为36，所有偶数项的和为30，那么N的值为：  
 A. 5                              B. 6                              C. 10                            D. 11
14. 将4个颜色不同的球全部放入编号1和2的2个盒子，使放入每个盒子里的球数不小于盒子的编号，则不同的放球方法有多少种：  
 A. 9                              B. 10                            C. 12                            D. 18
15. 在三角形纸片ABC中， $\angle C=90$ 度， $\angle A=30$ 度， $AC=6$ ，折叠该纸片，使A与点B重合，折痕与AB、AC分别交于D、E，折痕DE的长度为：  
 A. 1                              B. 2                              C. 3                              D. 4

## 第二部分 - 言语理解与表达

本部分包括表达与理解两方面的内容。请根据题目要求，在四个选项中选出一个最恰当的答案。

16. 过去的一些不文明的执法行为使城管执法形象受到了影响，要想\_\_\_\_\_公众心中的城管执法形象，要想使城管获得合法性和正当性，仅仅一份《文明执法承诺》是远远不够的。

填入划横线部分最恰当的一项是：

- A. 确立                      B. 重塑                      C. 制造                      D. 形成

17. 国家扶持动漫产业的决心和力度是\_\_\_\_\_的，动漫产业的发展也是\_\_\_\_\_的，但关键是“政策扶持”不应成为“政策导向”，动漫产业的健康发展最终还要依赖于市场的认可。

填入划横线部分最恰当的一项是：

- A. 可以预见      众所周知                      B. 有目共睹      为人称道  
C. 前所未有      前景乐观                      D. 毋庸置疑      有目共睹

18. “盛世和光——敦煌艺术大发展”正在北京中国美术馆展出，这是迄今为止敦煌艺术在京城最大规模的\_\_\_\_\_，一批又一批的参观者闻讯而来。

填入划横线部分最恰当的一项是：

- A. 活动                      B. 表演                      C. 亮相                      D. 工程

19. 波士顿城中的旧书店常常让我\_\_\_\_\_。那里有两家。一家在老教堂的地下室，还有一家旧书店靠近波士顿绿地，规模更大，上下两层。

填入划横线部分最恰当的一项是：

- A. 乐不思蜀                      B. 流连忘返                      C. 沉溺其中                      D. 大开眼界

20. 新媒体的迅速成长使中国传媒产业结构发生了很大的变化，中国报业进入\_\_\_\_\_的关键时期。

填入划横线部分最恰当的一项是：

- A. 改革                      B. 转型                      C. 发展                      D. 突围

21. 考试对学生来说是\_\_\_\_\_的事情。

填入划横线部分最恰当的一项是：

- A. 一如既往                      B. 平平淡淡                      C. 家常便饭                      D. 习以为常

22. 机会总会眷顾有所准备的人，当错失良机时，我们往往\_\_\_\_\_。

填入划横线部分最恰当的一项是：

- A. 浑然不觉                      B. 茫然若失                      C. 不知所措                      D. 六神无主

23. 举目眺望，河那边的深林被\_\_\_\_\_笼罩着，黄昏降临了。

填入划横线部分最恰当的一项是：

- A. 暮秋                      B. 暮景                      C. 暮霭                      D. 暮气

24. 《牡丹亭》能够给人强烈的感染，最主要的力量，来自作者对人类追求自由、幸福、理想的执着与讴歌，而非由于剧本辞藻的\_\_\_\_\_，更不是才子佳人屡经波折而终能团圆的\_\_\_\_\_情节。

填入划横线部分最恰当的一项是：

- A. 美丽      曲折                      B. 丰富      动人                      C. 华美      曲折                      D. 美丽      感人

25. 夏天的大草原美极了，蔚蓝的天空\_\_\_\_\_着一片片白云。

填入划横线部分最恰当的一项是：

- A. 铺展                      B. 铺陈                      C. 铺设                      D. 铺排

26. 下列句子中没有歧义的一项是：

- A. 4月2日和3日的下午，学校组织同学们进行了拔河比赛，我们班以绝对的优势取得了第一名

- B. 奶奶已经走了，但那番语重心长的话却久久在我的心头回响
- C. 老师希望这本书能对学生有所帮助
- D. 老师让几个班委会的干部组织好明天的班会活动

27. 下列句子中有语病的一句是：

- A. 有报告称：一个0—16岁孩子的抚养总成本是25万元左右
- B. 常香玉拍戏有个习惯，非把动作中的那个最佳，唱腔中的那个最美“抠”出来、“挖”出来不可
- C. 那种传统意义上的知识分子正在让位于在各自的领域里面对、解决专门问题的人
- D. 钱钟书用“管锥”命名自己的著作，谦逊之外别有深意，带有反讽的意味

28. 下列各句中，划线成语使用恰当的一句是：

- A. 这个人罪不容诛的，我们还是给他一个改过自新的机会吧
- B. 有些党员干部心胸狭隘，只要下属提出与自己不合的意见，便给人穿小鞋
- C. 我们一旦被祖国挑选为飞行员，就要肝胆相照，报效国家
- D. 现在这样到处刺探他人隐私，这是很不道德的，古人不是说过要“且不要窥园”吗

29. 下列语句中，没有语病的一句是：

- A. 阿里路在道路边的碎石堆里偶然发现了几个形状怪异的化石牙齿，非常兴奋，却始终认不出是属于哪种动物的
- B. 书的封面上栩栩如生的印着青铜制品，上面整齐的排列着身披铠甲、手持盾牌的秦军战士
- C. 一家加工厂偷排未经处理的废水，严重污染了当地的环境，导致鱼虾绝迹，各种水中作物大量减产和绝产
- D. 中国实行积极防御战略方针，不搞扩军备战，致力于维护本地区和全世界和平

30. 下列句子中，没有歧义的句子是：

- A. 他看见河对岸的一个老人正带着他的孩子在植树
- B. 本市组织四个足球队队员客串了一场篮球赛
- C. 出席这次座谈会的有老红军代表、民主党派人士和无党派人士58人
- D. 他是个直性人，把看到的事儿都捅出来了

31. 在当代中国，由于国力的限制和传统思想的影响，妇女受教育的机会和程度都比男性少，而家务和抚育子女主要由妇女来承担，又限制了她们的流动，妇女对这些主要发展资源的占有远远少于男性，这就进一步限制了妇女与男性的平等竞争，拉大了他们之间的距离，造成男女不平等的进一步扩大。

这段文字的中心意思是：

- A. 当代中国，妇女面临最大的问题是男女不平等的进一步扩大
- B. 当代中国，妇女面临最大的问题是受教育的机会和程度都比男性少
- C. 当代中国，妇女面临最大的问题是家务和抚育子女限制了她们的流动
- D. 当代中国，妇女面临最大的问题是传统思想的影响

32. 出版媒介具有新陈代谢的功能，它不断进行着人员的更替，不断地从外界获得物质和能量，以维持自身的生存和发展，伴随着新陈代谢的过程，出版媒介有衍生、成长、壮大、衰老、死亡或再生的过程，出版媒介在发展过程中，也在继承（遗传）的基础上不断地进行着创新（变异），从而使出版媒介的组织形式、出版形式等都发生了巨大的变化。

这段文字旨在说明：

- A. 出版媒介都具有新陈代谢的功能
- B. 出版媒介在发展的过程中不断进行着创新
- C. 出版媒介具有生命体的特征
- D. 出版媒介组织形式、出版物形式等都发生了巨大的变化

33. 近年来，随着IT厂商数量的不断增加，IT市场的竞争日益激烈。对于IT产品，用户不但要选择产品本身，更要选择服务。良好的服务已经成为左右用户购买决策的重要因素。调查数据显示：对于高科技产品如电脑等，用户愿意多花10%的价钱来购买服务好的同质产品。

这段文字表明观点是：

- A. IT产品的售后服务很重要
- B. IT产品服务性很强
- C. IT产品专用型强，技术要求高
- D. 用户愿意多花钱来购买IT产品

34. 社区商业是城市商业的基础，是满足居民综合消费的重要载体，加快发展社区商业，是提升城市商业现代化和综合竞争力的迫切要求。因此，发展和完善商业社区，对现有社区商业网点进行系统性、科学性和高效性的整合，构建我国现代社区商业网络，是满足社区居民日常生活需求，提高居民生活质量的重要举措。

这段话的主旨是：

- A. 构建我国现代社区商业网络，是满足社区居民日常生活需求的需要
- B. 加快发展我国社区商业，是提升城市商业现代化和综合竞争力的迫切要求
- C. 社区商业是满足居民综合消费的重要载体
- D. 社区商业是城市商业的基础

35. 在世界经济全球化、市场化和信息化成为不可阻挡潮流的今天，对文化阵地尤其是青年文化阵地的争夺，关系到中华民族的兴衰存亡和中国共产党的执政地位。当前，必须从全面建设小康社会的全局和实现中华民族伟大复兴的高度，深刻认识加强青年文化建设的战略意义，牢牢把握先进文化的前进方向和与时俱进的时代特征，坚持马列主义、毛泽东思想、邓小平理论和“三个代表”重要思想统领青年文化建设。

这段文字意在说明：

- A. 深刻认识加强青年文化建设的战略意义
- B. 青年文化阵地的争夺关系到中国共产党的执政地位
- C. 青年文化建设把握先进文化的前进方向
- D. 青年文化阵地的争夺关系到中华民族的兴衰存亡

36. 虽然当今国际事务的诸多领域仍受制于头号超级大国美国，但在联合国改革问题上，由于一国一票和三分之二多数方可获得改革方案通过表决规则，这在客观上又为虽然处在弱势，但占有联合国近四分之一席位的非洲国家表达自己意愿，周旋于大国之间，提供了千载难逢的历史机遇。

这段文字的中心是：

- A. 非洲国家占有联合国近四分之一席位
- B. 当今国际事务的诸多领域仍受制于头号超级大国美国
- C. 联合国改革方案需要获得三分之二成员国的赞同才能通过
- D. 联合国的表决规则为非洲在联合国改革问题上争取决策权提供了机遇

37. 生存固然需要消费，并以消费为前提和基础，但人生在世，非以消费为目的、为根本，活着并不是为了消费和占有。消费主义将消费的工具合理性和生存的目的性关系截然颠倒，将消费为目的，而将生存降格为手段，从而遮蔽了人存在的价值关照，造成了人为消费存在的意义维度的缺失，这实在是可悲的。

这段话可以看出：

- A. 消费主义的核心问题在于强调消费和占有
- B. 消费主义的核心问题在于颠倒了消费和生存的根本关系
- C. 消费主义的核心问题在于强调消费工具的合理性
- D. 消费主义的核心问题在于强调消费是人生存和发展的基础

38. 科学思想和哲学思想都是由人创造的并为人服务的，以人为本是二者共同的出发点和共同的归宿。正因为科学思想和哲学的主体都永远是人，因而二者都深深地打上了主体的烙印。从它们诞生那天起一直到未来，都既散发着人类智慧的光芒，又闪烁着人性的光辉，都是科学性与人性的统一。主体的同一性决定了科学思想

与哲学具有不可分割的密切关系。

这段话力求表明观点是：

- A. 科学思想和哲学都是科学性与人性的统一
- B. 科学思想与哲学的主体都永远是人
- C. 科学思想与哲学的密切关系是由主体的同一性决定的
- D. 科学思想与哲学都是由人创造的并为人服务的

39. 没有人再怀疑人类已经进入信息时代。在这样史无前例的成就中，新的危机却悄悄萌发了。美国思想家梭罗曾说过：“我们热切地挖掘了大西洋隧道，期望新旧大陆更为密切地接近，实际上传来的最新消息不过是阿德莱亲王打了个哈欠。危险正是在这里。”

这段文字中所说的“危险”是指：

- A. 信息太多，传播太快，为造成人们预想不到的危机
- B. 信息过剩会降低信息的质量，影响双方密切的接近
- C. 信息的快速传播，使人们无法判断某些信息之间的本质区别
- D. 剩余信息的快速传播，将可能湮没真正有价值的信息

40. 上海市高新技术产品出口正在成为外贸领域强有力的助推剂。上海海关公布的最新统计数据显示，今年前三季度，上海市高新技术产品累计出口额达254.9亿美元，比去年同期增长25.8%，占全市各类产品出口总额的38.1%，比全国平均水平高出10.6个百分点。

上海市出口商品的上述变化表明：

- A. 上海市已具备与发达国家竞争的实力
- B. 上海市产品出口产品结构进一步优化
- C. 上海市对外贸易处于顺差
- D. 上海市出口商品的质量实现了飞跃

41. 考古学家可以重新发掘出我们祖先被遗忘的智慧。例如，纳巴塔人在两千年前占据着险恶的内盖夫沙漠，他们把这一地区很少发生的大暴雨的雨水引到灌溉沟渠与蓄水池中。这一方法被用来重建这一地区的古代农场，这些农场现在也能生产出很高的谷物产量。

文段中的“方法”一词是指：

- A. 纳巴塔人占据着险恶的内盖夫沙漠
- B. 纳巴塔人兴建灌溉沟渠和蓄水池
- C. 纳巴塔人用大量暴雨的雨水来灌溉
- D. 重建这一地区的古代农场

42. 在微观世界中，中微子一直是一个无所不在而又不可捉摸的过客。中微子产生的途径有很多，如恒星内部的核反应，超新星的爆发，宇宙射线与地球大气层的撞击，以至于地球上岩石等各种物质的衰变等。尽管可能是构成我们所在宇宙中最常见的粒子之一，但由于它穿透力极强，而且几乎不与其它物质发生相互作用，因此它是基本粒子中人类所知最少的一种。

对“中微子”的理解不准确的一项是：

- A. 中微子在微观世界无所不在
- B. 恒星内部的核反应是中微子的生产途径之一
- C. 中微子是构成我们所在宇宙中最常见的粒子
- D. 人类对中微子知之甚少

43. 文化多样性是客观存在。它涉及以下基本认同：每种文明和文化都是在特定的地理环境和特定的人群中产生和发展的。尊重多样性，就是尊重文化的异质性。文明和文化有发展先后之差别，却无优劣高下的区分，它们都应获得同等的尊重和人类共同的保护。

不符合上述文段文意的是：

- A. 文化多样性是客观存在
- B. 文明和文化都有特定的发展背景
- C. 文明和文化有发展先后之差别
- D. 文化才有异质性，文明没有

44. 所谓科学家的宗教情结，是指科学家信仰宗教或者具有宗教情怀，对宗教信仰本身充满尊重和敬畏，对宗教信仰的意义和价值持肯定的态度。应当指出的是，有些科学家尽管也对宗教信仰这种人类生活中的重要现象和事物表示尊重和理解，对其意义和价值表示一定程度的肯定，但对宇宙世界却持彻底的理性主义的态度或者实

证的态度，不承认超越性的存在显然，这样的科学家并不能被视为具有宗教情结。

从这段文字可以看出，以下不能视其为具有宗教情结科学家的是：

- A. 信仰宗教或者具有宗教情怀的科学家
- B. 对宗教信仰本身充满尊重和敬畏的科学家
- C. 对宗教信仰的意义和价值持肯定态度的科学家
- D. 对宇宙世界却持彻底的理性主义的态度或者实证的态度，不承认超越性存在的科学家

45. 由于技术理性造就了资本主义机器生产体系和管理体系，人不得不屈从于资本主义生产体系和管理体系及其由这一体系所规定的交换原则和利己主义原则，进而把适应市场经济的交换原则作为美德来看待，并由此造就了权威主义的伦理价值观盛行。这种伦理价值观上的矛盾冲突又使得相对主义的伦理价值观得以产生和流行，它反映了在技术理性盛行的条件下，人的个性失落和在价值观上的困惑和矛盾。

这段话的主旨是：

- A. 技术理性造就了资本主义机器生产体系和管理体系
- B. 技术理性造成了人的个性失落和伦理价值观的混乱
- C. 技术理性造就了权威主义的伦理价值观盛行
- D. 技术理性把适应市场经济的交换原则作为美德来看待

### 第三部分 - 判断推理

本部分包括图形推理、定义判断、类比推理与逻辑判断四种类型的试题，请按每道题的答题要求作答。

46. 任务导向型领导：是把重点放在完成组织绩效的领导行为，即把任务规定的很明确、组织得条理分明、任务委派得职责分明，并使用职权与奖惩去监督和促使绩效目标的实现。

下列属于任务导向型领导的是：

- A. 某高校中层林某在负责组建新系时，挑选了自己的老同学小王，在他看来，虽然小王能力有限，但为人踏实，容易和别的同志搞好团结
- B. 某公司领导一贯要求职工要有吃苦精神，为了完成工作任务，经常安排职工加班
- C. 某领导很关心自己的下属，经常帮助他们解决工作和生活上的困难
- D. 某领导给下属布置工作任务后完成时再验收，平常从不过问下属怎样完成任务和完成了多少

47. 横断科学：是从客观世界的诸多物质结构及其运动形式中，抽出某一特定的共同方面作为研究对象。

下列属于横断科学的是：

- A. 控制论
- B. 生物医药工程学
- C. 计算机科学
- D. 航天科学

48. 城市化：是指乡村人口向都市人口转化，生产方式和生活方式由乡村型向城市型转化的一个历史进程。

下列不属于城市化进程要素的是：

- A. 某乡土地实行集约化经营，村民都转为农业工人
- B. 某村村民由于比较富裕都住上了楼房、不少家庭买了汽车
- C. 某乡政府转为街道办事处，农民农转非，未到退休年龄的村民还被安排了工作
- D. 某村村民生活贫乏，晚上无事可做，就早早睡觉

49. 发散式思维：是指根据已有的信息，从不同的角度不同的思维，从多方面寻求多样性答案的一种展开式思维活动。

下列属于发散式思维的是：

- A. 人类失去联想，世界将会怎样
- B. 在多种解决方案中，确定一种方案
- C. 从多个前提推出一个结论
- D. 根据题目给定的条件，解决文字应用题

50. 经验迁移：是指通过类比，发现两类事物之间的共同性或相似性，从而将解决这一类问题的方法运用到解决另一类问题上去。

下列属于经验迁移的是：

- A. 高峰处理家庭纠纷很有经验，当社区某家庭发生纠纷时人们总是找他去调解
- B. 周立在校时专业知识学习优秀，毕业后从事本专业工作上手很快
- C. 在工作中刘丽总能想出很多办法来解决一个问题
- D. 纪伟记忆电话号码用谐音记忆法，记忆文章时也用这种方法

51. 公文是指国家机关及其他社会组织在公务活动中为行使职权、实施管理而制作的具有法定效用和规范体式的文件。

下列不属于公文的是：

- A. ××市人民政府关于提请审议《城市综合执法办法》的议案
- B. ××市召开消防安全检查会议的通知
- C. 国家文物局关于审批第三批国家历史文化名城和加强保护管理的请示
- D. 官某与银行签订的购房贷款按揭合同

52. 行政协调是指协调、调整行政系统与其外部环境之间、行政系统内部纵横向之间的各种关系，使之分工合作、权责清晰、相互配合，有效地实现行政目标和提高整体效能的行为。

下列不属于行政协调的是：

- A. 某局召开各处处长会议讨论各处人员的调整
- B. 某局做出“工作人员必须遵守的五项禁令”的决定
- C. 某区路段三个月红绿灯不亮，该区交委召集电力局、交通局和街道办事处商讨解决办法
- D. 某上级机关召集下属两个局研究某一行政管理权力的归属和行使问题

53. 赌博是指以营利为目的，以财物为赌注比输赢，达到非法转移财物所有权的一种行为。

根据以上定义，下列属于赌博一项是：

- A. 甲公司与球迷们商定：若巴西赢球公司赔球迷们100万，若巴西输球则球迷赔公司100万
- B. 公安机关悬赏：公民如抓获拐卖儿童的犯罪嫌疑人给赏金5万元
- C. 甲乙双方在合同中约定：乙方按期完成工程就奖励100万元，延期完工则每天缴纳4万元的误工费
- D. 卖主与买主商定：若这幅字画为赝品，卖主赔10倍价钱

54. 刑事诉讼中的执行是指人民法院将已发生法律效力判决和裁定交付执行机关，以实施其确定内容，以及处理诉讼中的诉讼问题而进行的各种活动。

根据以上定义，以下符合刑事诉讼中执行的是（ ）。

- A. 甲监狱为张某报请减刑二年
- B. 乙监狱对李某越狱犯罪提起诉讼
- C. 丙监狱接受A市法院判处的一批刑事罪犯入监并对其进行入监教育
- D. 丁县法院收缴对罪犯王某的五万元罚金

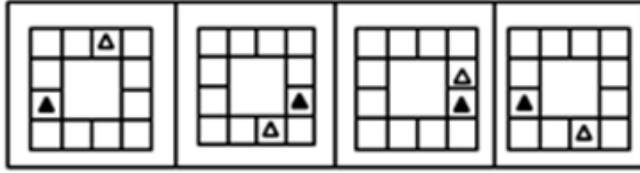
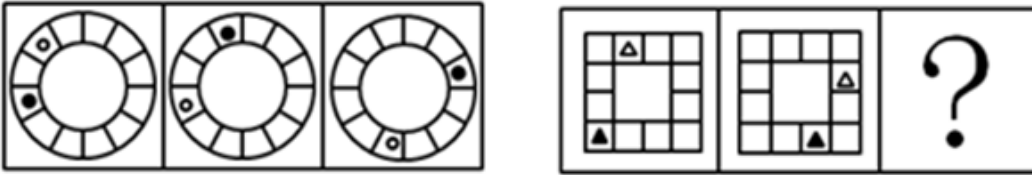
55. 行政效率是指在行政管理中投入的工作量与所获的行政效果之间的比率，是人们在单位时间内和空间内开展行政活动，获得改造客观世界和主观世界的社会效果。

下列不体现行政效率高低的是：

- A. 非典期间，哈尔滨市政府严格控制各种大规模集会，通过互动式的视讯会议来传达消息，安排工作
- B. 某港商在某省投资兴办企业，跑审批跑了半年，项目书上盖了上百个公章，仍未跑完
- C. 中央制订减轻农民负担的政策，增加农民收入，受到农民普遍欢迎
- D. 鼠害危害湘江防洪大堤，但当地有关部门因“目前没有防鼠经费，尚需打报告等审批”，使问题议而不决

56. 请从所给的四个选项中，选择最合适的一个填入问号处，使之呈现一定的规律性：【2009四川056】

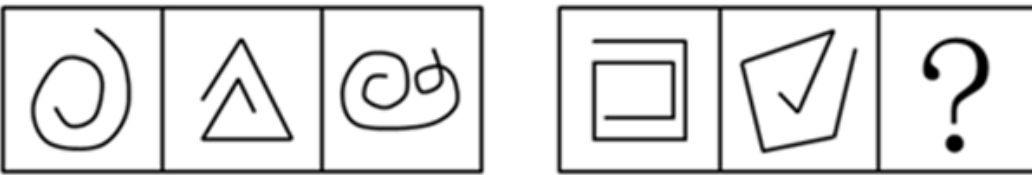




A B C D

- A. 如图所示      B. 如图所示      C. 如图所示      D. 如图所示



57. 请从所给的四个选项中，选择最合适的一个填入问号处，使之呈现一定的规律性：【2009四川057】



A B C D

- A. 如图所示      B. 如图所示      C. 如图所示      D. 如图所示

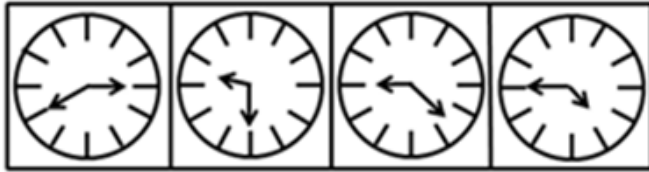
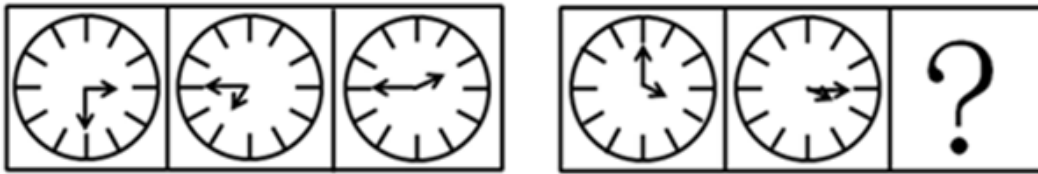
58. 请从所给的四个选项中，选择最合适的一个填入问号处，使之呈现一定的规律性：【2009四川058】



A B C D

- A. 如图所示      B. 如图所示      C. 如图所示      D. 如图所示

59. 请从所给的四个选项中，选择最合适的一个填入问号处，使之呈现一定的规律性：【2009四川059】



A

B

C

D

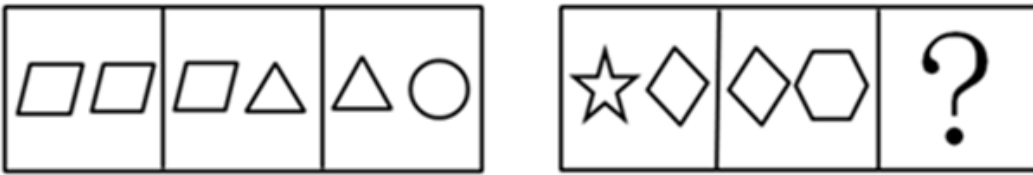
A. 如图所示

B. 如图所示

C. 如图所示

D. 如图所示

60. 请从所给的四个选项中，选择最合适的一个填入问号处，使之呈现一定的规律性：【2009四川060】



A

B

C

D

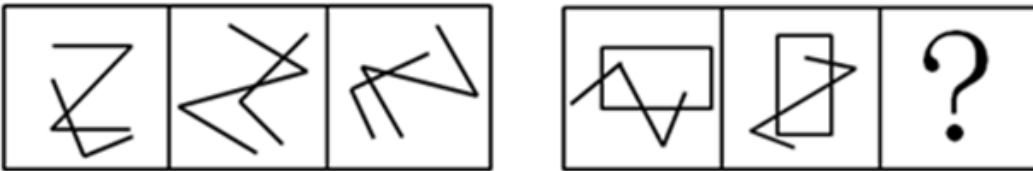
A. 如图所示

B. 如图所示

C. 如图所示

D. 如图所示

61. 请从所给的四个选项中，选择最合适的一个填入问号处，使之呈现一定的规律性：【2009四川061】



A

B

C

D

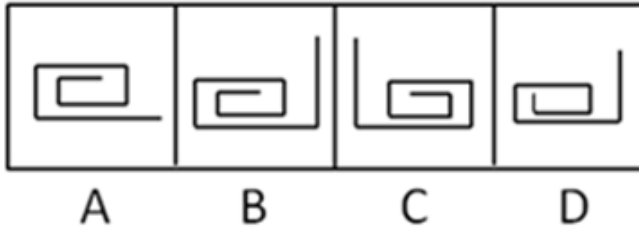
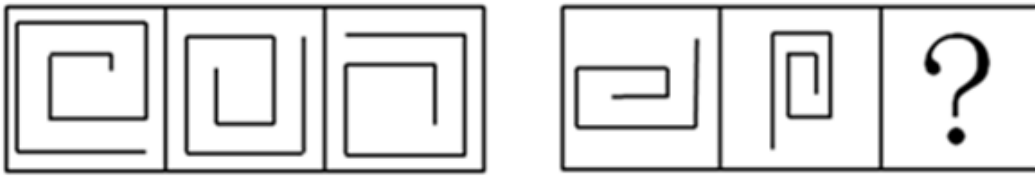
A. 如图所示

B. 如图所示

C. 如图所示

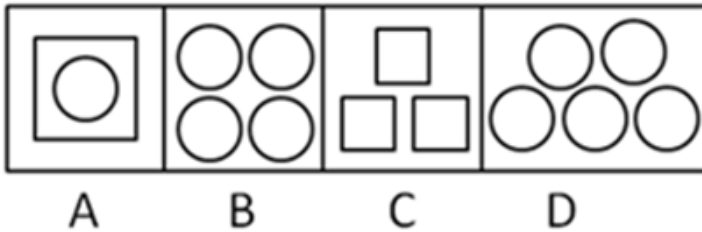
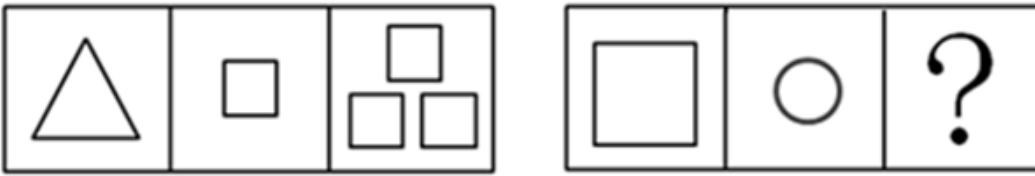
D. 如图所示

62. 请从所给的四个选项中，选择最合适的一个填入问号处，使之呈现一定的规律性：【2009四川062】



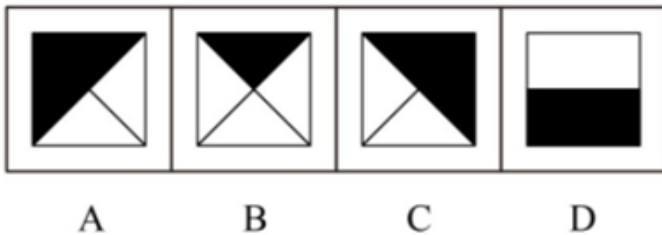
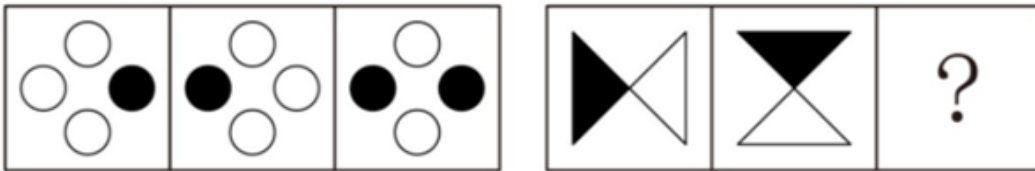
- A. 如图所示      B. 如图所示      C. 如图所示      D. 如图所示

63. 请从所给的四个选项中，选择最合适的一个填入问号处，使之呈现一定的规律性：【2009四川|063】



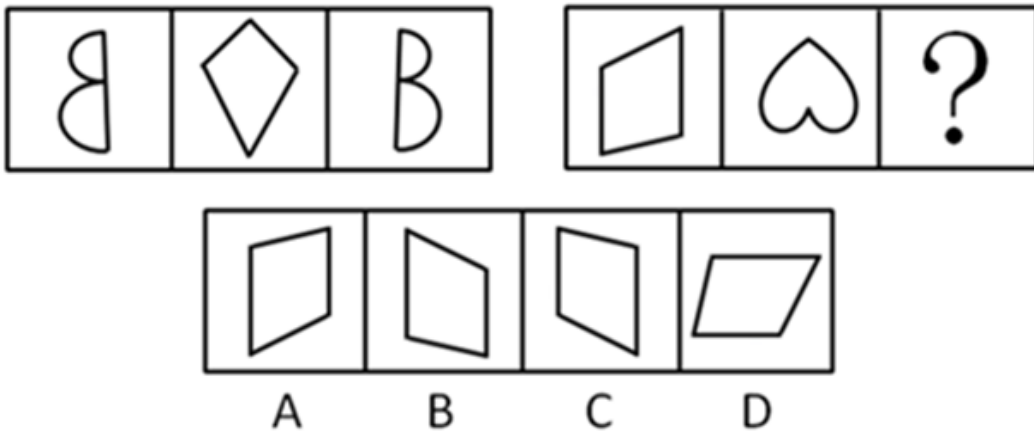
- A. 如图所示      B. 如图所示      C. 如图所示      D. 如图所示

64. 请从所给的四个选项中，选择最合适的一个填入问号处，使之呈现一定的规律性：【2009四川|064】



- A. 如图所示      B. 如图所示      C. 如图所示      D. 如图所示

65. 请从所给的四个选项中，选择最合适的一个填入问号处，使之呈现一定的规律性：【2009四川|065】



- A. 如图所示                      B. 如图所示                      C. 如图所示                      D. 如图所示

66. 科学研究表明：尿床对孩子的负面影响会随着年龄的增加而加重，而“尿床是小事，长大了就好了”这种错误观念导致了儿童尿床长期得不到治疗，给孩子的成长发育、智力发展和身心健康等方面带来了严重的影响！

由上文可以推出以下哪一个结论：

- A. 孩子尿床是普遍现象
- B. 孩子尿床是一种疾病
- C. 孩子尿床会导致多个严重后果
- D. 家长都认为孩子尿床会随着孩子的长大而自行消失

67. 春节期间，铁路系统在某两个城市之间增加了临时客车，以作为这些线路客运的补充。原来的车次要乘坐12个小时，临时客车要比原来的车次多乘坐1个小时，但是在刚实施的一段时间内，原车次的乘客拥堵现象仍未得到缓解。

那么最有说服力的原因是：

- A. 临时客车的乘坐时间太长
- B. 大多数人总喜欢乘坐固定的客车车次
- C. 一段时间内人们对新增的临时客车的停车站和运行时间都还不清楚
- D. 原车次比临时客车票价便宜的多

68. 对每只股票的涨跌有各种各样的预测，但时至今日也没有哪个股评家能够准确预测每只股票的涨跌情况。

根据以上信息，可以推断的是：

- A. 所有股评都很差
- B. 没有准确预报所有股票涨跌的条件
- C. 所有股票都神秘莫测，不可捉摸
- D. 影响股票涨跌的不确定因素太多，股票预测很难

69. 在某次科技发明大赛中，有一种将烟灰弹进去就会发出如肺癌晚期病人的重咳嗽声的烟灰缸获得了创意大奖。比赛结束后，某一厂家买断此创意并进一步将产品推向市场，但销售并不理想。

根据以上信息最能合理而充分地解释销量不佳的原因是：

- A. 这种新型烟灰缸的价格比普通烟灰缸贵50元，很多消费者觉得不值。
- B. 许多抽烟的人觉得这种烟灰缸可以起到敲警钟的作用。
- C. 科技发明大赛后很多厂家都选择了这项创意来开发生产，同时将产品推向市场。
- D. 某厂商在同期推出了一种新型的打火机，吸引了很多消费者。

70. 观察成功的企业家，他要么具有很强的专业知识和专业能力，要么是经过长期不懈的拼搏奋斗努力。

某饲料公司文董事长长期拼搏努力，那么：

- A. 文董事长成为一个企业家的几率为50%
- B. 文董事长不可能成为一个成功企业家

C. 文董事长一定是一个成功的企业家

D. 文董事长可能会成为一个成功企业家

71. 一件盗窃刑事案件中，警方抓获了甲、乙、丙、丁四名犯罪嫌疑人，对他们进行质问，他们是这样说的：

甲：是乙作的案

乙：是丁和我一起作的案

丙：丁是案犯

丁：不是我作的案

四句话只有一句是谎言

如果以上为真，则以下哪项为真：

A. 说假话的是甲，作案的是丙

B. 说假话的是丙，作案的是乙

C. 说假话的是丁，作案的乙和丁

D. 说假话的是乙，作案的是乙

72. 有一位农夫在河流A岸集市上买了一只狗、一只鸡和一袋米。现在要回到河流B岸的家中，河边有一艘小船，小船每次只能载一个人和一件物品，狗、鸡、米三者之间的相互关系为：狗和鸡不能单独在一起，否则狗就要吃鸡；鸡和米不能单独在一起，否则鸡就要吃米；狗和米单独在一起是最安全的，若农夫要保证三件物品都安全的送到B岸，最有可能的是哪一种情况：

A. 先将狗送到B岸，再将鸡带到B岸，并把狗带回A岸，再将米带到B岸，空手回到A岸，将狗带到B岸

B. 先将鸡带到B岸，再将米带到B岸并把鸡带回A岸，再将狗带到B岸并把米带回A岸，再将鸡带到B岸。最后将米带到B岸

C. 先将狗带到B岸，再将鸡带到B岸，并把狗带回A岸，再将米带到B岸，并把鸡带回A岸，再将狗带到B岸，最后将鸡带到B岸

D. 先将鸡带到B岸，再将米带到B岸并把鸡带回A岸，再将狗带到B岸，空手回到A岸将鸡带到B岸

73. 用公民的力量监督政府的服务，既能树立政府服务形象，提升文明档次。也能让普通老百姓真正领会文明的内涵。

如果上述判断是真，以下哪项判断也是真的：

A. 利用公民的力量监督政府服务，对政府和公民都是有益的

B. 利用公民的力量监督政府服务使政府受害，效果不好

C. 利用公民的力量监督政府服务使公民自己累死自己，效果很差

D. 利用公民的力量监督政府服务难以达到预定的目标，没有效果

74. 历史的进程是后浪推前浪，没有人永远站在风口浪尖上，所以会有拿破仑兵败滑铁卢和许多著名的改革人物从历史的舞台上渐渐沉寂。

从上文内容不能推出的结论是：

A. 没有人能够永远站在风口浪尖上是很正常的。

B. 许多著名改革人物渐渐沉寂也是正常的。

C. 历史的进程会淘汰拿破仑一样的人物。

D. 许多著名人物在改革的舞台上消失属于极不正常的情况。

75. 人们常常倾向于在答应了某人一个较小的要求后，再答应他在此基础上的另一个更大一些的要求。相反，如果某人一开始就对别人提出一个较大的要求，那么他遭到拒绝的可能性会大大的增加，之所以出现这种现象，最可能的一个隐含前提是：

A. 将要求分成两次提的人会更受欢迎。

B. 人遇到一来就提大要求的人会很讨厌。

C. 人们觉得提小要求的人比较善良，因此再答应一个要求也无妨。

D. 通常较小的要求是人们比较容易就办到，而且人们倾向于保持自我的前后一致性。

76. 劳动者：农民

- A. 野兔：草                      B. 动物：脊椎动物                      C. 爬行动物：哺乳动物                      D. 昆虫：鱼类
77. 鲁迅：写作  
A. 凡高：作画                      B. 狗：看家                      C. 柴可夫斯基：舞蹈                      D. 猫：抓老鼠
78. 三国演义：元末明初  
A. 红楼梦：明                      B. 水浒传：清                      C. 西游记：宋                      D. 资治通鉴：宋
79. 飞机：天空  
A. 大海：轮船                      B. 汽车：陆地                      C. 动物园：老虎                      D. 太阳：庄稼
80. 湖北：武汉  
A. 陕西：郑州                      B. 广西：桂林                      C. 青海：西宁                      D. 江西：南宁
81. 柳宗元：文学家  
A. 马致远：文学家                      B. 司马迁：诗人                      C. 吴承恩：小说家                      D. 龚自珍：史学家
82. 律师：当事人  
A. 法官：各种案件                      B. 心理咨询师：心理不健康的人  
C. 药监人员：生产和销售药品的人                      D. 保险代理人：投保者
83. 细胞学说：施莱登  
A. 相对论：霍金                      B. 方法论：培根                      C. 镭的发现：居里夫人                      D. 进化论：达尔文
84. “只要有一个支点，就能使地球移动”：阿基米德  
A. “当你处世行事时，正确运用知识意味着有了力量”：卢梭  
B. “成功的秘诀，在永不改变既定的目的”：培根  
C. “莫等闲，白了少年头，空悲切”：秋瑾  
D. “千古奇冤，江南一叶，同室操戈，相煎何急”：周恩来
85. 流行歌手：演员  
A. 梳妆台：化妆品                      B. 学校实验室试验员：教辅人员  
C. 羽毛：鸟类                      D. 灯泡：台灯

#### 第四部分 - 资料分析

针对下列图、表或文字回答问题。你应根据资料提供的信息进行分析、比较、计算、处理。你可以在题本上运算。

2007年黑龙江省全年完成邮电业务总量512.7亿元，比上年增长28.1%。其中，电信业务总量483.5亿元，增长29.4%；邮政业务总量29.2亿元，增长9.8%。年末全省长途光缆线路总长度42567公里；局用交换机总容量1004.9万门。年末固定电话用户1112.2万户，增长2.8%，其中城市837.7万户，增长4%；农村274.5万户，下降0.6%。移动电话用户1449.2万户，增长14.4%。全省电话普及率为67.1%，比上年提高5.6个百分点。国际互联网络用户299万户（包括拨号、专线和宽带接入用户），增长4.9%，其中宽带接入户209.2万户，增长18.8%。

86. 2006年黑龙江省电话普及率是：  
A. 67.1%                      B. 61.5%                      C. 54.4%                      D. 52.4%
87. 2007黑龙江省实现邮政业务总量比上年增长约多少亿元：  
A. 2.61                      B. 2.68                      C. 112.47                      D. 102.47
88. 2006年末固定电话与移动电话用户共有多少万用户：  
A. 2561.40                      B. 2454.33                      C. 2348.69                      D. 2220.85

89. 2007年黑龙江省国际互联网拨号、专线用户比上年减少约多少万户：

- A. 15.63                      B. 19.14                      C. 22.58                      D. 28.73

90. 下列对2007年末固定电话用户增长情况说法正确的有：

- I. 全省增长量约为30.3万户  
 II. 城市增长量约为32.2万户  
 III. 农村增长量约为1.9万户  
 IV. 全省增长量约为34.1万户
- A. I                              B. I、 II                      C. II、 IV                      D. II、 III、 IV

**2007年全年四川省企业商品价格指数（以下年同月为100）**

每月	总指数	农产品	矿产品	煤油电	加工业产品
2007.01	104.6	107.8	114.6	107.0	103.0
2007.02	104.5	108.6	111.1	104.2	103.0
2007.03	104.2	107.8	110.9	103.2	103.0
2007.04	104.6	109.1	112.6	103.3	103.1
2007.05	105.1	111.3	115.3	103.3	103.0
2007.06	105.4	112.7	115.4	102.4	103.1
2007.07	106.1	115.1	115.0	100.8	103.6
2007.08	106.5	115.7	115.0	101.0	104.0
2007.09	106.2	113.6	115.4	101.0	104.2
2007.10	106.5	113.1	115.9	103.3	104.4
2007.11	107.4	114.1	116.5	109.0	104.8
2007.12	107.6	111.3	117.3	111.9	105.6

91. 2007年农产品价格增长最快的是（ ）月：

- A. 10                              B. 9                              C. 8                              D. 7

92. 2007年煤油电价较上年同期增长最慢的是（ ）月：

- A. 10                              B. 9                              C. 8                              D. 7

93. 从1—9月看，商品价格呈下降趋势的商品是：

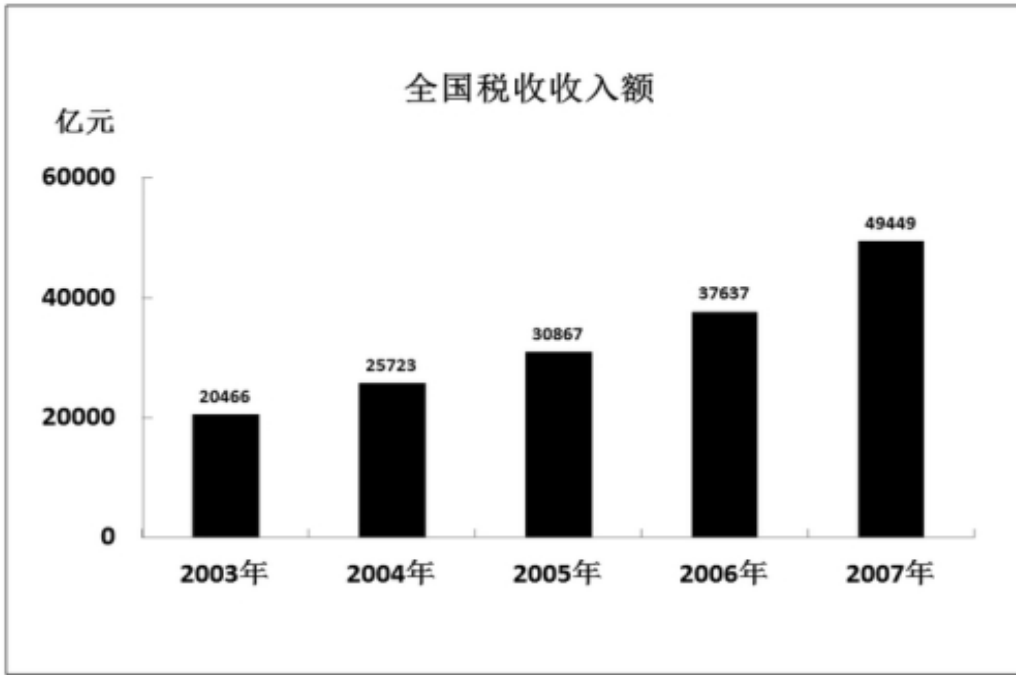
- A. 农产品                      B. 矿产品                      C. 煤油电                      D. 加工业产品

94. 2007年同月企业商品价格总指数与各产品价格指数的最大差值是多少个百分点：

- A. 10.1                              B. 10.2                              C. 11.3                              D. 11.8

95. 2007年矿产品价格指数的最大值与最小值相差多少个百分点：

- A. 7.4                              B. 6.4                              C. 6.2                              D. 5.4



96. 2006年税收总额约是2004年的多少倍:

- A. 1.65                      B. 1.58                      C. 1.53                      D. 1.46

97. 2007年税收收入比上年增长了约:

- A. 37.9%                      B. 31.4%                      C. 22.4%                      D. 20%

98. 如保持2006年的年增长速度, 2008年的税收收入约为:

- A. 57990.64                      B. 58397.18                      C. 60294.55                      D. 62701.93

99. 2003年—2007年全国税收总额为多少亿元:

- A. 164142                      B. 184142                      C. 194112                      D. 254142

100. 税收收入年增长速度居第三位的年份, 比2003年增长了多少亿元:

- A. 5257                      B. 10401                      C. 17171                      D. 28983

扫一扫, 对答案



