

# 2009年安徽省公务员录用考试《行测》真题（考生回忆版）

更新时间：2024年12月09日15:09:51

扫描下方二维码下载星光公考APP 刷海量题库掌握最新热点



QQ扫码直接下载  
微信扫码到应用市场下载  
支持所有机型哦

## 第一部分 - 数量关系

在这部分试题中，每道试题呈现一段表述数字关系的文字，要求你迅速、准确地计算出答案。你可以在草稿纸上运算。

1. 7, 14, 10, 11, 14, 9, ( ), ( )

- A. 19, 8                      B. 18, 9                      C. 17, 8                      D. 16, 7

2. 97, 95, 92, 87, ( )

- A. 81                          B. 79                          C. 74                          D. 66

3.  $1/4, 3/10, ( ), 2/5$

- A.  $23/50$                       B.  $17/40$                       C.  $11/30$                       D.  $7/20$

4. 1089, 2178, 3267, ( )

- A. 9810                        B. 9801                        C. 9180                        D. 9081

5. 5, 15, 10, 215, ( )

- A. -205                        B. -115                        C. -225                        D. -230

6.  $123456788 \times 123456790 - 123456789 \times 123456789 =$

- A. -1                          B. 0                            C. 1                            D. 2

7. 已知  $a+b=8$ ,  $ab=-20$ , 则  $(a-b)a^3 + (b-a)b^3 =$

- A. 96                          B. -96                          C. 2096                        D. 12096

8. 一个人从山下沿  $30^\circ$  角的坡度登上山顶，共走了300米，那么这座山的高度是多少米：

- A. 100                        B. 150                        C. 200                        D. 250

9. 王工的自驾车耗油是百公里8升，原来的油价为6元一升，今年初调为5元一升，王工加了300元钱的油，可以比原来多跑多少公里：

- A. 85                          B. 100                        C. 110                        D. 125

10. 矩形的一边增加了10%，与它相邻的一边减少了10%，那么矩形的面积：

- A. 增加10%                      B. 减少10%                      C. 不变                        D. 减少1%

11. 当含盐为30%的60克盐水蒸发为含盐40%的盐水时，盐水重量是多少克：

- A. 45                          B. 50                          C. 55                          D. 60

12. 人们将  $1/10$  表示为1月10日，也有人将  $1/10$  表示为10月1日，这样一年中就有不少混淆不清的日期了，当然， $8/15$  和  $15/8$  只能表示为8月15日，那么一年中像这样不会搞错的日期最多会有多少天：

- A. 221                        B. 222                        C. 216                        D. 144

13. 某养殖场养了224头牲畜，其中羊比牛多38只，牛比猪多6只。如果将牛总数的75%用来换羊，一头牛换5只羊，那么，羊总共有多少只：

- A. 342                        B. 174                        C. 240                        D. 268

14. 某住户安装了分时电表，白天电价是0.55元，夜间电价是0.3元，计划7月份用电400度，电费不超过160元，问白天用电不应该超过多少度：

- A. 150                        B. 160                        C. 170                        D. 180

15. 某个月有5个星期三，并且第三个星期六是18号。请问以下哪项不能确定：

- A. 这个月有31天                      B. 这个月最后一个星期日不是28号  
C. 这个月没有5个星期六                      D. 这个月有可能是闰年2月份

## 第二部分 - 言语理解与表达

本部分包括表达与理解两方面的内容。请根据题目要求，在四个选项中选出一个最恰当的答案。

16. 在这场全球性的金融危机中，中国不可能\_\_\_\_\_。

填入横线上的词语最恰当的是：

- A. 特立独行                      B. 独善其身                      C. 独步天下                      D. 孤独求败

17. 某市公开选拔了一批党政领导干部。从年龄结构上看，\_\_\_\_\_的这批干部普遍年轻；从\_\_\_\_\_上看，他们的教育背景普遍较好；至于他们是否具有\_\_\_\_\_的能力和水平，还需要在实践中进一步检验。

依次填入横线上的词语最恰当的一组是：

- A. 履职    履新    履历                                      B. 履职    履历    履新  
C. 履新    履职    履历                                      D. 履新    履历    履职

18. 将下列无序的语句，按合理的逻辑关系，还原为一则完整的简讯，正确的一组是：

- ①职业中介聚集地和自发形成的人力资源交易场所为重点  
②清理整顿人力资源市场秩序的专项行动  
③检查中介机构、用人单位遵守就业管理有关法律法规情况  
④本市将开展  
⑤2009年2月9日至3月9日  
⑥以工商企业密集区、流动人口聚居地

- A. ④②⑤③⑥①                      B. ⑤④②⑥①③                      C. ⑥①④②③⑤                      D. ⑤④⑥①②③

19. 下列划线的成语，使用不恰当的一句是：

- A. 公安人员昼伏夜出，经过二十多天的侦查，终于抓获了这个黑社会头目  
B. 个别民警认为工作时间饮点酒是小事一桩，就不以为意，结果因违犯公安部颁布的“五条禁令”而受到处分  
C. 解决返乡农民的再就业问题，是当前头等大事，各乡镇领导切不可对此置之度外  
D. 不管大家跟他怎么解释，他仍是振振有词地说：“不管怎样，我还是保留自己的观点。”

20. 与下面句子意思相同的一句是：

本书作者希望以这本书为读者学习英语句型起到举一反三的作用。

- A. 本书作者希望以这本书能对读者在学习英语句型方面起到举一反三的作用。  
B. 本书作者希望以这本书能帮助读者在学习英语句型方面起到举一反三的作用。  
C. 本书作者希望能以这本书为读者正确地理解英语句型起到举一反三的作用。  
D. 本书作者希望这本书能引导读者在学习英语句型方面起到举一反三的作用。

21. 下列句子中，没有歧义的一句是：

- A. 他先后将该公司的6辆车分别送给副市长和其他领导干部的子女长期使用  
B. 那天下午，数十位死难者的亲属聚集在矿主的家门口，要求讨个说法  
C. 本人已八十高龄，体弱多病，目前头脑尚清醒，决定辞世后X楼X室产权归义女李小玲继承，特立此遗嘱  
D. 奇瑞汽车、江淮汽车的升级换代产品在本届车博会上受到专家的一致好评

22. 下列有歧义的一句是：

- A. 昨天你参加演出了吗                                      B. 谁陪我去超市买东西呢  
C. 妈妈给我打电话，说明天就回家                                      D. 我没有时间等你，自己先走吧

23. 下列句子中，没有歧义的一句是：

- A. 刘淘喜欢赞扬青年学生的作品  
B. 天色渐晚，自行车还没修好，修车的急坏了  
C. 有偿新闻应当受到严肃批评，这是极其错误的

D. 我不知道她老人家怎么了，她怎么能这样呢

24. 与下列句子语法结构相同的一句是：

人们才发现自己马群里的马在一夜之间忽然变多了

- A. 有人看见你在大街上拿着书走来走去
- B. 他曾经看见两位虎头虎脑的青年从桃园茶社里慢慢地走出来
- C. 交通局派来的一辆由最好司机驾驶的最好的汽车，早已等在养老院门口
- D. 他一直密切关注IT产业的发展情况

25. 可以替换划线部分的词语是：

美国试图通过解决流动性危机来解决支付性危机无异于抱薪救火，借更多的债来解决债务危机，这种救助力度越大，危机扩散幅度就越深，持续时间也越长。

- A. 杯水车薪
- B. 扬汤止沸
- C. 火上浇油
- D. 剜肉补疮

26. 下列各句中，没有语病的一句是：

- A. 对于农村小学，非常关心的一个问题是如何把大量的优质教育资源输入到农村小学的课堂里去，使农村学校的老师和孩子能够把他们的课上好
- B. 作家出版社最近出版了巴金先生记述性、回忆性文字的汇编《我的家》，该书以图文形式首次全面展现了一代文学大师鲜为人知的家庭生活
- C. 作为2008年北京奥运会保险合作伙伴，中国人保以更适合公众参加的形式组织了弘扬奥林匹克精神、服务奥运，分享奥运带来的激情和欢乐
- D. 为了拉动内需，日前国家发改委等六部委联合发文，鼓励发展节能环保型小排量汽车，要求各地各部门消除对小排量汽车的各种限制措施

27. 下列各句中，有语病的一句是：

- A. 近几年的调查数据显示，随着育儿方式和儿童膳食结构的改变，儿童肥胖症的发生率正在逐渐增加
- B. 要提高人均资源，不能靠减少人口，而只能依靠科技创新，依靠高效的行政和法治下的市场对资源的合理配置
- C. 抑郁症的发生和生物、社会、心理三个方面都有关系，工作紧张、压力增大等社会因素使越来越多的现代人被抑郁困扰
- D. 目前我市确有个别学校出现了聚集性的流感样病例，疾控中心对此正在做进一步的病原调查核实，已指导校方采取了有效措施

28. 下列各句中，没有语病的一句是：

- A. 照片拍的好，诗歌写的有味，是由一个人的思想认识、艺术水平的高低决定的
- B. 水资源短缺严重制约着我国西部广大地区经济建设和生态建设的发展，能否做好水的开源节流工作是西部大开发成功的关键之一
- C. 国外盛行的“花明天的钱过今天的日子”的消费理念，如今在我国表现得也很抢眼，多数市民买商品房选择了按揭贷款
- D. 越来越多的下岗职工凭着再就业的优惠政策走上了创业之路，他们把国家贴息贷款的一半以上作为自己重新创业的启动资金

29. 下列各句中，有语病的一句是：

- A. 本届民族运动会选择在广州举办，不仅在该赛事的办赛途径和方向上体现了新意，而且在促进不同地区的相互交流学习上起到积极作用
- B. 人类文化史上的大浩劫——秦始皇的焚书、中世纪的精神桎梏、各个王朝的文字狱、法西斯对文化的杀戮——并不曾使任何一个时代、任何一个民族的文化真正中断、灭亡
- C. 滥用外来语所造成的支离破碎的语境，既破坏了汉语文字的严谨与和谐，影响了汉语表意功能的发挥，也消

解了中国文化精深而丰富的内涵

D. 摄影家们把自己对山川、草木、城市、乡野的感受与作家不同，没有倾注于笔下，而是直接聚焦于镜头

30. 下列各句中，没有语病、句意明确的一句是：

A. 过去人们只是读他们的小说，不曾也很少注意到他们的形象

B. 世界卫生组织宣布，正在研讨中的抗流感新型疫苗，预计年内将进行首次临床试验

C. 靠生死搏斗夺取种群的统治权，是某些动物群落权力交接的唯一方式，虽残酷，却也符合优胜劣汰的种群优化之道

D. 最近又读到一篇介绍四位“贪内助”钱迷心窍，利令智昏，帮助甚至鼓励丈夫敛财受贿，结果把丈夫推向犯罪深渊的过程，提醒官员家庭引以为鉴

31. 美国科学家的一份报告指出：滨海湿地生态系统每公顷每年创造的综合价值达4025美元，相当于同等面积的热带雨林的2倍，或其他森林的13倍，或草地的17倍，或农田的44倍！

对句中“价值”的理解，不正确的一项是：

A. 滨海湿地是具有丰富的生物多样性的特殊生态系统

B. 滨海湿地对全球生态平衡具有不可替代的重要作用

C. 滨海湿地有很高的生物生产力和重要的海岸防护功能

D. 滨海湿地可以为沿海地区创造出很高的国民经济价值

32. 在职称评审委员会会议上，张教授对其他人对他提出的关于“反对给严重违反校纪校规的李华晋升为教授”的建议持反对意见，他感到十分遗憾和不理解，随即忿懑地退出了会议室。

对李华晋升教授，张教授最终所持的态度是：

A. 同意

B. 不同意

C. 未置可否

D. 置之不理

33. 如果有朝一日机器在我们自以为优越的那种重要品质上超过我们，我们就要向自己的创造物双手奉上那唯一的特权！

对该句的正确理解是：

A. 当机器在优越品质上超过人类时，人类就将无法控制机器的思维能力

B. 如果某一天机器在各方面超过人类，机器就将使人类失去思维能力

C. 当机器也具有思维能力以后，人类就将承认思维不再是自己的特权

D. 如果某一天机器具备了人类的重要品质，机器就将享有人类的所有权利

34. 热带居民的血液中R球蛋白含量较高，而蛋白质的含量则较低；寒带居民血液中，蛋白质的含量较高，而R球蛋白含量较低。这同寒带居民以肉食为主，而热带居民以素食为主有关。

这段话主要的意思是：

A. 不同地区人们的饮食习惯不同

B. 不同地区的食物来源不同

C. 食物结构影响人体的血液成分比例

D. 素食者更加健康长寿

35. 时间怀有一种公平的道义，对它所拿去的，它会给我们别的补偿。它夺去了我们肢体精神的灵活，却给予我们安静和安详。

对这段话理解正确的一项是：

A. 无所谓浪费时间

B. 耽误的时间可以得到补偿

C. 不具有灵活肢体精神的人能获得安宁

D. 晚年的宁静可以使青春活力的消失得到补偿

36. 今日中国文化，需要的不是流氓精神，而是新的文化绅士精神。如果说，旧文化已经显示出其可笑之处，那替代它们的也不应当是山寨文化，而是应真正具有原创性的独立文化。“山寨”或许有反抗的努力，却没有自由精神。他们或许有天才，但却不能指向真善美的创造。

下列表述，符合上述这段话意思的是：

- A. 山寨文化是流氓文化
- B. 山寨文化不是真正具有原创性的独立文化
- C. 山寨文化正是由于依附于旧文化而缺乏独立自由之精神
- D. 山寨文化颠覆了传统的真善美

37. 房价理性回调，让老百姓能够用合理的价格实现住房梦想，其后自然会去大胆地消费和开支。从这个意义上讲，救市的确要救房地产，但是救房地产的最好方法就是让房价下跌，一直跌到让多数老百姓能够承受为止。这段话表达了希望房价下跌的观点，其理由是：

- A. 目前的房价缺乏理性
- B. 老百姓期待合理的住房价格
- C. 房价跌到多数老百姓能够承受的程度，就会拉动住房消费，使房地产业进入良性发展的轨道，从而提升经济
- D. 房价虚高使老百姓住房梦想成为泡影

38. 法国作家福楼拜曾说：“科学和艺术在山麓分手，回头又在顶峰汇聚。”

这句话的含义最准确的一项是：

- A. 科学与艺术各属的领域不同，但它们探求奥秘的手段是一样的
- B. 科学与艺术研究天地自然的方式不同，但最后还是要相互合作相互借鉴的
- C. 科学与艺术使用的语言不同，但是表达的内容却是一样的
- D. 科学与艺术有许多不同，但是它们的本质和使命都是从杂乱的现象中整理出秩序和规律

39. 一个人有两个耳朵，能听话；两只眼睛，能看东西；两个鼻孔，能闻味。听话，能听正面的，也能听反面的；看东西，能看白的，也能看黑的；闻气味，能闻香的，也能闻臭味的，所以，\_\_\_\_\_。

横线上为这段文字所填写的结论性语句是：

- A. 人体构造也是符合美学原理
- B. 人的机能也是合乎辩证规律的
- C. 面对纷繁复杂的世界，我们必须善于辨别
- D. 万事万物都具有两面性的特点

40. 一个知名企业向社会招聘高级管理人才，面试中有一道试题：“请写出你原来所在单位的最大秘密和对我公司有何价值？”应聘者对此各陈己见，但最后被聘用的却是一位对此题交白卷者。有人问及原因，老总回答道：“这样的人值得信任。”

应聘者对其试卷交白卷却被聘用，这件事说明了什么？对此理解最正确的一项是：

- A. 聪明地不做胜过了愚蠢地做
- B. 有创新精神才能出奇制胜
- C. 表现与众不同才能崭露头角
- D. 人格是成功的重要因素

41. 据报载，英国有调查机构曾以《世界上谁最快乐》为题做过一次调查，统计数字显示排在前几位的分别是以下四种人：刚发表长篇小说的作家、刚生下小孩的女人、刚顺利做完一个大手术的医生、玩沙子堆砌成功的小孩。

以上几种人之所以最快乐的原因在于：

- A. 从事创造性劳动并经过努力获得了成功
- B. 快乐与否在于自我感受，不是取决于物质条件
- C. 兴趣是最好的老师，快乐在兴趣之中
- D. 有志者事竟成，有志者能获得快乐

42. 但丁说过：“道德常常能够填补人们智慧的缺陷，而智慧却不能同样填补道德的缺陷。”

对这句话理解无误的是：

- A. 在某种意义上，道德比智慧对人更重要
- B. 一个人可以缺乏智慧，但是不能缺乏道德
- C. 智慧的缺陷可以填补，而道德的缺陷却不能填补
- D. 道德的缺陷，往往会带来智慧上无可弥补的缺陷

43. 管理大师德鲁克提出了一种现代管理方法，即目标管理，他认为，目标不仅是管理者下达的，而且要得到被管理者的认同，只有这样，有难度的工作才不会被员工所拒绝和回避。

这句话表达的意思是：

- A. 德鲁克提出目标管理方法
- B. 目标由管理者确定
- C. 管理者与被管理者应共同商定目标
- D. 工作不应有难度，否则员工会拒绝

44. 试验结果表明：用自来水烧饭，维生素B1损失程度和烧饭的时间、温度成正比，一般损失30%；若用开水、蒸馏水烧饭，则不会引起维生素B1的损失。淘米的次数与维生素B1的损失成正比，但是，无论使用开水、自来水还是蒸馏水淘米，维生素B1的损失都是40%。

由这个实验结果可以得出：

- A. 应该用开水、蒸馏水淘米
- B. 淘米时要节约用水
- C. 应该用开水来淘米、烧饭
- D. 应该减少淘米的次数，用开水来烧饭

45. 跳舞、唱歌别在意是否有他人关注；做事不要计较别人议论；参加竞聘面试别担心强手的对抗。

这句话的意思是：

- A. 只要自己痛快就行
- B. 做自己喜欢做的事情
- C. 成功全靠自己，不要靠别人
- D. 做事要独立，自信

46. 读书是个人的一种生活习惯，是由文化素养决定的。没有对知识的追求、没有对文化的爱好，很难想象能让人静下心来去读书。阅读的习惯，要从小培养，从小处做起，只有对文化知识的热爱和追求，才能让我们习惯于阅读。国人的读书习惯和爱好绝非一个青少年读书节就能解决的。所以，阅读还是靠平日的习惯。

这段文字的中心议题是：

- A. 阅读习惯
- B. 倡导读书
- C. 从小爱读书
- D. 追求知识

47. 储蓄是经济增长的资源基础，但最大限度的储蓄增长率并不是最优的经济增长率，只有适度的储蓄增长率才容易带来较大的经济增长率。

对这句话理解正确的是：

- A. 储蓄增长率应与经济增长率同步
- B. 储蓄增长率与最优的经济增长率成反比
- C. 储蓄增长速度如果无限度地增长，会影响经济增长速度
- D. 就是储蓄不增长，经济也会增长

科学家创造出一台DNA计算机，并让它解决一些较复杂的运算问题。他们认为，这台寿命很短的计算机虽然不实用，但它正走出科幻世界，成为一种现实的DNA计算技术。史密斯教授说：“这是一种非自动化的计算机——就像算盘那样，但我们相信它可以像常规计算机一样实现自动化。”常规计算机的技术正在迅速接近微型化的极限，科学家梦想对DNA及RNA的用于保存复杂生物信息的巨大储存能力加以利用。

尽管这一技术研究取得了成功，但在大多数试验中，DNA分子是悬浮在充满液体的试管中的。史密斯小组把DNA分子的活动限制在固体表面上。这使技术得到简化，尽管仍无法用它造出可像常规计算机那样解决复杂问题的大型DNA计算机。

经数年研究，史密斯小组造出了几台DNA计算机，每台都由100万亿个人工合成的DNA链状结构组成，研究人员对DNA链状结构进行编码，使之针对某个待解决问题能包含所有可能的答案。这些结构能反复解决这个问题，但需要人工帮助把这些DNA链栓到一块盖着薄薄的金片的玻璃上，然后反复地浸入不同的酶溶液中，使酶与DNA发生相互作用，剔除掉不当的答案。每台“计算机”在数天时间里可以进行数项不同的计算。

美国自1994年起就有十来个研究小组从事分子计算研究。杜克大学的教授说：“利用生物技术进行计算的方法有多种，目前还不清楚哪一种方法将脱颖而出。”普林斯顿大学教授劳拉的小组致力于开发利用RNA分子的计算潜力，她的小组最近改造了RNA链，使其能处理类似于下国际象棋时遇到的复杂问题。她说，史密斯小组的化学计算机可以解决16种可能答案的问题，而普林斯顿的RNA计算机可以搜索到512种可能的答案。

48. 对“DNA计算机”的理解不正确的一项是：

- A. DNA计算技术是一种利用生物技术进行计算的技术
- B. DNA计算技术的研究与开发涉及生物学与化学领域
- C. DNA计算技术是根据DNA对生物信息的加工储存原理设计的
- D. DNA计算技术的研究正逐步深入，但目前尚未取得成功

49. 编制《DNA计算机与常规计算机的比较表》，其中不正确的一项是：

项目\对象	DNA 计算机	常规计算机
A.性能	寿命很短，不实用	寿命长，实用
B.结构	像算盘那样由一串串算珠(DNA 键)组成	由输入设备、中央处理器和输出设备组成
C.功能	存储有巨大信息，搜索较多的问题答案	计算、存储
D.发展前景	技术将是微型化的新的里程碑	技术正在迅速接近微型化极限

- A. 如图所示
- B. 如图所示
- C. 如图所示
- D. 如图所示

50. 文中认为DNA计算机“是一种非自动化的计算机”，下列作为这一观点的根据的一项是：

- A. 每台都由大约100万亿个人工组成DNA链状结构进行编码
- B. 为解答某个待解决的问题，研究人员对DNA链状结构进行编码
- C. 需人工帮助把拴在玻璃片上的DNA链反复浸入不同的酶溶液中
- D. 每台DNA计算机在数天时间里可以进行数项不同的计算

51. 下列说法不符合原文意思的一项是：

- A. 1994年史密斯小组从事分子计算的研究并制造出几台DNA自动计算机
- B. 常规计算机的技术接近微型化的极限，所以科学家们致力于DNA计算机的研究开发
- C. DNA计算机正走出科幻时代，成为一种现实可行的计算机新技术
- D. 目前对RNA计算潜力的开发利用比DNA分子大，能处理更为复杂的问题

信息文化的直接后果是把全球结成一个紧密的信息整体，无论身处何地，一旦被纳入由电脑、电视、卫星、电话、电传组成的现代化信息网络，就可以与整个世界同时存在，同时知晓这个世界正在发生的种种变化。某种局部的社会变迁，通过全球一体化的信息网络，可以及时准确无误地传播到全球范围，从而产生全球性影响，使全球各区域之间的关联性大大增强。另一方面，信息一体化暴露了不同社会之间的差距，强化了不同社会之间的频繁接触，从而使人们很快意识到各自的处境和差距，有利于互相交流、协调发展、取长补短、加速前进，追赶代表全球先进水平的发展浪潮。

正如不同的土壤中可以开出不同的花朵一样，信息文化的崛起改变了人们的群体意识。浓厚的乡土意识是口头传播时代的产物、人们只能与本乡土的小群体频繁接触、从而产生一种乡土依恋心理。强烈的民族意识是文字传播时代的产物。不同乡土的人群依靠共同的文字认同，共同的文字支撑着共同的文化。只有进入电讯时代，各民族之间的普遍的文化认同才能发生。面对卫星电视和电子计算机，人们接受的是全方位传递的文化，人们必须依靠异种文化为背景，才能更好地理解、发展自己的文化。人们越来越超越自己的民族和国家，从全球协调发展的角度去思考和认识问题，从而形成了普遍的全球意识。

52. 对“信息一体化”两方面的作用的解释，正确的一项是：

- A. 把全球结成一个信息整体，并暴露不同社会之间的差距，促进交流和发展
- B. 使局部的社会变迁发生全球性影响，增强各区域之间的关联性，并暴露不同社会之间的差距，促进交流和发展
- C. 把全球结成一个信息整体，使人们了解世界发生的种种变化，从而追赶代表全球先进水平的发展浪潮
- D. 使本地区的社会变迁发生全球化影响，同时又意识到自己的处境和差距，从而取长补短，加速前进



53. 对第1段出现的概念，解释正确的一项是：

- A. “信息文化”指电脑、电视、卫星、电话、电传等信息手段
- B. “信息网络”指全球各区域之间的关联性以及不同社会的频繁接触
- C. “信息一体化”指用现代化手段把全球各个区域结成一个信息整体
- D. “不同社会”指社会制度不同的国家或地区

54. 对信息文化间接后果的概括，不恰当的一项是：

- A. 信息文化的崛起改变了人们的群体意识
- B. 信息文化使人们接受全方位的文化传播
- C. 信息文化使人们的意识越来越超越自己的民族和国家
- D. 信息文化使人们形成普遍的全球意识

55. 对“正如不同的土壤可以开出不同的花朵一样”所比喻的内容，理解错误的一项是：

- A. 浓厚的乡土意识是口头传播时代的产物
- B. 强烈的民族意识是文字传播时代的产物
- C. 群体意识是信息文化崛起的产物
- D. 普遍的全球意识是电讯时代的产物

### 第三部分 - 判断推理

本部分包括图形推理、定义判断、类比推理与逻辑判断四种类型的试题，请按每道题的答题要求作答。

56. 必要条件：当一事物情况M不存在时，另一事物情况N也一定不会存在，那么前者(M)就是后者(N)的必要条件。根据这一定义，下列各项中，M与N构成必要条件关系的是：

- A. 一个数能被2整除(M)，该数为偶数(N)
- B. 发生重大安全责任事故(M)，人员伤亡(N)
- C. 良好的家庭教育(M)，孩子成才(N)
- D. 一个国家自然资源丰富(M)，该国经济发达(N)

57. 座右铭：本来指写出来放在座位边上用来激励、警戒、约束自己行为的格言警句，后来把一个人铭记在心或经常自我提醒的一句或少数几句格言警句也叫做座右铭。

根据以上定义，下列语句中不适合用作座右铭的是：

- A. 天若有情天亦老，人间正道是沧桑
- B. 先天下之忧而忧，后天下之乐而乐
- C. 良言一句三冬暖，恶语伤人六月寒
- D. 横眉冷对千夫指，俯首甘为孺子牛

58. 资源整合：市场主体为实现特定目的，将各种资源进行优化配置，综合利用，使之发挥良好效益的一系列措施办法。

以下不属于资源整合的是：

- A. 李大妈将沿街房屋改造装修，邻居王伯出资，合伙开办了一家便民超市
- B. 某纺织厂与房地产公司商定，将市区厂房整体拆除，新建住宅小区，组建物业公司，安置本厂员工转岗就业
- C. 某煤炭企业出资，当地村民出力，将塌陷区改造成水上游乐园
- D. 某企业将闲置设备和库存物资销售，所得资金购买股票，收益不菲

59. 柔性管理：组织以人为中心，灵活运用各种管理方法，通过影响人的心理，产生良好的管理效果。

以下属于柔性管理的是：

- A. 张莉7岁的孩子感冒发烧，家中无人照看，只好带着上班，领导让她调休，送孩子去医院
- B. 某机关组团出国学习考察，顺道去迪斯尼乐园游玩了一天，有关领导特批报销费用
- C. 办公室主任负责考勤，无论谁迟到，考勤记录均为合格，同事关系相处很好
- D. 新员工小王试用期培训考试不合格，车间主任考虑她是副总的亲戚，破例让她转正上岗

60. 法律道德背反现象：许多人以为合乎道德的行为是不会违法的，但是现实社会中，某些符合一般道德原则的行为却被法律所禁止。

下列哪项不属于“法律道德背反现象”：

- A. 某护士出于同情，应一癌症晚期患者本人要求帮助他实行安乐死，以解除其无法忍受的痛苦，后被控犯谋杀罪
- B. 某甲花一万元从人贩子手上购买一男孩为子，视为己出，关爱有加，两年后民警来“解救”时，孩子不愿离开现“父母”
- C. 某乙为解决农民工子女上学难，办了一所收费低廉的小学，被指非法办学而不得不停办，许多孩子因此再度失学
- D. 某丙刑满释放回乡后扬言报复“仇人”，并准备了凶器，其父劝阻无效后为免其犯下血案将其捆绑关押在家长达三个月，该行为涉嫌非法拘禁

61. 红绿灯：开关柜

- A. 千斤顶：百米尺                      B. 手摇床：脚踏车                      C. 加热炉：冷却罐                      D. 装卸车：录放机

62. 导盲犬：缉毒犬

- A. 警犬：军犬                              B. 奶牛：耕牛                              C. 斗鸡：肉鸡                              D. 赛马：辕马

63. 森林：树木

- A. 建筑群：建筑物                        B. 生物：动物                              C. 食品：牛奶                              D. 电脑：硬盘

64. 故宫：太和殿

- A. 黄山：天都峰                            B. 奥运会：奥运村                        C. 台湾岛：日月潭                        D. 长城：八达岭

65. 涨跌：盈亏

- A. 善恶：好坏                              B. 胖瘦：高矮                              C. 输赢：胜负                              D. 对错：正误

66. 切割：缝补

- A. 拼凑：剪裁                              B. 拖延：推诿                              C. 装卸：搬运                              D. 挖掘：填埋

67. 体检：化验：健康

- A. 质检：公示：达标                        B. 招聘：面试：录用                        C. 报关：商标：审核                        D. 考试：评阅：合格

68. 腊月：小寒：大寒

- A. 正月：立春：雨水                        B. 三月：清明：寒食                        C. 五月：端午：夏至                        D. 八月：中秋：秋分

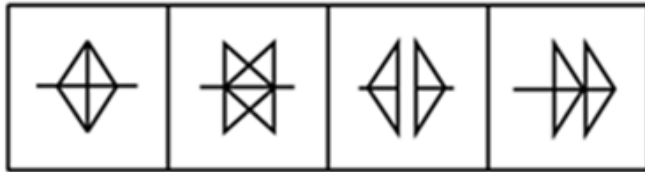
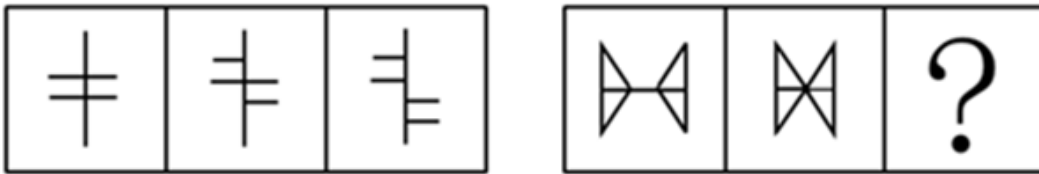
69. 速度：时间：距离

- A. 利率：本金：利息                        B. 质量：品种：数量                        C. 利润：成本：产值                        D. 收入：支出：剩余

70. 构思：写作：发表

- A. 点火：燃烧：熄灭                        B. 播种：耕耘：收获                        C. 改革：实验：创新                        D. 设计：生产：销售

71. 从所给四个选项中，选择最合适的一个填入问号处，使之呈现一定规律性：【2009安徽071】



A B C D

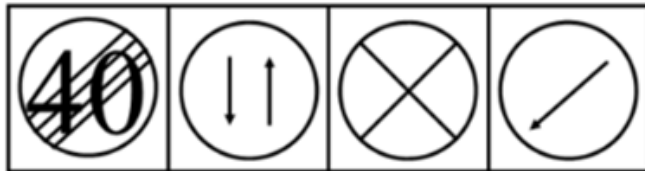

A. 如图所示

B. 如图所示

C. 如图所示

D. 如图所示

72. 请从所给的四个选项中，选择最合适的一个填入问号处，使之呈现一定的规律性：【2009安徽072】



A B C D

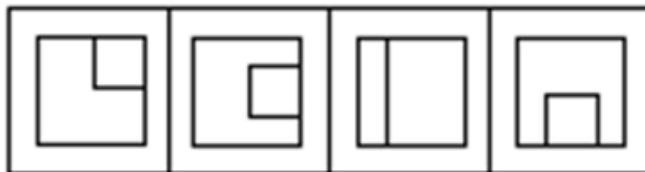
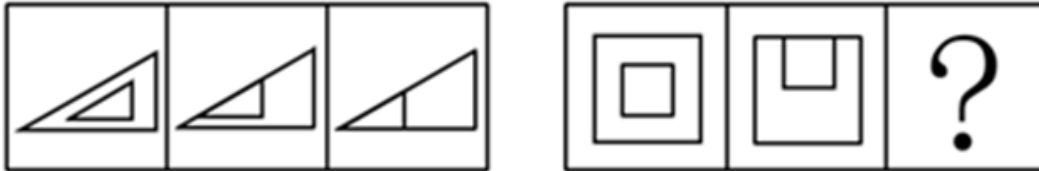
A. 如图所示

B. 如图所示

C. 如图所示

D. 如图所示

73. 从所给四个选项中，选择最合适的一个填入问号处，使之呈现一定规律性：【2009安徽073】



A B C D

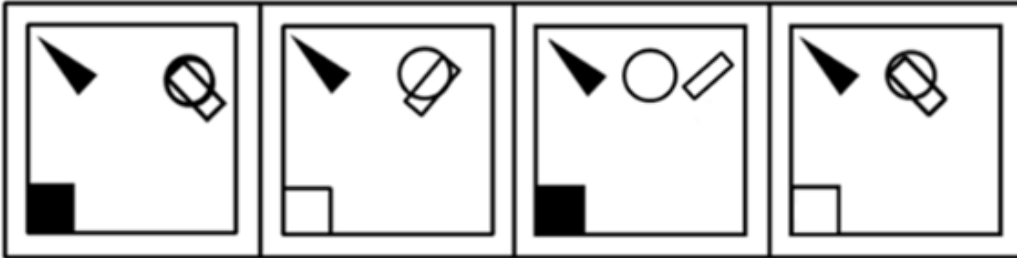
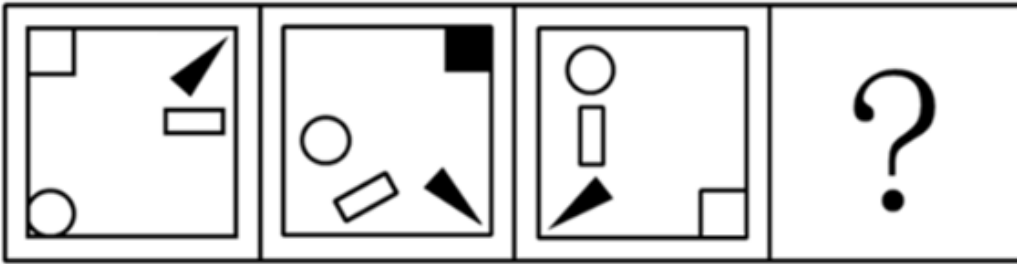
A. 如图所示

B. 如图所示

C. 如图所示

D. 如图所示

74. 从所给四个选项中，选择最合适的一个填入问号处，使之呈现一定规律性：【2009安徽074】



A

B

C

D

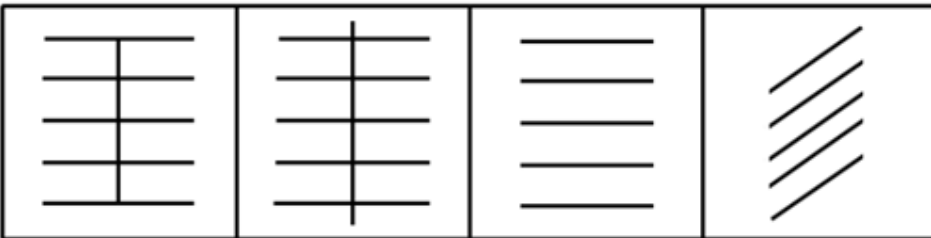
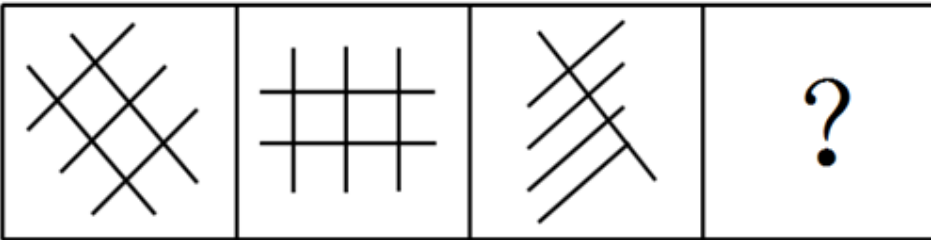
A. 如图所示

B. 如图所示

C. 如图所示

D. 如图所示

75. 请从所给的四个选项中，选择最合适的一个填入问号处，使之呈现一定的规律性：【2009安徽075】



A

B

C

D

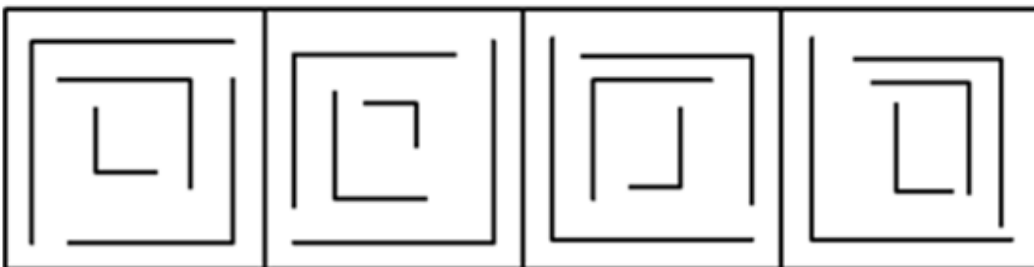
A. 如图所示

B. 如图所示

C. 如图所示

D. 如图所示

76. 从下列四个选项中，选出与其他三个图形不同的一个图形：【2009安徽076】



A

B

C

D

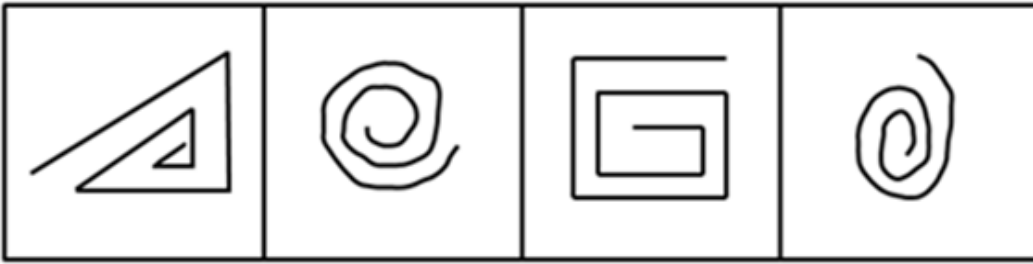
A. 如图所示

B. 如图所示

C. 如图所示

D. 如图所示

77. 从下列四个选项中，选出与其他三个图形不同的一个图形：【2009安徽077】



A

B

C

D

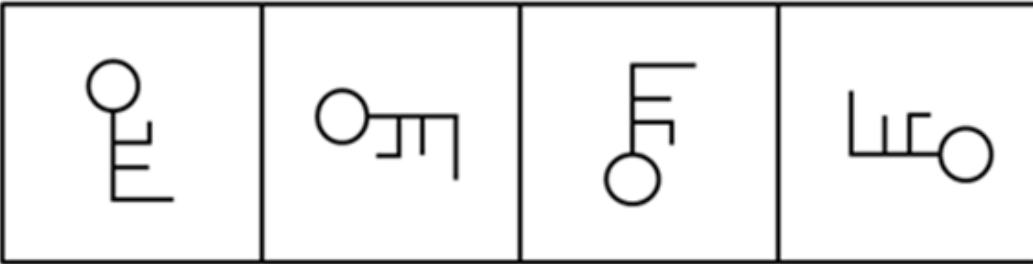
A. 如图所示

B. 如图所示

C. 如图所示

D. 如图所示

78. 从下列四个选项中，选出与其他三个图形不同的一个图形：【2009安徽078】



A

B

C

D

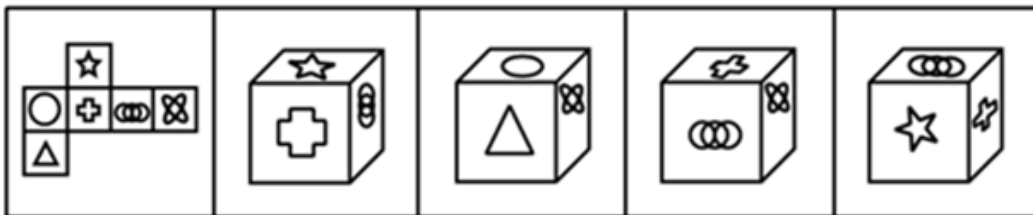
A. 如图所示

B. 如图所示

C. 如图所示

D. 如图所示

79. 右图的四个图形，只有一个是左面的纸板向外折叠而成。请选出正确的一个：【2009安徽079】



A

B

C

D

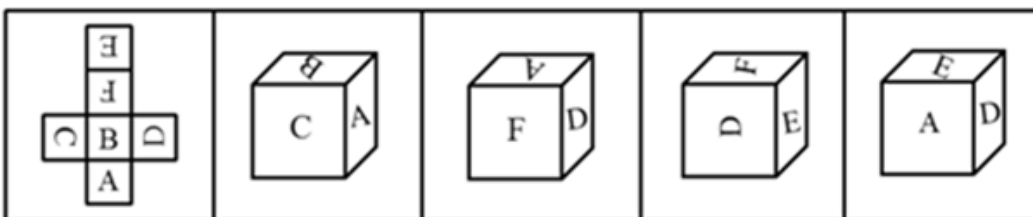
A. 如图所示

B. 如图所示

C. 如图所示

D. 如图所示

80. 右图的四个图形，只有一个是左面的纸板向外折叠而成。请选出正确的一个：【2009安徽080】



A

B

C

D

A. 如图所示

B. 如图所示

C. 如图所示

D. 如图所示

81. 雨后的山色是美丽的，即使没有人欣赏它。上述文字是对下列哪项的反驳：

- A. 美丽是肤浅的
- B. 味道是不可数的
- C. 美丽只在人的眼里
- D. 人们只想看喜欢的东西

82. 失眠或睡眠质量差会严重影响人的身心健康。调查发现，很多睡眠不好的人都有睡前饮用咖啡的习惯。因此，喝咖啡有助于提高睡眠质量，是治疗失眠症的辅助手段。

以下哪项为真，对题干的结论是最有力的反驳：

- A. 咖啡有很好的安眠作用



- B. 要从事社会研究，不能不从实际工作中收集资料
- C. 依据实质的资料作社会研究，则不具有理论性
- D. 社会研究只需有实质的资料就可以了

89. 目前，生物加工食物体系要成为现实，还有几件事要做。先得能在培养基里培养出蔬菜和水果的组织，还得能扩大产量以应市场之需。而要大量经济地生产，还得研制出廉价原料，利用其中的基本营养成分进行批量生产。

由此可以推出：

- A. 研制出廉价原料是生物加工食物体系的关键
- B. 目前已经能在培养基里培养出蔬菜或水果的组织
- C. 只要有廉价的原料就能扩大产量
- D. 目前的原料太昂贵

90. 中兴集团要招聘20名中层管理人员，最不可能被招上的学历是大专以下，或是完全没有管理工作经验的人，而懂英语或懂日语的人被录用的可能性更高。

如果上述断定为真，以下哪位求职者最有可能被选上：

- A. 张先生现年40岁，中专学历，毕业后曾到京华大学经济管理学院进修半年，最近刚辞去已任职5年的华庭宾馆大堂经理的职务
- B. 王女士是经济管理学院的副教授，硕士学历，出版有管理学专著，曾任某商场公关部见习经理
- C. 刘小姐是外语学院2000年本科毕业生，毕业后当过半年涉外导游，近两年做专职翻译，精通英语和日语
- D. 老孙曾是闻名遐迩的南行集团总裁，曾被誉为无学历、无背景、白手起家的传奇式企业家。因为南行集团的倒闭使他不得不从头做起来

#### 第四部分 - 常识判断

根据题目要求，在四个选项中选出一个最恰当的答案。

91. 依据《宪法》规定，关于公民权利和自由的表述，下列判断正确的是：

- A. 劳动、受教育和依法服兵役既是公民的基本权利，又是公民的基本义务
- B. 休息权的主体是全体公民
- C. 公民在年老、疾病或者未丧失劳动能力的情况下，有从国家和社会获得物质帮助的权利
- D. 2004年《宪法修正案》规定，国家尊重和保障人权

92. 以下关于农民工工伤保险的处理，正确的是：

- A. 农民工所在单位未参加工伤保险，可以不承担工伤保险责任
- B. 工程承包人没有用工主体资格，雇佣农民工发生工伤事故，由发包企业赔偿
- C. 农民工工作中被第三者伤害，用人单位不承担工伤保险责任
- D. 用人单位与农民工约定，因本人违章作业造成工伤，不承担工伤保险

93. 山寨手机在制售过程中，可能涉及的违法行为不包括：

- A. 模仿品牌畅销手机，侵犯知识产权
- B. 产品质量难以保证，侵犯消费者权益
- C. 生产销售厂商逃税漏税，损害国家利益
- D. 传播淫秽短信，造成精神文化污染

94. 根据现行的《食品安全法》，以下表述不正确的是：

- A. 《食品安全法》与《食品卫生法》是对我国食品安全共同监管的两部重要法律
- B. 由国务院卫生行政部门，对现行食用农产品质量安全标准、食品标准、食品质量标准和有关食品的行业标准中强制执行的标准进行整合，统一公布食品安全标准
- C. 食品安全监督管理部门对食品不得实施免检制度，对“问题食品”实行召回制度
- D. 名人在食品广告中向消费者做虚假宣传，造成消费者权益受损的，与食品生产经营者共同承担连带责任

95. 在下列哪种情况下，用人单位延长劳动者工作时间应受到《劳动法》有关限制性规定的约束：

- A. 发生自然灾害、事故或因其他原因，威胁劳动者生命健康和财产安全，需要紧急处理的
- B. 生产设备发生故障，影响生产和公众利益，必须及时抢修的
- C. 交通运输线路、公共设施发生故障，影响生产和公众利益，必须及时抢修的
- D. 用人单位取得大量订单，为了在短期内完成交货，必须组织突击生产的

96. 以下应依法惩处的经济垄断行为是：

- A. 某商场即将歇业装修，以亏本价格倾销库存商品，一时间，使得周边竞争对手的生意清淡
- B. 某市餐饮协会为保证卫生质量和食品安全，要求会员单位必须使用统一消毒的餐具
- C. 根据国际市场原油价格变化，国家发改委决定调整国内成品油价格
- D. 某出版社对其出版的《国学大全》精装本定了“天价”

97. 李庄和赵庄为相邻一块土地的所有权归属发生争议，李庄的村干部就此事请示乡政府。

下列哪一种答复意见是错误的：

- A. “这件事，乡政府可以出面召集你们双方协商解决。”
- B. “如果你们双方达不成协议，我们乡政府是无权处理的”
- C. “你们可以去县政府申请处理，也可以直接去县法院起诉。”
- D. “在纠纷解决之前，你们双方必须维持土地利用的现状。”

98. 某美容店向王某推荐一种新品牌的护肤品。王某对“名牌产品”价格如此便宜感到疑惑，店家解释为店庆优惠活动。王某买回使用后，面部出现红肿、痛痒，苦不堪言。经质检部门认定属于假冒劣质产品，王某遂向美容店索赔。

对此，下列哪一选项是正确的：

- A. 美容店不知道该产品为假名牌，不应承担责任
- B. 美容店不是假名牌产品的生产者，不应承担责任
- C. 王某对该产品有怀疑仍接受了服务，也应承担部分责任
- D. 美容店违反了保证商品和服务安全的义务，应当承担全部责任

99. 张某和王某是邻居，在一起行政案件的执行中，人民法院执行人员误将案外人员王某的一间房屋当作被执行人张某的房屋强行拆毁。

王某提出赔偿请求，该损失应由谁赔偿：

- A. 应当由张某负责赔偿
- B. 应当由人民法院执行人员负责赔偿
- C. 应当由人民法院负责赔偿
- D. 属于意外事件，由王某自己承担

100. 胡锦涛总书记明确指出：“坚定不移地惩治腐败，是我们党的力量的表现，是全党同志与广大人民群众的共同愿望。”这里，“党的力量”来源于：

- A. 人民群众
- B. 自身建设
- C. 领导核心
- D. 组织纪律

101. 中国特色社会主义“四位一体”建设是指：

- A. 经济建设、政治建设、道德建设、社会建设
- B. 经济建设、政治建设、文化建设、社会建设
- C. 经济建设、政治建设、法治建设、文化建设
- D. 经济建设、政治建设、社会建设、生态建设

102. 以下关于中国政党制度的表述不正确的是：

- A. 中国政党建设是中国共产党领导的多党合作和政治协商制度
- B. 中国共产党与民主党派合作的方针是“长期共存，互相监督，肝胆相照，荣辱与共”
- C. 中国政党制度的特点是共产党执政，民主党派轮流参政
- D. 人民政协是中国共产党领导的多党合作和协商的重要机构

103. 我国最基层人民政府是：



- A. 街道办事处                      B. 乡（镇）人民政府                      C. 村民委员会                      D. 社区居委会
104. 2007年9月，我国正式成立国家预防腐败局，负责全国预防腐败工作的组织协调、综合规划、政策制定和检查指导等重要工作。这一举措旨在加强：
- A. 国家权力机关监督                      B. 国家司法机关监督                      C. 执政党监督                      D. 行政系统内部监督
105. 某市交通管理局发布文件，规定对高速公路过往车辆征收过路费。丁某驾车路过被征收，认为属于乱收费，欲讨个说法。下列选项中不正确的是：
- A. 丁某可以直接对该征收行为提起行政复议  
B. 丁某可以针对该规范性文件要求复议审查  
C. 丁某可以在申请复议征收行为时要求审查该规范性文件  
D. 丁某不必经过复议，可以直接向人民法院提起行政诉讼
106. 2009年国务院政府工作报告中指出，在市场化需求增长乏力的背景下，“大幅度\_\_\_\_\_，这是扩大内需量最主动、最直接、最有效的措施。”
- A. 增加信贷规模                      B. 增加政府支出                      C. 支持中小企业                      D. 增加农民收入
107. 下列属于城乡居民均等化的公共服务措施是：
- A. 农民工子女在城里上学也一样享受基础教育阶段的免费教育  
B. 地方政府对外来人口购买商品住房准予办理本地户口  
C. 国有企业对农民工实行同工同酬  
D. 城市下岗职工到农村创业获得银行优惠贷款
108. 我国劳动力供大于求的总体格局并没有发生根本性改变，因此政府应当：
- A. 加快产业升级，吸纳更多的劳动力就业                      B. 发展劳动密集型产业，缓解就业压力  
C. 取消或降低企业最低工资标准                      D. 放松失业率控制标准
109. 从2009年起，国家对农村低收入人口全面实施扶贫政策。对该政策理解不正确的是：
- A. 农村绝对贫困人口和低收入人口不再区别对待  
B. 国家综合实力提高，惠及更多农民，提高扶贫标准  
C. 有利于提高贫困人口的自我发展能力  
D. 不再实行农村最低生活保障制度
110. 我国流动人口的计划生育工作，由：
- A. 其户籍所在地的人民政府负责管理  
B. 其现居住地人民政府负责管理  
C. 其户籍所在地和现居住地的人民政府共同负责管理，以现居住地为主  
D. 其户籍所在地和现居住地的人民政府共同负责管理，以户籍所在地为主
111. 某处长对下属做思想政治工作，引用孟子的话说：“鱼，我所欲也；熊掌，亦我所欲也，二者不可得兼，舍鱼而取熊掌也。”这是在教育下属：
- A. 要在不同的需要进行最佳抉择                      B. 不同的需要是不能兼顾的  
C. 要把低层次需要引导到高层次需要上来                      D. 需求层次高就是思想境界高
112. 俗话说：“一山难容二虎”。从管理的角度看，对这句话最合适的理解是：
- A. 组织中的领导个性不一致，必将导致不团结                      B. 组织需要集中统一管理，不能“政出多门”  
C. 组织中的能人太多，必然造成内耗                      D. 组织目标需要达成共识，不能有不同意见
113. 在职业道德修养中，“慎独”的意思是：
- A. 单位人际关系复杂，做事一定要小心谨慎                      B. 走自己的路，让别人说去吧

C. 即使没有监督，也要管好自己

D. 广交朋友，但要保持个性

114. 中国古代记载文字的器物曾经有：①竹简，②青铜器，③帛书，④甲骨，⑤纸张，它们在历史上出现的先后顺序是：

A. ①③④②⑤

B. ④②①③⑤

C. ①②④③⑤

D. ④②③①⑤

115. 以下历史事件发生的先后顺序不正确的是：

A. 鸦片战争 洋务运动 戊戌变法

B. 辛亥革命 五四运动 国共合作

C. 七七事变 西安事变 皖南事变

D. 辽沈战役 淮海战役 渡江战役

116. 曹操的“何以解忧，唯有杜康”诗句中的“杜康”，是指：

A. 益友

B. 胜景

C. 美酒

D. 民歌

117. “狮身人面像”这一古代建筑奇迹出自：

A. 古希腊

B. 古印度

C. 古罗马

D. 古埃及

118. 以下不是出自《论语》的名言是：

A. 有朋自远方来，不亦乐乎

B. 每日三省吾身

C. 三人行，必有吾师

D. 天行健，君子以自强不息

119. 以下属于英文音译的网站名称是：

A. 网易

B. 谷歌

C. 新浪

D. 百度

120. 以下科技常识正确的是：

A. 原子弹爆炸是核能聚变的反应过程

B. 使用甲醇含量高的建材进行家庭装修，容易导致室内环境污染

C. “钛”因为耐高温，比铝还轻，被称为“太空金属”

D. 手机刚接通时的电子辐射最强

121. 以下测量单位，不属于同一类测量功能的是：

A. 海里 链 节

B. 公顷 亩 平方尺

C. 吨 磅 斤

D. 盎司 加仑 升

122. 以下生活常识不正确的是：

A. 微波炉不能使用金属器皿加热食品

B. 胡萝卜富含维生素，生吃效果最好

C. 扎啤是没有经过发酵的啤酒

D. 强化复合地板耐磨性好，但防水性能差

123. “捧着一颗心来，不带半根草去”这句话出自安徽名人：

A. 张恨水

B. 陶行知

C. 朱光潜

D. 赵朴初

124. 2008年，安徽省开始实施合芜蚌\_\_\_\_\_综合配套改革试验区建设。

A. 城乡一体化

B. 经济开发

C. 城市经济圈

D. 自主创新

125. 庐剧是安徽的地方剧种，目前国家以\_\_\_\_\_名义对其实施保护。

A. 原产地名称

B. 重点文物

C. 自主知识产权

D. 非物质文化遗产

### 第五部分 - 资料分析

针对下列图、表或文字回答问题。你应根据资料提供的信息进行分析、比较、计算、处理。你可以在题本上运算。

## 相邻六省生产性服务业从业人员分析表（2005年）

单位：万人

省份	交通运输、仓储及邮电通信业	信息传输、计算机服务和软件产业	租赁和商业服务业	金融保险业	房地产业	科学技术服务业
A省	126.7	28.5	14.7	22.4	72.5	7.0
B省	187.3	17.1	20.9	7.7	14.0	11.1
C省	133.8	16.0	11.9	16.7	16.3	6.4
D省	84.2	11.4	8.7	7.3	8.2	5.5
E省	28.1	4.3	11.6	5.8	6.3	9.0
F省	20.0	4.1	12.1	1.3	4.8	5.9

126. 六省从业人数比例最悬殊的生产性服务业是：

- A. 交通运输、仓储及邮电通信业  
B. 信息传输、计算机服务和软件产业  
C. 金融保险业  
D. 房地产业

127. C省与D省相比，从业人数最接近的生产性服务业是：

- A. 信息传输、计算机服务和软件产业  
B. 租赁和商业服务业  
C. 金融保险业  
D. 科学技术服务业

128. 六省的生产性服务业，按从业人数多少排名相同的行业是：

- A. 交通运输、仓储及邮电通信业  
B. 信息传输、计算机服务和软件产业  
C. 租赁和商业服务业  
D. 科学技术服务业

129. 以从业人数为标准，C省与其他五省相比，相对软弱的行业是：

- A. 交通运输、仓储及邮电通信业  
B. 信息传输、计算机服务和软件产业  
C. 金融保险业  
D. 科学技术服务业

130. 就从业人数规模看，以下关于六省生产性服务业的判断不正确的是：

- A. A省房地产业相对发达  
B. E省、F省的信息传输、计算机服务和软件产业相对薄弱  
C. F省的金融保险业很发达  
D. B省从业人员数量最悬殊的两个行业是交通运输、仓储及邮电通信业与金融保险业

截止2007年12月，网民数已达到2.1亿人，比2007年6月增加4800万人，2007年一年增加了7300万，年增长率为53.3%。一年中平均每天增加网民20万人。目前，中国的网民人数略低于美国的2.15亿，位于世界第二位；中国16%的互联网普及率仍比全球平均水平19.1%低3.1个百分点。

从地域上看，北京和上海的互联网普及率较高，已经分别达到46.6%和45.8%；从增量上看，广东由于手机网民数增长的拉动，增长人数最多，一年内共增加了1500万网民。

2007年农村网民规模年增长率超过100%，达到127.7%，农村网民数量达到5262万人。7300万新增网民中的4成，即2917万来自农村。从网民居住地上看，网民居住在城镇的较多，74.9%都居住在城镇，城镇网民数已达到1.57亿人，而同期农村网民数量仅有5262万人。但农村网民数量增长非常迅速，年增长率超过100%，已达到127.7%，远高于城镇网民38.2%的增长率。但城镇与农村的互联网发展水平仍存在很大差距，城镇居民的互联网普及率是27.3%，农村仅为7.1%。

中国的宽带网民数量增长迅速。2007年12月的宽带网民数已经达到1.63亿，占网民总数的77.6%，比2007年6月

增加了4094万人，比2006年12月的1.04亿增加了5938万人。

131. 农村网民数量占全国网民的比例达到了：

- A. 1/3                                      B. 1/4                                      C. 2/5                                      D. 1/5

132. 2007年，农村网民增长率比城市网民增长率高：

- A. 87.5%                                      B. 89.5%                                      C. 91.5%                                      D. 93.5%

133. 2007年6月与2006年相比，中国宽带网民增长了：

- A. 17.4%                                      B. 33.2%                                      C. 45%                                      D. 56.7%

134. 与世界互联网普及率相比：

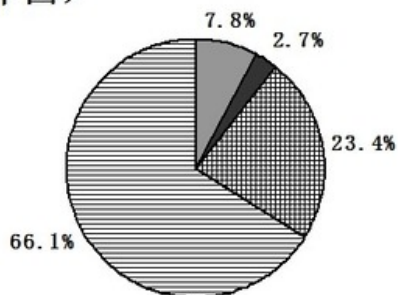
- A. 中国城镇居民互联网普及率高出3.1个百分点  
B. 中国农村居民互联网普及率低7.1个百分点  
C. 北京互联网普及率要高出25.5个百分点  
D. 上海互联网普及率要高出26.7个百分点

135. 以下判断正确的是：

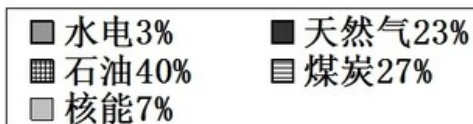
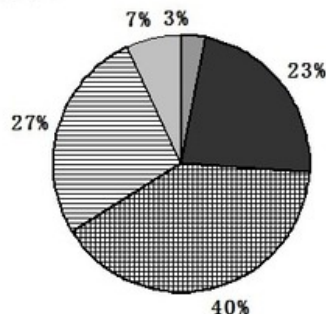
- A. 中国互联网普及率仅次于美国，已经居世界前列  
B. 中国农村网民增长速度高于城市，但互联网普及率低于城市  
C. 广州手机网民数量超过了宽带网民数量  
D. 2007年中国的城市网民新增数量及增长率都高于农村

### 2002年中国与世界能源消费结构图

(中国)



(世界)



136. 2002年中国煤炭消费比重高出世界煤炭消费比重多少个百分点：

- A. 9.8                                      B. 10.2                                      C. 39.1                                      D. 66.1

137. 2002年世界能源消费构成中，占主导的是：

- A. 煤炭                                      B. 石油                                      C. 天然气                                      D. 水电

138. 2002年中国能源消费构成中，占主导的是：

- A. 煤炭                                      B. 石油                                      C. 天然气                                      D. 水电

139. 在国际上今后我国应着重保障\_\_\_\_\_的可靠、合理和稳定的供应：

- A. 煤炭                                      B. 石油                                      C. 天然气                                      D. 水电

140. 2002年中国能源消费结构图中没有核能这一项，其中原因最可能是：

- A. 2002年前中国还没有建立核电站
- B. 核能消费可能产生污染，所以不使用核能
- C. 2002年中国的核能消费比重可能太小，没有列入
- D. 中国的能源储备丰富，暂时不需要使用核能

扫一扫，对答案

