

2009年江苏省公务员录用考试《行测》真题（C卷-考生回忆版）

更新时间：2024年12月09日15:18:43

扫描下方二维码下载星光公考APP 刷海量题库掌握最新热点



QQ扫码直接下载
微信扫码到应用市场下载
支持所有机型哦

第一部分 - 数量关系

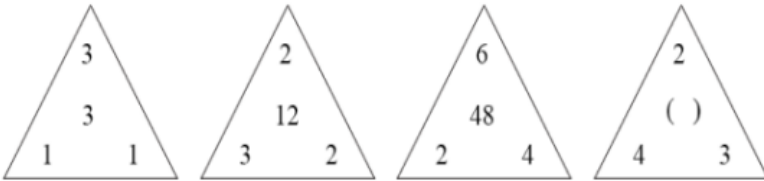
在这部分试题中，每道试题呈现一段表述数字关系的文字，要求你迅速、准确地计算出答案。你可以在草稿纸上运算。

1. 0, 3, 8, 15, (), 35

- A. 12 B. 24 C. 26 D. 30

2. 1, 1, 3, 4, 7, ()

- A. 7 B. 8 C. 9 D. 11

3. 【2009-江苏C-003】


- A. 24 B. 20 C. 18 D. 16

4. 121, 729, 2401, 3125, 729, ()

- A. 100 B. 1 C. 0.5 D. 125

5. 22, 44, 86, (), 3210, 6412

- A. 108 B. 168 C. 78 D. 118

6. 0, 1, 1, 3, 5, ()

- A. 8 B. 10 C. 11 D. 14

7. 1/2, 3/2, 11/8, 1, 21/32, ()

- A. 7/64 B. 25/64 C. 13/32 D. 13/64

8. 4736, 3728, 3225, 2722, 2219, ()

- A. 1514 B. 1532 C. 1915 D. 1562

9. -3, 10, 7, 17, (), 41

- A. 18 B. 21 C. 24 D. 31

10. 0, 7/3, 22/5, 45/7, 76/9, ()

- A. 12 B. 13 C. 106/11 D. 115/11

 11. 已知 $x-y=1$ ，则 $x^3-3xy-y^3$ 等于：

- A. 1 B. 2 C. 3 D. 5

 12. 已知 $a+b+c=2(\sqrt{a}+\sqrt{b-1}+\sqrt{c-2})$ ，则 $a^2+b^2+c^2$ 等于：

【2009-江苏C-012】

- A. 14 B. 15 C. 3 D. 1

 13. $\frac{1}{1 \times 2} + \frac{1}{2 \times 3} + \dots + \frac{1}{n \times (n+1)} =$
【2009-江苏C-013】

- A. 0 B. 0.5 C. 1 D. 2

14. 若正四面体的棱长增长10%，则该正四面体的表面积增加：

- A. 21% B. 15% C. 44% D. 40%

15. 甲、乙两人骑车在路上追逐，甲的速度为27千米/小时，每骑5分钟休息1分钟，乙的速度是300米/分，现在已知乙先行1650米，甲开始追乙，追到乙所需的时间是：

- A. 10分钟 B. 15分钟 C. 16分钟 D. 17分钟

16. 整数15具有被它的十位上数字和个位数上数字同时整除的性质，则在11和40之间具有这样性质的整数个数有：

- A. 7 B. 10 C. 12 D. 14

17. 去商店买东西，如果买7件A商品，3件B商品，1件C商品，一共需要50元，如果是买10件A商品，4件B商品，1件C商品，一共需要69元，若A、B、C三种商品各买2件，需要多少钱：

- A. 28元 B. 26元 C. 24元 D. 20元

18. 某商店搞店庆，购物满200元可以抽奖一次。一个袋中装有编号为0到9的十个完全相同的球。满足抽奖条件的顾客在袋中摸球，一共摸两次，每次摸出一个球（球放回），如果第一次摸出球的数字比第二次大，则可获奖，则某抽奖顾客获奖概率是：

- A. 5% B. 25% C. 45% D. 85%

19. 某大学军训，军训部将学员编成8个小组，如果每组人数比预定人数多1人，那么学员总数将超过100人；如果每组人数比预定人数少1人，那么学员总数将不到90人。由此可知，预定的每组学员人数是：

- A. 20人 B. 18人 C. 16人 D. 12人

20. 某商店商品，单价为75元，可卖500个，单价每涨1元，就会少卖20个，为了使销售额最大，那么单价可定为：

- A. 50元 B. 28元 C. 27元 D. 20元

第二部分 - 判断推理

本部分包括图形推理、定义判断、类比推理与逻辑判断四种类型的试题，请按每道题的答题要求作答。

21. 人才：优秀：提拔

- A. 干燥：农田：灌溉 B. 环境：失衡：砍伐 C. 社会：和谐：建设 D. 固执：批评：教训

22. 鱼：鲤鱼：鲢鱼

- A. 营养：青菜：萝卜 B. 植物：荔枝：柑橘 C. 座机：手机：小灵通 D. 木匠：电工：工程师

23. 郑重：谨慎：慎重

- A. 自豪：信心：满意 B. 精美：雅致：精致 C. 认真：细致：刻苦 D. 懒惰：懈怠：消极

24. 玻璃：镜子：灯具

- A. 黄金：首饰：货币 B. 泥土：素材：房屋 C. 木材：钢铁：桥梁 D. 透明：反射：照明

25. 木材：纸张：图书

- A. 高粱：小麦：汽车 B. 钢铁：桥梁：铁路 C. 小麦：面粉：面包 D. 水稻：大米：温饱

26. 文明：礼貌：野蛮

- A. 诚实：实际：虚伪 B. 谦逊：和逊：卑逊 C. 盲目：盲动：激动 D. 和谐：协调：冲突

27. 偶数：奇数：整数

- A. 植物：动物：生物 B. 助教：讲师：教授
C. 排长：连长：营长 D. 有理：无理：公理

28. 性格：外向：内向

- A. 品质：谦虚：骄傲 B. 股市：熊市：牛市 C. 心情：卑微：诚恳 D. 善良：险恶：美德

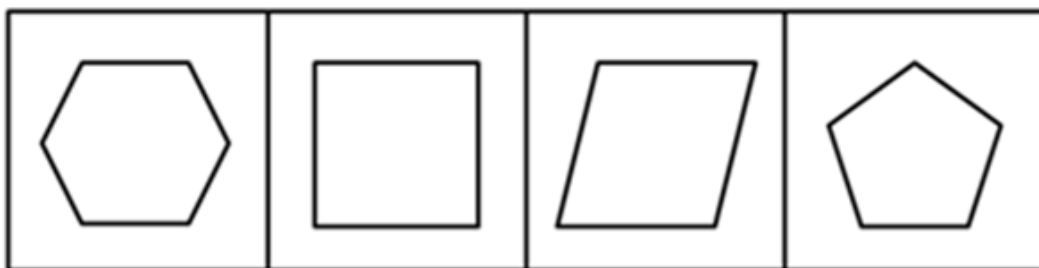
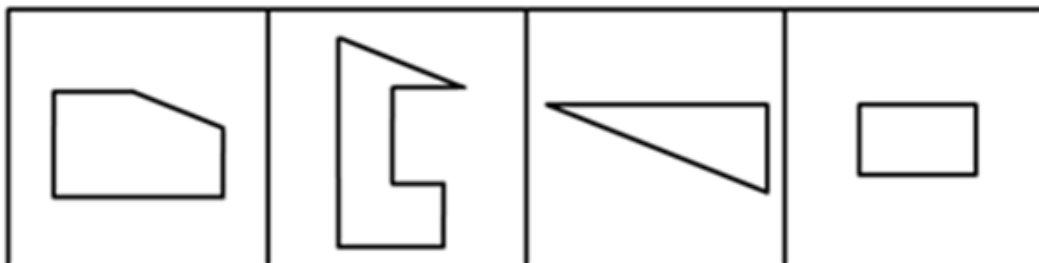
29. 青椒：维生素：胡萝卜

- A. 菠菜：淀粉：黄瓜 B. 鸡蛋：蛋白质：大豆 C. 面粉：纤维素：芹菜 D. 西瓜：脂肪：牛肉

30. 学校：大学：北京大学

- A. 工业：重工业：钢铁 B. 工艺：手工艺：玉器
C. 军事：军队：海军 D. 建筑物：桥梁：赵州桥

31. 选项的四个图形中，只有一个是由题干的四个图形拼合而成的，请选出来：【2009江苏C031】



A

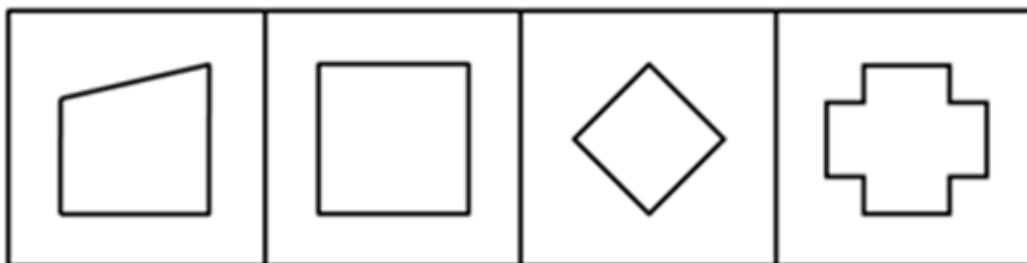
B

C

D

- A. 如图所示 B. 如图所示 C. 如图所示 D. 如图所示

32. 请从所给的四个选项中，选择最合适的一个，使之呈现一定的规律性：【2009江苏C032】



A

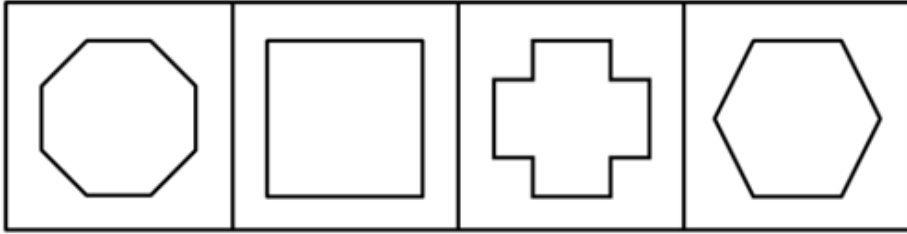
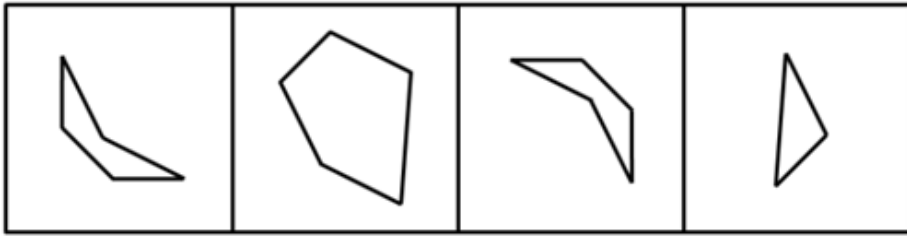
B

C

D

- A. 如图所示 B. 如图所示 C. 如图所示 D. 如图所示

33. 下边四个图形中，只有一个是上边的四个图形拼合（只能通过上、下、左、右平移）而成的，请把它找出来：【2009江苏C033】



A

B

C

D

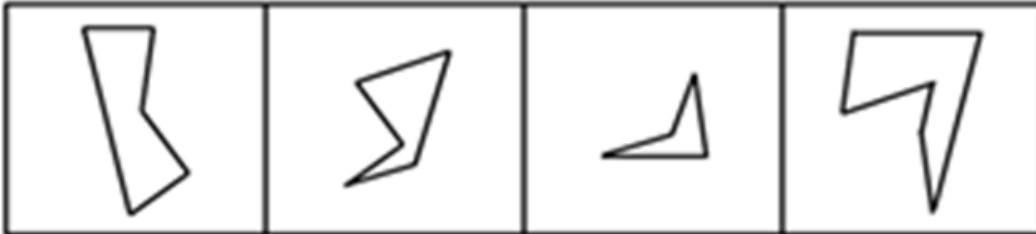
A. 如图所示

B. 如图所示

C. 如图所示

D. 如图所示

34. 请从所给的四个选项中，选择最合适的一个，使之呈现一定的规律性：【2009江苏C034】



A

B

C

D

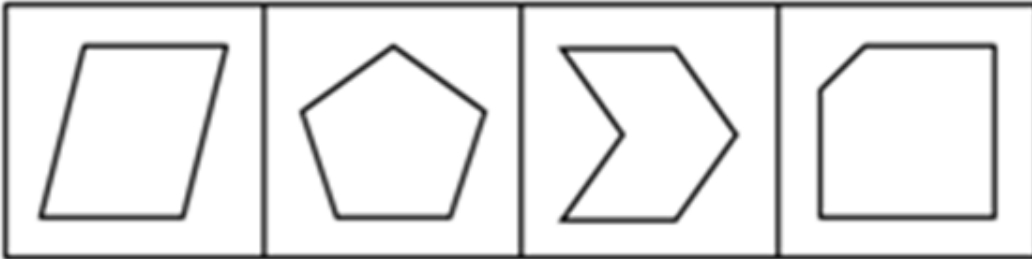
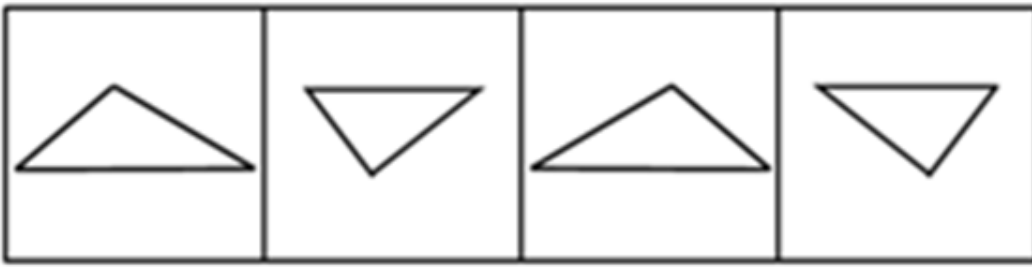
A. 如图所示

B. 如图所示

C. 如图所示

D. 如图所示

35. 选项的四个图形中，只有一个是由于题干的四个图形拼合而成的，请选出来：【2009江苏C035】



A

B

C

D


A. 如图所示

B. 如图所示

C. 如图所示

D. 如图所示

36. 请从所给的四个选项中，选择最合适的一个填入问号处，使之呈现一定的规律性：【2009江苏C036】



A

B

C

D

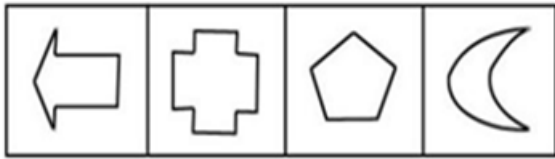
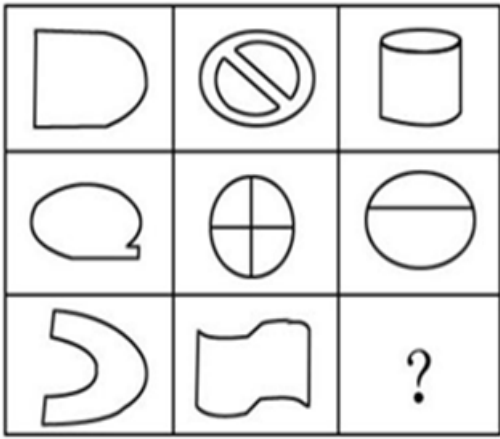
A. 如图所示

B. 如图所示

C. 如图所示

D. 如图所示

37. 请从所给的四个选项中，选择最合适的一个填入问号处，使之呈现一定的规律性：【2009江苏C037】



A B C D

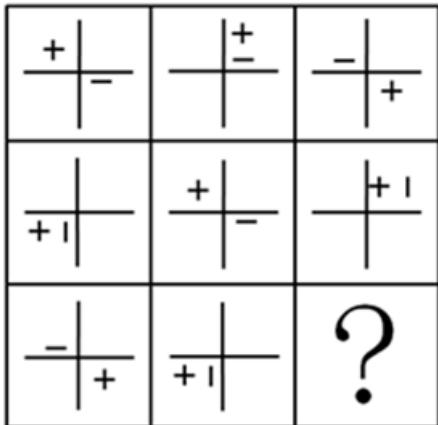
A. 如图所示

B. 如图所示

C. 如图所示

D. 如图所示

38. 请从所给的四个选项中，选择最合适的一个填入问号处，使之呈现一定的规律性：【2009江苏C038】



A B C D


A. 如图所示

B. 如图所示

C. 如图所示

D. 如图所示

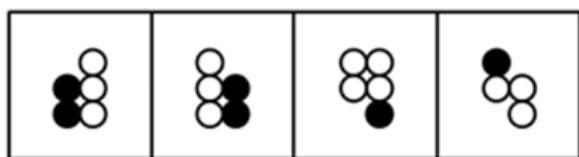
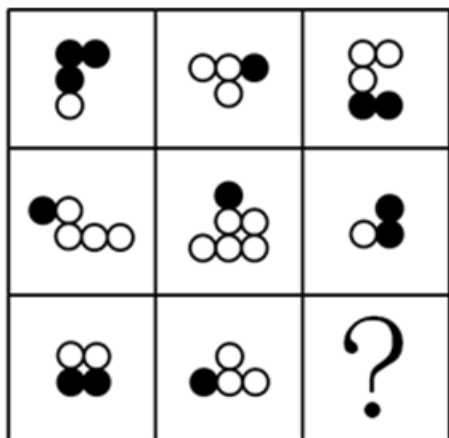
39. 请从所给的四个选项中，选择最合适的一个填入问号处，使之呈现一定的规律性：【2009江苏C039】



A B C D

- A. 如图所示 B. 如图所示 C. 如图所示 D. 如图所示

40. 请从所给的四个选项中，选择最合适的一个填入问号处，使之呈现一定的规律性：【2009江苏C040】



A B C D

- A. 如图所示 B. 如图所示 C. 如图所示 D. 如图所示

41. 可能今年有的城市房地产价格会下降。据此，可以推出：

- A. 可能今年有的城市房地产价格不会下降 B. 可能今年所有城市的房地产价格都不会下降
C. 必然今年有的城市房地产价格会下降 D. 不必然今年所有城市房地产价格都不会下降

42. 小李和朋友相约：“如果明天阳光灿烂，我就和你一起去踏青。”

据此，可以推出小李爽约的情形是：

- A. 明天阳光灿烂，小李的确和朋友一起踏青去了
B. 明天阳光灿烂，但小李没有和朋友一起去踏青
C. 明天下雨，小李仍和朋友一起去踏青
D. 明天下雨，小李没有和朋友一起去了

43. 有些想从事行政管理工作的大学生报考了公务员，所有艺术专业的大学生都不想从事行政管理工作。据此，可以推出：

- A. 有些艺术专业的大学生没有报考公务员
B. 有些艺术专业的大学生报考了公务员
C. 所有艺术专业的大学生都没有报考公务员
D. 有些报考了公务员的不是艺术专业的大学生

44. 如果张生喜欢摄影，则他会喜欢旅游；如果不喜欢摄影，则他会喜欢驾车；但是，如果张生不喜欢旅游，则他对驾车也就不感兴趣了。

据此，可以推出张生：

- A. 喜欢旅游
B. 喜欢驾车
C. 不喜欢驾车
D. 喜欢摄影

45. 某省举行“文明城市”评比。4位评委对大家普遍看好的A、B、C等3市获得“文明城市”称号的可能性进行了分析预测。

评委甲说：“要么A市能获得，要么C市能获得。”

评委乙说：“如果A市与C市能获得，则B市也能获得。”

评委丙说：“只有当B市不能获得或者C市能获得时，A市才不能获得。”

评委丁说：“我看B市能获得的可能性为零，而A市与C市一定能获得。”

评比结束后发现，4位评委中只有一人预测成立。

据此，可以推出获得“文明城市”称号的城市是：

- A. A市
B. B市
C. C市
D. A、B、C等3市

46. 某体育代表队在一次比赛中共获A、B、C、D4个项目的奖牌若干枚。其中，A项目奖牌数大于C、D两项目奖牌数之和，C项目奖牌数大于D项目奖牌数，并且，在D项目上至少获得两枚奖牌，在B项目上至少获得一枚奖牌。

据此，可以推出该队在此次比赛中共获奖牌数至少是：

- A. 10
B. 11
C. 12
D. 13

47. 如果选购了股票，则不能投资期货；只有投资期货，才能投资邮票；或者投资邮票，或者投资外汇；但是最近投资外汇风险太大，不能操作。

据此，可以推出：

- A. 选购股票
B. 不选购股票
C. 不投资邮票
D. 不投资期货

48. 某公司要从赵、钱、孙、李、周、吴6位职员中挑选两人出国洽谈项目，在挑选时注意到了以下情况：

- (1) 吴与钱不能同去；
- (2) 只有孙去时，钱才能去；
- (3) 若李去，则周也去；
- (4) 要么赵去，要么李去；
- (5) 如果钱不去，则赵也不能去；
- (6) 由于某种原因，孙不能去。

据此，可以推出：

- A. 赵、周两人去
B. 李、吴两人去
C. 李、周两人去
D. 钱、吴两人去

49. 在夏夜星空的某一区域，有7颗明亮的星星：A星、B星、C星、D星、E星、F星、G星，它们由北至南排列成一条直线，同时发现：

- (1) C星与E星相邻；
- (2) B星和F星相邻；
- (3) F星与C星相邻；
- (4) G星与位于最南侧的那颗星相邻。

据此，7颗星由北至南的顺序可以是：

- A. D星、B星、C星、A星、E星、F星、G星
B. A星、F星、B星、C星、E星、G星、D星

C. D星、B星、F星、E星、C星、G星、A星

D. A星、E星、C星、F星、B星、G星、D星

50. 在夏夜星空的某一区域，有7颗明亮的星星：A星、B星、C星、D星、E星、F星、G星，它们由北至南排列成一条直线，同时发现：

- (1) C星与E星相邻；
- (2) B星和F星相邻；
- (3) F星与C星相邻；
- (4) G星与位于最南侧的那颗星相邻。

假定F星在E星的北侧和A星的南侧，可以推出位于正中的星是：

- A. C星 B. D星 C. E星 D. F星

51. 公共产品：由公共部门提供的用来满足社会公共需要的产品。其中，纯公共产品是指任何一个人对某种物品的消费不会减少其他人对其消费的物品。

下列属于纯公共产品的是：

- A. 一国的国防 B. 因拥挤而收费的高速公路
C. 城市中建设的免费公园 D. 商场提供的免费赠品

52. 精神磨损：指机器、设备等资产由于科学技术的进步而贬值。

下列属于精神磨损的是：

- A. 某企业有一台高精度磨床，使用年限为10年，但是由于高频率使用，仅仅两年，一些主要部件已经需要更换
B. 找到新工作后，小陈购买了一价格昂贵的手提电脑。仅仅过了一年，该电脑虽然保养如新，但是已经不值多少钱了
C. 老蔡是一位远近知名的质朴木匠，对于电刨、电锯，就是觉得不顺手，因此他帮人家打家具时所用的刨、锯等木工用具仍然是传统的
D. 某企业进口了一套最先进的冶炼设备，但由于技术人员积极性不高，致使这些进口设备的效率并没有充分发挥

53. 间接正犯：利用他人作为工具来作案，其与利用者不存在共同犯罪。

下列属于间接正犯的是：

- A. 在一起入室盗窃案中，某甲只负责望风，没有实施具体的盗窃
B. 某甲预谋毒杀一个病人，想方设法将毒药交与不知情的护士
C. 某甲将抢劫得到的珠宝卖给了不知情的收购商
D. 某甲将非法获得的照片免费发送给网友传阅

54. 合同诈骗罪：指以非法占有为目的，在签订、履行合同过程中，采取虚构事实或者隐瞒真相等欺骗手段骗取对方财物，并且数额较大的行为。

下列不属于合同诈骗罪的是：

- A. 周某使用伪造的金融票据，在签订、履行合同的过程中，骗取对方当事人的信任，并骗得其财物，数额较大
B. 宋某为扩大经营，与甲公司签订合同，购买甲公司价值50万元的电器产品，言明款到发货。次日，宋某汇出50万元现金后，将汇票存根上的金额涂改为50万元，复印、传真给甲公司，骗取甲公司货物全部发出
C. 吴某使用宋某的假名，分别与永安财产保险北京分公司和中华联合财产保险房山支公司签订保险代理合同，约定为该公司代销保险业务，并取得一定比例的手续费。截至当年年底，吴某共获取代收的保险费近31.5万元，但拒不向永安公司交付，并挥霍一空
D. 林某利用任某市工商局会计保管本单位支票之便利，私刻出纳员邓某、局长陈某的印鉴和单位公章，先后多次私自开具支票，骗取本单位资金合计20万元

55. 疑病现象：人们将轻微的身体不适现象看成严重疾病，反复多次检查。特别是当亲友、邻居、同事因某病英年早逝和意外死亡后更容易出现这种现象。

下列属于疑病现象的是：

- A. 好友因病去世，王某情绪低落，一段时间对工作毫无积极性
- B. 由于工作压力太大，再加上亲友的去世，李某操劳过度住院了
- C. 一工友因肺病去世，由于工作于同样的环境，大家都觉得自己也患了肺病
- D. 小王在职称晋升中受阻，她怀疑单位个别同事在其中捣鬼

56. 蔡戈尼效应：指对未完成的工作比对已完成的工作有较好的记忆效果的现象。1927年由德国心理专家蔡戈尼在记忆实验中发现。

下列属于蔡戈尼效应的是：

- A. 妻子为使爱睡懒觉的作曲家丈夫起床，在钢琴上不停弹出一组乐句的头三个和弦，作曲家听了之后，辗转反侧，终于不得不爬起来，弹完最后一个和弦
- B. 温故而知新
- C. 只要是自己认准的事情，不管多难，小李都坚持不懈努力完成，从不半途而废
- D. 小李看一本书的时候，总尝试停一下，想想自己是否在浪费时间和精力，如果是的，就会针对要不要继续看下去作出取舍

57. 网络成瘾：个体反复过度使用网络导致的一种精神行为障碍，表现为对网络的再度使用产生强烈的欲望，停止或减少网络使用时出现戒断反应，同时可伴有精神及躯体症状。

下列属于网络成瘾的是：

- A. 小丽每天上网处理文字材料，现在几乎不用纸和笔
- B. 小王喜欢网络游戏，整日整夜地泡在网吧里，一天不上网，就好像掉了魂似的
- C. 网络公司破产后，工程师小李失魂落魄，不知道自己能干什么
- D. 李先生热衷于炒股，他每天都要到网上观看股市行情，一天不看心里都不安

58. 多态现象：同种生物的个体对于某些形态、性质所表现的多样性的状态。

下列属于多态现象的一项是：

- A. “雄兔脚扑朔，雌兔眼迷离。”
- B. “世界上没有两片完全相同的树叶”
- C. 普通的马大多单色，而斑马是黑白相间
- D. 人不能两次踏进同一条河流

59. 延伸产品：顾客在购买产品时，附带获得的各种利益的总和。

下列属于延伸产品的是：

- A. 某4S店承诺，顾客只要购买价值25万以上的车，就赠送一年的保险
- B. 持有白金卡的用户在某商场购物享受八折优惠
- C. 某商场新年的优惠是前100名顾客可以只花100元就能买一新款手机
- D. 微软公司在XP系统后又推出了其升级版的Vista操作系统，以满足客户的需求

60. 洁癖：强迫症的一种，即把正常卫生范围内的事物认为是肮脏的，感到焦虑，强迫性地清洗、检查及排斥“不洁”之物。

下列不属于洁癖的是：

- A. 胡某害怕自己染上病菌，他每天必须多次、长时间地洗手、洗衣
- B. 斯密司先生出差一律入住白色的房间，甚至地毯也必须是白色的才行
- C. 有位年轻小姐为了避免在公共汽车与他人接触，每天竟花三个小时走路上下班
- D. 李某不允许孩子在外乱吃东西，也不允许孩子接近生病的小朋友

第三部分 - 言语理解与表达

本部分包括表达与理解两方面的内容。请根据题目要求，在四个选项中选出一个最恰当的答案。

61. 从“娱乐化应用”到“价值应用”，互联网为我们的日常生活提供着实实在在的服务：中学生的“网络课

堂”，大学生求职的“网申”，农民土特产的“网络推销”，都市白领热衷的网上“淘宝”……互联网的价值应用正在走近每一个人；更有专家预言“数字化生存”的诱人前景。

对文意概括最准确的是：

- A. 互联网走进价值应用的新时代
- B. 互联网给予人们生活上的便利
- C. 互联网引导进入数字化生存
- D. 互联网参与人们的日常生活

62. 要最大限度地提高老年人的生命质量，就必须最大限度地了解衰老的机制。就目前所知，人体衰老是由器官衰老引起的，而器官衰老是由组织衰老引起的，人体的所有器官和组织又都由细胞组成，引起组织衰老的主要是干细胞功能的衰竭。

以此作为开头的一篇文章，最有可能讨论的问题是：

- A. 如何提高老年人的生命质量
- B. 人体衰老是如何发生的
- C. 人体衰老与器官衰老的关系
- D. 干细胞功能衰竭的过程

63. 研究人员比较了在乡间公园步行30分钟和在室内购物中心步行30分钟的两组抑郁者。结果表明，在公园步行的一组中，71%的人表示心情感到舒畅许多，90%的人表示觉得拥有更多自信了；而室内步行的一组中，只有45%的人表示心情变得更好，22%的人表示觉得更郁闷了，50%的人更加紧张，44%的人自信心下降。

对文段概括最恰当的是：

- A. 散步有利于治疗抑郁
- B. 室内散步对治疗抑郁没有疗效
- C. 抑郁者更喜欢在室外散步
- D. 户外散步对缓解抑郁有作用

64. 一个社会有希望，有可以让人讴歌与向往的前景，关键就在于公民既有权利追求自由，又有义务承担责任。“只讲自由，不讲责任”和“只讲责任，不讲自由”一样，都因为权利与义务的不对等而使社会迷失于个人和集体两个极端，使社会最终失去前途，而身处其中的任何个人也因此难以获得真正的安全与幸福。

这段话强调的是：

- A. 公民不能只讲自由或只讲责任
- B. 公民既要追求自由也要承担责任
- C. 公民权利与义务应该相应对等
- D. 公民权利和义务与自由和责任共存

65. 社会上对于诚信危机早已见怪不怪。轻者，说话带水分，做事留一手，约定不确定；重者，市场上满布弄虚作假的信息和产品，社会上充斥尔虞我诈、真假莫辨的丑行。如此一来，殷实商人受骗受疑，受害受气；诚信企业对内对外，时刻提防真假。

所谓“见怪不怪”指的是：

- A. 商家对诚信危机并不重视
- B. 企业早已习惯诚信危机
- C. 个人对诚信危机无动于衷
- D. 诚信危机现象非常普遍

66. 由于原有积累、受害程度乃至各自心理承受能力等因素的差异，灾区居民会逐渐显示其需求的差异性和多样化，对由政策带来的实际受益表现出不同的思考与评价。为此，有必要实施差别化的公共政策，满足灾区居民多样化的需求。

这段文字重在说明：

- A. 如何看待灾区居民的需求
- B. 如何满足灾区居民的需求
- C. 政策应考虑灾民的不同需求
- D. 政策应容许居民的评价意见

67. 法律并不只是解决纠纷的手段，它也是传达意义的符号。换言之，法律是安排社会生活和解决社会问题的工具和手段，也是特定人群价值追求的某种显现，归根到底，法律是人创造出来的具有某种功能的“技术手段”，人对于世界的反应最终必须借助于文化这一中介。

这段文字主要讨论的是：

- A. 法律的根本精神
- B. 法律的最高价值
- C. 法律的基本功能
- D. 法律的绝对作用

68. 在那个时代的欧洲学者心中，中国形象跟乌托邦一样完美无缺。当他们建构一个乌托邦式的中国形象时，并

没有足够的现实材料，也没有一本扎实的专门著作进行学术论证。严格说来，这只是一场思想上的虚构。

从这段文字可以推出的是：

- A. 当时欧洲学者理想化看待中国
- B. 当时欧洲学者不注重实证研究
- C. 乌托邦式的中国形象并不存在
- D. 乌托邦式的中国形象并不完美

69. 世界银行在国际上享有盛誉并具有相当的约束力，它既能要求得资方国家进行产权保护等制度性改革，又能直接参与投资，后者本身也让民间投资者更有信心，因而使发展中国家的投资项目风险降低。这不仅能增加对发展中国家的投资，而且使他们的融资成本降低。

这段话讨论的是：

- A. 世界银行如何帮助发展中国家
- B. 世界银行如何降低投资风险
- C. 世界银行具有什么样的作用
- D. 世界银行如何建立投资者的信心

70. 现在国内每年创作歌曲10万多首，作品虽多，但好歌难求。尽管也有歌曲通过网络一时蹿红，但无论在知名度还是传唱度上，都与“30年30首歌”难以媲美，更谈不上久唱不衰。创作乏善可陈，通俗歌曲不通俗、流行歌曲不流行，已成为目前流行歌坛的致命症结。

这段话要表达的意思是：

- A. 我国每年创作的歌曲数量过多
- B. 网络歌曲只能流行一时
- C. 好歌难求是流行歌坛最大问题
- D. 流行歌曲无法长久传唱

从“横空出世”到随后的“星火燎原”再到近几年的“穷途末路”，小灵通终于即将完成其历史使命。在表面上，小灵通占用了TD的频段，随着3G的启动，小灵通必然因为频段的清理而被“清退”；从深层看，其根本原因则是原固网运营商中国电信以及中国网通（现在的中国联通）都已经获得了移动牌照，在其他通信技术的竞争压力之下，小灵通唯有选择主动退出。对于中国通信业，因为小灵通既不属于“手机”，也不属于固定电话，它的退出，将意味着一个“有中国特色的通信时代”的终结；对于消费者，小灵通更是打破移动资费垄断坚冰的一把利斧，凭借绿色环保，尤其是费用低廉的双重优势，它迅速受到市场的广泛认可和消费者的普遍欢迎。到目前为止，小灵通在农村三、四级市场仍然拥有较高的占有率，2006年，小灵通用户突破9000万，逼近1亿，达到历史最高峰。此后，随着移动电话对固定电话功能替代的加强，小灵通的迅猛增速“戛然而止。”随着移动资费的明显下降，小灵通费用低廉的优势不再明显，同时，由于电信和网通逐步停止对小灵通的投资更新，其服务质量也开始下降，加上无法漫游的先天性不足，它的局限性日益突出。2008年的电信重组和3G发牌，让中国电信和原中国网通正式获得了梦寐以求的移动牌照，小灵通—这一曾经代表了中国电信发展移动业务冲动的特定通信产品也即将完成其历史使命。

71. 不属于“小灵通额迅猛增速‘戛然而止’”原因是：

- A. 2008年电信重组和3G发牌
- B. 小灵通的更新力度和服务质量都有所下降
- C. 小灵通无法漫游是根本性弱点
- D. 移动资费下降使小灵通资费优势不再明显

72. 最足以阐述“穷途末路”含义的现实状况是：

- A. 小灵通终于即将完成其历史使命
- B. 中国电信以及中国网通（现在的中国联通）都已经获得了移动牌照，在其他通信技术的竞争压力之下，小灵通唯有选择主动退出
- C. 随着移动对固定电话功能替代的加强，小灵通的迅猛增速“戛然而止”
- D. 随着移动资费的明显下降，小灵通费用低廉的优势不再明显；同时，由于电信和网通逐步停止对小灵通投资更新，其服务质量也开始下降，加上无法漫游的先天性不足，它的局限性日益突出

73. 对于市场和消费者，小灵通的重要意义在于：

- A. 不需要移动牌照就可以提供移动服务
- B. 不需要更新技术就可以提供优质服务
- C. 突破自身缺陷实现中国电信发展移动业务的创业冲动

D. 凭借自身廉价而优质服务打破了移动业务的价格垄断

74. 下列说法符合文意的是：

- A. 小灵通如果不用TD频段就不必退市
- B. 小灵通如果不退市用户就将继续猛增
- C. 小灵通即将完成中国电信发展移动业务的任务
- D. 小灵通如果受到3G的打压就失去资费的优势

75. 本文可以标题为：

- A. 小灵通的市场优势
- B. 小灵通的退市命运
- C. 小灵通与移动牌照
- D. 小灵通的历史使命

第四部分 - 资料分析

针对下列图、表或文字回答问题。你应根据资料提供的信息进行分析、比较、计算、处理。你可以在题本上运算。

1978年，我国国内生产总值（GDP）只有1473亿美元，到了2007年我国国内生产总值（GDP）达到32801亿美元，2000年，我国GDP超过意大利，位于世界第六位，占美国国内生产总值GDP的12.3%，占日本国内生产总值的25.7%，占德国国内生产总值的63.1%，占英国国内生产总值的83.1%，占法国国内生产总值的90.2%。2005年，我国GDP超过英国与法国，位于世界第四位，是美国国内生产总值的18.1%，比2000年提高了5.8个百分点。是日本国内生产总值的49.3%，接近日本国内生产总值的一半，比2000年提高近一倍；是德国国内生产总值的80.5%，比2000年提高了17.4个百分点，2007年仍然位于第四位，但是位于第三位的德国的99.5%，比2005年提高19个百分点。

随着经济快速发展和经济总量大幅提高，国民总收入（GNI）得到大幅提高，1978年，人均国民收入为190美元，2001年人均国民收入为1000美元，2007年我国国民经济走上新台阶，达到2360美元，比1978年增长了11倍。我国人均GNI与世界人均GNI水平差距逐渐缩小，1978年我国人均GNI相当于世界人均国民收入水平的10.1%，2001年我国人均GNI相当于世界人均国民收入水平的19.2%，比1978年高9.1个百分点，2007年相当于世界平均国民收入的29.7%，比1978年高19.6个百分点，在世界银行的209个国家、地区排名中，我国人均GNI在世界排名中由1997年145位提升到2007年的132位。

76. 下列说法中正确的有：

- (1) 2000年德国GDP不到日本的二分之一
- (2) 2000年日本GDP不到美国的二分之一
- (3) 2000年法国GDP不到日本的三分之一
- (4) 2000年中国GDP不到日本的四分之一

- A. 4项
- B. 3项
- C. 2项
- D. 1项

77. 2001年、2007年世界人均GNI分别是：

- A. 5208美元、7946美元
- B. 5208美元、12365美元
- C. 1946美元、11889美元
- D. 11889美元、12365美元

78. 1979—2007年我国GDP的年平均增长速度比人均GNI：

- A. 高10.05个百分点
- B. 低0.3个百分点
- C. 低3.56个百分点
- D. 高2.21个百分点

79. 2001—2005年，美国、日本、德国GDP年平均增长速度由快到慢的排序是：

- A. 美国、日本、德国
- B. 日本、德国、美国
- C. 德国、美国、日本
- D. 德国、日本、美国

80. 1979—2007年，我国人均GNI相当于世界平均水平的比例平均每年上升：

- A. 0.26个百分点
- B. 0.68个百分点
- C. 0.96个百分点
- D. 1.21个百分点

第二次农业普查南京市各区县农村劳动力资源总量及构成表

指标		全市	城区	浦口区	栖霞区	雨花台区	江宁区	六合区	溧水县	高淳县
劳动力人数 (万人)		143.19	7.10	16.82	7.48	4.77	34.79	32.08	19.83	20.32
性别 构成 (%)	男性	50.2	54.5	50.3	51.1	54.6	51.4	47.6	51.8	47.9
	女性	49.8	45.5	49.7	48.9	15.4	48.6	52.4	48.2	52.1
年龄 构成 (%)	20以下	11.6	7.6	12.4	10.3	9.0	11.0	13.8	11.8	11.1
	20-30	14.4	26.5	14.5	16.1	23.3	15.5	13.4	11.3	10.4
	30-40	25.2	31.8	24.8	23.9	28.4	24.5	23.7	24.9	26.6
	40-50	22.8	20.2	23.8	24.1	22.0	23.0	23.7	22.0	21.3
	50以上	26.0	13.9	24.5	25.6	17.3	26.0	25.4	30.0	30.6
文化 程度 构成 (%)	文盲	2.9	3.6	2.2	1.6	2.7	1.7	3.5	4.6	3.1
	小学	30.9	16.7	26.9	21.9	18.9	30.7	32.5	34.4	40.1
	初中	48.6	57.0	50.1	51.7	53.4	50.9	48.7	45.4	41.2
	高中	15.9	18.4	18.9	21.8	20.1	15.2	14.1	14.8	14.4
	大专及以上	1.7	4.3	1.9	3.0	4.9	1.5	1.2	0.8	1.2

81. 南京市各区县农村劳动力中，年龄在50岁以上的劳动力有：
A. 30.52万人 B. 37.23万人 C. 46.56万人 D. 53.35万人
82. 南京市农村劳动力中，年龄在20—50岁的劳动力的平均年龄最可能落入的区间是：
A. 25-30岁 B. 30-50岁 C. 35-40岁 D. 40岁以上
83. 南京市农村劳动力文化程度构成中比例最高的是：
A. 高中 B. 大专及以上 C. 小学 D. 初中
84. 南京市农村劳动力最集中的年龄段是：
A. 20岁以下 B. 20-30岁 C. 30-50岁 D. 50岁以上
85. 南京市各区县农村劳动力人数的中位数是：
A. 18.33万人 B. 16.82万人 C. 16.12万人 D. 15.19万人

1995年、2006年世界前十位国家或地区国际旅游支出及出境旅游人数

位次	国际旅游支出(亿美元)				出境旅游人数(万人次)			
	1995		2006		1995		2006	
	国家或地区	支出	国家或地区	支出	国家或地区	人数	国家或地区	人数
12	德国	665.3	美国	1043.8	美国	5128.5	香港	7581
3	美国	609.2	德国	42.1	英国	4134.5	德国	7120
4	日本	469.7	英国	783.3	波兰	3638.7	英国	6954
5	英国	307.5	法国	377.9	俄罗斯	2132.9	美国	6366
6	法国	207.0	日本	376.6	法国	1868.6	波兰	4470
7	意大利	172.2	中国	282.4	加拿大	1820.6	中国	3452
8	荷兰	131.5	意大利	274.4	日本	1529.8	俄罗斯	2911
9	加拿大	126.6	加拿大	259.9	匈牙利	1308.3	意大利	2570
10	奥地利	116.9	韩国	203.9	荷兰	1231.3	加拿大	2237
24	俄罗斯	116.0	西班牙	203.5	瑞士	1114.8	斯洛伐克	2269
	中国	36.9	—	—	中国(16位)	452.0	—	—
	世界合计	4582.4	—	8038.7	—	57926.7	—	103098

86. 2006年世界出境旅游的平均支出是：

- A. 760美元/人次 B. 772美元/人次 C. 780美元/人次 D. 791美元/人次

87. 在2006年出境旅游人数前十位的国家或地区中，国际旅游平均支出相对较低的三个国家或地区是：

- A. 中国、波兰、俄罗斯 B. 波兰、斯洛伐克、意大利
C. 英国、香港、加拿大 D. 香港、俄罗斯、波兰

88. 1996—2006年中国国际旅游支出的年平均增长量是：

- A. 22.3亿美元 B. 24.6亿美元 C. 34.0亿美元 D. 39.5亿美元

89. 1995年美国国际旅游平均支出与德国相比：

- A. 美国高于德国 B. 美国低于德国 C. 美国与德国相等 D. 无法比较

90. 下列说法正确的有：

(1) 1995年国际旅游支出位于前三位的国家或地区，其国际旅游支出总额占当年世界国际旅游支出的比重已超过三分之一；

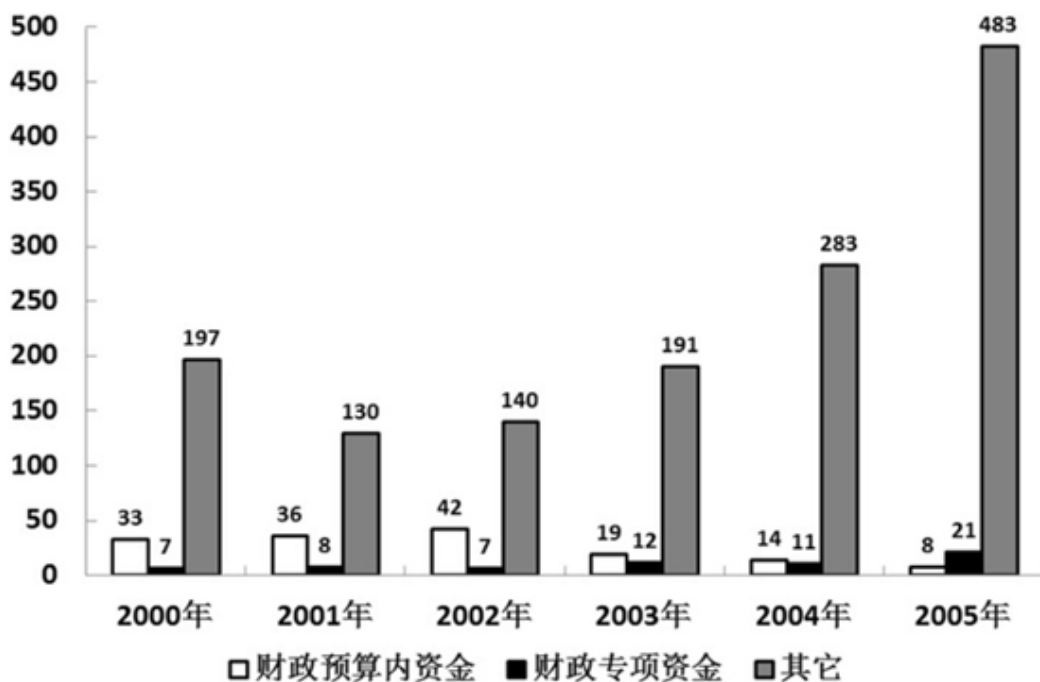
(2) 1995年出境旅游人数位于前三位的国家或地区，其出境旅游人数之和占当年世界出境旅游人数总和的比重没有超过五分之一；

(3) 2006年国际旅游支出位于前三位的国家或地区，其国际旅游支出总额占当年世界国际旅游支出的比重已超过三分之一；

(4) 2006年出境旅游人数位于前三位的国家或地区，其出境旅游人数之和占当年世界出境旅游人数总和的比重没有超过五分之一。

- A. 4项 B. 3项 C. 2项 D. 1项

2000—2005年中国污染治理资金来源构成（亿元）



91. 下列关于2002—2005年中国污染治理资金来源的说法正确的是：

- A. “财政预算内资金”逐年增加 B. “其它资金”逐年增加
C. “财政专项资金”逐年增加 D. “财政专项资金”的比重逐年增加

92. 2000—2005年中国污染治理资金来源中，“财政预算内资金”比重最大的年份是：

- A. 2000年 B. 2001年 C. 2002年 D. 2003年

93. 2002—2005年中国污染治理资金来源，“其它资金”的年平均增长量是：

- A. 60亿元 B. 65亿元 C. 114.3亿元 D. 75亿元

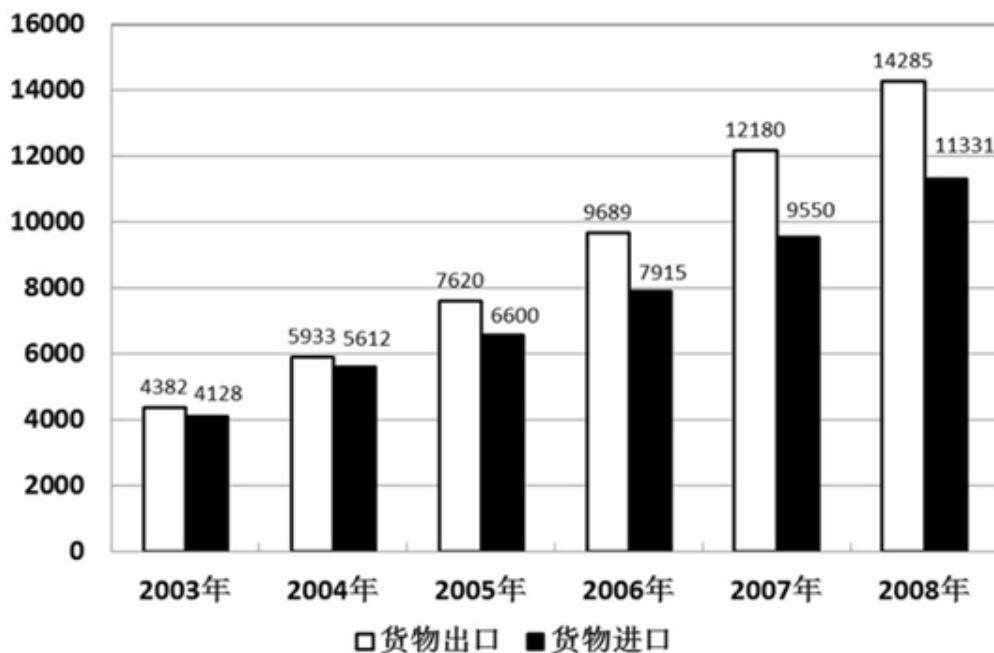
94. 2000年到2005年的6年中，在中国污染治理资金来源中，“财政预算内资金”的6年总和相当于2005年“其它资金”的：

- A. 31.5% B. 40.6% C. 43.2% D. 51.8%

95. 2001—2005年，中国污染治理资金总额增速最小的年份是：

- A. 2004年 B. 2003年 C. 2002年 D. 2001年

2003—2008年中国货物进出口总额（亿美元）



96. 2004—2008年中国货物进出口总额增长最快的是哪一年：

- A. 2004年 B. 2005年 C. 2007年 D. 2008年

97. 下列说法正确的有：

- (1) 2004—2008年中国货物进口额呈逐年增大趋势；
- (2) 2004—2008年中国货物出口额呈逐年增大趋势；
- (3) 2005—2008年中国货物进口额的年增速逐年减缓；
- (4) 2005—2008年中国货物出口额的年增速逐年减缓。

- A. 1项 B. 2项 C. 3项 D. 4项

98. 2003—2008年中国进出口差额占当年货物进出口总额比重最小的年份是：

- A. 2003年 B. 2004年 C. 2007年 D. 2008年

99. 2008年中国进出口总额是2003年进出口总额的几倍：

- A. 3 B. 4 C. 5 D. 6

100. 下列说法正确的是：

- A. 在2008年中国货物进出口增长总额中，出口占到三分之二以上
- B. 在2008年中国货物进出口增长总额中，进口仅占四分之一
- C. 在2008年中国货物进出口增长总额中，出口仅占三分之一
- D. 在2008年中国货物进出口增长总额中，进口占到三分之一以上

扫一扫，对答案

