

2010年吉林省公务员录用考试《行测》真题（甲级-考生回忆版）

更新时间：2024年12月09日15:15:20

扫描下方二维码下载星光公考APP 刷海量题库掌握最新热点



QQ扫码直接下载
微信扫码到应用市场下载
支持所有机型哦

第一部分 - 数量关系

在这部分试题中，每道试题呈现一段表述数字关系的文字，要求你迅速、准确地计算出答案。你可以在草稿纸上运算。

1. 1, 7, 8, 57, ()

A. 457 B. 114 C. 58 D. 116

2. 3, 10, 29, 66, ()

A. 85 B. 166 C. 87 D. 127

3. 4, 6, 10, 14, 22, ()

A. 24 B. 26 C. 28 D. 32

4. 10, 12, 15, 20, 27, ()

A. 30 B. 36 C. 38 D. 48

5. 5, 8, 9, 12, 10, 13, 12, ()

A. 15 B. 14 C. 13 D. 25

6. 牧羊人赶着一群羊去寻找草长得茂盛的地方放牧。有一个过路人牵着一只肥羊从后面跟了上来。他对牧羊人说：“你赶来的这群羊有100只吧？”牧羊人答道：“如果这一群羊加上一倍，再加上原来这群羊的一半，又加上原来这群羊的 $\frac{1}{4}$ ，连你牵着的这只肥羊也算进去，才刚好凑满100只。”请你猜猜，牧羊人的这群羊一共有：

A. 72只 B. 70只 C. 36只 D. 35只

7. 某班一次期末数学考试成绩，平均分为95.5分，后来发现小林的成绩是97分，被误写成79分，再次计算后，该班平均成绩是95.95分，则该班人数是：

A. 30人 B. 40人 C. 50人 D. 60人

8. 张明和李亮两人绕操场竞走，操场一周是400米，李亮每分钟走80米，张明的速度是李亮的1.25倍，现在张明在李亮的前面100米，则两人第一次相遇在：

A. 8分钟后 B. 7分钟后 C. 15分钟后 D. 30分钟后

9. 从某货栈运大米，大车运走一半又2袋，小车运走余下的一半又2袋，人力车再运走余下的一半又2袋，这时仓库里还有2袋，如果这批大米共值2200元，每袋大米值：

A. 22元 B. 44元 C. 100元 D. 50元

10. 快、中、慢三辆车同时从同一地点出发，沿同一公路追赶前面的一辆骑车人。这三辆车分别用了6分钟、10分钟、12分钟追上骑车人，现在知道快车每小时行24公里，中速车每小时行20公里，问慢车每小时行：

A. 19公里 B. 14公里 C. 15公里 D. 18公里

第二部分 - 言语理解与表达

本部分包括表达与理解两方面的内容。请根据题目要求，在四个选项中选出一个最恰当的答案。

11. 不同历史发展阶段，不同地域的人们，由于生活经验的范围和性质不同，所_____而形成的思维框架、思维模式也就不同。

填入划线处最恰当的一项是：

A. 沉淀 B. 积淀 C. 积累 D. 发展

12. 专家们认为，传统的教学方式必须_____，才能适应当前形势发展的需要。

填入划线处最恰当的一项是：

A. 变革 B. 改变 C. 改革 D. 变动

13. 现代逻辑是以19世纪中期出现的数理逻辑为起点的，它使用特别符号和形式系统的方法来研究演绎推理及逻辑规律，是传统形式逻辑的直接延续和_____。

填入划线处最恰当的一项是：

A. 延伸 B. 发展 C. 变革 D. 变化

14. 我国古塔的建造，其规模之大，分布之广，数量之多，在古代建筑中是_____的。

填入划线处最恰当的一项是：

A. 首屈一指 B. 屈指可数 C. 空前绝后 D. 沧海一粟

15. 在通往目标的历程中遭遇挫折并不可怕，可怕的是因挫折而产生的对自己能力的_____。

填入划线处最恰当的一项是：

A. 质疑 B. 狐疑 C. 疑心 D. 怀疑

16. 借助现代化科学手段，信息1秒钟可以到达月球，可以绕地球七圈半，等发现了错误再纠正，收到信息者可能已经关闭了收音机。

作者强调的意思是：

- A. 高速多向的信息传播将会造成信息的创造和质量的不平等
- B. 在高速多向的信息时代，信息及时准确地判断和传播十分重要
- C. 充分肯定了“信息高速公路”给人类带来的好处，但要注意纠错
- D. 信息的快速传播将给人类带来许多无法及时纠正的错误信息

17. 咖啡馆真是一个惹人喜爱的地方，让你的心沉静又沉静，没有多余的声音也没有多余的事情，咖啡宽解了一切，把你保护在它的领地。

对上文理解较适当的一项是：

- A. 咖啡馆让你的心沉静下来，似乎没有任何的杂音杂事
- B. 咖啡馆不宜多去
- C. 咖啡解愁，多喝有益健康
- D. 咖啡可以保护你

18. 所谓“供养”，通常是指亲属之间有经济能力、生活能够自立的人，对那些无经济能力、生活不能自立的人，予以经济上的供给和生活上的照料。供养关系把那些由婚姻纽带和血缘纽带联系起来的人，又用经济纽带联结在一起，使家庭成为一个社会实体。

这段话支持了这样一种观点：

- A. “供养”是指对丧失经济能力、生活自立能力的亲属给予经济上的供给和生活上的照料
- B. “供养”就是指家庭中幼辈对长辈的赡养
- C. 是供养关系把亲属用经济纽带联系起来
- D. “供养”就是指家庭中年轻者为年老者提供经济供给和生活照料的义务

19. 文学最基本的特征是对自由心灵的表达，是伟大思想与丰富想象力的结合。而“网络文学”的特质正是“表达的高度自由”、强烈的“个性化”和非功利性。网络作家在现实生活中有着各种各样的身份与职业，而且绝大多数与文学无关，他们的知识结构与身份背景千差万别，他们的创作也因此有着别样的风情与广阔的视野。网络文学往往以颠覆经典文本的面貌出现，在写作中以轻松、嘲讽的气氛取胜，与传统文学正儿八经的叙事、抒情相比，神与貌皆相去甚远。这就要求我们以全新认知面对这一文学形态。有学者提出，网络文学最鲜明的特征是“写作”与“生存”的共生状态，这与目前主流文坛的写作方式有很大不同，他们是“在生存中写作”，而职业性作家文学则在很大的意义上是“在写作中生存”。

下面叙述中，不属于网络文学特征的是：

- A. 具有“表达的高度自由”、强烈的“个性化”和非功利性
- B. 网络作家有着与文学无关的身份与职业，因而创作有着别样的风情与广阔的视野
- C. 以颠覆经典文本的面貌出现，在写作中以轻松、嘲讽的气氛取胜
- D. “写作”与“生存”的共生状态，作家是“在生存中写作”

20. 对于环境与建筑的保护，我们一直局限在那些大家都认为有高度历史或文化价值的部分，而对于那些历史不算久远，或者根本就不被认为有特殊意义的环境与建筑，对于那些相对只是绿叶角色的城市建筑环境都非常漠视。我们虽然可以拆掉这些旧工业文明的老建筑，建造一大批摩天大楼，但是十年，二十年之后，下一代就要开始批评我们曾经的鲁莽了，我们要世代居住的这座城市已经失去了一段记忆，而那是上世纪中国城市最骄傲的工业文明具象的记忆。所以我认为应该保护她，尽可能留下她美丽或者被人认为不很美丽的有形的载体。

文中“有形的载体”指的是：

- A. 有特殊意义的环境与建筑
- B. 最骄傲的工业文明
- C. 世代居住的这座城市
- D. 旧工业文明的老建筑

21. 近年来，由于就业压力的不断增大和公务员优厚的待遇，报考公务员已经成为多数大学生就业的第一选择，而公务员招考门槛也水涨船高，报考条件中的高学历要求并不鲜见。在高学历日渐成为公务员考试“敲门砖”的今天，广东省却反其道行之，决定2009年广东省公务员考试在一些经济发展水平较低的地区，符合条件的高中生也可报考。广东省此举可谓突破“常理”。公务员招考是否应该追求高学历？

下列理解正确的是：

- A. 公务员待遇好，工作稳定，用人的要求应该高
- B. 提高门槛可以为“国考”降温，广州的做法不科学
- C. 建设高素质公务员队伍不是不应当使用高学历人才，而是要人尽其才
- D. 高学历高能力是用人单位提高要求的原因

22. 网络驱使我们进入了一个进行生死之争的世界，我们中的许多人发现这一世界是毁灭性的，网络强加的文化和经济张力令我们感到无力抗拒。作为网络赖以生存的机器和方案的创造者，我们有能力理解网络，也有能力影响它们的功能。我们有责任让网络服务于社会公正和人类自由的利益。

以下对文段的解释不恰当的一项是：

- A. 网络驱使我们进入生死之争的世界，对此，我们感到无力抗拒。
- B. 网络带来的文化和经济张力给人类带来巨大的冲击和威胁。
- C. 人类有能力让网络与人类以一种创造性共生的状态一起进化。
- D. 人类有责任让网络服务于社会公正和人类自由的利益。

23. 《阿凡达》是卡梅隆花了12年才完成的一部片子，这12年里，他除了拍过几部跟海洋有关的纪录片之外，几乎都在为《阿凡达》折腾，同时消失于媒体和公众视线之外。结果影片上映才两周，全球票房就直奔10亿美元，离他那部创下14亿美元票房纪录的《泰坦尼克号》，距离也并不遥远。而中国导演呢，谁会花12年的时间，去做一部完全不知道前景的影片？中国电影另外一个很堕落的地方是，贴片广告已经多到令人发指的地步，铜臭气十足。冯小刚在《非诚勿扰》受到批评后还说，这是国际通行做法。对，《变形金刚》里的确有雪佛兰，但是好莱坞是每部影片都会尽可能地往里拉赞助塞商标么？我真的不是苛刻，但事实就是这样，很多中国导演不是为观众在拍电影，甚至也不是为自己拍电影，他们只是在为钱拍电影。相比之下，《阿凡达》是多么的纯洁，可为什么这份纯洁，反而是远比我们商业的美国人实现的呢？

对划横线的语句理解不恰当的一项是：

- A. 卡梅隆用了12年精心制作，其间，他几乎消失于媒体和公众视线之外。
- B. 卡梅隆用12年的时间，去做了一部完全不知道前景的影片。
- C. 《阿凡达》是导演卡梅隆为观众为自己而创作的一部电影。
- D. 《阿凡达》是一部没有商业广告的纯洁电影。

24. 新诗拥有唐诗宋词时代没有的现代传播手段，像诗的网络生存，就是古人远远不具备的条件。但是，新诗实际上很小众，和唐诗宋词相比，新诗的大众化存在诸多困难。一是年轻的新诗不成熟，甚至迄今没有形成公认的审美标准，诗人难写，读者难记，没有像唐诗宋词那样化为民族传统文化，至今游离于家庭教育、学校教育及社会文化生活之外；二是新诗的发生更多地取法外国，不来自民间，不来自传统，也不来自音乐，主要借助默读，与朗诵尤其与音乐的脱节成为传播的大难题，把声音还给诗歌乃当务之急；三是和白居易的“为时而著”、“为事而作”不一样，当下有些诗人信服“私语化”倾向，使得公众远离诗歌，高尔基有句话还是有道理的：“诗人是世界的回声，而不仅仅是自己灵魂的保姆。”无论是小众还是大众，新诗都需不断继承创新，在多样化格局中努力争取传播的大众化效应。

对如何实现新诗的大众化，分析不恰当的一项是：

- A. 让新诗进入家庭教育、学校教育及社会文化生活
- B. 倡导诵读，并与音乐结合，把声音还给新诗
- C. 杜绝“私语化”、倡导诗歌“为时而著”、“为事而作”
- D. 不断继承创新，争取传播的大众化效应

25. 科学天才是个人先天因素和后天因素与社会和文化环境综合的产物，他们脱离不了社会文化，更不可能脱离科学共同体或科学家群体。诚如怀特所说：“一位天才——一位取得社会承认的天才——乃是一个文化要素的某一重大综合通过他而得以实现的人物。换句话说，天才是他所从属的文化作用的产物。”不过，在肯定天才科学家的伟大贡献的同时，对于一般科学家奠基性的或加砖添瓦的工作，我们也不可低估，因为科学天才毕竟不能玩空手道，无法建造空中楼阁——他的高超的理论归根结底是基于众多的实验资料和科学事实、基于前人创造的理论成果的。

对“科学天才”的解说不恰当的一项是：

- A. 科学天才是自身因素和社会文化因素综合的产物
- B. 一位社会承认的天才从属于他的社会文化作用
- C. 成就科学天才的，还有一般科学家奠基性的或加砖添瓦的工作
- D. 科学天才的伟大贡献来自众多的实验资源和科学事实

26. 中华民族很早发现了宇宙旋律及生命节奏的秘密，因而以平和的音乐的心境爱护现实，美化现实，但是却轻视了科学工艺征服自然的权力，这使我们无法摆脱贫弱的处境。在生存竞争剧烈的时代，我们受人侵略，受人欺侮，文化的美丽精神也不能长保了，灵魂里粗野了，卑鄙了，怯懦了，我们也现实得不近情理了。我们丧失了生活里旋律的美（盲动而无秩序）、音乐的境界（人与人之间充满了猜忌、斗争）。一个最尊重乐教、最了解音乐价值的民族没有了音乐。这就是说没有了国魂，没有了构成生命意义、文化意义的高等价值。中国精神应该往哪里去？

对“宇宙旋律及生命节奏的秘密”分析不恰当的一项是：

- A. 这一秘密，创造了中华民族平和的心境，我们用它来爱护现实、美化现实。
- B. 这一秘密的发现，并不能使我们摆脱贫弱的处境。
- C. 这一秘密的发现并不能使我们保护住“文化的美丽精神”。
- D. 这一秘密，构成了我们的国魂、生命意义和文化意义的高等价值。

27. 解决中国对外部世界过度依赖的问题，需要战略上的“综合治理”。《十一五规划纲要》提出以内需拉动经济增长，强调增强自主创新能力，这是一个良好的开端。中国已经是世界贸易组织的成员，应该真正按照市场经济和企业的社会责任的要求建立中国与跨国公司的新型关系。那种“急功近利”式的、为引进外资不惜牺牲环境、牺牲民族工业的“发展观”可以休矣。

下列手段中，不属于战略上“综合治理”的是：

- A. 促进内需，拉动国内经济增长
- B. 增强自主创新能力，减少对外部世界的依赖
- C. 按照世界贸易规则建立与跨国公司的新型关系

D. 保护环境，建立民族工业的“发展观”

党的十七大报告提出了建设生态文明的要求，并把生态文明建设与经济建设、政治建设、文化建设、社会建设一起作为全面建设小康社会的重要任务。深入贯彻落实科学发展观，积极推进生态文明建设，需要各地区各部门结合自身实际，大胆实践、勇于探索，根据中央的精神和要求，山东省聊城市_____。

建设生态文明市，在理念和内涵上都与过去提出的建设生态市有所不同。生态市建设主要涉及处理好经济发展与环境保护的关系问题，重点是控制污染、节约能源、改善环境；而生态文明市建设则涉及经济社会发展的方方面面，需要落实到经济、政治、文化、社会等各个领域。近年来建设生态市的实践使我们越来越认识到，仅仅通过生态市建设还不能完全解决经济社会科学发展的的问题，必须进一步树立生态文明理念，实现从传统的征服自然观念向树立人与自然和谐相处观念转变，实现从以过度消耗资源、破坏环境为代价的粗放型增长模式向以人为本、全面协调可持续发展的科学发展模式转变，适应建设生态文明市的要求，聊城市重点抓了以下几个方面的工作：

发展生态经济，立足本地优势，大力发展生态工业、生态农业和服务业。在生态工业方面，按照做大、做强、做稳、可持续发展的要求，积极推动科技创新，大力抓好节能减排，培植一批大企业和高新技术企业。在生态农业方面，推行蔬菜大棚轮作制，大力发展无公害、绿色、有机农产品。在服务业方面，以旅游度假和商贸物流为重点，着力抓好水中古城的保护性开放、马颊河生态文化旅游度假区等项目和煤炭、化肥、有色金属、农副产品等大型物流基地、专业市场的建设。

改善生态环境，下大力气抓好大气污染、水污染治理，保护和改善生态环境。近年来，全市160多万亩流荒地得到治理，森林覆盖率达到28.13%，城市绿化覆盖率达到37.2%，城区空气质量良好率达到91.8%。

培育生态文化，倡导崇尚简朴节约，使用绿色产品、追求健康向上的生态生活方式，大力推进资源节约型、环境友好型社会建设。在城市建设中注意突出文化个性、提高文化品位，充分发挥文化资源丰富的优势，促进人的素质和社会文明程度的提高。

促进社会和谐，坚持在经济发展的基础上不断改善人民生活，让人民群众共享改革发展成果。认真解决就业、教育、收入分配、医疗卫生、社会保障、社会治安等民生问题，促进社会和谐稳定。2008年，全市财政用于民生方面的支出大幅增长，其中环境保护支出增长230.8%，就业和社会保障支出增长35%，教育支出增长19.9%，医疗卫生支出增长41.8%。

28. 填入横线处的语句排列恰当的一项是：

- ①努力建设生态文明市
- ②将建设生态文明市作为贯彻落实科学发展观的重要载体
- ③推动全市经济社会又好又快发展
- ④取得了一定成效

A. ②③①④ B. ③②①④ C. ①②③④ D. ②①③④

29. 对“生态文明市”和“生态市建设”的表述不正确的一项是：

- A. “生态市建设”着眼于环境保护问题，重点是控制污染、节约能源、改善环境等
- B. “生态文明市建设”涉及经济社会发展的经济、政治、文化、社会等各个领域
- C. “生态市建设”目前不能完全解决经济社会科学发展的的问题
- D. 建设“生态文明市”是在“生态市建设”基础上理论与实践的新发展

30. 说明方法的使用会使文章生动真实，令人信服，本文采用的方法有：

- A. 举例子 列数字 下定义 作比较
- B. 分类别 举例子 列数字 作比较
- C. 分类别 下定义 作比较 列数字
- D. 举例子 作比较 下定义 分类别

31. 根据上文，下面概括不准确的一项是：

- A. 建设生态文明市是向全面协调可持续发展的科学发展模式转变的必然选择
B. 培育生态文化，促进城市精神文明建设，可以为城市可持续发展提供长期动力支持
C. 技术创新是改善生态工业的重要手段，数字显示，全面发展生态经济，提高民生服务水平，还任重道远
D. 以人为本、关注民生的生态文明市建设，有助于促进社会的和谐稳定

尊敬的宋楚瑜主席，尊敬的各位来宾，各位朋友：

时维九月，序属三秋，我们相聚在美丽的黄浦江畔，隆重举办第一届两岸民间菁英论坛。我们高兴地看到，一大批海峡两岸的知名专家学者、企业家应邀与会，共同探讨两岸经济交流与合作，共同筹划两岸关系发展的未来。此时此地，群贤毕至，胜友如云；此情此景，令人鼓舞，催人奋进。在此，我谨代表中国共产党中央委员会，代表胡锦涛总书记，对本届论坛的举办表示热烈的祝贺！对与会各位嘉宾表示诚挚的欢迎和亲切的问候！东风洒雨露，会入天地春。今年以来，两岸炎黄子孙融通中华民族的聪慧睿智，融化半个多世纪的坚冰，开启了两岸政党交流的大门。中共中央和胡锦涛总书记邀请国民党主席连战、亲民党主席宋楚瑜相继率团来大陆访问，新党主席郁慕明也在抗战胜利60周年这样一个历史时刻率团来大陆访问，为两岸关系的发展注入了春天的气息。那一幕幕动人的场景，一声声深情的呼唤，一个个珍贵的镜头，极大地促进了大陆乡亲对台湾同胞所愿所想的了解，有力地疏解了台湾民众对大陆的隔阂，其影响之大、感人之深，在两岸关系史上前所未有。特别是胡总书记分别与连主席、宋主席进行的正式会谈，取得了重要成果。无论是共产党与国民党达成的“两岸和平发展共同愿景”，还是共产党与亲民党达成的“两岸合则两利，分则两害，通则两赢”的共同体认，都体现了双方对“九二共识”的坚持和谋求两岸共同发展、追求中华民族振兴的共同责任，向世界显示了两岸中国人有智慧、有能力解决彼此分歧，建立两岸关系和平稳定发展的新架构，得到了两岸同胞的热烈欢迎和国际舆论的高度评价，被誉为“激活了一个建设性进程”，“打开了一扇两岸和平机会之窗”。时至今日，两岸交流的新局已开，尽管前路未必平坦，但播下的种子定会生根、发芽、成长，为两岸关系开辟出一片崭新的天地。我们举办这届论坛，是落实今年5月胡锦涛总书记与宋楚瑜主席会谈公报的重要举措；也是我们党与亲民党深化交流与对话的重要活动。近4个月来，我们和国民党、亲民党一道，积极努力地推动落实各项共识，并取得了实质性进展。凡属大陆单方面可以做到的事项，均在逐一落实。7月间，大陆方面宣布进一步便利台胞往来措施，简化台湾居民出入境和居留手续。自8月1日起，台湾水果准入品种从12种扩大到18种，并对其中15种水果实行进口零关税措施。9月1日起，对在大陆高等院校和科研院所就读的台湾学生执行与大陆学生相同的收费标准，并设立台湾学生奖（助）学金。近日，台湾4家航空公司飞往欧洲、东南亚的客货运输定期航班，经批准飞越大陆空域。国务院台办与国家开发银行签署《关于支持台湾同胞投资企业发展开发性金融合作协议》，为大陆台资企业专项安排了为期5年、额度为300亿元人民币的开发性贷款。10月1日将正式实施修订后的《台湾香港澳门居民在内地就业管理规定》，以方便台湾同胞在大陆就业。福建、山东、四川、黑龙江等地已设立或正在设立台湾农民创业园，为两岸农业合作营造新的平台。同时，凡属需要两岸双方协商落实的事项，我们也一直在积极推动。大陆方面已经宣布，希望两岸民间行业组织尽快就两岸客运和货运包机问题、大陆居民赴台湾旅游问题展开协商。大陆同胞向台湾同胞赠送一对大熊猫的准备工作也一直在进行。我们希望，台湾社会各界人士共同努力，尽早实现台湾同胞尤其是孩子们的这一美好夙愿。我们对台湾同胞的每一项承诺，言必信、行必果，认真兑现，决不失信。我们这样做，只有一个真诚的愿望，就是尊重台湾同胞，为台湾同胞办好事。我们为此而努力的步伐，不会因为遇到困难和遭逢诬蔑而停顿。

古语有云：“兄弟相害，不如友生；外御其侮，莫如弟兄。”大陆和台湾同属一个中国，浅浅的海峡隔不断两岸同胞的骨肉深情。当前，经过两岸同胞的共同努力，两岸关系中有利于遏制“台独”分裂活动的积极因素有所增强，但反对和遏制“台独”分裂势力及其活动的斗争（①）严峻而复杂，激进“台独”势力仍在加紧进行“台湾正名”、“公投制宪”、“独立建国”等分裂活动。台湾当局也没有放弃“台独”立场，（②）大肆鼓吹分裂主张，蓄意挑起两岸对抗，阻挠两岸关系发展。种种迹象表明，“台独”分裂势力通过“宪改”谋求“台湾法理独立”的危险性（③）存在，“台独”分裂活动（④）是台海地区和平与稳定的现实威胁。遏制“台独”分裂活动（⑤）是两岸同胞当前的首要任务，我们应当携起手来，共同促进两岸关系和平稳定发展，创造中华民族的美好未来。

32. 根据文意，以下解说正确的一项是：

- A. 两岸政党交流的影响之大、感人之深，在两岸关系史上前所未见
B. 共产党与国民党、亲民党达成的共同体认，都坚持了“九二共识”确定的原则
C. 建立两岸关系和平稳定发展新架构，必将得到两岸同胞和国际舆论的热烈欢迎
D. 两岸交流的新局已经打开，虽然前路不平，但是种子总会生根、发芽、成长

33. 演讲中不属于大陆单方“已落实”的事项是：

- A. 简化台湾居民出入境和居留手续，便利台胞往来
B. 台湾水果准入品种从12种扩大到18种，并对其中15种水果实行进门零关税
C. 台湾4家航空公司飞往欧洲、东南亚的客货运输定期航班，经批准飞越大陆空域
D. 实施修订后的《台湾香港澳门居民在内地就业管理规定》，方便台湾同胞在大陆就业

34. 依次填入空格中的词语，恰当的一项是：

- A. ①仍然 ②继续 ③依旧 ④仍将 ⑤依然
B. ①依然 ②依旧 ③依然 ④仍然 ⑤依然
C. ①依然 ②并且 ③依然 ④仍然 ⑤仍然
D. ①仍然 ②公然 ③依旧 ④仍将 ⑤依然

35. 根据文意，以下解说不当的一项是：

- A. 演讲用“东风洒雨露，会入天地春”描绘了2005年两岸关系的良好局面
B. 文中从商业往来、教育平等、政策支持和促进就业等几方面，列举事实说明大陆为促进两岸关系作出了积极努力
C. 文章用古语“兄弟相害，不如友生；外御其侮，莫如弟兄”说明两岸关系应该如弟兄
D. 文章重点对台湾当局仍在加紧进行“台湾正名”、“公投制宪”等分裂活动提出严正批评

第三部分 - 判断推理

本部分包括图形推理、定义判断、类比推理与逻辑判断四种类型的试题，请按每道题的答题要求作答。

36. T型管理是指在一个组织内部自由地分享知识（T的水平部分），同时注重单个业务单元业绩（T的垂直部分）的提升。T型管理通过跨业务单元学习，共享资源，沟通思想，来创造横向价值（T的水平部分），同时通过各业务单元的密切合作，使单个业务单元的业绩（T的垂直部分）得到良好发展。

根据上述定义，下列各项中没有运用T型管理方法或运用错误的是：

- A. 某电视机生产企业经常将企业管理者派出学习先进的管理经验，管理者的管理水平得到很大提高，直接促进了企业经济效益的提高
B. 张某是某大型连锁超市的分店经理，他虚心向其他分店学习进货和存货布置等方面的经验，使得他所管理的分店存货减少20%，销量增加了10%
C. 王某新任某粮食生产企业部门主管时，由于他对粮食保管方面的业务所知甚少，所以他特意从其他部门借调来几名同事帮助他制定出完善的粮食保管方面的规章制度
D. 某企业经常召集销售人员开经验交流会，在交流会上，大家纷纷介绍自己成功的销售经验和方法。每次交流会后，所有人的销售业绩都会得到提升

37. 间接反驳是一种确定另一判断具有虚假性或不具有正当性、合理性的方法，它是指引用论据，确定与论题或论据相矛盾的判断的真实性，从而确立论题或论据的虚假性。

根据上述定义，下列各项中正确使用了间接反驳方法的是：

- A. 有人主张办一切事情都要看本本上是怎么写的，这是思想僵化的表现。如果一切都要从本本出发，那么本本上没有写的，我们就什么事情也不能办，那么社会就不能进步
B. 有人说年轻人不能办大事，可是事实证明，世界上有许多杰出的人物，他们年轻时就取得了举世瞩目的成就，所以谁说年轻人不能办大事呢
C. 六国破灭，非兵不利，战不善，弊在赂秦。赂秦而力亏，破灭之道也。或曰：“六国互丧，率赂秦耶？”曰：

“不赂者以赂者丧，盖失强援，不能独完。故曰：‘弊在赂秦’也！”

D. 有人说所有被告人都是有罪的，但是被告人是否有罪需要由法官来判定，所以不能说所有被告人都是有罪的

38. 充足理由律的基本内容是：在同一思维论辩过程中，一个判断确定为真，就要有真实可靠并与之具有必然联系的另一一个（另一组）判断作为理由。

根据上述内容，下列思维过程符合充足理由律的是：

- A. 正是由于家教严格，岳飞长大后才成为了一名名震中外的军事帅才
- B. 一个人只有学习刻苦，才会取得好成绩。但也不绝对，小华学习并不刻苦，他的成绩也能名列前茅
- C. 横看成岭侧成峰，远近高低各不同。不识庐山真面目，只缘身在此山中
- D. 天生我材必有用

39. 准用性规范是指法律规范没有明确规定某一具体行为，但明确指出了准许适用某一法律文件中的某个规范的法律规范。

根据上述定义，下列各项中属于准用性规范的是：

- A. 我国《宪法》第31条规定：“国家在必要时得设立特别行政区。在特别行政区内实行的制度按照具体情况由全国人民代表大会以法律规定。”
- B. 我国《刑事诉讼法》第18条规定：“刑事案件的侦查由公安机关进行，法律另有规定的除外。”
- C. 我国《国家赔偿法》第38条规定：“人民法院在民事诉讼、行政诉讼过程中，违法采取对妨害诉讼的强制措施、保全措施或者对判决、裁定及其他生效法律文书执行错误，造成损害的，赔偿请求人要求赔偿的程序，适用本法刑事赔偿程序的规定。”
- D. 我国《合同法》第175条规定：“当事人约定易货交易，转移标的物的所有权的，参照买卖合同的有关规定。”

40. 角色内冲突，是指同一个角色，由于社会上人们对他的期望与要求不一致，或者角色承担者对这个角色的理解不一致，而在角色承担者内心产生的一种矛盾与冲突。

根据上述定义，下列各项中属于角色内冲突的是：

- A. 小张最近手头拮据，所以当他看到邻居李大伯家全部外出无人时，产生了入室盗窃的想法，为此他的思想上激烈斗争了很久
- B. 王女士在公司担任部门经理，回家后又照顾年迈的父母和年幼的孩子，她感到身心疲惫，最近她在犹豫要不要辞去部门经理的职务
- C. 小明的家长和老师都认为小明是个善于思考的孩子，希望他好好学习，长大后会有一番作为，小明也知道学习的重要性，可就是有时会有懒惰的情绪
- D. 小刘是个直言快语的人，有人喜欢他爽朗的个性，也有人不喜欢，但小刘并不介意别人怎么想，依然我行我素

41. 激励约束，即组织根据期望目标、人的行为规律，通过各种方式，去激发人的动力，使人有一股内在的动力和要求，迸发出积极性、主动性和创造性，同时规范人的行为，朝着组织所期望的目标前进的过程。

根据上述定义，下列各项中属于激励约束的是：

- A. 小王上班经常迟到，最近公司作出新规定，迟到者将被扣发整月奖金，小王不得不每天早起半个小时，果然一个月内再没有迟到过
- B. 某学校组织青年教师讲课比赛，获胜者将被授予青年讲课标兵称号，尽管学校规定自愿报名，但青年教师仍然纷纷报名参加
- C. 某公司鼓励员工自我增值，并向员工提供外出培训的机会，员工们响应的热情竟使得一时间公司人手有些紧张
- D. 某公司新上任的李经理业务能力强，而且待人亲和有礼，很快获得了员工们的一致认可和好评

42. 多重趋避冲突又称双趋避冲突、双重正负冲突，是指面对两种或两种以上目标，每个目标都既具有吸引力又

具有排斥力而产生的冲突。

根据上述定义，下列各项中属于多重趋避冲突的是：

- A. 鱼，我所欲也；熊掌，亦我所欲也，二者不可得兼
- B. 明明最近得了龋齿，牙痛得非常厉害，可是他又不肯去医院医治，因为他害怕治疗牙齿带来的疼痛，他觉得左右为难
- C. 小赵想要换工作，新工作会获得更高的收入，但是工作环境会有些不适应；如果留在原单位，尽管收入差些，却又习惯了工作环境和即将升职的机会，小赵觉得难以抉择
- D. 很多刚进入大学的新生都会面临一个进退两难的选择，即要不要加入学生社团。如果加入学生社团就会得到锻炼的机会，可是他们又怕占自己太多学习的时间

43. 同心多角化经营战略是指企业以一种主要产品为圆心，充分利用该产品在技术、市场上的优势和特长，不断向外扩散，生产多种产品，充实产品系列结构的战略，它是企业利用原有的生产技术条件，制造与原产品用途不同的新产品。

根据上述定义，下列企业使用了同心多角化经营战略的是：

- A. 某汽车生产企业通过兼并和控股等方式开拓和扩大市场，斥巨资收购了国外知名汽车生产企业，并把自己原来的高端产品并归于该知名品牌下
- B. 某石油勘探开发公司对自己开采的石油进行炼化，生产各种石化产品，并自行组织这些产品的销售
- C. 某服装生产企业以其独特新颖的设计驰名全国，获得成功后，又投资建筑、商品零售等多个行业，发展成为综合性的集团公司
- D. 某企业所生产的电冰箱制冷效果好，销量在国内同类产品中居于领先地位，后来该企业又生产空调，产品也深受消费者喜爱

44. 经济分析法学派认为，法律的根本宗旨在于通过法律的参与使社会财富达到极大化的效益目标，也就是以价值极大化的方式分配和使用资源。因此，不但所有法律现象都是以一定的经济关系为基础的。所有法律法规都有其经济根源，而且一切法律问题归结起来都是经济问题。

根据上述定义，下列学者的观点中，属于经济分析法学派的是：

- A. “对于罪犯而言，由于犯罪对他的预期收益超过其预期成本，所以，某人才实施犯罪。”
- B. “法律进化的根本性动力是社会不断增进的复杂性，随着社会复杂性的进化，法律也会相应发生改变。”
- C. “法律作为社会工程或社会控制的手段，任务就在于满足人们的各种要求和愿望。”
- D. “法律是人类有意识地创造以达到一定目的的手段，其目的就是利益，包括个人利益和社会利益。”

45. 峰终效应是指我们对一项事物的体验之后，所能记住的就只是在峰（高峰）与终（结尾）时的体验，而在过程中好与不好、体验的比重好与不好、体验的时间长短，对记忆基本没有影响。

根据上述定义，下列各项中不属于峰终效应的是：

- A. 这部小说构思奇巧，情节跌宕起伏，作者的写作手法也很细腻，可惜在小说结尾处的安排落入俗套，让人难免有虎头蛇尾的感觉
- B. 前苏联研制的米格-25喷气式战斗机的许多零部件虽然与美国设计的相比都很落后，但该种战斗机在升降、速度、应急反应等方面都是当时世界上第一流的
- C. 星光咖啡馆尽管总是排长队，价格昂贵，而且要长时间等待咖啡制作，但每天仍然吸引了大量的顾客，顾客们说吸引他们下次再去的是咖啡的味道
- D. 佳佳超市不设导购员，会让顾客觉得有些不方便，但是超市里物美价廉的商品，以及允许顾客随意试用商品的服务让这里总是顾客盈门

46. 最新的调查显示，时尚、美观、全智能的厨房家电整体式购买趋势明显。考虑到价格便宜，安装方便，外观协调等因素，大多数消费者往往选择整体式厨房家电，从本质上讲是人们开始注重生活品质、改善家居环境的必然趋势，这表明以个性、品位、舒适为主要元素的“新家居”时代已经到来。

以下哪项如果为真，则最能质疑上述结论：

- A. 洗碗机、消毒柜等越来越多的厨房家电也逐渐走入寻常百姓家
B. 50%以上的厨房用品生产厂家并没有推出整体式厨房家电
C. 低碳环保概念的厨房家电受到越来越多的消费者热捧
D. 消费者对个性、品质的追求使得整体式的家具电器在市场上大受欢迎

47. 当前，有学者指出，物业税改革会增加房屋的持有成本，从而增加房产市场的供给，进而对房价产生一定的调控作用。目前，开征物业税是我国财税体制改革必不可少的环节。而在我国很多房屋的所有权和使用权是分离的，在当前房产税的征收过程中，有相当一部分是房屋使用人纳税，但从税收理论上讲，房产税必须向财产的产权人征收，所以必须首先进行房屋产权的明晰，这是物业税开征的必要条件。因此，学者建议说，开征物业税要循序渐进，并且要分步骤实施。

如果假设上述学者的言论是正确的，则由此可以推出：

- A. 如果我国财税体制改革不能进行，则说明在我国没有开征物业税
B. 如果房屋产权明晰，我国就可以开征物业税
C. 如果房屋产权不明晰，我国财税体制改革就不能进行
D. 如果在我国没有开征物业税，则说明房屋产权不明晰

48. 有甲、乙、丙三种花卉，分别是玫瑰、郁金香、风铃草，这三种花卉是从三个不同的国家运来的，分别是A国、B国和C国。下列条件是已知的：

- (1) 花卉乙不是风铃草；
(2) 花卉乙不是从C国运来的；
(3) 花卉丙不是从A国运来的；
(4) 玫瑰不是从B国运来的；
(5) 风铃草是从A国运来的。

根据上述条件，可以推出花卉乙是：

- A. 玫瑰 B. 郁金香 C. 玫瑰或郁金香 D. 无法判断

49. 近期一项针对1.8万名24岁至42岁的健康女性的调查研究结果显示，相较于只吃低脂奶制品的女性，爱喝全脂牛奶、吃全脂奶制品者，更容易受孕。研究人员解释说，奶制品会影响女性体内激素分泌水平，全脂奶制品的雌激素含量较高，会促进排卵。研究人员因此建议说，希望未怀孕的女性应该反思一下自己的饮食习惯。

以下哪项如果正确，则最能支持研究人员的论断：

- A. 每天吃两份以上脱脂制品的女性，其受孕几率降低85%
B. 现代社会，越来越多的女性为保持身材苗条而无法顺利怀孕
C. 全脂奶制品有利于帮助妇女保持健康的身体
D. 妇女怀孕后，需将全脂奶制品替换成脱脂奶制品，因为这时要限制饱和脂肪的摄入

50. 有科学家此前已经发现，生活在高原地区寒冷水域中的蛤蜊，寿命可比生活在暖水中的同类长10倍。科学家对此现象的解释是，冷水环境里的蛤蜊新陈代谢较慢，因此寿命更长。但是科学家最近发现，一种4500万年前生活在南极洲的蛤蜊，寿命可长达120年，这在动物中是少见的高寿，但是当时南极洲海域水温比现在高10℃左右，较为温暖。

以下哪项如果为真，最能合理地解释上述现象：

- A. 研究发现，4500万年前南极洲的蛤蜊在冬季生长而非夏季
B. 新陈代谢缓慢并不是蛤蜊长寿的唯一原因
C. 生活在寒冷水域的鱼类比生活在热带的鱼类寿命更长
D. 生活在热带水域的蛤蜊的寿命并不比冷水环境中的蛤蜊的寿命短

51. 飞机设计师曾经在设计飞机时遇到一个难题，即如何保证飞机的飞行不会偏离航向呢？为此，科学家们研究出一种振动陀螺仪。它的主要部件像只音叉，是通过一个中柱固定在基座上的。装在音叉两臂四周的电磁铁使

音叉产生固定振幅和频率的振动。当飞机偏离正确航向时，音叉基座和中柱会发生旋转，中柱上的弹性杆就会将这一振动转变成一定的电信号，传给转向舵，于是航向便被纠正了。科学家的这一研究灵感来自苍蝇的翅膀，由振动陀螺仪的工作原理可以推知苍蝇在飞行中保持航向的方法应该是：

- A. 翅膀粗糙的上表面形成空气涡旋，同时产生的一个反作用力使得苍蝇可以平稳升起
- B. 翅膀关节极有弹性，直接伸入身体并同强有力的肌肉纤维连接，能承受巨大的作用力，并将力量传送到翅膀末端
- C. 每个翅膀前部的上方都有一块深色的角质加厚区，被称为翼眼或称翅痣，以减少振动
- D. 后翅以每秒钟330次的频率不停地振动，当苍蝇身体倾斜时后翅振动频率的变化能够被其基部的感受器所感觉，传达给“大脑”

52. 一篇最新的科研报告指出，人类随意丢弃废物和对污染物的非恰当处理会导致野生动物患癌症几率上升。致力于海洋哺乳动物研究的科学家们发现，这一问题已经在某岛屿海域附近的海狮身上显著表现出来。海狮患重症肿瘤的病例越来越多，那些死于癌症的海狮，其体内的有毒多氯联苯（PCB）的浓度比正常浓度高出85%。而PCB是一种用于冷却剂和变压器制造的化学物质。科学家们据此认为，PCB是导致海狮死于癌症的罪魁祸首。以下哪项如果为真，则能最有力地反驳科学家们的结论：

- A. 发现患癌症的海狮所生活的岛屿海域附近并没有发生过PCB污染事件
- B. 科学家还在患癌海狮的脂肪中发现比PCB浓度更高的有毒化学物质DDT
- C. 体内摄入过高浓度PCB的生活在其他海域的海狮患癌症的比率比较低
- D. 从2002年起，世界上大多数国家已通过立法禁用PCB

53. 对付痛风，传统的办法是严格限制摄入高嘌呤食物，包括啤酒、肉禽、鱼类、豆制品，及蘑菇、菠菜、花菜、豌豆、芦笋、木耳等多种蔬菜。但实际上，这种几近“全面封杀”的食谱，对于绝大多数痛风患者来说可行性并不大。因此，显然限制高嘌呤食物的摄入并不能有效减少痛风发作。

以下哪项如果正确，则最能削弱上述结论：

- A. “全面封杀”食谱会导致痛风患者身体缺乏蛋白质和维生素，以致营养不良，体质虚弱，容易患上感冒，而感冒也会诱发痛风
- B. 有研究发现，在长期坚持“全面封杀”食谱的痛风患者中，约四成患者痛风发作的频率并未明显减少
- C. 对于这些生活中随处可见的食物来说，痛风患者难以做到长期坚持“全面封杀”高嘌呤食物的摄入
- D. 限制高嘌呤食物的摄入可以减轻肾脏的负担，对于肾炎患者来说，在肾功能不良时，其代谢产物不能及时排出，对肾功能有负面影响

54. B国最大的发电厂近日决定暂缓其清洁能源改造计划，除非该国政府决定对此项目给予长期资助。因为如果缺乏政府在此项目上的长期资助的话，由于使用清洁能源运营成本高，将使该发电厂陷入破产的危机。而B国政府清楚地知道，如果给予发电企业长期资金的支持，该国的能源和气候变化部门就必须在清洁能源改造方面具备制定有效政策的能力。国际社会据此推测说，目前B国的能源和应对气候变化部门在清洁能源改造方面已经具备了制定有效政策的能力。

以下哪项如果为真，就可以合理地推出上述结论：

- A. B国最大的发电厂不会暂缓其清洁能源改造计划
- B. B国政府将会给清洁能源改造计划提供长期资助
- C. B国政府将会开始蒙受更多的损失
- D. B国最大的发电厂与使用非清洁能源的发电企业相比竞争力不足

55. 定窑白瓷是继唐代的邢窑白瓷之后兴起的一大瓷窑体系。主要产地在今河北省曲阳县的涧磁村及东燕川村、西燕川村一带。定窑所烧制的白瓷，其胎、釉呈现出精、白、薄的特征，有些器物的白度甚至超过了邢窑的细白瓷器。定窑白瓷花纹千姿百态，有用刀刻成的划花，用针剔成的绣花，特技制成的“竹丝刷纹”、“泪痕纹”等等。在出土的定窑瓷片中，发现刻有“官”、“尚食局”等字样，这说明定窑中一部分产品专为官府和宫廷烧造，但更多的是为民间需求而生产的。

为使上述论证成立，以下假设必须为真的一项是：

- A. 在当时的历史条下，只有官府和宫廷用品，才会刻有“官”、“尚食局”等字样
- B. 刻有“官”、“尚食局”等字样的定窑瓷片，只占出土瓷片的一少部分
- C. 史料中关于定窑原为民窑，自宋中后期开始烧造官府和宫廷用瓷的记载是真实的
- D. 官府和宫廷对定窑白瓷的需求量远远小于民间

56. 青霉素：细菌

- A. 伪劣产品：信誉
- B. 维生素：营养
- C. 国策：人口
- D. 经济措施：危机

57. 油彩：画布

- A. 墨汁：宣纸
- B. 粉笔：黑板
- C. 铅笔：白纸
- D. 油漆：墙壁

58. 窗户：玻璃

- A. 衣服：纽扣
- B. 盆架：脸盆
- C. 戒指：宝石
- D. 照片：相册

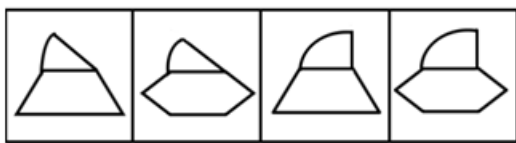

59. 电话：会面

- A. 微波炉：加热
- B. 打字机：手写
- C. 电视机：娱乐
- D. 打印机：绘画

60. 西施：东施

- A. 鸟：飞机
- B. 正版：盗版
- C. 碑刻：拓片
- D. 明治维新：戊戌变法

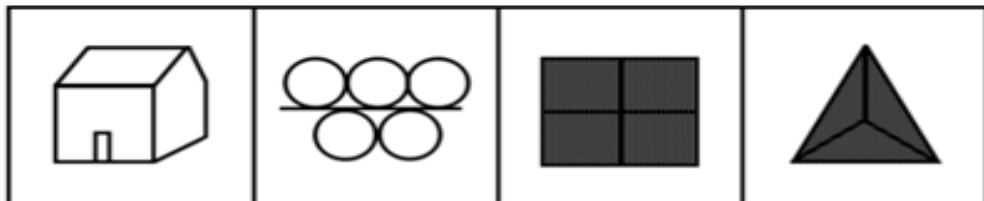
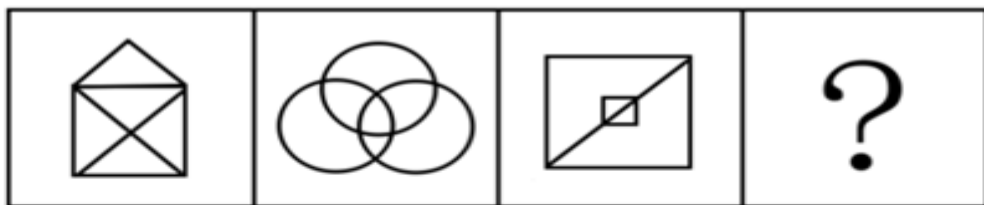
61. 请从所给的四个选项中，选择最合适的一个填入问号处，使之呈现一定的规律性：【2010吉林甲061/吉林乙056】



A B C D

- A. 如图所示
- B. 如图所示
- C. 如图所示
- D. 如图所示

62. 从所给四个选项中，选择最合适的一个填入问号处，使之呈现一定规律性：【2010吉林甲062/吉林乙057】



A

B

C

D

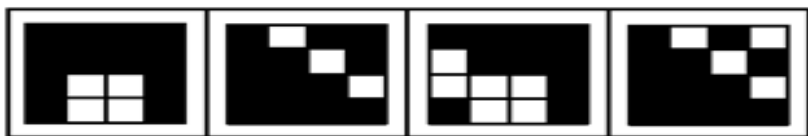
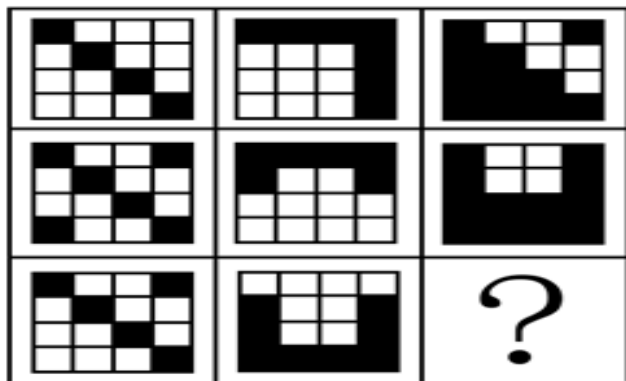
A. 如图所示

B. 如图所示

C. 如图所示

D. 如图所示

63. 从所给四个选项中，选择最合适的一个填入问号处，使之呈现一定规律性：【2010吉林甲063/吉林乙058】



A

B

C

D

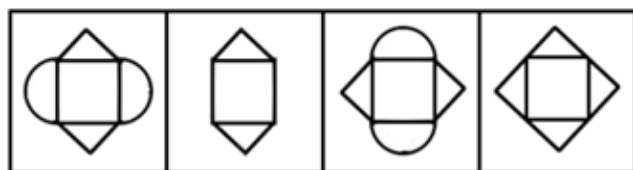
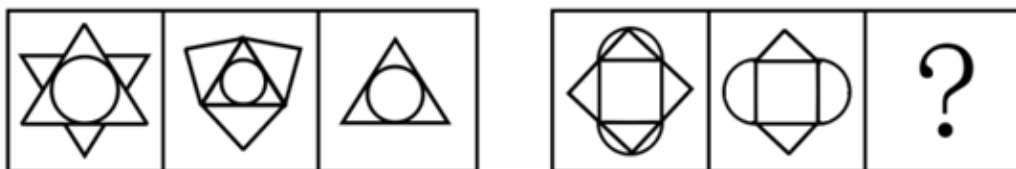
A. 如图所示

B. 如图所示

C. 如图所示

D. 如图所示

64. 从所给四个选项中，选择最合适的一个填入问号处，使之呈现一定规律性：【2010吉林甲064/吉林乙060】



A

B

C

D

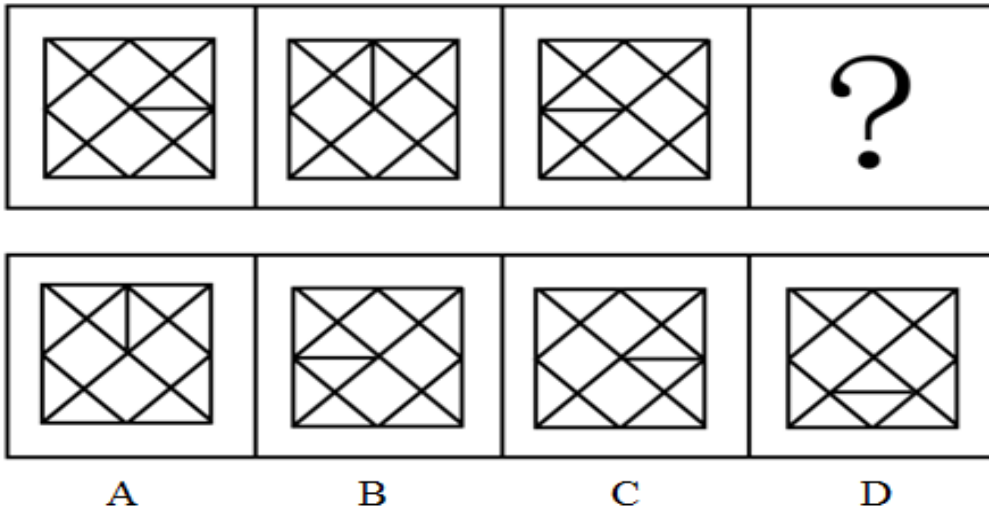
A. 如图所示

B. 如图所示

C. 如图所示

D. 如图所示

65. 从所给四个选项中，选择最合适的一个填入问号处，使之呈现一定规律性：【2010吉林甲065/吉林乙059】



- A. 如图所示 B. 如图所示 C. 如图所示 D. 如图所示

66. 当潮湿的气团前进时，遇到高山阻挡，气流被迫缓慢上升，引起绝热降温，发生凝结，这样形成的降雨，称为：

- A. 对流雨 B. 气旋雨 C. 地形雨 D. 台风雨

67. 绿色食品是指经专门机构认定，许可使用绿色食品标志的无污染的安全、优质、营养食品。绿色食品标志是由中国绿色食品发展中心在国家工商行政管理总局正式注册的质量证明商标。绿色食品标志由三部分组成，即上方的太阳、下方的叶片和中心的蓓蕾，标志为：

- A. 正圆形，意为保护 B. 椭圆形，意为安全 C. 正方形，意为安全 D. 长方形，意为保护

68. 绿色GDP指用以衡量各国扣除自然资产损失后新创造的真实国民财富的总量核算指标。简单地讲，就是从现行统计的GDP中，扣除由于环境污染、自然资源退化、教育低下、人口数量失控、管理不善等因素引起的经济损失成本，从而得出真实的国民财富总量。

关于绿色GDP，下列说法不正确的是：

- A. 能反映经济增长水平
B. 能够体现经济增长与自然保护和谐统一的程度
C. 能够显示人口增长与自然保护和谐统一的程度
D. 可以很好地表达和反映可持续发展的思想和要求

69. 突发公共事件按照性质、严重程度、可控性和影响范围等因素分为特别重大、重大、较大、一般四个等级；预警级别分为四级，依次：

- A. 用红色、橙色、黄色、蓝色表示 B. 用黄色、蓝色、橙色、红色表示
C. 用黄色、橙色、蓝色、红色表示 D. 用蓝色、橙色、红色、黄色表示

70. 有狼、鼬、鼠等动物的某一温带森林生态系统，造成其生态不平衡的原因可能是：

- A. 老鼠大量繁殖 B. 鼬大量繁殖 C. 大量捕杀鼬 D. 大量捕杀狼

71. 世界博览会是一项由主办国政府组织或政府委托有关部门举办的有较大影响和悠久历史的国际性博览活动。参展者向世界各国展示当代的文化、科技和产业上正面影响各种生活范畴的成果。它已经历了百余年的历史，逐渐成为荟萃科学技术与产业技术的展览会，成为产业人才培育和一般市民启蒙教育不可多得的场所。但它最初是：

- A. 以纺织工业品展示为主 B. 以生活日用品展示为主
C. 以美术品和传统工艺品的展示为主 D. 以建筑成果展示为主

72. 人们在剧烈的体育运动后，会感到腰腿或全身肌肉酸痛，疲惫不堪，有的还感到饥渴难耐，这主要是因为体

内的酸碱平衡不能正常维持，体液偏酸而使疲劳症状加重。此时应该多食用：

- A. 鸡、鱼、肉
B. 牛奶、豆制品、蔬菜水果
C. 巧克力
D. 可乐

73. 中国古代木构建筑的屋顶都有挑出的屋檐，它的目的是：

- A. 突出房屋建筑的美感
B. 使屋顶线条成曲线，减轻沉重感
C. 有利于排雨
D. 保护檐口下的木构架及夯土墙少受雨淋

74. “六亲不认”是形容一个人不顾亲情做事决绝，这里面的“六亲”是指：

- A. 父、母、兄、弟、妻、子
B. 祖父、祖母、父、母、兄、弟
C. 父、母、兄、弟、子、孙
D. 父、母、兄、弟、姐、妹

75. 清明既是二十四节气之一，又是一个历史悠久的传统节日。清明的前一天称寒食节。两节恰逢阳春三月，春光明媚，桃红柳绿，一派欣欣向荣的气象。

寒食节的设立是为了纪念：

- A. 屈原
B. 伍子胥
C. 范蠡
D. 介子推

76. 小王和某家公司签约时，约定的月薪为2500元，签订了三年的劳动合同。工作一年后，他发现其他同行业公司相应职位的员工工资比他高，因此他提出辞职，想找一份薪水更丰厚的工作。在三个月的时间里，他都没有找到合适的工作。

在这种情况下，小王：

- A. 属于自愿失业，不具备领取失业保险金的条件
B. 非因本人意愿而中断就业，具备领取失业保险金的条件
C. 已工作满一年，可以领取失业保险金
D. 虽属于自愿失业，但仍可领取失业保险金

77. 要制成松软酥香的丹麦面包，需往面粉中加入大量起酥油，这样才能形成面包里特殊的层状结构。而起酥油不光让身体发胖，还会影响女性荷尔蒙分泌。由于人体激素水平在一天中是不平衡的，因此吃丹麦面包最佳时间是：

- A. 早上
B. 中午
C. 晚上
D. 午夜

78. 运输危险品货物的列车发生泄漏、火灾、爆炸时，车上人员应：

- A. 迅速向下风方向或高坡地段转移
B. 迅速向上风方向或低坡地段转移
C. 迅速向下风方向或低坡地段转移
D. 迅速向上风方面或高坡地段转移

79. 电梯作为一种垂直交通工具，一旦出现故障，可能会发生乘客被困、坠落等危险事故。电梯发生故障时，下列应急措施不正确的是：

- A. 电梯突然停运时，不要试图扒门爬出，以防电梯突然开动
B. 如果电梯运行中发生火灾，应将电梯停在就近楼层，并迅速利用楼梯逃生
C. 运行中的电梯进水，应将电梯开到底层，并通知维修人员
D. 电梯下降速度突然加快或失去控制时，乘客应两腿微弯，上身向前倾斜，以减少电梯坠落受到的冲击

80. 改变农业以太阳光为直接能源，利用绿色植物通过光合作用生产人类食物、动物饲料的传统方式，应用高科技进行开发，依靠人工能源不受气象和季节的限制，可常年在工厂进行大规模生产，节土、节水、不污染环境，资源可循环利用的微生物工业型的农业叫做：

- A. 绿色农业
B. 白色农业
C. 生态农业
D. 生物农业

81. 鳄鱼为什么流眼泪？这是因为鳄鱼体内长有特殊的排泄腺，其排出管正好分布在眼睛四周，从而排出体内多余的成分，鳄鱼所流的“眼泪”实际上是一种溶液。这种溶液是：

- A. 水 B. 碘溶液 C. 钠溶液 D. 盐溶液

82. 在现代市场竞争中，厂商总用各种手段把竞争对手的顾客争取过来，使其购买本企业的产品，这种做法是：

- A. 市场渗透 B. 市场掠夺 C. 市场控制 D. 市场调节

83. 望向大海，很多时候我们会发现海水呈现蓝、绿色，这是因为：

- A. 海水本身就是绿色和蓝色的 B. 只有绿光才能被海水吸收并反射
C. 只有蓝光才能被海水吸收并反射 D. 蓝光和绿光都不能被海水吸收

84. 在草原、森林、湿地、海洋和沙漠中，被列为地球三大生态系统的是：

- A. 森林、海洋、湿地 B. 森林、沙漠、海洋 C. 森林、湿地、沙漠 D. 森林、草原、海洋

85. 机关工作人员在涉外交往中应遵守一些社交礼仪。其中在国际交往中有主次先后排列的，应遵循的原则和礼俗是：

- A. 以右为尊，男士优先 B. 以左为尊，女士优先
C. 以右为尊，女士优先 D. 以左为尊，年长者优先

第四部分 - 资料分析

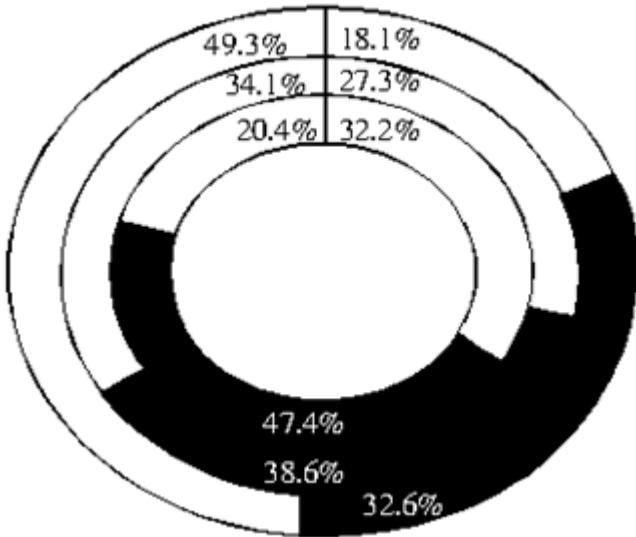
针对下列图、表或文字回答问题。你应根据资料提供的信息进行分析、比较、计算、处理。你可以在题本上运算。

我国历年卫生费用及构成

年份	卫生总费用(亿元)			卫生总费用构成(%)			
	合计	政府预算 卫生支出	社会卫 生支出	个人现金 卫生支出	政府预算 卫生支出	社会卫 生支出	个人现金 卫生支出
1978	110.2	35.4	52.3	22.5	32.2	47.4	20.4
1979	126.2	40.6	59.9	25.7	32.2	47.5	20.3
1980	143.2	51.9	61.1	30.4	36.2	42.6	21.2
1981	160.1	59.7	62.4	38.0	37.3	39.0	23.7
1982	177.5	69.0	70.1	38.4	38.9	39.5	21.6
1983	207.4	77.6	64.6	65.2	37.4	31.1	31.5

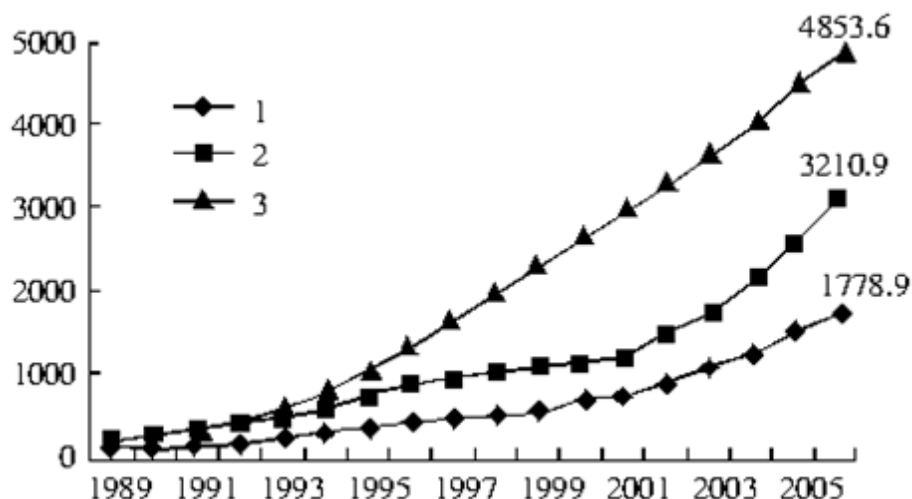
年份	卫生总费用(亿元)			卫生总费用构成(%)			
	合计	政府预算 卫生支出	社会卫 生支出	个人现金 卫生支出	政府预算 卫生支出	社会卫 生支出	个人现金 卫生支出
1984	242.1	89.5	73.6	79.0	37.0	30.4	32.6
1985	279.0	107.7	92.0	79.4	38.6	33.0	28.5
1986	315.9	122.2	110.4	83.3	38.7	34.9	26.4
1987	379.6	127.3	137.3	115.1	33.5	36.2	30.3
1988	488.0	145.4	190.0	152.7	29.8	38.9	31.3
1989	615.5	167.8	237.8	209.8	27.3	38.6	34.1
1990	747.4	187.3	293.1	267.0	25.1	39.2	35.7
1991	893.5	204.1	354.4	335.0	22.8	39.7	37.5
1992	1069.9	228.6	431.6	436.7	20.8	39.3	39.8
1993	1377.8	272.1	524.8	581.0	19.7	38.1	42.2
1994	1761.2	342.3	644.9	744.1	19.4	36.6	43.9
1995	2155.1	387.3	767.8	1000.0	18.0	35.6	46.4
1996	2709.4	461.6	875.7	1372.2	17.0	32.3	50.6
1997	3196.7	523.6	984.1	1689.1	16.4	30.8	52.8
1998	3678.7	590.1	1071.0	2017.6	16.0	29.1	54.8
1999	4047.5	641.0	1146.0	2260.6	15.8	28.3	55.9
2000	4586.6	709.5	1171.9	2705.2	15.5	25.6	59.0
2001	5025.9	800.6	1211.4	3013.9	15.9	24.1	60.0
2002	5790.0	908.5	1539.4	3342.1	15.7	26.6	57.7
2003	6584.1	1116.9	1788.5	3678.7	17.0	27.2	55.8
2004	7590.3	1293.6	2225.4	4071.4	17.0	29.3	53.6
2005	8659.9	1552.5	2586.4	4521.0	17.9	29.9	52.2
2006	9843.3	1778.9	3210.9	4853.6	18.1	32.6	49.3

86. 请看以下关于三项卫生费用3年数据的环形图。从内到外数据所属的年份是：



- A. 1978年 1979年 1980年
- B. 1978年 1989年 2006年
- C. 1978年 1989年 1980年
- D. 1978年 1999年 2006年

87. 下图3条线中代表政府预算卫生支出各年度数据的是：



- A. 1线 B. 2线 C. 3线 D. 都不是

88. 下列说法正确的是：

- A. 1978年至2006年，政府预算卫生支出持续减少
 B. 1978年至2006年，社会卫生支出持续增加
 C. 1978年至2006年，个人现金卫生支出持续增加
 D. 以上说法均不正确

89. 1978年至2006年，卫生总费用构成中政府预算卫生支出所占比重最高的年度是：

- A. 1985年 B. 1986年 C. 1981年 D. 1982年

90. 2006年，社会卫生支出和个人现金卫生支出两项总计共占卫生总费用的比重为：

- A. 56.5% B. 95.6% C. 81.9% D. 89.3%

2009年1-7月全国房地产市场运行情况

房地产开发完成情况

1-7月，全国完成房地产开发投资17720亿元，同比增长11.6%，增幅比1-6月提高1.7个百分点，比去年同期回落19.3个百分点。其中，商品住宅完成投资12427亿元，同比增长8.2%，比1-6月提高0.9个百分点，比去年同期回落25.5个百分点，占房地产开发投资的比重为70.1%。

1-7月，全国房地产开发企业房屋施工面积25.07亿平方米，同比增长12.5%，增幅比1-6月回落0.2个百分点；房屋新开工面积5.50亿平方米，同比下降9.1%，降幅比1-6月缩小1.3个百分点；房屋竣工面积2.54亿平方米，同比增长24.7%，增幅比1-6月提高2.4个百分点。其中，住宅竣工面积2.09亿平方米，增长26.6%，比1-6月提高3.7个百分点。

1-7月，全国房地产开发企业完成土地购置面积16309万平方米，同比下降25.8%；完成土地开发面积12789万平方米，同比下降13.4%。

商品房销售情况

1-7月，全国商品房销售面积41755万平方米，同比增长37.1%。其中，商品住宅销售面积增长38.8%；办公楼销售面积增长13.3%；商业营业用房销售面积增长21.7%。1-7月，商品房销售额19600亿元，同比增长60.4%。其中，商品住宅销售额增长65.3%，办公楼和商业营业用房销售额分别增长22.9%和34.2%。

房地产开发企业资金来源情况

1-7月，房地产开发企业本年资金来源28639亿元，同比增长28.7%。其中，国内贷款6524亿元，增长42.7%；利用外资273亿元，下降33.1%；企业自筹资金9557亿元，增长9.9%；其他资金12285亿元，增长43.2%。在其他资金中，定金及预收款7179亿元，增长35.7%；个人按揭贷款3628亿元，增长78.9%。

70个大中城市房屋销售价格指数

7月份，全国70个大中城市房屋销售价格同比上涨1.0%，涨幅比6月份扩大0.8个百分点；环比上涨0.9%，涨幅

比6月份扩大0.1个百分点。

新建住宅销售价格同比上涨0.3%；环比上涨1.1%，涨幅比6月份扩大0.3个百分点。

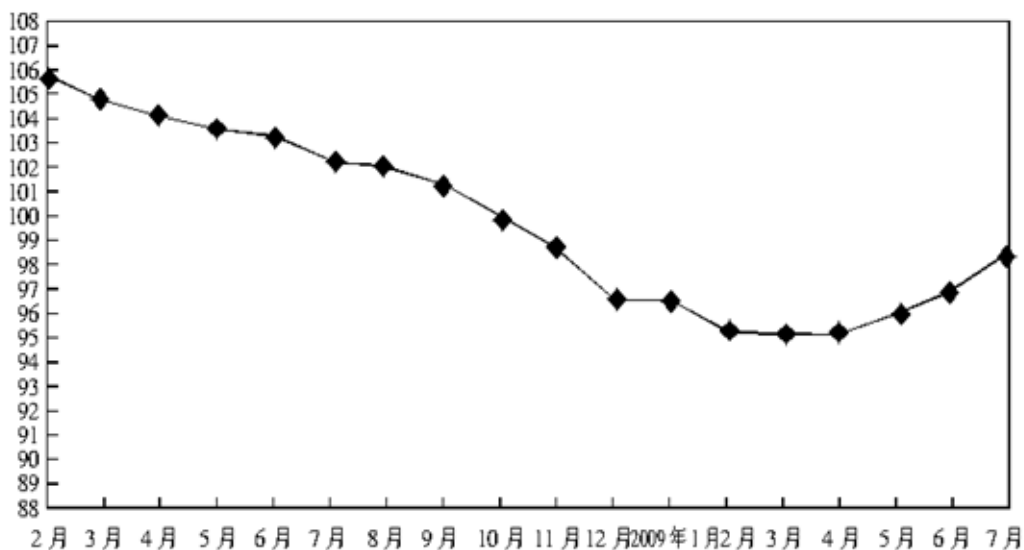
分类型看，与上年同月相比，经济适用房销售价格上涨0.5%；商品住宅销售价格上涨0.3%，其中普通商品住宅销售价格上涨0.9%，高档住宅销售价格下降1.7%。与上月相比，经济适用房销售价格上涨0.1%；商品住宅销售价格上涨1.2%，其中普通商品住宅销售价格、高档住宅销售价格均上涨1.2%。

分地区看，与上年同月相比，新建住宅销售价格上涨的城市有43个，其中涨幅最大的5个城市是：宁波6.4%、银川5.4%、锦州5.2%、金华4.9%、西宁4.5%；价格下降的城市有26个，其中降幅最大的5个城市是：石家庄下降5.5%、徐州下降5.2%、深圳下降4.6%、桂林下降4.4%、丹东下降4.0%。

全国房地产开发景气指数

7月份，全国房地产开发景气指数（简称“国房景气指数”）为98.01，比6月份提高1.46点。

全国房地产开发景气指数趋势图



91. 2008年1-7月全国完成房地产开发投资约为：

- A. 15878亿元 B. 18720亿元 C. 17720亿元 D. 19720亿元

92. 下列说法正确的是：

- A. 2009年1-7月全国完成房地产开发投资与上一年同期相比下降了11.6%
 B. 2009年1-7月全国完成房地产开发投资与上一年同期相比下降了19.3%
 C. 2009年1-7月全国完成房地产开发投资与上一年同期相比增长了11.6%
 D. 2009年1-7月全国房地产开发企业房屋施工面积与上一年同期相比下降了12.5%

93. 2009年1-7月，房地产开发企业本年资金来源于国内贷款的比重约为：

- A. 11.91% B. 30.89% C. 50.66% D. 22.78%

94. 2009年7月份70个大中城市房屋销售价格与上一年同期的上涨比例最高的类型是：

- A. 经济适用房销售价格 B. 商品住宅销售价格
 C. 普通商品住宅销售价格 D. 高档住宅销售价格

95. 关于全国房地产开发景气指数说法正确的是：

- A. 2008年2月到2009年7月全国房地产开发景气指数持续下降
 B. 2008年2月到2009年2月全国房地产开发景气指数持续下降
 C. 2008年12月到2009年7月全国房地产开发景气指数持续下降
 D. 2008年7月到2009年6月全国房地产开发景气指数持续下降

2009年1-10月份，全国城镇固定资产投资88953亿元，同比增长26.9%。其中，国有及国有控股完成投资38800亿，

增长16.6%，房地产开发完成投资19192亿元，增长31.4%。从项目隶属关系看，中央项目投资8830亿，同比增长13.8%，地方项目投资80123亿，增长28.6%。从产业看，第一、二、三产业分别完成投资1070亿、39048亿和48835亿，同比增长39.9%、29.6%和24.7%。

从行业看，煤炭开采及洗选业投资1258亿元，同比增长24.2%；石油和天然气开采业投资1440亿元，增长12.3%；非金属矿制品业投资2159亿元，增长53.5%；黑色金属矿冶炼及压延加工业投资1982亿元，增长14.5%；有色金属矿冶炼及压延加工业投资983亿元，增长33.4%；电力、热力的生产与供应业投资6017亿元，增长9.4%；铁路运输业投资1590亿元，增长7.9%。

从注册类型看，内资企业投资78995亿元，同比增长27.2%；港澳台商投资和外商投资分别完成4210亿元和5254亿元，分别增长30.7%和19.2%。

从到位资金情况看，城镇投资到位资金100141亿元，同比增长28.9%。其中，国内贷款增长14.3%，利用外资增长17.5%，自筹资金增长32.7%。

96. 从行业看，我国城镇固定资产投资增长速度最快的是：

- A. 自筹资金 B. 地方项目投资 C. 非金属矿制品业投资 D. 第一产业投资

97. 从注册类型看，2009年1-10月我国城镇固定资产投资中占主导地位的是：

- A. 地方项目投资 B. 电力、热力的生产与供应业投资
C. 内资企业 D. 港澳台商投资

98. 2009年1—10月，中央项目投资占城镇固定资产投资的比重是：

- A. 9.93% B. 90.07% C. 26.9% D. 31.4%

99. 下列说法正确的是：

- A. 第二产业完成投资多于第三产业
B. 内资企业投资同比增长速度比港澳台商投资增长速度快
C. 全国城镇固定资产投资中，国有及国有控股完成投资占了一半
D. 全国城镇固定资产投资中，地方项目投资具有举足轻重的作用

100. 全国城镇固定资产投资从项目隶属关系看可以有：

- A. 利用外资和自筹资金 B. 中央项目投资和地方项目投资
C. 内资企业和外商企业 D. 固有完成投资 and 房地产开发完成投资

扫一扫，对答案

