

2012年吉林省公务员录用考试《行测》真题（乙级-考生回忆版）

更新时间：2024年12月09日15:14:33

扫描下方二维码下载星光公考APP 刷海量题库掌握最新热点



QQ扫码直接下载
微信扫码到应用市场下载
支持所有机型哦

第一部分 - 数量关系

在这部分试题中，每道试题呈现一段表述数字关系的文字，要求你迅速、准确地计算出答案。你可以在草稿纸上运算。

1. $\frac{1}{2}, \frac{4}{3}, \frac{9}{5}, 2, (\quad)$

【2012-吉林乙级-001】

A. $\frac{21}{11}$

B. $\frac{25}{13}$

C. $\frac{25}{9}$

D. $\frac{13}{12}$

2. -1, 6, 25, 62, ()

A. 123

B. 87

C. 150

D. 109

3. 0.5, 1.5, 7.5, 52.5, ()

A. 415.5

B. 472.5

C. 387.5

D. 315.5

4. $\frac{5}{6}, \frac{6}{11}, \frac{11}{17}, \frac{17}{28}, (\quad)$

【2012-吉林乙级-004】

A. 28/42

B. 28/45

C. 28/44

D. 28/43

5. $\sqrt{3}, \sqrt{11}, 5, 3\sqrt{5}, (\quad)$

【2012-吉林乙级-005】

A. $\sqrt{65}$

B. $\sqrt{71}$

C. $\sqrt{103}$

D. $\sqrt{141}$

6. 出租车司机李师傅有午睡的习惯，一天，他睡午觉醒来，发现手机没电，手表停了，于是他只能打开收音机等待交通电台整点报时，如果他等待报时时间不超过15分钟，则这种可能性的大小为：

A. $\frac{1}{2}$

B. $\frac{1}{4}$

C. $\frac{1}{3}$

D. $\frac{1}{6}$

7. 某军训部队到打靶场进行射击训练，队员甲每次射击的命中率为50%，队员乙每次射击的命中率为80%，教练

规定今天的训练规则是，每个队员射击直到击中一靶一次则停止射击，则队员甲今天平均射击次数为：

- A. 2次 B. 1.25次 C. 2.5次 D. 1.5次

8. 为迎接校运动会，学生会决定将制作160把折扇的任务平均分给甲乙两个社团，由于乙社团另有任务，所以甲社团开始工作3小时后，乙社团才开始工作，因此比甲社团推迟20分钟完成任务。已知，乙社团每小时制作折扇个数是甲社团的三倍，则乙社团每小时制作多少个：

- A. 45 B. 75 C. 60 D. 90

9. 从分别写有数字1、2、3、4、5的5张卡片中，任取两张，把第一张卡片上的数字作为十位数，第二张卡片上的数字作为个位数，组成一个两位数，则组成的数是偶数的概率为：

- A. $\frac{1}{5}$
B. $\frac{3}{10}$
C. $\frac{2}{5}$
D. $\frac{1}{2}$

10. 甲乙两个工程队修一条公路，甲工程队修了500米以后，乙工程队来修，以往资料显示，乙工程队的效率是甲工程队的2倍，乙工程队修600米公路所用的时间比甲工程队修500米公路时间还少20天，甲工程队效率是多少米/天：

- A. 25 B. 15 C. 20 D. 10

第二部分 - 言语理解与表达

本部分包括表达与理解两方面的内容。请根据题目要求，在四个选项中选出一个最恰当的答案。

11. 用人单位的“道德荒”让员工逐渐觉醒，导致所谓的“用工荒”。企业如果不明白这个道理，不从检点自己开始，“用工荒”现象只会_____，而不会_____。

填入横线上的词语，恰当的一项是：

- A. 加大 减小 B. 普及 减少 C. 提高 降低 D. 加剧 减弱

12. 环保局与污染企业应是一种“猫和老鼠”的关系，但是现在环保局“失节”，委身于污染企业，甘当污染企业的_____。

填入横线上的词语，恰当的一项是：

- A. 护身符 B. 保护伞 C. 挡箭牌 D. 和事佬

13. 大批博士涌入公务员队伍，或可改变一下地方的政治生态，使得其他官员一个时期、一定程度上对知识和科技存有一些敬畏，兴起学习之风，避免一些_____的官场沉疴。

填入横线上的成语，恰当的一项是：

- A. 本本主义 B. 沾沾自喜 C. 官官相护 D. 陈陈相因

14. 2012年诺贝尔文学奖10月11日揭晓，_____文坛的中国作家莫言获奖，他成为首位获得诺贝尔文学奖的中国籍作家，一时间，他的作品_____，网上书城的存货被一扫而空，对于因得奖而引发的抢购阅读热潮，莫言很_____，他说：“我不希望出现所谓的‘莫言热’，即便有，也希望能在很短的时间冷却下去，大家该干嘛就干嘛。”

填在横线上的词语，恰当的一项是：

- A. 闻名 风靡全国 不以为然 B. 蜚声 洛阳纸贵 不以为意

C. 蜚声 倾囊而出 兴味索然 D. 闻名 如数家珍 从容不迫

15. ①党的十八大对党和国家各项事业做出了全面的_____。

②“元芳，你怎么看？”以250万讨论量_____微博话题榜首，也有人说它体现了广大网民表达_____，寻求民意共鸣的愿望。

填入横线上的词语，恰当的一项是：

- A. 部署 雄踞 愿望 B. 布置 占据 要求
C. 规划 领先 愿景 D. 部署 雄踞 诉求

16. 计算机时代，字库就在我们每个人手边，当我们在电脑上用文字处理软件打出一篇文章，想要给它换上一种好看的字体时，我们其实就已经在与字库打交道了。但很多人并不知道，目前我国汉字字库仅421款字体，而比邻的日本，汉字字库则多达2973款。

这段文字的主旨是：

- A. 我国汉字字库数量不及日本 B. 我国汉字的字体不及日本
C. 计算机时代，字库是文字处理的必需品 D. 我国汉字字库的字体不够多

17. 个国家的历史上，一直缺乏对个体的足够尊重。（A）自春秋至今代中国，尊严一词多与“权力”相关。但在现代，尊严一词更多地与“权利”相关，简而言之，尊严就是独立个体的权力被尊重。中国古代等级秩序森严，个人本位缺失，权力意志匮乏等一系列因素，造成国人个体很难有真正意义上的被尊重。（B）而到了现代中国，在“全国一盘棋”年代，个体被诠释为“一枚螺丝钉”，“祖国需要到哪里去就到哪里去”。（C）时至今日，仍有人认为个体对于国家而言不过是“蝼蚁”。（D）可见要让中国人有尊严地活着，还有很长的路要走。“个体的选择与感受完全被忽视，更别提个体被尊重甚至幸福感了。”一句是从文中抽离的，他最恰当的位置是：

- A. （A） B. （B） C. （C） D. （D）

18. 中央党校政法教研部教授林喆称，微博问政也存在无序发展的问题，认为群众通过个人微博举报一方面容易打草惊蛇，另一方面也给自己的人身安全带来一些问题，林教授说，我还是赞同公众通过正常渠道反应官员腐败问题，对林教授的观点理解正确的是：

- A. 微博反腐因网络暴力而失序 B. 微博不是反腐的首选途径
C. 微博反腐弊大于利 D. 微博反腐安全成本高

19. 香港大学近年在内地招生的面试题目为：你对现今高房价有什么看法？怎样看待中医和西医？星巴克进中国会带来什么影响？你怎样看待器官捐赠？如何引导国人接受器官捐赠？甲型流感爆发，不少香港孩子们停课回家，但他们的家长却认为要上班不能照顾他们，是否应该出台相应法律政策保障孩子的利益？

对面试内容理解不正确的是：

- A. 贴近百姓生活，关注社会热点 B. 引领价值取向，彰显人文关怀
C. 敲响教育警钟，引发独立思考 D. 视野宽阔无边，答案丰富多彩

20. 2012年全国第二季度GDP较上年同期增长7.6%，创下2009年第一季度以来的最低水平。中国宏观经济已持续性加速回落，为此，我国应加快转型步伐，结构性减税势在必行。面对外需疲软和内需不济，居民收入分配改革和打破垄断对于稳增长而言迫在眉睫。减少一点国家税收和企业利润，提高居民收入来增加消费将是长远动力。

对这段文字主要观点的提炼，最恰当的一项是：

- A. 减税增收是长远动力 B. 分配制度改革迫在眉睫
C. 打破垄断减少企业利润 D. 结构性减税势在必行

21. 过去的5年，全国贫困人口从6431万减少到2688万人，但我国贫困标准一向比国际标准低，如果贫困标准上调到年人均纯收入1500元，贫困人口总数将增多，可能再回到9000多万甚至上亿，这段文字意在说明：

- A. 我国的扶贫需要向国际标准看齐
B. 过去5年扶贫成绩斐然
C. 我们的扶贫任务仍然艰巨
D. 我国贫困人口增近1亿

22. 公车改革的漏洞是一面镜子，它寓示着，只有让所有公共治理的漏洞都充分聚焦民意，社会才能进步，现在，公车改革新政遭遇质疑，让那些可能被权利钻空子的漏洞被及时曝光，尽管会让人看到改革滞重难行的一面，但我们更应该感受到民意洪流无法阻挡。每一项制度改革的漏洞，如果都能有民意与权力进行深度博弈，社会就一定能够渐渐步入民主与法治的轨道，一路畅行。

对这段材料的关键词提炼准确的是：

- A. 公车改革 民意 权力 博弈
B. 制度改革 轨道 权力 畅行
C. 漏洞 民意 权力 博弈
D. 公共治理 轨道 权利 畅行

23. 科学家试图寻找从极狭窄区域中释放出的强大电波，每次探测的时间约需200-400天，所获得的观察资料十分庞大。经过筛选，才获得了37个讯号，其中有5个讯号特别强烈。这些讯号大多数是沿着银河系分布的，在银河系内有着大量的恒星，是智慧生命可能存在的地方。然而，至今还未发现具有已接收讯号特征的电波源，这37个讯号果真是外星人发出的吗？

这段文字划线部分的意思是：

- A. 不知道已接收到的讯号有没有电波源
B. 不确定电波发出的源头已经接收到了讯号
C. 已经接收到讯号，但不能确定其电波源
D. 已经收到讯号，但没有发现电波源的特征

24. 因为我喜欢说话，喜欢说真话，给家里带来了很多的麻烦。所以写小说准备发表时，使用的笔名叫“莫言”，可事实证明，我一句话也没有少说，而且经常在一些特别庄严的场合说出实话来，我觉得讲真话毫无疑问是一个作家宝贵的素质……好的文学作品肯定有一个真实的东西在里边，尤其是真实的反映下层人民生活面貌，我觉得文学艺术就是应该暴露黑暗，揭示社会的不公正，也包括揭示人类心灵深处的阴暗面，揭示人性中恶的部分。在日常生活中，我可以是孙子，是懦夫，是可怜虫，但在写小说时，我是贼胆包天，色胆包天，狗胆包天。对莫言的观点理解不正确的是：

- A. 作家搞创作应该揭示生活本质，因为讲真话是一个作家宝贵的素质
B. 日常生活中不一定保持本色，但写小说时必须勇于突破，胆大包天
C. 文学艺术就是应该展现本我，暴露黑暗与社会不公正，揭示人性的恶
D. 文学作品应保有生活的本我，真实地反映下层人民群众的生活面貌

25. 地球上生命的历史也就是生物与它们的环境相互作用的历史。动植物的形体和习性在很大程度上是由环境造成的，而反向作用，即生物对其所在环境的实际影响则相对较小。只有到了20世纪，作为物种之一的人类才获得了足够的力量，有效地改变了它所在的世界——大自然。

对“足够的力量”的理解恰当的一项是：

- A. 人类20世纪所取得的足以改变自然环境的力量
B. 地球上的生物施加给自然环境的反向作用力
C. 环境对地球上生物的作用和地球上生物对环境的反作用
D. 人类所获得的空前的改变社会环境的力量

26. 在教学活动中，教师起什么作用？叶圣陶先生的看法是“各种学科的教学都一样，无非是教师帮着学生学习的一串过程”，换句话说，就是“教”学生“学”，在这个问题上，叶圣陶先生有一句精辟的话，现在已经众口传诵，那就是：“教是为了不教”。

根据文意进行推断，下面属于“不教”的一项是：

- A. 教师之教，不在全盘授予，而在相机诱导
B. 启发学生的能动性，引导他们尽可能的自己去探索
C. 令学生运其才智，勤其练习
D. 学习自主研修，自求解决

27. 一时期的风气经过长时期而能保持，没有根本的变动，那就是传统。传统有惰性，不肯变，而事物的演化又使它

不得不变，因此规律、习惯不断地相机破例，实际上作出种种妥协，来迁就事物的演变。“相机破例”在文段中的意思是：

- A. 把握时机，委曲求全 B. 等待时机，破除习惯 C. 顺应形势，改变常规 D. 因势利导，不拘一格

28. 从21世纪初，提出中国总体上实现小康开始，到十六大，十七大，提出全面建设小康社会的奋斗目标，再到十八大明确提出“确保到2020年全面建成小康社会”“实现国内生产总值和城乡居民人均收入比2010年翻一番”——小康目标的不断调整，既是一个渐进、深化的过程，也折射出中国社会发生的深刻变化。从现在开始计时，到2020年还有不到8年的时间，8年的时间看起来很长，但要想到中国面临的任务和困难，其实很短。

对文段的理解有误的一项是：

- A. 我国全面建设小康社会的目标越来越具体
B. 8年时间其实很短，我们要有“时不我待”的紧迫感，更要有“责无旁贷”的使命感
C. 最后一句说明我们的改革还面临“知易行难”的问题
D. “是一个渐进、深化的过程”要求我们确定改革的规划和时间表

29. 这十年的光景里，我们充分感受了一个巨人前行的力量，也深刻体验了古老中国转型的艰辛，对异国人士来说，也许更加关注已经积蓄了相当力量的中国将来如何运用这种力量，而中国人自己，则可能对政治经济社会的转型前景尤为关切。十八大必将对这种关注和关切给出及时的回应。

依据文意，十八大必将作出回应的是：

- A. 未来中国的发展道路与方向 B. 中国将如何运用积蓄已久的力量
C. 政治经济社会的转型前景如何 D. 前行的力量与转型的艰辛

30. 《你幸福吗？》在《新闻联播》连续播出了8天，引起网络热议，以“你幸福吗”为关键词的搜索，也有超过5600万的词条，而最开始爆红的无疑是那位回答“我姓曾”的大爷，很难想象，这样的“雷人回答”在以前的央视能否播出。

对这段信息的提炼不恰当的是：

- A. 这档节目颠覆了许多人心目中对央视的传统印象
B. 央视新闻与普通人之问的语境存在巨大差别
C. 《新闻联播》每一次细小的改变都会引发舆论的关注
D. 央视新闻开始将麦克风交给普通人，倾听他们的声音

31. 我们的文化历来提倡“和实生物，同则不继”，我们发展文化影响力，寻求的并非中国文化的单边统治，而是世界文化的多元共生，在一个多元的交响乐里，中国文化作为世界文化很重要的一个声部，参与其中，共同解决世界难题，开创一种新的精神世界。根据文段判断，中国要在世界范围发挥文化影响力，最该提倡的做法是：

- A. 在纽约时代广场放一部广告，或者在海外搞一场很精彩的演出或展览
B. 以思想统一为目的、覆盖或同化他国思想，广建孔子学院，弘扬中华文化
C. 发育中国文化根苗，向世界贡献新的思想，同他国一起解决人类共同的难题
D. 接受西方思想，拿来外国做法，完善、改造和发展世界文化

32. 传统的“穿越”，对象是空间，如“穿越边境”“穿越沙漠”；现在大多的“穿越”，则是“穿越时空”的简称，是文艺作品中一种展开情节的流行手段。穿越电影、穿越电视剧、穿越小说等共同的特点，是人物会不断地往来于不同的时空。这种时空的乱容易造成受众的费解或误解，于是，“穿越”又有了“玄”“乱”“令人莫名其妙”等意思。

该内容主要说明：

- A. “穿越”一词被赋予了新含义，有了“玄、乱”等意思

- B. “穿越”成为文艺创作中一种展开情节的流行说法
C. 因时空的错乱，“穿越”作品容易给受众造成误读
D. “穿越”作品中的人物可以自由地往来于各个时空

33. 英国著名学术刊物《自然》6日发布声明，就其网站刊载的一篇将中国游泳运动员叶诗文和兴奋剂联系在一起的文章道歉。这篇文章认为叶诗文夺得伦敦奥运会女子400米个人混合泳金牌的卓越表现是“异常”的，即使当前的药检结果清白，也不能完全排除服用兴奋剂的可能，道歉声明中提到：“我们注意到相关讨论中指出的一些错误，以及相关统计中缺乏更多的细节，造成了我们支持指责叶诗文的印象，而需要强调的是_____。”

填入横线的语句与上文衔接最顺畅的一句是：

- A. 我们对此表示遗憾 B. 这不是我们的意图 C. 我们向叶诗文道歉 D. 这确实是一个问题

34. 钓鱼岛在日本染指之前并非“无主地”，中国早在明朝就发现和命名了钓鱼岛。发现意味着先占，先占即取得领土主权，这就是国际法则的“先占”原则。专家查阅相关资料发现，明朝已经将钓鱼岛纳入国家版图，一些使臣的笔记里还标明了中国渔船在钓鱼岛周转海域的航线。明朝以后的历代政府更是采取了开发、利用、管辖和保卫等措施，对钓鱼岛行使主权以有效统治。

对论据材料的提炼，不准确的一项是：

- A. 依从国际法则的“先占”原则 B. 资料显示明朝已将钓鱼岛纳入国家版图
C. 使臣笔记标明了钓鱼岛周转海域的航线 D. 明以后历代政府已对钓鱼岛行使主权

35. 形成思维惰性的心理因素有三个，一是因循守旧。当普朗克实际上已经冲破经典物理学框框，提出量子假说，向着微观世界迈步时，他却“作茧自缚”，仍然抱着传统的观念不放，力图把自己的新理论纳入经典物理学的轨道，结果徒劳无益。二是迷信权威。伽利略发现的“摆动定律”和“落体定律”，所以遭到那么多人的讥笑和反对，就是因为他推翻了被奉为权威的亚里斯多德的“摆幅短，需时少”和“重者下落快、轻者下落慢”的错误观点。三是怕犯错误。德国化学家维勒在从无机原料合成有机尿素后，却在有机化学面前却步了。其原因，在他给老师的信里说得很清楚：有机化学就像是一片“原始热带森林”，是“一片狰狞的、无边无际的、使人没法逃得出来的丛莽，也使人非常害怕走进去”。

下列评价分析不符合原文意思的一项是：

- A. 作者精辟地指出了人类思维惰性的三个心理因素
B. 文段引用名人事例，内容详实，深入浅出，却又无堆砌之感
C. 作者倡导打破传统和权威的思维桎梏，大胆进行创新思维
D. 思维惰性是因为人脑有一种依据传统观念作判断的强烈倾向

36. 上世纪70年代末，中国实行严厉的计划生育政策，每对夫妻只能生育一个孩子。计划生育有效控制了人口，但“天有不测风云，人有旦夕祸福”，计划生育也使得独生子女家庭面临更大的风险。投资者强调不能把所有鸡蛋放在一个篮子里，独生子女家庭却只能把鸡蛋放在一个篮子里，因为就算有更多的篮子，鸡蛋却只有一个，无论放在哪只篮子里，摔了也就没有了。

这段文字要说明的是：

- A. 我国实行计划生育政策的起始时间 B. 计划生育政策有风险
C. 天有不测风云，人有旦夕祸福 D. 计划生育给独生子女家庭带来高风险

37. 自去年下半年以来，中央各部门相继公开本部门三公经费年底预算和决算，地方和政府也纷纷跟进，但综观各部门和各地公开的数据，基本都是粗线条，例如一年中公款吃喝了多少钱、公车消费了多少钱、因公出国考察花了多少钱，包括这些钱是怎么花掉的，花的是否合理，公众一概不解。

这段话要说明的是：


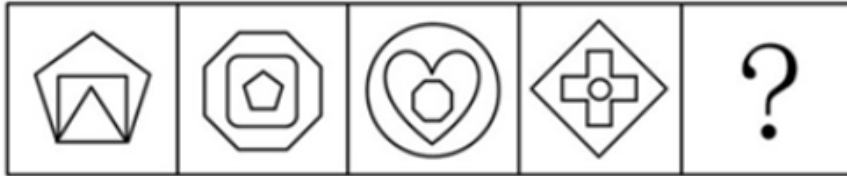
- A. 三公经费支出应有民众监督 B. 三公经费应更详细、更全面地公开
C. 三公经费公开以自上而下陆续展开 D. 三公经费支出应有详细的账目



A B C D

- A. 如图所示 B. 如图所示 C. 如图所示 D. 如图所示

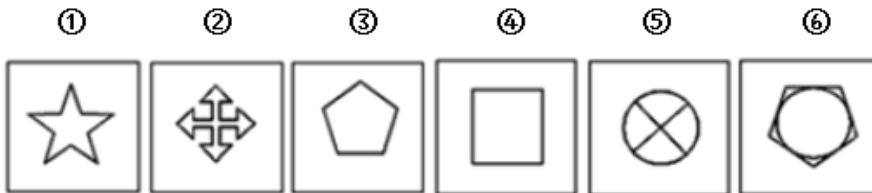
43. 从所给的四个选项中，选择最合适的一个填入问号处，使之呈现一定的规律性：【2012吉林乙级043】



A B C D


- A. 如图所示 B. 如图所示 C. 如图所示 D. 如图所示

44. 把下面的六个图形分为两类，使每一类图形都有各自的共同特征或规律，分类正确的一项是：【2012吉林乙级044】



- A. ①②⑤, ③④⑥ B. ①③⑥, ②④⑤ C. ①④⑤, ②③⑥ D. ①⑤⑥, ②③④

45. 从所给的四个选项中，选择最合适的一个填入问号处，使之呈现一定的规律性：【2012吉林乙级045】



- A. 如图所示 B. 如图所示 C. 如图所示 D. 如图所示

46. (1) 旅游井喷

(2) 黄金周长假

(3) 完善服务

(4) 管理失位

(5) 景点拥堵

- A. 5-1-4-2-3 B. 2-1-4-5-3 C. 2-5-1-3-4 D. 3-2-4-5-1

47. (1) 防灾重建

(2) 交通阻塞

(3) 暴雨袭城

(4) 八方救援

(5) 道路积水

- A. 3-1-4-5-2 B. 3-5-2-4-1 C. 3-1-4-2-5 D. 3-2-4-5-1

48. (1) 确定十八大代表候选人预备人选

(2) 对十八大代表初步人选实行差额考察

(3) 各选举单位召开全委会投票

(4) 对不符合十八大代表条件的人选及时调整

(5) 十八大代表候选人初步人员公示

- A. 2-4-5-3-1 B. 2-4-5-1-3 C. 1-3-4-5-2 D. 2-3-4-1-5

49. (1) 农业粗放经营

(2) 现代农业步伐加快

(3) 资源环境约束

(4) 农业增长方式转变

(5) 科技创新驱动

- A. 5-1-4-3-2 B. 1-3-5-4-2 C. 2-4-5-1-3 D. 1-5-4-3-2

50. (1) 打造自主品牌

(2) 构建产业标准体系

(3) 加强认证推广监督

(4) 实现产品质量标准化

本试卷由星光公考提供

(5) 完善技术检测平台

A. 2-3-1-5-4

B. 2-3-4-1-5

C. 1-3-2-5-4

D. 1-2-3-4-5

51. 内部行政行为是指行政机关作用于行政系统内部或者本行政机关内部行政行为，不属于人民法院行政诉讼的受案范围。行政机关工作人员对这类决定不服产生的争议应该向该行政机关或者其上一级机关或监察人事机关提出处理。

根据上述定义，下列各项中属于内部行政行为的是：

- A. 某高校与食堂员工签订合同，并对工作不合格的员工做出解除劳动关系的决定
- B. 某地人民政府为满足工作需要购进一批电脑，电脑安装后发现存在严重的质量问题，该政府决定向销售商追究其责任
- C. 某市人民政府发布教育发展纲要，要求有关部门加大对中小学服务的教育投入，并加强对中小学的服务力度
- D. 某地中小企业局将当地中小企业的信息网络化，将中小企业的发展需要公布在网上便于随时解决问题

52. 社会调整就是通过一定的社会权威，确定社会生活主体的行为方式，指明其发挥作用和发展的方向，有目的地将其纳入一定的秩序之中。社会调整根据其作用于人们行为的方式，和人们服从它的原因，可分为内在调整和外在调整。内在调整是人们学习一定社会群体的行为规定，外在调整则是通过外部压力使人们遵守一定社会规范的过程。

根据上述定义，下列各项中属于内在调整的是：

- A. 社会舆论的监督也是实现领导干部廉洁自律的途径之一
- B. 在警方新一轮的整肃之下，社会秩序明显好转
- C. 3岁的小明在父母的教育下，知道过马路要走斑马线
- D. 改革开放以来，国家高度重视并奖励科研，高水平的成果层出不穷

53. 思维内容障碍是指妄想思维内容没有或缺乏事实根据，难以动摇，与病人的社会地位和文体水平不相称的病理信念，就是所谓妄想。妄想是精神病确定无疑的征象。

根据上述定义，下列不属于思维内容障碍的是：

- A. 罪恶妄想
- B. 思维散漫
- C. 被洞悉感
- D. 被控制感

54. 社会学里把角色分为两种：先赋角色和自致角色。所谓先赋角色，也称归属角色，指建立在血缘遗传等先天或生理的因素基础上的社会角色。所谓自致角色，也叫获得角色或成就角色，指主要通过个人的活动与努力而获得的社会角色。自致角色的取得是个人活动的结果。

根据上述定义，下列情形属于自致角色的是：

- A. 某国推行国野制，把除贵族外的人民分成国人和野人，所谓野人就是国人的共用奴隶，他们没有参政权，不能进城市居住，为贵族和国人务农服务
- B. 在清朝，满清的某些八旗子弟们整日托着个鸟笼子，迈着方步在大街上溜达，不事农耕，四体不勤，五谷不分，却按月拿俸银，过着花天酒地的富足生活
- C. 奥巴马在白人主宰的世界当选美国总统，成为美国历史上第一位黑人总统
- D. 生下来的是个男孩，就决定了他是儿子，长大结婚就是丈夫，有了孩子就是父亲，有了孙子就是爷爷

55. 负强化也称阴性强化，就是对于符合组织目标的行为，撤销或减弱原来存在的消极刺激或者条件以使这些行为发生的频率提高。

根据上述定义，下列各项中属于负强化的是：

- A. 妈妈提出如果小明成绩有进步，就免去他每周末洗碗的任务
- B. 某部门经理通过发奖金的方法激励员工的工作士气
- C. 公司规定，如果在年底的业绩考核中排名末位就要被淘汰
- D. 车间的生产效率稳步提升，工厂提出以后不再给予生产效率奖

56. 某市公安机关为了人民生命财产安全，减少环境污染，发布了禁止出售烟花爆竹禁令，今年该市没有市民被

烟花爆竹炸伤，这说明，禁令得到了有效实施。

以下哪项如果为真，最能质疑上述论证（ ）。

- A. 该市消防部门出警次数比往年多
- B. 市民看到有人燃放烟花爆竹
- C. 警方收到有人家中堆放大量烟花爆竹的举报
- D. 警方捣毁了几个生产烟花爆竹的窝点

57. 有人发现了外星人造访地球。以上断定为真，则以下哪项一定为真：

- A. 外星人根本不存在
- B. 外星人只要造访地球就会留下痕迹
- C. 科学家研究发现：地球不适应外星人生存
- D. 外星人有星际旅行探索习惯

58. 国防力量是一国综合国力的一个重要因素。一国的军事实力越强，就越不会遭到其他国家的侵犯。由此可见：

- A. 国防力量强的国家其综合国力必然也很强
- B. 要提高综合国力必须重视国防力量的建设
- C. 军事力量强的国家喜欢侵略别国
- D. 国防建设是国家建设的主要方向

59. 教授：在长子继承权的原则下，男人的第一个妻子生下的第一个男性婴儿总是首先有继承家庭财产的权利。

学生：那不正确。休斯敦夫人是其父惟一妻子的惟一活着的孩子，她继承了他的所有遗产。

学生误解了教授的意思，他理解为：

- A. 男人可以是孩子的父亲
- B. 女儿不能算第一个出生的孩子
- C. 只有儿子才能继承财产
- D. 私生子女不能继承财产

60. 一般认为，男人和女人相比，忍耐能力较差。最近的一项调查显示男人和女人在对待加班态度上没有明显差异。因此，认为男人比女人忍耐力差的观点是站不住脚的。

以下哪项如果为真，最能削弱上述论证：

- A. 加班只是延长了工作时间
- B. 加班有加班费，不管男人女人都乐意通过加班增加收入
- C. 男人比女人加班机会多
- D. 女人因为家庭负担重，更不愿意加班

61. 可能所有报考文秘专业的考生都想从事秘书工作。

以下哪项断定的含义与上述断定最为一致：

- A. 可能有的报考文秘专业的考生不想从事秘书工作
- B. 可能有的报考文秘专业的考生想从事秘书工作
- C. 必然所有的报考文秘专业的考生都不想从事秘书工作
- D. 必然有的报考文秘专业的考生不想从事秘书工作

62. 随着健康出行现今日渐受宠，以探险为主题的户外运动，拥有了越来越多的粉丝。近日一项对2011年度户外安全事故原因的调查显示，迷路是户外安全事故的首要原因，其中迷失方向121起，找不到出去路线32起，体力不支被困13起。因此，专家建议要防止迷路，首先要看攻略，熟悉路线，不能盲目追求美景而忽视了最基本的人身安全。

下列哪项为真，对上述统计结果质疑力度最弱：

- A. 2011年度因“旅游”主观疏忽大意的户外安全事故170起
- B. 因缺少专业领队而发生的户外安全事故逐渐增多
- C. 2011年度共发生安全事故401起
- D. 2011年度因户外装备欠缺而发生的事故超166起

63. 有研究人员指出，自工业革命以来，人类活动的能力和范围都显著增加。与此同时，海洋的pH值，却在逐渐下降。因此人类活动与海洋的变化之间具有因果关系，这将给海洋生态系统造成不可逆转的损害。但是，反对者认为，大气中本身含有的二氧化碳才是导致海洋酸化的罪魁祸首。如果没有海洋吸收二氧化碳，大气中的二氧化碳将远高于当前水平，全球变暖的影响将更加严重。

以下哪项如果为真，最能削弱反对者的观点：

- A. 据统计，工业革命以来大气中的二氧化碳含量明显增加
- B. 工业革命以前的人类活动并没有导致海洋酸化
- C. 二氧化碳不会全部被海洋吸收，有相当一部分残留在大气中
- D. 到2100年海水酸度将下降到7.8，那时海水酸度将比1800年高150%

64. 1980年美国人口普查结果显示，婚姻状况中分居(包括法律上的分居和两地分居)的女性比男性多100万，以下哪项有助于解释此结果：

- ①在美国婚龄女性比婚龄男性多
- ②人口普查漏掉的分居男性多于分居女性
- ③有更多的分居男性出国居住

- A. 只有① B. 只有② C. ②和③ D. ①和③

65. 真正高明的伪造家制造的钞票从不会被发现，所以一旦他的作品被认出是伪造的，则伪造者不是位高明的伪造者，真正的伪造家从不会被抓到。

下列哪种推理方式与这段话类似：

- A. 小张是一个玩魔术的专家，他的魔术总能掩人耳目，从未被揭穿，所以他是一个高明的魔术师。
- B. 小张是一个玩魔术的人，他的魔术一般不会被揭穿，偶尔有一两次被人揭穿，但这不妨碍他是一名优秀的魔术师。
- C. 小张是一个玩魔术的人，他的魔术一般不会被人看穿，偶尔有一两次被人看穿，说明他并不是一个高明的魔术师，因为高明的魔术师不会被人看穿。
- D. 小张的魔术很好，从不会被揭穿，所以他是个优秀的魔术师。

第四部分 - 常识判断

根据题目要求，在四个选项中选出一个最恰当的答案。

66. 子曰“政者正也”，国家公务员治事理政，贵在一个公字，难在一个公字。这包含两层意思：其一，心正则公，公则不为私利所惑，正则不为邪所媚。有公心在，则权色难侵。其二，其身正，不令而行；其身不正，虽令不从。

这说明国家公务员治事理政应具有：

- (1) 办事公道的职业道德
- (2) 爱岗敬业的职业道德
- (3) 坚持真理的职业道德
- (4) 无私奉献的职业道德

- A. (1) (3) B. (1) (2) C. (3) (4) D. (1) (4)

67. 曲艺作为中国最具民间色彩的表演艺术，其叙述故事，塑造人物，表达思想感情并反映社会生活的本质特点是：

- A. 以情节表现故事 B. 以口语说唱故事 C. 以肢体语言表演故事 D. 以歌舞演艺故事

68. 某县开展了一场政风行风“民评官”活动，来自全县民营企业、学校、农村、事业单位等各行各业的500多名代表聆听来自县公安、工商、税务、质监等11个执法部门主要负责人的述职报告，并进行满意度评价。“民评官”意味着：

- A. 人民群众可以更好地行使监督权
- B. 真正赋予人民群众选举权和被选举权
- C. 人民群众开始享有当家做主的权利
- D. 行政官员必须由民主选举产生

69. 某市在实施“暖房子”改造工程初期，部分居民因楼体改造对自家窗户、阳台甚至室内装修有影响，认为是形象工程，但在后期确实享受到了实惠，这段材料说明了：

- A. 政府决策与群众利益一致，就能得到群众认可
B. 只要政府决策正确，既应果断推行
C. 全民的认知水平有待提高
D. 政府应有全民意识，对于少数异议可不作理会
70. 一艘行驶在日本海域的美国货船上，有甲、乙两个中国人，发生争执，甲将乙捅死，依据我国《刑法》，该案件适用于哪国法律：
A. 中国法律
B. 美国法律
C. 日本法律
D. 既适用中国法律也适用日本法律
71. 某竹枝词写道：“自开海禁五洲通，水陆舟车急似风。百货遍流全世界，商场发达正无穷”。词中所述现象的历史背景是：
A. 汉代丝绸之路的开通
B. 清代实行一口通商
C. 近代通商口岸的开设
D. 轮船招商局的设立
72. 国王问：“我怎么才能治理国家，才能富国裕民呢？”首相回答：“阁下什么也别管，把一切都交给市场吧。”上述对话，符合谁的观点：
A. 亚当斯密
B. 马克思
C. 凯恩斯
D. 罗斯福
73. 十八大报告指出，建设中国特色社会主义总体在布局经济建设、政治建设、文化建设、社会建设、生态文明建设五位一体，这是中国特色社会主义事业总体布局的进一步完善，在社会主义现代文化建设的总体中，逐步达到社会和谐必须坚持：
A. 全面的观点
B. 能动的观点
C. 实践的观点
D. 前途光明的观点
74. 乘飞机时乘务员常会拿糖果给乘客吃，其主要目的是：
A. 缓解乘客在飞机起落时紧张情绪
B. 担心乘客血糖过低
C. 缓解耳气压变化带来的不适感
D. 一份小礼物
75. 度量衡是我国古代适用的计量单位，其中“衡”的标准是指：
A. 重量
B. 面积
C. 体积
D. 长度
76. 我国的京剧脸谱色彩含义丰富，红色一般表示忠勇侠义，白色一般表示阴险奸诈。而黑色一般表示的则是：
A. 忠耿正直
B. 刚愎自用
C. 大公无私
D. 凶暴残忍
77. “床前明月光”是李白的千古名句，其中“床”指的是：
A. 窗户
B. 卧具
C. 门
D. 井上的围栏
78. 当前，拥有私家车的人越来越多，我国正在迈向汽车社会。汽车社会的来临呼唤“汽车道德”——如自觉遵守交通规则、不闯红灯、不酒驾等。从唯物史观看，“汽车道德”的出现体现了：
A. 世界是不断变化发展的
B. 社会意识具有反作用
C. 社会意识具有相对独立性
D. 社会存在决定社会意识
79. 十八大报告提出，要建设学习型、服务型、创新型的马克思主义执政党，必须全面加强党的思想建设、组织建设、作风建设、制度建设和：
A. 反腐倡廉建设
B. 民主建设
C. 纪律建设
D. 文化建设
80. 人们常说：“无事不登三宝殿”。这里的“三宝”是指：
A. 佛法僧
B. 书剑琴
C. 纸砚笔
D. 金银玉
81. 下面诗句中反映古代选官制度的是：
A. 黄沙百战穿金甲，不破楼兰终不还
B. 春风得意马蹄疾，一日看尽长安花
C. 朱门沉沉按歌舞，厩马肥死弓断弦
D. 金多众中为上客，夜夜算缗眠独迟

82. 有人根据玛雅太阳历提出“2012世界末日说”。科学界多年的观测与研究表明：2012年可能大规模爆发耀斑，会影响地球通讯系统，但不会导致地球文明毁灭。下列说法正确的是：

- A. “世界末日说”对当代科学研究具有指导意义
- B. “世界末日说”缺乏科学依据，不是对客观存在的反映
- C. “世界末日说”与太阳耀斑爆发的内在关联，体现了联系的普遍性
- D. 科学界对太阳耀斑的爆发及其后果的预测，反映了联系的客观性

83. “你最痛苦的时候，窗外有小鸟在快乐地歌唱”，这句格言的寓意是：

- A. 学习小鸟快乐生活
- B. 人的尊严在于思想
- C. 世界的本质是客观的
- D. 思维是客观存在的反映

84. 人生在平淡中寻找幸福，在细微中品味幸福，在孤独中守望幸福，在遗忘中怀念幸福。幸福的生活需要哲学的指引，这是因为：

- A. 哲学可以解决一切问题
- B. 哲学是哲学家对自己实践活动的总结
- C. 真正的哲学就是生活本身
- D. 哲学为人们生活提供有益的指导

85. 近年来，各政府通过授权将职能转移给社会组织，对此以下表达不正确的是：

- A. 这表明政府部门向社会组织转移部分职能
- B. 表明政府向社会组织开放了更多的公共资源和领域
- C. 这表明政府将逐步退出对公共事务的管理
- D. 表明社会组织可以参与公共事务管理能力

第五部分 - 资料分析

针对下列图、表或文字回答问题。你应根据资料提供的信息进行分析、比较、计算、处理。你可以在题本上运算。

图1 人口及其自然增长率变化趋势

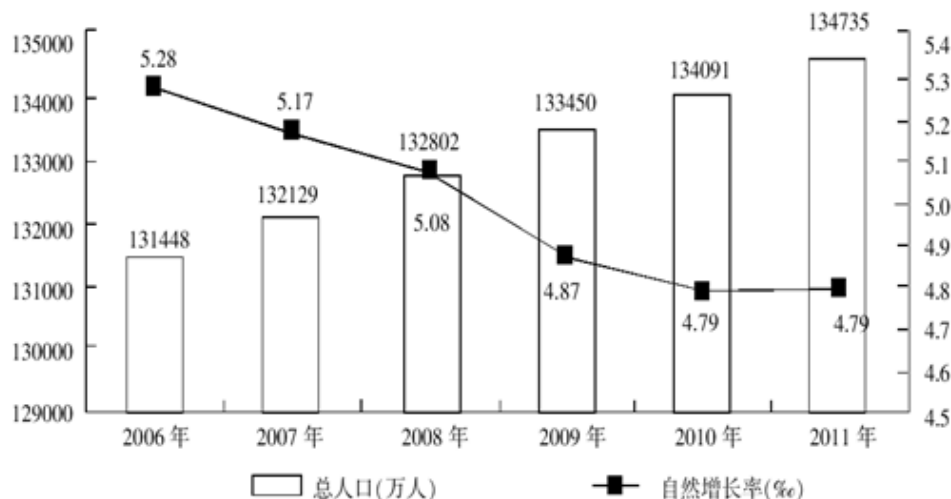


图2 2011年年末各年龄段人口比重（%）

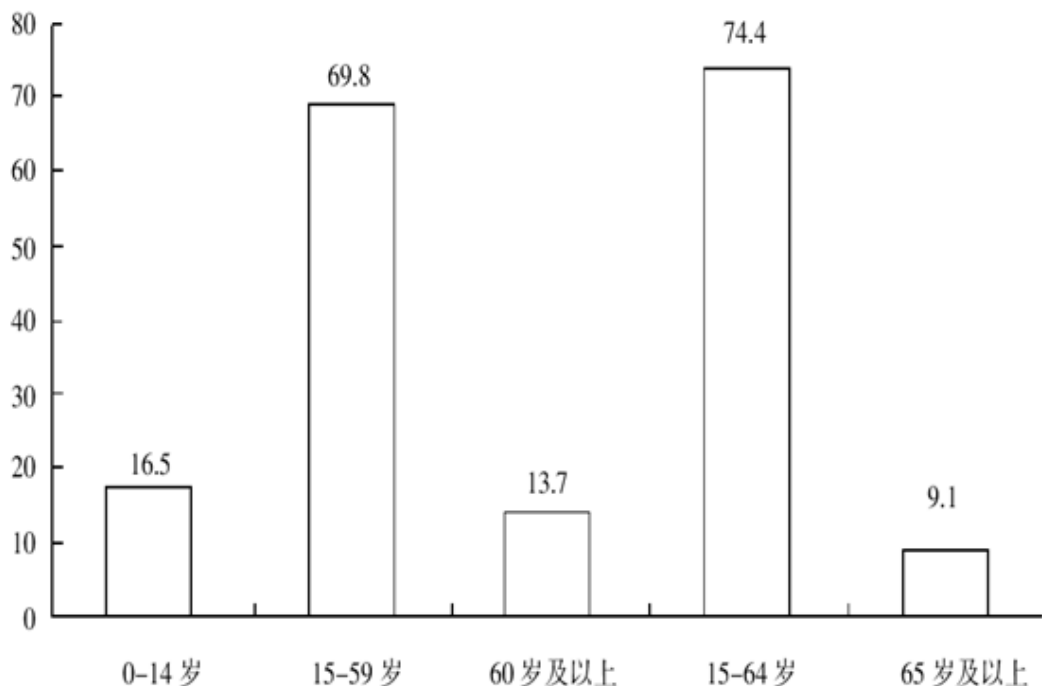
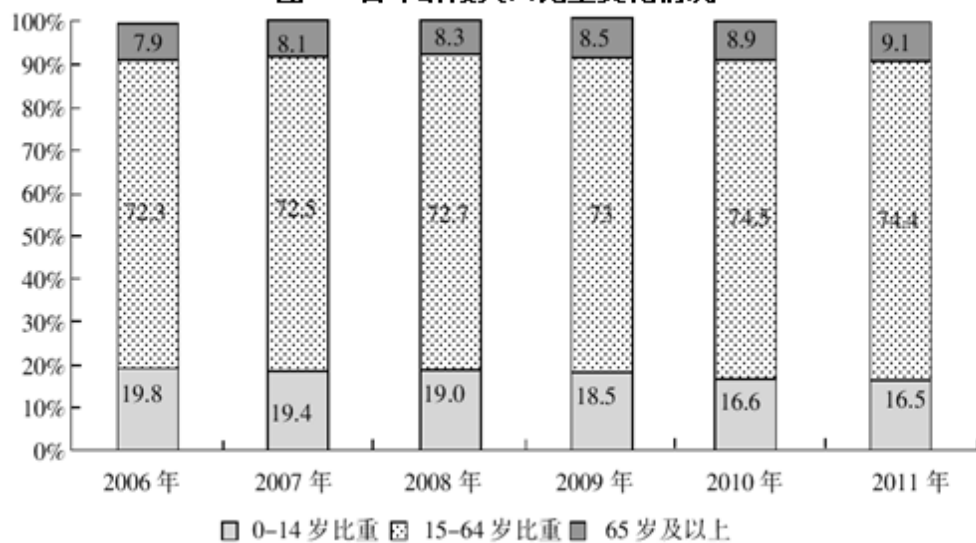


图3 各年龄段人口比重变化情况



86. 我国人口自然增长率保持目前状态，2012年我国大陆总人口将达到：

- A. 136056.5万人 B. 135397.75万人 C. 135380.38万人 D. 134735.38万人

87. 我国“十一五”期间平均每年增加人口：

- A. 528.6万人 B. 660.75万人 C. 657.4万人 D. 644万人

88. 我国2011年劳动人口（15-64岁）总数为：

- A. 100242.84万人 B. 93595.52万人 C. 94045.03万人 D. 99763.71万人

89. 2011年年末全国60岁及以上人口达到：

- A. 18458.69万人 B. 30719.58万人 C. 18499万人 D. 12260.89万人

90. 下列说法不正确的是：

- A. 2011年，我国劳动年龄人口的比重自2002年以来首次下降

- B. 我国14岁以下人口总数在逐年下降
- C. 我国人口自然增长率有缓慢下降趋势
- D. 我国人口老龄化速度加快

2011年，我国粮食生产创造了新的历史记录，达到了2020年粮食产能规划水平。粮食总产量登上了5亿5千万吨新台阶，初步统计，2011年全年粮食总产量达到57121万吨，比2010年增长4.5%。

2011年，各级政府抓粮食生产始终不放松，实现了夏粮、早稻、秋粮生产季季增长，是近些年来少有的。全国夏粮总产量12627万吨，比去年增产321万吨，增长2.5%；早稻总产量3276万吨，比去年增产143万吨，增长4.5%；秋粮总产量41218万吨，比去年增产2018万吨，增长5.1%。

2011年，全国三大粮食作物总产量超过5亿吨，达到51045万吨。稻谷总产量突破2亿吨大关，达到20078万吨，比去年增产503万吨，增长2.6%；小麦总产量11792万吨，比去年增产274万吨，增长2.4%；玉米总产量19175万吨，比去年增加1450万吨，增长8.2%，玉米大幅度增产使我国粮食生产结构得到进一步改善。2011年，全国13个粮食生产省（区）粮食总产量达到43422万吨，比2010年增产2238万吨，增产5.4%，占全国总增产量的90.5%，粮食主产区的稳定增产作用得到进一步发挥。

东北及内蒙古四省（区）共增产粮食1386万吨，增产量占全国总产量的56%，其中黑龙江增产558万吨，增长11.1%，吉林增产329万吨，增长11.6%，辽宁增产270万吨，增长15.3%，内蒙古增产229万吨，增长10.6%。粮食产量超5千万吨的黑龙江、河南两省，2011年粮食生产更上一层楼，粮食总产量分别达到5571万吨和5543万吨，双双登上5500万吨新台阶。

主要受气候影响，贵州和重庆全年粮食总产量减产，贵州减产235万吨，下降21.2%，重庆减产29万吨，下降2.5%，三季粮食中，夏粮产量减产的有甘肃、宁夏、新疆三省（区）；早稻产量减产的有安徽、湖北、广西三省（区）；秋粮产量贵州减产279万吨，下降29.3%，重庆减产30万吨，下降3%，上海略有减产。

91. 2011年全国粮食总产量比2010年增产：

- A. 2570万吨
- B. 1640万吨
- C. 2000万吨
- D. 2460万吨

92. 2011年我国秋粮产量占总产量的比重为：

- A. 8%
- B. 72%
- C. 27%
- D. 22%

93. 全国三大粮食作物总产量增长速度由快到慢依次为：

- A. 玉米、稻谷、小麦
- B. 稻谷、玉米、小麦
- C. 小麦、稻谷、玉米
- D. 小麦、玉米、稻谷

94. 下列说法错误的是：

- A. 2011年我国夏粮、早稻、秋粮季季增产
- B. 2011年粮食产量超5千万吨的有黑龙江和吉林省
- C. 2011年我国九成以上增产来自粮食主产区
- D. 2011年我国稻谷、小麦、玉米三大作物总产量超5亿吨

95. 上述资料表明：

- A. 贵州和重庆夏粮产量减产
- B. 甘肃、宁夏、新疆三省（区）全年粮食总产量减产
- C. 东北及内蒙古四省（区）粮食增长速度最快的是内蒙古
- D. 2011年，全国粮食主产省（区）粮食总产量占全国总产量的76%

扫一扫，对答案

