

2012年天津市公务员录用考试《行测》真题（考生回忆版）

更新时间：2024年12月09日14:56:32

扫描下方二维码下载星光公考APP 刷海量题库掌握最新热点



QQ扫码直接下载
微信扫码到应用市场下载
支持所有机型哦

第一部分 - 数量关系

在这部分试题中，每道试题呈现一段表述数字关系的文字，要求你迅速、准确地计算出答案。你可以在草稿纸上运算。

1. 0, 0, 2, 12, ()

- A. 8 B. 36 C. 12 D. 32

2. 2, 11, 32, ()

- A. 56 B. 42 C. 71 D. 134

3. $\frac{1}{2}, \frac{5}{7}, \frac{11}{16}, ()$

【2012-天津-003】

- A. $\frac{11}{21}$
 B. $\frac{17}{33}$
 C. $\frac{19}{29}$
 D. $\frac{26}{37}$

4. 0.2, 4.04, 20.008, ()

- A. 48.0032 B. 40.0032 C. 54.0016 D. 61.0214

5. 4.5, 8, 10.5, ()

- A. 11 B. 14 C. 14.5 D. 16.5

6. 在偏远山区某小学，老师正在发放教科书，只购买了65本教科书，需要每两个学生合用一本数学书，每三个学生合用一本语文书，每四个学生合用一本英语书。学生数为：

- A. 24 B. 60 C. 48 D. 52

7. 某蔬菜种植基地有甲、乙两个圆柱形蓄水池，它们的底面积之比为4:3，甲池中水深8m，乙池中水深5m，再往两个蓄水池注入同样多的水，直到两个蓄水池水深相等，则甲蓄水池的水面上升：

- A. 12m B. 18m C. 9m D. 6m

8. 一个容器内有一定量盐水，第一次加入适量水后，容器内盐水浓度为3%，第二次再加入同样多水后，容器内盐水浓度为2%，则第三次加入同样多的水后盐水浓度为：

- A. 0.5% B. 1% C. 1.2% D. 1.5%

9. 老张7月份出差回来后，将办公室的日历连续翻了10张，这些日历的日期之和为265，老张几号上班：

- A. 20 B. 4 C. 2 D. 1

10. 某人将8000元钱存入银行，存期3年，到期时他将本钱和利息共计9824元取回，则此种储蓄的年利率是（按利息的20%收利息税）：

- A. 7.5% B. 8.5% C. 9% D. 9.5%

11. 一个人上楼，边走边数台阶，从一楼走到四楼，共走了54级台阶。如果每层楼之间的台阶数相同，他一直要走到八楼，问他从一楼到八楼一共要走多少级台阶：

- A. 126 B. 120 C. 114 D. 108

12. 有4个数，它们的和是180，且第一个数是第二个数的2倍，第二个数是第三个数的2倍，第三个数又是第四个

数的2倍，问第三个数应是：

- A. 42 B. 24 C. 21 D. 12

13. 甲、乙、丙共同编制一标书，前三天3人一起完成了全部工作量的 $\frac{1}{5}$ ，第四天丙没参加，甲、乙完成了全部工作量的 $\frac{1}{18}$ ，第五天甲、丙没参加，乙完成了全部工作量的 $\frac{1}{90}$ ，从第六天起三人一起工作直到结束。问这份标书的编制一共用了多少天：

- A. 13 B. 14 C. 15 D. 16

14. 将一块三角形绿地沿一条直线分成两个区域，一为三角形，一为梯形，已知分出的三角形区域的面积为1.2亩，梯形区域的上、下底边分别为80米、240米，问分出的梯形区域的面积为多少亩：

- A. 9.6 B. 11.2 C. 10.8 D. 12.0

15. 一瓶碳酸饮料，一次喝掉饮料 $\frac{1}{3}$ 后，连瓶共重600克；如果喝掉饮料 $\frac{1}{2}$ 后，连瓶共重500克；如果只喝掉饮料 $\frac{1}{4}$ 后，那么连瓶共重多少克：

- A. 620 B. 650 C. 666 D. 680

第二部分 - 言语理解与表达

本部分包括表达与理解两方面的内容。请根据题目要求，在四个选项中选出一个最恰当的答案。

16. 今人炫耀自己的博学，每每搬出古人，但古人之所以可以在学问上_____我们，有一个重要的秘密，那就是：他们心头没有那么多文化垃圾。

填入划横线部分最恰当的一项是：

- A. 蔑视 B. 藐视 C. 轻视 D. 傲视

17. 以变制变，是一种_____，是一种智慧。世上的万事万物都有其特殊性，因此在尊重客观_____的同时，要善于以变制变，不断提高自己的应变能力，_____赢得主动权。

填入划横线部分最恰当的一项是：

- A. 谋略 规律 进而 B. 策略 规律 从而
C. 策略 规划 从而 D. 谋略 规划 进而

18. ①如果有了正确的理论，只是把它_____，并不实行，这种理论再好也是没意义的。

②明摆着是歪理邪说，本应_____才是，却有那么多人相信。真令人想不通。

③这孩子真怪，别的什么都不怕，却怕癞蛤蟆，一只癞蛤蟆就吓得_____地惊叫起来。

依次填入划横线部分最恰当的一项是：

- A. 束之高阁 不以为意 失魂落魄 B. 奉若神明 不以为然 惴惴不安
C. 奉若神明 不以为然 失魂落魄 D. 不了了之 不以为意 惴惴不安

19. 正是由于中国等亚洲国家对日本当时（麦克阿瑟统治期）比现在问题更严重的历史教科书_____，错过了_____影响的最佳时机，新一代日本人长成了，问题才更_____了。

依次填入划横线部分最恰当的一项是：

- A. 熟视无睹 实行 复杂 B. 沉默不语 实行 棘手
C. 沉默不语 施加 棘手 D. 熟视无睹 施加 复杂

20. 铭心的挫折，有助于驱逐人生的幻想和幼稚，_____了战胜挫折的艰难和壮丽，会使我们更有勇气_____命运的残酷。谁说不期而至的挫折不是一种机遇的_____？

依次填入划横线部分最恰当的一项是：

- A. 体验 正视 赏赐
B. 体味 正视 赏赐
C. 体验 直面 恩赐
D. 体味 直面 恩赐

21. 我始终_____，开始在内心生活得更严肃的人，也会在外在上开始生活得更_____。在一个奢华浪费的年代，我希望能向世界_____，人类真正要的东西是非常之微小的。

填入划横线部分最恰当的一项是：

- A. 确认 朴素 表明
B. 相信 质朴 证明
C. 确认 质朴 证明
D. 相信 朴素 表明

22. 只有书籍，能把一切高贵生命早已飘散的信号_____给你，能把无数智慧和美好对比着愚昧与丑陋一起_____给你，区区五尺之躯，短短几十年光阴，居然能_____古今，经天纬地，这种奇迹的产生，至少有一半要归功于阅读。

依次填入划横线部分最恰当的一项是：

- A. 传播 呈现 驰骋
B. 传播 奉献 贯穿
C. 传递 奉献 贯穿
D. 传递 呈现 驰骋

23. 在粮价出现上涨时，政府应当作出的重要反应是，密切关注粮食市场动向，防止不法粮商_____囤积居奇，哄抬粮价，扰乱市场，既损害城镇居民的利益，也严重影响农民的利益。政府还要正确_____舆论，不要使诸如“暴涨”之类的字眼，在社会上引起完全没有理由出现的_____。

依次填入划横线部分最恰当的一项是：

- A. 乘势 引导 惊慌
B. 借机 引导 恐慌
C. 借机 指导 恐慌
D. 乘势 指导 惊慌

24. 失败在很多时候，并不是因为技不如人，也不是因为我们不具备成功的实力，而是我们在很多时候，在心理上_____了一种固定不变的看法，这种看法往往会让人们觉得自己根本就不可能实现某个目标。这种定式心理在很大程度上_____了人的思维，也同时_____了人们创新脚步。

依次填入划横线部分最恰当的一项是：

- A. 默许 囚禁 禁锢
B. 默认 禁锢 囚禁
C. 默许 禁锢 囚禁
D. 默认 囚禁 禁锢

25. 为什么语言要学，_____要用很大的气力去学呢？_____语言这东西，_____随便可以学好的，非下苦功不可。我们还要多多吸收外国的新鲜东西，_____要吸收他们的进步道理，而且要吸收他们的新鲜用语。

填入划横线部分最恰当的一项是：

- A. 而且 所以 不是 不单
B. 并且 所以 怎么 不但
C. 并且 因为 不是 不但
D. 而且 因为 怎么 不单

26. 城市要种树这一点虽说是共识，但种什么树却大有讲究。以穿衣为喻，人都要穿衣，但穿什么衣却有不同选择。有钱人当然主要不为保暖遮羞，而是要体面，要独具风采；钱少的人就不能不量力而行；穷人自然图便宜，过得去就可以了。而对于做衣服的、卖衣服的，当然是经营高档衣服利润高；还有，大户人家、大酒店，即使囊内没钱，奴仆和侍应生也要衣着光鲜，那是主人的面子嘛。

对这段文字的主旨概括最恰当的是：

- A. 城市种树，不应该选择高档树种
B. 城市种树，对树种的选择要讲科学
C. 城市种树，不应搞政绩工程
D. 城市种树，在树种选择上应量力而行

27. “五一黄金周”从存到废，现在又有不少人士认为应当恢复。就公共决策要求讲，早前“五一黄金周”之所以被废，并非是源于对假日经济好处的不了解，而恰恰是因为其人流的大量流动与环境的影响，加上由人满为患所带来的不快乐等诸多原因存在而被取消。应该说，当时取消“五一黄金周”是一种利弊权衡的结果。所以，

除非过去取消“五一黄金周”的理由已经消失，或者说其所有的利弊关系已经有了根本变化。否则，如果没有必须具备的民意征求程序，而仅仅只以经济上的好处为理由做出行政决策，那“五一黄金周”一旦真的恢复，劳动者对其就很难做出相应的正面评价。

以上文字的核心观点是：

- A. “五一黄金周”的存废是一个公共政策问题
- B. 过去取消“五一黄金周”是因为假日经济的弊端显著
- C. 评价“五一黄金周”的存废要有权利视角
- D. 要想恢复“五一黄金周”，必须有征求民意的过程

28. 公众是环境最大的利益相关人，拥有保护环境的最大动机，只要有合适的渠道，就能释放出巨大能量。中国公众目前的环保参与程度还很低，原因不是公众环保意识淡薄，而是缺乏参与渠道。在中国目前的国情下，良性的公众参与不仅能弥补政府力量之不足，还能大大提高公众对政府政策的认同度，更能提升国民的公共道德素质。

这段话的中心意思是：

- A. 中国公众参与环保的驱动力大
- B. 中国公众目前环保参与程度不高
- C. 公众参与环保的积极作用明显
- D. 目前公众参与环保的渠道不畅通

29. 教师是今天最需尊重的职业，也是人性最为光亮的群体，却又是权利需要保护的对象。一些教师群体的待遇福利较差，健康权与休息权得不到保证。值得一提的是，教师很容易成为教育体制弊端的替罪羊。比如，说到教育腐败，很多人会把板子打在教师身上，其实腐败的多是教育官员，而不是普通教师。更重要的是，由于教育改革长期滞步不前，应试教育无法完成向公民教育转身，也造成很多教师无法摆脱权力干预，无法从陈旧保守的价值观中走出来，甚至造成很多教师精神人格的“分裂”。

这段话的中心意思是：

- A. 教师的权利没有得到很好的保护
- B. 教师是需要尊重的群体
- C. 应试教育是很多教师精神人格“分裂”的原因
- D. 教师容易成为教育体制弊端的替罪羊

30. “和”与“同”是先秦时期两个重要的哲学概念。和同之辨早在西周末年《国语》、《左传》中就有明确记载。孔子有关和同之辨的理论，是对前人学说的一种继承和发展。“君子和而不同，小人同而不和。”（《论语·子路》）“和而不同”是孔子理想人格的一个重要标准。和与同的区别，在于是否承认原则性和差异性。承认差异，有差异性的统一才是“和”。“和而不同”，被公认为是典型的中国哲学智慧。

下列有关“和”与“同”的表述有误的一项是：

- A. 作为哲学概念的“和”与“同”早在先秦时期就被提出。其概念之争在西周末年的书籍中早有记载
- B. “和”与“同”在争论之初两者是相对立的，是孔子将其继承和发展，提出了“和而不同”的观点
- C. “和而不同”这一观点的提出本身就遵循了文化继承与发展的规律，体现了“和”与“同”两个概念在争辩中的进步发展
- D. “和”就是承认事物的差异性，在承认差异的基础上寻求统一；“同”就是不顾事物之间的差异一刀切地要求统一

31. 北京某环卫女工耍扫帚走红网络，被多家电视台邀请表演，称为“扫帚姐”，却因常要请假上节目而被单位辞退。“扫帚姐”能把一米多长的大扫帚玩出“魔法”，这种由岗位技能延伸出的特殊技巧，是她长期使用扫帚的劳动心得与锻炼体会。“扫帚姐”走红，正体现了环卫工人的另一面，虽然工作辛苦，但他们也充满了智慧与想象力，也同样乐观开朗、热爱生活。这种立足岗位、健康工作、乐观生活的态度，正是现代社会中不可多得的财富，有着打动人心的力量。“扫帚姐”展现了环卫工人内修与外练的形象，本可以成为环卫部门很好的“形象代言人”，让更多人关注支持这个群体。但她却没有引起环卫部门的重视，反而被辞退，这不能不说是一种遗憾。

上文所说的“遗憾”指的是：

- A. 她就是环卫圈里的拔尖人才，让她做环卫形象大使
- B. 兴趣爱好反客为主，违背了行业的社会秩序
- C. “扫帚姐”应该更好地充实自己，切实承担自身的责任
- D. 成名草根在应对社会生活中的规则和责任时不要被消费化

32. 重新审视估量生存环境，改变旧的生存（包括思维）方式，对传统的价值和价值观重新进行评估，确立新的价值观，成为转变思想道德观念重要而深刻的内容。

最能概括这段文字的是：

- A. 要转变思想道德观念
- B. 如何转变思想道德观念
- C. 什么是新的思想道德观念
- D. 为什么要转变思想道德观念

33. 人的价值不同于一般客体的价值。从本质上讲，人的价值是一种特定的社会关系范畴。人的价值是由人自身创造出来并且具有确证和实现其他价值的特征；人是价值的创造者，又是价值的享用者，人的价值是世界上最高的价值；人的价值是自我价值和社会价值、外在价值和内在价值、现有价值和应有价值的辩证统一。

这段文字重点阐释的是：

- A. 人的价值是世界上最高的价值
- B. 人的价值不同于一般客体的价值
- C. 人的价值是各类价值的辩证统一
- D. 人的价值是一种特定的社会关系范畴

34. 贫困，不是谁的错误，它是和整个国家的现状和时代发展相联系的。正确地看待它，把它作为奋斗的基石而不是绊脚石才是最明智的。积极的心态来自于对贫困、对生活的正确认识。一个人可能改变不了别人的看法，那就用行动去证明自己，用成绩去找回尊严和尊重。空洞的言语永远无法代替真实的行动。关键是做和怎么做。最符合这段文字的含义的是：

- A. 一个人面对贫困应该用积极的心态去改变别人的看法
- B. 贫困不是谁的错误，国家的富裕要靠每个个体的努力
- C. 面对贫困要用行动去证明自己，用成绩找回尊严和尊重
- D. 空洞的语言改变不了别人对贫困的看法，关键是做和怎么做

35. 付出多少，得到多少，这是一个众所周知的因果法则。也许你的投入无法立刻得到相应的回报，但不要气馁，回报可能会在不经意间，以出人意料的方式出现。

这段文字是想告诉我们：

- A. 得不到回报也不要气馁，因为贵在坚持
- B. 不是每个人都知道“付出多少，得到多少”
- C. 只要有付出就会有回报，这只是个时间问题
- D. 投入可能无法立刻得到回报，但总会在不经意间出现

36. 作为一名建筑师，莱伊恩并不是最出色的。但作为一个人，他无疑非常伟大。他始终恪守自己的原则，给高贵的心灵一个美丽的住所，哪怕是遭遇到最大的阻力，也要想办法抵达胜利彼岸。

下列表达有错误的是：

- A. 伊恩的阻力来自于他并不出色的建筑才能
- B. 伟大表现在即使遇到困难，也要坚持自己的原则
- C. 莱伊恩做到了给自己的心灵一个美丽的住所
- D. 工作没有惊人成绩也不妨碍一个人成为伟大的人

37. 在我们的生活经验中，我们对他人行为已自然而然地形成各种判断，因此无须考虑就能运用在各种场合。例如我们搭乘的火车突然停下来，我们会想到可能是由于机器出了故障，而绝非是驾驶员离车去摘路边的野花。

对上面的这句话主题理解正确的是：

- A. 人们依据自然形成的判断往往不一定是准确的

- B. 人们在一定生活经验的基础上形成了各种判断
- C. 一般情况下，人们对发生事情的自然判断是正确的
- D. 在各种场合下，都不能忽视由于自然判断而形成的生活经验

38. 家族企业代际传承首先需要解决的问题是接班人的选择，也就是从家族内部选择还是从外部选拔接班人。从中国大陆家族企业的传承案例来看，“子承父业”仍是国内许多家庭企业首选的交接班模式。华人家族企业选择“子承父业”的传承模式的原因在于华人家族传统文化中对血缘的重视和信任，以及华人社会低信任度的文化特点。

这段文字不支持的表述是：

- A. 从案例推断，华人家族企业“子承父业”并非代际传承的唯一模式
- B. “子承父业”的交接班模式，就是传男不传女
- C. 华人家族企业选择“子承父业”是缘于对外人的不信任及血浓于水的亲情
- D. 家族企业代际传承首先要解决的问题，是“传子”还是“传贤”的问题

39. 我国的幼儿园教育普遍存在“小学化”现象。造成幼教“小学化”的原因是多方面的。一方面是家长“望子成龙”的心理，另一方面就是不少幼儿园迎合家长心理需求以多揽生源、多赚钱。另外，入学测试也是幕后“推手”之一。因此，要整治幼儿园“小学化”现象，还是依靠制度发力。试想，在许多家长心存“学到东西”的错误观念驱使下，在生源激烈竞争的倒逼下，若没有硬性的制度要求，有多少幼教老师能坚守自己的教育理念和专业水准？

依据文意，下列不属于幼儿园教育“小学化”原因的一项是：

- A. 小学入学测试
- B. 家长“望子成龙”、“望女成凤”
- C. 幼教老师的专业水平低
- D. 幼儿园追逐经济利益

40. 相对于小汽车和公共汽车这两种交通方式，轨道交通具有较强的规模经济性，即只有当乘客流量相当大时才会实现盈亏平衡，所以适宜在已经成熟的社区建设，但这样一来，就不能起到为土地开发导向的作用。如果想用轨道交通导向，就要忍受较长时间的亏损，并且冒较大投资风险，且难以融资。

这段文字不支持的观点是：

- A. 小汽车和公共汽车的投资风险比轨道交通小
- B. 轨道交通需要规模经营
- C. 轨道交通想要收回投资成本，就要在客流量很大的地方建设
- D. 轨道交通只要忍受较长时间的亏损，就一定能扭亏为盈

41. 虽然有些山寨产品确实能给某些消费者带来一定的价值，但总体来说，山寨文化的泛滥与其说是对草根创新精神的标榜和昭彰，不如说是对中国知识产权意识尚不足的裸露与讽刺。对于百分之九十九的山寨厂商来说，他们的前途只有一个，就是被淘汰。更令人焦虑的是，他们有可能把原本走正道的正规军拖下水。如果我们必须相信未来即将成为全球第一经济大国的国家将充斥着以简单效仿、小偷小摸和强取豪夺为核心元素的山寨文明，那要么是我们喝大了，要么就是上帝他老人家不小心喝大了。

对这段文字理解不正确的一项是：

- A. 山寨文化的泛滥暴露了国人知识产权意识的不足
- B. 绝大多数山寨产品生产者是没有发展前途的
- C. 一个经济大国不应充斥着山寨产品
- D. 对山寨产品应有一定限度的宽容，因为它给某些消费者带来了一定价值

42. 当下，“文化焦虑”和“文化忧患”促使一批专家学者致力于传统文化的复兴和教育，但他们过分片面地把中华文化等同于汉文化甚至一些儒家古典文化，特别是片面地把所谓的“国学”指称为中华民族传统文化的全部。一说到中国文化，言必称“国学”，视野局限在孔孟儒家之学和“四书五经”等汉文典籍上，把中华民族传统文化教育等同于进行一些儒家古代典籍的教育，不遗余力地在大中小学里进行所谓的“国学教育”。

各种“国学研究会”“国学研究院”和“孔子学院”纷纷问世。有的学者鼓吹：应该让包括“四书五经”在内的传统经典，尽早回到中国中小学课堂。希望政府尽早启动这项影响中国前途和命运的改革工程，尽早颁布法律，肯定传统文化经典在基础教育中的地位。

依据文意，当下传统文化的复兴和教育存在误区，下列不属于误区的一项是：

- A. 把历史文化遗产等同于中华民族的传统文化
- B. 把“国学教育”等同于儒家古代典籍的教育
- C. 把中华民族的传统文化等同于儒家古典文化
- D. 把“国学”等同于中华民族传统文化的全部

43. 中科院大气物理研究所在传统的天气预报计算模式中引入了沙源地的地表因素，包括沙粒大小、地表湿度、地表植被和积雪覆盖等，研制了“嵌套网络空气品质实时预报系统”，即沙尘暴预报系统，实现了沙尘暴的精确数值预报。

对上述文段主要信息的提炼，最恰当的一项是：

- A. 中科院大气物理研究所研制出沙尘暴预报系统，实现了沙尘暴的精确数值预报
- B. 中科院大气物理研究所研制的“嵌套网络空气品质实时预报系统”能预报沙尘暴
- C. 我国传统的天气预报计算模式不包括对沙尘暴的预报
- D. 中科院大气物理研究所改变了传统的天气预报计算模式，实现了沙尘暴的精确数值预报

44. 2009年是中国儿童福利发展的重要一年。民政部根据我国孤儿在整个社会保障群体中数量少、比例小、生存状况困难、甄别容易的情况，努力同国际接轨，在建立独立的孤儿福利津贴制度方面做出了重大的努力和突破，大大提高了孤儿救助的标准。

对这段文字理解不正确的是：

- A. 民政部门是儿童福利工作的责任主体之一
- B. 将孤儿福利津贴制度从儿童福利津贴制度中独立出来是与国际接轨
- C. 与其他社会保障群体比较，孤儿的身份容易认定
- D. 孤儿，因其数量少、比例小而得到了较高标准的救助

45. 构成我们学习上最大障碍的，不是未知的东西，而是已知的东西。

这句话的含义是：

- A. “已知的东西”不是一劳永逸的，只有经常复习，才能获得新知
- B. 对“已知的东西”学得不好，理解不深就会构成学习上的障碍
- C. 如果只满足于“已知的东西”，不再进取，就会陷入无法长进的可悲境地
- D. “已知的东西”是基础，对“已知的东西”掌握不扎实，就会影响新知识的获得，应加强对“已知的东西”的复习巩固

零点集团针对全国30个直辖市或省会城市居民的环保意识和环保行为，进行了“中国公众环保指数”调查。2010年中国公众环保指数得分为69.5分，较之2005年（68.1分）和2007年（69.1分）维持稳定局面，但仍未破七，当前大的环保环境和公众环保内驱力还没有达到足以产生变革的度点。可喜的是，西部城市公众环保指数以69.4分紧随东部之后（70.3分），成为2010年环保指数的亮点。进一步研究发现，西部公众主要赢在社会参与型环保的行为率高，高出东部和中部公众10分以上。

由于当前中国政府的行政特征、表现力及公众环保水平的发展阶段，使得我国的公众环保表现出两项内生性矛盾：

矛盾一：73.2%的公众在经济发展和环境保护中会优先选择环境保护，环保选择具有压倒性优势；另外认为我国环保已经紧迫的公众比例将近九成（86.8%），但在具体环保事项上，公众的环保意识表现不一，人们的高环保意识主要集中在家庭生活层面，如将生活垃圾分类、节约水电等，分别有59.6%和53.7%认为它们是环保行为，而在办公场所和社会参与层面的环保意识相对较低。进一步研究发现，如果落实在行为层面上，在20项环保行为中，二分之一的环保行为采取率都在30%以下，尤其是社会参与方面，环保行动力明显弱化。

矛盾二：对于环保问题的责任归属，72.3%的公众认为应该由政府负责，但对目前我国的环保状况，表示满意的比例不及四成（39.4%），尤其是18-25岁的青年（32.8%）及学生（23.8%）。而对此，仍有54.6%的公众对政府

工作表示认可。公众表现出的这种矛盾认识正体现出中国公众的政府依赖惯习，而这种惯习是不以政府的环保力强弱为基础的。

当然，这几年我国公众环保也表现出一些新的气象，从这些新气象中，我们可以大胆假设未来中国公众环保的两个趋势：

趋势一：在联合国公布的十大环保问题中，46.1%的公众表示关注全球气候变暖，关注度仅次于大气污染（72%）和水污染（69.7%），因此，低碳作为减缓气候变暖的最直接行为，将具有更加坚实的公众基础。进一步研究发现，在生活中可以实现低碳的行为方面，如节约水电（64.8%）、购买节能电器（52.7%）等，公众的行为采取率均相对较高。当然，公众低碳时代的到来，需要政府的监管及市场的配合，只有做到三合一，才能让低碳真正成为一种内在的生活方式。

趋势二：根据中国环保联合会发布的数据，我国民间环保组织的数量几年来有明显增加，未来趋势会更明朗，而这依赖于公众对环保组织工作的认可（61.6%），一直在政府、企业和公众等不同环保主体中居首，尤其是近年来环保问题严重的西部，这一比例相对更高为65%。进一步研究发现，不同年龄公众不参加环保活动的首要因素都是“没人组织我参加”，这为未来环保组织的发展指明了方向。当然，对于18-25岁青年来说，增加环保组织信任度和透明度（分别为25.6%和28.9%）也相对较为迫切。

46. 下列各句有语病的一项是：

- A. 由于当前中国政府的行政特征、表现力及公众环保水平的发展阶段，使得我国的公众环保表现出两项内生性矛盾
- B. 不同年龄公众不参加环保活动的首要因素都是“没人组织我参加”
- C. 对于环保问题的责任归属，72.3%的公众认为应该由政府负责，但对目前我国的环保状况，表示满意的比例不及四成
- D. 公众表现出的这种矛盾认识正体现出中国公众的政府依赖惯习，而这种惯习是不以政府的环保力强弱为基础的

47. 对“矛盾一”概括准确的一项是：

- A. 经济发展和环境保护的矛盾
- B. 环保意识与环保行动力的矛盾
- C. 家庭生活层面的高环保意识与社会参与层面的低环保意识之间的矛盾
- D. 家庭生活层面的高环保意识与办公场所层面的低环保意识之间的矛盾

48. 由“矛盾二”的内容可以推出的结论是：

- A. 政府更需要提高环保执行水平，注重环保效率与效果
- B. 对目前我国的环保状况，表示不满意的比例为60.6%
- C. 72.3%的公众对政府有依赖惯习
- D. 政府依赖惯习以政府的积极环保态度为基础

49. 第6段中，不能作为“低碳真正成为一种内在的生活方式”的条件的一项是：

- A. 生活中的低碳行为
- B. 政府的监管及市场的配合
- C. 市场的配合
- D. 公众对环保问题的关注

50. 最后一段认为，中国公众环保的发展趋势是：

- A. 公众对环保组织工作的认可越来越高
- B. 环保组织的急剧发展
- C. 公众的环保活动将越来越组织化
- D. 环保组织的信任度和透明度将越来越高

第三部分 - 常识判断

根据题目要求，在四个选项中选出一个最恰当的答案。

51. 古人把东、北、西、南四方每一方想象为四种动物形象，叫作四象。四象在中国传统文化中指青龙、白虎、

朱雀、玄武，分别代表东西南北四个方向。它源于中国古代的：

- A. 图腾崇拜 B. 远古传说 C. 炼丹术 D. 星宿信仰

52. 当人们站在北京颐和园昆明湖南岸的垂柳下观赏万寿山远景时，万寿山因为有倒挂的柳丝作为装饰而生动起来。这种构景手段称为：

- A. 抑景 B. 添景 C. 对景 D. 借景

53. 下面不属于我国的五大古都的是：

- A. 开封 B. 北京 C. 咸阳 D. 南京

54. 有氧运动是指人体在氧气充分供应的情况下进行的体育锻炼。即在运动过程中，人体吸入的氧气与需求相等，达到生理上的平衡状态。关于有氧运动，下列说法错误的是：

- A. 是不是“有氧运动”，衡量的标准是心率
B. 有氧运动强度低，有节奏，持续时间较长
C. 有氧运动越多越好
D. 快走、慢跑、游泳、健身操、骑自行车等项目属于有氧运动

55. 今年两会上，针对药价虚高问题，某政协委员指出，原因在于实际上是药贩子跟政府打交道——这是最可悲的现象。该政协委员在这里讲的药价虚高的原因是：

- A. 缺少对药品的中央垂直管理 B. 药品规格混乱
C. 药品质量监督监察体制不健全 D. 药品市场流通不合理、不规范

56. 很多人认为夫妻吵架、动手纯属家务事，外人不应干涉更无权干涉。不仅如此，就连公安机关也在“清官难断家务事”的传统思想影响下，对于家庭暴力的投诉处理简单、轻率，有的甚至根本不管。这种认识属于：

- A. 法律思想体系 B. 刑法意识 C. 法律心理 D. 阶层法律意识

57. 共和制作为一种国家最高权掌握在由选举产生，并有一定任期的国家机关或公职人员手中的政权组织形式。“共和”一词来源于拉丁语respublica，意思是“公共事务”。共和制是指国家的权力机关和国家元首由选举产生并有一定任期的政权组织形式。共和政体区别于君主政体，而且是作为君主政体的相对面而存在的。关于共和制的说法，正确的是：

- A. 中国历史上的“周召共和”是现代共和制的雏形
B. 美国是历史上实行总统共和制的典型国家
C. 法国实行的是议会制共和制
D. 罗马由共和制转变为帝制的主要原因是人民的要求

58. 2012年2月，国务院同意发布新修订的《环境空气质量标准》增加了PM2.5监测指标。PM2.5是指大气中直径小于或等于2.5微米的颗粒物，也称为可入肺颗粒物。关于PM2.5的说法不正确的是：

- A. PM2.5产生的主要来源，是日常发电、工业生产、汽车尾气排放等过程中经过燃烧而排放的残留物
B. 空气中的颗粒污染物，个头越小越危险
C. 世界上大部分国家都还未开展对PM2.5的监测，大多通行对PM10进行监测
D. 全球PM2.5最高的地区在欧洲

59. 钱币被称为“国家名片”，人民币则是中国的名片。目前人民币一共发行了五套，有很多风景曾被印上它们的背面，在担负商品交换媒介职能的同时，也在九百六十万平方公里的土地上传递着浓缩自然、历史、文化为一体的中国精神。

下列风景中没有出现在人民币上的是：

- A. 延安宝塔山 B. 颐和园万寿山 C. 井冈山 D. 黄山

60. 海拔零点，是海拔的起点，又叫做水准零点，也是测算海拔高度的基准点，指某一滨海地点的平均海水面。目前，我国各地计算海拔高度的水准零点是：
- A. 东海平均海面 B. 黄海平均海面 C. 渤海平均海面 D. 南海平均海面
61. 文化景观这一概念是1992年12月在美国圣菲召开的联合国教科文组织世界遗产委员会第16届会议时提出并纳入《世界遗产名录》中的。文化景观代表《保护世界文化和自然遗产公约》第一条所表述的“自然与人类的共同作品”。
- 在我国“世界遗产”中唯一的文化景观是：
- A. 山西平遥古城 B. 庐山风景名胜区 C. 苏州古典园林 D. 敦煌莫高窟
62. 中国古代最长的一首叙事诗是：
- A. 《孔雀东南飞》 B. 《木兰诗》 C. 《陌上桑》 D. 《长恨歌》
63. 中国画就是用中国的传统绘画工具，按照中国人的审美习惯而绘出来的画。国画有着悠久的历史 and 优良的传统，在世界美术领域中自成体系，独树一帜。中国画最大的特点在于它的：
- A. 色彩 B. 光线 C. 线条 D. 笔墨
64. 我国宋代科学家沈括，于11世纪末著的《梦溪笔谈》中，在记述用天然磁石摩擦钢针可以指南的时候指出：“方家以磁石磨针锋，则能指南，然常微偏东，不全南也。”这个发现比欧洲人哥伦布的发现早了四百多年。沈括发现的是：
- A. 磁倾角 B. 磁偏角 C. 磁感应强度 D. 磁场方向
65. 2012年政府工作报告指出：要完善和落实促进非公有制经济发展的各项政策措施，打破垄断，放宽准入，鼓励民间资本进入铁路、市政、金融、能源、电信、教育、医疗等领域，营造各类所有制经济公平竞争、共同发展的环境。
- 这种表述表明，我国对私营经济实行的方针是：
- A. 指导、帮助和监督 B. 鼓励、支持、引导并依法监督和管理
C. 指导、扶持和竞争 D. 利用、限制和改造
66. 关于对未成年人保护的法律规定，我国法律制度从民事、行政、刑事、劳动等不同角度进行了设置。对于这些法律规定，下列说法中错误的是：
- A. 任何组织和个人不得招用未满十六周岁的未成年人
B. 被判处拘役、三年以下有期徒刑的不满十八周岁的人，应当宣告缓刑
C. 公安机关、人民检察院、人民法院对审前羁押的未成年人，应当与羁押的成年人分别看管
D. 不满十八周岁的未成年人犯罪，应当从轻或者减轻处罚
67. 温家宝总理在作政府工作报告时提出，今年国内生产总值增长7.5%。这是我国国内生产总值（GDP）预期增长目标八年来首次低于8%。对于这一目标的调整，说法错误的是：
- A. 中国经济要硬着陆
B. 适当放缓经济增速能形成倒逼机制，加快经济转型和体制创新
C. 速度低一点可以缓解供求矛盾、缓解资源与环境的约束、缓解物价上涨的压力
D. 主要是要与“十二五”规划目标逐步衔接，引导各方面把工作着力点放到加快转变经济发展方式、切实提高经济发展质量和效益上来，以利于实现更长时期、更高水平、更好质量发展
68. “政策好、人努力、天帮忙”——近八年来，这九个字成为我国粮食丰收的“秘诀”，农业官员每年都会挂在嘴边。这表明当前：
- A. 农业产业化、组织化程度已经很高
B. 粮食丰收的根本原因是政策好
C. 现代农业体系已经建立

D. 虽连年丰收，但仍未能摆脱“靠天吃饭”的传统农业形象

69. 下列关系中，可以在同一机关担任有直接上下级领导关系的职务的是：

- A. 公务员之间有夫妻关系
- B. 公务员之间是同学关系
- C. 公务员之间有直系血亲关系
- D. 公务员之间有近姻亲关系

70. 按今年中央1号文件中明确的“持续加大财政用于‘三农’的支出”，“十二五”期间中央财政对“三农”的支持将在去年1万亿元的基础上逐年递增，而投入的方向除了重点加大对种粮农民的“四补贴”之外，新增补贴将向包括粮食在内的主要农产品重点大县、农业产业化龙头企业、种养大户和农民专业合作组织倾斜。

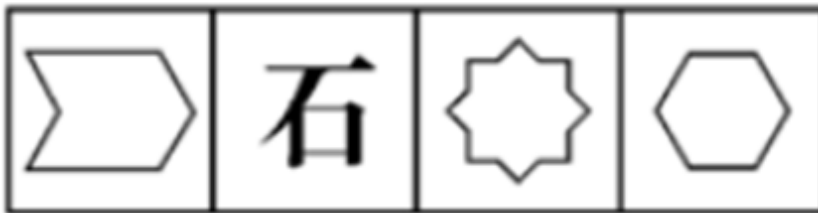
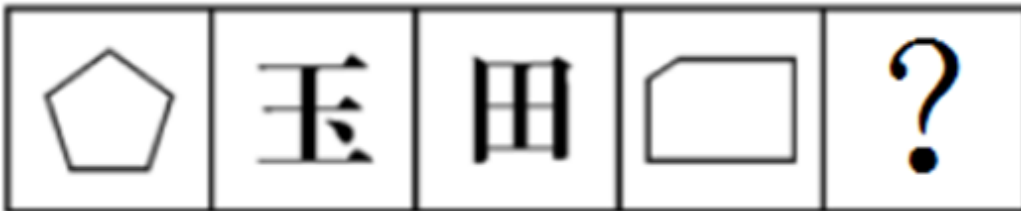
从政治常识角度，这体现了：

- A. 外因是事物发展不可忽视的条件
- B. 农业基础地位不可动摇
- C. 国家的经济职能
- D. 财政的作用

第四部分 - 判断推理

本部分包括图形推理、定义判断、类比推理与逻辑判断四种类型的试题，请按每道题的答题要求作答。

71. 从所给的四个选项中，选择最合适的一个填入问号处，使之呈现一定的规律性：【2012-天津-071】



A B C D

- A. 如图所示
- B. 如图所示
- C. 如图所示
- D. 如图所示


72. 从所给的四个选项中，选择最合适的一个填入问号处，使之呈现一定的规律性：【2012-天津-072】



A B C D

- A. 如图所示
- B. 如图所示
- C. 如图所示
- D. 如图所示

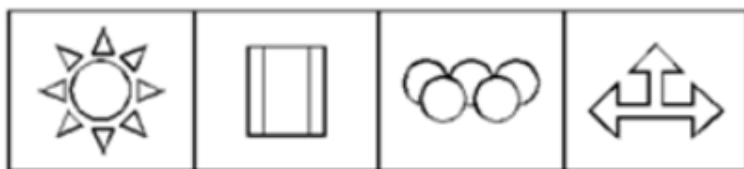
73. 从所给的四个选项中，选择最合适的一个填入问号处，使之呈现一定的规律性：【2012天津073】



A B C D

A. 如图所示 B. 如图所示 C. 如图所示 D. 如图所示

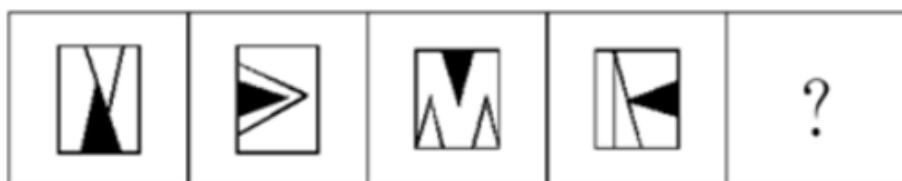
74. 从所给的四个选项中，选择最合适的一个填入问号处，使之呈现一定的规律性：【2012天津074】



A B C D

A. 如图所示 B. 如图所示 C. 如图所示 D. 如图所示

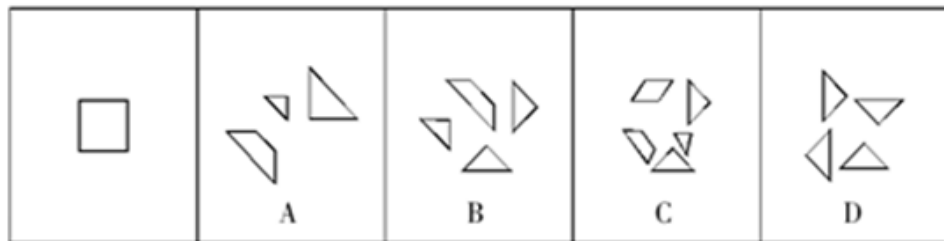
75. 从所给的四个选项中，选择最合适的一个填入问号处，使之呈现一定的规律性：【2012天津075】



A B C D

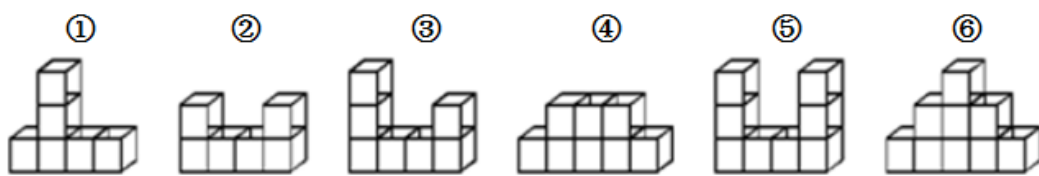
- A. 如图所示 B. 如图所示 C. 如图所示 D. 如图所示

76. 对照左边的图形，不能由它分割成的是：【2012天津076】



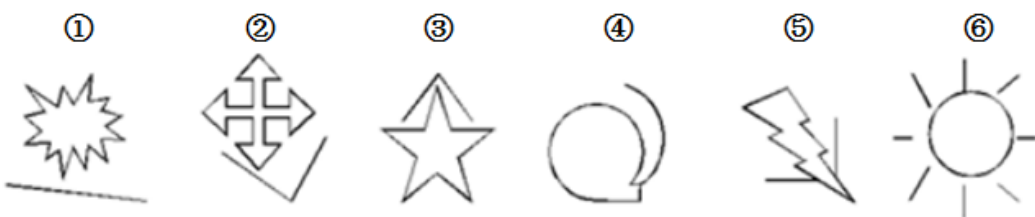
- A. 如图所示 B. 如图所示 C. 如图所示 D. 如图所示

77. 把下面的六个图形分为两类，使每一类图形都有各自的共同特征或规律，分类正确的一项是：【2012天津077】



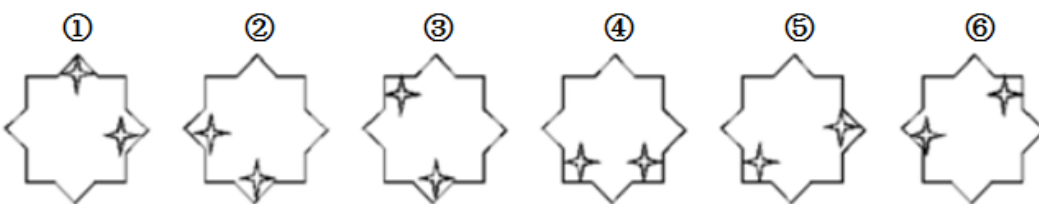
- A. ①②⑤，③④⑥ B. ①③④，②⑤⑥ C. ①④⑥，②③⑤ D. ①④⑤，②③⑥

78. 把下面的六个图形分为两类，使每一类图形都有各自的共同特征或规律，分类正确的一项是：【2012天津078】



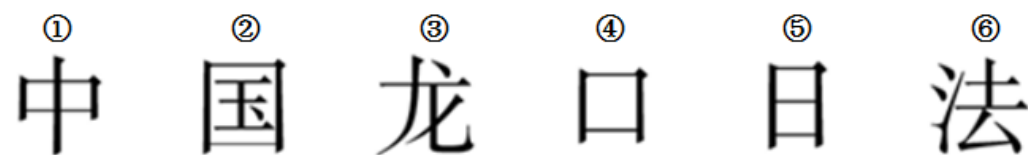
- A. ①②③，④⑤⑥ B. ①③⑤，②④⑥ C. ①④⑥，②③⑤ D. ①④⑤，②③⑥

79. 把下面的六个图形分为两类，使每一类图形都有各自的共同特征或规律，分类正确的一项是：【2012天津079】



- A. ①②⑥，③④⑤ B. ①④⑤，②③⑥ C. ①③⑥，②④⑤ D. ①②④，③⑤⑥

80. 把下面的六个图形分为两类，使每一类图形都有各自的共同特征或规律，分类正确的一项是：【2012天津080】



- A. ①②⑥，③④⑤ B. ①③⑤，②④⑥ C. ①④⑤，②③⑥ D. ①⑤⑥，②③④

81. 自助行为是指权利人受到不法侵害之后，为保全或者恢复自己的权利，在情势紧迫而不能及时请求国家机关予以救助的情况下，依靠自己的力量，对他人的财产或自由施加扣押、拘束或其他相应措施的行为。

依据上述定义，下列行为中属于自助行为的是：

- A. 高某住在某旅店，住店5天未付房钱就要离开旅店去车站，旅店服务员见状揪住高某不让其走，并打报警电话
- B. 甲趁乙不在的时候将乙家的玻璃砸碎，乙得知后也到甲家中将其同样规格型号的玻璃砸碎
- C. 陈某抢劫出租车司机李某，用匕首刺李某一刀，强行抢走财物后下车逃跑。李某发动汽车追赶，在陈某往前跑了40米处将其撞成重伤并夺回财物
- D. 甲为救助自家和邻居被突袭而来的洪水所围困的财物，未经乙同意，使用乙的小船

82. 聚合思维是指从已知信息中产生逻辑结论，从现成资料中寻求正确答案的一种有方向、有条理的思维方式，是从不同来源、不同材料、不同层次探求出一个正确答案的思维方法。因此，聚合思维对于从众多可能性的结果中迅速做出判断，得出结论是最重要的。

依据上述定义，下列行为中属于聚合思维的是：

- A. 人类失去联想，世界将会怎样
- B. 浮想联翩，夜不能寐
- C. 甲 $>$ 丙，甲 $<$ 乙，乙 $>$ 丙，乙 $<$ 丁，其结果必然是丙 $<$ 丁
- D. 巴金的《灯》由“眼前的灯”到“回忆的灯”再到“联想的灯”，最后归结为“灯光是不会灭的”

83. 责任分散效应也称为旁观者效应，是指对某一件事来说，如果是单个个体被要求单独完成任务，责任感就会很强，会作出积极的反应。但如果是要求一个群体共同完成任务，群体中的每个个体的责任感就会很弱，面对困难或遇到责任往往会退缩。因为前者独立承担责任，后者期望别人多承担点儿责任。

如果上面定义为真，则下列现象中，不属于责任分散效应的是：

- A. 事业单位的某些工作人员在上班期间就三件事：喝茶、抽烟、看报纸。上面下达任务以后，各个部门互相推脱，变成了“踢足球”的游戏
- B. 一个很干净的地方，人们不好意思丢垃圾，但是一旦地上有垃圾出现之后，人就会毫不犹豫地抛，丝毫不觉羞愧
- C. 2011年10月13日，2岁的小悦悦（本名王悦）在佛山南海黄岐广佛五金城相继被两车碾压，7分钟内，18名路人路过但都视而不见，漠然而去
- D. 一些政府部门在投资决策环节上出现了决策失误，但是造成的责任后果却无人分担

84. 偶遇抽样：是研究在一定的时间、地点、环境中遇到或接触到的人均选入样本的方法。配额抽样：按照调查对象的某种属性，将总体中的所有个体分为若干类或层，然后在各层中按其在总体中的相应比例非随机的抽取样本。整体抽样：是将总体分成许多群，每个群由个体按一定方式结合而成，然后随机地抽取若干群，并由这些群中的所有个体组成样本。

下列情形中，属于配额抽样的是：

- A. 要研究退休老人的生活，可以清晨到公园去结识几位散步老人，再通过他们结识其朋友，不用很久，就可以交上一大批老年朋友
- B. 调查三百个老人每天锻炼的时间，对每个老人都进行调查
- C. 某高校有2000名学生，其中男生占60%，女生占40%；文科学生和理科学生各占50%；一年级学生占40%，二年级、三年级、四年级学生分别占30%、20%和10%。现要依上述三个变量抽取一个规模为100人的样本
- D. 为了调查某市的交通情况，研究者到离他们最近的公共汽车站，把当时正在那里等车的人选作调查对象

85. 完全竞争又称纯粹竞争，是一种不受任何阻碍和干扰的市场结构，指那些不存在足以影响价格的企业或消费者的市场。是经济学中理想的市场竞争状态。完全竞争是这样一种市场结构，在其中同质的商品有很多卖者，没有一个卖者或买者能控制价格，进入很容易并且资源可以随时从一个使用者转向另一个使用者。

根据上述定义，下列最接近完全竞争市场的是：

- A. 自行车市场
- B. 鸡蛋市场
- C. 烟草市场
- D. 服装市场

86. 非营利组织是指不是以营利为目的的组织，它的目标通常是支持或处理个人关心或者公众关注的议题或事件。非营利组织所涉及的领域非常广，涉及艺术、慈善、教育、政治、宗教、学术、环保等领域。非营利组织的运作并不是为了产生利益，这一点通常被视为这类组织的主要特性。

依据上述定义，下列不属于非营利组织的是：

- A. 少林寺 B. 希望工程基金会 C. 民办高校 D. 中国民间组织管理局

87. 中性犯罪动机，是指对社会不具有卑鄙、下流等道德沦丧性质的个人犯罪动机。如因怜悯、同情亲友或因被害人的不正当行为而感到屈辱、羞耻，以及因迷恋某物品或某种活动而导致犯罪。这类犯罪既不同于卑鄙犯罪动机，也不同于对社会有益的行为动机。

依据上述定义，下列行为中行为人的犯罪动机属于中性犯罪动机的是：

- A. 齐某因不堪忍受父母经常吵架而对生活绝望，遂产生弑杀父母的想法，趁父母熟睡之机杀害了父母
B. 张某因迷恋女性内衣，偷偷潜入内衣店，盗走价值5000元的名牌内衣
C. 宋某因女友与自己分手，另结新欢，而砍伤女友
D. 犯罪嫌疑人龚某持刀抢劫一辆“黑车”后自首，而其犯罪动机令人瞠目结舌，竟是想进监狱戒掉赌瘾

88. 生物群落是指生活在一定地区内的有机体包括植物、动物、微生物相互结合在一起，以多种多样的方式彼此发生作用，形成一种有规律的特殊集体。换句话说，生物群落是各种生物种群在同一特定的空间或环境范围内的自然组合，反映了该空间范围的典型自然面貌。

依据上述定义，下列情形中，属于生物群落的是：

- A. 海洋中的全部鱼
B. 一个草地中的全部蛇
C. 潮湿的农贸市场上的鸡、鸭、鱼、青菜、蘑菇等
D. 一个池塘的藻类、细菌、蚌、水生昆虫等全部生物

89. 公共物品是指公共使用或消费的物品。公共物品是可以供社会成员共同享用的物品，严格意义上的公共物品具有非竞争性和非排他性。所谓非竞争性，是指某人对公共物品的消费并不会影响别人同时消费该产品及其从中获得的效用，即在给定的生产水平下，为另一个消费者提供这一物品所带来的边际成本为零。所谓非排他性，是指某人在消费一种公共物品时，不论他们是否付费都不能排除其他人消费这一物品，或者排除的成本很高。

依据上述定义，下列物品中不属于公共物品的是：

- A. 商场中出售的电冰箱 B. 警察提供的安全服务
C. 公园 D. 公共图书馆

90. 不可抗力是一项免责条款，是指买卖合同签订后，不是由于合同当事人的过失或疏忽，而是由于发生了合同当事人无法预见、无法预防、无法避免和无法控制的事件，以致不能履行或不能如期履行合同，发生意外事件的一方可以免除履行合同的责任或者推迟履行合同。

依据上述定义，下列情形中不属于不可抗力的是：

- A. 某家具厂向某木材供应站订购了一批木材。但约定的交货日期到来时，木材供应站未能按期交货。两天后，因该地区遭遇罕见山洪，木材供应站所储存的全部木材被山洪冲走。家具厂因此停工待料10天，造成损失5万元
B. 某政府网站遭遇黑客攻击，陷入瘫痪
C. 因快递公司员工罢工，李某的邮件未能及时收到
D. 杨某在大雾弥漫的早晨骑车上班途中，被一辆疾驰而过的汽车撞倒，造成医疗费、误工费、交通费等4000多元的损失。事后杨某向肇事司机索赔，司机却称事故的发生是由于大雾所致，属于不可抗力，所以他不应承担赔偿责任

91. 有人说，彻底的无私包含两个含义：第一，无条件地为他人服务；第二，拒绝任何他人的服务。

下述哪项是上述观点的逻辑推论：

- A. 没有人是彻底无私的

- B. 不可能所有的人都彻底无私
C. 如果有人接受了他人的服务，那么一定存在彻底无私的人
D. 如果有人拒绝了他人的服务，那么一定存在彻底无私的人

92. 一位教师表达了她对电子游戏给中小学生带来危害的焦虑之情。她认为电子游戏就像一头怪兽，贪婪、无情地剥夺了中小学生的学习和与社会交流的时间。

以下哪项不能成为支持以上观点的理由：

- A. 中小学生玩电子游戏上课时无精打采
B. 中小学生玩电子游戏不愿与家长交谈
C. 中小学生玩电子游戏花费了家里的资金
D. 中小学生玩电子游戏作业错误明显增多

93. 青少年如果连续看书时间过长，眼睛近视几乎是不可避免的。菁华中学的学生个个努力学习。尽管大家都懂得要保护眼睛，但大多数学生每天看书时间都超过10小时，这不可避免地导致连续看书时间过长。其余的学生每天看书也有8小时。班主任老师表扬的都是每天看书时间超过10小时的学生。

以上叙述如果为真，最能得出以下哪项结论：

- A. 菁华中学的学生中没有一个学生的视力正常，大家都戴近视镜
B. 每天看书时间不超过10小时的学生学习不太用功
C. 菁华中学的学生中近视眼的比例大于其他学校
D. 得到班主任老师表扬的学生大部分是近视眼

94. 甲、乙、丙、丁四人在一起议论本班同学申请银行助学贷款的情况。

甲：“我班所有的同学都已申请了贷款。”

乙：“如果班长申请了贷款，那么学习委员就没有申请。”

丙：“班长申请了贷款。”

丁：“我班有人没有申请贷款。”

已知四人中只有一个人说假话，则可推出以下哪项结论：

- A. 甲说假话，学习委员没申请
B. 乙说假话，班长没申请
C. 丙说假话，学习委员没申请
D. 丁说假话，学习委员申请了

95. HighTower是一家占用几栋办公楼的公司，它正在考虑在它所有的建筑内都安装节能灯泡。这种新灯泡与目前正在使用的传统灯泡发出同样多的光，但所需的电量仅是传统灯泡的一半。这种新灯泡的寿命也大大加长，因此通过在旧灯泡坏掉的时候换上这种新灯泡，HighTower公司可以大大地降低其总体照明成本。

下列哪一项，如果正确，最能支持上面论述：

- A. 如果广泛地采用这种灯泡，那么新灯泡的产量就会大大增加，从而使其价格与那些传统灯泡相当
B. HighTower最近签订了一份合同，要再占用一栋小办公楼
C. HighTower发起了一项运动，鼓励其员工每次在离开房间时关灯
D. 生产这种新灯泡的公司对灯泡中使用的新技术取得了专利，因此它享有生产新灯泡的独家权利

96. 针对当时建筑施工中工伤事故频发的严峻形势，国家有关部门颁发了《建筑业安全生产实施细则》。但是，在《细则》颁布实施两年间，覆盖全国的统计显示，在建筑施工中伤亡职工的数量每年仍有增加，这说明，《细则》并没有得到有效的实施。

以下哪项如果为真，最能削弱上述结论：

- A. 在《细则》颁布后的两年中，施工中的建筑项目的数量有了很大的增长
B. 在《细则》颁布后的两年中，在建筑业施工的职工数量有了很大的增长
C. 上述统计结果中，在事故中死亡职工的数量较《细则》颁布前有所下降
D. 《细则》实施后，对工伤职工的补偿和抚恤金的标准较前有所提高

97. 所有切实关心教员福利的校长，都被证明是管理得法的校长；而切实关心教员福利的校长，都首先把注意力放在解决中青年教员的住房上。因比，那些不首先把注意力放在解决中青年教员住房上的校长，都不是管理得

法的校长。

为使上述论证成立，以下哪项必须为真：

- A. 中青年教员的住房问题，是教员福利中最为突出的问题
- B. 所有管理得法的校长，都是关心教员福利的校长
- C. 中青年教员的比例，近年来普遍有了大的增长
- D. 所有首先把注意力放在解决中青年教员住房上的校长，都是管理得法的校长

98. 老年人经常会患由血脂高导致的一些慢性病，对此人们的态度时常走了极端：一是完全不理睬，食所欲食；一个是过度敏感，完全拒绝所有油份、肉类，反而出现营养不足、失衡问题。

根据以上信息，可以推出：

- A. 老年人身体普遍虚弱，应该注意多吃点高营养的食物补身体
- B. 保持身体健康，须注意饮食的合理搭配，“过”和“不及”都是不可取的
- C. 老年人血脂升高很容易导致心血管疾病，应该避免使用含脂类食物
- D. 人到老年，难免会有一些慢性疾病，既不能忽视也不能过分关注

99. 要想精神健康，人必须自尊。人们要保持自尊必须通过不断赢得他们尊重的其他人的尊重，他们要赢得这种尊重只有通过道德地对待这些人。

下列哪个结论可以从上文推出：

- A. 精神健康的人将被别人道德地对待
- B. 精神健康的人将道德地对待他们尊重的人
- C. 精神健康的人为了被别人道德地对待必须有自尊
- D. 自尊的人很少道德地对待那些他们尊重的人

100. 群众对领导干部的不满，不仅产生于领导的作为和业绩，而且很大程度上是由于对领导的期望值与实际表现之间的差距。因此，如果竞选任何一个单位或部门的领导，竞选者在竞选过程中一味向群众许愿、夸海口是一种不明智的做法。

从以上议论可以推出以下哪项结论？（ ）

- A. 只要群众对领导的期望值足够低，即使这个领导在职期间无所作为，群众也不会产生不满情绪
- B. 只要领导的作为和业绩出色，群众就不会产生不满情绪
- C. 由于群众的期望值高，尽管领导的工作成绩优秀，群众的不满情绪仍可能存在
- D. 聪明的领导竞选者在竞选时不应向群众承诺什么

第五部分 - 资料分析

针对下列图、表或文字回答问题。你应根据资料提供的信息进行分析、比较、计算、处理。你可以在题本上运算。

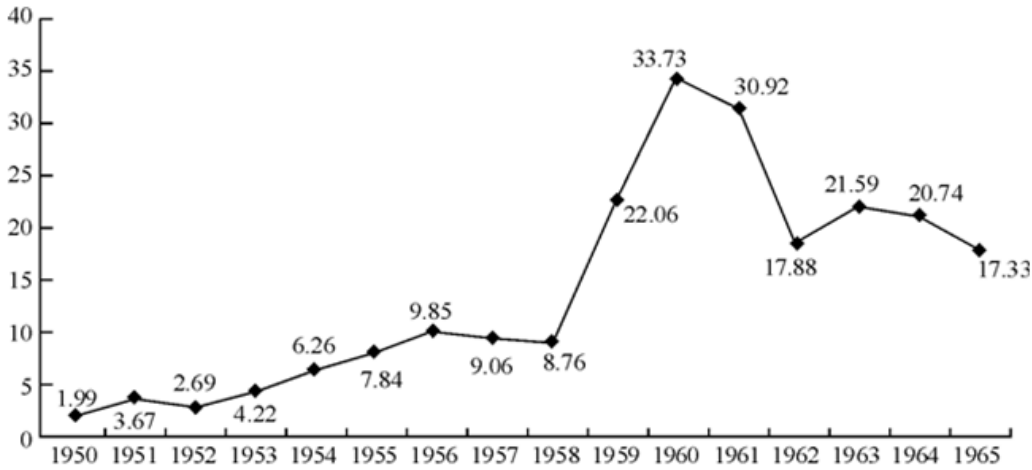


图1 支援农村生产支出和农林水利气象等部分的事业费（亿元）

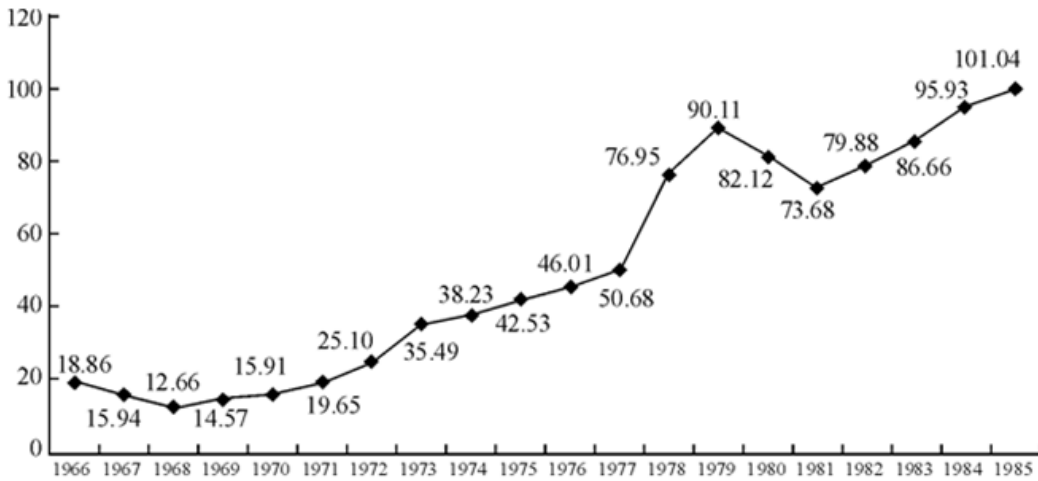


图2 支援农村生产支出和农林水利气象等部分的事业费（亿元）

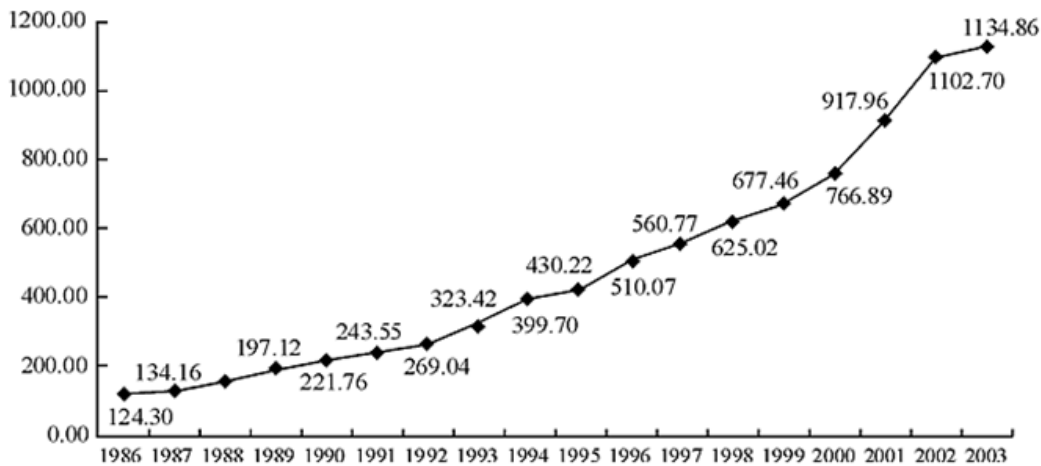


图3 支援农村生产支出和农林水利气象等部分的事业费（亿元）

101. 1965年支援农村生产支出和农林水利气象等部门的事业费是1950年的：
 A. 15.8倍 B. 8.7倍 C. 12.5倍 D. 5.6倍
102. 1959年与1958年比较，支援农村生产支出和农林水利气象等部门的事业费：
 A. 提高了151.8% B. 提高了51.8% C. 提高了251.8% D. 提高了105%
103. 1967年与1966年比较，支援农村生产支出和农林水利气象等部门的事业费：
 A. 降低了115.5% B. 降低了55.5% C. 降低了15.5% D. 降低了105.5%
104. 2003年支援农村生产支出和农林水利气象等部门的事业费是1986年的：

- A. 6.21倍 B. 4.95倍 C. 10.97倍 D. 9.13倍

105. 下列选项正确的是：

- A. 1950年至1965年支援农村生产支出和农林水利气象等部门的事业费持续增加
B. 1966年至1985年支援农村生产支出和农林水利气象等部门的事业费持续增加
C. 1986年至2003年支援农村生产支出和农林水利气象等部门的事业费持续增加
D. 1950年至2003年支援农村生产支出和农林水利气象等部门的事业费持续增加

为反映我国工业企业自主创新能力现状，了解企业开展创新活动的政策环境以及企业家对创新的认知程度，国家统计局近期对我国工业企业的创新情况进行了一次专项调查。

调查结果显示，2009—2011年间，全国开展创新活动的规模以上工业企业有8.6万家，占全部规模以上工业企业的28.8%。其中大型企业中开展创新活动的企业所占比重为83.5%，中型企业为55.9%，小型企业为25.2%。

分行业看，开展创新活动的企业较为密集的行业主要分布在医药制造业（63.8%），仪器仪表及文化、办公用机械制造业（60.9%），专用设备制造业（46.6%），通信设备、计算机及其他电子设备制造业（46.5%）等高新技术或中高技术行业。传统制造业及非制造业工业开展创新活动的企业所占比重相对较低，如纺织业为24.2%，采矿业为12.2%，电力、燃气及水的生产、供应业为15.7%。

分地区看，东、中、西部地区开展创新活动的企业占本地区规模以上工业企业的比重分别为28%、31.6%和9.6%，东部地区虽然低于中部地区，但东部地区开展创新活动企业的数量达到6.1万家。

创新经费来源情况可以从一个侧面反映政府支持企业创新的政策环境。调查结果表明，在全部规模以上工业企业创新活动经费中，企业资金占82.8%，金融机构贷款占9.3%，政府资金占3.4%，国外资金和其他资金分别占0.8%和3.7%。

调查结果表明，2011年我国规模以上工业企业实现新产品销售收入39606.1亿元，占当年主营业务收入的比重为12.7%；新产品出口额为8686.8亿元，占当年全部工业制成品出口额的11.9%。

分企业规模看，大型、中型和小型企业分别实现新产品销售收入21002.4亿元、10404.5亿元和8199.1亿元，占主营业务收入的比重分别为18.6%、11.1%和7.7%。

106. 2009—2011年间，全国规模以上工业企业约有：

- A. 2.41万家 B. 29.86万家 C. 24.08万家 D. 2.99万家

107. 开展创新活动的企业较为密集的行业主要分布在：

- A. 纺织业 B. 电力、燃气及水的生产、供应业
C. 医药制造业 D. 采矿业

108. 东部地区开展创新活动企业的数量达6.1万家，占全国开展创新活动规模以上工业企业的：

- A. 9.6% B. 31.6% C. 28% D. 70.9%

109. 2011年我国全部工业制成品出口额为：

- A. 72998.3亿元 B. 1033.7亿元 C. 9720.5亿元 D. 39606.1亿元

110. 下列说法正确的是：

- A. 全国近两成的工业企业开展了创新活动
B. 开展创新活动企业数量所占比重随企业规模由小到大依次递减
C. 企业资金是创新经费的主要来源
D. 表明企业规模越小，创新活动的成效越强

按性别、年龄和事由分外国入境旅游人数		单位：万人次	
指标 \ 年份	2010年	2011年	
总计	1693.25	2025.51	
按性别分			
男	1120.40	1321.15	
女	572.85	704.36	
按年龄分			
14岁及以下	64.15	79.93	
15—24岁	131.97	164.46	
25—44岁	828.82	979.74	
45—64岁	588.27	703.84	
65岁以上	80.05	97.55	
按目的分			
会议/商务	386.14	459.81	
观光休闲	741.21	934.46	
探亲访友	37.62	40.54	
服务员工	175.48	201.16	
其他	352.80	389.54	

111. 2010年男性外国入境旅游人数占总入境游人数的比重约为：

- A. 82.6% B. 33.8% C. 66.2% D. 51.4%

112. 2011年年龄不超过24岁的入境旅游人数累计占总入境旅游人数的：

- A. 约8% B. 约12% C. 约25% D. 约4%

113. 2011年以观光休闲为目的入境旅游人数占总入境旅游人数的：

- A. 约36.8% B. 约46.1% C. 约29.69% D. 约59.8%

114. 2011年外国入境旅游总人数与2010年相比较：

- A. 约提高了19.6% B. 约提高了2.7% C. 约下降12.1% D. 约下降6.9%

115. 以下说法正确的是：

- A. 2011年半数以上外国入境旅游者不超过65岁
 B. 2011年半数以上外国入境旅游者是女性
 C. 2011年半数以上外国入境旅游者目的是为了探亲访友
 D. 都不正确

2011年A市进出口总额1.56亿美元，其中，出口总额1.02亿美元；进口总额0.54亿美元。出口大于进口4765万美元。

全年对美国出口590万美元，比上年下降24%；对香港地区出口260万美元，下降60%；对日本出口1718万美元，增长14.6%；对韩国出口2915万美元，增长54%；对俄罗斯出口154万美元，增长73%。年末，全市对外贸易国家（地区）共97个。

2011年进出口总额及其增长速度

指标	绝对数（万美元）	比上年增长%
进出口总额	15602	-14.5
出口额	10182	-24.8
其中：一般贸易	9430	-26
加工贸易	83	-49
其中：机电产品	1428	-51
高新技术产品	740	56
其中：国有企业	4398	-46
三资企业	2907	47
其他企业	2877	7.5
进口额	5420	14.9
其中：一般贸易	4676	7.5
加工贸易	717	724.1

116. 2011年A市的第一大出口国是：

- A. 美国 B. 韩国 C. 日本 D. 俄罗斯

117. 以下从表中可以推出的结论不正确的是：

- A. A市的加工贸易进出口额极不稳定 B. 2010年国有企业出口总额约为8144万美元
 C. 2011年A市对外贸易逆差4762万美元 D. A市对外贸易以出口为主

118. 2011年国有企业的出口额占全部出口额的比重约为：

- A. 25.2% B. 32.5% C. 43.2% D. 19.8%

119. 2010年A市对美国出口额约为：

- A. 776万美元 B. 732万美元 C. 448万美元 D. 484万美元

120. 2010年进出口额之差为：

- A. 8943万美元 B. 7213万美元 C. 6480万美元 D. 8823万美元

扫一扫，对答案

