

2012年河北省公务员录用考试《行测》真题（考生回忆版）

更新时间：2024年12月09日15:05:08

扫描下方二维码下载星光公考APP 刷海量题库掌握最新热点



QQ扫码直接下载
微信扫码到应用市场下载
支持所有机型哦

第一部分 - 言语理解与表达

本部分包括表达与理解两方面的内容。请根据题目要求，在四个选项中选出一个最恰当的答案。

1. 有的人有一个轰轰烈烈的生，却留下一个默默无闻的死；有的人有一个默默无闻的生，却有一个轰轰烈烈的死。有的人显赫一时，却只能成为匆匆的过客；有的人潦倒终生，却成为历史天空闪亮的星斗。

这段话谈论的是：

- A. 人的生命价值 B. 人的生活方式 C. 人的地位区别 D. 人生变幻无常

2. 古语云：“疾风知劲草。”经历严峻的考验，方可知晓谁才是真正坚强的人。那么，换在一个顺风顺水的环境里，难道就无法试炼出一个人的意志、品格吗？

这段文字表述的观点是：

- A. 顺意的环境很难考验一个人的意志 B. 关键时刻才能识别谁是真正的强者
C. 日常工作照样能够考验一个人的意志 D. 平淡的生活也能了解一个人的品格

3. 辛亥年到来的时候，似乎没有迹象表明，这将是这个铁血帝国的最后一年。这一年是从隆裕皇太后万寿圣节（正月初十）的歌舞升平开始的，而在这一年行将结束的十二月二十五（公元1912年2月12日），隆裕却颁布了一纸退位诏书，中国的封建政权就此曲终人散。历史的急转直下，在当时绝大多数人（包括革命领袖）看来，都是不可思议的。

上面一段文字，意在说明：

- A. 大清帝国何以灭亡 B. 历史潮流不可阻挡 C. 辛亥革命何以成功 D. 历史发展有其规律

4. 在社会生活中，每一个人都渴望得到别人的欣赏，同样，每一个人也要学会欣赏别人。欣赏与被欣赏是一种互动的力量源泉，欣赏必然具有愉悦之心、仁爱之怀、成人之美之善念；被欣赏必然产生自尊之心、奋进之力、向上之志。因此，让我们在生活中多一些欣赏。

最能概括这段文字的是：

- A. 欣赏与被欣赏 B. 欣赏是一种善良 C. 欣赏是一种理解 D. 我们要学会欣赏

5. 经度差异是影响物候的一个因素。凡是近海的地方，比同纬度的内陆，冬天温和，春天反而寒冷。所以沿海地区春天的来临比内陆要迟若干天，如大连在北京以南约一度，但在大连，连翘和榆叶梅的盛开都比北京要迟一个星期。又如石家庄苹果树开花在四月中或谷雨节，沧州要到立夏。两地纬度相差无几，但沧州靠海，春天便来得迟了。

这段文字说明的内容是：

- A. 相同纬度沿海地区比内陆春天来得晚 B. 经度差异不是影响物候的主要因素
C. 凡是近海地方的春天都比内陆要迟 D. 沿海地区的春天一般会比内陆要迟

6. 生活中，一个好的心态，可以使你乐观豁达；一个好的心态，可以使你战胜面临的苦难；一个好的心态，可以使你淡泊名利，过上真正快乐的生活。人类几千年的文明史告诉我们，积极的心态能帮助我们获取健康、幸福和财富。

上面这段文字告诉我们：

- A. 人与人之间千差万别，但心态决定人生 B. 一个人成功与否，主要取决于他的心态
C. 一个健全的心态，比一百种智慧更有力量 D. 你不能控制环境，你可以调整自己的心态

7. 孤独是一个人的狂欢，是心灵的独舞。能够忍受孤独、勇于享受孤独的人并不多，在孤独中有大成者就更少。面对孤独，尤其是长时间的孤独，是需要很大的勇气的。所以，孤独是勇敢者的专利。小说家赫胥黎说：“越伟大，越有独创精神的人越喜欢孤独。”因为人可以在社会中学习，灵感却只有孤独的时候才会涌现出来。

最适合做本段文字的标题的是：

- A. 孤独是勇敢者的专利 B. 孤独需要勇气 C. 伟大的心灵需要独舞 D. 孤独激发灵感

8. 大爆炸模型已被科学界广泛接受，但它没有解决宇宙起源的问题。宇宙起源的学说有若干，但只有霍金的量

子宇宙学是既自给又自足的。宇宙的境界条件是它没有边界，这样就把宇宙的量子态确定下来，赋予宇宙学以可预见性。霍金和他的合作者利用费恩曼的路径积分给出宇宙的波函数，人们可以将宇宙视为演化的过程，也可以认为整个演化就是存在。

这段文字主要介绍的是：

- A. 科学家是如何解决宇宙起源问题的
- B. 量子宇宙学如何描述宇宙的存在
- C. 霍金是个伟大的宇宙科学家
- D. 霍金和他的合作者一起创立了量子宇宙学

9. 关于贫困，巴菲特是这样看待的：“对于一个人的成长来说，贫困可以磨砺一个人的志气，可以使人养成吃苦耐劳的品质，知道更加珍惜现有的一切，从这个角度讲贫困是事业成功的推动器。贫困就像深埋在地下的煤炭，能挖掘出来就是财富，挖不出来，还是贫困。而要把潜在财富变为现实财富，则取决于多种因素，环境机遇、人的能力品质、正确判断、奋斗精神，缺一不可。贫困是财富还是苦难，关键在于我们自己，有人被贫困压倒，一辈子窝窝囊囊，有人则在贫困面前崛起，终究成就了一番大事业，强者与弱者的区别仅此而已。”

上面这段文字意在强调：

- A. 贫困可以使人养成吃苦耐劳的品质，是事业成功的推动器
- B. 把潜在的贫困挖掘出来变成财富取决于多种不可或缺的因素
- C. 强者与弱者的区别就在于是否被贫困压倒
- D. 贫困可以是财富，也可以是苦难，关键是看你怎么去对待

10. 蚂蚁大抵不会欣赏猎豹，也无法欣赏猎豹，因为两者之间的距离相去甚远。蚂蚁在地上爬，猎豹一掠而过，蚂蚁从何欣赏起呢？就算蚂蚁有幸爬上了猎豹的身子，它能欣赏到的也只是猎豹的皮毛，怎能欣赏到猎豹的矫健？再幸运一些，蚂蚁上了树，自上而下看猎豹，能看到些什么呢？也一样什么都看不到，既然无法欣赏，也就绝对无从知道猎豹是什么样的动物。

对这段文字的正确理解是：

- A. 蚂蚁和猎豹是两种差别很大的动物
- B. 蚂蚁不知道猎豹是什么样的动物
- C. 蚂蚁不具备欣赏猎豹的基本能力
- D. 蚂蚁的欣赏能力与自身的条件有关

按照人的自我发展历程、实现人生价值和精神自由的高低程度，人生境界可分为四个层次，即欲求境界、求知境界、道德境界和审美境界。

最低的境界为“欲求境界”。人生之初，在这种境界中只知道满足个人生存所必须的最低欲望，故以“欲求”称之。当人有了自我意识，并且生活于越来越高级的境界时，此种最低境界仍潜存于人生之中。现实中也许没有一个成人的精神境界会低级到唯有“食色”的欲求境界，而丝毫没有一点高级境界。以欲求境界占人生主导地位的人是境界低下而“趣味低级”的人。

第二种境界为“求知境界”。在这一境界，自我作为主体，有了进一步认知作为客体之物的规律和秩序的要求。有了知识，掌握了规律，人的精神自由程度、人生的意义和价值就大大提升了一步。所以，求知境界不仅从心理学和自我发展的时间进程来看在欲求境界之后，而且从哲学和人生价值、自由之现实的角度来看，也显然比欲求境界高一个层次。

第三种境界为“道德境界”。它和求知境界的出现几乎同时发生，也许稍后，就此而言，把道德境界列在求知境界之后，只具有相对的意义，但从现实人生意义与价值的角度和实现精神自由的角度而言，则道德境界高于求知境界，是不待而言的。发展到这一水平的“自我”具有了责任感和义务感，这也意味着他有了自我选择、自我决定的能力，把自己看作是命运的主人，而不是听凭命运摆布的小卒。

人生的最高精神境界是“审美境界”。这是因为此时审美意识超越了求知境界的认识关系，它把对象融入自我之中，而达到情景交融的意境；审美意识也超越了求知境界和道德境界中的实践关系，这样，审美境界既超越了认识的限制，也超越了功用、欲念和外目的以及“应该”的限制，而成为超然于现实之外的自由境界。

在现实的人生中，这四种境界错综复杂地交织在一起。很难想象一个人只有其中一种境界而不掺杂其他境界，只不过现实的人，往往以某一种境界占主导地位，其他次之。于是我们才能在日常生活中区分出某人是低级境界、低级趣味的人，某人是高级境界、高级趣味的人，某人是以道德境界占主导地位的道德家，某人是以审美

境界占主导地位艺术家……

11. 关于“人生境界”的理解，符合原文意思的一项是：

- A. 它存在于人的自我发展历程中，体现着实现人生价值和精神自由的高低程度
- B. 它由四个层次组成，从幼年到成人，人的每一个时期都要经历这四个层次
- C. 现实生活中，人生境界是由从低到高的四种境界错综复杂地交织在一起的
- D. 人生境界表现错综复杂，不同层次的人生境界分别主导着人生的不同阶段

12. 对于“求知境界”与“道德境界”关系的表述，不符合原文意思的一项是：

- A. 把“道德境界”列在“求知境界”之后，并不意味着前者比后者出现得晚
- B. 到了“求知境界”，人具备了知识，为“道德境界”的产生创造了条件
- C. 责任感与义务感使“道德境界”不同于“求知境界”，并高于“求知境界”
- D. “道德境界”中的“自我”已经根本不同于“求知境界”中的“自我”

13. 下列表述，符合原文意思的一项是：

- A. “欲求境界”是人生的最低境界，是具有高级境界的人所极为排斥的
- B. “求知境界”中的“自我”已不再满足于个人生存所必须的最低欲望
- C. “道德境界”中的人具有了责任感和义务感而有意识地不再关注自我
- D. “审美境界”是人生最高的精神境界，这是一种超自然的自由境界

14. 原文中低级境界、低级趣味的人是指：

- A. 具有动物本能行为的人
- B. 由于生活原因而缺乏求知欲望的人
- C. 欲求境界占人生主导地位的人
- D. 低级趣味在所有趣味中所占比例较大的人

15. 下列各项中，对全文理解概括比较准确的一项是：

- A. 人不仅要生活，而且要活出较高层次的境界来
- B. 人生的最高境界是超越功用、欲念等世俗的限制
- C. 人的自我发展历程就是由低级到高级的演变过程
- D. 在现实的人生中，四种境界错综复杂地交织在一起

16. 倘只见阳光，不见_____，只见愉悦欢笑，不见_____，那么这不是生活的本意。

依次填入横线部分最恰当的一项是：

- A. 阴霾 悲伤泪泣
- B. 云雾 悲哀伤痛
- C. 阴云 悲痛伤感
- D. 云雾 哀痛忧伤

17. 当讲述自己幼年读书的时光时，作者_____的叙事，使人有如临其境之感，好像也回到了童年读书时代，并从中受到了强烈的_____。

依次填入横线部分最恰当的一项是：

- A. 惟妙惟肖 震撼
- B. 娓娓动听 感染
- C. 活泼俏皮 触动
- D. 精辟深刻 感动

18. ①穿越灾难，我们更加懂得，人类是自然之子，在大自然的怀抱中孕育、进化、生长，我们_____要认识自然，还要敬畏自然、善待自然。

②网络使现代人的阅读行为发生了革命性的变化：眼睛常常在网上快速、便捷地“暴走”，_____才进行一次“细嚼慢咽”式的传统纸质阅读。

依次填入横线部分最恰当的一项是：

- A. 不光 有时
- B. 不只 偶尔
- C. 必须 偶然
- D. 不仅 碰巧

19. 有道是“无欲则刚”，一个人只有_____私欲，一切从大局出发，才能得到人们的理解与尊重。这样一个拥有无私境界的人，他所说的话，能不让人_____吗？

依次填入横线部分最恰当的一项是：

A. 抛弃 相信 B. 放弃 佩服 C. 摒弃 信服 D. 丢弃 信任

20. ①虽然他尽了最大的努力，还是没能_____住对方凌厉的攻势，痛失奖杯。

②能源短缺，加上恶劣的自然条件，极大地_____着这个小镇经济的发展。

③那些见利忘义的人，不仅为正人君子所_____，还可能滑向犯罪的深渊。

依次填入横线部分最恰当的一项是：

A. 抵挡 限制 不耻 B. 遏止 束缚 不容
C. 阻止 约束 厌恶 D. 遏制 制约 不齿

21. ①虚心接受批评的人，不为眼前的一时之气所累，他们有着常人所不及的目光和气度，在生活中往往显得_____，拥有更高的威望。

②在人际交往中，每个人的言谈举止所传递出的信息如同密码一样纷乱，我们需要用敏锐的目光去发现，用睿智的心智去破译，正所谓察言观色、_____。

依次填入横线部分最恰当的一项是：

A. 卓尔不群 见微知著 B. 鹤立鸡群 鉴往知来
C. 曲高和寡 见始知终 D. 独占鳌头 见仁见智

22. ①追求成熟，已经成为当今社会的一种_____：尤其是涉世不深的年轻人，更想以老到、_____的面孔引起别人对自己的注意和重视。

②事物的发展一旦停滞_____趋于保守，就将走向灭亡，_____为新生事物所取代。

依次填入横线部分最恰当的一项是：

A. 时髦 深刻 或 而 B. 时尚 深刻 和 从而
C. 时尚 深沉 或 从而 D. 时髦 深沉 和 而

23. 文学如泉，越品越见_____；文学如茶，越品越觉_____；文学如酒，越品越感_____。在文学的陶冶下，你会发现自己少了一份浮躁，多了一份宁静；少了一份庸俗，多了一份雅致；少了一份世故，多了一份纯真。

依次填入横线部分最恰当的一项是：

A. 清冽 芳香 醇美 B. 清香 醇厚 醇美
C. 淳厚 清冽 甘美 D. 清冽 幽香 醇厚

24. 现代社会，科学传播不可能起到_____的效果，如果谁这样想，谁就会_____科学，最终将会危害科学。

依次填入横线部分最恰当的一项是：

A. 立竿见影 误解 B. 马到成功 误会 C. 一蹴而就 曲解 D. 立见成效 歪曲

25. ①建设文明单位，首先要_____文明单位的量化指标，再按指标对单位进行考评。

②培养公民的法制观念是一个长期过程，_____从学生时代就进行法制教育_____起到潜移默化的作用。

依次填入横线部分最恰当的一项是：

A. 制订 必须 方可 B. 决定 只能 才会
C. 明确 只要 就能 D. 确定 只有 才能

26. 下面各组词语中划线字的读音，完全正确的一项是：

A. 宽恕(shù) 涟漪(yī) 根深蒂固(tì)
B. 焮痛(chì) 朔方(shuò) 锲而不舍(qiè)
C. 阔绰(chuò) 诘责(jí) 即物起兴(xìng)
D. 颀首(hán) 不逊(xùn) 广袤无垠(mào)

27. 下列每组词语中都有一个错别字，它们是：

①荒诞不经 合辙押韵 形消骨立 祁寒溽暑

- ②如愿以偿 股肱之臣 甚嚣尘上 推心至腹
③众志成城 鸠形鹄面 慷慨大方 张皇失措
④风餐露宿 重峦叠障 形影相吊 瞻前顾后
- A. 湔 至 皇 吊 B. 经 肱 鹄 瞻
C. 辙 嚣 诚 瞻 D. 消 至 诚 障

28. 下列句子中括号中的词语运用有误的一项是：

- A. 禾苗把鸭鹊湖（伪装）成无边的草原，一条机耕道在稻田间蜿蜒着没入远方。
B. 我们阅读名著不仅能得到艺术的享受，而且能获得人生的（启迪）。
C. 大街小巷，人头攒动，大家（望眼欲穿），期盼着奥运冠军凯旋归来。
D. 站在山顶四处眺望，只见经过退耕还林的山区风景秀丽，（进退维谷）。

29. 下列各组词语中，没有错别字的一组是：

- A. 驰骋 掉书袋 讪然成章 文过饰非 有志者事竟成
B. 寒暄 俯卧撑 慷慨悲歌 披肝历胆 事实胜于雄辩
C. 因循 故纸堆 兢兢业业 稗官野史 英雄所见略同
D. 安详 连锁店 故名思义 轻歌曼舞 万变不离其宗

30. 下列各句中，括号内成语使用恰当的一项是：

- A. 这些福娃形象可爱，（栩栩如生），是最受欢迎的奥运纪念品。
B. 在“五个一工程”的推动下，基层群众的文艺创作热情（水涨船高）。
C. 蛙鸣像波浪一样在夜色里此起彼伏，（络绎不绝）。
D. 卢浮宫里那精美的室内装修和古典家具真让人（流连忘返）。

31. 下列句子中，没有语病的一句是：

- A. 法制的漏洞、体制的弊端和政策的不完善，导致贫富差距拉大到世界公认的警戒线，从而导致了一系列的社会影响。
B. 我们要把改善民生、保障民生、关注民生作为一切工作的目的和出发点。
C. 能否积极利用和有效管理互联网，关系到社会主义文化事业和文化产业的健康发展，是国家文化信息安全和国家长治久安的有力保障。
D. 要建立出租车运价与油价联动机制，就是当油价上升突破一定界限时，相应加收燃油附加费；当油价回落时，下调或停收燃油附加费。

32. 下列句子中，有语病的一句是：

- A. 构建和谐社会，光靠行政命令与严厉的执法是不行的。以和为贵的思维与长期不懈促进互信的举措，都是值得大力鼓励的。
B. 在就业难的大环境下，相当多的应届毕业生认同“先就业再择业”，先抢到个“饭碗”，工作几年后，再换一份待遇更高的新工作。
C. 许多城市的限购政策到期之后是否持续，一些地方政府态度暧昧，三缄其口，骨子里所想的，无非是取消“限购令”，迎接房地产业所谓的“春天”。
D. 周立波在他主持的节目《壹周立波秀》里批评了很多人。他的言辞虽然尖刻甚至偏激，但是谁又能否认他说的没有道理呢？

33. 下列各句中，语意明确的一句是：

- A. 他背着总经理和副总经理偷偷地把这笔钱分别存入了两家银行。
B. 这次考试不难，但由于他准备得不够充分，差点儿就没及格。
C. 祁爱群看见组织部新来的援藏干部很高兴，于是两人亲切地交谈起来。
D. 因患病住院，83岁高龄的黄昆和正在美国的姚明没能到场领奖。

34. 为下列句子排列顺序，使其意思连贯。正确的一项是：

- ①他最初的职能与一个看管自行车的大爷没什么两样
- ②事实上，世界上最早的金匠银行家是只存不贷的
- ③时间长了，他开始考虑如何盘活这些沉睡的资产，于是就有了放贷和利息
- ④存户有了零散的金子就存到他那里，他收取一定的管理费

- A. ④①③② B. ②④③① C. ②④①③ D. ④①②③

35. 为下列句子排列顺序，使其意思连贯。正确的一项是：

- ①面对身边诸多纠结，多一点智慧和勇气，保持一份平和心态，可助我们削弱“纠结”的纠缠
- ②随着现代生活节奏的加快，生活压力的增大，“纠结”的事越来越多
- ③如今，随着信息技术的快速发展，“纠结”一词率先在网络上爆红，不但使用率颇高，而且使用更加广泛灵活
- ④纠结的本意就是“相互缠绕”，常作动词用。语出唐代诗人李白的《古意》一诗：“枝枝相纠结，叶叶竞飘扬。”

- A. ③②④① B. ③④①② C. ②①④③ D. ②④③①

第二部分 - 数量关系

在这部分试题中，每道试题呈现一段表述数字关系的文字，要求你迅速、准确地计算出答案。你可以在草稿纸上运算。

36. 4, 11, 27, 61, ()

- A. 106 B. 117 C. 131 D. 163

37. 1+3, 2+2, 1+1, 2+3, 1+2, 2+1, ()

- A. 2×2 B. 2+3 C. 3×1 D. 1+3

38. 224, 194, 168, 146, 128, ()

- A. 116 B. 114 C. 102 D. 98

39. 1, 2, 8, (), 1024

- A. 64 B. 176 C. 682 D. 988

40. 0, 2, 4, 3, 8, 6, ()

- A. 9 B. 12 C. 14 D. 15

41. $292929 \div 161616 \times 112 =$

- A. 174 B. 190 C. 203 D. 206

42. 要把21棵桃树栽到街心公园里5处面积不同的草坪上，如果要求每块草坪必须有树且所栽棵数要依据面积大小各不相同，面积最大的草坪上至少要栽几棵：

- A. 7 B. 8 C. 10 D. 11

43. 某乡镇对集贸市场36种食品进行检查，发现超过保质期的7种，防腐添加剂不合格的9种，产品外包装标识不规范的6种。其中，两项同时不合格的5种，三项同时不合格的2种。问三项全部合格的食品有多少种：

- A. 14 B. 21 C. 23 D. 32

44. 某通讯公司对3542个上网客户的上网方式进行调查，其中1258个客户使用手机上网，1852个客户使用有线网络上网，932个客户使用无线网络上网。如果使用不只一种上网方式的有352个客户，那么三种上网方式都使用的客户有多少个：

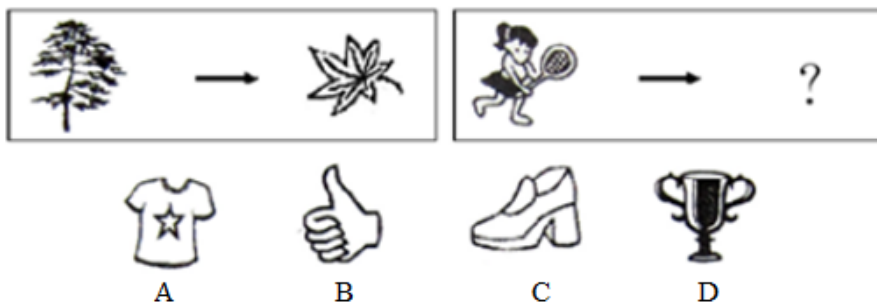
- A. 148 B. 248 C. 350 D. 500

45. 一直角三角形的两直角边的长度之和为14，假如这个三角形的周长与面积数值相等，那么该三角形的面积为：
 A. 20 B. 22.5 C. 24 D. 24.5
46. 某单位发当月的工资，已知甲的工资为4500元，若甲取出工资的75%，乙取出工资的 $\frac{1}{3}$ ，则甲的工资余额是乙的工资余额一半，那么乙当月的工资是多少元：
 A. 1125 B. 3375 C. 4500 D. 6000
47. 某商品2月份价格较1月份上涨了20%，由于政府调控政策的出台，3月份该商品价格又下降了20%，问该商品3月份的价格与1月份的价格相比：
 A. 涨高了 B. 持平 C. 降低了 D. 不能确定
48. 一名事业单位职工1978年参加工作时月工资总额是49.5元，2012年其月工资是1978年的112倍且每月还多11元，改革开放以来这名职工月工资增加了多少元：
 A. 5050 B. 5505.5 C. 5545 D. 5555.5
49. 一个农贸市场2斤油可换5斤肉，7斤肉可换12斤鱼，10斤鱼可换21斤豆，那么27斤豆可换几斤油：
 A. 3 B. 4 C. 5 D. 6
50. 某草莓种植基地利用恒温库储存草莓准备反季节销售。据测算，每储存1斤草莓可增加收入2.5元。小王去年收获草莓5吨，当时市场价为每斤3元，如果都利用恒温库储存，小王的草莓收入可以达到：
 A. 27500元 B. 32500元 C. 45000元 D. 55000元

第三部分 - 判断推理

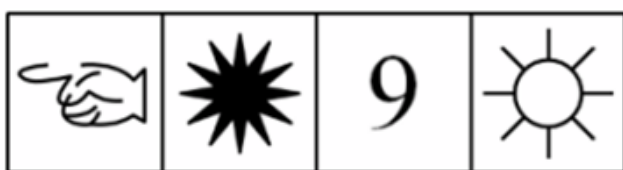

本部分包括图形推理、定义判断、类比推理与逻辑判断四种类型的试题，请按每道题的答题要求作答。

51. 请从所给的四个选项中，选择最合适的一个填入问号处，使之呈现一定的规律性：【2012河北051】



- A. 如图所示 B. 如图所示 C. 如图所示 D. 如图所示


52. 从所给的四个选项中，选择最合适的一个填入问号处，使之呈现一定的规律性：【2012河北052】



A B C D

- A. 如图所示 B. 如图所示 C. 如图所示 D. 如图所示

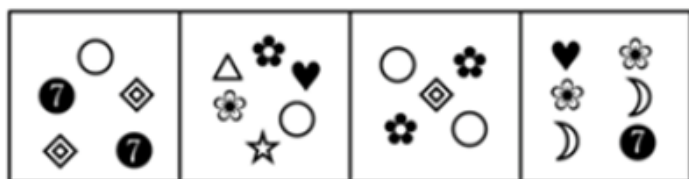
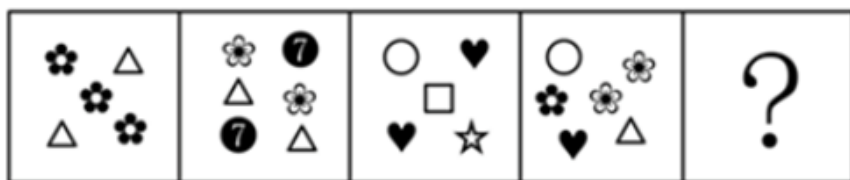
53. 请从所给的四个选项中，选择最合适的一个填入问号处，使之呈现一定的规律性：【2012河北053】



A B C D

- A. 如图所示 B. 如图所示 C. 如图所示 D. 如图所示

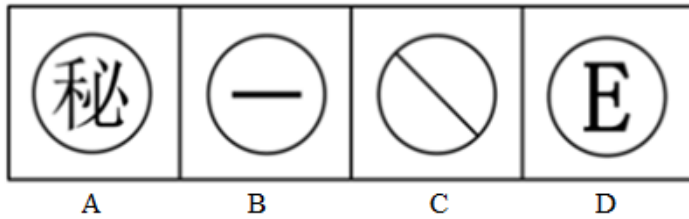
54. 从所给的四个选项中，选择最合适的一个填入问号处，使之呈现一定的规律性：【2012河北054】



A B C D

- A. 如图所示 B. 如图所示 C. 如图所示 D. 如图所示

55. 下列哪个图有别于其他三个：【2012河北055】



- A. 如图所示 B. 如图所示 C. 如图所示 D. 如图所示

56. 东施效颦：中国历史上“四大美女”之一的西施有心痛的毛病。犯病时手扶住胸口，皱着眉头，比平时更美丽。同村女孩东施学着西施的样子扶住胸口，皱着眉头，因其本来就长得丑，再加上刻意地模仿西施的动作，装腔作势的怪样子，让人更加厌恶。

用下面哪个词来解释成语东施效颦最合适：

- A. 独辟蹊径 B. 标新立异 C. 盲目模仿 D. 照猫画虎

57. 心理防御机制是指个体面临挫折或冲突的紧张情境时，在其内部心理活动中具有的自觉或不自觉地解脱烦恼、减轻内心不安，以恢复心理平衡与稳定的一种适应性倾向。

根据上述定义，下列不属于心理防御机制范畴的是：

- A. 学生考试不及格时就说教师评分不公或试题太偏
B. 运动员在遇到自己力所不及的困难训练时，产生头痛、手足麻木等症状
C. 某职工产生对上级的不满情绪，在家中对亲人发泄出来
D. 某人因身体发育有缺陷而努力学习，以卓越成绩赢得别人的尊重

58. 暴力文化是反映暴力行为发生过程、后果及暴力行为规范的文化，属亚文化范畴。暴力文化是暴力犯罪的诱因，对于正处于社会化过程中的青少年影响尤为深刻，必须采取一系列的针对性措施抵御和消除暴力文化的不良影响。

根据上述定义，下列不属于暴力文化范畴的是：

- A. 乱起绰号、推举“最差”等玩闹 B. 宣扬所谓“狼道”的书报
C. 以“野蛮”为审美时尚的影视剧 D. 具有“血腥”的网络游戏

59. 劳动纠纷是指劳动者与用人单位之间因执行劳动法律、法规或履行劳动合同、集体合同发生的争执。

根据上述定义，下列行为属于劳动纠纷的是：

- A. 因为不满装修质量，房主与装修工人发生纠纷
B. 两家生产同种产品的企业因为工资存在差别而发生纠纷
C. 工人因反对不发放加班工资而与用人单位发生的争执
D. 工人因不满经理的领导方式而与之发生争执

60. 快乐是人们主观感受到的愉悦的身心状态，也是一种由对存在世界认知与体验形成的幸福感、满意状态带来的多个层次的体验过程。

根据上述定义，下列不能称其为快乐的是：

- A. 一个人从优质的食物、洁净的环境、宽敞的居所感受到的东西
B. 一个人对生活、社会、员工、收入、职业、社会和自然环境有最大的满足度
C. 一个人对健康、亲情、收入、职业、社会和自然环境有最大的满足度
D. 一个人从经济行为和活动中所获得的更多的福利

61. 地方性法规是指地方立法机关为贯彻执行宪法、法律、行政法规的规定所制定和颁布的规范性文件，它仅在其管辖的区域内具有效力。其前提是不违背宪法、法律、行政法规的规定。

根据上述定义，下列属于地方性法规的是：

- A. 甲村民委员会一致讨论通过的不得向河里乱扔垃圾的规定

- B. 乙县政府办公室下达的关于饲养动物饲料配方的有关规定
C. 丙市政府颁布并从即日起实施的加强食品安全监管的十项措施
D. 丁省人大常委会发布的《丁省实施〈中华人民共和国水法〉办法》

62. 教育是培养人的活动。狭义的教育是指教育者根据一定的社会要求，有目的、有计划、有组织地对受教育者的身心施加影响，把他们培养成为社会所需要的人的活动。它可以分为学校教育、社会教育、家庭教育等类型。广义上讲，凡是增进人们的知识和技能，影响人们的思想品德的活动，都是教育。但是，教育有好差之分，培养人也有方向的区别。

根据上述定义，下列不属于教育范畴的是：

- A. 孩子们抢着看电视节目
B. 家长教孩子礼貌用语
C. 学校组织同学参观博物馆
D. 传销组织对新成员进行培训

63. 环境标准是指国家根据人体健康、生态平衡、社会经济发展对环境结构、状态的要求，在综合考虑本国自然环境特征、科技水平和经济条件的基础上，对环境要素间的配比、布局和各环境要素的组成及进行环保工作的某些技术要求加以限定的规范。

根据上述定义，下列不属于环境标准的是：

- A. 国家关于严禁使用大排气量轿车的规定
B. 国家关于评定卫生城市的标准细则
C. 有关部门严厉扫除“黄赌毒”的规定
D. 冶金设备烟尘排放量检测指标

64. 360度考评也称360度反馈评价，是指对员工进行评价时由与被评价者有密切关系的人分别匿名对被评价者进行评价，包括被评价者对自己的评价。

根据上述定义，下列哪些人不适合做360度考评的评价人：

- A. 被评价者的上级
B. 被评价者的下属
C. 被评价者的客户
D. 被评价者的同行

65. 有价证券是指有票面金额，证明持有人有权按期取得一定收入并可自由转让和买卖的所有权或债权凭证。有价证券是虚拟资本的一种形式，它本身没价值，但有价格。

根据上述定义，下列不属于有价证券的是：

- A. 印花税票
B. 银行定期存单
C. 承兑汇票
D. 增值税专用发票

66. 寥寥无几：屈指可数

- A. 巧舌如簧：左右逢源
B. 九牛一毛：微不足道
C. 五花八门：斑驳陆离
D. 车水马龙：门可罗雀

67. 长江：青海

- A. 珠江：云南
B. 海南：海河
C. 黄河：西藏
D. 新疆：辽河

68. 实践：认识

- A. 矛盾：发展
B. 内因：外因
C. 整体：部分
D. 物质：意识

69. 文明：野蛮

- A. 拥护：反抗
B. 聪慧：愚钝
C. 愚昧：贫困
D. 强调：判断

70. 恐慌：地震

- A. 税收：差距
B. 落后：封闭
C. 天灾：人祸
D. 自卑：歧视

71. 共产党员：模范

- A. 矛盾：统一
B. 文凭：智商
C. 企业家：MBA
D. 新陈代谢：生命

72. 眼镜：镜片

- A. 饮水机：桶装水
B. 汽车：轮胎
C. 墙体：开关
D. 公园：园丁

73. 涨价：滞销

- A. 暴雨：泥泞 B. 晴朗：天气 C. 土壤：灌溉 D. 企业：成本
74. 竹片：刻刀：文字
A. 电脑：印刷：书刊 B. 钢铁：机器：汽车 C. 炎热：空调：降温 D. 土地：铁锹：庄稼

75. 学生：军训：体能
A. 患者：治疗：健康 B. 农民：增产：粮食 C. 干部：发展：国家 D. 制度：改变：和谐

76. 要对社会现象作出正确的分析判断，即使是地区性的，也一定要走进现实社会中进行调查研究，绝不能凭空臆度。要明白事情的因果关系，建立有关的理论，不能没有实际资料，以供验证理论之用。所以（ ）。

- A. 从事社会研究的人，同时也是从事实践工作的人
B. 依据实际的资料做社会研究，则一定具有理论性
C. 要从事社会研究，不能不从实际工作中收集资料
D. 社会研究并不复杂，只需要有实际资料就可以了

77. 某单位有五名业务骨干小张、小王、小赵、小丁、小李参加了一次技能测验，他们的测验成绩呈现为：小赵没有小李高，小张没有小王高，小丁不比小李低，而小王不如小赵高。

请问，小张、小王、小赵、小丁、小李测验成绩谁最高：

- A. 小丁 B. 小王 C. 小赵 D. 小张

78. 一般病菌多在温室环境生长繁殖，低温环境停止生长，仅能维持生命。而耶尔森氏菌却恰恰相反，不但怕低温寒冷，而且只有在0℃左右才大量繁殖。冰箱里存储的食物，使耶尔森氏菌处于最佳生长状态。

由此可以推出：

- A. 耶尔森氏菌在室温环境无法生存 B. 一般病菌生长的环境也适合耶尔森氏菌生长
C. 耶尔森氏菌的最佳生长温度不适合一般病菌 D. 0℃环境下，冰箱里仅存在耶尔森氏菌

79. 公司购进一批电脑作为员工的办公电脑，对此，甲、乙、丙三人各有判断。

甲说：“有的员工没有分到电脑。”

乙说：“并非所有的员工都没分到电脑。”

丙说：“市场部的小丁，到现在都没有分到电脑呢。”

如果上述三句判断只有一句是真的，则以下关于公司的判断，哪项一定为假：

- A. 市场部的小丁分到了电脑 B. 销售部有的员工分到了电脑
C. 人力资源部的员工都分到了电脑 D. 研发部除新入职的小刘外，都分到了电脑

80. 电子计算机大众化——计算机管理社会——计算机技术人员道德低下——计算机管理情报泄密——计算机特殊机件普及化——计算机操作人员增加——企业全部管理业务计算机化。

如果上述的情况同时存在，将会产生的必然后果是：

- A. 计算机犯罪率上升 B. 侵害个人隐私 C. 计算机过敏症增加 D. 业务人员失业者增加

81. 一家果品公司销售果酱。每箱有三罐果酱，果酱共有葡萄、橘子、草莓、桃子、苹果五种口味。每罐果酱只含一种口味。必须按照以下条件装箱：

- ①每箱必须包含两种或三种不同的口味
②含有橘子果酱的箱里必定至少装有一罐葡萄果酱
③桃子果酱与苹果果酱不能装在同一箱内
④含有草莓果酱的箱里必定至少有一罐苹果酱；但是，含有苹果果酱的箱里并不一定有草莓果酱

下列哪一箱果酱是符合题设条件的呢：

- A. 一罐桃子果酱、一罐草莓果酱和一罐橘子果酱
B. 一罐橘子果酱、一罐草莓果酱和一罐葡萄果酱
C. 两罐草莓果酱和一罐苹果果酱

D. 三罐桃子果酱

82. 阅读下面的文字，完成各题。一家果品公司销售果酱。每箱有三罐果酱，果酱共有葡萄、橘子、草莓、桃子、苹果五种口味。每罐果酱只含一种口味。必须按照以下条件装箱：

- ①每箱必须包含两种或三种不同的口味；
 - ②含有橘子果酱的箱里必定至少装有一罐葡萄果酱；
 - ③桃子果酱与苹果果酱不能装在同一箱内；
 - ④含有草莓果酱的箱里必定至少有一罐苹果果酱；但是，含有苹果果酱的箱里并不一定有草莓果酱
- 除了哪种情况外，其余各种装箱均符合题设条件：

- A. 葡萄果酱和桃子果酱 B. 桃子果酱和苹果果酱 C. 橘子果酱和桃子果酱 D. 草莓果酱和苹果果酱

83. 阅读下面的文字，完成各题。一家果品公司销售果酱。每箱有三罐果酱，果酱共有葡萄、橘子、草莓、桃子、苹果五种口味。每罐果酱只含一种口味。必须按照以下条件装箱：

- ①每箱必须包含两种或三种不同的口味；
 - ②含有橘子果酱的箱里必定至少装有一罐葡萄果酱；
 - ③桃子果酱与苹果果酱不能装在同一箱内；
 - ④含有草莓果酱的箱里必定至少有一罐苹果果酱；但是，含有苹果果酱的箱里并不一定有草莓果酱
- 下面哪一箱，加上一罐草莓果酱后便可符合题设条件：

- A. 一罐桃子果酱和一罐橘子果酱 B. 两罐苹果果酱
C. 一罐葡萄果酱和一罐橘子果酱 D. 两罐橘子果酱

84. 材料：阅读下面的文字，完成各题。一家果品公司销售果酱。每箱有三罐果酱，果酱共有葡萄、橘子、草莓、桃子、苹果五种口味。每罐果酱只含一种口味。必须按照以下条件装箱：

- ①每箱必须包含两种或三种不同的口味；
 - ②含有橘子果酱的箱里必定至少装有一罐葡萄果酱；
 - ③桃子果酱与苹果果酱不能装在同一箱内；
 - ④含有草莓果酱的箱里必定至少有一罐苹果果酱；但是，含有苹果果酱的箱里并不一定有草莓果酱。
- 一罐橘子果酱，一罐桃子果酱，在加上一罐什么果酱，便可装成一箱：

- A. 葡萄果酱 B. 橘子果酱 C. 草莓果酱 D. 桃子果酱

85. 阅读下面的文字，完成各题。一家果品公司销售果酱。每箱有三罐果酱，果酱共有葡萄、橘子、草莓、桃子、苹果五种口味。每罐果酱只含一种口味。必须按照以下条件装箱：

- ①每箱必须包含两种或三种不同的口味；
 - ②含有橘子果酱的箱里必定至少装有一罐葡萄果酱；
 - ③桃子果酱与苹果果酱不能装在同一箱内；
 - ④含有草莓果酱的箱里必定至少有一罐苹果果酱；但是，含有苹果果酱的箱里并不一定有草莓果酱
- 一罐橘子果酱再加上下列哪两罐果酱即可装成一箱：

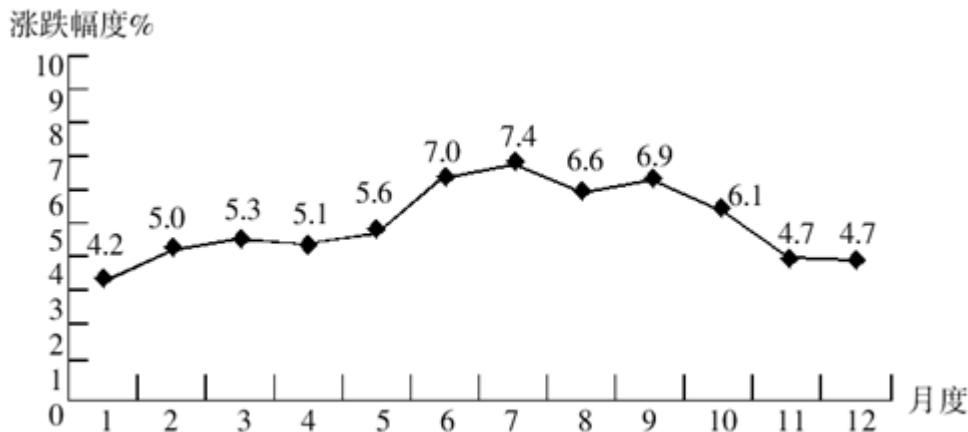
- A. 一罐橘子果酱与一罐草莓果酱 B. 两罐橘子果酱
C. 一罐葡萄果酱与一罐草莓果酱 D. 两罐葡萄果酱

第四部分 - 资料分析

针对下列图、表或文字回答问题。你应根据资料提供的信息进行分析、比较、计算、处理。你可以在题本上运算。

根据下面提供的信息完成各题。由于气候、流通环节等原因，2011年河北省食品价格上涨12.2%；烟酒价格上涨3.3%；衣着价格上涨1.2%；家庭设备用品及维修服务价格上涨1.8%；医疗保健及个人用品价格上涨3.0%；交通和通信价格上涨0.2%。

2011年河北省居民消费价格涨跌幅度（月度同比）



资料来源：河北省2011年国民经济和社会发展统计公报

86. 2011年河北省全年居民消费价格比上年上涨多少：

- A. 5.7% B. 5.9% C. 6.0% D. 6.1%

87. 2011年河北省居民消费食品价格总指数是多少：

- A. 103.3 B. 105.7 C. 112.2 D. 116.1

88. 2011年河北省居民消费价格上涨自几月份开始回落？回落几个百分点：

- A. 7、2.7 B. 8、0.8 C. 7、0.8% D. 8、2.7%

89. 河北省统计局2012年3月22日公布，2012年前两个月，全省物价涨幅继续回落，居民消费价格同比上涨4.2%，涨幅同比回落了多少个百分点：

- A. 0 B. 0.4 C. 0.8 D. 5

90. 对2011年河北省居民消费价格变动情况的概括，最恰当的一项是：

- A. 河北省各类价格指数呈现明显上涨态势，仍然处于高位运行
 B. 经过多方努力，各类价格指数继续呈现明显的高位回落态势
 C. 省委、省政府积极应对复杂形势，我省经济保持平稳较快发展
 D. 党中央、国务院采取有效措施，物价过快上涨势头得到扭转

根据下面提供的信息完成各题。金砖国家领导人第四次会晤于2012年3月28日至29日在印度新德里举行。为了深入了解金砖五国经济社会发展的基本情况，根据国家统计局《金砖国家联合统计手册(2011)》列表如下：

金砖国家经济社会指标比较

指标	巴西	中国	印度	俄罗斯	南非
国土面积（万平方公里）	852	960	329	1710	122
人口（万人）	19070	133787	118211	14191	4999
GDP（现价，亿美元）	20898	58790	12930	14651	3630
进出口总额（亿美元）	4783	24466	4655	5439	1996
外汇储备（亿美元）	2886	28473	2791	4058	438
谷物产量（万吨）	6845	49700	20361	6100	
原油产量（万吨）	10397	20300	3351	50500	259
发电量（亿千瓦时）	4751	42065	8425	2596	
铁路里程（公里）	30837	91000	64000	85600	20953
公路里程（公里）	1735612	3984000	2600000		
每千人拥有的电话主线（条）	310	221	370	320	
公共教育支出占GDP的比重（%）	4.3	3.6	3.8	4.3	10.1

91. 金砖国家人均GDP(现价)最高的国家是:

- A. 印度 B. 俄罗斯 C. 中国 D. 巴西

92. 金砖国家中农业具有相对优势的国家是:

- A. 俄罗斯 B. 中国 C. 印度 D. 巴西

93. 我国人均外汇储备在金砖国家中排在第几位:

- A. 一 B. 二 C. 三 D. 四

94. 金砖国家人口密度(人/平方公里)由低到高排序为:

- A. 巴西、俄罗斯、南非、中国、印度 B. 南非、巴西、俄罗斯、印度、中国
C. 俄罗斯、巴西、南非、中国、印度 D. 印度、中国、南非、巴西、俄罗斯

95. 已知我国和巴西的耕地面积分别为12172和6449万公顷, 由此可以得出:

- A. 我国与巴西相比更重视粮食生产 B. 巴西大部分耕地都种植经济作物
C. 我国谷物平均亩产远远高于巴西 D. 巴西经济发展的重点是第二产业

根据下面提供的信息完成各题。国家统计局公布的《2011年城乡居民收入增长情况》称, 通过对全国31个省(自治区、直辖市)7.4万户农村居民家庭和6.6万户城镇居民家庭进行抽样调查, 2011年全国农村居民人均纯收入6977元, 比上年增加1058元。剔除价格因素影响, 实际增长11.4%, 增速同比提高0.5个百分点。其中: 人均工资性收入2963元, 同比增长21.9%。

人均家庭经营第一产业纯收入2520元, 增加289元, 增长12.9%; 人均家庭经营二三产业纯收入702元, 增加101元, 增长16.7%; 人均转移性收入563元, 增加110元, 增长24.4%。

工资性收入对全年农村居民增收的贡献率达50.3%。工资性收入占农村居民纯收入的比重达42.5%, 同比提高1.4个百分点。工资性收入快速增长主要是由于农民工工资水平上涨较多。人均农业纯收入1897元, 增加173元, 增长10.0%。收成好、价格高是农业收入保持较快增长的主要原因。2011年农村居民出售农产品增加的收入中, 六成来自于价格上涨因素, 四成来自于出售数量增加因素。

96. 2011年全国农村居民人均纯收入比上年增长多少:

- A. 17.9% B. 17.8% C. 15.7% D. 15.2%

97. 2011年全国农村居民人均工资性收入同比增加多少元:

- A. 831 B. 765 C. 649 D. 532

98. 剔除价格因素影响, 2010年全国农村居民人均纯收入同比增长速度是多少:

- A. 10.9% B. 11.9% C. 12.1% D. 17.9%

99. 由于政府实行粮食保护价格等政策, 2011年农村居民人均增加的农业收入中来自于价格因素的达到多少元:

- A. 69 B. 104 C. 114 D. 173

100. 从调查数据可以看出, 目前我国农村居民家庭收入主要来源于:

- A. 工资性收入和家庭经营性收入
B. 农民工工资收入和农业纯收入
C. 农、林、牧、渔业收入和工资性收入
D. 工资性收入、经营性收入、财产性收入、转移性收入

第五部分 - 常识判断

根据题目要求, 在四个选项中选出一个最恰当的答案。

101. 深化文化体制改革, 要坚持公益性文化事业和经营性文化产业协调发展。发展“经营性文化产业”的根本任务是:

- A. 保障人民群众基本的文化权益
B. 繁荣文化市场，满足人民群众多方面多层次多样化的文化需求
C. 构建覆盖全社会的比较完备的公共文化服务体系
D. 加快文化产业基地和区域性特色文化产业群建设
102. 中国共产党的纪律，是党的各级组织和全体党员必须共同遵守的准则和言论、行为规范。概括地说，党的纪律就是党规党法，是党内的基本法规。党的最重要的纪律是：
A. 组织纪律 B. 财经纪律 C. 群众纪律 D. 政治纪律
103. 行政法规是国务院为领导和管理国家各项行政工作，根据宪法和法律，并且按照《行政法规制定程序条例》的规定而制定的各类法规的总称。我国行政法规的名称中，“规定”是指：
A. 用于针对特定事件而采取的特定处置办法
B. 用于对某一方面的行政工作进行比较全面系统的规定
C. 用于对某一项行政工作进行部分的规定
D. 用于对某一方面的行政工作进行部分的规定
104. 政府通过调节利率来调节总需求水平，以促进充分就业、稳定物价和保持经济增长的一种宏观经济管理对策，我们称之为：
A. 财政政策 B. 金融政策 C. 货币政策 D. 收入政策
105. 中国共产党河北省第八次代表大会于2011年11月18日至22日在石家庄召开。大会确立的今后五年我省经济社会发展的奋斗目标是：
A. 建设经济强省、和谐河北 B. 加快推进社会主义新农村建设
C. 改善农民生产生活条件和增加农民收入 D. 一产抓特色、二产抓提升、三产抓拓展
106. 2012年3月5日，第十一届全国人民代表大会第五次会议在人民大会堂开幕，温家宝总理在政府工作报告中部署了2012年的“九大任务”，排在首位的是：
A. 保持物价总水平基本稳定 B. 加快转变经济发展方式
C. 促进经济平稳较快发展 D. 促进农业稳定发展和农民持续增收
107. 运用试管香蕉技术来推广优良香蕉品种，这种技术属于：
A. 基因工程 B. 发酵工程 C. 酶工程 D. 细胞工程
108. 中国历史上儒家思想经过2000多年的不断发展形成了较完整的理论体系。其中荀子对儒家思想的改造主要表现为：
A. 提倡“仁政” B. 主张“礼法并用” C. 提倡“以德服人” D. 提出“天人感应”
109. 世界市场，也叫国际市场，是通过世界范围的商品交换和商品流通把各国市场紧密联系起来的总体。它主要是指：
A. 各国之间的商品流通活动 B. 各国之间的科学技术联系
C. 各国之间的思想文化交流 D. 各国之间的劳务相互交换
110. 我国国有经济在国民经济发展中的主导作用，主要通过下列哪方面体现出来：
A. 国有资产在社会总资产中的量的优势 B. 国有大型企业和企业集团的规模和实力
C. 对经济发展的控制力和其市场竞争力 D. 国家对市场活动的正确指导和有效调控
111. 新中国成立以来，特别是改革开放30多年来，我国立法工作取得了举世瞩目的成就。建立起了以_____为统帅，以宪法相关法、民法、商法等多个法律部门的法律为主干的中国特色社会主义法律体系，国家经济建设、政治建设、文化建设、社会建设以及生态文明建设的各个方面均实现了有法可依。
A. 最高人民法院 B. 中国共产党 C. 法律 D. 宪法

112. 下列行为属于行政处罚的范围是：

- A. 某食品药品监督管理局责令某食品厂召回其不符合食品安全标准的上市食品
- B. 某工商局对一企业有效期届满未申请延续的营业执照予以注销
- C. 某卫生局对流行性传染病患者强制隔离
- D. 某公安交管局暂扣违章驾车张某的驾驶执照六个月

113. 根据《国务院关于开展新型农村社会养老保险试点的指导意见》的规定，开始领取新农养老金的年龄是：

- A. 男60周岁，女55周岁
- B. 男女同为55周岁
- C. 男女同为60周岁
- D. 男55周岁，女50周岁

114. 毛泽东1925年在《中国社会各阶级的分析》中指出，中国过去一切革命斗争成效甚少的主要原因是：

- A. 没有找到革命的新道路
- B. 没有扩大民主主义宣传
- C. 没有到群众中做实际的调查
- D. 没有团结真正的朋友以攻击真正的敌人

115. 在中国近代史上，中国人民对外来侵略进行了英勇顽强的反抗，但都是以中国的失败、中国政府被迫签订丧权辱国条约而告终。从中国内部分析，其根本原因是：

- A. 军事战略的错误
- B. 社会制度的腐败
- C. 经济技术的落后
- D. 思想观念的保守

116. “从一个较长的历史时期来说，改革会使人人受益”，但“改革不是一首田园诗，它伴随着眼泪和痛苦”。对这两句话包含的哲学道理理解正确的是：

- A. 量变是质变的前提和必要准备，质变是量变的必然结果
- B. 事物的发展是前进性和曲折性的统一
- C. 矛盾的主要方面决定事物的性质
- D. 矛盾双方在一定条件下相互转化

117. “三教九流”中的“三教”，通常是指：

- A. 天、地、人
- B. 儒、法、墨
- C. 儒、佛、道
- D. 儒、道、阴阳

118. 下列国家属于我国陆上邻国的是：

- A. 阿富汗
- B. 白俄罗斯
- C. 伊朗
- D. 日本

119. 我国的京剧脸谱色彩含义丰富，红色一般表示忠勇侠义，白色一般表示阴险奸诈。而黑色一般表示的则是：

- A. 忠耿正直
- B. 刚愎自用
- C. 大公无私
- D. 凶暴残忍

120. 红外线是太阳光线中众多不可见光线的一种，由德国科学家霍胥尔于1800年发现。它之所以不能被人看到是因为：

- A. 超出了可见光谱范围
- B. 低于视觉刺激阈限
- C. 不能刺激锥体细胞
- D. 不能刺激棒体细胞

121. 每一种食物都有特殊的营养成分，食物搭配得当既美味又有利于营养吸收，促进健康，搭配不当则不仅不能吸收原有的营养成分，反而在一定程度上会损害人体的健康。下列食物搭配得当的是：

- A. 虾与维生素C
- B. 鸭肉与山药
- C. 螃蟹与茄子
- D. 红糖与皮蛋

122. 河北历史悠久，文化底蕴丰厚，具有勤劳善良、爱国明礼、重义守信的文化遗产和优秀的革命传统。在河北十大历史文化名城（镇）中，有“京西第一府”美誉的是：

- A. 邯郸
- B. 蔚县
- C. 宣化
- D. 山海关

123. 全球变暖为蚊子、苍蝇和病原微生物等提供了最佳的滋生繁衍条件，从而可以导致某些疾病的大流行。下列哪种疾病不会因此而流行：

- A. 疟疾
- B. 登革热
- C. 心脏病
- D. 流行性脑炎

124. 近年来，“瘦肉精”、“地沟油”等食品安全恶性事件不断发生，食品安全防线的失守告诉我们，光是整治企业，问题并不能得到根本解决，在监管方面，还有大量的难题需要攻关。这表明：

- A. 内因要通过外因起作用
B. 外因在事物发展中起决定性作用
C. 内因是事物发展的条件
D. 事物的发展是内外因共同作用的结果

125. 降低大气中二氧化碳的含量，植树造林是比较好的措施，因为植物在光合作用时可大量地吸收二氧化碳，释放出氧气。植物吸收的这些二氧化碳在细胞内的哪个部位被合成了有机物：

- A. 线粒体
B. 叶绿体
C. 中心体
D. 高尔基体

扫一扫，对答案

