

2012年湖北省公务员录用考试《行测》真题（考生回忆版）

更新时间：2024年12月09日15:06:10

扫描下方二维码下载星光公考APP 刷海量题库掌握最新热点



QQ扫码直接下载
微信扫码到应用市场下载
支持所有机型哦

第一部分 - 常识判断

根据题目要求，在四个选项中选出一个最恰当的答案。

1. 2011年12月中央经济工作会议提出“牢牢把握发展实体经济这一坚实基础”。下列产业中属于实体经济的是：

- ①房地产业 ②仓储服务业 ③旅游产业 ④收藏业 ⑤电信产业
- A. ③⑤ B. ②③⑤ C. ①②③⑤ D. ①②③④⑤

2. 下列论断属于邓小平同志在1992年“南方谈话”时提出的是：

- A. 社会主义首先要发展生产力 B. 社会主义也可以搞市场经济
- C. 中国要警惕“右”，但主要是防止“左” D. 搞建设至少不比搞革命容易

3. 小轿车的挡风玻璃设计成倾斜的，而大货车的挡风玻璃却是竖直的。下列与挡风玻璃设计角度无关的因素是：

- A. 漫反射 B. 镜面反射 C. 车身高度 D. 平面成像

4. 中国古典戏剧作品塑造了王昭君、李香君、杜丽娘和崔莺莺等经典女性形象，下列作品与上述人物对应关系正确的是：

- A. 《西厢记》—《汉宫秋》—《桃花扇》—《牡丹亭》
- B. 《西厢记》—《桃花扇》—《汉宫秋》—《牡丹亭》
- C. 《汉宫秋》—《桃花扇》—《牡丹亭》—《西厢记》
- D. 《汉宫秋》—《牡丹亭》—《桃花扇》—《西厢记》

5. 我国作为非成员国参加的政府间国际组织是：

- A. 上合组织 B. 东盟十国 C. 金砖国家 D. G20

6. 为提高社会管理科学化水平，全国各地积极出台加强和创新社会管理的措施，下列措施中不属于创新社会管理的是：

- A. 组织社区志愿者开展邻里互动活动 B. 提高临床一线医护人员的待遇水平
- C. 通过微博向群众提供政务服务资讯 D. 设奖鼓励市民投诉举报食品安全问题

7. 地球自西向东旋转，纬度越低，线速度越高。假设其他因素都相同，下列消耗燃料最少的卫星发射方案是：

- A. 发射场设在海口，朝东经方向发射 B. 发射场设在漠河，朝东经方向发射
- C. 发射场设在海口，朝西经方向发射 D. 发射场设在漠河，朝西经方向发射

8. 古人归纳总结出许多观天象识天气的谚语。下列与天气变化无关的谚语是：

- A. 朝霞不出门，晚霞行千里 B. 天上鱼鳞云，地下雨淋淋
- C. 东风是个精，不下也要阴 D. 百日连阴雨，总有一日晴

9. 关于我国兵役制度，下列表述错误的是：

- A. 我国实行义务兵与志愿兵相结合、民兵与预备役相结合的兵役制度
- B. 普通高等学校毕业生征集服现役的年龄可以放宽至二十四周岁
- C. 义务兵服现役的期限为三年，士官服现役的期限一般不超过三十年
- D. 士兵预备役的年龄为十八周岁至三十五周岁，根据需要可适当延长

10. 关于我国“战国七雄”地理位置描述准确的是：

- A. 齐国的纬度最高 B. 楚国的纬度最低 C. 燕国的经度最小 D. 秦国的经度最大

11. 下列选项中三国典故与哲学论断对应错误的是：

- A. 士别三日，当刮目相看——用发展的眼光看问题
- B. 草船借箭——人可以认识并利用规律
- C. 张飞醉酒失徐州，借酒破张郃——矛盾是对立统一的
- D. 望梅止渴——理性认识依赖于感性认识

12. 要了解一件艺术品、一个艺术家，必须正确地设想他们所属的时代精神和风俗概况。要解读玛格丽特·米切爾的《飘》，我们应了解的重大历史事件是：

- A. 美国南北战争 B. 美西战争 C. 美国独立运动 D. 美国西进运动

13. 下列关于二十四节气说法错误的是：

- A. 雨水、谷雨反映降水现象 B. 立春、春分反映季节变化
C. 惊蛰、清明反映自然物候现象 D. 小满、芒种与农作物成熟和收成相关

14. 下列表述错误的是：

- A. 维生素是维持生命生长代谢的有机物，但维生素本身不会产生能量
B. 茶碱具有兴奋中枢神经的功用，但也会刺激胃黏膜、使人产生不适
C. 食盐在体内以氯离子和钠离子形式存在，参与体内酸碱平衡的调节
D. 氨基酸是人体不可缺少的营养成分，人体可以合成的是必需氨基酸

15. 中美关系是全球最重要的双边关系之一，中美建交前后曾发生过以下事件：①邓小平访美 ②中美发布上海联合公报 ③尼克松总统访华 ④福特总统访华。

按时间先后顺序排列正确的是：

- A. ②③①④ B. ②①④③ C. ①②③④ D. ③②④①

16. 如果美元贬值，因此可能产生的后果是：

- A. 以美元计价的大宗商品价格上涨 B. 世界新兴经济体将增加美元储备
C. 我国产品在美国市场竞争力上升 D. 我国经销商将减少进口美国产品

17. 《诗经·卫风·氓》中有“抱布贸丝”的说法，意指进行商品交易。下列与“布”具有相同作用的物品是：

- A. 交子 B. Q币 C. 贝壳 D. 支票

18. 下列产品或劳务应计入当年GDP的是：

- A. 某人持有国债的利息收入 B. 某人购买的一套二手房
C. 某企业当年生产的库存品 D. 某人在家从事家务劳动

19. 某村民委员会下列做法符合法律规定的是：

- A. 村民丙全家转为城市户口，村委会取消丙承包期内的承包权
B. 村民乙外出经商，村委会不同意乙在承包期内放弃承包权
C. 村委会规定村里的荒山不得以招标、拍卖等形式实行承包经营
D. 村委会规定凡是嫁往外地的本村妇女，承包地应一律归还村委会

20. 某小区召开业主大会，会上物业管理处马主任现场解答业主的提问，其中符合法律规定的是：

- A. 未经业主委员会同意，顶楼业主不得私自封闭屋顶天台
B. 未经业主委员会同意，开发商无权出售架空层内的车库
C. 经物业管理处同意，业主可在自家临街外墙设置广告牌
D. 经工商行政管理部门许可，业主可将自家住宅改为商店

第二部分 - 言语理解与表达

本部分包括表达与理解两方面的内容。请根据题目要求，在四个选项中选出一个最恰当的答案。

21. 最近三个月的二手房市场成交量已接近2008年下半年市场最低迷时期的水平。但是，此轮调控是我国政府主动为之，与2008年房地产市场因遭遇_____的国际金融危机而陷入低迷不同。当下的房价调整并不均衡，不同于2008年房价_____，无可遏制的逐波下行。

依次填入划横线部分最恰当的一项是：

- A. 意想不到 日薄西山 B. 措手不及 江河日下

C. 出其不意 应声而下

D. 猝不及防 泥沙俱下

22. 目前，不少企业在市场营销活动中因缺乏对顾客消费心理的研究，常常因方法不当或举止不妥失去成交机会，致使长时间的业务洽谈_____。因此，掌握顾客的消费心理，促成顾客的购买行为已经成为企业提高营销水平的_____。

依次填入划横线部分最恰当的一项是：

A. 毁于一旦 必由之路

B. 功亏一篑 当务之急

C. 前功尽弃 长久之计

D. 功败垂成 万全之策

23. 越来越多的年轻观众对京剧缺乏了解，不懂得欣赏京剧的美；还有一部分人对舶来品_____，认为都比国内的好，对于自己国家的传统艺术，却认为是老土的、过时的东西，而_____。

依次填入划横线部分最恰当的一项是：

A. 另眼相看 不屑一顾

B. 一见钟情 充耳不闻

C. 刮目相看 嗤之以鼻

D. 青眼有加 不足挂齿

24. 名校办分校是近年来冒出来的新生事物，这项举措受到各方意见的_____：“名校连锁”是否_____，是否与义务教育均衡发展_____。

依次填入划横线部分最恰当的一项是：

A. 质疑 有名无实 背道而驰

B. 质询 名不副实 南辕北辙

C. 质疑 名存实亡 分道扬镳

D. 质询 名实不符 不谋而合

25. 艺术必须拒绝融入现实，从而保持一种_____的姿态。艺术之美所包含的自由、欢悦与人性是日常现实所_____的，同时也不会为纷繁的日常现实所消蚀，所掩盖。

依次填入划横线部分最恰当的一项是：

A. 鹤立鸡群 匮乏

B. 出类拔萃 缺少

C. 与众不同 缺乏

D. 卓尔不群 匮乏

26. 城市的人居环境和城市发展要坚持发展和保护双赢、坚持当前发展和长远规划相结合：离开经济搞环境是_____，而脱离环境搞发展则是_____。

依次填入划横线部分最恰当的一项是：

A. 升山采珠 饮鸩止渴

B. 缘木求鱼 竭泽而渔

C. 刻舟求剑 杀鸡取卵

D. 南辕北辙 从长计议

27. 100多年前，英国人威里璧只能依靠租用的马队完成漫漫的西藏探险历程。今天，当世界各地的旅行者和探险家_____，驱车饱览雪域高原神秘文化和秀美风光的时候，_____的公路交通网早已把最初探索者们留下的艰难足迹_____在历史风尘中。

依次填入划横线部分最恰当的一项是：

A. 纷至沓来 纵横交错 湮没

B. 接踵而至 车水马龙 埋没

C. 络绎不绝 川流不息 消逝

D. 摩肩接踵 井井有条 消失

28. 当天下午，加尔各答的唐人街可谓_____，人们扶老携幼，喜气洋洋地来到当地著名的科学城礼堂观看_____的文艺演出。当《春节序曲》等全球华人_____的乐曲响彻整个表演大厅时，整个大厅变成了一片欢庆的海洋。

依次填入划横线部分最恰当的一项是：

A. 倾巢而出 奇观异彩 耳闻则诵

B. 人头攒动 五彩缤纷 烂熟于心

C. 摩肩接踵 妙趣横生 口口相传

D. 万人空巷 异彩纷呈 耳熟能详

29. 支持新农保制度建设，各级政府_____。各地财政再困难，财力再紧张，也要优先_____资金，确保新农保补贴资金足额、及时到位。

依次填入划横线部分最恰当的一项是：

A. 不可推卸 调节 B. 在所不辞 调动 C. 责无旁贷 调剂 D. 当仁不让 调控

30. “徒法不足以自行”，在目前公车管理还不甚规范的大环境下，单一的公车尾号限行政策值得_____，真要实行的话，要_____其负面作用。至少，要_____拿出措施防止公车因此而增加。

依次填入划横线部分最恰当的一项是：

A. 商议 提防 临阵磨枪 B. 商榷 谨防 未雨绸缪
 C. 商讨 警惕 居安思危 D. 商量 防备 有备无患

31. 畲族民歌、舞蹈_____，畲族传统手工艺别具一格，畲族饮食节俗古朴有趣，畲族的语言、医药_____。这些独特的地域文化和无可替代的民族文化差异，奠定了畲族文化的特殊地位。

依次填入划横线部分最恰当的一项是：

A. 匠心独运 另成一派 B. 生机盎然 自成一家
 C. 别具匠心 异军突起 D. 独树一帜 自成一体

32. 文字可将一个人思考之所得传诸他人，于是不仅可以_____，而且可以利用他人的思考为出发点。文字发展成为传至远方与后世的书籍，书籍也就成了人类思考结果的库藏。读书者可以从此库藏中_____，手执一卷可以上对邃古的哲人，远对绝域的学者，而仿佛亲聆其以言词_____毕生思考的心得。

依次填入划横线部分最恰当的一项是：

A. 群策群力 任意索求 显露 B. 集思广益 予取予求 吐露
 C. 传承文明 随心所欲 倾诉 D. 取长补短 无厌求取 诉说

33. 克罗地亚在入欧盟的过程中，将国内仅有的数十家大型国企卖给了外国投资者，而很多工厂企业也在入欧盟改革中纷纷关闭，有人说这将使得克罗地亚的发展_____。但是，克罗地亚目前的经济水平比起欧盟中那些负债累累的国家来说还是要_____。现在看来，加入欧盟后克罗地亚将负担援助他国的义务才是大问题，这恐怕与克罗地亚人的预期_____。

依次填入划横线部分最恰当的一项是：

A. 难以可期 聊以自慰 相差甚大 B. 难以实现 稍胜一筹 相去甚远
 C. 难以为继 略胜一筹 相差甚远 D. 难以持续 后来居上 相去良多

34. 中国古代货币，是世界上起源最早的货币之一。它_____，对古代世界上国际经济交往，特别是亚洲各国货币的发展有着相当_____的影响。

依次填入划横线部分最恰当的一项是：

A. 历史久远 重大 B. 历史悠久 深刻 C. 亘古长青 久远 D. 源远流长 深远

35. 下列运用成语“巧夺天工”正确的一项是：

A. 壶口瀑布形成了茫茫的冰道，奇形怪状的冰柱错落有致，浑然天成，好像巧夺天工的冰雕。
 B. 三峡各具特色，山有行姿，水呈百态，奇俊秀丽，巧夺天工。
 C. 翘首西望，海面托着的就是披着银发的苍山。苍山如屏，洱海如镜，真是巧夺天工。
 D. 贵州境内不仅分布着大量巧夺天工的自然景观，而且保存着多姿多彩的民族文化。

36. 中国女足很长一段时间陷于_____，国人对女足的关注似乎仅_____。2011年8月21日，中国女足最终获得大运会女足冠军，铿锵玫瑰再次_____在球场上，国人不禁回想起当年中国女足的辉煌。

依次填入划横线部分最恰当的一项是：

A. 低迷 昙花一现 绽放 B. 低落 电光火石 开放
 C. 低潮 弹指之间 怒放 D. 低回 转瞬之间 盛放

37. 央视龙年春晚，_____的3D舞台让观众大开眼界。导演组在许多方面突破以往固定思维，_____打造出一台特色鲜明的晚会。龙年春晚现场360度大舞台，配合设计独特的高清视效屏幕，播放特效十分惊人，逼真程度让观众觉得_____。

依次填入划横线部分最恰当的一项是：

- A. 金碧辉煌 力图 栩栩如生 B. 光彩夺目 竭力 身当其境
C. 宏伟华丽 试图 置身其中 D. 美轮美奂 力求 身临其境

38. “不负众望”与“不孚众望”，仅一字之差，但其义_____，作为公益型国企的石油石化、电网、通信服务等，一定要心系国家利益和人民利益，并把国家利益和人民利益放在首位，做到“_____”，切忌“_____”。

依次填入划横线部分最恰当的一项是：

- A. 迥然不同 不负众望 不孚众望 B. 天差地别 不负众望 不孚众望
C. 泾渭分明 不孚众望 不负众望 D. 大相径庭 不孚众望 不负众望

39. 嫦娥二号7米分辨率全月球影像色调_____，层次_____，图像_____。影像图的空间分辨率、影像质量、镶嵌精度、数据一致性和完整性等优于国际同类产品，达到国际领先水平。

依次填入划横线部分最恰当的一项是：

- A. 一致 丰富 清晰 B. 丰富 一致 清晰
C. 清晰 丰富 一致 D. 丰富 清晰 一致

40. 北魏孝文帝亲政后，面对着阶级、民族矛盾日益激化的政治形势，不得不_____，推行一些改革措施，如_____俸禄制、均田制等。

依次填入划横线部分最恰当的一项是：

- A. 洗心革面 实行 B. 改弦更张 颁行 C. 痛改前非 施行 D. 改弦易辙 履行

41. 许多人很崇尚言论自由，以为言论自由就可以解决思想自由的问题。实际上，言论表达的自由并不必然走向思想自由。假如我们观察网络媒体上的有些表达，就会发现它存在着一种极端化的趋势，严谨的人不一定参与表达和讨论，同时网络媒体上有许多非理性的谩骂和恶意攻击等等。结果虽然言论自由了，但一个人的思想表达很容易遭到围攻。这不是思想自由，仅仅是言论自由而已。

这段文字意在强调：

- A. 思想自由并不等同于言论自由 B. 言论自由不必然导致思想自由
C. 思想自由的前提并非言论自由 D. 言论自由将导致思想的极端化

42. 如今，电脑、手机风行于世，“键盘手”、“拇指族”便与日俱增。如此这般之下，出现年轻一代“提笔忘字”的现象，也就越来越寻常了。平素里总以为轻轻松松就能打出来的字，怎么换了用笔去写就要抓耳挠腮呢？有关专家对此已是见怪不怪，并给出了一个专业术语，叫做“电脑失写症”。有病就应该去医治，可颇让人担忧的是，这种一时忘记了几个字该如何去写的“病症”，是否真能迅速引起全社会的足够重视，又有多少人愿意未雨绸缪地敏锐警觉起来。这种“时髦”的微恙小症，会不会异变为一种“文化断层病”？

文章中的“文化断层病”指的是：

- A. “提笔忘字”的“电脑失写症” B. 汉字文化传承中出现裂痕
C. 键盘拼写汉字代替用笔写字 D. 年轻一代不再习惯用笔写字

43. 英国人类学家特纳认为，正常的“社会结构”是一种有阶层、地位、贫富差别的体制，“反结构”是没有等级之分、贫富之别、男女之别的时空，具有消除不满和发泄情绪的功能，很多重要节庆仪式就是属于“反结构”。中国古代元宵节是全民的狂欢节。在节日期间，人人尽兴而乐，可以缓解平时身体上的疲劳和精神上的压力，节日期间的一些反常行为，有利于消除人与人之间的隔阂和紧张，促进人际关系的和谐。节日期间，不分地位高低，不分富贵贫贱，不分年龄大小，君民同乐，有利于促进不同阶层的和谐，保障社会稳定。

这段文字的主要观点是：

- A. 中国古代的元宵节是“反结构”的社会产物
B. 中国古代的元宵节具有消除社会不满的功能
C. 应大力发展传统文化中“反结构”的节庆仪式

D. “反结构”的节庆仪式有利于社会的稳定和谐

44. 在所有电脑标志中，“@”是唯一入选纽约现代艺术博物馆建筑与设计收藏的标志。它也是网络世界最常用的符号。每个电子邮件都要用到它，在微博里通知他人，也要用到它。“@”在数字世界的使用最早是在1971年。美国技术研究公司BBN的一位程序员雷蒙德·汤姆林森当时正负责开发一个程序让计算机用户能够连接到阿帕网。他决定在电脑网络的地址中间插入这个符号，来区分“用户”和“终端”，这个做法后来被广泛采用，成了今天电子邮件地址的标准写法。因此，雷蒙德·汤姆林森也被称为“电子邮件之父”。

这段文字旨在说明：

- A. “@”被作为电脑符号的由来
- B. “@”在网络中是最常用的符号
- C. “@”入选现代艺术标志的原因
- D. 将“@”作为电脑符号的第一人

45. 现在电影创作对热门题材大肆重复利用，一个题材有市场，多方人马就一拥而上，这不是健康的电影生态。相比之下，对民族文化的挖掘却不多见，比如以传统节日端午节、中秋节等为背景的开发，以及对昆曲、黄梅戏等民族艺术元素的利用都很少。一旦用心去挖掘这些中华民族文化财富，呈现在创作者面前的就是一个精彩纷呈的艺术宝库，国产电影也将迎来一个百花齐放的春天。

对这段文字的主旨最准确的概括是：

- A. 国产电影不能陷入题材重复利用的误区
- B. 国产电影应该深入挖掘民族文化的宝藏
- C. 国产电影需努力摆脱不健康的生态
- D. 国产电影将迎来一个百花齐放的春天

46. 面对当前复杂的国际国内形势，我国未来产业发展将逐步呈现出两大抓手，一是适应需求结构变化趋势，加快推进传统产业技术改造；二是科学判断未来市场需求变化和技术发展趋势，加快发展战略性新兴产业。而当前全球经济竞争格局正在发生深刻变革，科技发展正孕育着新的革命性突破，发展战略性新兴产业已成为世界主要国家抢占新一轮经济和科技发展制高点的重大战略。

作者接下来最有可能论述的是：

- A. 我国应推进传统产业的技术改造
- B. 我国应加快发展战略性新兴产业
- C. 我国应推动科技进步，增强自主发展能力
- D. 我国应抢占新一轮经济和科技发展制高点

47. 中华饮食文化一向善于吸收外来饮食文化，并把它们融入其中，成为自身的一部分。鸦片战争之后，面对着紧跟枪炮而来的带着奶酪黄油味的西方饮食文化，中国人一方面看到西方人吃着半生不熟的牛排、手持杀气腾腾的刀叉时，蔑视的心理油然而生，再加上饮食本身的固有惯性，国人在对待西式饮食的态度上，表现出的是鄙视与排斥；另一方面，当看到西方人体格比我们强壮、身体比我们健康时，又不禁把它与西方的坚船利炮和强权政治联系起来。因此，也有人主张吸收西方饮食文化中的“先进”成分，强壮国人的体格、振奋国人的精神，以达到与西方人并驾齐驱的目的。

这段文字意在强调：

- A. 中国人接纳西方饮食文化的原因
- B. 中国人对西方饮食文化的复杂心理
- C. 中华饮食史是一部饮食文化的交流史
- D. 西方饮食文化对中华饮食文化的影响

48. 像昆虫叮咬能引起瘙痒一样，皮肤与植物的毒素接触也能引起瘙痒，对栎叶引起的瘙痒研究发现，当与植物的毒素接触后，皮肤细胞会释放出引起红肿和发痒的组胺，利用苯海拉明等抗组胺药物能治疗这类瘙痒，但还没有适合的药物来治疗特异反应性湿疹等引起的瘙痒，对于后者，最好的建议就是穿宽松的衣服，在任何情况下都不要用手抓痒。

下列说法与原文不符的是：

- A. 皮肤瘙痒症状相同但机理可能不同
- B. 减少皮肤摩擦有助于抑制组胺活性
- C. 苯海拉明不能治疗特异反应性湿疹
- D. 抗组胺药物可以用于治疗皮肤瘙痒

49. 由细颗粒物造成的灰霾天气对人体健康的危害甚至要比沙尘暴更大。粒径10微米以上的颗粒物，会被挡在人的鼻子外面；粒径在2.5微米至10微米之间的颗粒物，能够进入上呼吸道，但部分可通过痰液等排出体外，另外也会被鼻腔内部的绒毛阻挡，对人体健康危害相对较小；而粒径在2.5微米以下的细颗粒物吸入人体后会进入支

气管，干扰肺部的气体交换，引发包括哮喘、支气管炎和心血管病等方面的疾病。这些颗粒还会进入血液，其中的有害气体、重金属等溶解在血液中，对人体健康的伤害更大。

这段文字意在说明：

- A. 不同粒径的颗粒物对人体健康的不同影响
- B. 灾害天气中各种尺寸颗粒物的致病机理
- C. 重金属等会溶解于血液中危及人体健康
- D. 灰霾天气中的细颗粒物对人体健康伤害大

50. 海洋石油开发对海洋造成污染主要表现在：生活、生产以及自然过程中产生的废弃物、含油污水排入海洋；发生意外漏油、溢油、井喷等事故；其最大的危害是对海洋生物的影响。油膜和油块能粘住大量鱼卵和幼鱼，使鱼卵死亡、幼鱼畸形，还会使鱼虾类产生石油臭味，而成年鱼类、贝类长期生活在被污染的海水中，其体内蓄积了某些有害物质，当进入市场被人食用后则危害人类健康。防止海洋石油开发形成的污染要从加大技术革新和提高海洋石油开发工作者的环保意识抓起。

这段文字未提及海洋石油开发的：

- A. 污染表现
- B. 危害对象
- C. 污染现状
- D. 环保意识

51. 国际金融经济危机与主权债务危机相继爆发，使西方标榜的资本主义制度优越性黯然失色，迫使国际社会反思其弊端。目前无论是欧洲推崇的高福利“莱茵模式”，还是美英推崇的完全自由“盎格鲁-撒克逊模式”，均因其固有的缺陷而陷入困境。过度放纵的西方经济社会制度导致的种种弊端暴露无遗，引发全球范围内反思。

这段文字意在说明：

- A. 西方发展模式开始走下“神坛”
- B. 西方两种主流发展模式都已过时
- C. 全球应反思西方发展模式的失败
- D. 西方发展模式的弊端是过度放纵

52. 为避免养老金制度面临破产之灾，英国政府主要从四方面改革这项制度：一是增加养老保险缴费。

从2011~2012财政年度开始，雇员和雇主的缴纳比例将各上升1%，合计为25.8%。二是推迟退休年龄。无论男女领取养老金的年龄都将进一步提高。三是对职业养老金加以改革，规定第二支柱自愿职业养老金将自2012年10月起成为强制性的职业养老金，要求所有年收入7475英镑以上、年龄在22岁到法定退休年龄之间、没有参加任何职业养老金计划的劳动者都将“自动加入”职业养老金计划。四是成立了由政府资助的低成本的国家职业储蓄信托，储蓄信托具有超低的0.3%年管理费率，届时第三支柱的私人养老金、个人寿险会更多地和第二支柱融合，统一使用国家职业储蓄信托平台，从而构成英国养老金的主体。

英国政府养老金制度改革措施的实质是：

- A. 增强职业养老金制度的吸引力
- B. 增加养老金收入并节约其开支
- C. 增加更多的养老金品种以供选择
- D. 统一使用国家职业储蓄信托平台

53. 一直以来，世界音乐界认为中国没有多声部的和声艺术，复调音乐仅存于西方。上个世纪50年代，侗族大歌被中国著名音乐家郑律成偶然发现。1986年贵州侗歌合唱团赴法国演出时引起轰动，音乐界惊叹这是中国音乐史上的重大发现，从此扭转了国际上关于中国没有复调音乐的说法。侗族大歌“众低独高”、复调式的多声部合唱方式，是中外民间音乐所罕见的。

根据这段文字，下列说法错误的是：

- A. 侗族大歌改变了音乐界对中国音乐的认识
- B. 世界音乐界一向比较重视西方的复调音乐
- C. 侗族大歌具有民间音乐所罕见的合唱方式
- D. 贵州侗歌在中国音乐史上占有重要的地位

54. 网上作战是网络时代的新型侦查模式，侦查人员利用计算机、计算机网络及专门软件等辅助工具来发现犯罪、查清案件事实、收集案件证据与查缉嫌疑人。如果没有坚实的侦查基础工作，则相关犯罪信息不能被及时收集并录入专用的计算机网络，网上摸排与网上追逃也势必成为无本之木、无水之鱼；如果没有侦查协作工作与现代化的侦查管理理念，网上侦查可能不但减轻不了侦查人员的工作量，反而会成为侦查人员新的包袱。

对这段文字理解错误的是：

- A. 网上作战是网络技术与传统侦查结合的产物
- B. 侦查协作工作有助于减轻网上作战的工作量
- C. 传统的侦查理念已经不适应网上作战的需要
- D. 应正确把握网上作战与传统侦查之间的关系

55. 不论是透明的还是彩色的隐形眼镜，透氧性都是重要的指标。角膜表面没有血管，是自己独立呼吸的器官，它通过直接与空气接触来获得氧。如果角膜获得的氧不足，那么角膜上皮细胞的健康就会受到影响，抵抗力也会变弱，如果是长期缺氧，角膜就要“呼救”了：周边组织向角膜内生长入新生血管，通过血液来给角膜供氧。因此，长期戴隐形眼镜的人，_____。

填入划横线部分最恰当的一句是：

- A. 眼角膜可能会因此缺氧
- B. 眼珠边缘可能会出现红血丝
- C. 眼角膜的抵抗力可能下降
- D. 眼角膜细胞的健康就会受影响

第三部分 - 数量关系

在这部分试题中，每道试题呈现一段表述数字关系的文字，要求你迅速、准确地计算出答案。你可以在草稿纸上运算。

56. 某公司招聘员工，按规定每人至多可投考两个职位，结果共42人报名，甲、乙、丙三个职位报名人数分别是22人、16人、25人，其中同时报甲、乙职位的人数为8人，同时报甲、丙职位的人数为6人，那么同时报乙、丙职位的人数为：

- A. 5人
- B. 6人
- C. 7人
- D. 8人

57. 12个啤酒空瓶可以免费换1瓶啤酒，现有101个啤酒空瓶，最多可以免费喝到的啤酒为：

- A. 8瓶
- B. 9瓶
- C. 10瓶
- D. 11瓶

58. 某公司三名销售人员2011年的销售业绩如下：甲的销售额是乙和丙销售额的1.5倍，甲和乙的销售额是丙的销售额的5倍，已知乙的销售额是56万元，问甲的销售额是：

- A. 144万元
- B. 140万元
- C. 112万元
- D. 98万元

59. 某小区物业征集业主意见，计划从100户业主中抽取20户进行调查。100户业主中有b户户主年龄超过60岁，a户户主年龄不满35岁，户主年龄在36岁到59岁的有25户。为了使意见更具代表性，物业采取分层抽样的方法，从b户中抽取了4户，则a的值可能是：

- A. 44
- B. 50
- C. 55
- D. 66

60. A、B两地直线距离40千米，汽车P与两地直线距离和等于60千米。则以下判断正确的是：

- A. 如果A、B、P位于同一条直线上，汽车位于A、B两地之间或两地外侧
- B. 如果A、B、P位于同一条直线上，汽车位于A、B两地外侧，且汽车到A的距离为20千米
- C. 如果A、B、P不在同一条直线上，汽车所在位置有3个，可位于A、B两地之间或A、B两地外侧
- D. 如果A、B、P不在同一条直线上，汽车的位置有无穷多个

61. 某公司要在长、宽、高分别为50米、40米、30米的长方体建筑的表面架设专用电路管道连接建筑物内最远两点，预设的最短管道长度介于：

- A. 90~100米之间
- B. 80~90米之间
- C. 70~80米之间
- D. 60~70米之间

62. 甲工人每小时可加工A零件3个或B零件6个，乙工人每小时可加工A零件2个或B零件7个。甲、乙两工人一天8小时共加工零件59个，甲、乙加工A零件分别用时为x小时、y小时，且x、y皆为整数，两名工人一天加工的零件总数相差：

- A. 7个
- B. 6个
- C. 5个
- D. 4个

63. 四名运动员参加4×100米接力，他们100米速度分别为v₁、v₂、v₃、v₄，不考虑其他影响因素，他们跑400米全程的平均速度为：

- A. $\frac{1}{4}(v_1 + v_2 + v_3 + v_4)$
- B. $\frac{4}{v_1 + v_2 + v_3 + v_4}$

C. $\frac{\frac{4}{v_1} + \frac{4}{v_2} + \frac{4}{v_3} + \frac{4}{v_4}}{4}$

D. $\frac{1}{\frac{1}{v_1} + \frac{1}{v_2} + \frac{1}{v_3} + \frac{1}{v_4}}$

64. 3颗气象卫星与地心距离相等，并可同时覆盖全球地表，现假设地球半径为R，则3颗卫星距地球最短距离为：

- A. $\frac{1}{2}R$
- B. $\frac{2}{3}R$
- C. R
- D. 2R

65. 用直线切割一个有限平面，后一条直线与此前每条直线都要产生新的交点，第1条直线将平面分成2块，第2条直线将平面分成4块，第3条直线将平面分成7块，按此规律将平面分为22块需：

- A. 5条直线 B. 6条直线 C. 7条直线 D. 8条直线

66. 某停车场按以下方法收费：每4小时收5元，不足4小时按5元收取，每晚超过零时加收5元，并且每天早上8点开始重新计时，某天下午15时小王将车停入停车场，取车时缴纳停车费65元，小王停车时间t的范围是：

- A. $32 < t \leq 36$ 小时 B. $37 < t \leq 41$ 小时 C. $41 < t \leq 44$ 小时 D. $44 < t \leq 48$ 小时

67. 小王周末组织朋友自助游，费用均摊，结账时，如果每人付450元，则多出100元；如果小王的朋友每人付430元，小王自己要多付60元才刚好，这次活动人均费用是：

- A. 437.5元 B. 438.0元 C. 432.5元 D. 435.0元

68. 一项工程，甲一人做完需30天，甲、乙合作完成需18天，乙、丙合作完成需15天，甲、乙、丙三人共同完成该工程需：

- A. 8天 B. 9天 C. 10天 D. 12天

69. 从3双完全相同的鞋中，随机抽取一双鞋的概率是：

- A. $\frac{1}{6}$
- B. $\frac{1}{3}$
- C. $\frac{1}{2}$
- D. $\frac{3}{5}$

70. 某网店以高于进价10%的定价销售T恤，在售出 $\frac{2}{3}$ 后，以定价的8折将余下的T恤全部售出，该网店预计盈利为成本的：

- A. 1.6% B. 2.7% C. 3.2% D. 不赚也不亏

第四部分 - 判断推理

本部分包括图形推理、定义判断、类比推理与逻辑判断四种类型的试题，请按每道题的答题要求作答。

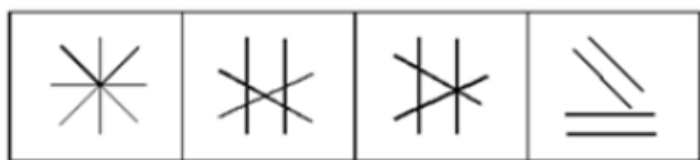
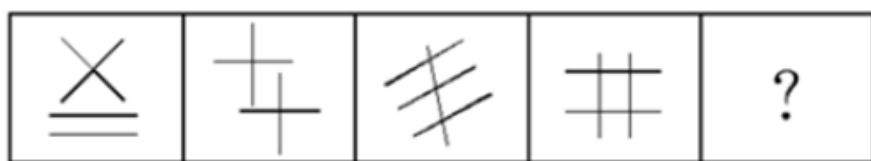
71. 从所给四个选项中，选择最合适的一个填入问号处，使之呈现一定的规律性：【2012福建421055】



A B C D

- A. 如图所示 B. 如图所示 C. 如图所示 D. 如图所示

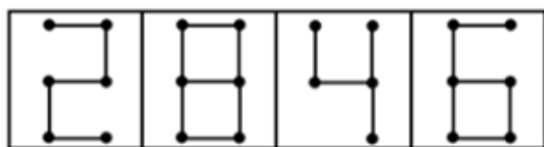
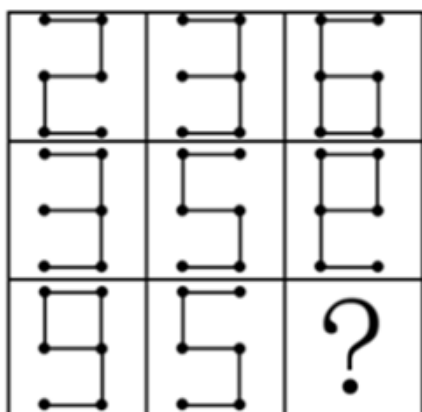
72. 从所给四个选项中，选择最合适的一个填入问号处，使之呈现一定的规律性：【2012联考/福建421053】



A B C D

- A. 如图所示 B. 如图所示 C. 如图所示 D. 如图所示

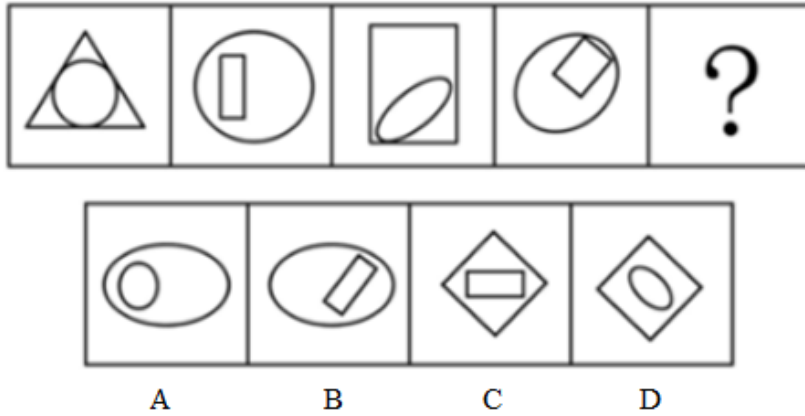
73. 从所给四个选项中，选择最合适的一个填入问号处，使之呈现一定的规律性：【2012联考/福建421054】



A B C D

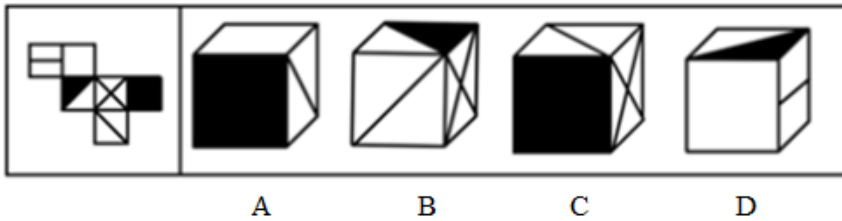
- A. 如图所示 B. 如图所示 C. 如图所示 D. 如图所示

74. 从所给四个选项中，选择最合适的一个填入问号处，使之呈现一定的规律性：【2012联考/福建421052】



- A. 如图所示 B. 如图所示 C. 如图所示 D. 如图所示

75. 左边给定的是纸盒的外表面，下面哪一项能由它折叠而成：【2012联考/福建421056】



- A. 如图所示 B. 如图所示 C. 如图所示 D. 如图所示

76. 代币管理制就是用某种东西或标记来替代实物或权利，当期望行为出现时即给予一定数量的“标记”加以强化，期望行为坚持一段时间后再将“标记”按事前编制的激励系统转换成物质奖励。

根据上述定义，下列选项不属于代币管理制的是：

- A. 游戏规定优胜者可获得奖券，积累奖券可换取奖品
- B. 某企业按员工每月接受表扬的次数，确定当月奖金
- C. 幼儿园老师经常用小星星贴纸来鼓励表现好的孩子
- D. 顾客在商场购物获得积分，年底用积分兑换打折卡

77. 积极错觉是指当自我由于消极的信息而使自尊心面临威胁时，用理想化的自我、不现实的乐观或夸大的可控性感知等作为缓冲器，来保护自己的自尊。

根据上述定义，下列选项属于积极错觉的是：

- A. 某男生追求女生失败，认为对方是因为害羞不敢答应
- B. 很多人觉得考试时间很紧张，可小林还觉得时间足够
- C. 某人担心经理对自己印象差，每天提早到办公室上班
- D. 某男考研究生屡次失败，但其坚信天道酬勤终获成功

78. 企业社会响应是指企业受社会伦理道德标准的引导满足社会某种普遍需要。

根据上述定义，下列选项不属于企业社会响应的是：

- A. 某工厂发生污染事故，周边企业出资垫付事故赔偿金
- B. 工程队在工地周围铺设防尘网，减少粉尘造成的污染
- C. 某企业捐赠3亿股企业股票给慈善组织设立专项基金
- D. 某公司按照《残疾人保障法》的规定安排残疾人就业

79. 水平一体化物流是指同一行业的多个企业，通过共同利用物流渠道，获得规模经济效益、提高物流效率。水平一体化物流须具备物流需求和物流供应的信息平台，要有大量企业参与并存在较多的商品量。

根据上述定义，下列选项属于水平一体化物流的是：

- A. 某家具厂要求原材料供应商和产品销售商使用同一家物流公司

- B. 某市屠宰企业将猪、牛肉混放入冷藏车并送往一百多家零售店
- C. 电子城百家商店签订协议，指定其中一家承担电子城送货业务
- D. 某百货公司设立物流中心，统筹安排全公司各类货物发送工作

80. 公民的基本权利可分为积极权利和消极权利。积极权利是指通过国家积极介入保障公民在社会经济生活领域的权利，是要求国家积极作为的权利。消极权利即自由权，是要求排除国家妨害、国家相应不作为的权利。

根据上述定义，下列选项属于积极权利范畴的是：

- A. 董事长不得借助权力剥夺股东的股权
- B. 国家为满足低收入者需要建设保障房
- C. 盲、聋、哑人员应依法列入选民名单
- D. 每一位公民都有不受非法逮捕的权利

81. 符号冲突是指在符号的传播过程中，“发讯人”和“收讯人”由于各自在思想、认识和世界观等方面的不同，对符号的使用和理解存在不同程度的差异，进而造成交流的矛盾或冲突。

根据上述定义，下列选项属于符号冲突的是：

- A. 京剧用脸谱符号表达人物不同的个性
- B. 有一百个观众，就有一百个哈姆雷特
- C. 买家要求用日元结算，卖家则坚持用人民币
- D. “OK”的手势在美国代表同意，在日本代表钱

82. 网络暴力是行为主体的网络行为对当事人造成实质性伤害的网络失范现象。

根据上述定义，下列选项属于网络暴力的是：

- A. 某非法传销团伙借助网络发展下线
- B. 某足球俱乐部球迷建立网站，要求主教练下课
- C. 某艺人喜欢在微博上爆料，提高自己微博的访问量
- D. 某选秀选手隐私在网上被曝光后，宣布放弃晋级机会

83. 相符行为是指个人的行为与他人的行为和意志相符合、一致或相似的现象。相符行为通常包括三种情况：第一，人们出于适应社会生活环境的需要而遵守共同的社会规范，产生相似行为，以便使社会生活能正常进行；第二，相似的文化背景和社会化过程促使人们产生相似的行为；第三，人际交往中双方心理的相互影响，也导致相符行为。

根据上述定义，下列选项不属于相符行为的是：

- A. 某高校毕业生大多愿意到大型国有企业工作
- B. 双胞胎失散多年，但见面时仍可以一眼认出
- C. 两辆汽车在闹市区刮擦，路上行人驻足围观
- D. 某设计院建筑师设计的作品都有相似的风格

84. 虚拟人力资源管理是指以合作关系为基础，充分利用现代信息网络技术，帮助企业获取、发展和筹划智力和劳力资本的一种人力资源管理办法，它可以满足企业管理虚拟化发展的要求，将大量的人力资源管理活动外部化或由员工实现自主管理，企业从而可以将主要精力放在核心人力资源管理方面，提高人力资源管理效率。

根据上述定义，下列选项不属于虚拟人力资源管理的是：

- A. 小李和同事都被公司派到某职业学校培训半年
- B. 某集团将其全部广告交由同一家广告公司设计
- C. 某企业通过猎头公司物色到一位产品研发专家
- D. 某公司委托劳动派遣公司负责分发员工的薪酬

85. 社会自组织就是指自发成立、自主发展、自行动作，具有一定规模的，以民间组织形式存在，逐步从无序走向有序的社会组织。

根据上述定义，下列选项不属于社会自组织的是：

- A. 每周六晚上，某市政公园广场上都有年轻人在跳街舞
- B. 一群学生通过QQ群认识，每周末一起参加敬老活动
- C. 某市软件企业定期组织企业家联谊，进行业务交流

D. 一群年轻人建立动物收容所，收养各种被遗弃的宠物

86. 得陇望蜀：狼子野心

- A. 坐井观天：鼠目寸光 B. 指桑骂槐：趾高气扬 C. 沐猴而冠：狐假虎威 D. 投桃报李：指雁为羹

87. 食物：食品

- A. 拘泥：拘谨 B. 达到：到达 C. 发挥：发扬 D. 矿产：矿石

88. 战士：坦克：武器装备

- A. 记者：相机：镜头 B. 农民：镰刀：农具 C. 矿工：矿灯：照明 D. 商人：计算：资产

89. 葡萄酒：名酒：酒精

- A. 火箭炮：火箭：战斗力 B. 敞篷车：跑车：发动机
C. 宇航员：人员：驾驶员 D. 玫瑰花：鲜花：牡丹花

90. 后果：结果：成果

- A. 反动：反对：反思 B. 妄想：遐想：理想 C. 信心：信念：信仰 D. 思维：思想：思绪

91. 教室：教师：教材

- A. 厨房：厨师：厨具 B. 舞台：演员：演戏 C. 法庭：法官：法律 D. 军营：士兵：战场

92. () 对于 照明 相当于 雷达 对于 ()

- A. 灯光 探测 B. 明亮 飞行 C. 音乐 舞蹈 D. 太阳 夜晚

93. () 对于 轿车 相当于 牡丹 对于 ()

- A. 吉普 雪花 B. 卡车 菊花 C. 动车 梅花 D. 轮船 浪花

94. 满腹经纶 对于 () 相当于 () 对于 震撼

- A. 才能 精彩绝伦 B. 才华 触目惊心 C. 才干 美轮美奂 D. 才学 绚丽多彩

95. () 对于 动物 相当于 () 对于 星座

- A. 理智 幸运 B. 凶猛 星星 C. 可爱 神秘 D. 珍稀 温馨

96. 法国总统萨科奇正式宣布竞选连任，打出了“强盛法国”的竞选口号，承诺带领法国走出经济危机。巴黎街头萨科奇竞选广告上写着：“只有强盛的法国才能保护你的家庭。”

根据此竞选口号的推理方式，下列选项为真的是：

- A. 虚弱的法国保护不了你的家庭 B. 强盛的法国可以保护你的家庭
C. 法国虚弱是因为没有保护家庭 D. 家庭得到保护，法国就能强盛

97. 科学家发现关闭实验鼠肌肉组织中的两个基因会严重限制它们跑动的能力，两个基因控制老鼠骨骼肌（身体中能够控制运动的肌肉）中名为AMPK的蛋白质的合成。这些基因让肌肉能够从糖中制造能量，如果这一过程受到干扰，肌肉中制造能量的线粒体水平较低，肌肉就不能正常工作。因此科学家认为整天窝在沙发上的人和奥运选手之间的差别可能全都源自基因。

如果以下各项为真，最能支持科学家观点的是：

- A. 整天窝在沙发上的人在科技帮助下能成为奥运选手
B. 部分奥运选手含有常人所没有的合成AMPK蛋白质的基因
C. 关闭构成AMPK蛋白质的基因会限制老鼠跑动能力
D. 有研究表明，经过基因改良的老鼠跑动能力提高了

98. 超级笔记本作为市场中一个非常有竞争力的新生力量，2011年销量只占移动计算机市场销量的20%，低于预期的30%。有供应商表示，超级笔记本之所以遭遇销售低迷很大程度上是因为欧洲市场对超级笔记本需求过小。调查显示，欧洲消费者普遍青睐15英寸及以上尺寸的笔记本电脑，有数据显示，目前欧洲售出的移动计算机中

有40%~45%都是15英寸的机型，而超级本根本就没有这样的尺寸。

供应商得出上述结论的前提假设是：

- A. 生产前厂家未考虑欧洲消费者的使用习惯
- B. 超级本应该设计生产15英寸级别的产品
- C. 欧洲消费者的消费习惯与其他地区相类似
- D. 欧洲市场在全球笔记本市场中占较大比例

99. 有经济学者不赞成政府对低收入人群的直接救助，主张政府对大企业家和富人采取优惠的财政和税收政策，认为大企业家和富人的投资与消费活动会促进经济发展，增加穷人的就业机会，将财富从社会上层传递到社会底层。

如果以下各项为真，最能削弱上述理论的观点是：

- A. 政府对大企业家和富人采取优惠的财政和税收政策，导致因贫富差距拉大而引发不确定的社会矛盾
- B. 打破收入分配方面的平均主义，鼓励一部分人先富起来，但具体实施这一政策存在不可预见的风险
- C. 高收入者的消费需求达到饱和后，人的“自私性”将抑制投资需求，社会投资规模也不再继续增长
- D. 政府的财政和税收政策应该优惠穷人，提高穷人购买力同样会增加有效消费需求促使经济持续发展

100. 有专家认为，全球经济正缓慢复苏，其主要证据是：美国的经济表现超出预期，在就业和住房方面都有不错的表现；欧洲央行启动了融资运作计划，用比较低的利率贷款，为更多的企业以及中小企业进行融资；全球整个大宗商品市场树立了足够的信心。因此，这都是非常好的迹象。

如果以下各项为真，最有可能成为上述论证前提的是：

- A. 专家先前对美国经济表示不乐观
- B. 欧洲央行原有利率较高，银根紧
- C. 非欧美国家的经济状况保持稳定
- D. 全球大宗商品交易缺乏信心支持

101. 德国和瑞士的专家经过研究得出一个有趣的结论：餐具颜色能直接影响食欲，红色餐具可降低人们40%的食欲，在人们的传统观念中，红色是极具攻击性的色彩，用红色餐具盛放食物往往会让人难以咽下，因为在潜意识中人们会给自己发出不能吃红色餐具中食物的心理暗示，从而令食欲下降。

如果以下各项为真，最能质疑上述论断的是：

- A. 快餐巨头常在大堂中使用大片鲜亮的红色图案，并没有影响快餐销量
- B. 红色易使人产生紧张感，暴饮暴食是人在精神紧张时放松自己的一种方式
- C. 试验表明，使用红色水杯者比使用蓝色水杯者平均饮水量要减少44%
- D. 红色预示着不安和担忧，人们看到红色餐具会本能地担心食物有危险

102. 小王、小张、小李、小顾四位舍友预测某次考试的结果。

小王：我想这次大家都能过吧！

小张：怎么可能？你没看见我乌云密布吗？

小李：小顾肯定是没有问题的。

小顾：拜托！要是我没问题，大家就都没问题。

成绩公布后，证明四人中只有一个人的说法是错误的。

说法错误的是：

- A. 小王
- B. 小张
- C. 小李
- D. 小顾

103. 据英国《每日邮报》报道，日本富士摄影胶片公司将利用所掌握的胶片技术创新护肤产品，进军美容业，感光乳剂中的胶原蛋白可以防止胶片被氧化，与利用胶原蛋白保护皮肤免受紫外线伤害有着异曲同工之妙。一些忠实于富士品牌的消费者认为这对于爱美人士来说是一个好消息。

消费者得出上述结论隐含的假设是：

- A. 含有胶原蛋白的护肤品在亚洲欧洲等地区广受消费者欢迎
- B. 富士公司具备了生产含有胶原蛋白护肤品的巨大生产能力
- C. 科学家们已经从富士公司的护肤产品中发现了抗氧化物
- D. 护肤产品能利用富士公司生产胶卷使用的科研成果和工艺

104. 近年来，我国城乡儿童学前教育事业发展取得了长足的进步，但是农村学前儿童“入园难”的问题仍然没有得到彻底的解决。解决儿童“入园难”的问题，不能够依靠大量使用校车来接送儿童，“合理布局，就近入园”才是确保儿童安全，解决入园难的根本。

如果以下各项为真，最能支持上述论证的是：

- A. 国家财政每年对农村学前教育的投入占国民教育投入的比例不断加大
- B. 按照国际安全标准采购的校车维护费用高，部分地区幼儿园无法承担
- C. 每个乡镇应规划建设一所公办幼儿园，大村独立办园，小村联合办园
- D. 国家招收幼儿教师免费培养定向分配，毕业后回到当地从事学前教育

105. 某市以生产加工“工艺品”出口到欧盟国家著称。去年以来，受到欧洲债务危机影响，该市对欧盟工艺品出口锐减。鉴于市场的变化，作为该市最大的工艺品生产企业A公司，必须在以后两年的时间里提高5%的生产率，否则它就会破产。根据该市外经贸局的研究，A公司按照目前的生产状况和经管结构，如果能提高5%的生产率，就能增加10%的生产利润。

如果上述陈述为真，以下选项必然为真的是：

- A. 如果A公司不能达到提高10%利润的目标，它就会破产
- B. A公司的生产率两年内必须提高10%，否则它就会破产
- C. 只要经济形势好转，A公司不提高生产率，也不会破产
- D. A公司生产状况和经管结构两年不变，利润才能提高10%

第五部分 - 资料分析

针对下列图、表或文字回答问题。你应根据资料提供的信息进行分析、比较、计算、处理。你可以在题本上运算。

2006年至2011年全年我国农村居民人均纯收入分别为3587元、4140元、4761元、5153元、5919元、6977元；城镇居民人均可支配收入分别为11759元、13786元、15781元、17175元、19109元、21810元。

2006年至2011年全年我国粮食产量分别为49804万吨、50160万吨、52871万吨、53082万吨、54648万吨、57121万吨。

与2010年相比，2011年全年粮食种植面积11057万公顷，增加70万公顷；棉花种植面积304万公顷，增加19万公顷，油料种植面积1379万公顷，减少10万公顷；糖料种植面积195万公顷，增加4万公顷；棉花产量660万吨，增产10.7%；油料产量3279万吨，增产1.5%；糖料产量12820万吨，增产4.3%；肉类总产量7957万吨，增长0.4%，其中，猪肉产量5053万吨，下降0.4%；养殖水产品产量4026万吨，增长5.2%；捕捞水产品产量1574万吨，增长1.9%。

2011年末全国参加城镇基本医疗保险的人数47291万人，增加4028万人。其中，参加城镇职工基本医疗保险人数25226万人，参加城镇居民基本医疗保险22065万人。截至9月底，2646个县(市、区)开展了新型农村合作医疗工作，新型农村合作医疗参合率97.5%；新型农村合作医疗基金支出总额为1114亿元，受益8.4亿人次。

106. 2011年我国城镇居民人均可支配收入比2008年大约增加了：

- A. 18%
- B. 38%
- C. 58%
- D. 85%

107. 2010年，我国水产品产量大约达到多少万吨：

- A. 1500
- B. 3800
- C. 5000
- D. 5300

108. 2010—2011年，下列哪项年增长速度最快：

- A. 农村居民人均纯收入
- B. 粮食种植面积
- C. 棉花产量
- D. 粮食产量

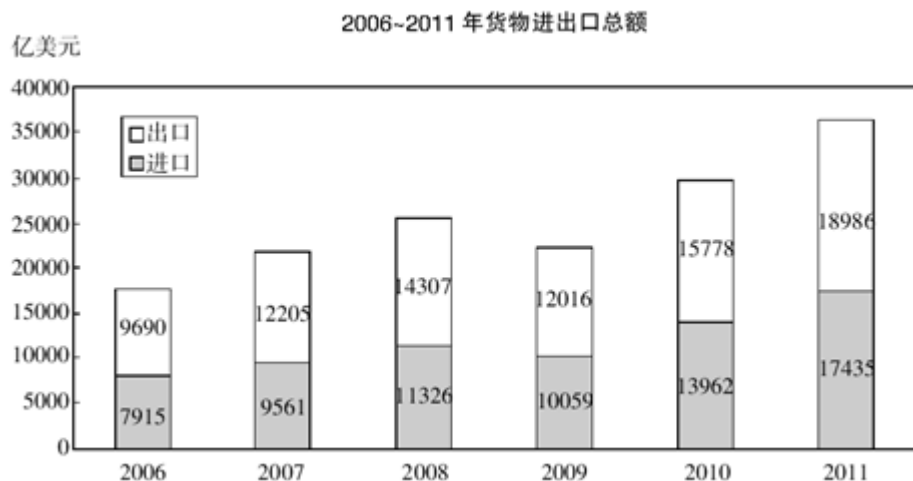
109. 2010年，我国猪肉产量占肉类总产量的比重约为：

- A. 43%
- B. 53%
- C. 64%
- D. 84%

110. 根据上述资料，下列说法错误的是：

- A. 2011年末，我国参加城镇居民基本医疗保险人数约占参加城镇基本医疗保险人数的46.7%
- B. 2011年棉花、油料、糖料的总种植面积比上年增加约13万公顷
- C. 2011年前三个季度，开展了新型农村合作医疗工作的县(市、区)中，人均基金支出大约为130元
- D. 2006年至2011年，我国城镇居民人均可支配收入增长比农村居民人均纯收入增长慢

2011年我国全年货物进出口总额36421亿美元，比上年增长22.5%。其中，出口18986亿美元，增长20.3%；进口17435亿美元，增长24.9%。进出口差额(出口值与进口值差额的绝对值)1551亿美元，比上年减少265亿美元。



2011年对主要国家和地区进出口额及其增长速度

国家和地区	出口额(亿美元)	比上年增长(%)	进口额(亿美元)	比上年增长(%)
欧盟	3560	14.4	2112	25.4
美国	3245	14.5	1222	19.6
中国香港	2680	22.8	155	26.4
东盟	1701	23.1	1928	24.6
日本	1483	22.5	1946	10.1
韩国	829	20.6	1627	17.6
印度	505	23.5	234	12.1
俄罗斯	389	31.4	403	55.6
中国台湾	351	18.3	1249	7.9

111. 2010年我国全年货物进出口差额为多少亿美元:

- A. 265
- B. 1286
- C. 1551
- D. 1816

112. 2007—2011年我国全年货物出口额与上一年相比增长超过30%的年份有几个:

- A. 1个
- B. 2个
- C. 3个
- D. 4个

113. 下列最能体现2011年我国对欧盟出口额占全年出口额比重的图例是:



- A. 如图所示
- B. 如图所示
- C. 如图所示
- D. 如图所示

114. 表中所列举的国家和地区中，2011年我国货物进出口贸易差额最大的是:

- A. 欧盟
- B. 中国香港
- C. 美国
- D. 中国台湾

115. 能够从上述资料中推出的是：

- A. 与上一年相比，2011年我国全年货物出口额占进出口总额的比重上升
- B. 2006—2011年我国货物进出口总额逐年增加
- C. 2011年我国对俄罗斯进口增长金额低于我国对韩国进口增长金额
- D. 2011年大陆对中国台湾贸易总额与上一年相比增长18%

2011年某省接待过夜游客总量再次实现突破，达到3001.34万人次，同比增长16.0%。实现旅游收入324.04亿元，同比增长25.8%。12月份宾馆平均开房率为74.02%，同比增长0.06%；全年累计宾馆平均开房率为62.37%，同比增长2.0%。

该省2011年12月及全年接待过夜旅客人数

项目	12月份 (万人次)	同比增长 (%)	全年 (万人次)	同比增长 (%)
接待过夜旅游者总计	333.50	24.3	3001.34	16.0
(一)过夜境内旅游者	322.96	23.5	2919.88	15.8
1.旅游饭店接待过夜人次	235.27	18.32	2123.51	14.33
2.社会旅馆接待过夜人次	87.69	39.8	796.37	20.0
(二)过夜入境旅游者	10.54	56.1	81.46	22.8
1.外国人	7.00	32.6	56.17	18.6
2.香港同胞	1.40	60.9	13.62	20.2
3.澳门同胞	0.13	160.0	1.13	43.0
4.台湾同胞	2.01	265.5	10.54	54.8

该省2011年12月及全年接待过夜游客的旅游收入情况

项目	12月份 (亿元)	同比增长 (%)	全年 (亿元)	同比增长 (%)
接待过夜游客旅游总收入	33.94	37.6	324.04	25.8
1.接待境内旅游者收入	30.83	36.5	299.47	27.1
2.接待入境旅游者收入	3.11	49.5	24.57	11.6

116. 2010年该省接待过夜游客的旅游总收入约为：

- A. 25亿元
- B. 258亿元
- C. 298亿元
- D. 408亿元

117. 下列2011年1—11月该省旅游统计数据中，同比增长速度大于全年的是：

- A. 接待过夜境内旅游者收入
- B. 宾馆平均开房率
- C. 旅游饭店接待过夜的境内游客人数
- D. 接待过夜入境旅游者人数

118. 2011年12月该省入境外国旅游者占全年入境外国旅游者的比重，较上年约增加：

- A. 1.3%
- B. 14.2%
- C. 25.6%
- D. 32.6%

119. 2011年12月该省接待过夜游客中，境外游客每人的平均消费约为境内游客的：

- A. 1倍
- B. 2倍
- C. 3倍
- D. 4倍

120. 能够从上述资料中推出的是：

- A. 2011年该省旅游饭店接待过夜游客人次超过社会旅馆的3倍
- B. 2010年12月该省过夜入境游客中台湾同胞人次多于香港同胞
- C. 2011年12月台湾同胞到该省过夜旅游人次高于前11个月的平均值
- D. 2011年到该省消费的游客中，境外游客消费增长速度高于境内游客

扫一扫，对答案

