

# 2012年陕西省公务员录用考试《行测》真题（考生回忆版）

更新时间：2024年12月09日15:10:57

扫描下方二维码下载星光公考APP 刷海量题库掌握最新热点



QQ扫码直接下载  
微信扫码到应用市场下载  
支持所有机型哦

## 第一部分 - 言语理解与表达

本部分包括表达与理解两方面的内容。请根据题目要求，在四个选项中选出一个最恰当的答案。

1. 目前，不少企业在市场营销活动中因缺乏对顾客消费心理的研究，常常因方法不当或举止不妥失去成交机会，致使长时间的业务洽谈\_\_\_\_\_。因此，掌握顾客的消费心理，促成顾客的购买行为已经成为企业提高营销水平的\_\_\_\_\_。

依次填入划横线部分最恰当的一项是：

- A. 毁于一旦 必由之路                      B. 功亏一篑 当务之急  
C. 前功尽弃 长久之计                      D. 功败垂成 万全之策

2. 艺术必须拒绝融入现实，从而保持一种\_\_\_\_\_的姿态。艺术之美所包含的自由、欢悦与人性是日常现实所\_\_\_\_\_的，同时也不会为纷繁的日常现实所消蚀，所掩盖。

依次填入划横线部分最恰当的一项是：

- A. 鹤立鸡群 匮乏                      B. 出类拔萃 缺少                      C. 与众不同 缺乏                      D. 卓尔不群 匮乏

3. 畲族民歌、舞蹈\_\_\_\_\_，畲族传统手工艺别具一格，畲族饮食节俗古朴有趣，畲族的语言、医药\_\_\_\_\_。这些独特的地域文化和无可替代的民族文化差异，奠定了畲族文化的特殊地位。

依次填入划横线部分最恰当的一项是：

- A. 匠心独运 另成一派                      B. 生机盎然 自成一家  
C. 别具匠心 异军突起                      D. 独树一帜 自成一体

4. 文字可将一个人思考之所得传诸他人，于是不仅可以\_\_\_\_\_，而且可以利用他人的思考为出发点。文字发展成为传至远方与后世的书籍，书籍也就成了人类思考结果的库藏。读书者可以从此库藏中\_\_\_\_\_，手执一卷可以上对邃古的哲人，远对绝域的学者，而仿佛亲聆其以言词\_\_\_\_\_毕生思考的心得。

依次填入划横线部分最恰当的一项是：

- A. 群策群力 任意索求 显露                      B. 集思广益 予取予求 吐露  
C. 传承文明 随心所欲 倾诉                      D. 取长补短 无厌求取 诉说

5. 克罗地亚在入欧盟的过程中，将国内仅有的数十家大型国企卖给了外国投资者，而很多工厂企业也在入欧盟改革中纷纷关闭，有人说这将使得克罗地亚的发展\_\_\_\_\_。但是，克罗地亚目前的经济水平比起欧盟中那些负债累累的国家来说还是要\_\_\_\_\_。现在看来，加入欧盟后克罗地亚将负担援助他国的义务才是大问题，这恐怕与克罗地亚人的预期\_\_\_\_\_。

依次填入划横线部分最恰当的一项是：

- A. 难以可期 聊以自慰 相差甚大                      B. 难以实现 稍胜一筹 相去甚远  
C. 难以为继 略胜一筹 相差甚远                      D. 难以持续 后来居上 相去良多

6. 鲁迅精神\_\_\_\_\_于当代文化建设的，首先就是在“立人”这件事上应该做什么和怎么做。产业\_\_\_\_\_重要，但如果人“立”不住，产业将不可避免地空壳化。这不仅因为产业需要内容做\_\_\_\_\_，更因为内容是需要人来创造的。

依次填入划横线部分最恰当的一项是：

- A. 昭示 固然 支撑                      B. 明示 当然 支持  
C. 暗示 虽然 后盾                      D. 显示 肯定 支柱

7. 下列运用成语“巧夺天工”正确的一项是：

- A. 壶口瀑布形成了茫茫的冰道，奇形怪状的冰柱错落有致，浑然天成，好像巧夺天工的冰雕。  
B. 三峡各具特色，山有行姿，水呈百态，奇俊秀丽，巧夺天工。  
C. 翘首西望，海面托着的就是披着银发的苍山。苍山如屏，洱海如镜，真是巧夺天工。  
D. 贵州境内不仅分布着大量巧夺天工的自然景观，而且保存着多姿多彩的民族文化。

8. 央视龙年春晚，\_\_\_\_\_的3D舞台让观众大开眼界。导演组在许多方面突破以往固定思维，\_\_\_\_\_打造出一台特色鲜明的晚会。龙年春晚现场360度大舞台，配合设计独特的高清视效屏幕，播放特效十分惊人，逼真程度让观众觉得\_\_\_\_\_。

依次填入划横线部分最恰当的一项是：

- A. 金碧辉煌 力图 栩栩如生 B. 光彩夺目 竭力 身当其境  
C. 宏伟华丽 试图 置身其中 D. 美轮美奂 力求 身临其境

9. 嫦娥二号7米分辨率全月球影像色调\_\_\_\_\_, 层次\_\_\_\_\_, 图像\_\_\_\_\_. 影像图的空间分辨率、影像质量、镶嵌精度、数据一致性和完整性等优于国际同类产品，达到国际领先水平。

依次填入划横线部分最恰当的一项是：

- A. 一致 丰富 清晰 B. 丰富 一致 清晰  
C. 清晰 丰富 一致 D. 丰富 清晰 一致

10. 支持新农保制度建设，各级政府\_\_\_\_\_。各地财政再困难，财力再紧张，也要优先\_\_\_\_\_资金，确保新农保补贴资金足额、及时到位。

依次填入划横线部分最恰当的一项是：

- A. 不可推卸 调节 B. 在所不辞 调动 C. 责无旁贷 调剂 D. 当仁不让 调控

11. 英国人类学家特纳认为，正常的“社会结构”是一种有阶层、地位、贫富差别的体制，“反结构”是没有等级之分、贫富之别、男女之别的时空，具有消除不满和发泄情绪的功能，很多重要节庆仪式就是属于“反结构”。中国古代元宵节是全民的狂欢节。在节日期间，人人尽兴而乐，可以缓解平时身体上的疲劳和精神上的压力，节日期间的一些反常行为，有利于消除人与人之间的隔阂和紧张，促进人际关系的和谐。节日期间，不分地位高低，不分富贵贫贱，不分年龄大小，君民同乐，有利于促进不同阶层的和谐，保障社会稳定。

这段文字的主要观点是：

- A. 中国古代的元宵节是“反结构”的社会产物  
B. 中国古代的元宵节具有消除社会不满的功能  
C. 应大力发展传统文化中“反结构”的节庆仪式  
D. “反结构”的节庆仪式有利于社会的稳定和谐

12. 面对当前复杂的国际国内形势，我国未来产业发展将逐步呈现出两大抓手，一是适应需求结构变化趋势，加快推进传统产业技术改造；二是科学判断未来市场需求变化和技术发展趋势，加快发展战略性新兴产业。而当前全球经济竞争格局正在发生深刻变革，科技发展正孕育着新的革命性突破，发展战略性新兴产业已成为世界主要国家抢占新一轮经济和科技发展制高点的重大战略。

作者接下来最有可能论述的是：

- A. 我国应推进传统产业的技术改造 B. 我国应加快发展战略性新兴产业  
C. 我国应推动科技进步，增强自主发展能力 D. 我国应抢占新一轮经济和科技发展制高点

13. 有机溶剂的应用日趋广泛，围绕人们的衣食住行，都可以观察到有机溶剂的踪影，如四氯乙烯广泛用于纺织品的干洗，汽车防冻液、汽车轮胎制造等领域与有机溶剂密不可分。有机溶剂种类和用量的不断增加改善了人们的生活质量，同时也会给人们带来健康方面的损害。规避有机溶剂的伤害重在预防。对生产环节中可能存在的有机溶剂，必须做好密闭化管理。存在有机溶剂的工作场所，应当定期检测空气中各种有机溶剂的浓度，使其符合国家职业卫生标准。家庭装修使用有机溶剂时，除了购买安全环保产品外，在入住前应当充分开窗通风，将空气中的有机溶剂控制在安全的剂量水平。

这段文字意在强调：

- A. 避免有机溶剂伤害的方法 B. 有机溶剂的用途十分广泛  
C. 有机溶剂造成伤害可以避免 D. 有机溶剂可能伤害人的健康

14. 为避免养老金制度面临破产之灾，英国政府主要从四方面改革这项制度：一是增加养老保险缴费。

从2011~2012财政年度开始，雇员和雇主的缴纳比例将各上升1%，合计为25.8%。二是推迟退休年龄。无论男女领取养老金的年龄都将进一步提高。三是对职业养老金加以改革，规定第二支柱自愿职业养老金将自2012年10月起成为强制性的职业养老金，要求所有年收入7475英镑以上、年龄在22岁到法定退休年龄之间、没有参加任何职业养老金计划的劳动者都将“自动加入”职业养老金计划。四是成立了由政府资助的低成本的国家职业储蓄信托，储蓄信托具有超低的0.3%年管理费率，届时第三支柱的私人养老金、个人寿险会更多地和第二支柱融合，统一使用国家职业储蓄信托平台，从而构成英国养老金的主体。

英国政府养老金制度改革措施的实质是：

- A. 增强职业养老金制度的吸引力
- B. 增加养老金收入并节约其开支
- C. 增加更多的养老金品种以供选择
- D. 统一使用国家职业储蓄信托平台

15. 一直以来，世界音乐界认为中国没有多声部的和声艺术，复调音乐仅存于西方。上个世纪50年代，侗族大歌被中国著名音乐家郑律成偶然发现。1986年贵州侗歌合唱团赴法国演出时引起轰动，音乐界惊叹这是中国音乐史上的重大发现，从此扭转了国际上关于中国没有复调音乐的说法。侗族大歌“众低独高”、复调式的多声部合唱方式，是中外民间音乐所罕见的。

根据这段文字，下列说法错误的是：

- A. 侗族大歌改变了音乐界对中国音乐的认识
- B. 世界音乐界一向比较重视西方的复调音乐
- C. 侗族大歌具有民间音乐所罕见的合唱方式
- D. 贵州侗歌在中国音乐史上占有重要的地位

16. 科学家一直认为大脑中的“语言中心”让我们有别于人类的血缘近亲——猴子。但是，最近一项新研究发现，与人类语言能力有关的大脑区域所在位置与科学家此前认为的截然不同。这个控制语言能力的区域距离大脑中央更近，比此前认为的近了3厘米。这意味着，人类大脑与猴子大脑的相似度超出此前预计，我们可能需要重新审视猴子和人类语言的起源。

这段文字意在说明：

- A. 人类大脑中“语言中心”位置可能与此前认为的不同
- B. 大脑中“语言中心”位置决定了人类和猴子的区别
- C. 猴子和人类语言起源的关系可能比想象得更密切
- D. 人类大脑与猴子大脑的相似度远远超出我们的想象

17. 五世纪初，日本出现被称为“假名”的借用汉字的标音文字。八世纪时，以汉字标记日本语音的用法已较固定，其标志是《万叶集》的编定，故称“万叶假名”。是为纯粹日语标音文字的基础。日本文字的最终创制是由吉备真备和弘法大师（空海）来完成的，他们俩人均曾长期留居中国唐朝，对汉字有很深的研究。前者根据标音汉字楷体偏旁造成日文“片假名”，后者采用汉字草体创造日文“平假名”。时至今日，已在世界占据重要地位的日本文字仍保留有一千多个简体汉字。

这段文字意在说明的是：

- A. 汉字对日本文字的影响
- B. 日本文字与汉字的联系
- C. 日本文字产生的历史过程
- D. 汉字在日本的影响和地位

18. 网络影评在传统影评集体失语的生态环境下迅速兴起并蓬勃发展，借助互联网这个载体，网络影评因突破时空界限而体现出开放、互动、便捷的特征，因回归到大众而使内容形式趋向多元，因摆脱了现实的身份制约和利益牵挂而得以真实表露和独立发声。相较于传统影评，网络影评的优势体现在篇幅、格式、风格和传播上具有更多的自由。

作者通过这段文字意在强调：

- A. 网络影评兴起并蓬勃发展的前景
- B. 网络影评兴起并蓬勃发展的原因
- C. 网络影评兴起并蓬勃发展的趋势
- D. 网络影评兴起并蓬勃发展的条件

19. 新兴产业物联网的发展势如破竹。仅几年时间，物联网的产业规模就呈现出年30%以上的复合增长率。专利等知识产权为这个朝阳产业的迅速崛起提供了强有力的支撑。预测未来几年，全球物联网市场规模将出现快速

增长，我国2015年物联网市场规模将达到7500亿元，市场前景将远远超过计算机、互联网、移动通信等市场。而从我国目前的专利申请情况来看，核心技术专利、通过《专利合作条约》途径提交的国际专利申请的数量都有明显不足。因此，业内专家指出，需要加速我国物联网产业的专利布局。

与这段文字意思不相符的一项是：

- A. 我国物联网产业的发展需要自主知识产权的支撑
- B. 我国物联网产业将发展成为未来我国的支柱产业
- C. 我国物联网市场规模未来有可能超过计算机市场
- D. 我国物联网产业作为朝阳产业发展规模快速增长

20. 微博注册的方式很简单，浏览者只要登记个电子邮箱地址，设置好密码就可成为微博用户了。写微博的要求不高：只需撰写只言片语，便可宣泄情感。所以，只要使用者会电脑打字或者发手机短信，便可以将自己的情感以简短快捷的形式发布出去。此外，微博的界面设置方式使得信息浏览也变得更加方便，而且一条微博的内容仅相当于两三条手机短信，花费不了多长时间。在这个信息过剩、人们的注意力被严重瓜分的时代，微博更符合人们快速阅读的需求。

与这段文字的意思不相符的一项是：

- A. 微博使用门槛低、信息发布简便易行
- B. 微博界面的设置便于使用者浏览信息
- C. 使用者可以借助微博宣泄自己的情感
- D. 微博的内容更迎合现代人阅读的需求

21. 海洋石油开发对海洋造成污染主要表现在：生活、生产以及自然过程中产生的废弃物、含油污水排入海洋；发生意外漏油、溢油、井喷等事故；其最大的危害是对海洋生物的影响。油膜和油块能粘住大量鱼卵和幼鱼，使鱼卵死亡、幼鱼畸形，还会使鱼虾类产生石油臭味，而成年鱼类、贝类长期生活在被污染的海水中，其体内蓄积了某些有害物质，当进入市场被人食用后则危害人类健康。防止海洋石油开发形成的污染要从加大技术革新和提高海洋石油开发工作者的环保意识抓起。

这段文字未提及海洋石油开发的：

- A. 污染表现
- B. 危害对象
- C. 污染现状
- D. 环保意识

22. 许多种类的蝴蝶鱼在尾部前上方，与头部眼睛相对称位置有一黑色斑点，宛如鱼眼，而它的眼睛则在头部的黑斑中。平时，蝴蝶鱼在海中总是倒退游动。掠食者常受尾部黑斑的\_\_\_\_\_，误把鱼尾作鱼头。当掠食者猛扑向它时，蝴蝶鱼正好顺势向前飞速逃走。

依次填入划横线部分最恰当的一项是：

- A. 隐匿 引诱
- B. 藏匿 诱骗
- C. 深藏 诱惑
- D. 隐藏 迷惑

23. 名校办分校是近年来冒出来的新生事物，这项举措受到各方意见的\_\_\_\_\_：“名校连锁”是否\_\_\_\_\_，是否与义务教育均衡发展\_\_\_\_\_。

依次填入划横线部分最恰当的一项是：

- A. 质疑 有名无实 背道而驰
- B. 质询 名不副实 南辕北辙
- C. 质疑 名存实亡 分道扬镳
- D. 质询 名实不符 不谋而合

24. 城市的人居环境和城市发展要坚持发展和保护双赢、坚持当前发展和长远规划相结合：离开经济搞环境是\_\_\_\_\_，而脱离环境搞发展则是\_\_\_\_\_。

依次填入划横线部分最恰当的一项是：

- A. 升山采珠 饮鸩止渴
- B. 缘木求鱼 竭泽而渔
- C. 刻舟求剑 杀鸡取卵
- D. 南辕北辙 从长计议

25. 最近三个月的二手房市场成交量已接近2008年下半年市场最低迷时期的水平。但是，此轮调控是我国政府主动为之，与2008年房地产市场因遭遇\_\_\_\_\_的国际金融危机而陷入低迷不同。当下的房价调整并不均衡，不同于2008年房价\_\_\_\_\_，无可遏制的逐波下行。

依次填入划横线部分最恰当的一项是：

- A. 意想不到 日薄西山                      B. 措手不及 江河日下  
C. 出其不意 应声而下                      D. 猝不及防 泥沙俱下

26. 史学研究如果离开了哲学的\_\_\_\_\_，不关注重大的历史事件和基本的理论问题，以繁琐考辨取代理论思维，以堆砌资料为\_\_\_\_\_，以叠床架屋为\_\_\_\_\_，拾芝麻以为玃珠，袭陈言而自诩多闻，见枯木以为树林，\_\_\_\_\_，见小遗大，就注定要湮没在史料的汪洋之中，堕落为服务故纸堆的陈腐工具。

依次填入划横线部分最恰当的一项是：

- A. 指引 多 强 一孔见天                      B. 引导 广 美 窥斑见豹  
C. 指导 博 精 以偏概全                      D. 指点 全 妙 以管窥天

27. 文化认同作为小到一个群体、大到一个民族向心力的有机“粘合剂”，是凝聚这个群体和民族伟大精神力量的\_\_\_\_\_。文化认同如果缺失，社会语境便趋于焦虑，人们的价值取向便会\_\_\_\_\_。因为，文化认同，相对于政治认同和社会认同，具有更深远的\_\_\_\_\_。

依次填入划横线部分最恰当的一项是：

- A. 基础 丧失 意义                              B. 根本 丢失 价值  
C. 根基 迷失 内涵                              D. 基础 失落 涵义

28. 中国古代货币，是世界上起源最早的货币之一。它\_\_\_\_\_，对古代世界上国际经济交往，特别是亚洲各国货币的发展有着相当\_\_\_\_\_的影响。

依次填入划横线部分最恰当的一项是：

- A. 历史久远 重大                      B. 历史悠久 深刻                      C. 亘古长青 久远                      D. 源远流长 深远

29. 当天下午，加尔各答的唐人街可谓\_\_\_\_\_，人们扶老携幼，喜气洋洋地来到当地著名的科学城礼堂观看\_\_\_\_\_的文艺演出。当《春节序曲》等全球华人\_\_\_\_\_的乐曲响彻整个表演大厅时，整个大厅变成了一片欢庆的海洋。

依次填入划横线部分最恰当的一项是：

- A. 倾巢而出 奇观异彩 耳闻则诵                      B. 人头攒动 五彩缤纷 烂熟于心  
C. 摩肩接踵 妙趣横生 口口相传                      D. 万人空巷 异彩纷呈 耳熟能详

30. 中国女足很长一段时间陷于\_\_\_\_\_，国人对女足的关注似乎仅\_\_\_\_\_。2011年8月21日，中国女足最终获得大运会女足冠军，铿锵玫瑰再次\_\_\_\_\_在球场上，国人不禁回想起当年中国女足的辉煌。

依次填入划横线部分最恰当的一项是：

- A. 低迷 昙花一现 绽放                      B. 低落 电光火石 开放  
C. 低潮 弹指之间 怒放                      D. 低回 转瞬之间 盛放

31. “不负众望”与“不孚众望”，仅一字之差，但其义\_\_\_\_\_，作为公益型国企的石油石化、电网、通信服务等，一定要心系国家利益和人民利益，并把国家利益和人民利益放在首位，做到“\_\_\_\_\_”，切忌“\_\_\_\_\_”。

依次填入划横线部分最恰当的一项是：

- A. 迥然不同 不负众望 不孚众望                      B. 天差地别 不负众望 不孚众望  
C. 泾渭分明 不孚众望 不负众望                      D. 大相径庭 不孚众望 不负众望

32. 北魏孝文帝亲政后，面对着阶级、民族矛盾日益激化的政治形势，不得不\_\_\_\_\_，推行一些改革措施，如\_\_\_\_\_俸禄制、均田制等。

依次填入划横线部分最恰当的一项是：

- A. 洗心革面 实行                      B. 改弦更张 颁行                      C. 痛改前非 施行                      D. 改弦易辙 履行

33. 现在电影创作对热门题材大肆重复利用，一个题材有市场，多方人马就一拥而上，这不是健康的电影生态。相比之下，对民族文化的挖掘却不多见，比如以传统节日端午节、中秋节等为背景的开发，以及对昆曲、黄梅

戏等民族艺术元素的利用都很少。一旦用心去挖掘这些中华民族文化财富，呈现在创作者面前的就是一个精彩纷呈的艺术宝库，国产电影也将迎来一个百花齐放的春天。

对这段文字的主旨最准确的概括是：

- A. 国产电影不能陷入题材重复利用的误区
- B. 国产电影应该深入挖掘民族文化的宝藏
- C. 国产电影需努力摆脱不健康的生态
- D. 国产电影将迎来一个百花齐放的春天

34. 中华饮食文化一向善于吸收外来饮食文化，并把它们融入其中，成为自身的一部分。鸦片战争之后，面对着紧跟枪炮而来的带着奶酪黄油味的西方饮食文化，中国人一方面看到西方人吃着半生不熟的牛排、手持杀气腾腾的刀叉时，蔑视的心理油然而生，再加上饮食本身的固有惯性，国人在对待西式饮食的态度上，表现出的是鄙视与排斥；另一方面，当看到西方人体格比我们强壮、身体比我们健康时，又不禁把它与西方的坚船利炮和强权政治联系起来。因此，也有人主张吸收西方饮食文化中的“先进”成分，强壮国人的体格、振奋国人的精神，以达到与西方人并驾齐驱的目的。

这段文字意在强调：

- A. 中国人接纳西方饮食文化的原因
- B. 中国人对西方饮食文化的复杂心理
- C. 中华饮食史是一部饮食文化的交流史
- D. 西方饮食文化对中华饮食文化的影响

35. 在一个环境和经济都面临挑战的高度技术化的时代，提高我们的理解能力和辨析科学证据与科学观点的能力至关重要。而要想做到这一点，出路之一就是需要来自自然科学和人文社会科学不同领域的专业人士的鼎力合作。比如，对于像地球气候变化这类复杂的问题，需要科学家去挖掘并阐述其根本原因，但与此同时，人文科学与社会科学工作者也同样需要去评估气候变化之于人口与社会的影响，而新闻工作者则需要把这类信息完整地传递给社会大众，在他们的共同努力下，才能把科学的新发现及其与社会相关的联系向社会大众解释得更好更清楚。

这段文字意在强调：

- A. 提高公众理解科学能力的途径
- B. 提高大众理解科学能力的意义
- C. 不同领域专家分工协作的方式
- D. 不同领域专家分工协作的目的

36. 许多人很崇尚言论自由，以为言论自由就可以解决思想自由的问题。实际上，言论表达的自由并不必然走向思想自由。假如我们观察网络媒体上的有些表达，就会发现它存在着一种极端化的趋势，严谨的人不一定参与表达和讨论，同时网络媒体上有许多非理性的谩骂和恶意攻击等等。结果虽然言论自由了，但一个人的思想表达很容易遭到围攻。这不是思想自由，仅仅是言论自由而已。

这段文字意在强调：

- A. 思想自由并不等同于言论自由
- B. 言论自由不必然导致思想自由
- C. 思想自由的前提并非言论自由
- D. 言论自由将导致思想的极端化

37. 国际金融经济危机与主权债务危机相继爆发，使西方标榜的资本主义制度优越性黯然失色，迫使国际社会反思其弊端。目前无论是欧洲推崇的高福利“莱茵模式”，还是美英推崇的完全自由“盎格鲁-撒克逊模式”，均因其固有的缺陷而陷入困境。过度放纵的西方经济社会制度导致的种种弊端暴露无遗，引发全球范围内反思。

这段文字意在说明：

- A. 西方发展模式开始走下“神坛”
- B. 西方两种主流发展模式都已过时
- C. 全球应反思西方发展模式的失败
- D. 西方发展模式的弊端是过度放纵

38. 在所有电脑标志中，“@”是唯一入选纽约现代艺术博物馆建筑与设计收藏的标志。它也是网络世界最常用的符号。每个电子邮件都要用到它，在微博里通知他人，也要用到它。“@”在数字世界的使用最早是在1971年。美国技术研究公司BBN的一位程序员雷蒙德·汤姆林森当时正负责开发一个程序让计算机用户能够连接到阿帕网。他决定在电脑网络的地址中间插入这个符号，来区分“用户”和“终端”，这个做法后来被广泛采用，成了今天电子邮件地址的标准写法。因此，雷蒙德·汤姆林森也被称为“电子邮件之父”。

这段文字旨在说明：

- A. “@” 被作为电脑符号的由来  
B. “@” 在网络中是最常用的符号  
C. “@” 入选现代艺术标志的原因  
D. 将 “@” 作为电脑符号的第一人

39. \_\_\_\_\_，这并非说明人类有多强壮，实际上如果仅仅是比拼搏击，很多动物都可以轻易打败人类。但是，人类从来不喜欢遵循自然原本的法则，面对对自己存在生命威胁的生物，人类避免正面接触，打不过跑，跑完了还可以制造陷阱，设计圈套来对付你。管你是身形矫健的猎豹还是凶残威武的狮虎，怎么能斗得过狡猾的人类呢？而且，人类居安思危的良好传统会促使人类研究更有效的攻破对手的“战略战法”，不仅要求屡战屡胜，还要求速战速决。

填入划横线部分最恰当的一句是：

- A. 人类已经降伏了自然界中的所有生物  
B. 人类不断挑战自然界原本的生存法则  
C. 自然界里再也寻找不到人类的天敌了  
D. 人类不惧怕自然界中任何的生存挑战

40. 网上作战是网络时代的新型侦查模式，侦查人员利用计算机、计算机网络及专门软件等辅助工具来发现犯罪、查清案件事实、收集案件证据与查缉嫌疑人。如果没有坚实的侦查基础工作，则相关犯罪信息不能被及时收集并录入专用的计算机网络，网上摸排与网上追逃也势必成为无本之木、无水之鱼；如果没有侦查协作工作与现代化的侦查管理理念，网上侦查可能不但减轻不了侦查人员的工作量，反而会成为侦查人员新的包袱。

对这段文字理解错误的是：

- A. 网上作战是网络技术与传统侦查结合的产物  
B. 侦查协作工作有助于减轻网上作战的工作量  
C. 传统的侦查理念已经不适应网上作战的需要  
D. 应正确把握网上作战与传统侦查之间的关系

41. 不论是透明的还是彩色的隐形眼镜，透氧性都是重要的指标。角膜表面没有血管，是自己独立呼吸的器官，它通过直接与空气接触来获得氧。如果角膜获得的氧不足，那么角膜上皮细胞的健康就会受到影响，抵抗力也会变弱，如果是长期缺氧，角膜就要“呼救”了：周边组织向角膜内生长入新生血管，通过血液来给角膜供氧。因此，长期戴隐形眼镜的人，\_\_\_\_\_。

填入划横线部分最恰当的一句是：

- A. 眼角膜可能会因此缺氧  
B. 眼珠边缘可能会出现红血丝  
C. 眼角膜的抵抗力可能下降  
D. 眼角膜细胞的健康就会受影响

42. 由细颗粒物造成的灰霾天气对人体健康的危害甚至要比沙尘暴更大。粒径10微米以上的颗粒物，会被挡在人的鼻子外面；粒径在2.5微米至10微米之间的颗粒物，能够进入上呼吸道，但部分可通过痰液等排出体外，另外也会被鼻腔内部的绒毛阻挡，对人体健康危害相对较小；而粒径在2.5微米以下的细颗粒物吸入人体后会进入支气管，干扰肺部的气体交换，引发包括哮喘、支气管炎和心血管病等方面的疾病。这些颗粒还会进入血液，其中的有害气体、重金属等溶解在血液中，对人体健康的伤害更大。

这段文字意在说明：

- A. 不同粒径的颗粒物对人体健康的不同影响  
B. 灾害天气中各种尺寸颗粒物的致病机理  
C. 重金属等会溶解于血液中危及人体健康  
D. 灰霾天气中的细颗粒物对人体健康伤害大

43. 湿地是与森林和海洋并列的全球三大生态系统之一，它在保持水源、抵御洪水、控制污染、调节气候、维护生物多样性等方面的作用难以替代。美国是世界上最早提出并使用湿地概念的国家，如今至少有25个州已制定了湿地保护方面的法规。经历了“卡特里娜”飓风重创的路易斯安那州，甚至计划花费数百亿美元恢复密西西比河三角洲的大片湿地。然而，最新的研究显示，像美国这样先破坏后重建的保护方式并不理想，因为湿地一旦遭破坏就很难恢复原样。为此，世界各国已将湿地保护的重点放在可持续发展上。较为普遍的做法是成立湿地保护区，并适当在区内发展旅游业，从而使发展和保护相辅相成。

这段文字意在说明：

- A. 美国在湿地保护立法方面存在弊端  
B. 保护湿地对维护生态平衡意义重大  
C. 成立湿地保护区将促进旅游业发展  
D. 湿地保护应着眼于实现可持续发展

## 第二部分 - 常识判断



根据题目要求，在四个选项中选出一个最恰当的答案。

44. 为提高社会管理科学化水平，全国各地积极出台加强和创新社会管理的措施，下列措施中不属于创新社会管理的是：

- A. 组织社区志愿者开展邻里互动活动
- B. 提高临床一线医护人员的待遇水平
- C. 通过微博向群众提供政务服务资讯
- D. 设奖鼓励市民投诉举报食品安全问题

45. 中美关系是全球最重要的双边关系之一，中美建交前后曾发生过以下事件：①邓小平访美 ②中美发布上海联合公报 ③尼克松总统访华 ④福特总统访华。

按时间先后顺序排列正确的是：

- A. ②③①④
- B. ②①④③
- C. ①②③④
- D. ③②④①

46. 下列影视剧情景设计符合历史常识的是：

- A. 燕太子丹与荆轲分坐八仙桌两侧，秉烛夜谈，谋划赴咸阳刺杀秦王计划
- B. 毛泽东与李宗仁幽默地说：德邻先生，你这次归国，是误上了贼船啊
- C. 魏征劝谏李世民时，说道：陛下当先天下之忧而忧，后天下之乐而乐
- D. 越王勾践兵败后给吴王夫差当奴仆，以红薯充饥，每晚则睡在柴垛上

47. 关于我国“战国七雄”地理位置描述准确的是：

- A. 齐国的纬度最高
- B. 楚国的纬度最低
- C. 燕国的经度最小
- D. 秦国的经度最大

48. 下列关于二十四节气说法错误的是：

- A. 雨水、谷雨反映降水现象
- B. 立春、春分反映季节变化
- C. 惊蛰、清明反映自然物候现象
- D. 小满、芒种与农作物成熟和收成相关

49. 地球自西向东旋转，纬度越低，线速度越高。假设其他因素都相同，下列消耗燃料最少的卫星发射方案是：

- A. 发射场设在海口，朝东经方向发射
- B. 发射场设在漠河，朝东经方向发射
- C. 发射场设在海口，朝西经方向发射
- D. 发射场设在漠河，朝西经方向发射

50. 小轿车的挡风玻璃设计成倾斜的，而大货车的挡风玻璃却是竖直的。下列与挡风玻璃设计角度无关的因素是：

- A. 漫反射
- B. 镜面反射
- C. 车身高度
- D. 平面成像

51. 关于我国兵役制度，下列表述错误的是：

- A. 我国实行义务兵与志愿兵相结合、民兵与预备役相结合的兵役制度
- B. 普通高等学校毕业生征集服现役的年龄可以放宽至二十四周岁
- C. 义务兵服现役的期限为三年，士官服现役的期限一般不超过三十年
- D. 士兵预备役的年龄为十八周岁至三十五周岁，根据需要可适当延长

52. 如果美元贬值，因此可能产生的后果是：

- A. 以美元计价的大宗商品价格上涨
- B. 世界新兴经济体将增加美元储备
- C. 我国产品在美国市场竞争力上升
- D. 我国经销商将减少进口美国产品

53. 下列产品或劳务应计入当年GDP的是：

- A. 某人持有国债的利息收入
- B. 某人购买的一套二手房
- C. 某企业当年生产的库存品
- D. 某人在家从事家务劳动

54. 下列请求应依法予以支持的是：

- A. 按父母遗嘱某女继承全部家产，其兄要求平分家产
- B. 某女起诉请求离婚，要求分割其丈夫的工伤补助金
- C. 某男擅自按市价出售双方共有住房，其妻要求追回
- D. 某夫妻已育有一个健康男孩，现申请收养一名孤儿

55. 我国作为非成员国参加的政府间国际组织是：

- A. 上合组织                      B. 东盟十国                      C. 金砖国家                      D. G20

56. 下列选项中三国典故与哲学论断对应错误的是：

- A. 士别三日，当刮目相看——用发展的眼光看问题  
B. 草船借箭——人可以认识并利用规律  
C. 张飞醉酒失徐州，借酒破张郃——矛盾是对立统一的  
D. 望梅止渴——理性认识依赖于感性认识

57. 中国古典戏剧作品塑造了王昭君、李香君、杜丽娘和崔莺莺等经典女性形象，下列作品与上述人物对应关系正确的是：

- A. 《西厢记》—《汉宫秋》—《桃花扇》—《牡丹亭》  
B. 《西厢记》—《桃花扇》—《汉宫秋》—《牡丹亭》  
C. 《汉宫秋》—《桃花扇》—《牡丹亭》—《西厢记》  
D. 《汉宫秋》—《牡丹亭》—《桃花扇》—《西厢记》

58. 要了解一件艺术品、一个艺术家，必须正确地设想他们所属的时代精神和风俗概况。要解读玛格丽特·米切爾的《飘》，我们应了解的重大历史事件是：

- A. 美国南北战争                      B. 美西战争                      C. 美国独立运动                      D. 美国西进运动

59. 2011年我国改革开放和社会主义现代化建设取得新的重大成就，其中包括：

- A. 人均GDP超过3000美元                      B. 外汇储备首次超过日本居世界第一  
C. 城镇化率超过50%                      D. 粮食总产量首次超过10万亿斤

60. 古人归纳总结出许多观天象识天气的谚语。下列与天气变化无关的谚语是：

- A. 朝霞不出门，晚霞行千里                      B. 天上鱼鳞云，地下雨淋淋  
C. 东风是个精，不下也要阴                      D. 百日连阴雨，总有一日晴

61. 下列表述错误的是：

- A. 维生素是维持生命生长代谢的有机物，但维生素本身不会产生能量  
B. 茶碱具有兴奋中枢神经的功用，但也会刺激胃黏膜、使人产生不适  
C. 食盐在体内以氯离子和钠离子形式存在，参与体内酸碱平衡的调节  
D. 氨基酸是人体不可缺少的营养成分，人体可以合成的是必需氨基酸

62. 为调动农民生产积极性，从2004年起，我国全面放开粮食收购市场，为保护粮食生产能力，同年，我国还配套出台的“三农”政策是：

- A. 在全国范围内免征农业税                      B. 在全国范围内实行粮食直补  
C. 实施农业科技入户工程                      D. 实施最严格的耕地保护制度

63. 2011年12月中央经济工作会议提出“牢牢把握发展实体经济这一坚实基础”。下列产业中属于实体经济的是：

- ①房地产业 ②仓储服务业 ③旅游产业 ④收藏业 ⑤电信产业  
A. ③⑤                      B. ②③⑤                      C. ①②③⑤                      D. ①②③④⑤

64. 《诗经·卫风·氓》中有“抱布贸丝”的说法，意指进行商品交易。下列与“布”具有相同作用的物品是：

- A. 交子                      B. Q币                      C. 贝壳                      D. 支票

65. 某村民委员会下列做法符合法律规定的是：

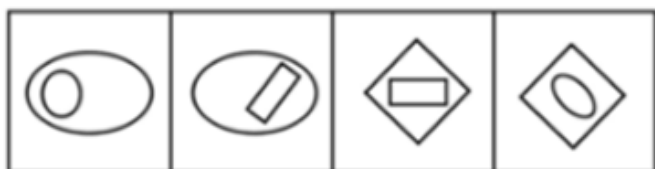
- A. 村民丙全家转为城市户口，村委会取消丙承包期内的承包权  
B. 村民乙外出经商，村委会不同意乙在承包期内放弃承包权  
C. 村委会规定村里的荒山不得以招标、拍卖等形式实行承包经营

D. 村委会规定凡是嫁往外地的本村妇女，承包地应一律归还村委会

### 第三部分 - 判断推理

本部分包括图形推理、定义判断、类比推理与逻辑判断四种类型的试题，请按每道题的答题要求作答。

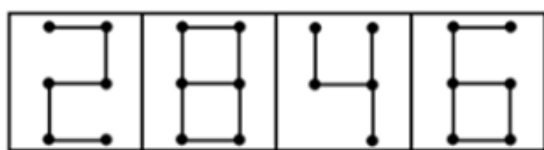
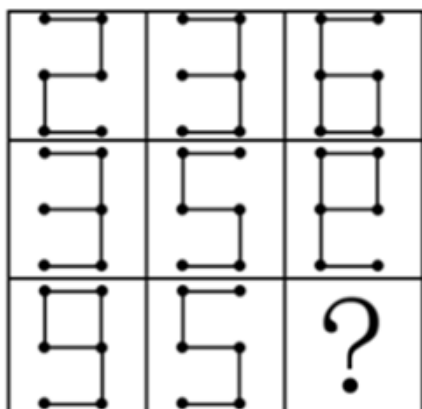
66. 从所给四个选项中，选择最合适的一个填入问号处，使之呈现一定的规律性：【2012联考/福建421052】



A B C D

A. 如图所示 B. 如图所示 C. 如图所示 D. 如图所示

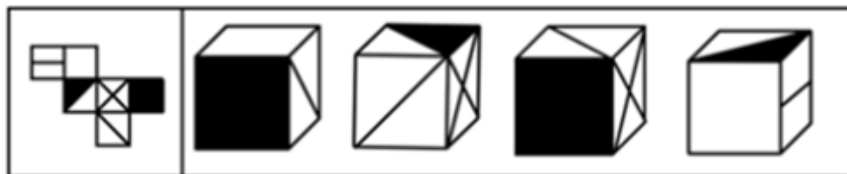
67. 从所给四个选项中，选择最合适的一个填入问号处，使之呈现一定的规律性：【2012联考/福建421054】



A B C D

A. 如图所示 B. 如图所示 C. 如图所示 D. 如图所示

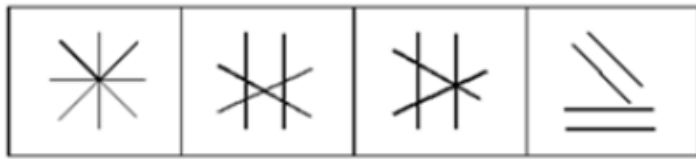
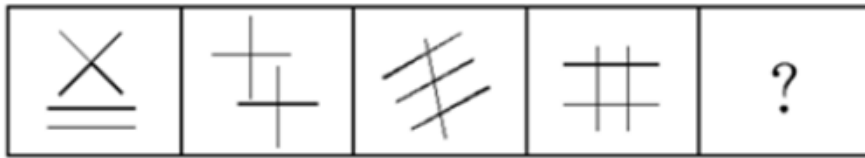
68. 左边给定的是纸盒的外表面，下面哪一项能由它折叠而成：【2012联考/福建421056】



A B C D

A. 如图所示 B. 如图所示 C. 如图所示 D. 如图所示

69. 从所给四个选项中，选择最合适的一个填入问号处，使之呈现一定的规律性：【2012联考/福建421053】



A B C D

- A. 如图所示      B. 如图所示      C. 如图所示      D. 如图所示

70. 从所给四个选项中，选择最合适的一个填入问号处，使之呈现一定的规律性：【2012福建421055】



A B C D

- A. 如图所示      B. 如图所示      C. 如图所示      D. 如图所示

71. 企业社会响应是指企业受社会伦理道德标准的引导满足社会某种普遍需要。

根据上述定义，下列选项不属于企业社会响应的是：

- A. 某工厂发生污染事故，周边企业出资垫付事故赔偿金
- B. 工程队在工地周围铺设防尘网，减少粉尘造成的污染
- C. 某企业捐赠3亿股企业股票给慈善组织设立专项基金
- D. 某公司按照《残疾人保障法》的规定安排残疾人就业

72. 网络暴力是行为主体的网络行为对当事人造成实质性伤害的网络失范现象。

根据上述定义，下列选项属于网络暴力的是：

- A. 某非法传销团伙借助网络发展下线
- B. 某足球俱乐部球迷建立网站，要求主教练下课
- C. 某艺人喜欢在微博上爆料，提高自己微博的访问量
- D. 某选秀选手隐私在网上被曝光后，宣布放弃晋级机会

73. 相符行为是指个人的行为与他人的行为和意志相符合、一致或相似的现象。相符行为通常包括三种情况：第一，人们出于适应社会生活环境的需要而遵守共同的社会规范，产生相似行为，以便使社会生活能正常进行；第二，相似的文化背景和社会化过程促使人们产生相似的行为；第三，人际交往中双方心理的相互影响，也导致相符行为。

根据上述定义，下列选项不属于相符行为的是：

- A. 某高校毕业生大多愿意到大型国有企业工作
- B. 双胞胎失散多年，但见面时仍可以一眼认出
- C. 两辆汽车在闹市区刮擦，路上行人驻足围观
- D. 某设计院建筑师设计的作品都有相似的风格

74. 代币管理制就是用某种东西或标记来替代实物或权利，当期望行为出现时即给予一定数量的“标记”加以强化，期望行为坚持一段时间后再将“标记”按事前编制的激励系统转换成物质奖励。

根据上述定义，下列选项不属于代币管理制的是：

- A. 游戏规定优胜者可获得奖券，积累奖券可换取奖品
- B. 某企业按员工每月接受表扬的次数，确定当月奖金
- C. 幼儿园老师经常用小星星贴纸来鼓励表现好的孩子
- D. 顾客在商场购物获得积分，年底用积分兑换打折卡

75. 社会自组织就是指自发成立、自主发展、自行动作，具有一定规模的，以民间组织形式存在，逐步从无序走向有序的社会组织。

根据上述定义，下列选项不属于社会自组织的是：

- A. 每周六晚上，某市政公园广场上都有年轻人在跳街舞
- B. 一群学生通过QQ群认识，每周末一起参加敬老活动
- C. 某市软件企业定期组织企业家联谊，进行业务交流
- D. 一群年轻人建立动物收容所，收养各种被遗弃的宠物

76. 公民的基本权利可分为积极权利和消极权利。积极权利是指通过国家积极介入保障公民在社会经济生活领域的权利，是要求国家积极作为的权利。消极权利即自由权，是要求排除国家妨害、国家相应不作为的权利。

根据上述定义，下列选项属于积极权利范畴的是：

- A. 董事长不得借助权力剥夺股东的股权
- B. 国家为满足低收入者需要建设保障房
- C. 盲、聋、哑人员应依法列入选民名单
- D. 每一位公民都有不受非法逮捕的权利

77. 积极错觉是指当自我由于消极的信息而使自尊心面临威胁时，用理想化的自我、不现实的乐观或夸大的可控性感知等作为缓冲器，来保护自己的自尊。

根据上述定义，下列选项属于积极错觉的是：

- A. 某男生追求女生失败，认为对方是因为害羞不敢答应
- B. 很多人觉得考试时间很紧张，可小林还觉得时间足够
- C. 某人担心经理对自己印象差，每天提早到办公室上班
- D. 某男考研究生屡次失败，但其坚信天道酬勤终获成功

78. 水平一体化物流是指同一行业的多个企业，通过共同利用物流渠道，获得规模经济效益、提高物流效率。水平一体化物流须具备物流需求和物流供应的信息平台，要有大量企业参与并存在较多的商品量。

根据上述定义，下列选项属于水平一体化物流的是：

- A. 某家具厂要求原材料供应商和产品销售商使用同一家物流公司
- B. 某市屠宰企业将猪、牛肉混放入冷藏车并送往一百多家零售店
- C. 电子城百家商店签订协议，指定其中一家承担电子城送货业务
- D. 某百货公司设立物流中心，统筹安排全公司各类货物发送工作

79. 虚拟人力资源管理是指以合作关系为基础，充分利用现代信息网络技术，帮助企业获取、发展和筹划智力和劳力资本的一种人力资源管理办法，它可以满足企业管理虚拟化发展的要求，将大量的人力资源管理活动外部化或由员工实现自主管理，企业从而可以将主要精力放在核心人力资源管理方面，提高人力资源管理效率。

根据上述定义，下列选项不属于虚拟人力资源管理的是：

- A. 小李和同事都被公司派到某职业学校培训半年
- B. 某集团将其全部广告交由同一家广告公司设计
- C. 某企业通过猎头公司物色到一位产品研发专家
- D. 某公司委托劳动派遣公司负责分发员工的薪酬

80. 想象是指在原有经验的基础上创造新形象的思维活动。按照想象是否受意志控制，可分为随意想象和不随意

想象。不随意想象的特点是把各种印象和信息离奇、突然、有时是无意义地组合在一起。随意想象是把各种印象和信息自觉控制、有目的、经过意志的努力呈现出需要的场景。

根据上述定义，下列选项属于随意想象的是：

- A. 小王面对设计图，憧憬着公司新大楼竣工后的样子
- B. 张三接到录取通知，想到自己实现了目标，很兴奋
- C. 小李昨天晚上睡觉时，梦到了儿时一起嬉戏的伙伴
- D. 小陈的父亲看着照片回忆起当年上山下乡时的场景

81. 得陇望蜀：狼子野心

- A. 坐井观天：鼠目寸光
- B. 指桑骂槐：趾高气扬
- C. 沐猴而冠：狐假虎威
- D. 投桃报李：指雁为羹

82. 教室：教师：教材

- A. 厨房：厨师：厨具
- B. 舞台：演员：演戏
- C. 法庭：法官：法律
- D. 军营：士兵：战场

83. 社交：微博：即时性

- A. 医院：消毒：安全性
- B. 曲艺：评书：娱乐性
- C. 司机：驾驶：可靠性
- D. 新闻：评论：客观性

84. ( ) 对于 照明 相当于 雷达 对于 ( )

- A. 灯光 探测
- B. 明亮 飞行
- C. 音乐 舞蹈
- D. 太阳 夜晚

85. ( ) 对于 动物 相当于 ( ) 对于 星座

- A. 理智 幸运
- B. 凶猛 星星
- C. 可爱 神秘
- D. 珍稀 温馨

86. ( ) 对于 轿车 相当于 牡丹 对于 ( )

- A. 吉普 雪花
- B. 卡车 菊花
- C. 动车 梅花
- D. 轮船 浪花

87. 后果：结果：成果

- A. 反动：反对：反思
- B. 妄想：遐想：理想
- C. 信心：信念：信仰
- D. 思维：思想：思绪

88. 战士：坦克：武器装备

- A. 记者：相机：镜头
- B. 农民：镰刀：农具
- C. 矿工：矿灯：照明
- D. 商人：计算：资产

89. 葡萄酒：名酒：酒精

- A. 火箭炮：火箭：战斗力
- B. 敞篷车：跑车：发动机
- C. 宇航员：人员：驾驶员
- D. 玫瑰花：鲜花：牡丹花

90. 理想 对于 ( ) 相当于 ( ) 对于 钻研

- A. 梦想 学习
- B. 书籍 欲望
- C. 志向 探索
- D. 年龄 路程

91. 部分英国医生宣称，他们开始对苹果iPad用户类似重复性劳损的病症进行治疗，这类被戏称为“i伤害”的病症，主要表现为用户的手和点击、触摸屏幕的手指出现各种各样的病痛。专家推测：大多数iPad用户左手拿着平板电脑以保持其稳定，右手食指点击屏幕发送邮件或生成文件。这使得他们有患上诸如重复性劳损、腕管综合症以及其他肌腱伤害的风险。

如果以下各项为真，最能支持上述专家推测的是：

- A. 使用iPad的用户患上此类病症的概率比较高
- B. 使用其他品牌平板电脑的用户出现了类似病症
- C. 未普及iPad的地区此类病症出现的比率极少
- D. 使用台式机的用户患上此类病症的概率比较低

92. 科学家发现关闭实验鼠肌肉组织中的两个基因会严重限制它们跑动的能力，两个基因控制老鼠骨骼肌（身体中能够控制运动的肌肉）中名为AMPK的蛋白质的合成。这些基因让肌肉能够从糖中制造能量，如果这一过程受

到干扰，肌肉中制造能量的线粒体水平较低，肌肉就不能正常工作。因此科学家认为整天窝在沙发上的人和奥运选手之间的差别可能全都源自基因。

如果以下各项为真，最能支持科学家观点的是：

- A. 整天窝在沙发上的人在科技帮助下能成为奥运选手
- B. 部分奥运选手含有常人所没有的合成AMPK蛋白质的基因
- C. 关闭构成AMPK蛋白质的基因会限制老鼠跑动能力
- D. 有研究表明，经过基因改良的老鼠跑动能力提高了

93. 有经济学家不赞成政府对低收入人群的直接救助，主张政府对大企业家和富人采取优惠的财政和税收政策，认为大企业家和富人的投资与消费活动会促进经济发展，增加穷人的就业机会，将财富从社会上层传递到社会底层。

如果以下各项为真，最能削弱上述理论的观点是：

- A. 政府对大企业家和富人采取优惠的财政和税收政策，导致因贫富差距拉大而引发不确定的社会矛盾
- B. 打破收入分配方面的平均主义，鼓励一部分人先富起来，但具体实施这一政策存在不可预见的风险
- C. 高收入者的消费需求达到饱和后，人的“自私性”将抑制投资需求，社会投资规模也不再继续增长
- D. 政府的财政和税收政策应该优惠穷人，提高穷人购买力同样会增加有效消费需求促使经济持续发展

94. 超级笔记本作为市场中一个非常有竞争力的新生力量，2011年销量只占移动计算机市场销量的20%，低于预期的30%。有供应商表示，超级笔记本之所以遭遇销售低迷很大程度上是因为欧洲市场对超级笔记本需求过小。调查显示，欧洲消费者普遍青睐15英寸及以上尺寸的笔记本电脑，有数据显示，目前欧洲售出的移动计算机中有40%~45%都是15英寸的机型，而超级本根本就没有这样的尺寸。

供应商得出上述结论的前提假设是：

- A. 生产前厂家未考虑欧洲消费者的使用习惯
- B. 超级本应该设计生产15英寸级别的产品
- C. 欧洲消费者的消费习惯与其他地区相类似
- D. 欧洲市场在全球笔记本市场中占较大比例

95. 德国和瑞士的专家经过研究得出一个有趣的结论：餐具颜色能直接影响食欲，红色餐具可降低人们40%的食欲，在人们的传统观念中，红色是极具攻击性的色彩，用红色餐具盛放食物往往会让人难以下咽，因为在潜意识中人们会给自己发出不能吃红色餐具中食物的心理暗示，从而令食欲下降。

如果以下各项为真，最能质疑上述论断的是：

- A. 快餐巨头常在大堂中使用大片鲜亮的红色图案，并没有影响快餐销量
- B. 红色易使人产生紧张感，暴饮暴食是人在精神紧张时放松自己的一种方式
- C. 试验表明，使用红色水杯者比使用蓝色水杯者平均饮水量要减少44%
- D. 红色预示着不安和担忧，人们看到红色餐具会本能地担心食物有危险

96. 研究人员发现美国人口的老龄化或将有助于减缓全球变暖。一名人口统计学家使用了一种新的计算机模型来研究年龄与二氧化碳排放量之间的关系，显示美国人在退休之后对全球变暖的“贡献”就会减少。

如果以下各项为真，最能支持研究人员观点的是：

- A. 研究发现随着年龄增长，美国人二氧化碳的排放量逐渐增大，这种趋势会在65岁前后达到顶峰，然后骤然回落
- B. 研究报告认为，与美国有着类似的老龄化人口结构和消费模式的国家也许会发现它们的二氧化碳排放量将减少
- C. 有研究表明，65岁及以上的美国人捐献给关注全球变暖的绿色环保基金的慈善款金额高于其他年龄段的美国人
- D. 研究显示，美国二战后“婴儿潮”一代在退休之后的二氧化碳排放量在2030年后将逐渐减少，减幅十分显著

97. 有专家认为，全球经济正缓慢复苏，其主要证据是：美国的经济表现超出预期，在就业和住房方面都有不错的表现；欧洲央行启动了融资运作计划，用比较低的利率贷款，为更多的企业以及中小企业进行融资；全球整

个大宗商品市场树立了足够的信心。因此，这都是非常好的迹象。

如果以下各项为真，最有可能成为上述论证前提的是：

- A. 专家先前对美国经济表示不乐观  
B. 欧洲央行原有利率较高，银根紧  
C. 非欧美国家的经济状况保持稳定  
D. 全球大宗商品交易缺乏信心支持

98. 据英国《每日邮报》报道，日本富士摄影胶片公司将利用所掌握的胶片技术创新护肤产品，进军美容业，感光乳剂中的胶原蛋白可以防止胶片被氧化，与利用胶原蛋白保护皮肤免受紫外线伤害有着异曲同工之妙。一些忠实于富士品牌的消费者认为这对于爱美人士来说是一个好消息。

消费者得出上述结论隐含的假设是：

- A. 含有胶原蛋白的护肤品在亚洲欧洲等地区广受消费者欢迎  
B. 富士公司具备了生产含有胶原蛋白护肤品的巨大生产能力  
C. 科学家们已经从富士公司的护肤产品中发现了抗氧化物  
D. 护肤产品能利用富士公司生产胶卷使用的科研成果和工艺

99. 小王、小张、小李、小顾四位舍友预测某次考试的结果。

小王：我想这次大家都能过吧！

小张：怎么可能？你没看见我乌云密布吗？

小李：小顾肯定是没有问题的。

小顾：拜托！要是我没问题，大家就都没问题。

成绩公布后，证明四人中只有一个人的说法是错误的。

说法错误的是：

- A. 小王                      B. 小张                      C. 小李                      D. 小顾

100. 某市以生产加工“工艺品”出口到欧盟国家著称。去年以来，受到欧洲债务危机影响，该市对欧盟工艺品出口锐减。鉴于市场的变化，作为该市最大的工艺品生产企业A公司，必须在以后两年的时间里提高5%的生产率，否则它就会破产。根据该市外经贸局的研究，A公司按照目前的生产状况和经管结构，如果能提高5%的生产率，就能增加10%的生产利润。

如果上述陈述为真，以下选项必然为真的是：

- A. 如果A公司不能达到提高10%利润的目标，它就会破产  
B. A公司的生产率两年内必须提高10%，否则它就会破产  
C. 只要经济形势好转，A公司不提高生产率，也不会破产  
D. A公司生产状况和经管结构两年不变，利润才能提高10%

#### 第四部分 - 数量关系

在这部分试题中，每道试题呈现一段表述数字关系的文字，要求你迅速、准确地计算出答案。你可以在草稿纸上运算。

101. 某小区物业征集业主意见，计划从100户业主中抽取20户进行调查。100户业主中有b户户主年龄超过60岁，a户户主年龄不满35岁，户主年龄在36岁到59岁的有25户。为了使意见更具代表性，物业采取分层抽样的方法，从b户中抽取了4户，则a的值可能是：

- A. 44                      B. 50                      C. 55                      D. 66

102. 某公司要在长、宽、高分别为50米、40米、30米的长方体建筑的表面架设专用电路管道连接建筑物内最远两点，预设的最短管道长度介于：

- A. 90~100米之间              B. 80~90米之间              C. 70~80米之间              D. 60~70米之间

103. 12个啤酒空瓶可以免费换1瓶啤酒，现有101个啤酒空瓶，最多可以免费喝到的啤酒为：

- A. 8瓶                      B. 9瓶                      C. 10瓶                      D. 11瓶



104. 某公司招聘员工，按规定每人至多可投考两个职位，结果共42人报名，甲、乙、丙三个职位报名人数分别是22人、16人、25人，其中同时报甲、乙职位的人数为8人，同时报甲、丙职位的人数为6人，那么同时报乙、丙职位的人数为：

- A. 5人                                      B. 6人                                      C. 7人                                      D. 8人

105. 四名运动员参加4×100米接力，他们100米速度分别为 $v_1$ 、 $v_2$ 、 $v_3$ 、 $v_4$ ，不考虑其他影响因素，他们跑400米全程的平均速度为：

- A.  $\frac{1}{4}(v_1+v_2+v_3+v_4)$   
 B.  $\frac{4}{v_1+v_2+v_3+v_4}$   
 C.  $\frac{4}{v_1} + \frac{4}{v_2} + \frac{4}{v_3} + \frac{4}{v_4}$   
 D.  $\frac{1}{\frac{1}{v_1} + \frac{1}{v_2} + \frac{1}{v_3} + \frac{1}{v_4}}$

106. 3颗气象卫星与地心距离相等，并可同时覆盖全球地表，现假设地球半径为R，则3颗卫星距地球最短距离为：

- A.  $\frac{1}{2}R$   
 B.  $\frac{2}{3}R$   
 C. R  
 D. 2R

107. 用直线切割一个有限平面，后一条直线与此前每条直线都要产生新的交点，第1条直线将平面分成2块，第2条直线将平面分成4块，第3条直线将平面分成7块，按此规律将平面分为22块需：

- A. 5条直线                                      B. 6条直线                                      C. 7条直线                                      D. 8条直线

108. 某停车场按以下方法收费：每4小时收5元，不足4小时按5元收取，每晚超过零时加收5元，并且每天早上8点开始重新计时，某天下午15时小王将车停入停车场，取车时缴纳停车费65元，小王停车时间t的范围是：

- A.  $32 < t \leq 36$ 小时                                      B.  $37 < t \leq 41$ 小时                                      C.  $41 < t \leq 44$ 小时                                      D.  $44 < t \leq 48$ 小时

109. A、B两地直线距离40千米，汽车P与两地直线距离和等于60千米。则以下判断正确的是：

- A. 如果A、B、P位于同一条直线上，汽车位于A、B两地之间或两地外侧  
 B. 如果A、B、P位于同一条直线上，汽车位于A、B两地外侧，且汽车到A的距离为20千米  
 C. 如果A、B、P不在同一条直线上，汽车所在位置有3个，可位于A、B两地之间或A、B两地外侧  
 D. 如果A、B、P不在同一条直线上，汽车的位置有无穷多个

110. 从3双完全相同的鞋中，随机抽取一双鞋的概率是：

- A.  $\frac{1}{6}$   
 B.  $\frac{1}{3}$   
 C.  $\frac{1}{2}$   
 D.  $\frac{3}{5}$

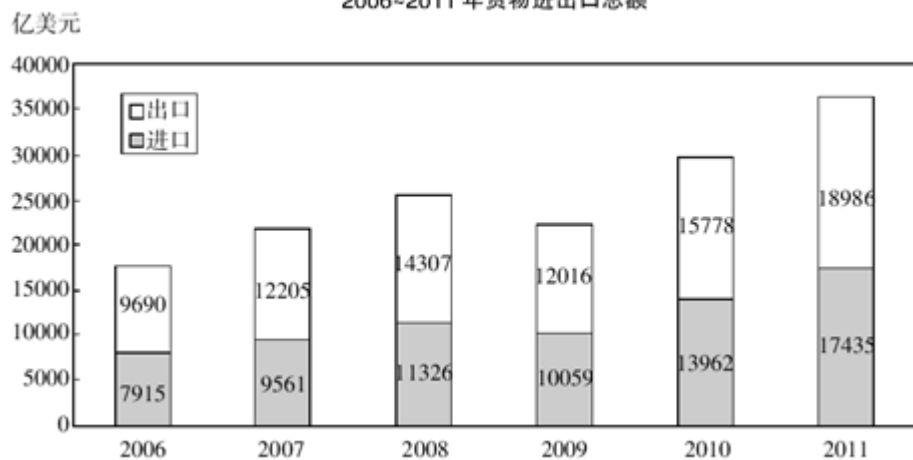
### 第五部分 - 资料分析

针对下列图、表或文字回答问题。你应根据资料提供的信息进行分析、比较、计算、处理。你可以在题本上运

算。

2011年我国全年货物进出口总额36421亿美元，比上年增长22.5%。其中，出口18986亿美元，增长20.3%；进口17435亿美元，增长24.9%。进出口差额(出口值与进口值差额的绝对值)1551亿美元，比上年减少265亿美元。

2006~2011年货物进出口总额



2011年对主要国家和地区进出口额及其增长速度

国家和地区	出口额(亿美元)	比上年增长(%)	进口额(亿美元)	比上年增长(%)
欧盟	3560	14.4	2112	25.4
美国	3245	14.5	1222	19.6
中国香港	2680	22.8	155	26.4
东盟	1701	23.1	1928	24.6
日本	1483	22.5	1946	10.1
韩国	829	20.6	1627	17.6
印度	505	23.5	234	12.1
俄罗斯	389	31.4	403	55.6
中国台湾	351	18.3	1249	7.9

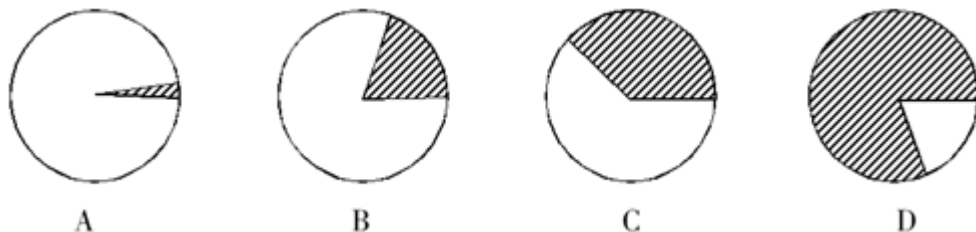
111. 2010年我国全年货物进出口差额为多少亿美元:

- A. 265                                      B. 1286                                      C. 1551                                      D. 1816

112. 2007—2011年我国全年货物出口额与上一年相比增长超过30%的年份有几个:

- A. 1个                                      B. 2个                                      C. 3个                                      D. 4个

113. 下列最能体现2011年我国对欧盟出口额占全年出口额比重的图例是:



- A. 如图所示                                      B. 如图所示                                      C. 如图所示                                      D. 如图所示

114. 表中所列举的国家和地区中，2011年我国货物进出口贸易差额最大的是:

- A. 欧盟                                      B. 中国香港                                      C. 美国                                      D. 中国台湾

115. 能够从上述资料中推出的是:

- A. 与上一年相比，2011年我国全年货物出口额占进出口总额的比重上升  
B. 2006—2011年我国货物进出口总额逐年增加

- C. 2011年我国对俄罗斯进口增长金额低于我国对韩国进口增长金额  
 D. 2011年大陆对中国台湾贸易总额与上一年相比增长18%

2011年某省接待过夜游客总量再次实现突破，达到3001.34万人次，同比增长16.0%。实现旅游收入324.04亿元，同比增长25.8%。12月份宾馆平均开房率为74.02%，同比增长0.06%；全年累计宾馆平均开房率为62.37%，同比增长2.0%。

#### 该省2011年12月及全年接待过夜旅客人数

项目	12月份 (万人次)	同比增长 (%)	全年 (万人次)	同比增长 (%)
接待过夜旅游者总计	333.50	24.3	3001.34	16.0
(一)过夜境内旅游者	322.96	23.5	2919.88	15.8
1.旅游饭店接待过夜人次	235.27	18.32	2123.51	14.33
2.社会旅馆接待过夜人次	87.69	39.8	796.37	20.0
(二)过夜入境旅游者	10.54	56.1	81.46	22.8
1.外国人	7.00	32.6	56.17	18.6
2.香港同胞	1.40	60.9	13.62	20.2
3.澳门同胞	0.13	160.0	1.13	43.0
4.台湾同胞	2.01	265.5	10.54	54.8

#### 该省2011年12月及全年接待过夜游客的旅游收入情况

项目	12月份 (亿元)	同比增长 (%)	全年 (亿元)	同比增长 (%)
接待过夜游客旅游总收入	33.94	37.6	324.04	25.8
1.接待境内旅游者收入	30.83	36.5	299.47	27.1
2.接待入境旅游者收入	3.11	49.5	24.57	11.6

116. 2010年该省接待过夜游客的旅游总收入约为：

- A. 25亿元                      B. 258亿元                      C. 298亿元                      D. 408亿元

117. 下列2011年1—11月该省旅游统计数据中，同比增长速度大于全年的是：

- A. 接待过夜境内旅游者收入                      B. 宾馆平均开房率  
 C. 旅游饭店接待过夜的境内游客人数                      D. 接待过夜入境旅游者人数

118. 2011年12月该省入境外国旅游者占全年入境外国旅游者的比重，较上年约增加：

- A. 1.3%                      B. 14.2%                      C. 25.6%                      D. 32.6%

119. 2011年12月该省接待过夜游客中，境外游客每人的平均消费约为境内游客的：

- A. 1倍                      B. 2倍                      C. 3倍                      D. 4倍

120. 能够从上述资料中推出的是：

- A. 2011年该省旅游饭店接待过夜游客人次超过社会旅馆的3倍  
 B. 2010年12月该省过夜入境游客中台湾同胞人次多于香港同胞  
 C. 2011年12月台湾同胞到该省过夜旅游人次高于前11个月的平均值  
 D. 2011年到该省消费的游客中，境外游客消费增长速度高于境内游客

## 扫一扫，对答案

