

2013年天津市公务员录用考试《行测》真题（考生回忆版）

更新时间：2024年12月09日14:59:29

扫描下方二维码下载星光公考APP 刷海量题库掌握最新热点



QQ扫码直接下载
微信扫码到应用市场下载
支持所有机型哦

第一部分 - 数量关系

在这部分试题中，每道试题呈现一段表述数字关系的文字，要求你迅速、准确地计算出答案。你可以在草稿纸上运算。

1. 3, 5, 6, 10, 11, 17, 18, ()

- A. 25 B. 26 C. 27 D. 28

2. 3, $\frac{5}{4}$, $\frac{7}{9}$, ()

- A. $\frac{129}{256}$ B. $\frac{9}{16}$ C. $\frac{14}{81}$ D. $\frac{7}{61}$

3. 3, 10, 31, 94, (), 850

- A. 250 B. 270 C. 282 D. 283

4. 3, 2, 11, 14, 27, ()

- A. 32 B. 34 C. 36 D. 40

5. 3, $\frac{15}{-4}$, $\frac{14}{5}$, $\frac{45}{-28}$, ()

- A. $\frac{25}{36}$ B. $\frac{33}{41}$ C. $\frac{21}{48}$ D. $\frac{35}{64}$

6. 2012^{2012} 的末位数字是:

- A. 2 B. 4 C. 6 D. 8

7. 一群人坐车出去旅游，如果每辆车坐22人，还剩5人没位置。如果每辆车坐26人，则空出15个座位。问每辆车坐25人，空出多少个座位:

- A. 20 B. 15 C. 10 D. 5

8. 甲地到乙地，步行速度比骑车速度慢75%，骑车速度比公交慢50%。如果一个人坐公交车从甲地到乙地，再从乙地步行到甲地，一共用了一个半小时，则此人骑车从甲地到乙地需要多长时间:

- A. 10分钟 B. 20分钟 C. 30分钟 D. 40分钟

9. 一项工程计划300天完工，开工100天后，由于施工人员减少，工作效率下降20%，问完成该工程比原计划推迟了多少天:

- A. 40 B. 50 C. 60 D. 70

10. 甲容器有浓度为3%的盐水190克，乙容器中有浓度为9%的盐水若干克，从乙取出210克盐水倒入甲，甲容器中的盐水的浓度是多少:

- A. 5.45% B. 6.15% C. 7.35% D. 5.95%

11. 正六面体的表面积增加96%，棱长增加多少:

- A. 20% B. 30% C. 40% D. 50%

12. 有70名学生参加数学、语文考试，数学考试得60分以上的有56人，语文考试得60分以上的有62人，都不及格的有4人。则两门考试都得60分以上的有多少人:

- A. 50 B. 51 C. 52 D. 53

13. 由1~9中的数字组成一个3位数，有数字重复的情形有多少种:

- A. 220 B. 255 C. 280 D. 225

14. 某个公司在甲乙丙丁四个地方各有一个仓库，四个地方依次排列，大致都在一条直线上，分别相距6千米、10千米、18千米。甲仓库有货物4吨，乙仓库有货物6吨，丙仓库有货物9吨，丁仓库有货物3吨。如果把所有的货物集中到一个仓库，每吨货物每千米运费为100元，请问把货物放在哪个仓库最省钱:

- A. 甲 B. 乙 C. 丙 D. 丁

焉。

依次填入划横线部分最恰当的一项是：

- A. 感性 理性 B. 理性 感性 C. 高兴 清醒 D. 兴奋 平静

25. 天价粽子人为添加鲍鱼、海参、扇贝等昂贵成分，甚至在礼盒中配售其它商品而令粽子价格暴涨的做法，让好好的端午节变了味道，这是对节日的亵渎，更是国人_____消费心理在作怪。

填入划横线部分最恰当的一项是：

- A. 变态 B. 畸形 C. 阴暗 D. 病态

26. 由于体制性障碍、城乡利益冲突以及农民工知识技能不足等原因，农民工一直是城市中的边缘群体，是没有真正融入城市社会的城市居民。农民工城市融入是城市化的重要环节。如何使大量留在城市中的农民工和所在城市融合为一体，是我国经济社会转型期必须要解决的课题。当前，农民工家庭面临着经济层面、制度层面和文化层面三种相互关联、依次递进的社会融合问题。

对这段文字理解不正确的是：

- A. 农民工在城市中一直处于非主流地位
B. 农民工没有真正融入城市社会，城乡二元体制是因素之一
C. 农民工与城市生活方式格格不入
D. 农民工需要在经济、制度、文化层面融入城市

27. 目前我们的城市化道路走了一条不符合中国国情的道路，为什么？一是现有的城市发展是“关起门来搞城市化”，把农民关在城外，自己在城内搞现代化，这是为城市“锦上添花”，而不是搞农村“人口城市化”。二是我们在城市化道路上搞“天女散花”，强调大力发展小城镇，因为“小城镇，大战略”能解决农村剩余劳动力的大问题。这是一种错误的战略选择和过时观念，实际上这是一种“离土不离乡”的传统观念的延续，它实质上就是不愿意让农民进大中城市，不允许他们分享大中城市积累的文明成果。

这段文字的主要观点是：

- A. 城市化就是让农村人口城市化 B. 城市化就是使农村人口进入大中城市
C. 城市化就是让农民离土又离乡 D. 城市化道路选择要考虑中国国情

28. 看待让社会公正问题，应防止落入平均主义这种无论在历史上还是在现实中都颇具诱惑力的窠臼中。虽然平均主义在某些领域是适用的，但若将其推广到所有领域尤其是分配领域，否认人的差别而要求平均分享一切，最终只会扼制人的积极性，扼杀社会发展的活力，不利于社会公正的实现。

这段话意在强调：

- A. 社会公正是相对的 B. 平均主义是国人习惯的“窠臼”
C. 平均主义适合非分配领域 D. 追求社会公正并非要搞平均主义

29. 高学历高技能的工人与低学历工人的就业前景差别越来越大。在美国，自2008年以来，大学毕业生的失业率从未超过5%，而高中辍学者的失业率在2009年和2010年的高峰期却增至15%以上。在所有经合组织成员国中，这一趋势已经很明显：新增的工作越来越需要拥有高学历和高技能的工人。因此，很多工人正在被抛弃。麦肯锡全球研究所预计，到2020年，美国对大学学历工人的需求缺口将达到150万人——而未完成高中学业的工人将出现近600万人的剩余。同样，法国的雇主们也需要再找到220万名拥有学士学位的工人，而该国没有学士学位的工人数量将有230万人的剩余。如果这种技能配合不当的现象继续存在，发达经济体中永久性失业的人群将持续增长。

这段文字所揭示的突出问题是：

- A. 低学历工人的失业率呈上升趋势
B. 永久性失业的人群将持续增长
C. 高学历工人与低学历工人的就业前景差别越来越大
D. 高学历工人的需求缺口将持续增长

30. 一国人口生育率的迅速下降在造成人口老龄化加速的同时，少儿抚养比也迅速下降，劳动年龄人口比例上升，在老年人口比例达到较高水平之前，将形成一个劳动力资源相对丰富、抚养负担较轻、于经济发展十分有利的“黄金时期”，人口学家称之为“人口红利”。中国目前的人口年龄结构就处在人口红利的阶段，每年供给的劳动力总量约为1000万，劳动人口比例较高，保证了经济增长中的劳动力需求。由于人口老龄化高峰尚未到来，社会保障支出负担轻，财富积累速度比较快。

从这段文字可以推断出：

- A. “人口红利”一定会带来经济增长
- B. 中国的“人口红利期”即将结束
- C. “人口红利期”是一个国家人口变迁过程中的必经阶段
- D. 一个老龄化社会，必然已经结束了“人口红利期”

31. 据日本社会保障规定，失业完全无收入者，每月可领到一定数额的失业补助金。丧失劳动能力及无人赡养的老人除每月可领取补助以外，房租减收，用水、看病免费，市内交通费70岁以上全免、以下减半，若有未成年的子女，还另外增加补助金。凭这样几条，足可以维持基本的生活，根本无需上街去“流浪”。

这段文字意在说明：

- A. 日本社会保障制度的完善
- B. 日本社会保障的基本目标
- C. 日本社会保障制度的具体内容
- D. 日本没有流浪者的原因

32. 有朋友对我说：“你们古董行不好，净卖假货。”我深刻反省，究其原因，文物的文化含量太大，难以一目了然。自古文物收藏凭的是眼力，玩的是心跳，至少宋代以来许多国宝就在真假之间争论，翻来覆去者并不罕见。历史上被判了死刑的文物又起死回生也不是凤毛麟角。由于人类对自身文化认知的局限而对文物发生错判，只要不是故意，就情有可原。

对这段文字理解错误的是：

- A. 非故意的卖假古董可以谅解
- B. 非故意的错判文物真假可以原谅
- C. 宋代以来许多国宝陷于真假之争
- D. 历史上有不少被判为赝品的古董又被鉴定为真品

33. 现在中文系的文学教学是普遍存在弊病的，突出的表现是：概论、文学史和各种理论展示的课程太多，作家作品与专书选读太少，结果呢，学生刚上大学可能还挺有灵气，学了几年后，理论条条有了，文章也会操作了，但悟性与感受力反而差了。

这段文字不直接支持以下哪种观点：

- A. 中文系学生的“文气”在日益弱化
- B. 现在中文系的文学教学需要改革
- C. 现在中文系学生普遍缺少文学作品的阅读
- D. 现在中文系文学教学应大幅削减概论、文学史及理论课

34. 高校社团活动现在遭到批评，批评的不是该不该有社团，而是高校对社团的经营方式。目前的高校社团组织应该改进，使参加社团的多数人受益，而不是少数人的成功。如果高校社团经营好了，在大学生培养中的作用就不只是“第二课堂”。教育不始于课堂，也不会止于课堂。读万卷书不如行千里路，行千里路不如阅人无数，处处留心皆是学问，课堂内外尽为培养。

这段文字意在说明：

- A. 高校社团的社会评价很差
- B. 高校社团的经营方式需要改进
- C. 高校社团不能满足于少数大学生的获益
- D. 高校社团的定位不是“第二课堂”

35. 与营养餐相比，音体美教育的缺失似乎显得不那么迫在眉睫，这样的逻辑并不错。然而，换一个角度的话，或许能逼视出这种逻辑的不足：与物质匮乏相比，心灵缺乏滋养，难道不是一个至少同样重要的问题？我们有

理由呼吁：各种慈善努力，无论官方或民间，务请聚焦贫困地区音体美的匮乏。

从这段文字推出的错误结论是：

- A. 营养餐和音体美教育同为贫困地区学生所需要
- B. 贫困地区的音体美教育匮乏
- C. 作者认为营养餐比音体美教育更亟需
- D. 慈善事业对贫困地区的音体美教育关注不够

36. 曲艺是中华优秀传统文化的重要组成部分。近年来，在各级政府的重视下，经过全国曲艺工作者和学术界的共同努力，曲艺艺术在传承中得到发展，一系列源于传统的曲艺精品不断涌现，一大批宝贵的曲艺遗产得到了有效的抢救与保护。但是，随着经济全球化和生活方式的转变、城市化步伐的加快以及外来文化的冲击，包括曲艺在内的非物质文化遗产的生存和发展，也出现了不小的困难，一些曲艺遗产面临流失，许多曲种后继乏人、濒临失传，传承保护工作迫在眉睫。

最能准确表达这段文字的主旨的是：

- A. 曲艺是中华优秀传统文化的重要组成部分
- B. 曲艺遗产传承保护工作迫在眉睫
- C. 曲艺遗产得到了有效的抢救与保护
- D. 非物质文化遗产传承保护工作迫在眉睫

37. 人皆有求生本能，更多绝症患者放弃治疗实有其现实隐衷，比如继续治疗将会给家庭带来不可承受的经济负担，比如癌症晚期患者就医环境不尽如人意。这些现实的无奈，恰是完善医疗制度和社会保障的着力之处。这不仅需要提供有尊严、安全而稳定的就医环境，完善大病救助制度以缓解普通家庭的医疗负担，也呼唤包括心理疏导、慈善陪护在内的临终关怀服务，根除绝症患者的后顾之忧和现实无奈。

作者认为解决患者治疗困境的途径是：

- A. 提供良好的临终关怀服务
- B. 完善医疗救助制度
- C. 完善医疗制度，加强社会保障
- D. 提供良好的就医环境

38. 作为可再生新能源，风能具有无污染、永不枯竭、综合社会效益高、研发成本相对低等特点。然而，风能行业建设投资回收周期长，客观上需要长期、稳定的优惠政策保障。美国风能增长潜力很大，但因美政府对风能税收鼓励政策不稳定，使包括中国风能企业在内的国际投资者在美国风能市场的增长前景变得不确定。

对这段文字理解不准确的是：

- A. 风能属于可再生新能源
- B. 风能行业的优势大于其劣势
- C. 美国政府对风能企业的优惠政策不稳定
- D. 在美国投资的中国风能企业市场前景不确定

39. 在国际上，“医药代表”已经有近40年历史，已经被广泛认可和接受。作为传递药品安全使用信息的桥梁，“医药代表”扮演着非常重要的角色，他不仅给医务专业人员传递药品临床使用相关的知识，而且还收集临床药品使用情况，尤其是药品不良反应信息，反馈给药品生产企业，为下一步改进或研发新药提供宝贵线索。国际上的研究表明，制药企业主要通过“医药代表”收集药品使用情况，而且“医药代表”是主要的药物不良反应报告者。

这段文字主要介绍的是：

- A. 医药代表的发展历史
- B. 医药代表的作用
- C. 关于医药代表的国际研究成果
- D. 医药代表的执业资格

40. 一直以来，公立医院15%“药品加成”政策已被固化为“以药养医”顽疾，甚至滋生“以药腐医”乱象，取消“以药养医”成为新医改的重头戏之一。国务院出台的“十二五”医改意见已经明确，取消药品加成政策之后，将公立医院补偿由服务收费、药品加成收入和财政补助三个渠道改为服务收费和财政补助两个渠道。

作者认为“以药养医”是：

- A. 政府对公立医院的特殊政策
- B. 医疗价格虚高的原因
- C. “以药腐医”的原因
- D. “药品加成”政策的结果

41. 你身边有没有这样一群人？早上上班见面问好，他在低头玩手机；中午同事吃饭闲聊，他在低头玩手机；晚

上朋友聚会叙旧，他还在低头玩手机。其实他没有那么忙，他可能是在“切水果”，可能是在“打小鸟”，更有可能的是在刷微博、摇微信。移动互联网的应用、智能手机和平板电脑的普及，培养出了这样一群“指头族”，一群习惯通过手指看世界的人。

这段文字的主旨是：

- A. 描述“指头族”的生活方式
- B. 描述“指头族”看世界的方式
- C. 说明“指头族”产生的原因
- D. 描述“指头族”的手机情结

42. “当你的微博‘粉丝’超过10万，你就是一份都市报；超过100万，你就是一份全国性报纸；超过1000万，你就是电视台”。

以上文字意在说明：

- A. 微博平台出色的宣传功效
- B. “粉丝”数量越多，对微博的作用越大
- C. 微博比报纸和电视更具宣传优势
- D. “粉丝”是自媒体发展的重要推手

43. 在“理论研究—应用研究—商品生产（工程建设）—经济效益（社会效益）”的技术经济价值链上，传统的分工是高校的理科从事基础理论研究、工科从事应用研究，企业则从事生产建设和相应的技术研究，各环节的创新活动是相对独立的，环节间的纵向协同创新较少，因而许多理论研究成果乃至应用研究成果被束之高阁。这个局面能否改变，对高校而言，关键在于学校和教师对科学研究的价值定位。如果价值定位是完成论文和科研课题，那么学校和教师就会将成果止步于学术期刊和实验室，难以产生与企业协同创新的愿望和内动力；如果价值定位是将研究成果应用于实际，那么学校和教师就会自发产生与企业合作的内驱力。

作者最想说明的是：

- A. 对科学研究的价值定位影响着高校和教师科研成果的转化
- B. 科研成果的应用价值是高校与企业协同创新的内在动力
- C. 应该打破将研究成果束之高阁的不利局面
- D. 只有研究成果应用于实际，科学研究才有价值

44. 随着时代的进步，生态文明越来越得到国际社会的普遍认同，正如国外学者所指出的，“没有环境保护的繁荣是推迟执行的灾难”；不保护环境，经济就会陷入“增长的极限”；通过保护环境优化发展，经济则会有“无限的增长”。

对“没有环境保护的繁荣是推迟执行的灾难”的准确理解是：

- A. 没有环境保护的经济发展势必带来生态文明的灾难
- B. 没有环境保护，经济繁荣只会昙花一现
- C. 经济发展一定会造成环境破坏
- D. 有了环境保护，经济才会有持续的发展

45. “低碳农业”是以“低消耗、低污染、低排放、高品质、高效益”等“三低、两高”为特征的现代农业，是彻底转变农业发展方式，合理高效利用资源和能源，建立清洁能源结构和实施清洁生产，并促进能源和资源利用技术创新、制度创新和可持续发展的路径选择。显然，低碳农业是低碳经济在农业发展中的实现形式，有助于维护全球生态安全、改善全球气候条件、在农业领域推广节能减排技术、开发生物质能源和可再生能源，具备“持续生产、安全保障、品质优良、调节气候、生态涵养”等多元功能。

根据这段文字，对“低碳农业”理解不正确的是：

- A. “低碳农业”具有多方面的功能
- B. “低碳农业”是现代农农业的一种表现形式
- C. “低碳农业”是农业发展的理想目标
- D. “低碳农业”是实现低碳经济的形式之一

最近，周围不少朋友抱怨实名制成了“睁眼瞎”。有人上医院挂号，发现实名制下，号贩子依然猖獗，挂号依然难于上青天；还有人坐火车，发现根本没人验票，实名制对票贩子成了摆设，倒是给乘车人增添了不少麻烦。近年来，越来越多的服务领域开始实施实名制。实名制是通过真实身份信息验证来分配服务资源的一种方式，它并不改变服务资源的供应量，在缓解供求矛盾中，算是一种需求侧管理。

在基本公共服务领域，特别是服务资源相对稀缺的领域，实名制是一件“利器”。过去实行非实名制，有关部门打击“黄牛党”只能靠事后追溯，发现线索难、取证更难。而实名制由于与真实身份相联系，既有利于防止“黄牛党”等“占位投机”，又遏制了一些利益群体的“暗箱操作”，在很大程度上提高了服务资源分配的公平性与透明度。

然而，任何利器能否发挥最大效用，往往不在于其本身的锐利程度，更在于如何使用。实名制也是如此。作为一套复杂、动态的监管系统，实名制的各个步骤环环相扣，相互影响，好似做一道算术题。在这道算术题里，只有消费者的消费手续、服务者的服务流程、监管者的监管步骤都做加法，最终才能换来监管成果的乘数效应。如果执行与监管不到位，就算制度设计得再周详，也会形同虚设。

比如，过去旅客买完票，患者挂了号，监管者的使命就完成了，而如今，监管才刚刚开始。拿火车票实名制来说，不仅涉及购票这一个环节，还连着取票、验票、退票等诸多环节。监管者所增加的麻烦可想而知。然而，这些所谓的麻烦，恰恰是监管者无法避免、不能推卸的。实名制是追求分配公平的手段，不能为了实名而实名，不能“社会呼吁了，制度建立了，也就完事了”。

另一方面，实名制的巨大投入也要求有关部门不能对监管漏洞置之不理。实名制是信息化新制度，无论是为了保证公民信息安全，还是为了完善服务流程，相关部门已在硬件、软件的采购、维护、升级以及人员培训等方面，投入了巨额资金。如果监管者对目前存在的这些漏洞熟视无睹，那么前期的投入都将化为乌有，实际上也是一种渎职。

亡羊补牢，犹未为晚。任何新制度的实施，都需要一段调试、适应期。对于这些符合公众利益的新制度在试水时的一些遗憾和漏洞，人们不妨多一些理解与宽容，而有关部门则应该多一些闻过则喜的胸怀、多一些改革时不我待的紧迫。

46. 关于下面实名制的说法，正确的是：

- A. 通过真实身份信息验证来分配服务资源
- B. 极大增加了服务资源的供应量，缓解供求矛盾
- C. 为应对黄牛党等占位投机而产生
- D. 实名制意义重大，现今已经得到大力推广

47. 实名制的主体是：

- A. 黄牛党 消费者
- B. 消费者 服务者 监管者
- C. 消费者 服务者
- D. 消费者 黄牛党 服务者 监管者

48. 第四段中加横线的句子的意思是：

- A. 只有消费者、服务者、监管者相互配合，实名制才能事半功倍
- B. 消费者、服务者、监管者缺一不可
- C. 消费手续、服务流程、监管步骤缺一不可
- D. 消费手续、服务流程、监管步骤环环相扣

49. 对文章主旨表述最直接并最准确的是：

- A. 实名制的执行需要多方联动
- B. 如果执行与监管不到位，实名制将形同虚设
- C. 应该加强实名制监管
- D. 越来越多的服务领域开始实施实名制

50. 对于实名制执行过程中出现的问题，作者的态度是：

- A. 抱怨
- B. 批评
- C. 理解与宽容
- D. 无所谓

第三部分 - 常识判断

根据题目要求，在四个选项中选出一个最恰当的答案。

51. 下列关于合理饮食有利于健康的说法，正确的是：

- A. 没有水就没有生命
- B. 饮用水越纯净越好

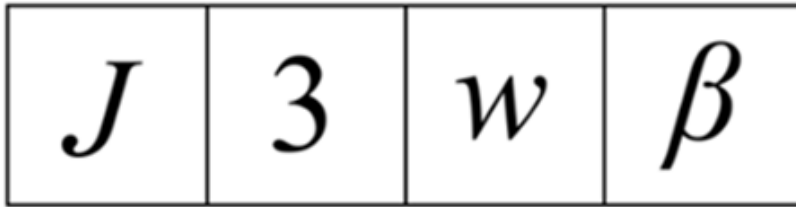

- C. 调味剂和营养剂加得越多越好
D. 养成良好的饮食习惯，多吃蔬菜、水果
52. 食用菌（edible fungus）是可供人类食用的大型真菌。世界第一大食用菌是：
A. 金针菇 B. 木耳 C. 蘑菇 D. 香菇
53. 人体汗腺分布最多的部位是：
A. 腋窝 B. 腹股沟 C. 阴部 D. 手掌和脚部
54. 毛泽东的诗词《卜算子·咏梅》中有“已是悬崖百丈冰，犹有花枝俏”的名句。这种写作方法被称为：
A. 反衬 B. 双关 C. 对比 D. 渲染
55. 大气中二氧化碳含量的逐年上升导致什么现象：
A. 雨岛效应 B. 热岛效应 C. 温室效应 D. 臭氧层空洞
56. 某市120余个政府机构集体入驻微博，打造政务微博群，其中7个官方微博粉丝已超过10万。该市的做法：
A. 创新了政府的社会管理，尊重了公民的知情权
B. 转变了政府的基本职能，扩大了公民的自由权
C. 有利于从群众中来到群众中去，扩大政府的职能范围
D. 有利于做好政府的管理和服务，发挥权力机关的作用
57. 微博在汇聚民众智慧的同时，也可能成为谣言散布的途径。从传播学的角度看，事件越重要、事实越不清楚，传播得就越快越广，谣言的危害也就越大，“谣言=（事件的）重要性×（事件的）模糊性×公众的判断能力”。因此，当有重要事件发生时：
①大众应避免盲从，要有理性判断
②传媒应承担社会责任，防止消息扩散
③个人应尽快传播，自由行使权利
④政府应及时发布信息，谣言止于公开
A. ①② B. ①④ C. ②③ D. ③④
58. 从2012年10月8日起，A市正式实施机动车工作日高峰时段区域“错峰限行”交通管理措施。A市交警部门规定，该措施实施第一周，对于违禁上路车辆以提示、教育、警告为主。适应期过后，严格执行管理。对上述事件最合理的概括是：
A. 转变职能，加强监管 B. 以人为本，合理行政 C. 合理行政，廉洁高效 D. 民主执政，科学执政
59. 《老子》中说：“合抱之木，生于毫末；九层之台，起于累土；千里之行，始于足下。”这句话蕴含的哲理是：
A. 事物的变化发展从量变开始，量变达到一定程度必然会引起质变
B. 质变是量变的前提和必要准备
C. 质变优于量变
D. 质变和量变相互渗透
60. 根据我国《刑法》规定，已经着手实行犯罪，由于犯罪分子意志以外的原因而未得逞的，是犯罪未遂。这里“未得逞”是指：
A. 犯罪行为没有实施完毕 B. 犯罪目的没有达到
C. 犯罪结果没有发生 D. 行为没有具备某种犯罪构成的全部要件
61. 经过改革开放30多年来的努力，中国人民享受了前所未有的开放和自由，中国的人权事业取得了举世瞩目的成就。中国政府高度重视人权的根本原因是：

- A. 中国全面落实依法治国的方略
B. 国家最高权力机关是人民代表大会
C. 我国人民民主具有真实性
D. 我国是人民当家做主的社会主义国家
62. 职业精神与人们职业活动紧密联系，是具有自身职业特征的精神。
我国公务员职业精神的本质是：
A. 恪尽职守
B. 诚实守信
C. 公而忘私
D. 服务人民
63. 先秦两汉时期成就最高、影响最大、通过人物描写来反映历史面貌的作品是：
A. 《左传》
B. 《史记》
C. 《国语》
D. 《国策》
64. 汉武帝在位初年，西汉国库中积蓄了大量的粮食和财钱，这说明了：
A. 封建统治者注意休养生息，政府开支较少
B. 生产力高度发达，出现了大量剩余产品
C. 封建政府征收重税，聚敛了大量财富
D. 地主剥削较轻，社会公共财富比较充裕
65. “从物到感觉和思想”与“从感觉和思想到物”是两条根本对立的认识路线，它属于：
A. 辩证法与形而上学的对立
B. 唯物主义反映论与唯心主义先验论的对立
C. 可知论与不可知论的对立
D. 辩证唯物主义与旧唯物主义的对立
66. 古诗云：“王子去求仙，丹成入九天。洞中方七日，世上已千年。”这是用神话形式说明时间：
A. 是客观的
B. 是有限的
C. 是可知的
D. 是相对的
67. 苏联在解体前，很长时间内其高级领导人大多是理工科出身，而美国现在的总统大多是学法律、政治的。这一差异的内在原因是：
A. 一国在其发展初期大多以技术立国，专家、科技工作者往往能因其杰出贡献而走上政坛；在一个高度发达的国家则需要以民主、法治立国，领导人必须是这方面的行家
B. 苏联比较尊重技术人才，美国则比较尊重人文方面的人才
C. 两国政治家的气质不同
D. 这是由两国的政治体制造成的
68. 当代的机器人有一些严重的缺点，你认为下列几项中不成立的一项是：
A. 机器给人带来了更多的麻烦
B. 机器人不能像人一样思考
C. 机器人只能做简单的动作
D. 机器人没有人的肌肉那样的性能
69. 下雨的时候，闪电一过，接着就要打雷。对这种现象正确的解释是：
A. 雷声是闪电后形成的
B. 雷是闪电的附属物
C. 闪电和雷声同时产生，但闪电比雷声快
D. 打雷自然而然跟着闪电
70. 一个天真的孩子听妈妈讲故事。妈妈对他讲鲸鱼是现在生存在海洋里体积最大的动物，比大象大不知有多少。孩子天真地问妈妈：“那鲸鱼一定是最大的鱼了？”妈妈笑着说他错了，那么，孩子错在哪里呢：
A. 鲸鱼并不是海洋里现存的最大的动物
B. 鲸鱼不生活在海洋里
C. 鲸鱼其实不是鱼，是一种哺乳动物
D. 现在已经不存在鲸鱼了

第四部分 - 判断推理

本部分包括图形推理、定义判断、类比推理与逻辑判断四种类型的试题，请按每道题的答题要求作答。

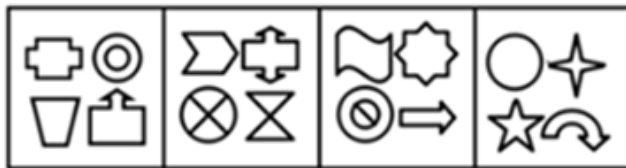
71. 从所给的四个选项中，选择最合适的一个填入问号处，使之呈现一定的规律性：【2013天津071】



A B C D

A. 如图所示 B. 如图所示 C. 如图所示 D. 如图所示

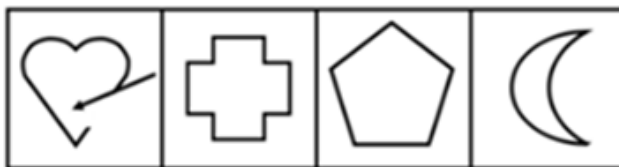
72. 从所给的四个选项中，选择最合适的一个填入问号处，使之呈现一定的规律性：【2013天津072】



A B C D

A. 如图所示 B. 如图所示 C. 如图所示 D. 如图所示

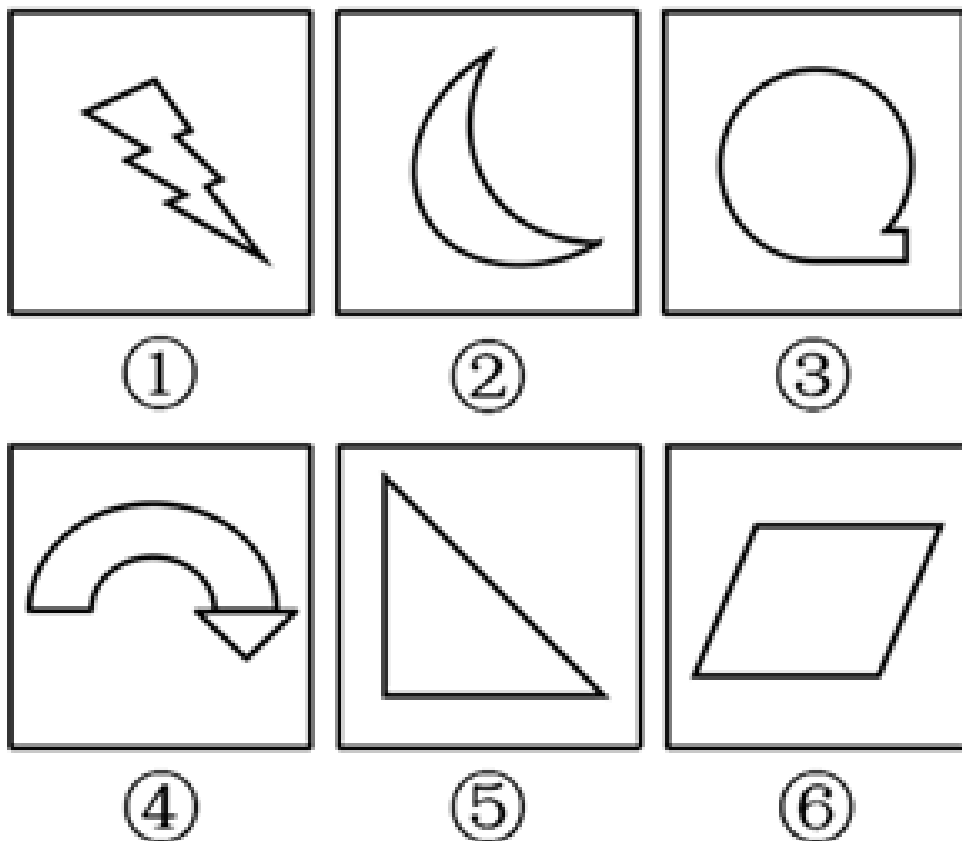
73. 从所给的四个选项中，选择最合适的一个填入问号处，使之呈现一定的规律性：【2013天津073】



A B C D

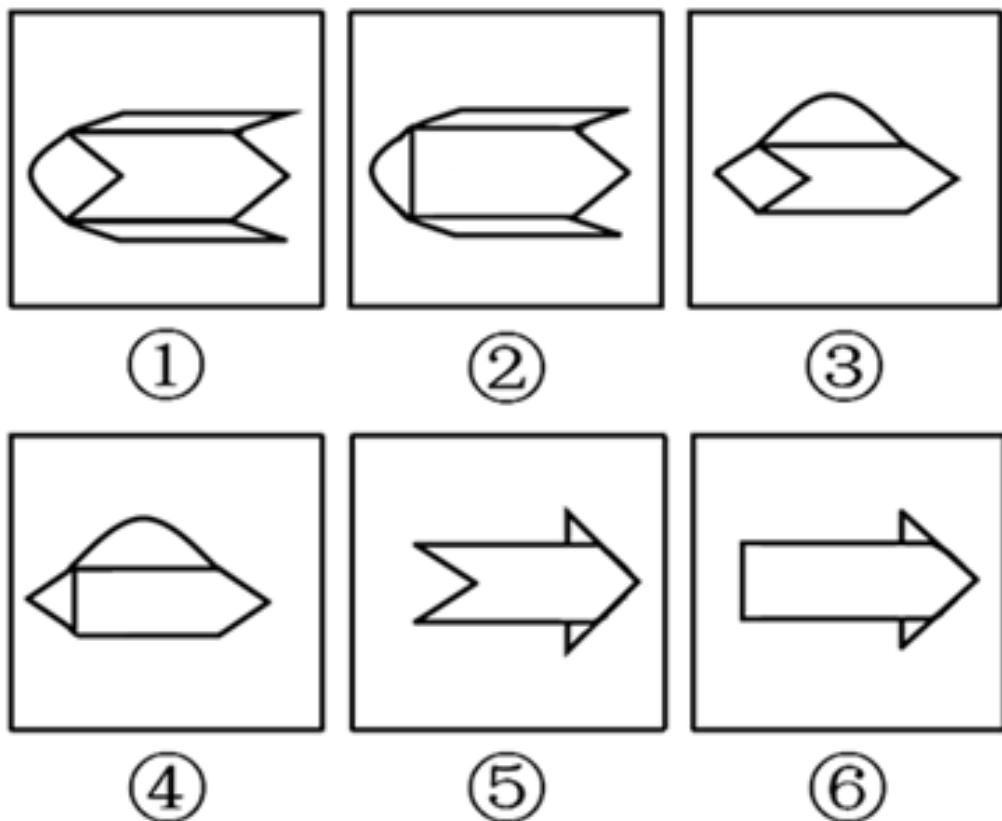
A. 如图所示 B. 如图所示 C. 如图所示 D. 如图所示

74. 把下面的六个图形分为两类，使每一类图形都有各自的共同特征或规律，分类正确的一项是：【2013天津074】



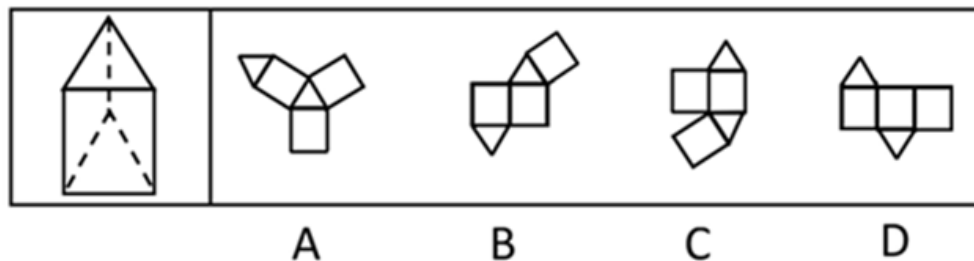
- A. ①③⑤, ②④⑥ B. ①④⑤, ②③⑥ C. ①③④, ②⑤⑥ D. ①②④, ③⑤⑥

75. 把下面的六个图形分为两类，使每一类图形都有各自的共同特征或规律，分类正确的一项是：【2013天津075】



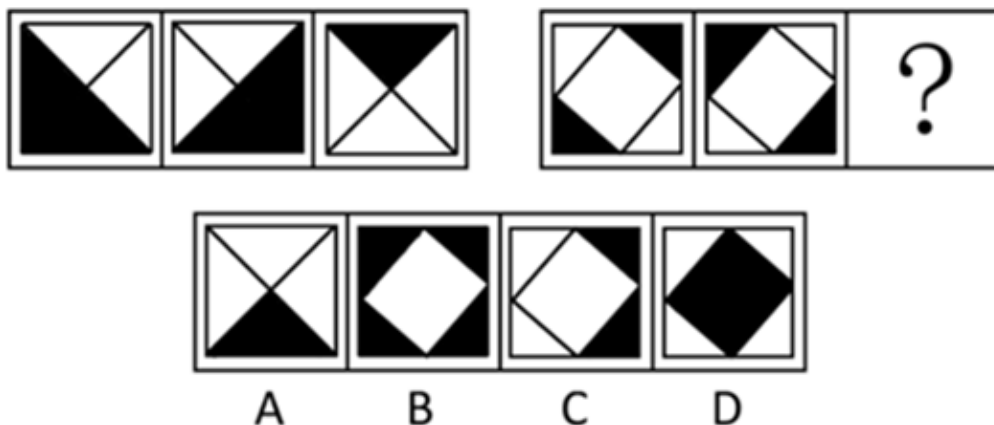
- A. ①②⑤, ③④⑥ B. ①③⑥, ②④⑤ C. ①③④, ②⑤⑥ D. ①③⑤, ②④⑥

76. 给定一个纸盒，下列哪一项不能折成给定的纸盒：【2013天津076】



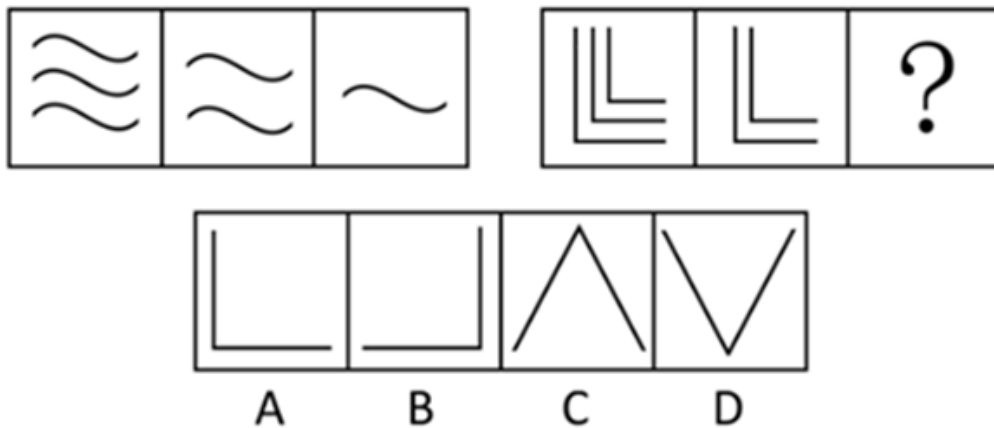
- A. 如图所示 B. 如图所示 C. 如图所示 D. 如图所示

77. 从所给的四个选项中，选择最合适的一个填入问号处，使之呈现一定的规律性：【2013天津077】



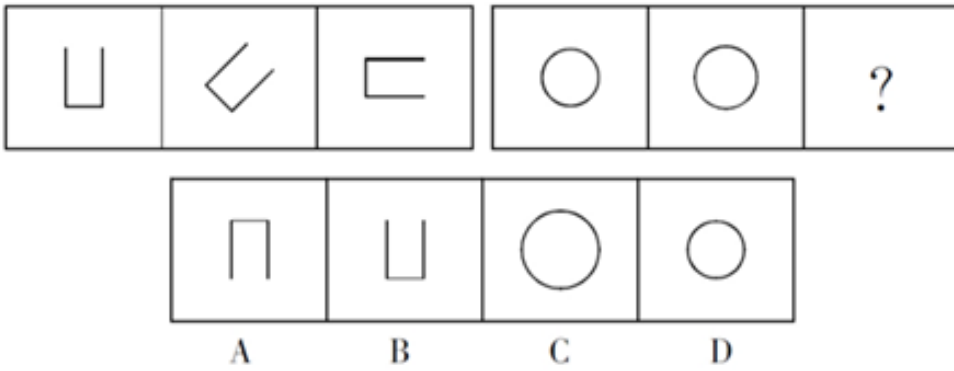
- A. 如图所示 B. 如图所示 C. 如图所示 D. 如图所示

78. 从所给的四个选项中，选择最合适的一个填入问号处，使之呈现一定的规律性：【2013天津078】



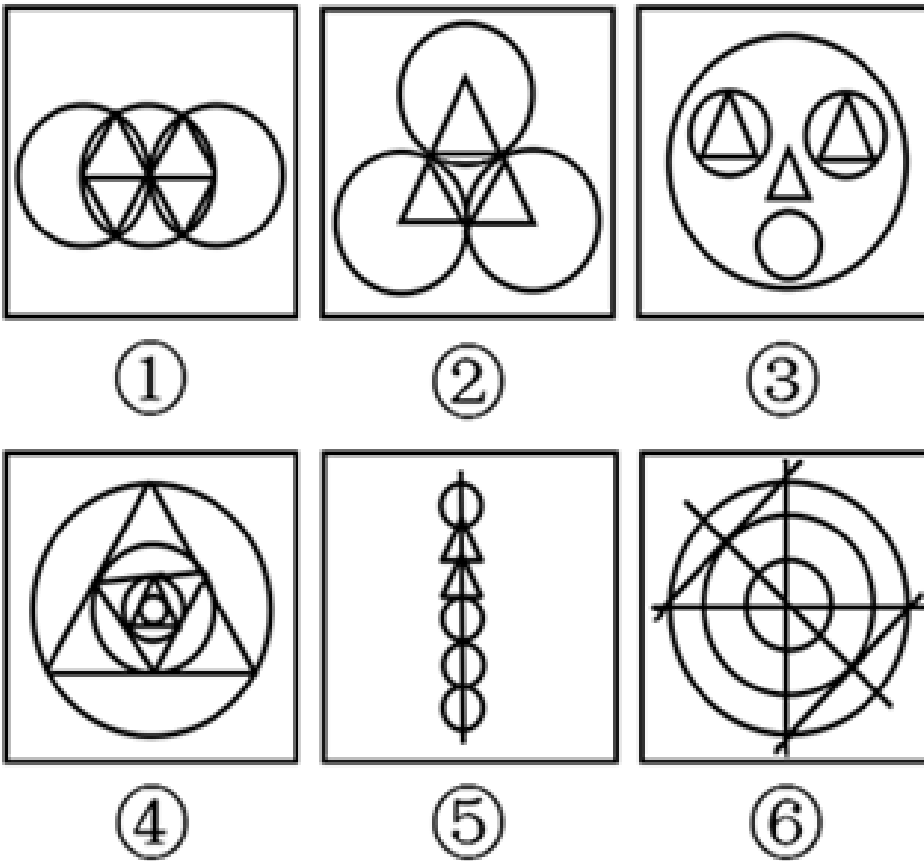
- A. 如图所示 B. 如图所示 C. 如图所示 D. 如图所示

79. 从所给的四个选项中，选择最合适的一个填入问号处，使之呈现一定的规律性：【2013天津079】



- A. 如图所示 B. 如图所示 C. 如图所示 D. 如图所示

80. 把下面的六个图形分为两类，使每一类图形都有各自的共同特征或规律，分类正确的一项是：【2013天津080】



- A. ①③⑥，②④⑤ B. ①③④，②⑤⑥ C. ①②⑥，③④⑤ D. ②③⑤，①④⑥

81. 全球变暖 (global warming) 指的是在一段时间中，地球的大气和海洋因温室效应而造成温度上升的气候变化现象，为公地悲剧之一，而其所造成的效应称之为全球变暖效应。

根据上述定义，下列表述不是全球变暖效应的一项是：

- A. 近年极端天气事件更强更频繁，譬如洪水、旱灾、热浪、飓风和龙卷风
- B. 太平洋海面上升和降雨量及降雪量在数额上和样式上的变化
- C. 世界上出现更高或更低的农产量、冰河撤退、夏天时河流流量减少、物种消失及疾病肆虐
- D. 非洲大陆全洲年平均气温在20℃以上的地方占全洲面积95%，其终年炎热，有将近一半的地区有着炎热的暖季和温暖的凉季

82. 反诉：指在已经开始的民事诉讼中，被告向审判机关提出的旨在使原诉被撤销或失去作用的反请求。反诉中

的被告即是本诉的原告，反诉最迟应在本诉判决之前提起。反诉只能向审理本诉的审判机关提起，反诉与本诉的诉讼标的或诉讼请求应当具有牵连的关系。

根据上诉定义，下面哪种情况属于反诉：

- A. 两人因为民事纠纷诉诸法律，法庭作出一审判决，被告胜诉，原告不服，于是又向高一级的人民法院提出了诉讼请求
- B. 一个无业游民有一次私闯别人住宅被人以入室行窃罪告上法庭。但是在他进入房间时发现了主人有重大的杀人嫌疑，于是他以谋杀罪对该主人进行起诉
- C. 一工厂经理因挪用公款被会计发现，因怕他会告发，于是恶人先告状，以渎职罪等罪对会计进行起诉
- D. 广东两家公司发生经济纠纷，卖方因为买方拒不履行合同，交付全部货款对买方进行起诉。在审理中，买方认为是卖方货物质量太差造成的，买方理由充分，因而对原告进行起诉，以讨个说法

83. 广告，指为了商业目的，由商品经营者和服务提供者承担费用，通过一定媒介或一定形式，如通过报刊、电视、路牌、橱窗等，直接或间接地对自己推销的商品或者所提供的服务所进行的公开的宣传促销活动。

下列属于广告活动的是：

- A. 水泥厂的厂长为了更好地销售水泥，向邻县的包工头送礼一百万
- B. 奥巴马为了当总统，不惜重金在电视上和报刊上发表演说
- C. 李宁牌服装赞助中国体育代表团出征奥运会，获得良好的社会效应和经济效益
- D. 教师规定学生考试一定要用圆珠笔

84. 连续犯是指行为人基于数个同一的犯罪故意，连续多次实施数个性质相同的犯罪行为，触犯同一罪名的犯罪形态。

下列属于连续犯的是：

- A. 某甲为了杀害乙、丙，一次性将药物放入其饭锅内，造成乙、丙同时死亡
- B. 某赌徒为了偿还赌债，先后八次入室行窃，窃得赃款三万余元
- C. 江西一恶匪，流窜全国，多次杀人、抢劫
- D. 某出纳员偶然发现单位财务制度存在疏漏，将3000元公款占为己有，后来又再次利用该漏洞贪污8000元

85. 出口加工区，是经济特区的一种形式，是外向型的经济特区，主要是利用外国的资金、技术、设备，利用我国的土地、资源、劳动力等优势，生产的产品以外销为主。

下列地区属于出口加工区的是：

- A. 香港特别行政区
- B. 西北青海省盐湖经济开发区，采取招商引资策略，外商出资，我方出人力、土地，产品主要在西北五省区销售
- C. 深圳的蛇口工业区采取来料加工的方式与外国人合作，产品销往国外
- D. 北大校办企业方正集团产品首先要支持本校的教学和科研，因为它借用北大无形资产

86. 共同共有：指两个或两个以上的共有人对共有财产享有同等权利并承担同等的责任和义务。

根据上述定义，下列哪一种情况属于共同共有？

- A. 某百万富翁立下遗嘱，言明他所有的存款及房产折价后，平等地分给他的两个儿子，两个各享一半财产的继承权
- B. 某大学的学生宿舍按规定应该每个宿舍住六个人，由于人数原因，最后一个安排的宿舍只有三个人。后学校给每个宿舍配了一台饮水机，给三个人的宿舍也装了一个
- C. 某风险投资商投资某一正在发展的小型企业，并言明该企业以后实行股份制，企业董事长拥有30%的股份，风险投资商占有70%的股份
- D. 两个伙伴合作开办了一家公司，一个负责经营，一个负责开发，但他们在合伙前就以书面公证的形式言明，两人共同拥有这家公司，但是一旦破产欠债，管开发的人不负责还债

87. 留置：指债权人按照合同约定占有债务人的动产，债务人不按合同约定的期限履行债务的，债权人有权依法留置该动产，以该财产的折价或者以拍卖、变卖该财产的价款优先受偿。

下列情况中属于留置的是：

- A. 一企业家雄心勃勃，他在企业效益特别好的时候，并没有把利润以股息、红利、奖金等形式散了下去，而是留在企业，作为进一步发展的资本
- B. 银行在康某到期仍无力偿还贷款的情况下，以其作为抵押的房产折价拍卖后全部款项归入银行
- C. 某企业因经营不善，无力偿还其所欠另一家企业的债务，依据合同，在其宣告破产后，另一家企业直接接管并拥有了该企业
- D. 一古董商买进一批重要文物需大笔钱财，因此他向一位同行签订合同借款500万。在合同生效后，根据合同另一古董商取走了他店里的一批古董作为抵押

88. 野外作业，又称田野作业，是指人们在远离城镇或居民点的地方从事科学技术考察或进行生产活动。

下列不属于野外作业的一项是：

- A. 大地测量
- B. 水文地质调查
- C. 考古工作队在河南洛阳挖掘古墓
- D. 天津电视台直播春节晚会

89. 化学反应：指一种或多种物质改变化学组成、性质和特征成为与原来不相同的另一种或多种物质的变化。

下列变化哪一种不属于化学反应：

- A. 以石油为原料合成聚乙烯
- B. 木炭燃烧获取热量
- C. 葡萄通过发酵等工艺制造成葡萄酒
- D. 自来水加热变成水蒸气

90. 公务员的辞退：是指国家机关用人单位或单位根据法律规定，在一定条件下解除其与工作人员职务关系的行为或事实。

下列何种行政行为一定属于辞退：

- A. 公务员王某在任职不到一年的时间里就无故旷工累计达三十天，按公务员有关条例不得离开该单位
- B. 张某在某机关工作至今整整三十年，今年年满六十，回家安度晚年
- C. 周某去年九月通过考试被录取到省政府办公厅从事秘书工作，虽勤勤恳恳仍难称职，有关部门依据“国家公务员暂行条例”，不得不请其另谋高就
- D. 某公务员离职申请到主管部门批准，离开原单位到某公司任职

91. 由于身体太重，狗熊抬起左前脚迈步时，前半边身子就会歪向左边，换脚的时候，身体又会倒向另一边。所以：

- A. 狗熊很可爱
- B. 狗熊很凶
- C. 狗熊走路时总是摇头晃脑的
- D. 狗熊非常重

92. 滑旱冰看起来对腿部、脚部韧带、关节受到扭伤的人不利，但矫形外科医生发现，滑旱冰是一种关节和韧带疾病患者可以采用的康复措施。

这意味着：

- A. 这种运动对关节有利
- B. 这种运动对关节不利
- C. 滑旱冰很好学
- D. 滑旱冰风靡全球

93. 当代经济的发展与竞争，已不再主要依靠密集劳动力。如在美国，整个信息高速公路工程将耗时20年，总投资达4000亿美元。要为9500万个家庭全部装上大容量光纤线路，要耗资2000亿美元。由此可见：

- A. 未来的经济发展主要靠高技术
- B. 未来的经济发展将不再需要劳动力
- C. 未来的经济发展过程是一个资本密集的过程
- D. 在未来的经济竞争中，发展中国家将越来越落伍

94. 西斯廷教堂天花板上米开朗基罗的壁画的清洗和修复工作是由一些世界上最好的艺术复原专家在一批国际性

艺术家和历史专家的密切监督下进行的。然而，结果产生一场争议性风暴。大多数的现代参观者似乎已习惯于观看这些颜色已被泛黄的胶层和灰尘弄得暗淡无光，人物的轮廓已被半个世纪以来积累的污垢弄得模糊不清的壁画了。

可见，米开朗基罗的壁画：

- A. 成为有关其艺术功绩剧烈争议的主题
- B. 受到几个世纪的冷落，直至今日
- C. 在最近的修复工作中被蒙上灰尘
- D. 人们更喜欢原汁原味的壁画，尽管它为岁月所侵蚀，但可以从中感受到更多的享受

95. H有三个女儿M、Q、P，一个结婚了有一个孩子，另一个结婚了有两个孩子，第三个没有结婚也没有小孩，P是I和L的姨妈，M是N的妻子，J是L的弟弟又是K的外甥，K和N都没有兄弟姐妹，H是K的丈人。K和L的关系是：

- A. K是L的母亲
- B. K是L的姨妈
- C. K是L的父亲
- D. K是L的姨父

96. 有一句话叫做字如其人，又说心正则身正，身正则笔正。一般来说，品格高尚的人都写一手好字，但是历史上著名的大奸奸秦桧也写得一手好字。

因此：

- A. 判断一个人应该先看他的字
- B. 字如其人是不正确的
- C. 坏人也可以写好字
- D. 认识一个人应当听其言，观其行，而不是抓住一点表面现象就下定论

97. 地球和火星相比，有许多共同属性，如同隶属于太阳系，都是较规则球体，有公转和自转。既然地球有生命存在，火星也很有可能存在生命存在。

哪项为真最可能削弱上述判断的可靠性：

- A. 地球距离火星过远，火星很难有生命
- B. 地球和火星生成时间不同
- C. 地球和火星转速不同
- D. 火星上目前没有发现液态水

98. 当前大学课程设置出现一定问题，很多大公司的新上岗人员都没有很好掌握基本工作技能，比如文件的写作、数据的处理及办事能力。

上述论证是以下面哪项为前提的：

- A. 现在的大学课程设置没有基本技能方面的课程
- B. 文件的写作、数据的处理及办事能力等基本技能对胜任工作很重要
- C. 公司新上岗人员基本代表当前毕业大学生水平
- D. 过去的大学生比现在的大学生接受了更多的基本技能教育

99. 在同学聚会上，甲、乙、丙在各自的工作岗位上都做出了一定的成绩，成为了明星、教授和经理。另外，

- (1) 他们分别毕业于音乐系、物理系和中文系；
- (2) 明星称赞中文系毕业生身体健康；
- (3) 物理系毕业生请教授写了一幅字；
- (4) 明星和物理系毕业生生活在同一个城市；
- (5) 乙向音乐系毕业生请教过乐理问题；
- (6) 毕业后，物理系毕业生、乙都没有和丙联系过。

由此可知：

- A. 丙是明星，甲毕业于物理系
- B. 乙毕业于音乐系
- C. 甲毕业于音乐系
- D. 中文系毕业生是明星

100. 如果政府继续实施限购限贷等房地产调控政策，并且加大保障性住房建设，那么调控就会取得明显成效。

根据以上陈述，可以推出：

- A. 如果房地产的调控取得明显成效，那么，不是政府继续实施限购限贷等房地产调控政策，就是加大了保障性住房建设
- B. 如果房地产的调控没有取得明显成效，那么一定是政府放松了房地产调控政策和减少了保障性住房建设
- C. 如果政府继续实施限购限贷等房地产调控政策，那么如果加大保障性住房建设，房地产的调控就会取得明显成效
- D. 如果政府继续实施限购限贷等房地产调控政策，即使减少保障性住房建设，房地产的调控也会取得明显成效

第五部分 - 资料分析

针对下列图、表或文字回答问题。你应根据资料提供的信息进行分析、比较、计算、处理。你可以在题本上运算。

2012年1-3月份，我国规模以上工业企业资料如下：

全国规模以上工业企业实现利润10449亿元，同比下降 1.3%。其中：国有及国有控股企业实现利润3172亿元，同比下降12.4%；集体企业实现利润178亿元，同比增长16.8%；股份制企业实现利润5959亿元，同比增长0.4%；外商及港澳台商投资企业实现利润2515 亿元，同比下降12.6%；私营企业实现利润3264亿元，同比增长22.4%。在41个工业大类行业中，27个行业利润同比增长，11个行业同比下降。主要行业中：石油和天然气开采业利润同比增长10.6%，农副食品加工业增长7.7%，汽车制造业增长 6.3%， 电力、热力生产和供应业增长28.3%，化学原料和化学制品制造业下降23.1%，黑色金属冶炼和压延加工业下降83.5%，通用设备制造业下降0.5%，电气机械和器材制造业下降 2.4%，计算机、通信和其他电子设备制造业下降12.2%，石油加工、炼焦和核燃料加工业由同期盈利转为亏损。

规模以上工业企业实现主营业务收入197823亿元，同比增长14.1%。其中：国有及国有控股企业实现主营业务收入56164亿元，同比增长7.6%，集体企业实现主营业务收入2711 亿元，同比增长13.2%，主营业务收入利润率为6.57%；股份制企业实现主营业务收入112260 亿元，同比增长16.6%，主营业务收入利润率为5.31%；外商及港澳台商投资企业实现主营 业务收入50191亿元，同比增长7.2%，主营业务收入利润率为5.01%；私营企业实现主营业务收入60020亿元，同比增长23.9%，主营业务收入利润率为5.44%。

101. 2011年1-3月份国有及国有控股企业实现利润为：

- A. 3565亿元 B. 2822亿元 C. 3621亿元 D. 2772亿元

102. 2011年1-3月份，按实现利润比重排名前三位的经济类型依次是：

- A. 国有及国有控股企业、私营企业、股份制企业
- B. 股份制企业、国有及国有控股企业、外商及港澳台商投资企业
- C. 股份制企业、私营企业、国有及国有控股企业
- D. 私营企业、国有及国有控股企业、股份制企业

103. 主要行业中增长速度最快的是：

- A. 黑色金属冶炼和压延加工业 B. 电力、热力生产和供应业
- C. 农副食品加工业 D. 石油和天然气开采业

104. 从2011年1—3月到2012年1—3月，规模以上工业企业中，主营业务收入同比增长金额最大的是：

- A. 国有及国有控股企业 B. 集体企业 C. 股份制企业 D. 私营企业

105. 上述资料表明，2012年1-3月份：

- A. 在41个工业大类行业中，超过七成的行业利润同比增长
- B. 国有及国有控股企业在主营业务收入中具有主导作用
- C. 除了国有及国有控股企业其他类型企业实现利润均为正增长
- D. 私营企业实现主营业务收入的增长速度最快

表1 2012年1-3月东中西部地区房地产开发投资情况

地区	投资额（亿元）	同比增长（%）	
		住宅	住宅
全国总计	10927	7443	23.5
一、东部地区	6593	4455	20.6
二、中部地区	2070	1417	25.7
三、西部地区	2264	1571	30.5

表2 2012年1-3月东中西部地区房地产销售情况

地区	商品房销售面积		商品房销售额	
	绝对数 （万平方米）	同比增长 （%）	绝对数 （亿元）	同比增长 （%）
全国总计	15239	-13.6	8672	-14.6
一、东部地区	7351	-17.5	5215	-19.9
二、中部地区	3704	-7.3	1592	-1.9
三、西部地区	4185	-11.7	1865	-7.6

106. 关于我国2012年1-3月房地产开发投资，说法错误的是：

- A. 东部地区占比最大
- B. 西部地区的增长速度最快
- C. 住宅投资约占五成
- D. 投资总额增长速度超过住宅投资增长速度

107. 2011年1-3月，西部地区住宅类房地产投资额是（ ）亿元：

- A. 1735
- B. 1229
- C. 932
- D. 785

108. 以下说法错误的是：

- A. 商品房销售面积和商品房销售额均为负增长
- B. 东中西部地区商品房销售面积变化趋势与全国相同
- C. 西部地区的商品房销售均价高于中部地区的均价
- D. 中部地区的商品房销售均价高于西部地区的均价

109. 2012年1—3月，东部地区商品房销售额占全国的比重约为：

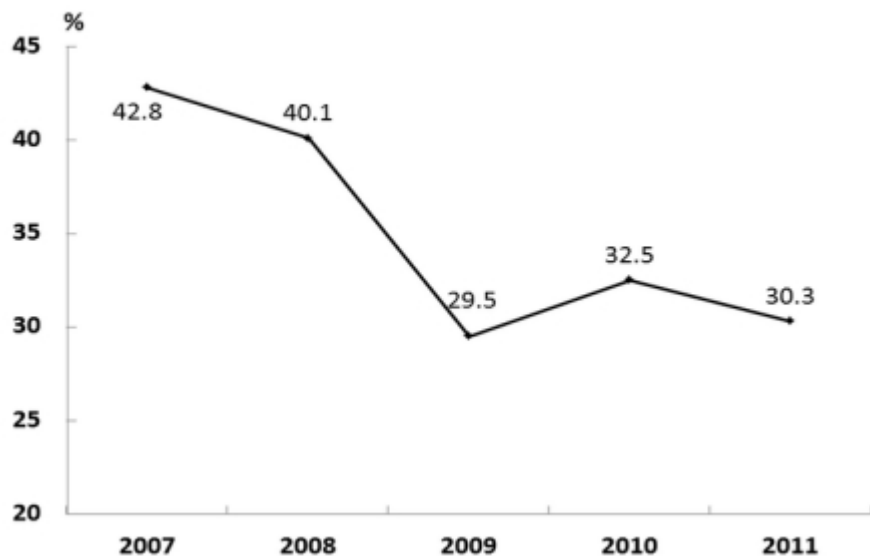
- A. 40%
- B. 50%
- C. 60%
- D. 70%

110. 下列说法正确的是：

- A. 2012年1—3月，西部地区房地产开发投资增长速度低于全国平均水平
- B. 2012年1—3月，中部地区商品房销售面积增长速度低于全国平均水平
- C. 2012年1—3月，东部地区商品房销售额的增幅最大
- D. 2012年1—3月，房地产销售情况同比变化最小的是中部地区

T省2011年完成全社会固定资产投资额7441.71亿元，比上年增长30.3%，人均投资达到27080.41万元，近五年增长情况如下图所示：

2007—2011年全社会固定资产投资同比增长速度



T省2011年完成的固定资产投资（不含农户）为7221.64亿元，增长30.4%。其中：全年地方基础上为6705.45亿元比上年增长38.7%，中央基础上为516.19亿元比上年下降26.5%。

全年第一产业完成投资197.07亿元，增长1.1倍；第二产业完成投资4041.63亿元，增长27.2%，第三产业完成投资2982.94亿元，增长31.7%。

全年完成工业投资3993.39亿元，增长27.1%，增幅低于全部投资增速3.2个百分点，对全社会投资增长的贡献率达55.3%。全年民间投资达到5194.25亿元，民间投资的比重达到71.9%，比上年提高4.9个百分点。

2011年全省固定资产投资（不含农户）及其增长速度 单位：亿元

指标	投资额	增长 (%)
投资完成额	7221.64	30.4
房地产开发投资	1165.39	26.5
国有经济控股	2031.23	-7.5
住宅	984.81	26.3
按产业分		
第一产业	197.07	106.2
第二产业	4041.63	27.2
第三产业	2982.94	31.7
按隶属关系分		
中央项目	516.19	-26.5
地方项目	6705.45	38.7
按建设性质分		
新建	2515.89	31.4
扩建	1420.50	22.5
改建和技术改造	1773.09	41.8
按构成分		
建筑工程	3950.50	34.1
安装工程	329.94	15.9
设备、工器具购置	2181.19	27.1
其它费用	760.01	28.9

非国有固定资产投资5461.53亿元，增长48.1%，占固定资产投资总额的75.6%。其中，完成私营企业投资1802.46亿元，增长1.1倍。

全年新建项目完成投资2515.89亿元，同比增长31.4%，扩建项目完成投资1420.50亿元，增长22.5%；改建和技术改造项目完成投资1773.09亿元，增长41.8%。其它投资1512.16亿元。

全年完成房地产开发投资1165.39亿元，增长26.5%。商品房竣工面积1656.17万平方米，下降18.4%；商品房销售建筑面积2364.25万平方米，下降0.7%。其中，销售住宅面积2060.73万平方米，下降2.1%。

111. 下列说法正确的是：

- A. 在固定资产投资中，第一产业完成投资额所占比重最大
- B. 在固定资产投资中，第二产业完成投资额增长幅度最大
- C. 在固定资产投资中，地方项目比中央项目增长速度快
- D. 工业投资对全社会投资增长的贡献率低于50%

112. T省2010年完成全社会固定资产投资额多少亿元：

- A. 6000
- B. 6500
- C. 6200
- D. 5711

113. 2011年T省有多少万人：

- A. 3000
- B. 2800
- C. 2750
- D. 2500

114. 2011年非国有固定资产投资占固定资产投资总额的比重为：

- A. 75.6%
- B. 24.4%
- C. 10.8%
- D. 71.9%

115. 2010年非国有固定资产投资占固定资产投资总额（不含农户）的比重是：

- A. 66.6%
- B. 63.2%
- C. 70%
- D. 62%

金砖国家经济社会指标比较

	国家	2005	2009	2010	2011
GDP (现价) 亿美元	巴西	8820	16250	21430	24808
	俄罗斯	7640	12230	14870	18500
	印度	7660	12930	16030	
	中国	22580	49910	59310	73010
	南非	2470	2840	3640	3750
人均 GDP (现价)美元	巴西	4812	5867	10812	12726
	俄罗斯	5339	8616	10409	12945
	印度	692	1115	1325	
	中国	1732	3749	4434	5432
	南非	5215	5727	7250	
GDP 增长率 (不变价) (%)	巴西	3.2	-0.3	7.5	2.7
	俄罗斯	6.4	-7.8	4.3	4.3
	印度	15.8	12.4	23.9	
	中国	11.3	9.2	10.4	9.2
	南非	5.3	-1.5	2.9	3.1
公共教育支出占 GDP 比重 (%)	巴西		4.3		
	俄罗斯				4.1
	印度		3.9		
	中国			3.7	
	南非			10.1	

116. 2011年中国人均GDP比上一年提高：

- A. 44.8% B. 144.8% C. 122.5% D. 22.5%
117. 中国2008年的GDP（现价）总量为多少亿美元：
A. 45000 B. 44100 C. 46050 D. 45705
118. 中国2010年公共教育支出费用为多少亿美元：
A. 219.4 B. 7191.4 C. 190.4 D. 2194.5
119. 下列说法正确的是：
A. 金砖国家中经济实力最强的国家是中国
B. 金砖国家中近几年经济波动最大的是俄罗斯
C. 金砖国家中近几年发展趋势最好的国家是南非
D. 金砖国家中经济增长速度最快的国家是印度
120. 2008年俄罗斯GDP（现价）总量是多少亿美元：
A. 13660 B. 13264 C. 13880 D. 13500

扫一扫，对答案

