

2014年江西省公务员录用考试《行测》真题（法检卷-考生回忆版）

更新时间：2024年12月09日15:28:41

扫描下方二维码下载星光公考APP 刷海量题库掌握最新热点



QQ扫码直接下载
微信扫码到应用市场下载
支持所有机型哦

第一部分 - 言语理解与表达

本部分包括表达与理解两方面的内容。请根据题目要求，在四个选项中选出一个最恰当的答案。

1. 叙利亚内战各方混乱不已，_____。埃及政局反复无常，穆兄会执政_____，军方强势回归，利比亚“合卡时代”乱糟糟，也门成为恐怖分子，伊拉克恐怖袭击常态化，中东板块叛乱频发。

依次填入画横线部分最恰当的一项是：

- A. 肝脑涂地 明日黄花 B. 生灵涂炭 昙花一现
C. 门可罗雀 走马观花 D. 劳民伤财 大势所趋

2. 利用好科技将是我国未来一段时间_____国家粮食安全的重要基石，要确保科技_____，必须进一步加快农业科技推广，提高科技成果转化效率，用市场化机制加快农业科技推广。

依次填入画横线部分最恰当的一项是：

- A. 维护 支 B. 维持 支 C. 维护 支 D. 维持 支
持 撑 撑 持

3. 记者从南昌市有关部门_____，南昌市青山湖区两个集贸市场将升级改造，改造工程将于下个月_____。

依次填入画横线部分最恰当的一项是：

- A. 获悉 启 B. 告知 启 C. 获悉 开 D. 告知 开
动 动 启 启

4. 面对传统民居及其建筑技术快速消失的_____形势，某省通过开展传统居民的类型调查、信息保存等大量基础性工作，确立全省传统居民的类型谱系和信息系统，_____民居保护工作。

依次填入画横线部分最恰当的一项是：

- A. 严重 推 B. 严肃 推 C. 严峻 推 D. 严密 推
进 动 进 动

5. 在中国先秦时期被称为“显学”之一的墨家_____，在后来的中国学术上几近_____，成为“绝学”。

依次填入画横线部分最恰当的一项是：

- A. 学派 消 B. 学说 消 C. 学会 消 D. 学术 消
亡 失 亡 失

6. _____在现有税制基础上，增开资本所得税或房产税，可使房价下降，_____这类改革总会导致更加恶化的福利分配结果，_____会导致改善型居民福利出现较大幅度下降。

依次填入画横线部分最恰当的一项是：

- A. 即使 但 也 B. 虽然 但 尤其
C. 即使 但 而且 D. 虽然 但 就

7. “男二十而取，女十五而嫁”这一古礼_____，固于社会实际和民众期望有较大差距，并没有产生应有的_____和约束效果。

依次填入画横线部分最恰当的一项是：

- A. 婚姻 引 B. 婚俗 引 C. 婚礼 引 D. 婚龄 引
领 导 领 导

8. 带着父亲的教导与_____，柳传志的家园梦想在时代中壮大。“以产业报国为己任”成为他_____联想控股集团的第一要务。

依次填入画横线部分最恰当的一项是：

- A. 继承 给 B. 承传 赋 C. 遗传 给 D. 传承 赋
予 予 予 予

9. 没有人能够轻易理解一颗走过小溪，_____小河，见到大海的灵魂，看见过他人无法享受的风景，才会有那份外界无法_____的心境，以及那般寻常经营者无以具备的强大_____。

依次填入画横线部分最恰当的一项是：

- A. 跨过 体悟 气质 B. 越过 领悟 气度
C. 蹚过 体悟 气度 D. 渡过 领悟 气质

10. _____21世纪以来，全球范围内产业和城市“双转型”的浪潮_____。产业向科技型、知识型、生态型发展，城市向集约型、智慧型、绿色型发展。

依次填入画横线部分最恰当的一项是：

- A. 跨入 风起云涌 B. 进入 风生水起
C. 跨入 排浪迭起 D. 进入 风轻云淡

11. 客家文化自宋代之后取得长足_____后，近代以来又受到海外文化的_____滋养，由此形成了开放、包容的文化性格，也是经历南迁和几个时期发展之后，与中原文化、岭南文化、台湾文化等长期碰撞、交流、吸收、_____的结果。

依次填入画横线部分最恰当的一项是：

- A. 发展 浸润 溶化 B. 进步 溶润 融合
C. 进步 沾凝 熔合 D. 发展 浸润 融合

12. “君子”作为一个集体人格的_____古已有之，却又经过儒家的选择、阐释、提升，结果成就了一种_____人格。

依次填入画横线部分最恰当的一项是：

- A. 原型 想 B. 雏形 理 C. 原形 形 D. 雏形 想
象 想 象 象

13. 太阳刚冒出山头，沟里的_____还没有散尽，典礼就_____举行了。

依次填入画横线部分最恰当的一项是：

- A. 雾霭 如 B. 雾气 如 C. 雾霾 如 D. 雾水 如
期 约 期 约

14. 作家用笑的形式告别过去，在人性失态中发现人性的_____，面对那个_____、黑白颠倒的岁月，小说选择了与之相配的话语游戏化风格，淋漓痛快，少有节制。

依次填入画横线部分最恰当的一项是：

- A. 常识 指鹿为马 B. 常态 风牛马不相及
C. 常态 指鹿为马 D. 常识 汗牛充栋

15. 毛泽东可以说是语言表达的大师，通过他的幽默气质，把复杂、紧张、刻板的问题简单化、_____化，妙趣横生，令人_____。

依次填入画横线部分最恰当的一项是：

- A. 条理 前仰后翻 B. 趣味 忍俊不禁
C. 条理 捧腹大笑 D. 趣味 啼笑皆非

16. 为了不让国家陷入_____的恶循环，曼德拉决定不用清算和惩治的方式对待种族隔离制度，提出了以_____的精神处理历史遗留问题。

依次填入画横线部分最恰当的一项是：

- A. 冤冤相报 宽容 B. 以德报怨 宽厚
C. 以怨报德 宽容 D. 冤冤相报 宽厚

17. “素质教育”一直被认为是积极教育，虽然加以_____，却难以推进，往往为应试教育的影响所_____。

依次填入画横线部分最恰当的一项是：

- A. 提倡 隐 蔽 B. 倡导 蒙 蔽 C. 提倡 遮 蔽 D. 倡导 荫 蔽

18. 四亿多年过去了，随着海陆的变迁，志留纪华南陆块的浅海，抬升成了今日滇东_____的群山。

填入画横线部分最恰当的一项是：

- A. 绵绵不绝 B. 此起彼伏 C. 跌宕起伏 D. 连绵起伏

19. 重离子加速有什么作用？老百姓可能并不_____，但是重离子治癌却得到很多人的_____。

依次填入画横线部分最恰当的一项是：

- A. 了解 关 注 B. 理解 关 心 C. 理解 关 怀 D. 了解 关 爱

20. 对于过度依赖传媒技术的人来说，虚拟世界已_____改变其现实生活。这些人饱受强迫症、内心恐惧及孤独的_____。

依次填入画横线部分最恰当的一项是：

- A. 默然 侵 袭 B. 忽然 折 磨 C. 悄然 折 磨 D. 蓦然 袭 击

21. 我们党的政策和国家法律都是人民意志的反映，在本质上是一致的，党要领导立法、保证执法、带头守法，政法工作要自觉维护党的政策和国家法律的权威性，确保党的政策和国家法律得到统一正确的实施。

这段文字意在说明：

- A. 要维护党的政策和国家法律的权威性 B. 党要领导立法、保证执法、带头守法
C. 正确处理党的政策和国家法律的关系 D. 党的政策和国家法律本质上的一致性

22. 一个民族的生命基因，熔铸着文化的力量；一个民族前进的每一行足迹，都闪耀着文化的光芒；一个民族的兴衰存亡，说到底就是文化的兴衰存亡。当今世界各国，除了经济、科学、军事力量等“硬实力”的比拼，文化软实力的竞争也日趋剧烈，因为文化愈来愈成为民族凝聚力和创造力的重要源泉、愈来愈成为综合国力竞争的重要因素。中国的和平崛起决不能止于经济和效益，更有文化软实力的匹配和壮大，中华文化是我们民族永不褪色的名片，永不贬值的“硬通货”。

这段文字意在：

- A. 强调民族文化的重要性 B. 揭示文化对民族兴衰存亡的决定作用
C. 提倡对民族优秀文化的保护 D. 呼吁中华文化软实力要硬起来

23. 在不同经济发展阶段，经济增长的动力机制是不同的。一个在低收入阶段和中低收入阶段快速增长的发展中国家在进入中高收入阶段后，如果不能适时转换经济增长动力机制，就会面临被“中等收入陷阱”锁定的风险。实证研究表明，制度和原创性技术进步是中等收入国家持续增长的关键因素。发展中国家想要规避“中等收入陷阱”，必须改革政府治理、鼓励创新。

这段文字意在说明：

- A. “中等收入陷阱”的风险在发展中国家普遍存在
B. 不同经济发展阶段的经济增长的动力机制不同
C. “中等收入陷阱”的风险主要发生在发展中国家
D. 改善政府治理、鼓励创新是发展中国家规避“中等收入陷阱”的关键

24. 既然人是社会性的动物，做任何事情都无法脱离人际环境，那么，在单位时间内，谁能够以最低的沟通成本、最快地赢得他人的信任与配合，自然获得成功的几率就大——古今中外，凡能成就大事者，往往胜出在沟通、组织与行动的综合素质。进入工业时代的社会化大生产，以及市场经济环境下的商业竞争，无不需要将这类“人际型知识”贯穿于每一个“经济人”的行为之中。

下列说法与上述文字相符的是：

- A. 沟通对于成功很重要
B. 降低沟通成本才能成功
C. 沟通、组织与行动能够成大事
D. 得到他人信任的关键在于沟通

25. 屏幕阅读与在线阅读的兴起，以及海量信息的便捷搜索，使人们的阅读呈现出“浅阅读”的特征。即时的在线阅读取代了传统的青灯黄卷式的经典阅读。快餐式、浏览式、随意性、跳跃性、碎片化的阅读是典型的浅阅读。其实，不仅在网络阅读中有较为突出的浅阅读，纸面阅读中的浅阅读同样不容忽视。

作者通过这段文字意在强调：

- A. 浅阅读形成的客观原因
B. 浅阅读有哪些基本特点
C. 浅阅读存在于哪些领域
D. 浅阅读显现的消极影响

26. 数据表明，我国目前团购网站数量不到2000家，去年高峰时期曾有10000家。但不到一年的时间就淘汰了40%的网站。分析师认为，经过两年的竞争，资源逐渐掌握在少数几家手里，市场集中度还将进一步提高，只有极少数网站能够存活下来。活下来的网站会逐渐捡回话语权，毛利会逐渐上抬。

这段文字主要介绍了团购行业的：

- A. 竞争方式
B. 经营现状
C. 发展趋势
D. 市场前景

27. 对于个体和一个国家来说，人的生存是首先要解决的头等大事，虽然环境保护已越来越多地被提及和关注，但比起解决“吃饭”问题，始终要屈居第二的。这也是发展中国家为什么多重复走发达国家先污染后治理的老路的原因，并非看不到教训，而是谋求发展的艰巨任务使得各国不得不走捷径，优先选择煤炭这种低廉可靠、提高贫困人口生活水平还能促进就业的发展型能源。

这段文字的主要意思是：

- A. 环境保护和经济发展同样重要
B. 发展中国家为了生存和发展不得不先污染后治理
C. 解决温饱问题比保护环境更重要
D. 发展中国家谋求发展忽略了环境保护

28. 吃鱼的时候，小刺要比大刺麻烦，因为大刺很容易被发现，小刺则必须下很大功夫才能清除。做人，小毛病要比大毛病难改正，因为大的差错很容易被发现，小缺点则必须格外留意才会被发现。虽然有小刺的鱼往往肉都特别细腻而鲜美，但许多人就因为怕小刺而不愿意吃那种鱼。虽然脾气怪异、不拘小格的人常有特殊的才华，但是许多人就因为讨厌这些小毛病而不愿意与这些人打交道。

这段文字意在说明：

- A. 要学会如何与人相处
B. 小毛病会让人敬而远之
C. 情商与智商同等重要
D. 小毛病可能产生大影响

29. 低利率政策的初衷是刺激美国人迅速消费，以弥补危机带来的需求萎缩。但经历了数年的储蓄资产贬值后，相信低利率的刺激作用的边际效应已缩减到了几近于无。危机之初，开启低利率的另一个目的是为流动性紧张的金融机构提供“免费”资金，并帮助金融业补充资本。凭借零利率的借贷，银行可投资于政府债券，获得稳定而无风险的回报。可正因为此，银行丧失了为企业提供信贷这一风险和收益并存的业务和动力，从而未能够帮助中小企业创造就业岗位。

这段文字主要是：

- A. 暗示低利率政策必须做出调整
B. 分析实行低利率政策的弊端
C. 强调应鼓励银行开展企业信贷业务
D. 说明低利率政策刺激消费的作用有限

30. 可能多数人都会认为，我们的五官是感知外部世界的窗口，五官感觉非常真实而精确地反映着外部世界的现实。殊不知，我们信赖有加的感官事实上也会“欺骗”我们，我们所感知的有可能并非真实世界的反映，各种感官知觉，特别是视觉，有时只是大脑的幻觉和虚构。加拿大不列颠哥伦比亚大学心理学家罗恩·雷恩辛克指出，“你的体验在很大程度上是大脑活动的产物，大脑通过眼睛来获取视觉信息，但这并不是现实的直接反映。”

这段文字意在：

- A. 批驳普遍存在的关于“感知”的错误认识
- B. 说明我们所感知的有可能并非真实的世界
- C. 揭示我们信赖有加的感官事实上一直在“欺骗”我们
- D. 介绍加拿大不列颠哥伦比亚大学心理学家的研究成果

31. 在现代性的基础上，艺术语言出现重大转折，表现的抽象的语言取代了写实的再现的语言，艺术主体对艺术客体的诗意表现永久性地摧毁了先前对自然界客观真实的信仰，如实摹写物象不再被看作是唯一再现艺术真实的途径；相反，现在人们相信，是在自己的感觉和感情中体验着艺术真实。

这段文字强调“在现代性的基础上”：

- A. 艺术语言更注重艺术表现
- B. 艺术语言更注重艺术真实
- C. 艺术语言更注重艺术主体
- D. 艺术语言更注重艺术情感

32. 汽车产业是一个长期性产业，作为产业革命带来的核心产品，它形成了相当长的产业链，不仅产业自身的发展会对经济增长具有一定的扩展或成倍的乘数效应，而且会带动金属、电器设备、橡胶等一系列相关产业的发展，极大地解决了就业问题，提升了社会福利，这反过来又会促进汽车工业的进一步发展。

这段文字主要说明的是：

- A. 汽车产业与其他相关产业的关系
- B. 汽车产业与社会就业问题的关系
- C. 汽车产业与产业革命进程的关系
- D. 汽车产业与经济社会发展的关系

33. 红米手机里有一个“老人模式”，就是根据论坛里的用户反馈倒逼出来的创新，“我们最早听到大量用户抱怨，老人不敢用智能手机，因为安卓系统太复杂了，让老人无所适从。技术人员着重在这些问题上研发产品，现在的红米手机‘老人模式’去除了所有的信息聚合，以卡片式的界面为主，将老人会用的短信、电话、新闻、拍照等功能铺排在桌面上，反响非常好。”

上述案例印证了下面哪句话？

- A. “市场需要什么，应该由消费者来决定，而不是企业。”
- B. “用户不知道他们想要什么，直到你把产品放在他们面前”
- C. “在一个充分竞争的市场上，创新可以颠覆一切”
- D. “在购买时，你可以用任何语言；但在销售时，你必须使用购买者的语言。”

34. 财产安全一直是人们忧虑的一个问题，如果人们无法保障其个人财产的安全，就不可能有积极性去创造财富，即使创造财富也会转移。个人财产的安全，既体现在保有环节，也体现在交易环节。为避免交易风险，需要通过国家机关的登记行为来确认其物权状态，从而保障其真实性，登记行为本身是以国家信用做担保的，而国家信用的背后又是法律信用。

这段文字的关键词是：

- A. 交易风险 物权登记 法律信用
- B. 财产安全 保有环节 交易环节
- C. 财产安全 物权登记 国家信用
- D. 物权登记 国家担保 法律信用

35. 中国的传统廉政文化源远流长，它对历代执政者的操守要求与为政规则不外乎五个方面：重民生而知根本、畏法度而能自律、明廉耻而守气节、崇节俭而重情操、知恩惠而思报国。

下面对传统廉政文化特点的概括与文意不符的是：

- A. 执法如山、遵章守纪
- B. 注重民生、情操高尚
- C. 学识渊博、乐善好施
- D. 生活简朴、严于律己

第二部分 - 常识判断

根据题目要求，在四个选项中选出一个最恰当的答案。

36. 改革开放以来，我国社会主义意识形态建设不断进行新的探索，以下关于这一历程的表述不正确的是：

- A. 1978年12月，党的十一届三中全会重新恢复和确立了实事求是的思想路线

B. 2006年10月，党的十六届三中全会第一次明确提出了“建设社会主义核心价值体系”的重大命题和战略任务，明确提出了社会主义核心价值体系的内容，并指出社会主义核心价值观是社会主义核心价值体系的内核

- C. 2011年10月，党的十七届六中全会强调，社会主义核心价值观体系是“兴国之魂”，建设社会主义核心价值观体系是推动文化大发展大繁荣的根本任务
- D. 2012年11月，党的十八大报告明确提出“三个倡导”，即“倡导富强、民主、文明、和谐，倡导自由、平等、公正、法治，倡导爱国、敬业、诚信、友善、积极培育社会主义核心价值观”

37. 下列关于我国《宪法》修改的内容，按时间先后顺序排列正确的是：

- ①将“任何组织或者个人不得侵占、买卖、出租或者其他形式非法转让土地”修改为“任何组织或者个人不得侵占、买卖或者以其他形式非法转让土地，土地的使用权可以依照法律的规定转让”
- ②将“在法律规定的范围内的城乡劳动者个体经济，是社会主义公有制经济的补充，国家保护个体经济的合法权利和利益。”“国家通过行政管理，指导、帮助和监督个体经济。”“国家允许私营经济在法律规定的范围内存在和发展，私营经济是社会主义公有制经济的补充，国家保护私营经济的合法的权利和利益，对私营经济实行引导、监督和管理。”修改为“在法律规定的范围内的个体经济、私营经济等非公有制经济，是社会主义市场经济的重要组成部分。”“国家保护个体经济、私营经济的合法的权利和利益。国家对个体经济、私营经济实行引导、监督和管理。”
- ③将“国营企业在服从国家统一领导和全面完成国家计划的前提下，在法律规定的范围内，有经营管理的自主权。”修改为“国有企业在法律规定的范围内有权自主经营。”
- ④将“国家为了公共利益的需要，可以依照法律规定对土地实行征用。”修改为“国家为了公共利益的需要，可以依照法律规定对土地实行征收和征用并给予补偿。”

- A. ①②③④ B. ①②④③ C. ①③④② D. ①③②④

38. 以下不属于行政机关公务员处分种类的是：

- A. 警告 B. 记过 C. 免职 D. 开除

39. 以“六一居士”为别号的唐宋八大家是：

- A. 欧阳修 B. 王安石 C. 曾巩 D. 柳宗元

40. 以下各组对应关系不正确的是：

- A. 12月4日——国家宪法日 B. 4月15日——知识产权保护日
- C. 3月22日——世界水日 D. 12月1日——世界艾滋病日

41. 中共中央总书记，国家主席，中央军委主席，中央国家安全委员会主席习近平4月15日上午主持召开中央国家安全委员会第一次会议时强调，要准确把握国家安全形式变化新特点新趋势，坚持总体国家安全观，以（）为宗旨，以（）为根本，以（）为基础，以军事、文化、社会安全为保障，以促进（）为依托，走出一条中国特色国家安全道路。

- A. 政治安全、人民安全、经济安全、国际安全 B. 人民安全、政治安全、国际安全、经济安全
- C. 政治安全、人民安全、国际安全、经济安全 D. 人民安全、政治安全、经济安全、国际安全

42. 为推动党的群众路线教育实践活动取得更大实效，促进基层服务型党组织建设各项任务落到实处，江西省委立足当前，着眼长远，出台了推进“三大工程”建设的实施意见，着力在密切联系群众上下功夫，在夯实基层基础上用力气，在发挥党员干部先锋模范作用上见成效，努力实现“基础巩固、作风改进、服务提升、兴赣先锋”的目标，以下属于“三大工程”的是：

- A. 诚信 B. 法治 C. 强基 D. 富民

43. 某商场明知某产品已过保质期，不符合食品安全标准，但是为了减少损失仍然予以销售，造成消费者损害。关于该商场应承担的法律责任，以下说法不正确的是：

- A. 按照消费者实际损失予以赔偿，并根据消费者要求支付其所购食品价款10倍的赔偿金
- B. 应当承担民事赔偿责任和缴纳罚款、罚金的，优先支付罚款、罚金
- C. 可能被采取的强制措施种类有责令改正、警告、停产停业、没收、罚款、吊销许可证

D. 如该企业被吊销食品生产许可证，其直接负责的主管人员5年内不得从事食品生产经营管理工作

44. 以下表述正确的是：

- A. 仰韶文化是我国历史上旧石器时代的文化
- B. 公元前594年，楚国实行“初税亩”，按亩收税
- C. 《史记》是一部纪传体通史
- D. 殷墟遗址在中国古城洛阳

45. 在古代“诸子百家”中，与绿色和平组织的思想相近的学派是：

- A. 法家
- B. 儒家
- C. 兵家
- D. 道家

46. 世界上最长的山脉是：

- A. 喜马拉雅山
- B. 念青唐古拉山
- C. 安第斯山
- D. 乞力马扎罗山

47. 以下与欧洲文艺复兴运动（15-16世纪）时间基本相同的历史大事件是：

- A. 成吉思汗统一蒙古
- B. 哥白尼提出“日心说”
- C. 英国开始工业革命
- D. 毕昇发明活字印刷术

48. 在作曲家贝多芬的作品中，被称为“命运交响曲”的是：

- A. 第一交响曲
- B. 第三交响曲
- C. 第五交响曲
- D. 第七交响曲

49. 以下与体育运动有关的表述，不正确的是：

- A. WNBA代表美国女子职业篮球赛
- B. 举重比赛的级别是按体重划分的
- C. 第一届世界杯足球赛是在巴西举办的
- D. 现代跳水运动最初评定优劣的标准是起跳高度

50. 以下关于作品和创作者对应关系的表述不正确的是：

- A. 《魔笛》——莫扎特
- B. 《家》——老舍
- C. 《最后的晚餐》——达·芬奇
- D. 《灵与肉》——张贤亮

51. “得道多助，失道寡助”出自哪一本古代典籍？

- A. 《论语》
- B. 《孟子》
- C. 《老子》
- D. 《庄子》

52. 以下描述不正确的是：

- A. 灵芝是一种能治疗多种疾病、滋补强身、扶正培本的真菌
- B. 大气臭氧层的破坏导致皮肤癌和白内障的发病率增高
- C. 白化病是一种遗传疾病
- D. 脊髓灰质炎是一种可以由蚊子传播的疾病

53. 以下表述不正确的是：

- A. 大白菜是由我国最早栽培的农作物
- B. 高毒农药可以用于防护林
- C. 大豆是从美洲传来的农作物
- D. 茶字的起源最早见于我国《神农本草》一书

54. 根据《中华人民共和国反不正当竞争法》的相关规定。以下属于不正当竞争行为的是：

- A. 甲企业为了清偿债务，将库存所有商品按照低于成本的价格销售
- B. 乙企业举行抽奖式有奖销售，最高奖项为6000元的购物券，且顾客持购物券消费满2000元仍然可以参与再次抽奖
- C. 丙公司公开高薪招聘公司高管，其同行业竞争者丁企业的3名高管集体辞职前去应聘，丙公司全部聘用
- D. 戊电器公司的产品具有严重瑕疵，当地电视给予以公开曝光，但误将该产品报道为由庚电器公司生产，戊电器公司未作主动澄清

55. 被称为“交响乐团的心脏”的乐器是：

- A. 弦乐器 B. 管乐器 C. 打击乐器 D. 钢琴

56. 根据地球生物演化史，地球生物经历由低级到高级，由简单到复杂的演进过程，以下排序正确的是：

- A. 菌类-苔藓-鱼类-爬行动物 B. 节肢动物-草履虫-脊椎动物-哺乳动物
C. 绿藻-草履虫-爬行动物-鱼类 D. 苔藓-藻类-蕨类-双子叶植物

57. “休克疗法”作为一个医学术语，后来被人们引入了哪一个领域？

- A. 政治 B. 法律 C. 经济 D. 管理

58. 以下哪一个节气与其他三个不属于同一个季度？

- A. 立春 B. 惊蛰 C. 雨水 D. 芒种

59. 下列关于谚语与农业生产经验描述不正确的是：

- A. 今冬麦盖三层被，来年枕着馒头睡 B. 人在屋里热得跳，稻在田里哈哈笑
C. 立秋无雨样样有，立秋有雨收半秋 D. 清明早，小满迟，谷雨种棉正适时

60. 下列论述符合马克思主义哲学观点的是：

- A. 意识是客观存在的反映 B. 人有多大胆，地有多高产
C. 时空性是物质的根本属性 D. 只有想不到，没有做不到

第三部分 - 数量关系

在这部分试题中，每道试题呈现一段表述数字关系的文字，要求你迅速、准确地计算出答案。你可以在草稿纸上运算。

61. 某商品8月份涨价10%，9月份降价15%，10月份涨价7%，经过三次调价后，该商品价格与调价前相比：

- A. 增加7.33% B. 增加2% C. 增加0.67% D. 持平

62. 某品牌纯净水有四种规格包装：1、355毫升售价1.50元；2、500毫升售价1.99元；3、1500毫升售价5.99元；4、3500毫升售价7.99元，每毫升水价从高到低排列正确的是：

- A. 1324 B. 4123 C. 3142 D. 2143

63. 甲、乙二人现在的年龄之和是一个完全平方数。7年前，他们各自的年龄都是完全平方数。再过多少年，他们的年龄之和又是完全平方数？

- A. 20 B. 18 C. 16 D. 9

64. 一个班级有50名学生参与选课，其中选了A课程的有31人，选了B课程的有24人，两门课程都未选择的有6人，同时选了AB两门课程的有多少人？

- A. 7 B. 11 C. 18 D. 25

65. 某小学约有1000名学生参加广播体操比赛，按12人一排排队，多一个人；按14人一排排队，也多一个人；按16人一排，还是多一个人。这所小学的学生人数是：

- A. 1093 B. 1019 C. 1009 D. 1008

66. 某项工作，甲单独做需10天完成，乙单独做需6天完成。如果甲先做2天，然后乙接着甲做2天，再由甲接替乙做2天……两人如此交替工作，那么，完成此项工作共用多少天？

- A. 6 B. 7 C. 8 D. 9

67. 某单位去年的职工男女性别比为4：7，今年净增加男职工24人、女职工25人，男女性别比变为11：15，去年该单位的职工总人数为：

- A. 104 B. 35 C. 44 D. 55

68. 乘坐飞机从甲地去往乙地，可由甲地直接飞乙地，也可以经由丙地中转。每天从甲地直飞乙地的航班有3班、甲地飞丙地的航班有4班、丙地飞乙地的航班有2班，如果要从甲地出发在两天内到达乙地，可供选择的航班路线有多少种？

- A. 14 B. 12 C. 11 D. 9

69. 汽车牌照“赣A12B45”，如果在1245的位置可选择10个数字“0~9”和26个英文字母“A~Z”的一个，则可以形成多少个不同的牌照。

- A. 1679628 B. 1296000 C. 466560 D. 1679616

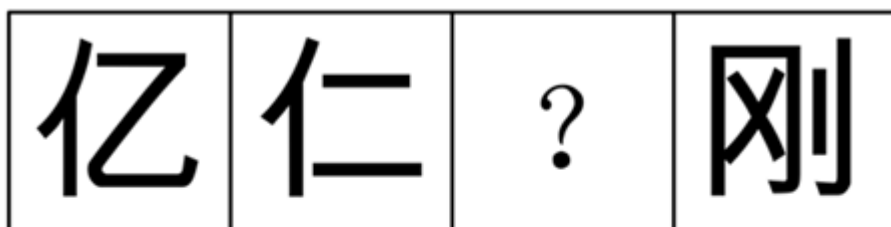
70. 高速公路上某隧道全长4368米，隧道内限速80千米/小时，一辆轿车通过隧道用时2分30秒，则可判定该车在隧道内：

- A. 没有超速 B. 超速不足20% C. 超速20%不足50% D. 超速50%以上

第四部分 - 判断推理

本部分包括图形推理、定义判断、类比推理与逻辑判断四种类型的试题，请按每道题的答题要求作答。

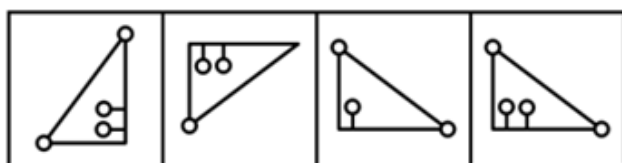

71. 从所给的四个选项中，选择一个合适的填入问号处，使其呈现一定的规律性：【2014江西法检071】



- A B C D

- A. 如图所示 B. 如图所示 C. 如图所示 D. 如图所示

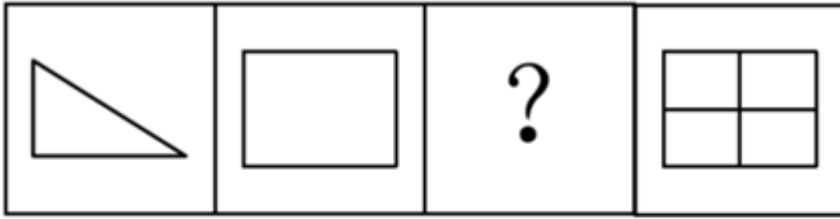
72. 从所给的四个选项中，选择一个合适的填入问号处，使其呈现一定的规律性：【2014江西法检072】



- A B C D

- A. 如图所示 B. 如图所示 C. 如图所示 D. 如图所示

73. 从所给的四个选项中，选择一个合适的填入问号处，使其呈现一定的规律性：【2014江西法检073】



A

B

C

D

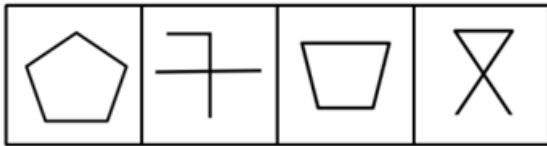

A. 如图所示

B. 如图所示

C. 如图所示

D. 如图所示

74. 从所给的四个选项中，选择一个合适的填入问号处，使其呈现一定的规律性：【2014江西法检074】



A

B

C

D

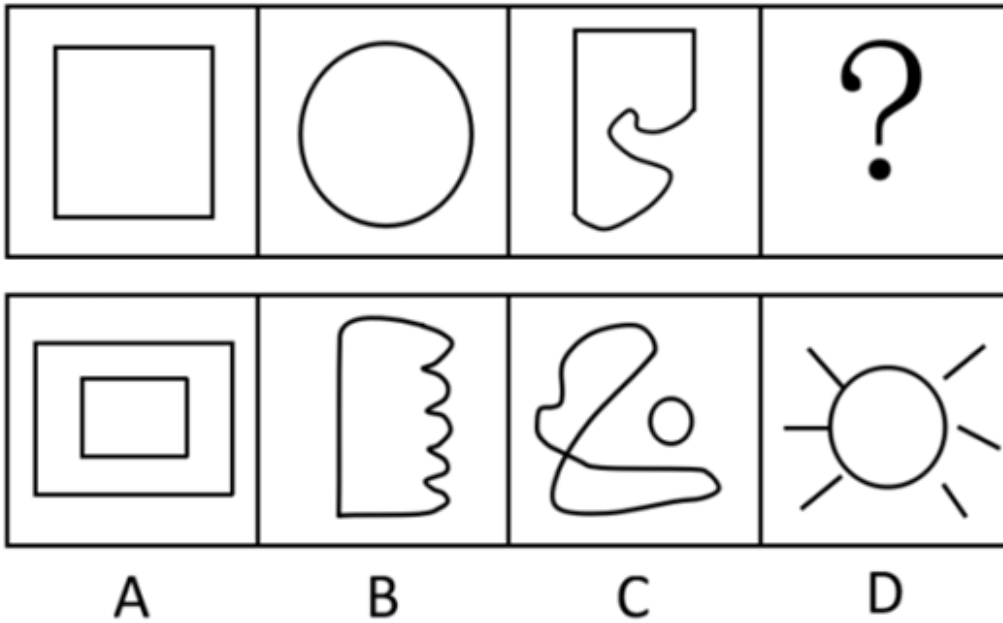
A. 如图所示

B. 如图所示

C. 如图所示

D. 如图所示

75. 从所给的四个选项中，选择一个合适的填入问号处，使其呈现一定的规律性：【2014江西法检075】



- A. 如图所示 B. 如图所示 C. 如图所示 D. 如图所示

76. 私德是指人们在不直接涉及对社会整体的义务和责任的私人生活和私人交往中应当遵循的道德准则，主要包括个人生活习惯、行为风度、性格特点以及处理爱情、婚姻、家庭问题的道德等。

根据上述定义，下列不属于私德的是：

- A. 刘某是典型的“富二代”，但平时为人谦和，行事低调，衣着朴素
- B. 李某是个典型的大男子主义者，在家里一直搞“一言堂”
- C. 周某性格内向，沉默寡言，与左右邻居从来不主动打招呼
- D. 赵某所在小区由A物业公司管理，尽管对物业服务中心有不满，但碍于自己的公务员身份，在物业公司催缴物业费时，每次都如数交清

77. 盖亚假说认为地球生命体与非生命体形成了一个可相互作用的复杂系统。该假说又分为强盖亚假说和弱盖亚假说，其中弱盖亚假说认为地球上的各种生物有效地调节着大气的温度和化学构成，在生物体影响生物环境的同时，环境又反过来影响生物进化的过程。强盖亚假说更进一步认为地球是一个巨大的有机体，具有自我调节的能力，为了这个有机体的健康，甚至可以自行消除那些有害的因素。

根据上述定义，下列选项中属于弱盖亚假说的是：

- A. 地球利用太阳能是一种星球尺度上的新陈代谢作用
- B. 环保的重要性在于地球是唯一适合人类居住的星球
- C. 大气层出现臭氧层空洞是因为人类过度活动造成的
- D. 沙漠中引种耐热植物后，促进了当地旅游业的发展

78. 公共产品又称“公共物品”，是指由政府提供的非排他性的物品或者服务。根据上述定义，下列属于公共产品的是：

- A. 竞争秩序 B. 城区绿化 C. 救灾物资 D. 税收补贴

79. 企业信用广义上是指企业遵守工商、税务、海关、劳动、环保等部门的有关法规，履行商业合同，偿还或有负债等方面的情况；狭义上是指企业对到期债务按期还本付息的能力和意愿。

根据上述定义，下列属于狭义企业信用的是：

- A. 甲企业为了销售产品，通过有奖销售方式进行促销
- B. 乙企业为了节约生产成本，用工业盐替代食用盐进行食品加工
- C. 丙企业因经营管理不善，无法清偿前期民间融资
- D. 丁企业对于即将到期的银行贷款，提前做好财务安排，于到期日如约偿还本息

80. 统计性歧视，是指将一个群体的典型特征推断为群体中的个体具有的特征，并将此特征作为对个体的评价标准。根据上述定义，下列属于统计性歧视的是：

- A. 某企业近几年从某名牌大学招聘的大学毕业生基本都是工作不到3年即提出辞职申请，因此认为该校的大学生就业诚信度不高
- B. 四川人爱吃辣椒，小李由此认定同寝室的成都女孩刘某一定不怕辣
- C. 某专家根据近10年某省心脏病病例的统计数据，预测出该省未来3年心脏病的发病人数
- D. 某景区连续发生多起游客在名胜古迹上乱涂的现象，景区管理人员认为游客的素质亟待提高，同时应加大景区巡查力度

81. 政策性收益是指由于某些政策、法规的变动而导致的个体收益，这种收益不会导致整个社会财富的增长，只会导致整个社会财富的重新分配。根据上述定义，下列涉及政策性收益的是：

- A. 由于央行宣布下调基准利率，小王的房贷按揭还款金额从下月起将减少
- B. 某贫困县由于中央财政转移支付，获得3000万元专款用于山区小学危房改造
- C. 爱心人士联合当地部分餐饮企业发起“待用快餐”活动，可以在相关餐饮企业免费领取快餐
- D. 某女孩因轻生跳江，路人刘某奋勇相救，当地政府给予刘某见义勇为奖3000元

82. 生产、销售有毒、有害食品是指在生产、销售的食品中掺入有毒、有害的非食品原料或者销售明知掺有有毒、有害的非食品原料的食品的行为。根据上述定义，下列构成生产、销售有毒、有害食品罪的是：

- A. 某卖场使用过期变质的鸡腿，经过处理后用来制作炸鸡
- B. 某地下加工窝点为提高所腌制熟食的销售品相，在加工过程中添加苏丹红
- C. 某饮料生产厂家在生产的可乐中添加了食品添加剂——山梨酸钾，但并未在包装上予以注明
- D. 某食品厂在所生产的一款糖果中添加食用色素超标，长期食用会给人体健康造成危害

83. 园林是指在一定地域运用工程技术和艺术手段，通过改造地形（或进一步筑山、叠石、理水）、种植花草、营造建筑和布置园路等途径，创作而成的优美自然环境和游憩境域。

根据上述定义，下列属于园林的是：

- A. 某开发商为了提高商品房销售价格，在小区内种植了大量树木、花草
- B. 刘某承包了数十亩水面，建造餐厅和客舍，吸引游客周末前来休闲垂钓
- C. 某区专辟一块地供市民休闲，修建回廊亭阁、假山喷泉，以树木花草环绕
- D. 某地虽地处偏僻，但树木葱郁，鸟语花香，民风淳朴，很多城市居民慕名前往旅游休闲

84. 经营性资产是在生产和流通中能够为社会提供商品或劳务的资产，经营性资产的使用单位是具有法人地位的企业，其运营要以追求经济效益为原则。从会计角度看，主要指企业因盈利目的而持有，且实际也具有盈利能力的资产。根据上述定义，下列不属于经营性资产的是：

- A. 某公司库存的价值300万的滞销产品
- B. 某国有企业新近获得的500万银行贷款
- C. 某儿童福利院新购置的一批儿童过冬棉衣
- D. 某外贸公司被银行查封用于偿还贷款的账户资金

85. 暴力慈善是一种慈善的暴力行为，以牺牲受赠人的尊严来获得自己的满足，暴力慈善是对“现金救穷”、“高调行善”等行事方式的一种概括。

根据以上定义，下列哪项中的现象不属于暴力慈善？

- A. 某高校领导年前走访本单位困难教职工，送上慰问金，并在校电视台予以报道
- B. 某行政机关为了完成上级部门规定的捐款额度，规定本单位处级（含本级）以上领导捐款金额不得低于300元，其他人员捐款金额不得低于100元
- C. 某单位举行现场捐款活动，将所得捐款垒成金堆予以展示
- D. 某知名爱心人士在海外举办了一场面向流浪乞讨人的慈善活动，通过当地报纸大肆宣传报道

86. 通货膨胀：央行基准利率

- A. 血脂偏高：动物脂肪摄入
C. 健康长寿：体育运动训练

- B. .蚊香：蚊子
D. 审计监督：腐败

87. 炉火纯青：冶炼

- A. 青出于蓝：陶瓷
B. 量凿正枘：木工

- C. 缘木求鱼：占卜
D. 画蛇添足：绘画

88. 关怀：无微不至

- A. 准确：分毫不差
B. 挣扎：日落西山

- C. 呐喊：声嘶力竭
D. 憔悴：望眼欲穿

89. 鲁迅：周树人：《狂人日记》

- A. 老舍：舒庆春：《骆驼祥子》
C. 郭沫若：郭开贞：《伤逝》

- B. 李白：诗仙：《望庐山瀑布》
D. 陶渊明：五柳先生：《桃花源记》

90. 收入分配：基尼系数

- A. 纽约：道琼斯指数
C. 环境保护：幸福指数

- B. CPI：消费者价格指数
D. 食品支出：恩格尔系数

91. 风险：损失：保险

- A. 名气：宣传：代言
B. 肥胖：疾病：锻炼

- C. 生产：事故：安全
D. 落后：开放：富强

92. 墨斗：画线：木匠

- A. 剪刀：裁剪：裁缝
B. 石板：浮雕：雕匠

- C. 雷达：天线：军人
D. 粉笔：黑板：教师

93. 麒麟 对于 () 相当于 狼烟 对于 ()

- A. 财富 烽火
B. 和平 雾霾

- C. 传说 现实
D. 吉祥 入侵

94. () 对于 导游 相当于 () 对于 教师

- A. 行程 教材
B. 门票 电脑

- C. 行程 大纲
D. 旅行社 教学楼

95. () 对于 公司 相当于 () 对于 国家

- A. 章程 政府
B. 章程 宪法

- C. 董事会 议会
D. 经理 总统

96. 有三个孩子分别叫婷婷（女）、笑笑（女）和强强。孩子的妈妈分别是孙梦甜、蒋英英和齐怀瑾。邻居张奶奶说：“冯一坤和蒋英英的孩子都参加了小学女子合唱团，周丹心的女儿不是笑笑，楚中天和齐怀瑾不是一家人。”

由此可以推断出下列是一家人的是：

- A. 周丹心、蒋英英和笑笑，楚中天、孙梦甜和婷婷
B. 楚中天、孙梦甜和强强，冯一坤、齐怀瑾和笑笑
C. 周丹心、齐怀瑾和笑笑，楚中天、蒋英英和强强
D. 楚中天、齐怀瑾和笑笑，冯一坤、孙梦甜和强强

97. 甲：王经理是大众汽车集团在中国的高级雇员之一。

乙：怎么可能？王经理一直用丰田汽车。

上述对话中，乙的陈述隐含的一个前提是：

- A. 高级职员通常只用本公司的产品。
B. 王经理在大众汽车集团并不受重用。
C. 王经理在丰田汽车集团兼职。
D. 大众汽车集团和丰田汽车集团都是名牌公司。

98. 业内人士分析：在股票市场上，投入的资金数量越少风险越大，越难于获得平均效益；资金数量越大风险越

小，越易于获得超额收益。因此：

- A. 只有少量资金的人一般不炒股
- B. 如果有大量资金，则在股市上稳赚
- C. 在股市上中小股民总是赔
- D. 中小投资者在股票市场上风险更大

99. 在一次画展中，一幅价值百万元的名画被盗了，窃贼确定是一同前来观展的周详、吴尚、郑重、王强、佟方五个人中的一个，在接受警方调查时，他们各说了三句话。

周详：我没有偷名画；我从小到大没有偷过任何东西；是王强偷的。

吴尚：我没有偷名画；我家里很有钱，而且我家里收藏了很多名画；王强知道是谁偷的。

郑重：我没有偷名画；我之前并不认识佟方；是王强偷的。

王强：我没有偷名画；是佟方偷的；周详说是我偷的，他说谎。

佟方：我没有偷名画；是吴尚偷的；郑重可以为我担保，因为我和他从小在一起。

警方经过仔细分析后，发现他们每个人所说的话中只有两句是真的，另外一句是假的。

那么偷名画的人是：

- A. 吴尚
- B. 佟方
- C. 王强
- D. 周详

100. 金融学中有一种说法，叫“无套利兑现”，即在不承担任何风险的前提下套取利润，是一种理想状态下的假设。

由此我们可以得出：

- A. 在市场经济中我们可以实现“无套利兑现”
- B. “无套利兑现”是一种理想的假设，在现实中很难实现
- C. “无套利兑现”是一种理想的假设，是不能实现的
- D. 只要看准时机就能“无套利兑现”

101. 铝既能溶于酸，又能溶于碱，是人体维持正常运转所需的微量元素。实验表明，红烧肉在铝锅里存放一夜，铝在肉中的含量每公斤可高达120毫克至250毫克。但人体吸收铝元素后很难再从体内排出，容易造成早衰和老年痴呆症。

由此我们可以得出：

- A. 铝是人体的必需元素
- B. 老年痴呆症是由于过量摄入铝造成的
- C. 红烧肉不能隔夜吃
- D. 铝在人体内的含量很容易超标

102. 情感是芭蕾艺术的一个重要特征，艺术审美是要以情感规范艺术，以情感感染、启示艺术鉴赏者。

由此我们可以得出：

- A. 人们对芭蕾艺术的掌握即是对情感的掌握
- B. 人们的生活实践是芭蕾艺术的源泉
- C. 一切芭蕾艺术都与情感有关
- D. 芭蕾舞艺术都以高尚的人类情感为对象

103. 目前的大学生普遍缺乏中国传统文化的学习和积累。据国家教委对部分高校最近的一次调研表明，大学生中喜欢京剧艺术的只占被调查人数的14%。

以下哪项最能削弱上述观点：

- A. 大学生缺少对京剧艺术欣赏方面的指导，不懂得如何去欣赏
- B. 有一些大学生既喜欢京剧，又对中国传统文化的其他方面有兴趣
- C. 喜欢京剧艺术与学习中国传统文化不是一回事，不要以偏概全
- D. 14%正说明培养大学生对传统文化的学习大有潜力可挖

104. 有人听到“金钱如粪土”、“朋友值千金”这两句话之后，感觉有逻辑问题，因为它们可以推出“朋友如粪土”的荒唐结论。

既然“朋友如粪土”的结论不能成立，于是从逻辑上可以推出：

- A. “金钱如粪土”这一说法是假的
- B. 如果朋友确实值千金，那么金钱并非如粪土

- C. “朋友值千金”这一说法是真的
D. “金钱如粪土”、“朋友值千金”这两句或者为真，或者为假

105. 某法院对某刑事案件有以下四种说法：

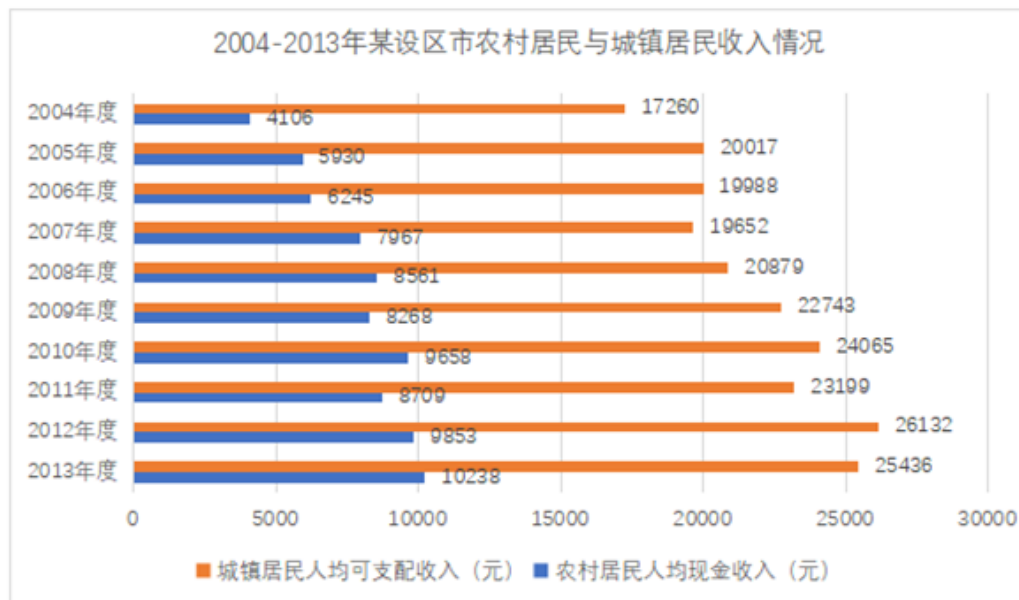
- ①有证据表明赵刚没有作案；
②作案者或者是赵刚，或者是王强，或者是李明；
③也有证据表明王强没有作案；
④电视画面显示，案发时李明在远离案发现场的一个足球赛的观众席上。

下列各项是对四种说法的不同描述，其中正确的一项是：

- A. 从上述说法中可以推出，只有一个人作案
B. 上述说法中至少有一个是假的
C. 从这几种说法中可以推出，表明王强没有作案的证据是假的
D. 李明肯定不在该足球赛的观众席上

第五部分 - 资料分析

针对下列图、表或文字回答问题。你应根据资料提供的信息进行分析、比较、计算、处理。你可以在题本上运算。



106. 与2004年相比，2013年农村居民人均现金收入约增加了：
A. 149.3% B. 249.3% C. 40.1% D. 148.4%
107. 综合2004~2013年的数据，农村居民人均现金收入和城镇居民人均可支配收入都大幅增加的年份是：
A. 2005 B. 2006 C. 2009 D. 2012
108. 2004~2013年，城镇居民人均可支配收入超过2万元的年份有几个：
A. 1 B. 7 C. 8 D. 9
109. 2004~2013年，农村居民人均现金收入与城镇居民人均可支配收入差距最大的年份是：
A. 2004 B. 2007 C. 2011 D. 2012
110. 能够从上述资料中推出的是：
A. 2004~2013年，农村居民人均现金收入与城镇居民人均可支配收入同步增长
B. 2004~2013年，农村居民人均现金收入与城镇居民人均可支配收入每年都稳步增长
C. 2004~2013年，农村居民人均现金收入的年均增长率大于城镇居民人均可支配收入的年均增长率

D. 2004~2013年，农村居民人均现金收入的年均增量大于城镇居民人均可支配收入的年均增量

固定资产投资保持较快增长。上半年，500万以上固定资产投资完成6617.3亿元，增长18.1%。其中，第三产业投资增长29.9%，分别高于第一、第二产业8.6和19.5个百分点，对全省投资增长的贡献率达到63.4%；三次产业投资比重由去年同期的2.0：59.5：38.5调整为2.1：55.6：42.3，第三产业投资比重提高3.8个百分点。消费市场基本稳定。上半年全省社会消费品零售额2323.9亿元，增长12.5%。其中，限额以上消费品零售总额909.9亿元，增长11.4%。新型业态消费快速增长，全省电子商务实现交易额571.2亿元，增长91.7%。南昌、赣州两市列入国家电子商务示范城市建设试点。乡村市场发展快于城镇。城镇市场实现零售额1931.8亿元，增长12.3%，其中，城区零售额1214.3亿元，增长13.3%；乡村市场实现零售额392.2亿元，增长13.4%，高于城镇市场1.1个百分点。商品零售主体拉动消费增长，商品零售2018.2亿元，增长13.5%，高于餐饮收入7.3个百分点。其中，限额以上商品零售872.3亿元，增长11.6%。开放型经济稳步发展。上半年，进出口总额230.8亿元，增长16%，比去年同期提高4.3个百分点。其中，出口额178.6亿元，增长10.4%，比去年同期回落6.6个百分点；进口额52.2亿美元，增长40.3%，比去年同期提高46.6个百分点；实际利用外资46.1亿美元，增长10.4%；引进省外5000万元以上项目资金2400亿元，增长21.7%。“走出去”步伐加快，全省对外承包工程营业额13亿美元，增长27.5%；对外直接投资额2.1亿美元，增长20%。外贸商品结构趋于优化。高新产品出口增长28.6%，铁合金出口增长68.7%，钢材出口增长67.2%，太阳能电池出口增长64.7%；机电产品和高新产品出口成倍增长，分别增长1.2倍和1.1倍。

111. 去年上半年全省电子商务实现交易额约为多少亿元？

- A. 571.2 B. 298.0 C. 523.8 D. 622.9

112. 上半年，第二产业投资在三次产业投资中的比重：

- A. 提高了3.8个百分点 B. 提高了19.5个百分点 C. 降低了3.9个百分点 D. 降低了6.6个百分点

113. 上半年，三次产业投资增长率从高到低排序正确的是：

- A. 第三产业，第二产业，第一产业 B. 第一产业，第二产业，第三产业
C. 第二产业，第三产业，第一产业 D. 第三产业，第一产业，第二产业

114. 去年上半年，出口额增长率比进口额增长率：

- A. 高23.3个百分点 B. 高17个百分点 C. 高40个百分点 D. 低16.3个百分点

115. 能够从上述材料中推出的是：

- A. 城区零售额占城镇市场实现零售额的60%以上
B. 第三产业投资额占固定资产投资总额的60%以上
C. 南昌、赣州两市被列入国家电子商务示范城市
D. 机电产品和高新产品出口额占总出口额60%以上

扫一扫，对答案

