

2015年9月政法干警行测真题

更新时间：2024年12月09日15:27:07

扫描下方二维码下载星光公考APP 刷海量题库掌握最新热点



QQ扫码直接下载
微信扫码到应用市场下载
支持所有机型哦

第一部分 - 常识判断

根据题目要求，在四个选项中选出一个最恰当的答案。

1. 国家主席习近平在国外访问期间，多次发表演讲向世界展示中国的文明观，即文明是多彩的、平等的、包容的。
下列选项能体现这一观点的是：
A. 踏遍青山人未老，风景这边独好
B. 一花独放不是春，百花齐放春满园
C. 宝剑锋从磨砺出，梅花香自苦寒来
D. 不畏浮云遮望眼，只缘身在最高层
2. 2015年7月，国务院下发《关于积极推进“互联网+”行动的指导意见》，围绕11个重点领域提出具体行动，下列说法错误的是：
A. “互联网+”普惠金融，探索推进互联网金融云服务平台建设
B. “互联网+”绿色生态，推进互联网与生态文明建设深度融合
C. “互联网+”现代农业，构建依托互联网的新型农业生产经营体系
D. “互联网+”智慧能源，推进智能化、加快人工智能核心技术突破
3. 下列海上丝绸之路的场景不符合当时历史条件的是：
A. 南宋时期，商人从泉州出海将瓷器运往东南亚及阿拉伯国家
B. 元朝时期，外国旅行家乘船到泉州、上海、广州、杭州旅游
C. 明朝时期，福建武夷山茶业经福州长乐装船碾转印度运到英国
D. 清朝中期，欧洲商人沿海路直接航行到上海、天津市区买丝绸
4. 2015年7月，在欧元区领导人峰会上，成员国就希腊债务问题达成协议，第三次救助希腊。下列说法错误的是：
A. 希腊选择留在欧元区内，必须实行更加紧缩的财政政策
B. 欧元区挽救希腊，目的是避免欧洲经济一体化进程受挫
C. 希腊债务危机一旦蔓延，欧元贬值，中国对欧出口困难
D. 作为独立主权国家，欧元区成员国拥有独立的货币政策
5. 下列影视作品的题材不同于其他三项的是：
A. 《智取威虎山》 B. 《铁道游击队》 C. 《一江春水向东流》 D. 《永不消逝的电波》
6. 在公元前600年至公元之交的几百年内，一些文明古国出现了新的伦理体系或宗教信仰，这段历史时期被人们称为人类的“轴心时代”。
下列属于“轴心时代”思想家的是：
A. 孔子、穆罕默德、苏格拉底、耶稣
B. 孔子、穆罕默德、释迦牟尼、亚伯拉罕
C. 孔子、释迦牟尼、苏格拉底、亚里士多德
D. 孔子、穆罕默德、释迦牟尼、亚里士多德
7. 根据将于2015年10月1日起施行的《中华人民共和国食品安全法》规定，下列说法错误的是：
A. 消费者在网上购买陈某的大米后发现其以次充好，缺斤少两，可以向陈某要求赔偿
B. 林某要到网上销售自家生产的大米，网络第三方食品交易平台提供者需对其进行实名认证
C. 张某买了一瓶价格5元的饮料，该饮料不符合食品安全标准，张某除可以得到5元赔偿，还可以得到1000元赔偿金
D. 吴某委托广告公司为其生产的大米制作广告，广告内容夸大了大米的营养含量，声称其具有保健作用，对此吴某没有责任
8. 经济学上的市场类型有四个，分别是完全竞争市场、垄断竞争市场、寡头市场和完全垄断市场。上述四个市场内企业间的竞争程度依次递减，垄断程度依次递增。
那么，下列哪一项属于我国的垄断竞争市场：

- A. 城市供水市场 B. 电力输送市场 C. 航空服务市场 D. 早餐供应市场
9. 年轻的“创客”们带来了“大众创业、万众创新”的活力，正在成为中国经济未来增长的不熄引擎。下列哪一项是我国政府部门可以为“创客”提供的支持：
- A. 搭建平台安排创客就业 B. 提供财政税收政策支持
C. 免除企业工商注册手续 D. 购买商业保险规避风险
10. 为纪念中国人民抗日战争暨世界反法西斯战争胜利70周年，我国于2015年9月3日举行了大阅兵。大阅兵是对武装力量进行检阅的仪式，下列不属于我国武装力量的是：
- A. 解放军第二炮兵部队 B. 武装内卫部队 C. 边防民兵分队 D. 公安刑警大队
11. 食品充气包装近年来被广泛应用，它具有成本低、美观大方、抗挤压、延长保存期等优点。在充气包装中最有可能充入的气体是：
- A. 空气 B. 氯气 C. 氧气 D. 氮气
12. 下列游乐项目中，人体能感受到失重状态的是：①火箭升空 ②跳楼机 ③过山车 ④碰碰车
A. ①④ B. ①③ C. ②③ D. ②④
13. 2015年4月25日，尼泊尔发生8.1级地震。依照板块构造理论，尼泊尔地震是由下列哪两个板块碰撞引起的？
A. 非洲板块与南极板块 B. 印度洋板块与亚欧板块
C. 亚欧板块与太平洋板块 D. 印度洋板块与太平洋板块
14. 一位老师拿着苹果问学生：哪位同学闻到了苹果的味道？一位学生举手说：“我闻到了”。老师走下讲台，让每一位同学都闻一下苹果。这时，除一位学生外，其他同学都举起了手。那位没有举手的学生左右看了看，也慌忙举起了手。
下列选项与最后才举手的那位学生所表现的心理行为方式相同的是：
- A. 爱屋及乌 B. 中国式过马路 C. 近水楼台先得月 D. 三个和尚没水吃
15. 马航MH370航班失踪后，人们开始重新考虑在客机上强制安装全球导航系统的可行性和必要性。下列哪一项不能提供这样的全球导航服务：
- A. 全球定位系统 B. 北斗卫星导航定位系统
C. 欧盟的“伽利略”计划 D. 阿波罗——联盟测试系统
16. 下列说法都正确的一组是：①铅笔芯含铅 ②水银是汞 ③黄铜是合金 ④甘油不是油 ⑤纯碱是碱⑥干冰不是冰
A. ①②④⑥ B. ①③④⑤ C. ②③⑤⑥ D. ②③④⑥
17. 下列区域与其定位关系对应错误的是：
- A. 上海自由贸易区——推进提高开放型经济水平试验田
B. 平潭综合试验区——探索海峡两岸合作新模式的示范区
C. 青岛西海岸新区——全国海洋经济科学发展新路径范本
D. 苏州高新技术区——新型工业化综合配套改革的实验区
18. 一般情况下，扑救粉尘爆炸事故最有效的灭火剂是：
- A. 雾状水 B. 干粉 C. 泡沫 D. 二氧化碳
19. 春天是万物复苏的季节，下列哪一项所体现的时节是春天？
A. 千山鸟飞绝，万径人踪灭 B. 明月别枝惊鹊，清风半夜鸣蝉
C. 小荷才露尖尖角，早有蜻蜓立上头 D. 洞庭一夜无穷雁，不待天明尽北飞
20. “立竿见影”指在阳光下竖起竹竿，立刻就能看到竹竿的影子。2015年6月22日，李某在海南省三沙市永兴岛

(约16.8° N) 观察中心广场上的旗杆。

下列关于李某所观察旗杆的影子方位和长度变化呈现的规律正确的是：

- A. 西北方——正北——东北方；长——短——长
- B. 西南方——正北——东南方；短——长——短
- C. 西南方——正南——东南方；长——短——长
- D. 西北方——正南——东南方；短——长——短

第二部分 - 言语理解与表达

本部分包括表达与理解两方面的内容。请根据题目要求，在四个选项中选出一个最恰当的答案。

21. “药”是治病救人的，而“毒”是致病害命的。中药的毒性与药效到底是什么关系呢？专家认为是_____的，中药既有对人体不利的一面，也有治疗疾病的一面。

填入划横线部分最恰当的一项是：

- A. 相辅相成
- B. 对立统一
- C. 相生相克
- D. 相容并立

22. 随着科技的发展，众多学者的研究在越来越深入的同时，视角也越来越窄。许多人一辈子的研究范围只限于某一专题，甚至某一个研究点，真是_____，见一斑而不见全豹。

填入划横线部分最恰当的一项是：

- A. 目无全牛
- B. 目光如豆
- C. 目光如炬
- D. 远见明察

23. 对于一座城市而言，地名所_____的，不单单是基本的指路功能、符号定位的角色。更延展着历史文化，_____着时代风情，是城市文化的吉光片羽，正因如此，早在1960年，联合国经社理事会就成立了联合国地名专家组，专门负责地名标准化问题。

依次填入划横线部分最恰当的一项是：

- A. 承担 蕴 蕴 承载 蕴
- B. 承载 蕴 蕴 承载 蕴
- C. 承接 蕴 蕴 承载 蕴
- D. 承载 蕴 蕴 承载 蕴

24. 美国的硅谷，加拿大的渥太华、印度的班加罗尔等典型的国际科技创新型城市的突起，无论在地缘还是机制上都与大学存在密切关联，大学不仅为城市和企业的发展提供创新技术，更重要的是逐渐_____一种大学参与城市与公共领域建设的新格局。而我国的大学与研究机构对科技创新中心的引导功能_____进一步开发。

依次填入划横线部分最恰当的一项是：

- A. 建立 还 绘制 亟 形成 尚 构建 无
- B. 建立 还 绘制 亟 形成 尚 构建 无
- C. 建立 还 绘制 亟 形成 尚 构建 无
- D. 建立 还 绘制 亟 形成 尚 构建 无

25. 《关于消耗臭氧层物质的蒙特利尔协议书》是对消耗臭氧层的物质进行具体控制的全球性协定。该协定实施以来，破坏臭氧层的氟氯化碳等气体在大气中的丰度逐渐降低。最近，由36个国家的近300位科学家对地球臭氧层进行了一项_____，结果显示，根据该协定书采取的行动正在帮助臭氧层_____到1980年的基准水平。

依次填入画横线部分最恰当的一项是：

- A. 评估 恢 测评 还 评价 回 测试 复
- B. 评估 恢 测评 还 评价 回 测试 复
- C. 评估 恢 测评 还 评价 回 测试 复
- D. 评估 恢 测评 还 评价 回 测试 复

26. 太阳能电池只要_____在光照、温度、湿度等条件下，转换效率就会发生一定程度的衰减，因此大多数太阳能电池都通过“初始”效率来进行评价。如果电池是像晶体硅这样的材料，性能上还相对_____；而如果涉及无定形硅即非晶硅，情况将完全不同，在经过暴晒后其导电性能会显著衰退，这种特性被称为SWE效应。

依次填入划横线部分最恰当的一项是：

- A. 裸露 稳 显露 恒 暴露 稳 坦露 固
- B. 裸露 稳 显露 恒 暴露 稳 坦露 固
- C. 裸露 稳 显露 恒 暴露 稳 坦露 固
- D. 裸露 稳 显露 恒 暴露 稳 坦露 固

27. 环保不是负担，而是创新的_____，可以促进竞争、产生就业、拉动经济。政府应当在这方面有所作为。

首先，要减少不必要的行政干预，让市场成为_____资源的主要力量，其次，必须通过制订政策，严格执法。依次填入划横线部分最恰当的一项是：

- A. 源头 调 决 C. 起源 控 配
B. 源泉 定 制 D. 来源 置

28. 网络虚拟社会是现实社会在计算机网络上的_____和延伸，现实生活中的违法犯罪以及社会治安问题已经开始向网络虚拟社会_____，大大增加了政府管理的复杂性。

依次填入划横线部分最恰当的一项是：

- A. 映衬 蔓 B. 映照 蔓 C. 映射 蔓 D. 映带 蔓
生 引 延 连

29. 锦屏地下暗物质实验室位于我国西部的山体隧道中，是目前全世界最深的物理实验室。实验大厅上方有2.5公里厚的岩层_____宇宙射线，而且是放射性低的大理岩，能够尽可能地把环境_____降到最低，为暗物质探索提供“干净”的环境。

依次填入划横线部分最恰当的一项是：

- A. 阻碍 纠 B. 阻止 袭 C. 遮挡 侵 D. 阻挡 干
扰 扰 扰 扰

30. 地球村内，防疫无国界，需要吸取教训、分享经验、共同御敌。抗击疫情，这是“我们”的战争，在_____的全球网络中，置身事外的“我”无法取胜，只有身处命运共同体的“我们”，才能有效_____不断发起“军备竞赛”的病菌株。

依次填入画横线部分最恰当的一项是：

- A. 唇齿相依 对抗 B. 休戚相关 对付
C. 变幻莫测 抵抗 D. 瞬息万变 抵挡

31. 工业化、后工业化进程剧烈的震荡着人们原已约定俗成的价值观念和生活传统。在这种变化中，博物馆承担着_____传统文化遗产，_____传统文化价值的责任，为社会公众提供了审视传统、反思今天和创造未来的一个平台。

依次填入划横线部分最恰当的一项是：

- A. 保卫 保 B. 保留 保 C. 保全 保 D. 保护 保
障 固 管 存

32. 农业现代化是国家现代化的基础和_____。农业现代化的状况如何，很大程度上_____着整个国家现代化的进程。由于受自然条件影响大，又要从外部_____现代要素，农业现代化的制约因素更多，过程更复杂。

依次填入划横线部分最恰当的一项是：

- A. 前提 影响 引入 B. 核心 牵制 吸收
C. 支撑 决定 导入 D. 支柱 制约 借鉴

33. 在法国城市，除博物馆、火车站、音乐厅、教堂等城市标志性建筑外，单体建筑看上去都_____，但建筑与建筑之间相互_____和呼应，_____统一和谐的整体美。

依次填入画横线部分最恰当的一项是：

- A. 平淡无奇 融合 营 B. 波澜不惊 交融 营
造 建
C. 毫无新意 契合 创 D. 栩栩如生 配合 构
造 建

34. 在一个多元化的时代，不能说服对方实属_____，真正能相互理解更是_____。不能理解他人的行为就得_____他人的选择，只要他人没妨碍你的自由。这就是陌生人社会的交往规则。

- A. 必然 偶然 尊重 B. 常态 意外 包容
C. 遗憾 满意 忍受 D. 寻常 稀罕 容忍

35. 就数字出版社生存所依赖的“土壤”——网络来说，这是一个信息爆炸的时代，海量的、碎片的信息常常过于_____，以致阅读者很容易产生_____，使得注意力和阅读兴趣迅速_____，很难真正静下心来阅读。

依次填入划横线部分最恰当的一项是：

- A. 凌乱 疲惫 偏离 B. 杂乱 倦怠 转移
C. 庞杂 困惑 分散 D. 复杂 迷惑 涣散

36. 《舌尖上的中国》是一部美食类系列纪录片，它试图全方位地展示博大精深的中华美食文化，向观众，尤其是海外观众展示中国的日常饮食流变，千差万别的饮食习惯和独特的味觉审美，以及上升到生存智慧层面的东方生活价值观，帮助他们从饮食文化这一层面认识和理解中国的传统文化。这个节目不仅解说词采用简洁的叙述体，更是一部声画和谐、充满意境的艺术片，它以国际通用的影像符号，在展现国家风土人情的同时，配以音乐的烘托和渲染，将抽象的国家形象和文化在大众的意识中具体化、形象化、情感化。

这段文字意在强调：

- A. 中国各地多样的美食生态 B. 中华美食文化的博大精深
C. 文化和国家形象传播的关系 D. 美食在文化传播中的重要性

37. “爱美之心，人皆有之”。通过整容可以立刻获得的外在美，能满足人们对“美”的急切愿望，为走进人群加深交往带来自信，这无可厚非，也是事实。但如果一味强调“好看”，而忽视了人品、学识、实力等方面的积累，只有外在美，没有内在美，就可能适得其反。对全社会来说，一旦相貌成为评价一个人的主要标准，对美丽的欣赏就变成了对“脸蛋”的纵容。那么，我们据此创造的未来，很可能不那么“美丽”。

对这段文字概括最恰当的一项是：

- A. 整容导致许多人一味强调外在美 B. 整容能为人际交往带来良好自信
C. 通过整容获得外在美是一种欺骗 D. 美丽无罪但不应沉溺整容和外在

38. 太阳将进入与300年前导致封冻的泰晤士河上能够举行“冰冻博览会”的那段时期相同的变冷期，这种可能性大概有20%，太阳活动迅速减少增强了在下一个50年内世界经历“太阳活动极小期”的可能性。据信，太阳活动极小期是17世纪和18世纪欧洲和北美部分地区出现所谓“小冰期”的部分原因。然而，一项研究发现，与人为释放二氧化碳等温室气体导致的气温上升的预期相比，太阳活动周期自然而长期的起伏所导致的全球平均气温下降的预期可谓小巫见大巫。

这段文字主要想传递的信息是：

- A. 太阳将进入同于300年前的活动极小期 B. 下一次太阳“变冷”难以遏制全球变暖
C. 太阳自然变冷能够拯救地球于全球变暖 D. 太阳变冷期的地区性影响大于全球影响

39. 在校园里结缘的友谊之所以显得那么纯粹感人，_____只是单纯的悲伤与快乐，完全不在乎对方的家世背景，也不琢磨对方是否会成为日后的资源。这些在懵懂彷徨中一起走过的同学，老友都有一种神奇的力量，无论多久没见，只要相视一笑就会让人立刻回到过去，不设防，不计算，不演不装，以诚相待。

填入划横线部分最恰当的一项是：

- A. 其实是我们都需要这样的情感回归和慰藉 B. 是因为那个时期建立起来的感情特别牢固
C. 因为我们毫不怀疑真挚的友谊可以净化心灵 D. 是因为那个年龄未被成人世界的功利所裹挟

40. 为创作《平凡的世界》，路遥翻阅了10年的《人民日报》、《参考消息》等各种报纸，并亲自到煤矿等地体验生活，充分显示了一个作家孜孜不倦的求真精神。这部小说对主人公在艰辛生活中执著奋斗精神的刻画，对他们浪漫爱情的描绘，都深深地打动了读者的心。值得一提的是，有评论者认为，一个农家子弟与县领导干部女儿的爱情不真实，但在小说里所讲述的1975-1985年间，我国的贫富与阶层分化并不巨大，这样的故事还是可信的。

对这段文字概括最恰当的一项是：

- A. 《平凡的世界》里有对现实社会和浪漫爱情的真实描绘
 B. 《平凡的世界》里既有现实主义精神也有浪漫主义情怀
 C. 《平凡的世界》用执著的奋斗精神和浪漫的爱情故事打动读者
 D. 《平凡的世界》对浪漫爱情的深刻描绘削弱了其现实主义精神

41. 网络谣言之所以能够产生如此巨大的负面影响并且屡禁不绝，是社会环境、技术等多方面原因共同造成的，_____。

- ①建立完善的法律制度
 ②不仅要从社会角度入手
 ③因而对于网络谣言的治理要坚持多管齐下策略
 ④从根本上铲除网络谣言传播的土壤
 ⑤还应充分重视网络技术在网络谣言治理中的作用

将5个句子按顺序重新排列，填入划横线部分最恰当的一项是：

- A. ①②④⑤③ B. ②①③④⑤ C. ③②①④⑤ D. ④①②③⑤

42. ①流泪过程可以简单地理解为日常生活中的出排水系统：泪腺相当于水龙头，眼睛就像水盆，而鼻泪管就是下水管

- ②但是，前者叫“流泪”，后者称之为“溢泪”
 ③而“溢泪”则是一种疾病，病因在于泪道系统的异常
 ④无论是水龙头放水太快，还是下水道走水太慢或者堵塞，都可能造成水盆的水漫出来
 ⑤一些孩子看上去眼睛水汪汪的，就可能得了眼病
 ⑥“流泪”的原因很多，只要对泪腺或者眼球表面有刺激的因素，都可以导致流泪，是正常的

将以上6个句子重新排列，语序正确的是：

- A. ⑤④②⑥③① B. ④②①⑥③⑤ C. ①④②⑥③⑤ D. ⑤②⑥③④①

43. 一项以界定和量化被试者的思考技巧和分析思维的研究，引发了人们对智能手机的深思。研究人员通过对被试者使用智能手机的习惯进行分析发现，那些更多使用分析思维的人具有更强的认知能力，也会更少花时间使用智能手机上的搜索引擎功能。直观思维的人更愿意选择解决问题和知识获取的捷径，分析思维的人更愿意自己揣摩，进而找到更为具体和符合逻辑的认知方法。研究人员还发现那些更愿意使用社交媒体和娱乐软件的人，其认知能力也是比较低的。

从这段文字中我们可以推出：

- A. 分析思维能力强的人很少使用手机 B. 过度依赖智能手机或影响人的智力
 C. 直观思维的人更愿意使用社交媒体 D. 科技影响人的思考技巧、认知能力

44. 从科学层面来看，所谓“味精致癌论”更多是危言耸听。平时在使用味精时，考虑到谷氨酸钠的分子特性，酸碱度较大的菜品不宜加入味精调味。从口感的角度来看，添加味精时也要注意温度，70℃—90℃为最宜。炒菜一般在菜肴出锅前加入，为了防止脱水生成焦谷氨酸钠，丢失鲜味；而凉拌菜要早放，使之充分溶解。另外，味精的适宜浓度为0.2%—0.5%，因此添加的时候也要注意适量，过多摄入味精对身体无益，味精中含钠，高血压患者不宜多食。

根据这段文字，下列说法正确的是：

- A. 高血压患者不宜多食味精是危言耸听 B. 炒菜低于70℃时添加味精会产生毒素
 C. 味精不会致癌，炒菜添加可多多益善 D. 产生焦谷氨酸钠会导致味精丢失鲜味

45. 2015年8月，在北京举办的田径世锦赛男子100米比赛中，中国选手苏炳添以9秒99的成绩闯进决赛，成为历史上首位进入世锦赛该项目决赛的黄种人。从历史上看，世界田坛男子百米跑的胜者与运动员天生的种族基因关系很大。百米跑冠军长期被白种人、黑种人垄断，难觅黄种人身影。曾经，苏炳添1.72米的身高被人认为是跑步的劣势。体育学者认为：“这一突破对于苏炳添本人以及中国田径界的意义非常重大。体育训练就是通过

不断地调整，让运动员的优势得到更大发挥，劣势得到不断补偿。”

根据这段文字，下列说法正确的是：

- A. 不同基因的人种存在很大的生理差异，已成普遍共识
- B. 黄种人身体存在先天劣势，难以在田径运动中处于上风
- C. 在百米跑等田径运动中，不能简单地认为个子矮一定是劣势
- D. 影响运动员成绩的因素很多，先天的东西很难被后天所改变

46. 外企将其机器人总部设在上海，看中的就是上海立足长三角辐射全国的优势。同时上海人均GDP较高，城市居民收入水平在全国居于前列，消费能力较强，并且上海居民对于高科技和新鲜事物具有较高的接纳兴趣，在生活消费领域是中国的领先市场，可以为服务机器人应用和普及提供市场。而目前在服务机器人领域，市场开拓恰是最重要的。上海本地的产业应用可以为工业机器人的应用提供市场资源，上海的工程机械、汽车、大飞机、轮船、电子制造等优势企业都是良好的产业应用环境。

这段文字意在说明：

- A. 上海率先形成机器人产业应用环境
- B. 上海发展机器人产业的优势和资源
- C. 上海应该形成良好的机器人产业局面
- D. 上海机器人产业对全国形成强大辐射

47. 曾为法王路易九世作传的勒高夫就认为，传记比其他史学手段更能产生“真实效果”，故“与小说家所采用的手段比较接近”。史家“凭借其对于资料和传主所生活的时代的熟悉”对史料进行“剪接”，实即“剥掉这些文献的外壳，让带动历史现实的理念显露出来”，从而展现“真实”。且文笔的感人，往往以生活为基础，并因经历的可分享而使读者生“同情”。历史叙述的生动，或即以史学的思想逻辑为后盾，通过表述的严谨而展现。

这段文字意在说明：

- A. 文学比历史更加生动
- B. 文学与历史密不可分
- C. 历史比文学更加真实
- D. 历史对于文学的重要

48. 由于海沟深埋于数千米甚至万米海水之下，难于寻找，因此大部分主要海沟都是直到20世纪才被发现。不过它们都有着明显的“影子”：_____，如阿留申海沟对应阿留申群岛、日本海沟对应日本列岛、菲律宾海沟对应菲律宾群岛等。不过秘鲁——智利海沟对应的不是岛弧，而是高耸绵长的安第斯山脉。

填入划横线部分最恰当的一项是：

- A. 凡是有岛弧的地方，就可以找到海沟
- B. 凡是有海沟的地方，就可以找到岛弧
- C. 凡是海沟所在的区域，就有与之对应的岛弧相伴而生
- D. 凡是岛弧所在的区域，就有与之对应的海沟相伴而生

49. 近年来的舌尖安全问题不得不让人们反思，究其原因有多方面：企业大打“价格战”，为降低成本非法使用劣质、有毒原料、为求利润丧失道德良心，而违法成本过低使企业以身试法；法律不健全，监管不到位，各监管部门职能交叠，监管边界模糊，易出现监管盲区；消费者维权意识淡薄，某些错误观念反而间接引导制假售假行为，间接助长企业违法生产经营。当务之急如何从积极上改善食品安全环境，这不仅需要政府的监管、法律的规定、企业的良心，更需要的是我们每一个消费者意识的觉醒、行动的捍卫。

最适合做这段文字的标题是：

- A. 舌尖安全道德至上
- B. 舌尖安全企业良心
- C. 舌尖安全人人有责
- D. 舌尖安全隐患频发

50. 当前，“信任危机”是一个全球性的问题。笼统地说，这是全球化和信息化所带来的副产品。具体来说，则是随着全球化和信息化时代的到来，导致人们信任危机和信任行为发生了变化。信任心理方面，全球化和信息化导致人们价值观念、道德心理和文化心理发生变化；而信任行为方面，一方面信任心理的变化会影响行为，另一方面，全球化与信息化使制约人们信任行为的机制发生变化，从而导致其约束力大大减弱。二者的合力使得人们产生失信行为的几率大大增加。

这段文字意在强调：

- A. 探索“信任危机”产生的原因对重建社会信任具有重要意义
- B. 信任心理的变化会影响行为，信任心理对失信行为的影响更大
- C. 全球化和信息化从信任心理和信任行为两方面影响“信任危机”的产生
- D. 全球化和信息化使信任行为约束机制发生变化，导致失信行为普遍存在

第三部分 - 数量关系

在这部分试题中，每道试题呈现一段表述数字关系的文字，要求你迅速、准确地计算出答案。你可以在草稿纸上运算。

51. 3, 8, 11, 19, 30, ()

- A. 49
- B. 51
- C. 53
- D. 55

52. 2, 4, 7, 27, 188, ()

- A. 3043
- B. 4218
- C. 5075
- D. 6718

53. 7, 13, 21, 31, 37, 45, ()

- A. 54
- B. 55
- C. 56
- D. 57

54. 2, 10, 26, 50, 82, ()

- A. 116
- B. 118
- C. 120
- D. 122

55. 20, 40, 30, 10, -5, ()

- A. 0
- B. -5
- C. -10
- D. -15

56. 某超市出售四种水果礼盒，其中礼盒一有3颗苹果4颗梨，售价20元；礼盒二有4颗苹果3颗梨，售价22元；礼盒三有5颗苹果6颗梨，售价32元；礼盒四有6颗苹果2颗梨，售价28元。小张从中选购得到11颗苹果8颗梨，请问小张结账时要支付多少钱？

- A. 40
- B. 60
- C. 68
- D. 73

57. 老师跟学生在室内场馆玩倒影猜距离的游戏。老师让身高1.6米的小陈站在场馆中间，并依次打开位于小陈正前方高度均为6.4米的两盏灯。如果测得小陈在地板上的影子长度分别是1米和2米，那么，上述两盏灯之间的距离是多少米？

- A. 2米
- B. 3米
- C. 4米
- D. 5米

58. 甲乙两人进行围棋对弈，当盘面上乙的棋子数目比甲多一倍时，乙再次发起进攻，下了5手后，吃了甲10枚棋子。此时，盘面上乙的棋子数目恰好比甲多2倍。那么，现在棋盘上甲、乙各有几枚棋子？

- A. 15枚, 45枚
- B. 17枚, 51枚
- C. 25枚, 75枚
- D. 12枚, 36枚

59. 甲乙丙丁四个学生共同使用一条宽带上网。他们平均分摊了上月使用的宽带上网费（无任何套餐，按流量计算），并约定届时按各人实际使用流量进行结算。根据流量查询结果，甲乙丙分别比丁多用了3G、7G、14G的网络流量。最后结算时，乙将超平均流量的使用费0.7元付给丁，那么丙应付给丁多少钱？

- A. 1.4元
- B. 2.1元
- C. 2.8元
- D. 3.5元

60. 某公司仓库堆放着若干个同一型号的正方体木箱。俯视、正视都是 ，左视、右视都是 。那

么，这堆木箱最少有多少个？

- A. 6个
- B. 7个
- C. 8个
- D. 9个

61. 某项工程由甲、乙、丙三个工程队负责施工，他们将工程总量等额分成了三份同时开始施工。当乙队完成了自己任务的一半时，甲队派出一半的人力加入丙队工作。最后三队同时完成任务，则甲、乙、丙三队的施工速

度比为:

- A. 3: 2: 1 B. 4: 2: 1 C. 4: 3: 2 D. 6: 3: 2

62. 某夫妻要在假期带小孩外出旅游。当地有甲、乙两家旅行社，每个人的旅游定价都一样，但对家庭旅游都有优惠。甲旅行社表示小孩可以打六折；乙旅行社表示全家可打八五折。经核算，乙旅行社要便宜100元。那么每个人的旅游定价是多少？

- A. 2000元 B. 1800元 C. 1500元 D. 1000元

63. 甲去北京出差，去时坐飞机，返回时坐高铁。若飞机的速度比高铁快3倍，且往返平均速度为480千米/小时，问甲乘坐的飞机速度为多少千米/小时？

- A. 720千米/小时 B. 768千米/小时 C. 960千米/小时 D. 1200千米/小时

64. 篮球比赛中，每支球队上场队员为5名。某支篮球队共有12名球员，其中后卫5名（全明星球员1名），前锋5名（全明星球员1名），中锋2名。主教练准备排出双后卫阵型，且要保证全明星队员都要上场，问共有多少种安排方式？

- A. 60种 B. 70种 C. 140种 D. 480种


65. 一辆四轮汽车的前轮和后轮各为两个。新轮胎放在前轮可行驶45000千米，放在后轮可行驶30000千米。假设两个前轮和两个后轮的磨损情况都相同，现将这辆车的四个车轮全部装上新轮胎，并多买一个新轮胎备用，请问这辆车最多可以行驶多少千米？

- A. 30000千米 B. 40000千米 C. 45000千米 D. 50000千米

第四部分 - 判断推理

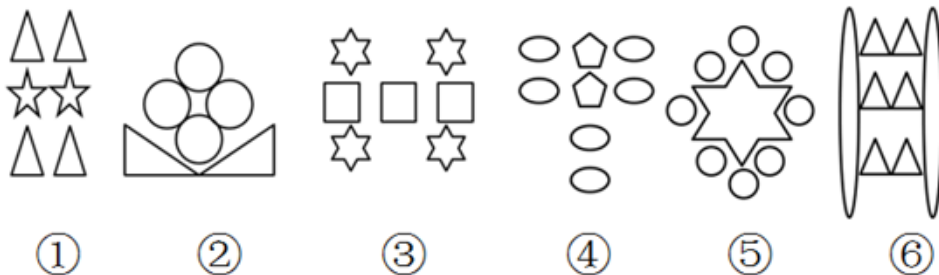
本部分包括图形推理、定义判断、类比推理与逻辑判断四种类型的试题，请按每道题的答题要求作答。

66. 从所给四个选项中，选择最合适的一个填入问号处，使之呈现一定的规律性：【2015政法干警066】



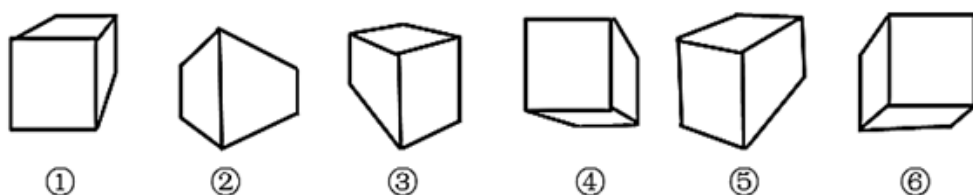
- A. 如图所示 B. 如图所示 C. 如图所示 D. 如图所示

67. 把下面的六个图形分为两类，使每一类图形都有各自的共同特征或规律，分类正确的一项是：【2015政法干警067】



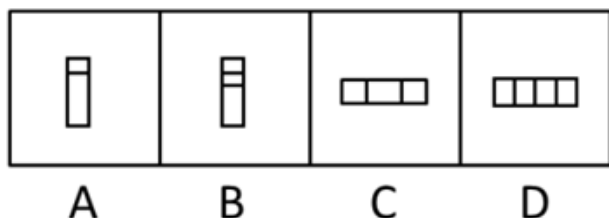
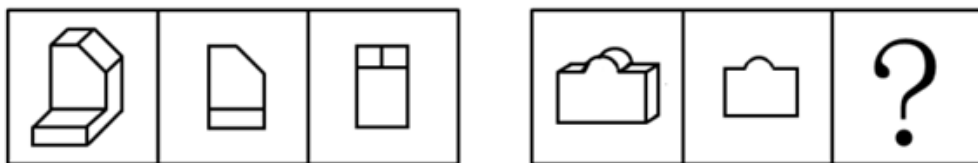
- A. ①②⑥，③④⑤ B. ①②⑤，③④⑥ C. ①③④，②⑤⑥ D. ①②③，④⑤⑥

68. 把下面的六个图形分为两类，使每一类图形都有各自的共同特征或规律，分类正确的一项是：【2015政法干警068】



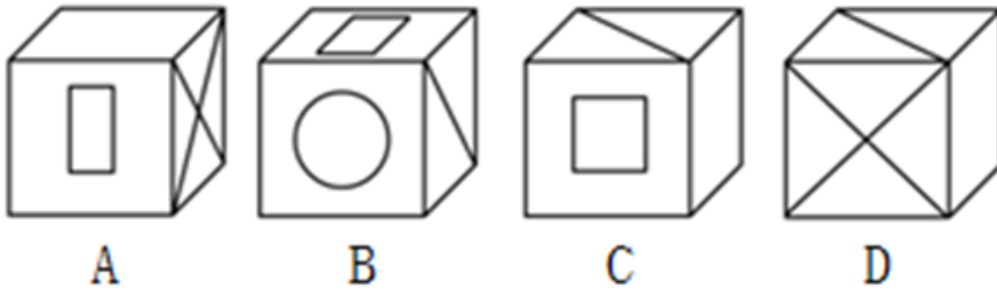
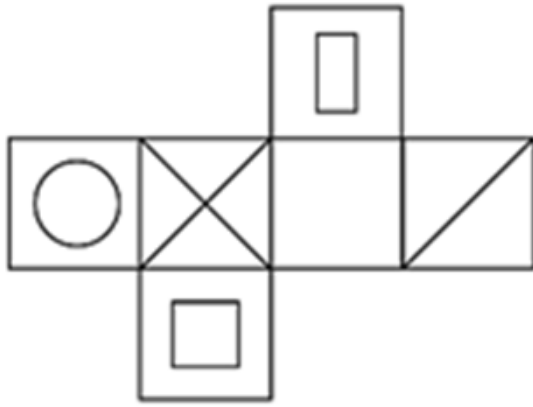
- A. ①③⑤，②④⑥ B. ①②④，③⑤⑥ C. ①④⑥，②③⑤ D. ①④⑤，②③⑥

69. 从所给四个选项中，选择最合适的一个填入问号处，使之呈现一定的规律：【2015政法干警069】



- A. 如图所示 B. 如图所示 C. 如图所示 D. 如图所示

70. 左边是给定的纸盒的外表面，下列哪一项能由它折叠而成？【2015政法干警070】



- A. 如图所示 B. 如图所示 C. 如图所示 D. 如图所示

71. 多数谬误，即与竞争企业遵循同一思维逻辑，将规模最大、吸引力最大的市场作为目标市场，从而造成某一种产品的供给远远超过市场需求，导致过度竞争和社会资源的无端浪费，同时使消费者的一些本应得到满足的需求遭受冷落和忽视。

根据上述定义，下列选项属于多数谬误的是：

- A. 企业不选择大、中城市创办大零售商店，反而以小城镇为目标，面向当地消费者开办“低价便利店”
- B. 企业为满足第四类顾客（追求口感，选择时讲究痛快上手）的消费需求，开发出清爽型、原汁型果茶
- C. 企业在中味巧克力冰激凌很畅销的当口纷纷进入该市场，产生了激烈的竞争，结果导致市场份额锐减
- D. 企业着眼于普通工资收入人群使用的产品，盲目按高档产品组织生产和销售，结果很难获得消费者青睐

72. G2B是一种电子政务模式，是指政府与企业之间运用计算机、互联网等现代信息技术，超越时间、空间和部门分隔的限制，进行相关业务交易活动的运行模式。它有助于实现政府组织机构和工作流程的优化重组，提高政府工作效率。

根据上述定义，下列选项属于G2B服务模式的是：

- A. 小张在某试听服务网站注册并支付会员费后观看了一部高清电影
- B. 小郭在某省“机动车违法查询网上平台”缴交其上一季度的罚款
- C. 小王在某网上知名商城使用网银付款购买一台最新款式智能手机
- D. 小李在某市“网上税务征缴系统”申报并支付其公司上个月税款

73. 软瘾是指那些强迫性的习惯、行为或回复性的情绪。它不涉及任何具有直接生物效应的物质，而是以某些有强烈心理和行为效应的现象为基础。

下列不属于软瘾现象的是：

- A. 小张由于频繁而毫无节制地刷卡购物，陷入了财政危机
- B. 小周习惯于喝止咳糖浆，如果没喝就觉得浑身不自在
- C. 小郑沉迷于看韩剧并在生活中不时模仿，影响了夫妻关系
- D. 小王老把自己迷恋的养生知识发到朋友圈，引起朋友反感

74. 心理社会能力是个体对需要处理事情或挑战有一定的预见性和可控性，能够有效地处理日常生活中的各种需要和挑战的能力，是个体保持良好的心理状态，并且在人-己、人-人、人-事、人-物的相互关系中表现出适应和积极的行为能力。

根据上述定义，下列个体事件属于心理社会能力范畴的是：

- A. 林某拟参加某地街舞大赛，后因中途发生交通事故受重伤退出
- B. 郑某因突然发病不能胜任高原地区工作，被调至平原地区就业
- C. 田某前往沿海某岛屿探险，因遭遇火山突然大爆发而被迫终止
- D. 李某期末考试多门功课不及格，受到老师批评指责后发奋学习

75. 行政指导是指行政主体在其所管辖的权限内，为适应复杂多变的经济和社会需要，依据国家法律和政策，适时灵活地采取引导、劝告、建议、协商、示范、制定导向性政策、发布有关信息等非强制性手段，在行政相对方的同意或协助下，实现一定行政目的的行为。

根据上述定义，下列属于行政指导的是：

- A. 中国政府向各国政府发出共同投资设立亚投行的倡议
- B. 甲市气象局在台风来临之际向市民发出橙色预警信号
- C. 乙区人民政府与科研院所签订的一份研发高科技产品的合同
- D. 丙县人民政府号召该县农民种植水蜜桃，并提供优惠贷款

76. 盎司：重量

- A. 卢比：货币
- B. 克拉：钻戒
- C. 赫兹：声波
- D. 品脱：体积

77. 礼器：铭文

- A. 股市：股票
- B. 书籍：眉批
- C. 内阁：首相
- D. 轮船：航线

78. 电子钱包：现金

- A. 智能手机：病毒
- B. 智能眼镜：镜片
- C. 手机游戏：软件
- D. 在线棋牌：棋牌

79. 爱不释手：弃若敝屣

- A. 百发百中：百步穿杨
- B. 东倒西歪：东扶西倒
- C. 众说纷纭：众口一词
- D. 急功近利：急于求成

80. 青春痘：痤疮：慢性

- A. 兰花豆：蚕豆：豆科草本
- B. 蚰蚰儿：蟋蟀：直翅目
- C. 上元节：元宵：赏灯猜谜
- D. 芙蓉花：木莲：喜光照

81. 把戏：伎俩：手段

- A. 边疆：边境：边界
- B. 爱护：爱戴：爱惜
- C. 牟取：骗取：谋取
- D. 嘲笑：讥笑：笑容

82. 针筒：注射器：医疗器械

- A. 飞机：螺旋桨：推进装置
- B. 潜艇：核潜艇：核反应堆
- C. 齿条：千斤顶：起重设备
- D. 泳衣：比基尼：游泳服饰

83. 党员：干部：青年

- A. 化合反应：氧化反应：化学反应
- B. 芦苇：吊兰：鸢尾
- C. 检察官：检察长：检察员
- D. 处长：教授：博士

84. 恒河 之于 () 相当于 () 之于 金字塔

- A. 泰姬陵 尼罗河
- B. 克里姆林宫 亚马孙河
- C. 凯旋门 莱茵河
- D. 科隆大教堂 伏尔加河

85. 想象思维 之于 () 相当于 () 之于 社交能力

- A. 认知能力 言语沟通
B. 创造能力 艺术表现
C. 操作能力 信息储存
D. 模仿能力 体育运动

86. 研究者在云南普洱研究季风雨季、高温干旱等气候变化因素对茶叶生长环境和品质价值的影响。他们追溯了导致茶叶中化学物质变化的因素，发现在雨季，当它们生长速度加快时，叶片中主要含有的儿茶素和甲基黄嘌呤的含量仅是干季的一半。因此，研究者认为，气候变化会影响云南普洱茶茶叶中有益的化学物质含量。

以下哪项如果为真，最能支持上述论证：

- A. 普洱茶茶叶也可能因病虫害和其他生物入侵等气候变化之外的因素造成有益的化学物质含量递减
B. 经检测，在过去的五年，云南某山区地带的普洱茶茶叶中有益化学成分含量在雨季和干季的区别不大
C. 气候变化对普洱茶产地其他作物的有益化学成分影响差异性很大，或影响明显，或几乎不受影响
D. 干旱季节普洱茶茶叶中含有的次生代谢物质更高，但干旱季节如果持续时间过长，则可能使其含量递减

87. 全球约有7000多种语言，每隔两周就有一种语言消失。研究人员通过“民族语”在线数据库，收集到全球7000多种语言中的649种语言使用率上升或下降的信息。研究发现，语言消失多发生在温带地区，而非热带地区或山区，原因可能是前者在交通上更为便利。研究者认为，经济发展是语言消失的重要原因，国家国内生产总值、全球化水平、环境因素如海拔高度等能影响人际交流，也会对语言消失产生影响。

以下哪项如果为真，最能支持上述论证：

- A. 美国采取汉语教学、信息技术等一系列措施保护少数民族地区语言
B. 随着澳大利亚经济发展加快，该国少数民族语言消失现象日趋严重
C. 地处热带地区的新加坡语言消失现象远比地处温带的英国来得严重
D. 因遭受殖民统治，新西兰土著毛利人放弃说本民族语言反而说英语

88. 历年的黄金周社会各方面都会呈现火爆态势，尤其是在经济方面体现得最为突出，而在黄金周结束后则会出现一个明显的回落，因此有很多人认为黄金周是造成随后月份经济疲软的一大诱因。

如果以下各项为真，最能质疑上述观点的是：

- A. 在继续推行黄金周制度的同时，尽快完善休假制度，进而逐渐由黄金周过渡到带薪休假
B. 黄金周的社会效益远大于经济效益，如只站在经济的角度去衡量黄金周的存废太过片面
C. 在黄金周中大批的外地游客突然集中涌入一个城市后又离开，对经济的影响是必然的
D. 平日的餐饮、住宿、交通等方面的统计哪怕是和双休日相比也会有一个比较明显的差别

89. 小张和小李来自两个不同的学校，但两个人都是三好学生，因为他们都有一个共同的特点：学习好、品德好、身体好。所以，学习好、品德好、身体好是小张和小李成为三好学生的原因。

下列选项与上述推理最接近的是：

- A. 独生子女和非独生子女的性格差异是由环境造成的。所以，改变独生子女和非独生子女的性格必须改变环境
B. 全国各地的寺庙虽然规模大小不一，但都摆放着佛像。小李家有佛像，所以，小李家是寺庙
C. 蚂蚁能辨别气味和方向，但将其触角剪掉，就会像“没头的苍蝇”。所以，蚂蚁依靠气味和触角辨别气味和方向
D. 某医院同时有不同的腹泻病人前来就诊。当得知他们都吃了某超市出售的田螺时，医生判断腹泻可能是由田螺引起的

90. 美国《科学》杂志指出，21世纪以来，全球平均气温一直在持续上升。其结论主要依据政府间气候变化专门委员会于2013年发布的一份报告以及对美国国家海洋与大气管理局运作的全球温度记录进行的修改记录（纠正已知的海洋表面温度记录的偏差，吸纳新的延伸到北极陆基监测站的数据，同时包括从2013年到2014年的监测结果）。该报告与修正记录的数据模型基本未考虑导致温度上升的抑制因素的影响，这些因素包括较弱的太阳辐射、火山气溶胶对阳光以及海洋环流的阻碍等。

如果以下各项为真，最能削弱上述论证的是：

- A. 截至2014年，全球气温平均每10年只增加0.116℃

- B. 火山气溶胶对海洋环流的阻碍会显著抑制气温的持续升高
- C. 过去的20年，大量的浮标数据显示海洋变暖的速度明显降低
- D. 全球气温上升趋于停滞，实际温度比气候模型预测的同期温度低

91. 根据《2015-2024的农业展望》报告，发展中国家对粮食的需求将会发生重大变化。因为随着人口、人均收入和城镇化的弊端扩大，对食品的需求也将增加。收入的提高将促进消费者的饮食进一步多样化，尤其是增加相对于淀粉类食物的动物蛋白的消费。

由此可以推出：

- A. 发展中国家今后必须面对肥胖以及其他与饮食相关的疾病问题
- B. 随着收入的提高，发展中国家对生活质量的要求将与日俱增
- C. 如果消费者饮食进一步多样化，就会引起主粮作物价格下降
- D. 肉类和奶制品的需求会进一步增加，其价格可能会一路攀升

92. 气候变化影响了咖啡种植，咖啡危机已在酝酿。气温和降水变化会降低咖啡的产量和质量，增加病虫害压力。研究显示，气温平均升高 2°C 会增加疾病（咖啡叶锈病）和害虫（咖啡虎天牛）的风险。事实上，大部分具有可能性的解决方案，或是代价昂贵，或是有负面后果。因而，需要研究更加经济可行的解决方案。

以下哪项如果为真，最能支持上述论证：

- A. 若自己现有的咖啡作物被摧毁，生产者可能被迫回到种植经济代价较小的作物
- B. 即使温度变暖，农民依然可以在更高的山上种植咖啡，但可能会影响森林植被
- C. 咖啡的经济效应是显著的，可以加大资金投入建造遮阳系统或广泛防治病虫害
- D. 香蕉和咖啡豆间作，利用香蕉植株来提供种植咖啡豆所需要的额外资金和阴凉

93. 根据我国现行法律规定，同一楼内的邻居向外面高空抛物，使他人的人身和财产遭到损害，如果查不出抛物者，就由可能造成损害的同一楼的居民共同承担补偿责任。这样的法律规定保护了受害者的权利，维护了公共安全，同时，让可能的加害人分担责任，能够增强其监督预防的意识。

以下哪项如果为真，最能支持上述论证：

- A. 小区安装了监控探头，能较准确的确定真正的抛物人，要求其承担责任
- B. 人们购买了人身意外保险，在不幸被抛落得物品砸伤时可获得保险赔偿
- C. 国家设立了专门的救助资金，为遭受意外事故的受害人提供一定的救济
- D. 小区居民担心承担责任，自发宣传高空抛物的危害并积极检举相关行为

94. 能够获得大量有价值的众筹项目，是众筹平台得以持续发展的重要保障。虽然众筹投资决策是由投资人独立做出的，但是对于单笔金额很小的众筹投资而言，投资人的决策依据主要来自通过众筹平台获得的信息，所以众筹平台应当对项目筛选，特别是对项目信息承担监督责任。稳定合理的项目信息披露是降低众筹平台自身风险的重要手段，同时，适当的信息扩散方式，也能有效避免面向非特定公众的法律风险。

由此可以推出：

- A. 众筹平台不能获得持续发展，是因为没能获得大量有价值的众筹项目
- B. 众筹平台的项目信息披露，将影响单笔金额很小的众筹投资人的决策
- C. 众筹平台只有对项目筛选，才能有效避免面向特定公众的法律风险
- D. 要想降低众筹平台的自身风险，众筹平台必须承担项目信息监督责任

95. 调查显示，自恢复高考以来，全国高考状元最钟情中国六星级大学。高考状元并不“超凡脱俗”，首选最赚钱的热门专业，如工商管理、经济学和电子信息学等，而冷门艰苦、低薪的专业鲜有状元问津。因此，社会对高考状元的职业普遍预期是：高考状元毕业后理所当然成为商界的“职场状元”。

如果以下各项为真，最能削弱上述论证的是：

- A. 在商界打拼的高考状元出现过亿万富翁，但未出现商界的顶尖人物
- B. 不少高考状元毕业后从事学术研究，成为学术领军人物

- C. 高考状元大学毕业后，直接在国内就业或创业的较少，大多选择赴国外深造
D. 高考状元结业后大多从事“高薪职业”，且跻身各行业白领或金领阶层

第五部分 - 资料分析

针对下列图、表或文字回答问题。你应根据资料提供的信息进行分析、比较、计算、处理。你可以在题本上运算。

2014年全国国内游客36.1亿人次，同比增长10.7%；国内旅游收入30312亿元，同比增长15.4%。入境游客12849万人次，同比下降0.5%。在入境游客中，过夜游客5562万人次，与上年基本持平。国际旅游外汇收入569亿美元，同比增长10.2%。国内居民出境11659万人次，同比增长18.7%，其中因私出境11003万人次，同比增长19.6%。2014年浙江旅游总收入达6300亿元，同比增长13.8%；接待入境旅游者931万人次，实现旅游外汇收入57.5亿美元，同比分别增长7.5%、6.7%。接待国内旅游者4.79亿人次，实现国内旅游收入5947亿元，同比分别增长10.2%和14.3%。

2014年四川旅游总收入4891亿元，同比增长26.1%；接待入境旅游者240万人次，同比增长14.6%；实现旅游外汇收入8.58亿美元，同比增长12.7%。接待国内游客5.35亿人次，同比增长10%；国内旅游收入4838.34亿元，同比增长26.3%。

2014年安徽接待入境游客405万人次，同比增长5%；接待国内游客3.79亿人次，同比增长13%；实现旅游总收入3430亿元，同比增长14%。

2014年辽宁接待海内外游客12141.24万人次，同比增长17.09%；实现旅游总收入1846.79亿元，同比增长25.03%。2014年宁夏接待国内游客1671.62万人次，同比增长9%；接待入境旅游者33657人次，同比增长32.7%；全年旅游总收入142.69亿元，同比增长14.7%。

96. 2013年入境游客中未过夜游客所占比重约为：

- A. 43.3% B. 56.7% C. 56.9% D. 43.1%

97. 2014年下列各省旅游总收入增长速度从高到低排序顺序正确的是：

- A. 浙江，四川，安徽，辽宁，宁夏 B. 浙江，安徽，宁夏，辽宁，四川
C. 四川，辽宁，安徽，宁夏，浙江 D. 四川，辽宁，宁夏，安徽，浙江

98. 2014年四川和辽宁共接待游客约为：

- A. 12381万人次 B. 65641万人次 C. 12386万人次 D. 65881万人次

99. 2013年国内居民因私出境占国内居民出境的比例约为：

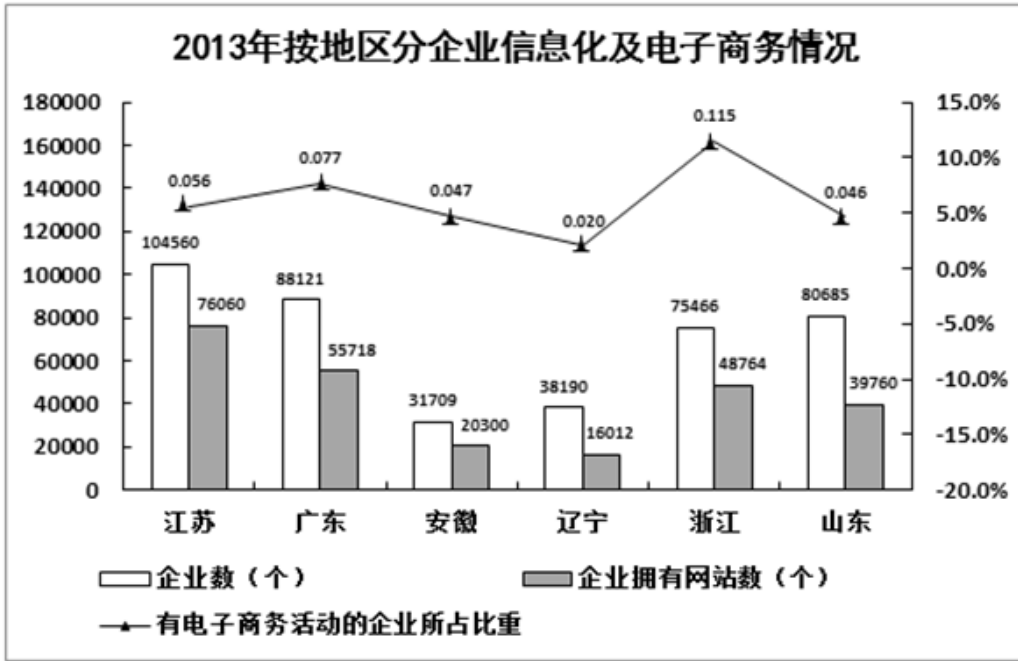
- A. 78.9% B. 94.4% C. 93.7% D. 92.9%

100. 2013年国内旅游收入比2014年国内旅游收入约少：

- A. 4045亿元 B. 4035亿元 C. 4025亿元 D. 4015亿元

2013年按行业分企业信息化及电子商务情况

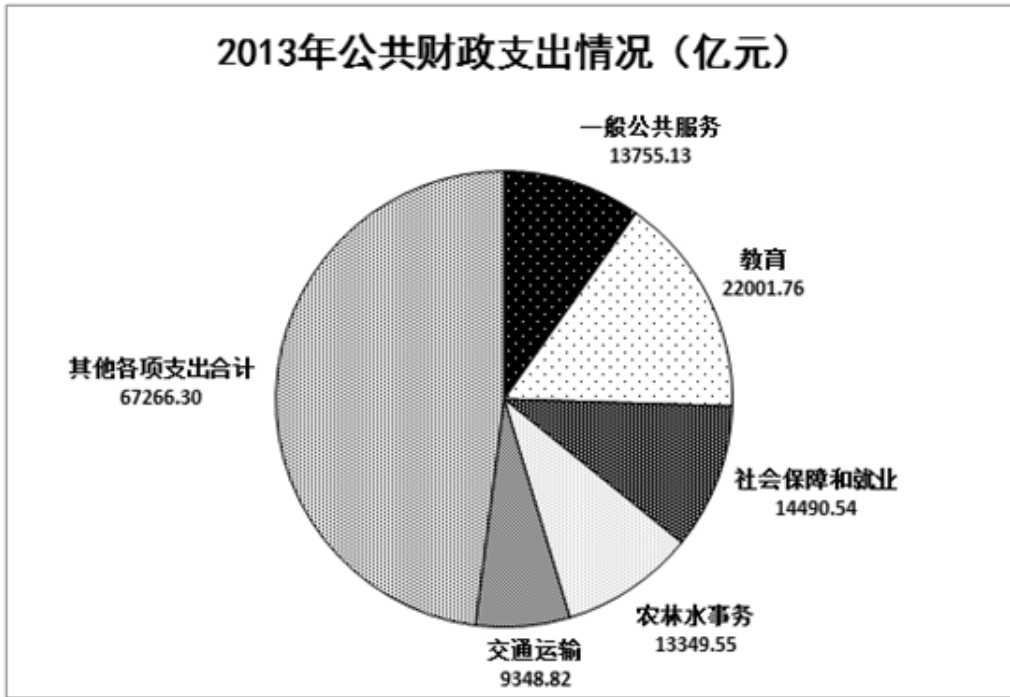
行业	企业数 (个)	企业员工 (人)	企业拥有计算机数 (台)	企业拥有网站数 (个)	有电子商务活动的企业数 (个)	电子商务销售额 (亿元)	
						销售给单位金额 (B2B)	销售给个人金额 (B2C)
交通运输业	30804	6608281	1601025	13577	1000	1501.4	462.1
房地产业	90825	4567142	1711321	36504	1153	12.6	10.3
租赁服务业	25659	4126400	1410417	16951	1243	443.9	221.6
餐饮业	43809	4383621	832888	21269	3912	51.4	34.3
文化产业	4262	509065	305439	3549	542	41.0	7.8



101. 2013年，有电子商务活动的企业占所在行业企业数比重最大的是：
 A. 租赁服务业 B. 文化产业 C. 餐饮业 D. 交通运输业
102. 2013年，每百家企业拥有网站个数从低到高排序正确的是：
 A. 辽宁—山东—安徽—江苏 B. 江苏—辽宁—山东—广东
 C. 辽宁—山东—浙江—广东 D. 山东—浙江—辽宁—江苏
103. 2013年餐饮业B2B电子商务销售额占其电子商务销售额的比重较房地产业：
 A. 约高5个百分点 B. 约低5个百分点 C. 约高10个百分点 D. 约低10个百分点
104. 2013年，山东省有电子商务活动的企业个数较广东省：
 A. 约少2140个 B. 约少3070个 C. 约多2140个 D. 约多3070个
105. 能够从上述资料推出的是：
 A. 2013年，每百家企业拥有网站个数最多的行业是文化产业
 B. 2013年，广东省有电子商务活动的企业个数最多
 C. 2013年，每百人拥有计算机台数最多的行业是租赁服务业
 D. 2013年，B2C电子商务销售额占所在行业电子商务销售额比重最大的是餐饮业

2009~2013年公共财政收支情况（亿元）

年份	公共财政收入		公共财政支出	
	中央	地方	中央	地方
2009	35915.71	32602.59	15255.79	61044.14
2010	42488.47	40613.04	15989.73	73884.43
2011	51327.32	52547.11	16514.11	92733.68
2012	56175.23	61078.29	18764.63	107188.34
2013	60198.48	69011.16	20471.76	119740.34



106. 下列年份中，地方公共财政赤字较少的是：
 A. 2010年 B. 2013年 C. 2012年 D. 2011年
107. 关于2013年公共财政支出额的情况，下列说法正确的是：
 A. 农林水事务占公共财政支出比最小
 B. 交通运输支出不到公共财政支出的十分之一
 C. 教育支出占公共财政支出比约为18%
 D. 社会保障和就业支出不到公共财政支出的十分之一
108. 2013年公共财政收入的增速约为：
 A. 15% B. 10% C. 13% D. 7%
109. 若2014年地方公共财政收入增速不低于2013年，则2014年地方公共财政收入不低于：
 A. 10.4万亿元 B. 8.5万亿元 C. 9.6万亿元 D. 7.7万亿元
110. 2010年中央财政支出增长额与2011年中央财政支出增长额的比率约为：
 A. 0.7 B. 1.1 C. 1.4 D. 2

扫一扫，对答案

