

# 2016年吉林省公务员录用考试《行测》真题（乙级-考生回忆版）

更新时间：2024年12月09日15:14:40

扫描下方二维码下载星光公考APP 刷海量题库掌握最新热点



QQ扫码直接下载  
微信扫码到应用市场下载  
支持所有机型哦

### 第一部分 - 常识判断

根据题目要求，在四个选项中选出一个最恰当的答案。

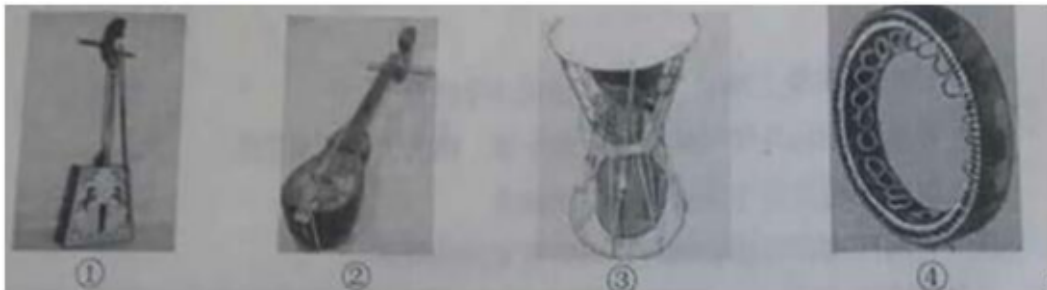
1. 当遇到下列情况时，你的正确选择是：

- A. 被农药污染的食品一定要充分煮熟再食用
- B. 被毒蛇咬伤手臂后，应首先扎住伤口处的近心端
- C. 进行人工呼吸过程中，吹气者应始终捏紧被救者的鼻孔
- D. 处方药和非处方药都必须在医生的指导下购买和使用

2. 孔子说，一种人“和而不同”、还有一种人“同而不和”。下列角色行为属于“和而不同”的是：

- A. 公务员小李敢于指出领导脱离群众的缺点，使领导的群众基础更牢
- B. 副镇长小张任职后谦虚谨慎，对老镇长的指示一向言听计从
- C. 村支书小吴很会做宣传动员工作，总能说服群众接受村委会的各项决定
- D. 选调生小刘喜欢张扬个性，走上工作岗位后常常是“独树一帜”

3. “五十六个民族，五十六朵花”，各个民族都有绚丽多彩的民族文化。请为歌曲《美丽的草原我的家》、《阿里郎》、《青藏高原》、《牡丹汗》依次配上相应的民族的乐器，对应民族的乐器是：



- A. ④①②③
- B. ①③②④
- C. ②③④①
- D. ③①②④

4. 在克隆羊的培育过程中，某只白细毛公羊提供了细胞核，某只黑细毛羊提供了去核卵细胞，某只白粗毛羊进行代孕，那么克隆羊的体表的毛和性别分别为：

- A. 白色粗羊毛、公羊
- B. 白色细羊毛、母羊
- C. 黑色粗羊毛、母羊
- D. 白色细羊毛、公羊

5. 下列每组现象包含的物理学原理不同的是：

- A. 高压锅蒸煮食物-火星上水的沸点降低
- B. 饮料从摔碎的瓶子中溅出-大质量恒星末期爆炸
- C. 烤箱中葡萄干面包膨胀，葡萄干远移-宇宙扩张，星系远移
- D. 用LED手电直射滴入1滴牛奶的水杯，末端呈黄色-傍晚天边呈橘红色

6. 下列证明与申请部门对应错误的是：

- A. 家庭收入情况证明——公证机关
- B. 存单名字错误证明——公安机关
- C. 婚姻关系存在证明——民政部门
- D. 家庭成员失踪证明——人民法院

7. 一段朽木上面长满了苔藓、地衣，朽木凹处聚积的雨水中还生活着孑孓，水蚤等，树洞中还有老鼠、蜘蛛等，下列各项中，与这段朽木的“生命系统层次”水平相当的是：

- A. 一块稻田里的全部害虫
- B. 一个池塘中的全部鲤鱼
- C. 一片松林中的全部生物
- D. 一间充满生机的温室大棚

8. A县某酒厂酿造的“仙液”系列白酒深为当地人喜爱，A县政府办公室发文指定该酒为“接待用酒”，要求各机关、企事业单位、社会团体在业务用餐时，饮酒应以“仙液”系列为主，同时，酒厂公开承诺用餐者凭市内各酒楼出具的证明，可以取得消费100元返还10元的奖励。

关于此事，下列说法错误的是：

- A. A县政府办公室的行为属于限制竞争行为  
 B. 酒厂的做法，尚未构成商业贿赂行为  
 C. 上级机关可以责令A县政府改正错误  
 D. 监督检查部门可以没收酒厂的违法所得，并处以罚款

9. 下列“讲文明树新风”公益广告用语使用错误的是：



A



B



C



D

- A. 如图所示                      B. 如图所示                      C. 如图所示                      D. 如图所示

10. 下列所描述的情形符合史实的是：

- A. 苏东坡可以吃到辣椒                      B. 唐朝时期，西红柿炒鸡蛋就是家常菜了  
 C. 三字经所言的“六谷”中的黍指的是玉米                      D. 花椒原产中国，胡椒是张骞出使西域后传入

11. 下列选项中，对于古文化常识描述错误的是：

- A. 古称兄弟间的老大为“伯”，古代兄弟间以伯、仲、叔、季为排行顺序，古人常在字前加排行次序，如“伯禽”、“仲尼”、“叔向”、“季路”等  
 B. 垂髫是古时对六十岁以上老妇人的别称，髫是指老人轻软披散的头发  
 C. 古代位居方向有尊卑之称，如南向为胜、尊，以北向为败、卑；以东为主为首，以西为从为次，后渐以“东家”为主人的代称  
 D. 蛾眉，亦作“娥眉”，古代美女的代称，“娥眉”本为女子长而美的眉毛，代指女子美貌，进而代称美女

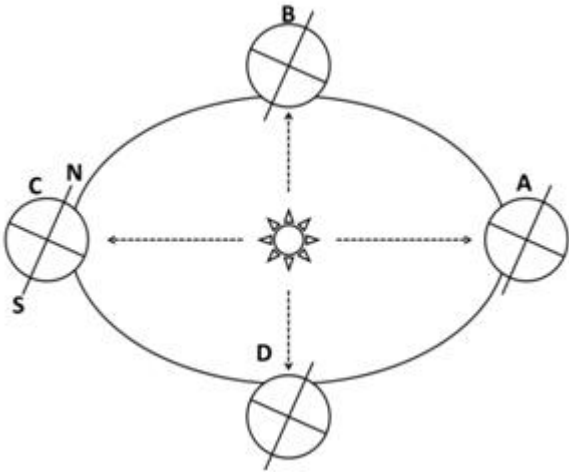
12. 对于当前的纹身现象，四个大学生从各自的角度表达了他们对诸子百家思想的理解。

- 甲说：身体天然完整，纹身就是自虐；  
 乙说：纹身影响仪容，是低俗身份人的爱好，有身份的人不会纹身；  
 丙说：纹身费财又费力，何必呢？简简单单不很好吗；  
 丁说：国家应该严格限制纹身，应该规定人们的行为选择。

他们的描述所对应的思想是：

- A. 甲-儒，乙-墨，丙-法，丁-道                      B. 甲-道，乙-儒，丙-墨，丁-法  
 C. 甲-儒，乙-法，丙-墨，丁-道                      D. 甲-道，乙-墨，丙-法，丁-儒

13. 当地球运行到C点时，下列说法符合长春市具体情况的是：



- A. 昼长达一年最大值  
B. 日落时间将逐渐推迟  
C. 正午太阳高度角将逐渐增大  
D. 正值冬至日

14. 能源按转换传递过程可分为“一次能源”和“二次能源”，下列属于“二次能源”的一组是：

- A. 沼气、焦炭、核电      B. 煤、石油、天然气      C. 煤、核能、海洋能      D. 水能、风能、核能

15. 近年来，建立在智能手机和移动互联网基础之上的手机打车应用市场快速发展，手机打车软件公司推出各种针对乘客和出租车司机的优惠和补贴措施。打车费用的降低，吸引了广大民众纷纷采用打车软件叫出租车出行。下列对手机打车软件叫车这一消费现象的分析错误的是：

- A. 打车软件与智能手机是互补商品，打车软件使用量与智能手机的需求量呈正相关  
B. “互联网+”消费热点的持续升温拉动了手机应用市场的发展  
C. 手机打车应用市场的发展和打车费用对民众的影响反映供求双方互为前提，此消彼长  
D. 采用打车软件叫车出行是求实心理引发的健康消费行为

16. 某社区举行了居民政治参与的交流活动：甲作为选民参加了一次直接选举人大代表的活动；乙找过区人大代表反映菜市场环境问题；丙对居委会工作提出过批评建议；丁参加了市政府改造“人民公园”听证会。据此我们可以判断：

- A. 甲选举的是省人大代表      B. 乙积极参与基层民主管理  
C. 丙直接行使了民主权利      D. 丁参与对政府的民主监督

17. 数学中常常能折射出人生智慧。下列选项与算式体现的道理一致的是：

$$1.01365^{365} = 37.8$$

$$0.98365^{365} = 0.0006$$

$$1.02365^{365} = 1377.4$$

$$0.99365^{365} = 0.03$$

- A. 江碧鸟逾白，山青花欲燃      B. 问渠那得清如许？为有源头活水来  
C. 聚沙成塔，集腋成裘      D. 横看成岭侧成峰，远近高低各不同

18. 成功就是把“不可能”变成“不！可能”，把“Impossible”变成“I'm possible”。这一说法的合理性在于：

- A. 思维和存在具有同一性      B. 实践具有直接现实性  
C. 真理具有条件性      D. 意识具有主动创造性

19. 李克强总理指出，要继续促进教育公平，使全国财政性教育经费支出占国内生产总值比例超过4%。如果某地财政教育经费投入不足，对这一问题，假设你是当地人大代表，可以：

- A. 行使任免权，罢免在教育投入上不足的政府领导

- B. 行使质询权，督促当地政府依法落实财政教育经费的投入  
C. 行使调查权，联名其他代表提请人大监督财政教育经费的使用  
D. 行使决定权，统筹当地政府的政府教育经费投入

20. 习近平主席在谈到如何提高工作效率时说：“必须学会运用辩证法，分清层次，认真思考，‘审大小而图之，酌缓急而布之，连上下而通之，衡内外而施之。’”此处用典不包含的哲理是：

- A. 坚持“两点论”和“重点论”的统一  
B. 以联系的观点和发展的观点看待问题  
C. 尊重客观规律基础上发挥主观能动性  
D. 遵循社会发展前进性与曲折性的统一

## 第二部分 - 言语理解与表达

本部分包括表达与理解两方面的内容。请根据题目要求，在四个选项中选出一个最恰当的答案。

21. 四川大学华西医院手术中心有24张床位、6个手术间。马洪升介绍，日间手术刚开展时，医院采取\_\_\_\_\_模式，患者统一在日间手术中心预约，再由各科室派医生到日间手术室执行手术；2010年，医院又推出\_\_\_\_\_模式，各科病房拿出一定床位用于日间手术；2014年，医院再推出\_\_\_\_\_模式，由日间手术中心统一收患者，再分到各专科实施日间手术，患者出院后由该中心统一随访。

依次填入画横线部分最恰当的一项是：

- A. 分散收分散治 集中收分散治 集中收集中治  
B. 集中收集中治 分散收分散治 集中收分散治  
C. 集中收分散治 分散收分散治 集中收集中治  
D. 分散收分散治 集中收集中治 集中收分散治

22. 年轻干部要有定力。“\_\_\_\_\_”，要学会保持初衷，坚守自己的目标。要坚信“\_\_\_\_\_”，只要你努力了，就一定会有收获，不在此事，就在彼事，不在今天，就在明天。要坚信“\_\_\_\_\_”，滴水穿石，在于它的韧性，厚积薄发，在于它的积累。

依次填入横线处恰当的一项是：

- ①付出就有回报  
②坚持就是胜利  
③不忘初心，方得始终

- A. ③①②                      B. ②①③                      C. ③②①                      D. ②③①

23. 书法是写字，但写字不是书法。文字是载体，它\_\_\_\_\_着表达思想、传递信息、记事备忘、传承历史的重大使命。而中国书法，则正是使汉字\_\_\_\_\_完美，升入化境的艺术。

依次填入画横线部分最恰当的一项是：

- A. 担负 臻于                      B. 肩负 趋于                      C. 承担 日趋                      D. 承载 日益

24. \_\_\_\_\_是微信团队，\_\_\_\_\_是微信用户，对于微信公众号刷阅读量背后的猫腻，已然并不陌生。如今，微信公众号刷量工具被屏蔽，微信数据平台的崩溃，让某些微信“大号”的真容得以呈现。“你不刷别人也会刷”，如此的表述，\_\_\_\_\_了微信阅读量的竞争已经日趋激烈，而造假则成为最理想的“捷径”。

依次填入下列横线处的词语，最恰当的一组是：

- A. 无论 或 证明                      B. 不管 还 佐证  
C. 不仅 而且 表明                      D. 或者 或者 证实

25. 在一般商品生产和交换领域，价值规律的调节功能日臻完善。在此背景下，一些求富者纷纷将\_\_\_\_\_的目光盯上资金、土地等“生产要素”领域，意图从这些高度垄断的领域之中，\_\_\_\_\_尽可能更多的金子。

依次填入画横线部分最恰当的一项是：

- A. 攫取 挖掘                      B. 觊觎 掘取                      C. 贪婪 赚取                      D. 拜金 收获

26. 什么书算得上畅销？可能有人会想到热络一时的《秘密花园》或成为热门IP的小说《盗墓笔记》。不过，吉

尼斯世界纪录机构12日在伦敦宣布，《新华字典》获得“最受欢迎的字典”和“最畅销的书（定期修订）”两项吉尼斯世界纪录。对此，著名文化学者张颐武在接受记者采访时表示，这个结果很客观，这说明\_\_\_\_\_。

填入画横线部分最恰当的一项是：

- A. 《新华字典》具有巨大的市场潜力，可以带来很好的经济效益
- B. 中国人越来越喜欢学习，购书选择方面更加喜欢工具书
- C. 汉语正在成为越来越重要的语言工具，也从一个侧面反映了汉语影响力的提升
- D. 中文工具书越来越得到国际社会的认可和欢迎

27. 作为一名诗歌爱好者，我觉得《悲伤与理智》的核心，也是最有价值的部分，是三篇细品原作的散文，慢条斯理，\_\_\_\_\_，小溪般缓缓流淌中裸露出底下光滑坚硬的卵石。《琅琊榜》作为一部宫廷剧，在礼仪动作方面\_\_\_\_\_地追求完美。他们规范演员的举止动作，给每一个需要使用仪式的场面进行流程制定，见面行礼、叩头请安、祭祀跪拜等都有不同标准。

依次填入画横线部分最恰当的一项是：

- A. 不疾不徐      精雕细刻
- B. 娓娓道来      全力以赴
- C. 信手拈来      全心全意
- D. 不温不火      不遗余力

28. 在最困难的地方，往往\_\_\_\_\_着巨大的创新契机。创新的灵感火花往往会在那些不便捷、不舒服、不顺手、不畅销的困境中\_\_\_\_\_，一个新领域或许就因此而生。生活中常见事物背后的创新故事就是对此的最好\_\_\_\_\_。例如，日常生活中常用的拉链，就是因为扣子太多扣起来费时而发明的。

依次填入下列横线处的词语，最恰当一组是：

- A. 隐藏      擦出      证明
- B. 潜藏      闪现      例证
- C. 蕴藏      迸发      诠释
- D. 蕴含      飞溅      注脚

29. 有人用“天价”片酬导致行业畸形来批判“天价”片酬，然而实际上“天价”片酬与行业畸形是恶性循环，互为因果的关系，因为现有的行业的畸形，才导致对明星效应的依赖，一线明星\_\_\_\_\_，片酬自然\_\_\_\_\_。

依次填入画横线部分最恰当的一项是：

- A. 席珍待聘      坐地起价
- B. 囤积居奇      随行就市
- C. 奇货可居      水涨船高
- D. 待价而沽      居高不下

30. “砍头不要紧，只要主义真”，这是\_\_\_\_\_的力量；“国不可以不救，他人不去救，则唯靠我自己”，这是\_\_\_\_\_的方向。风雨如晦，鸡鸣不已，仁人志士不屈不挠，革命先烈前赴后继，没有他们就没有新中国的诞生。

依次填入下列横线处的词语，最恰当的一项是：

- A. 知识      前进
- B. 群众      奋斗
- C. 信仰      行动
- D. 坚持      努力

31. 在发达国家，做慈善回馈社会是不二之选。最近扎克伯格裸捐450亿美元，就是对国内富豪的一次有益刺激。只有当“财富积累正当”的议程\_\_\_\_\_到“财富使用正当”，中国富豪的正名之路才算走到尾声。

填入画横线部分最恰当的一项是：

- A. 过渡
- B. 发展
- C. 进展
- D. 进化

32. 据媒体报道，在某火车站，一名男子因随地吐痰竟被人推下站台。随地吐痰固然不妥，但制止要讲究方式方法，不能扛着正义的大旗对其进行“武力声讨”。类似情况并不少见，诸如以人肉搜索、网络暴力的方式治理乱涂乱画，用拳头“惩罚”交通违法行为等。这种以暴制暴、以不文明对不文明的对抗思维，非但抵制不了不文明，反而还会失去治理行为的合理性根基，滋生更多不文明。所以说，\_\_\_\_\_。

填入横线处恰当的一项是：

- A. 以暴制暴应有正义之名
- B. 公德意识培养不能靠“武力”
- C. 倡导文明的方式更应文明
- D. 对不文明行为不可一推了之

33. 新技术的涌现，特别是互联网技术应用和相关产业的突飞猛进，为后发国家提供了结构调整“弯道超车”的巨大\_\_\_\_\_。

填入下列横线处的词语，最恰当的一项是：

- A. 可能                                      B. 动力                                      C. 机会                                      D. 引擎

34. 不管是什么食品，都会有一个保质期，过了这个保质期就不能再食用。然而有的时候，食品保质期会有不一样的含义。这个问题你肯定从未注意过，有可能导致你扔掉了很多还可以食用的食品，造成了你经济的损失，也浪费了食物。

这段文字是一篇文章的开头，接下来最可能讲的是：

- A. 食品保质期的确定标准                                      B. 鉴别食品保质期的方法  
C. 怎样避免食物的浪费                                      D. 如何正确理解保质期

35. 习主席提出四项原则，为推进全球互联网治理体系变革指明了方向。尊重网络主权是“\_\_\_\_\_”，维护和平安全是“\_\_\_\_\_”，促进开放合作是“\_\_\_\_\_”，构建良好秩序是“\_\_\_\_\_”。

依次填入下列横线处的词语，最恰当的一组是：

- A. 推进器    奠基石    防护网    防护墙                                      B. 防护网    推进器    防火墙    奠基石  
C. 奠基石    防火墙    推进器    防护网                                      D. 防火墙    防护网    奠基石    推进器

36. 下列语句表达有误的一项是：

- A. 近些年来，虽然在经历多次伤病后竞技状态有所下滑，但凭借在球场内外的号召力和历史地位，科比布莱恩特仍然获得了巨额年薪  
B. 微生物的侵染不但会造成荔枝腐烂变质，而且还是荔枝贮藏中产生褐变的原因之一  
C. 虽然维多利亚时代的人们对于饮酒并不赞同，不过狄更斯很喜欢有节制地喝一点，并且认为任何人都不该妨碍英国公民这个简单、古老的快乐  
D. 北美的社区不论是公寓型的，还是以独立屋为主构成的，都不存在管理机构或管理人员

37. 我家楼下的王大妈每天推着瘫痪的老伴散步，以前总是有说有笑，最近情绪有些低落，一问才知道，都是被“开放二孩”政策闹的。原来，在北京的二儿子说，媳妇又怀孕了，他们计划让老太太去给带孩子，老爷子这边雇个24小时家政服务，王大妈说，咋也不能把老伴撇下，想自己出钱帮儿子在北京雇保姆，可儿子说北京太贵，而且保姆看孩子不放心。一来二去，媳妇去医院做了流产，不生了。这么一来，王大妈和老伴上火了，满心的内疚感。老伴天天嚷嚷：“都怪自己拖累了全家。”王大妈也动不动掉眼泪说：“这身体真不行了，对不起孩子们呀。”

这段文字意在说明的是：

- A. 二孩政策放开了，但“敢不敢”生却是个问题  
B. 要二孩让有些隔辈的老年人也背负了压力  
C. 二孩政策未必立竿见影，需要家庭和社会共同努力  
D. 国家出台二孩政策考虑不周全，应该及时进行修改

38. 一家大公司招聘大区经理，几轮面试后剩下20人，最后一轮是笔试。考生们拿到考题之后都慌了神，因为答题时间只有15分钟，卷子上的题目却有120道之多。大家慌忙答题，根本不听监考人员“请先浏览一遍全卷再答题”的提醒。试题非常简单，就是量太大。考试时间一到，只有一个人气定神闲地交了卷。“你被录取了。”监考人员对这个人说。监考人员举起此人的卷子，只见除了名字和电话，卷子上一个字都没有。“请大家看第98题。”监考人员说。第98题：您无需答任何题，只要在卷面最上端写下您的姓名及联系方式即可。

这个故事主要告诉我们：

- A. 倾听是进行有效沟通的关键                                      B. 淡定从容适应是成功的前提

C. 作为管理者要树立全局意识

D. 注意细节比纵观全局更重要

39. 我们除了做事，还需多读书，但人生苦短，经典都读不完，何必读其他？何谓经典？经过时间淘洗的著作才是经典。放宽点来说，知识界公认的大家著作也称为经典。但并非大家的所有著作都是经典。一个人，一生能写出一部经典已属不易，能写两三部者可称奇才。故一般而论，读一个人的代表作即已足够，只有少数里程碑式人物的著作需要全读。

这段文字的主要议题是：

A. 如何理解经典

B. 如何阅读经典

C. 应读什么书

D. 怎样坚持读书

40. 4月8日下午，湖南人胡国辉和彭孝良，路过广州白云机场航站楼9号门时，拾到一个白色手提袋，内有35.6万美元，折合230余万元人民币。“飞来横财”并没有诱感到生活拮据的农民工，他们毅然将手提袋原封不动交给机场派出所。据报道，胡国辉和彭孝良拾金不昧的事迹曝光后，他们的身份和生活状况成了网友们热议和欲知的细节。许多网友猜测这两位拾金不昧者，属于受过高等教育的高素质、高收入人群。总之，这句话的潜台词似乎是“只有高素质的人才不会眼红这飞来的横财，只有高收入群体才能抵抗巨款的诱惑”。

这段文字的议题是：

A. 道德约束力

B. 规范有效性

C. 金钱诱惑力

D. 标签化解读

41. 近日，某研究团队发表关于HIV病毒免疫的人类胚胎基因编辑的最新研究成果，该项成果基于艾滋病的胚胎细胞实验，通过编辑改写人类胚胎基因，希望达到免疫艾滋病的效果。现实的问题是，基因的功能并非是单一的、线性的，而是一种网状结构，往往牵一发而动全身，我们不知道改变一个会出现哪些其他反应，这很可能是“编辑”们无法控制的。然而，基因编辑技术在规避和治疗重大疾病、修补先天缺陷等方面，具有不可比拟的医学优势，有着不可替代的积极意义。

作者对基因编辑技术的态度是：

A. 推崇，人类终于可掌控自己的命运

B. 抵制，不知引导人类走向何种结局

C. 理性，在严控下负责地审慎进行

D. 客观，要冷静分析广泛的伦理争议

42. 近日，有网友表示了这样的担心，“我支付宝、微信里都有钱，如果我哪天突然意外死了，这些钱会被怎么处理（我的家人并不知道这笔钱）？”一时间引发了共鸣。根据互联网公司的规定，如果长期不使用个人账户，支付宝会注销，微信会回收。这也意味着，个人网络财产很有可能被“充公”。在实体银行里也存在这样一种情况。但实体银行，一般都有应对机制。比如针对“休眠账户”，银行可以联系第二联系人，或者允许当事人的亲友拿着银行卡来查询等。受此启发，当前应该通过立法的方式，解决网络平台的“休眠账户”问题。

这段文字意在说明：

A. 说明传统银行账户比网络账户更安全

B. 强调网络账户相关立法的必要性

C. 突出传统银行账户的优势所在

D. 提示网络银行账户存在的风险性

43. 乒乓球、羽毛球、排球，中国运动员在这三个比赛项目上都可以取得好成绩，篮球和足球就不是这样，短期内实现突破似乎相当困难，尤其是足球。乒乓球、羽毛球和排球有这样的共性：比赛双方都有自己固定的阵地，胜利与否实质上取决于防御能力的大小。篮球和足球比赛中的运动员则是全场跑动，胜利与否基本上取决于进攻能力的大小。中国运动员运动能力的特点折射出背后的中国文化的特点：是防御性的，而非进攻性的。

这段文字意在说明：

A. 中国的运动员擅长防御是民族文化特性的反映

B. 较强的防御能力是中国运动员的普遍优势

C. 球类运动能够充分体现一个民族的文化特点

D. 运动项目都具有防御性或者进攻性的特征

44. 刚工作时，我在一家高职院校当老师，除了一周上满20节课，还要当辅导员。由于生源质量较差，学校学习氛围不理想，课堂教学面对的都是不爱学习的学生，每堂课后我都会产生满满的挫败感。每周下来，真感觉整个人都被“掏空”了。后来，我果断辞职，换了一个更喜欢的工作，这种“被掏空”的感觉就没有了。



“我”的故事的主要启示是：

- A. 成就感的获得，往往关乎个人的喜好
- B. 如果无力改变现实，就要努力适应它
- C. 与其在挫败中消耗自信，不如选择另一种生活
- D. 只有做自己最喜欢的工作，才能避免挫败感

45. 中国的高考神校都出在底层，大城市反倒不行，因为优越就缺乏动力。衡水中学所处地区不算富裕，安徽六安毛坦厂更是山中灯火，黄冈中学也曾发力造就过辉煌，这些学校都有一个“拼”字，都有一套异于常规的手段，将不谙世事的孩子们推向喜马拉雅山脉，让他们出人头地，一览众山小。对于家长们，惶惑中心疼孩子，心中又挥泪让其加入苦行大军，这其实都是人类未来的写照：染于苍则苍，染于黄则黄。

与文意最不相符一项是：

- A. 近朱者赤，近墨者黑
- B. 物以类聚，人以群分
- C. 蓬生麻中，不扶而直；白沙在涅，与之俱黑
- D. 橘生淮南则为橘，生于淮北则为枳

46. 印度实行“免费医疗”制度，实际情况如何呢？据统计，印度医生所占人口比例是1：1500。政府医疗体系分为国家级医院，邦（省）级医院，地区级医院，县级医院和乡级医院。通常各级政府医院都面临医药短缺、医院条件差、病房条件不足、卫生不过关及医生接待病人多、工作压力大等诸多问题。公立医院不盈利，医生工资低，医术好的医生留不住，都奔私立医院去了。而后者收费极高，底层人群消费不起。

通过这段文字，以下推断错误的是：

- A. 印度医生总体人数能够充分满足医疗需求
- B. 印度所谓的“免费医疗”不能解决实质问题
- C. 印度仍存在不花钱的治不好病，治得好的看不起病的现象
- D. 在印度也会有“看病难”的问题

浙江大学肿瘤研究所、浙医二院放射介入科的研究成果，经由“小苏打饿死癌细胞”的通俗解读，被普通人广泛知晓，反响强烈，如石击水。

意料之外的巨大反响，印证了一个情理之中的判断：\_\_\_\_\_。有人说，科学就是一层纸的厚度，道理可能很简单，但发现的过程艰难。科学研究要向公众讲清楚，其中也隔着一层纸。如果点不透，这层“纸”会一直阻隔公众认知；如果力道把握不好，把纸捅出“窟窿”来，传播的效果就会走歪。

科研成果有可能在通俗化解读中走样变形。比如，“标题党”任意裁切拼接，只取其一，不及其他；像“小苏打饿死癌细胞”的说法，在微信群竟成了“喝苏打水致癌”“靠十几块钱的小苏打就能治肝癌”。被这些标题党和“变形”的说法牵着鼻子走，再怎么批驳、证伪、寻求真相也只能是缘木求鱼。

47. 填入横线处最恰当的句子是：

- A. 科普传播与推广，应避免力道不足和用力过猛
- B. 给科研成果恰当的通俗化解读，有可能也有必要
- C. 癌症治疗的新发现，都会引来公众的热切关注
- D. 抢得舆论传播的先机，才能避免真相被“变形”

48. 能替换“缘木求鱼”且符合文意的一项是：

- A. 水中捞月
- B. 磨砖作镜
- C. 舍本逐末
- D. 南辕北辙

49. 如果要续写并结束此文，最恰当的内容是：

- A. “小苏打饿死癌细胞”式误读的原因
- B. 专业性解读与通俗性解读的不同效果
- C. 促进科研成果通俗解读及科普推广的建议
- D. 避免医学研究成果被媒体有意曲解的措施

50. 最适合做短文标题的是：

- A. 饿死癌细胞？小苏打没那么神
- B. 小苏打饿死癌细胞？标题党可休矣

C. 小苏打饿死癌细胞？剑走偏锋式解读不可取

D. 小苏打饿死癌细胞？科学传播别跑偏

### 第三部分 - 数量关系

在这部分试题中，每道试题呈现一段表述数字关系的文字，要求你迅速、准确地计算出答案。你可以在草稿纸上运算。

51. 已知赵先生的年龄是钱先生年龄的2倍，钱先生比孙先生小7岁，三位先生的年龄之和是小于70的素数，且素数的各位数字之和为13，那么，赵、钱、孙三位先生的年龄分别为：

- A. 30岁，15岁，22岁      B. 36岁，18岁，13岁      C. 28岁，14岁，25岁      D. 14岁，7岁，46岁

52. 万圣节即将到来，哥哥给艾丽一些钱让她去商店买节日小装饰品，艾丽来到商店，南瓜灯18元一个，小怪兽14元一个，如果单买南瓜灯钱正好用完，如果单买小怪兽钱也正好用完，那么，哥哥给艾丽的钱数为：

- A. 266元      B. 342元      C. 459元      D. 504元

53. 用直线切割一个有限平面，后一条直线与此前每条直线都要产生新的交点，第1条直线将平面分成2块，第2条直线将平面分成4块，第3条直线将平面分成7块，按此规律将平面分为46块需要：

- A. 7条直线      B. 8条直线      C. 9条直线      D. 10条直线

54. 某公司举办大型年会活动，共35人参加。其中13名女生，每人至少表演一个节目，导演尽可能平均分配节目，共表演了27个节目，则至少有一名女生至少表演多少个节目：

- A. 4      B. 3      C. 2      D. 1

55. 张红和李健同时从班级出发沿同一条路线去食堂，若张红用一半的时间以速度x行走，另一半时间以速度y行走；李健在前一半路程以速度x行走，后一半路程以速度y行走( $x \neq y$ )，则下列说法正确的是：

- A. 张红先到达食堂      B. 李健先到达食堂  
C. 张红和李健同时到达食堂      D. 两人谁先到达食堂不能确定

56.  $\sqrt{2}$ ， $\sqrt{6}$ ，( )， $2\sqrt{5}$ ， $\sqrt{30}$  【2016-吉林甲-088/吉林乙-056】

- A.  $\sqrt{7}$   
B.  $3\sqrt{2}$   
C.  $\sqrt{10}$   
D.  $2\sqrt{3}$

57. 256，25，1， $\frac{1}{49}$ ，( )

- A.  $\frac{1}{81}$   
B.  $\frac{1}{144}$   
C.  $\frac{1}{1331}$   
D.  $\frac{1}{4096}$

58. 216，625，( )，729，128

- A. 4096      B. 2401      C. 1024      D. 750

59. 1，10，37，( )，361，1090

- A. 105      B. 118      C. 245      D. 294

60.  $-x^{\frac{1}{2}}$ ,  $\frac{1}{2}x^{-\frac{1}{2}}$ ,  $-\frac{1}{4}x^{-\frac{3}{2}}$ ,  $\frac{3}{8}x^{-\frac{5}{2}}$ , ( ),  $\frac{105}{32}x^{-\frac{9}{2}}$  【2016-吉林乙-060】

A.  $\frac{13}{14}x^{-\frac{5}{2}}$

B.  $-\frac{15}{16}x^{-\frac{7}{2}}$

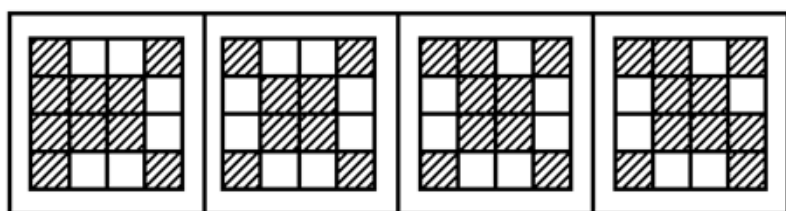

C.  $\frac{15}{16}x^{\frac{5}{2}}$

D.  $\frac{90}{24}x^{-\frac{7}{2}}$

#### 第四部分 - 判断推理

本部分包括图形推理、定义判断、类比推理与逻辑判断四种类型的试题，请按每道题的答题要求作答。

61. 从所给四个选项中，选择最合适的一个填入问号处，使之呈现一定的规律性：【2016吉林甲057/吉林乙061】



A

B

C

D

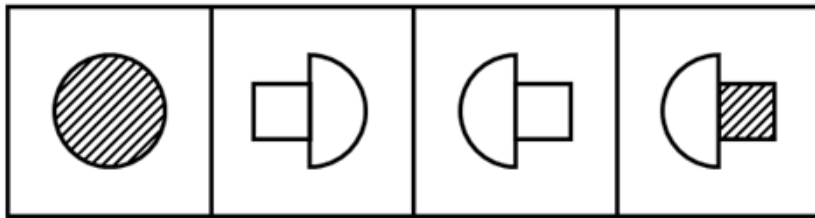
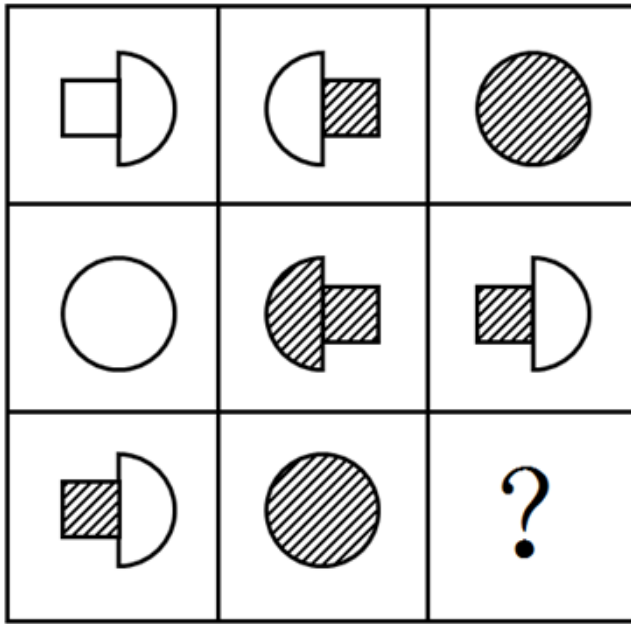
A. 如图所示

B. 如图所示

C. 如图所示

D. 如图所示

62. 从所给四个选项中，选择最合适的一个填入问号处，使之呈现一定的规律性：【2016吉林乙.062】



A

B

C

D


A. 如图所示

B. 如图所示

C. 如图所示

D. 如图所示

63. 从所给四个选项中，选择最合适的一个填入问号处，使之呈现一定的规律性：【2016吉林乙063】



A

B

C

D

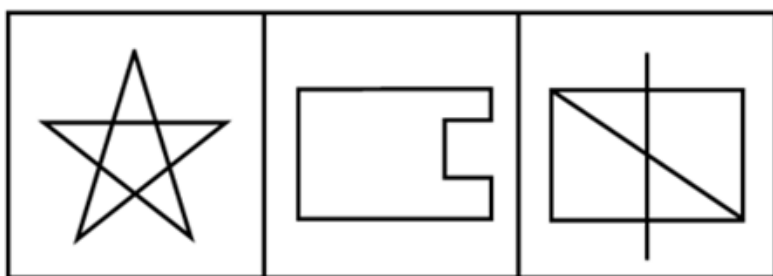
A. 如图所示

B. 如图所示

C. 如图所示

D. 如图所示

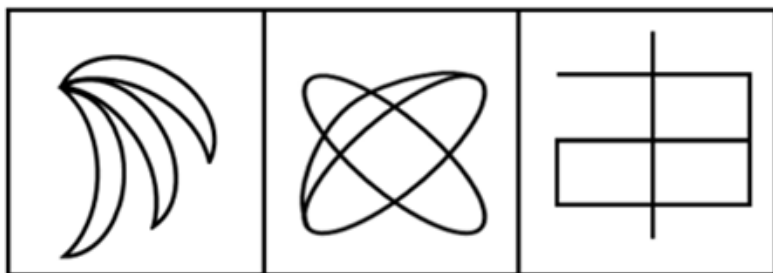
64. 把下面的六个图形分为两类，使每一类图形都有各自的共同特征或规律，分类正确的一项是：【2016吉林甲060/吉林乙064】



①

②

③



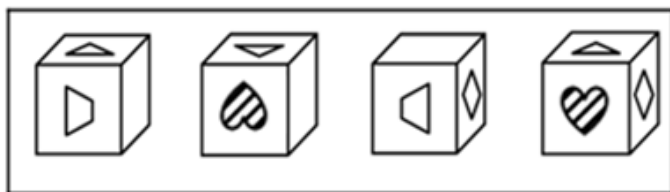
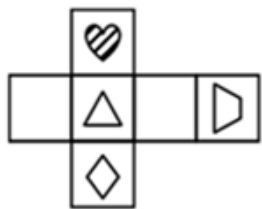
④

⑤

⑥

- A. ①③④, ②⑤⑥      B. ①③⑤, ②④⑥      C. ①②⑤, ③④⑥      D. ①②④, ③⑤⑥

65. 左边给定的是纸盒的外表面，下面哪一项能由它折叠而成：【2016吉林乙065】



A

B

C

D

- A. 如图所示      B. 如图所示      C. 如图所示      D. 如图所示

66. 动：静

- A. 东：西      B. 贫：富      C. 黑：白      D. 曲：直

67. 信件：E-mail

- A. 电脑：台式电脑      B. 教师：女教师      C. 朋友：老同学      D. 图书：电子书

68. 书：纸：笔

- A. 河：水：海      B. 饭：米：青菜      C. 林：树：木      D. 枪：子弹：炮

69. 松树 对于 ( ) 相当于 ( ) 对于 知识产权

- A. 松果 知识      B. 松树枝 权利      C. 植物 专利权      D. 松树林 商标权

70. 问号 对于 ( ) 相当于 ( ) 对于 排球

- A. 逗号 排球队      B. 句子 沙滩排球      C. 句号 足球      D. 标点符号 体育项目

71. 互补品定价策略，是指企业为主要产品（价值量高的产品）制定较低的价格，而为附属产品（价值量低的产

品）制定较高的价格，这样有利于增加整体的销量，从而增加企业利润。

根据上述定义，下列使用了互补品定价策略的是：

- A. 甲企业推出的一款网络游戏深受消费者喜爱，带动了游戏周边产品的热销
- B. 丁商场销售的十二生肖系列茶杯，成套购买会比单个购买的价格更加优惠
- C. 丙公司新推出内存为16G、64G和128G的三款智能手机，售价差别较大
- D. 乙厂商生产的喷墨打印机质量好、价格低，但墨盒的价格却一直居高不下

72. 比拟法是植物命名时最常见的一种修辞造词手段，是一种当物体的一部分或整体在形状、纹色、气味、质地、功能等方面，与其他事物存在着相似联系，植物命名时就相应地选择代表相似事物的词语来参与造词的方法。

根据上述定义下列植物命名，没有使用比拟法的是：

- A. 蘑菇里最珍贵的叫猴头，这种蘑菇是圆的，没有根，泥黄色表面成头发丝状很像猴子的脑袋，故而得名
- B. 代代花，姑苏名产，实熟时色黄，若不采下，经五年而不烂，皮色由青而黄复由黄变青可历多年故称代代花
- C. 据《本草纲目-果部-椰子》，记载椰子果实圆形，上有黑褐色的毛，人们将其与人的头颅类比，命名为“越王头”
- D. 甘草可调和众药，故又名“国老”，“国老”本为古代的国之重臣。或为告老退職的卿，大夫或士，有德高望重之义

73. 拟态，是指某些动物在外表、形态、色泽斑纹或行为等特征上，模仿其他生物或非生物环境，从而混淆敌害视觉，避免遭受敌害捕食的适应现象。

根据上述定义，下列现象属于拟态的是：

- A. 黄蜂腹部醒目的黑黄相间的条纹是一种警戒色，被黄蜂蜇过的鸟可以记忆几个月，从此只要再见到这种醒目的条纹，就会立即躲得远远的
- B. 当酷暑到来时，松鼠会将身体卷缩起来，钻进窝中酣然大睡，其体温会随着代谢的降低而变得冰凉，直至酷暑消退时，才会醒过来活动
- C. 尺蠖是尺蛾的幼虫，它栖息在树枝上一动不动，像钉在那里一样，简直就是树干上长出的一个小树杈，食虫鸟对它连看都不看一眼
- D. 家兔是由野生的穴兔驯化成的，野兔具有挖洞穴居来逃避敌害的生活习性，家兔尽管有人工建造的居住场所，但是它仍然有挖洞的行为

74. 集合行为是指一种人数众多的自发的无组织的行为。在集合行为中，个人不是独立地行动，而是与他人相互依赖、相互影响。

根据上述定义，下列不属于集合行为的是：

- A. 傍晚一群人穿着统一服装在空地上跳街舞
- B. 某国发生地震一群居民抢购食物和矿泉水
- C. 近期，一些不实的谣言在网络中被迅速传播
- D. 今年夏季颜色鲜艳的连衣裙成为流行服饰

75. 诉诸无知是一种逻辑谬误，它是指人们指定一事物是正确的，只是因为它未被证明是错误的，或者断定一事物是错误的，只是因为它未被证明是正确的。

根据上述定义下列属于诉诸无知的是：

- A. 既然权威专家都说你错了，你就很可能真的错了
- B. 你缺乏证实不在现场的证据，所以你一定在现场
- C. 你无法证明鬼是不存在的，所以鬼就是不存在的
- D. 很多人都声称自己曾经见过鬼所以鬼是存在的

76. 王戎七岁，尝与诸小儿游，见道边李树多子折枝。诸儿竞走取之，唯戎不动。人问之，答曰：“树在道边而多子，此必苦李。”取之信然。

王戎的隐含推理的假设是：

- A. 若路边的李子被摘光了，就不会多子折枝。
- B. 若路边的李子味道甜美，就不会多子折枝。

C. 若路边的李子味道不甜美，就会多子折枝。

D. 只有路边的李子没被摘光，才会多子折枝。

77. 苏格拉底有一句名言：“我只知道一件事，那就是什么都不知道。”

以下哪项最精准地表明了上述推理的荒谬：

A. 甲：“我们不应背后议论我们的朋友。”

乙：“难道我们要当面议论我们的朋友吗？”

B. 纸牌一面写：“纸牌反面的句子是对的。”

另一面写：“纸牌反面的句子是错的。”

C. 俗话说：“男子汉大丈夫，宁死不屈。”

俗语又说：“男子汉大丈夫，能屈能伸。”

D. 甲：“你的观点和主流的观点是有矛盾的。”

乙：“这没什么，矛盾是普遍存在的。”

78. 巫马子对墨子说：我不能兼爱。我爱我的家人比爱我家乡的人深，爱我的双亲比爱我的家人深，爱我自己胜过爱我双亲，这是因为切近我的缘故。打我，我会痛，打别人，不会痛在我身上，所以我只会杀他人以利于我。墨子问道：你的这种义会告诉别人吗？

巫马子答道：我为什么要隐藏，我会告诉别人。

墨子说：既然你这样，如果有人喜欢你的主张，那么这个人就要杀你以利于自己。如果有人不喜欢你的主张，那他也要杀你，因为他认为你是散布不祥之言的人。

由上文可推知：

A. 巫马子只能远走他乡

B. 巫马子必须承认自己的观点是错的

C. 巫马子一定要改变自己原来的观点

D. 巫马子一定会被人杀死

79. 你为什么总是不高兴？因为你缺失信仰，人生失去了方向。也就失去了驾驭快乐的手段。导致很多人在幸福中选择了不快乐。同时，没有信仰就容易把价值观建立在一些外在事物上，甚至是相互比较上，仰望别人的成功，感觉自己的卑微；仰望别人的幸福，慨叹自己的不幸。比较别人的得志，愤然自己的失意；比较别人的快乐，放大自己的痛苦。

如果以上陈述为真，则可以推出：

A. 不缺失信仰，就不会总是不高兴

B. 总是不高兴，说明一定缺失信仰

C. 有信仰，就不会把价值观建立在一些外在的事物上

D. 不把价值观建立在一些外在事物上，代表你有信仰

80. 春秋时期楚王在云梦泽打猎，不小心把自己心爱的弓丢失了。左右的侍从立刻要去寻找。楚王制止道：“楚国人丢了弓，楚国人拾了去。不必找了。”

以下与题干中所犯的逻辑错误最为类似的是：

A. 一青年留了长发，父亲见了说：“你赶快去把长发剪掉，不然就别进这个家门！”儿子说：“那我剃光了行吗？”

B. 问：“要是有人把月球塞进大西洋，你说应该用什么方法才能取出来呢？”答：“你是怎么放进去的，我怎么拿出来。”

C. 老师让学生造句，其中要有“糖”字。小明回答：“父亲在喝茶。”老师问：“糖在哪里啊？”小明回答：“在茶里，父亲喝的是加糖红茶。”

D. 问：“这件衣服是最时髦的吗？”答：“当然了！”又问：“太阳晒了不褪色吗？”又答：“瞧你说的，它在橱窗里挂了三年了，到现在还像新的一样。”

81. 人寿之长短，或者由于遗传因素，或者由于后天条件。徐某长寿有遗传因素，所以他的长寿与后天条件无关。以下与题干的论证结构相同的是：

- A. 武松过景阳冈，要么打死老虎，要么被老虎吃掉。武松打死了老虎，所以他没有被老虎吃掉
- B. 从这个小山村到县城只有两条路，一条大路，一条小路。大路比较远，小亮决定不走大路，所以他只有走小路
- C. 功课不好的原因或是上课不认真听讲，或是课后不认真复习。小明上课认真听讲，所以他课后没有认真复习
- D. 学院规定，大一学生至少选修一门外语课，或是英语，或是法语。小华选修英语课，所以他不能选修法语课

82. 在我们这个高速发展的社会，拆迁和建设速度早已超出了人们的想象。而城市的发展总是伴随着城市的拆迁和建设。因此，有人认为城市的发展是导致城市拆迁和建设的根本原因。

以下哪项如果为真，最能削弱上述结论：

- A. 很少进行拆迁和建设的城市，往往都会发展得比较慢
- B. 经济发展水平的提高，促进城市发展，带动城市的拆建
- C. 城市的发展过程必然会带来了很多正面的和负面的影响
- D. 除城市发展外，工业化也是导致城市拆迁和建设的原因

83. 某次数学考试结束后，甲班班长和学习委员一起对考试成绩进行了预测，具体如下：

- (1) 有人考试没及格。
- (2) 有人考试及格了。
- (3) 班长考试没及格。

成绩公布后，发现三句预测中只有一句话正确。可推知：

- A. 甲班同学都没有及格      B. 甲班同学有人没及格      C. 学习委员考试及格了      D. 学习委员考试没及格

84. 研究显示，睡眠超过八小时的人的皮肤比通宵熬夜的人更加健康。一些金融工作者是通宵熬夜的人，部分体育工作者一直保持着超过八小时的睡眠。张玉是一名体育工作者。

由此可以推出：

- A. 多数体育工作者比某些金融工作者的皮肤更健康
- B. 某些体育工作者比某些金融工作者的皮肤更健康
- C. 某些金融工作者的皮肤比张玉的皮肤更健康
- D. 张玉的皮肤比某些金融工作者的皮肤更健康

85. 近日，某地出现了严重的雾霾，一些家长担心孩子的健康。提议在学校安装空气净化器，但有专家认为，学校可能不太适合安装空气净化器。

以下哪项如果为真，最能加强上述专家的观点：

- A. 空气净化器的噪音可能对孩子学习产生影响      B. 空气净化器的安装并不能完全替代室内通风
- C. 适合的空气净化器功率大，会使电网超负荷      D. 市面上空气净化器鱼龙混杂，质量参差不齐

86. (1) Gillian在屋子里随着音乐一个人快乐地跳起舞

- (2) 老师写信说：Gillian患有多动症和学习障碍症
- (3) 看了几分钟，医生诊断：没错，是个舞蹈天才
- (4) 去看病，医生打开收音机，带着妈妈走出门外
- (5) Gillian总是不安生，无法集中注意力，晚交作业

- A. 2-5-4-3-1      B. 5-2-4-1-3      C. 2-5-4-1-3      D. 5-4-1-3-2

87. (1) 黄牛抢票购票难

- (2) 软件破解验证码
- (3) 数字验证码购票
- (4) 图片验证码产生
- (5) 验证码难以辨认

- A. 1-3-2-4-5      B. 1-4-2-3-5      C. 3-2-1-4-5      D. 4-5-2-1-3

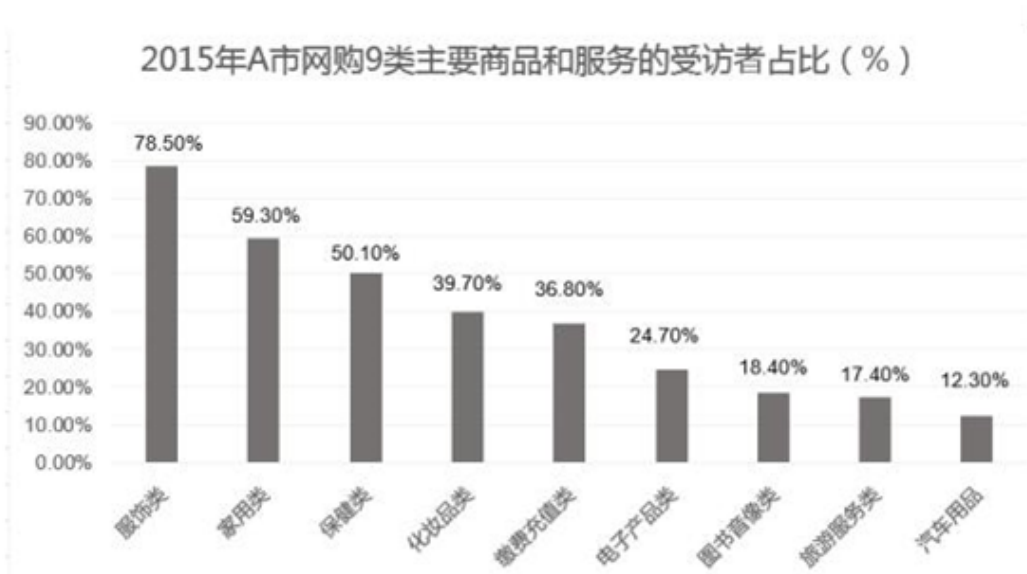


88. (1) 加以改造完善，使之能够切实可用  
 (2) 中止有意识思考，启动潜意识思考  
 (3) 尽可能地收集大量的相关原始资料  
 (4) 随时准备迎接灵光乍现时刻的来临  
 (5) 重复咀嚼原始材料，构思初始创意  
 A. 2-3-5-1-4                      B. 3-5-2-4-1                      C. 2-3-5-4-1                      D. 3-5-4-2-1
89. (1) 深受外地游客喜爱  
 (2) 采摘和旅游相融合  
 (3) 好资源没有好收益  
 (4) 种葡萄卖给酿酒厂  
 (5) 经济效益大幅提升  
 A. 2-1-3-4-5                      B. 4-5-1-2-3                      C. 2-1-5-4-3                      D. 4-3-2-1-5
90. (1) 瘦狮子明白自己命运掌握在羊群手中，就只吃死羊和病羊  
 (2) 羊群让一只狮子吃得膘肥体壮，让一只狮子饿得皮包骨头  
 (3) 上帝规定：羊群可以在狮子中任选一只，还可以随时更换  
 (4) 一片草原上有一群羊，上帝决定给他们找两只狮子做天敌  
 (5) 瘦狮子快饿死了，羊群才请上帝更换，从此过上安稳生活  
 A. 2-3-5-1-4                      B. 4-3-5-1-2                      C. 2-3-5-4-1                      D. 4-3-2-1-5

### 第五部分 - 资料分析

针对下列图、表或文字回答问题。你应根据资料提供的信息进行分析、比较、计算、处理。你可以在题本上运算。

A市统计局在该市范围内做了一项调查，抽取了5000名18到70周岁且在2015年有过网购经历的居民，结果显示：受访者2015年人均网购次数为19.4次。从分组情况看，有三类人群使用网购相对频繁；一是年轻群体，35岁以下的受访者人均网购次数为25.5次；二是较高学历群体，文化程度为大学本科及以上学历和大专学历的受访者人均网购次数分别是27.3次和21.8次；三是中高收入群体，个人月收入为10000元以上和5000到10000元的受访者人均网购次数分别是31.0次和26.0次。此外，女性受访者人均网购次数为21.1次，比男性受访者高出3.8次。2015年该市网购9类主要商品和服务的受访者占比情况如下图。



91. 2015年，在A市中，30%-40%受访者网购的商品和服务项目是：  
 A. 化妆品、缴费充值类      B. 保健类、汽车用品类      C. 缴费充值类、旅游类      D. 化妆品、电子产品类

92. 受访者中男性所占比例约为:

- A. 74.3%                      B. 68.6%                      C. 55.3%                      D. 44.7%

93. 受访者中, 在2015年网购化妆品的人数约为网购旅游服务人数的:

- A. 1.0倍                      B. 1.5倍                      C. 2.3倍                      D. 2.5倍

94. 下列群体中, 2015年人均网购次数最少的是:

- A. 35岁以下的受访者                      B. 男性受访者  
C. 个人月收入为10000元以上的受访者                      D. 大专学历的受访者

95. 不能从上述资料推出的一项是:

- A. 受访者中在2015年网购了缴费充值服务的人数是1840人  
B. 2015年该市男性受访者人均网购次数为17.3次  
C. 2015年该市网购服饰类、保健类的受访者占受访者之比的差是28.4个百分点  
D. 2015年该市大专及以上学历受访者的人均网购次数是24.6次

2015年各季度当年累计城镇居民人均消费支出及分类消费支出情况表(单位:元)

指标	消费支出 累计值	分类消费支出							
		食品 烟酒	衣着	居住	生活用品 及服务	交通 通信	教育文化 娱乐	医疗 保健	其他用品 和服务
2015年 第一季度	5534	1827	568	1159	319	717	452	338	154
2015年 上半年	10401	3228	924	2273	633	1400	951	698	295
2015年 前三季度	15636	4719	1237	3444	955	2115	1668	1061	436
2015年 全年	21392	6354	1701	4726	1307	2895	2383	1443	584

96. 2015年, 城镇居民人均消费支出最少的季度是:

- A. 第一季度                      B. 第二季度                      C. 第三季度                      D. 第四季度

97. 2015年第一季度, 八类消费中占城镇居民人均消费支出比重超过10%的有:

- A. 1个                      B. 2个                      C. 3个                      D. 4个

98. 2015年第二季度, 四类消费支出从小到大的排序是:

- A. 生活用品及服务 医疗保健 教育文化娱乐 衣着  
B. 生活用品及服务 衣着 医疗保健 教育文化娱乐  
C. 衣着 生活用品及服务 医疗保健 教育文化娱乐  
D. 生活用品及服务 衣着 教育文化娱乐 医疗保健

99. 2015年, 消费性支出占城镇居民人均消费支出比重四个季度持续下降的一类是:

- A. 食品烟酒消费支出占比                      B. 居住消费支出占比  
C. 交通通信消费支出占比                      D. 教育文化娱乐消费支出占比

100. 2015年, 能够从上述资料推出的是:

- A. 全年生活用品及服务不到居住消费支出的三分之一  
B. 医疗保健消费支出第一季度最高, 第四季度最低  
C. 教育支出四个季度平均增速慢于交通通信消费支出  
D. 全年居住消费支出不到食品烟酒消费支出的60%

## 扫一扫，对答案

