

2016年江西省公务员录用考试《行测》真题（法检卷-考生回忆版）

更新时间：2024年12月09日15:27:44

扫描下方二维码下载星光公考APP 刷海量题库掌握最新热点



QQ扫码直接下载
微信扫码到应用市场下载
支持所有机型哦

第一部分 - 言语理解与表达

本部分包括表达与理解两方面的内容。请根据题目要求，在四个选项中选出一个最恰当的答案。

1. 为了办好杭州峰会，甲方始终_____开放、透明、包含的理念，广泛_____各方诉求。

- A. 坚持 征 收 C. 秉持 倾 听
B. 秉持 收 集 D. 坚持 听 取

2. 任何一项改革都不是_____，也不可能一帆风顺。改革有风险，改革需谨慎。但这不能成为拒绝和_____改革的理由。

依次填入划横线部分最恰当的一项是：

- A. 一蹴而就 放弃 B. 一日千里 抛弃
C. 一步登天 摒弃 D. 一路绿灯 扬弃

3. 遇到困难切莫一味地_____，发生交通事故千万莫_____，涉及亲戚考试一定要_____。

依次填入划横线部分最恰当的一项是：

- A. 逃避 回避 逃逸 B. 逃避 逃逸 回避
C. 回避 逃逸 逃避 D. 回避 逃避 逃逸

4. 毫无疑问，宇宙和生命的起源和演化是全人类共同_____的重大问题，同时也是高技术的创新_____之一，将对基础科学_____人类文明进步带来深远影响。

依次填入划横线部分最恰当的一项是：

- A. 关切 源泉 以及 B. 关心 源泉 乃至
C. 关切 源头 以及 D. 关心 源头 乃至

5. _____这种改革，目的是要改变传统的低效教学模式，从_____学生的思维、提升学生综合人文素质出发，把素质教育落实到课堂中，通过高效课堂实现减负增质的育人_____。

依次填入划横线部分最恰当的一项是：

- A. 推行 培育 目标 B. 推动 培养 目的
C. 推行 培养 目标 D. 推动 培育 目的

6. 在基层扶贫中存在一种趋势，即周边什么产业“火”，_____上马什么产业。这样盲目跟风，缺少差异性思维，导致种植数量上涨，产品滞销，农民_____挣不到钱，_____对发展产业和脱贫致富越发迷茫。

依次填入划横线部分最恰当的一项是：

- A. 也 不仅 还 B. 就 不是 就是
C. 就 不仅 还 D. 也 不是 就是

7. _____两家企业的负责人投入巨资搞创新无一例外地遇到不同的声音_____非议，_____多年的坚持最终换来了成功。

依次填入划横线部分最恰当的一项是：

- A. 虽然 与 B. 尽管 与
但是 但是
C. 虽然 甚至 然而 D. 尽管 乃至 然而

8. 推进海绵城市建设，_____不可简单对待，_____不可盲目乐观，操之过急，_____要避免政绩冲动。

依次填入划横线部分最恰当的一项是：

- A. 既 又 还 B. 不仅 而且 尤其
C. 既 也 还 D. 不仅 而且 还

9. 究竟何为共享经济，学界与业界尚无准确定义。_____，几乎可以确定的是，_____它将怎样浩荡的形式来袭，在以租人APP为载体的这方小领域里，_____荷尔蒙“下架”，共享的价值_____真正“上线”。

依次填入划横线部分最恰当的一项是：

- A. 诚然 无论 只有 才能
 B. 然而 无论 只要 就
 C. 诚然 无论 只要 就
 D. 然而 无论 只有 才能

10. “我胸怀坦荡，光明磊落，事情做得好会_____，做错了从来不扭扭捏捏、_____，无非认个错，赔个不是”。

依次填入划横线部分最恰当的一项是：

- A. 自我放纵 闻过则喜 B. 飞扬跋扈 文过则喜
 C. 自鸣得意 文过饰非 D. 大鸣大放 闻过饰非

11. ①从前治安环境不好，总有一伙人在这一带称王称霸，_____，光天化日，为非作歹。

②在这次点钞票的比赛中，她无可争议地_____。

依次填入划横线部分最恰当的一项是：

- A. 独占鳌头 名列前茅 B. 不可一世 独占鳌头
 C. 独占鳌头 一枝独秀 D. 一枝独秀 独占鳌头

12. 刚下过一场小雪，就迎来了新春，漫步在_____的南昌街头，随处都能见到一派_____的景象。

依次填入划横线部分最恰当的一项是：

- A. 熙熙攘攘 春意盎然 B. 车水马龙 不忍直视
 C. 熙熙攘攘 门可罗雀 D. 门可罗雀 美轮美奂

13. 只有带着中国“土”味儿的艺术，才能在世界画坛上_____，跟在别人屁股后面跑的，不管是什么千奇派、百怪派，只能说是_____，说文雅一些，是艺术教条主义。

依次填入划横线部分最恰当的一项是：

- A. 奇情异彩 拾人牙慧 B. 大方光芒 拾人牙慧
 C. 大放异彩 拾人牙慧 D. 光芒万丈 拾人牙慧

14. 由于官方不公布题目，所有题目均来自互联网，本题暂无收集到，给您造成不便敬请谅解。如果您有题目，可以通过“报错”或联系在线客服反馈给我们。

- A. 正确答案是A B. 正确答案是A C. 正确答案是A D. 正确答案是A

15. 某省农村改革的成效，现在是_____了，七千四百亿斤粮食和八千万担棉花便是献给改革者的花束。这虽然是开头，却预示着改革之势_____。

依次填入划横线部分最恰当的一项是：

- A. 一睹为快 如火如荼 B. 惨不忍睹 功败垂成
 C. 板上钉钉 星火燎原 D. 有目共睹 方兴未艾

16. 由于官方不公布题目，所有题目均来自互联网，本题暂无收集到，给您造成不便敬请谅解。如果您有题目，可以通过“报错”或联系在线客服反馈给我们。

- A. 正确答案是A B. 正确答案是A C. 正确答案是A D. 正确答案是A

17. 作为文化名人，他深感自己是盛名之下，_____，惟有_____、勤勤恳恳地工作，才能不负众望。

依次填入划横线部分最恰当的一项是：

- A. 其实难副 兢兢业业 B. 其实难符 兢兢业业
 C. 其实难副 兢兢业业 D. 其实难符 兢兢业业

18. 拿破仑被废黜以后，在厄尔巴岛_____，1816年3月1日登陆，20日重返巴黎。他只带了千名士兵，所到之处，受到农民“_____”的欢迎。

依次填入划横线部分最恰当的一项是：

- A. 不甘沉沦 箪食瓢饮 B. 不甘寂寞 箪食瓢饮
C. 不甘沉沦 箪食壶浆 D. 不甘寂寞 箪食壶浆

19. 地处长白山南麓的吉林集安以独特的地理、气候条件被誉为“东北小江南”。在绿色发展理念引领下，这座边陲小城近年来不断激活绿色富民产业，独到的资源禀赋和深厚的历史底蕴喷涌出巨大的发展活力。

通过这段文字，作者想要告诉我们的是：

- A. 吉林集安这座边陲小城被誉为“东北小江南”
B. 吉林集安独特的地理、气候条件适合发展绿色产业
C. 吉林集安近年来为绿色富民产业兴盛，发展活力巨大
D. 吉林集安为我国绿色富民产业发展起到了典型示范的作用

20. 全球化时代，任何一个创新体系都不能闭门造车。只有开放，才能促进创新资源的全方位流动和有效配置。中国科技创新的发展与改革开放密切相关，走出去与引进来，对丰富创新生态起到了重要作用。未来，中国将营造更好的环境和条件，吸引海外资源，探索试行技术移民；更多参与国际规则制定，在全球科技共同体中发挥应有作用。

下列有关科技创新的话题符合文意的是：

- A. 全链条：从“象牙塔”到创新全链条 B. 新起点：从立足眼前到兼顾长远发展
C. 新空间：从局部示范到多层次推进 D. 宽格局：从被动应对到主动融入世界

21. “平等”是指群体关系的双方无论地位、资源和能力有何差异，他们的法律地位和人格是平等的，任何一方都不可以居高临下、盛气凌人。而应该平等对待、相互尊重。“互信”是群体双方本着真诚的态度加强沟通，交换信息、意见和观点，多换位思考，多站在对方角度考虑问题。“友爱”是想对方之所想，急对方之所急，体谅、体贴对方，互相关心、互相帮助。“公正”是要求按照社会公认的价值标准待人接物，处理事务，没有偏私。不公则心不平，心不平则气不顺，气不顺则难和谐。“法治”是指一切行为都要纳入法制化轨道，要树立规则意识和法治意识，培养契约精神，按照政策法律办事，依法解决矛盾和纠纷。建立良好的群体关系，平等、互信是前提，友爱是关键，公正和法治是保障。

最适合做这段文字的标题是：

- A. 建立良好的群体关系的基本原则 B. 构建现代社会和谐的群体关系
C. 现代社会群体关系的表现形式 D. 现代社会群体关系的构建方式

22. 虽然近年来政府采购相关法规不断完善，但当前政府采购存在明显漏洞。首先，政府采购招标环节评分规则设置不合理。在目前政府采购招投标过程中，随机产生的评标专家委员会负责对标书进行评标打分，专家评分舞弊的可能性较大。其次，相关监管仍需加强。当前我国对于政府采购的监督仍然以内部监督为主，不能真正起到监督作用。再有，政府需加强预算监督。并严格落实追责问责。在当前的采购制度下，加强对预算的监督十分关键，预算编制应该更加精细化，公开的力度应该更大。相关人士还建议，政府采购应考虑成本和算经济账，着力提升政府采购的实用性和性价比。此外，促进政府采购电商化也被视为规避采购腐败较为有效的方式之一。

这段文字的主旨是：

- A. 分析了政府采购存在的漏洞及原因，并提出了相应的对策
B. 揭露了当前政府采购中的内幕，并谈了作者的看法
C. 强调了在政府采购中加强监督，严格落实追责问责的重要性
D. 指出了政府采购的评标环节存在明显漏洞，并谈了作者的建议

23. 文化产业是“无言产业”，在驱动国民经济发展的同时，还能满足广大人民群众的文化需求。近年来我国文

化市场的繁荣，已经带来了良好的经济效益和社会效益，下一步要加强文化自信，深耕传统文化，推动文化产业快速健康发展。有分析指出，目前我国本土主题公园很少呈现传统文化的精品项目。在今年全国两会期间，全国政协委员，某省文化厅厅长就呼吁让本土主题公园具有“中国味”。

这段文字主要讲述的是：

- A. 文化产业的繁荣已经带来了经济效益和社会效益
- B. 我国本土主题公园缺少“中国味”是没有文化自信的表现
- C. 弘扬传统文化有利于驱动国民经济发展和满足群众的文化需求
- D. 要想尽快做大做强文化业，就要加强文化自信，深耕传统文化

24. 从曙光系列，天河系列到神威系列，国产超算一步步施行逆袭，也带领一批科学家的研究迈上了快速发展的轨道。科学家们如此执着地追逐超算，归根结底，是要解决人类面临的重要问题。气象台的天气预报准确度一直在提升，这背后其实很大程度上是超算的功劳。记者采访了解到，“神威·太湖之光”系统正式运行一个多月来，国内外多个应用团队通过使用该系统，目前已经取得了60多项应用成果，涉及天气气候，航空航天，海洋环境，生物医学，船舶工程，材料等19个应用领域。有效使用超算，可在更短时间内完成重大研究，追着超算跑的意义不仅仅是赢得竞争，更重要的是把机器用好，获得更多的科学发展，终极目标是造福人类。

最适合做这段文字标题的是：

- A. 超算的应用领域
- B. 超算的广泛用途
- C. 超算的终极目标
- D. 超算的科技水平

25. 随着我国高等教育日益普及，高校毕业生就业出现多元化趋势，以就业为核心的单一就业评价指标已不足以反映大学生实际就业情况。一是高校中出现“慢结业群体”。90后应届毕业生往往推迟就业，会直接影响学校的初次就业率。二是高校学生就业方式多元化。如微商，电商等职业，无法用传统方式定义是就业还是没有就业。三是无就业协议但有就业事实。部分中小微企业往往要等学生毕业使用合格后才办理录用手续，这直接影响了高校初次就业率的统计指标。只能粗略反映大学生就业情况，体现不出大学生就业质量。

这段文字旨在说明：

- A. 当前大部分高校的就业评价指标是毕业生一次性就业率指标
- B. 以就业为核心的单一就业评价指标已不足以反映大学生实际就业情况
- C. 建立科学的大学毕业生就业评价体系的时机尚未成熟
- D. 高校毕业生就业出现多元化趋势

26. 潜规则得以在社会生活的一些领域风行，是“绑架效应”对社会价值观的扭曲。金钱至上，私利至上，为了金钱和私利，不惜害人，最终害己，这样的价值逻辑是文明社会所不齿和不容的。一个社会的价值追求，需要道德的弘扬，更需要法律的保障。在全面推进依法治国的今天，清除潜规则应该成为法治建设的一项任务，通过科学立法、严格执法、公正司法、全民守法，运用法治的手段铲除潜规则滋生的土壤，维护社会的公平和正义，维护民族的道德和文明。

这段文字论述的主要观点是：

- A. 潜规则的风行是“绑架效应”对社会价值观的扭曲
- B. 社会的价值追求需要道德的弘扬与法律的保障
- C. 金钱和私利至上导致害人害己是潜规则的极端结果
- D. 清除潜规则是法治的目标与任务

27. 从民调看，在一些发达国家民调中领先的政党往往是比较重视本国问题的，美国总统选举中的“特朗普现象”便是佐证，这也从一个侧面说明一些西方国家正在变得更“国家化”。从心态看，近年来“全球化受害者”心态开始在一些发达国家出现。从指数看，全球连通性指数表明，全球连接的紧密程度在降低。与此同时，“逆全球化”思潮在一定范围复活。然而从地区看，各大洲之间都离不开国际大市场的互联互通；从产业看，无论是传统产业还是新兴业态，无论是“互联网+”还是工业4.0，都离不开全球产业网络；从行业看，无论是贸易还是投资，都需要利用国际金融大平台。

这段文字意在表明：

- A. 全球化进程出现减缓迹象
B. 逆全球化思潮在一定范围复活
C. 全球化趋势不会改变
D. 逆全球化与全球化分庭抗礼

28. 网红经济日益发酵，正成为资本市场“风口上的飞猪”。随着直播女神，直播平台的走红，消费者的视线已经从传统的明星名人迅速转移到草根网络红人身上。近期这些网络宠儿们纷纷成为资本追逐的对象，但其背后的风险也不可小觑。部分投资人担心，在被资本追逐之后，与平台，机构绑在一起的网红可能会受到资本左右和约束，而一旦与投资者发生利益分成纠纷时，网红们能否继续红下去着实难说。多数业内人士判断，网红经济这个现象或许会持续段时间，但能持续多久确实很难判断。

从这段文字可以看出，作者对网红经济的态度是：

- A. 喜
B. 忧
C. 很难判断
D. 喜忧参半

29. 做一件事，往往有利也有弊，只有利而无弊的事情几乎没有的。《淮南子·人间训》云：“众人皆知利利而病病，唯圣人知病之为利，利之为病也。”看来古人已经注意到利弊的辩证关系。

这段文字中的引文，意在说明：

- A. 任何事情既有利也有弊
B. 众人趋利而避病
C. 圣人驱病而避利
D. 利与弊辩证统一

30. 目前很多城市的新地标，要么比高度，要么比奢华，或是一味追求前卫和怪诞，与周边的历史文脉形成尖锐的反差。由于建筑特别是地标性建筑关涉百年大计，千年大计，一旦造好，就很难改变。因而近年来有不少公认的败笔，已成为城市中极不和谐的音符，为世人所诟病，并为后人留下笑柄。

对这段文字的主旨，概括最准确的是：

- A. 城市的新地标近年来出现了不少公认的败笔
B. 城市的新地标关涉百年大计，千年大计
C. 城市的新地标不宜比高度，比奢华
D. 城市的新地标应体现历史文脉，是城市的和谐音符

31. 席勒曾经给成年人写过一篇童话：一个圆的一部分切去了，它希望自己是一个完美的圆，因此它就四处寻找它遗失的那一部分。但因为它不是一个完美的圆，所以只能慢慢滚动，由此得以沿途欣赏花草的芬芳，阳光的灿烂，并与蚯蚓娓娓而谈。有一天，它终于找到了自己遗失的部分，它高兴极了，因为它又是一个完美的圆。它又开始飞快地滚动。它在快速滚动中发现世界整个变了样，许多美好的东西都失去了，于是它又停下来，毫不犹豫地将其千辛万苦找回的部分丢在路边，然后慢慢滚动着向前走去……

这段文字意在：

- A. 告诉人们人生是由圆满和不圆满组成的
B. 告诉人们追求圆满的结局是不现实的
C. 告诉人们人生有时需要接纳不完美，不圆满
D. 告诉人们追求完美，圆满有时适得其反

32. 城市标语，应以言简意赅，精当准确，最具感染力和理解力的语言表述，挖掘出该城市独有的精神内涵和乡土特色。换言之，简洁，精辟，概括，深刻，这应是拟定一则城市标语在语言表达上最基本的特质和要求。而反观我国有些城市拟定的城市标语，却失之于冗赘，牵强，它们或在语言表达上过于藻饰，或在特色定位上过于罗致，或在品质挖掘上过于牵强，从而给人以刻意，盲目甚或浮躁不实之感。

这段文字意在强调：

- A. 我国的城市标语过于藻饰罗致牵强
B. 我国的城市标语应反映城市的个性特色
C. 我国的城市标语给人以刻意，盲目甚或浮躁不实之感。
D. 我国的城市标语尚有很大的改进空间

33. 由于中国低成本的生产优势，吸引了许多美国的跨国公司将生产基地转移到中国，美国也以此指责中国在“挖空美国的工业基础”。如果人民币对美元大幅度升值，一方面可以极大地削弱中国产品在美国市场的价格优势，阻止中国产品大量涌入美国，另一方面，提高美国公司投资中国的投资成本，使在中国的生产成本上

升，以抑制美国公司将生产基地转移到中国。

对这段文字中“挖空美国的工业基础”理解不正确的是：

- A. 强调中国的生产优势对美国工业的影响之大
- B. 讽刺美国政府夸大其词，渲染中国威胁论
- C. 说明许多美国跨国公司将生产基地转移到中国
- D. 表明中国经济的发展对美国的发展构成威胁

34. ①20世纪初发现的大量实验事实表明微观粒子具有波粒二象性，它们的运动不能用通常的宏观运动规律来描述。德布罗意、海森伯，薛定谔，玻尔和狄拉克等人建立和发展了量子力学的基本理论。

②因此，量子力学早期亦被称“波动力学”或“矩阵力学”。

③量子力学是现代物理学的理论基础之一。是描述微观粒子运动规律的理论。

④因此量子力学的建立大大促进了原子物理，固体物理和原子核物理等学科的发展，并标志着人们对客观规律的认识从宏观深入到了微观世界。

⑤应用这理论去解决微观粒子的问题时，得到的结果与实际符合。

⑥量子力学用波函数描述微观粒子的运动状态，以薛定谔方程确定波函数的变化规律，并用算符和矩阵方法对各物理量进行计算。

将以上6个句子重新排列，语序正确的是：

- A. ①③②⑥⑤④
- B. ③①⑤④⑥②
- C. ①③⑤②⑥④
- D. ③①⑥②④⑤

35. ①骈文篇名，唐代王勃作。

②《滕王阁序》全称《秋日登洪都俯滕王阁饯别序》，一名《滕王阁诗序》。

③文中铺叙滕王阁一带形势景色和宴会盛况，抒发作者“无路请缨”的感慨。

④滕王阁在洪州（治今江西南昌），为当时名胜。

⑤对仗工稳，语言流利。

⑥相传为王勃少年时得神力相助而作，令人考证为其往交趾（今越南）探父，途径洪州时作。

将以上6个句子重新排列，语序正确的是：

- A. ①②③⑤④⑥
- B. ②①④③⑤⑥
- C. ②①④⑥③⑤
- D. ①④②⑥⑤③

36. 在今天的现实生活里，其实每个人都可以找到足够依据，来发现自己的贫困。西方发达国家就不去比，光是中国，传媒上告诉我们，每天都有那么多人在消费“人头马”“劳力士”“皮尔·卡丹”“奔驰”、高尔夫俱乐部以及万元宴乃至十万元宴，影视中的改革家也是在豪华宾馆里一身名牌地发布格言，在这种超高消费的比照之下，什么样的工薪收入才能免除人们的贫困呢？因为自觉贫困，因为自觉贫困深重，人们当然没有理由要安心本职工作及其工薪收入，没有理由不去业余走穴，投机宰客甚至贪污腐败，也当然没有理由要把自己的敬业、道义以及守法看得那么重要。他们这样做的时候，很多人本来不算太贫困的生活也贫困了，很多人足以让一般西方人也羡慕的优裕生活条件也黯然失色了，贫困感像感冒一样到处流行。

最适合做这段文字标题的是：

- A. 现实贫困
- B. 生活优裕
- C. 贪腐借口
- D. 自觉贫困

37. 仙人掌这种无叶有节，长着刺的“常青植物”“卫士植物”，无论是生长在沙漠、悬崖这种人迹罕至之地，或是公园、路边这种人流如川之地，她都能做到坦然无忧，笑迎日出日落。无论是其形胖如山丘，或是其体瘦如孤峰，她都能安身为乐，外不劳形去减肥；无忧为福，内不思悲以滋补，很有点“莫思身外无穷事，且尽生前有限杯”的味道。

作者最想表达的是：

- A. 赞美仙人掌这种“常青植物”“卫士植物”的顽强生命力
- B. 赞美仙人掌无论生长环境恶劣与否都能坦然笑对的豁达胸襟
- C. 赞美仙人掌随顺自然、坦然无忧、安身为乐的生活态度
- D. 赞美仙人掌无论是胖还是瘦都能安身为乐的洒脱气度

38. 喝茶，喝的是一种心境，感觉身心被净化，滤去浮躁，沉淀下来的是深思。茶是一种情调，一种欲语还休的沉默；一种欲笑还颦的忧伤；一种“千红一杯，万艳同窑”热闹后的落寞。茶是对春天记忆的收藏，在任何一季里饮茶，都可以感受到春日那慵懒的阳光。坐在一个人的房间，倒上一杯茶，看着茶叶的翻卷也常会生出好多感慨：茶要沸水以后才有浓香，人生也要历经磨练后才能坦然。

这段文字主要表达的是：

- A. 喝茶时的心情，滤去浮躁
- B. 喝茶时的心境与人生感悟
- C. 茶是一种情调，一种欲语还休的沉默，一种热闹后的落寞
- D. 茶要沸水以后才有浓香，人生也要历经磨练后才能坦然

39. 如果从伦理的角度着眼，两极分化是一种悲剧性的社会现实。面对落入破产者行列的许多小生产者和劳动者，我们不能不寄予深切的同情。但是从生产力的角度着眼，两极分化是商品经济的价值规律发生作用后的必然结果，它发挥着约束和激励的功能，使人力资源和物质资源都趋于更合理的配置。

这段文字意在表明：

- A. 从不同角度看，两极分化既有消极影响，也有一定的积极意义
- B. 从伦理角度看，两极分化是一种悲剧性的社会现实
- C. 从生产力角度看，两极分化使人力资源和物质资源的配置更合理
- D. 两极分化是商品经济的价值规律发生作用后的必然结果

40. 随着生产的发展，人们的分工越来越细，科学与文学逐渐分开，形成了“科学界”、“文学界”。如今，分工更细了，研究科学的人，一辈子只限于某一学科、某一专业，以至某一专题。这样，“隔行如隔山”，常使人的视听囿于很小的天地，成为分工的奴隶。

这段文字意在强调：

- A. 人们的分工导致学科的分科，分工越细，分科就越专
- B. 越来越细的分科成为分工的奴隶，局限了人们的视听
- C. 学科应该分科，但研究者须视野开阔，不宜局限于狭小的天地
- D. “科学界”与“天文界”各有自己的特色，不能混同

第二部分 - 常识判断

根据题目要求，在四个选项中选出一个最恰当的答案。

41. 在量子理论发展过程中，最早提出能量子假说的是德国物理学家：

- A. 爱因斯坦
- B. 海森堡
- C. 玻尔
- D. 普朗克

42. 目前，宇宙大爆炸理论得到检验的最关键的证据是：

- A. 天体时标
- B. 3K微波背景辐射
- C. 氦元素的丰度
- D. 超新星爆炸

43. 通常人到海边闻到海风的阵阵腥气，是因为海风中含量较多的：

- A. 二氧化硫
- B. 二甲基硫醚
- C. 二氧化氮
- D. 二氧化碳

44. 2016年8月12日执行我国海洋科考史上第一次万米集深渊科考作业的无人潜水器被称作：

- A. 探索一号
- B. 蛟龙一号
- C. 蛟龙二号
- D. 海斗号

45. 牛奶之所以呈现白色是因为_____所致

- A. 碳化作用
- B. 氧化作用
- C. 乳化作用
- D. 钙化作用

46. 二十四节气是以_____为依据确定的。

- A. 太阴历
- B. 太阳历
- C. 阴阳合历
- D. 潮汐运动规律

47. 在古代“诸子百家”中，具有近代科学色彩的学派是：

- A. 儒家 B. 法家 C. 道家 D. 墨家
48. 中国古代音乐的音阶一般包括：
A. 宫商角羽 B. 宫商角徵 C. 宫商角徵羽 D. 商角徵羽
49. “黑天鹅事件”作为一个经济学术语，它源于：
A. 生物学 B. 逻辑学 C. 社会学 D. 物理学
50. 与江西省相邻的省市是：
A. 湖北、湖南、广东、福建 B. 福建、湖南、安徽、上海
C. 广东、浙江、广西、贵州 D. 广东、福建、湖南、河南
51. 被称为“东方莎士比亚”的是：
A. 关汉卿 B. 柳宗元 C. 汤显祖 D. 马致远
52. 明朝郑和七次下西洋，遍访30多个国家与地区，最远曾到达：
A. 非洲东海岸与红海海口 B. 非洲西海岸与红海海口
C. 印度洋西海岸与波罗的海 D. 阿拉伯海东海岸与红海海口
53. 1945年_____在《生命是什么》一书中提出了遗传密码的概念假说。
A. 薛定谔 B. 克里克 C. 孟德尔 D. 伽莫夫
54. 被列宁称为“十一世纪的改革家”的是：
A. 苏轼 B. 王安石 C. 欧阳修 D. 苏辙
55. 甲教唆乙去杀丙。乙到现场后，没有找到丙，但是在乙出门时与一保安发生冲突，结果乙将该保安杀死。关于甲对保安的死是否应承担责任，下列正确的是：
A. 甲应承担 B. 甲不应承担
C. 甲应承担教唆责任 D. 甲总体上不应承担
56. 2015年7月1日，第十二届全国人大常委会第十五次会议表决通过了全国人大常委会关于实行宪法宣誓制度的决定。根据该决定，各级人民代表大会及县级以上各级人大常委会选举或决定任命的国家工作人员，以及各级人民政府、人民法院、人民检察院任命的国家工作人员，在就职时应当公开进行宪法宣誓。该决定规定，宣誓制度自2016年月1日起施行。该决定将宪法宣誓誓词增改为_____字。
A. 60 B. 65 C. 75 D. 70
57. 甲长期下落不明，经其配偶乙向法院申请，法院判决宣告甲死亡。其后，乙就与丁结婚，并将一6岁的儿子送给丙收养，双方办理了收养手续。实际上甲并未死亡。经甲请求法院撤销了对其死亡的宣告。甲回家后发现儿子被人收养，乙也改嫁他人，幸丁已死亡。因此，甲就要求与乙恢复婚姻关系，并以自己未同意将儿子送丙收养主张收养无效。关于甲可否与乙自动恢复婚姻关系及甲的儿子与丙间的收养关系是否无效，下列正确的是：
A. 不能自动恢复婚姻关系、收养关系有效 B. 能自动恢复婚姻关系、收养关系无效
C. 能自动恢复婚姻关系、收养关系有效 D. 不能自动恢复婚姻关系、收养关系无效
58. 根据法官、检察官纪律处分有关规定，下列正确的是：
A. 张法官参与迷信活动，在社会中造成了不良影响，给予提醒劝阻，其不应受到纪律处分
B. 李法官乘车时对正在实施的盗窃行为视而不见，小偷威胁失主仍不出面制止，其应受到纪律处分
C. 何检察官在讯问犯罪嫌疑人时，反复提醒犯罪嫌疑人注意其聘请的律师执业不足2年，其行为未违反有关规定
D. 刘检察官接访时，让采访人前往国土局信访室举报他人骗取宅基地使用权证的问题，其做法是恰当的
59. 甲、乙、丙诉丁遗产继承纠纷一案，甲不服法院作出的一审判决，认为分配给丙和丁的遗产份额过多，提起上诉。关于本案二审当事人诉讼地位的确定，下列正确的是：

- A. 甲是上诉人，乙、丙、丁是被上诉人
 B. 甲是上诉人，乙为原审原告，丙、丁为被上诉人
 C. 甲、乙、丙是上诉人，丁为被上诉人
 D. 甲、乙是上诉人，丙、丁是被上诉人

60. 2016年8月16日1时40分，我国在酒泉卫星发射中心成功将世界首颗量子科学实验卫星_____发射升空。这将使我国在世界上首次实现卫星和地面之间的量子通信，构建天地一体化的量子保密通信与科学实验体系。

- A. “庄子号” B. “墨子号” C. “孔子号” D. “孟子号”

第三部分 - 数量关系

在这部分试题中，每道试题呈现一段表述数字关系的文字，要求你迅速、准确地计算出答案。你可以在草稿纸上运算。

61. 某商场搞抽奖活动，只要购物1-99元就可抽取一个乒乓球，购物100-199元就可抽取两个乒乓球，以此类推。若能抽到4对相同颜色的乒乓球就有奖品。有同样大小的涂成7种颜色的乒乓球各20只混装在一个纸箱内，试问至少购物多少元，才能保证有奖品？

- A. 800 B. 1300 C. 1400 D. 1500

62. 甲、乙两厂共同生产一批零件，甲、乙生产的次品率分别为 $\frac{1}{20}$ ， $\frac{3}{40}$ 。若从这批产品中任取一件，取得真品的概率是0.94，那么甲、乙生产这批零件的数量比为多少？

- A. 5: 3 B. 4: 3 C. 5: 2 D. 3: 2

63. 某单位派出80名职工参加三个项目的比赛：篮球、乒乓球、排球。其中有8个人只能参加乒乓球比赛，有52人能参加篮球比赛，62人能参加排球比赛。那么既能参加篮球比赛又能参加排球比赛的有多少人？

- A. 42 B. 28 C. 78 D. 34

64. 一个正方体块放在桌子上，每一面都有一个数字，贴着桌子这面的数字为素数，位于对面的两个数不相同且和等于10。甲看到顶面和一个侧面的两个数的和为7，乙看到顶面和侧面的两个数的和为5，那么贴着桌子的这一面的数是多少？

- A. 7 B. 9 C. 5 D. 2

65. 某出版社把400本教材书分别装入大、中、小三种型号的纸箱中寄出。每个大型箱能装80本，每个中型箱能装60本，每个小型箱能装35本。如果三种型号的箱子都有且每个箱子恰好装满，那么小型箱有多少个？

- A. 1 B. 3 C. 4 D. 6

66. 某班78位同学对参加演讲比赛的甲、乙、丙、丁四位同学进行投票，得票最多者胜出。在计票过程的某时刻，甲得20票，乙得12票，丙得26票，丁得9票，那么丙最少还要得票多少张才能确保胜出？

- A. 3 B. 5 C. 6 D. 7

67. 某处下面有四个科室，他们的职员数恰好是一个比一个多1，而四个科室的人数的乘积是840，那么职员最多的两个科室总共是多少人？

- A. 12 B. 13 C. 15 D. 19

68. 在某招聘工作现场，某单位的A、B两岗位共有34个男生、21个女生递交个人资料。若欲竞聘A岗位的男生数与女生数的比为3: 2，欲竞聘B岗位的男生数与女生数的比为4: 1，那么欲竞聘B岗位的男生是多少个？

- A. 4 B. 3 C. 30 D. 31

69. 某市体育中考满分40分。某班得分后五名同学的平均分是30分，排名倒数第五名的同学得了35分。假如这五位同学的得分是互不相同的整数，那么排名倒数第三名的同学最少得多少分？

A. 27

B. 28

C. 29

D. 30

70. 某干洗店承接了一些业务，干洗200块窗帘。干洗好一块可得干洗费30元，但若损坏一块不仅得不到干洗费还要赔偿150元。若清洗完毕共得5280元，则损坏窗帘多少块？

A. 4

B. 6


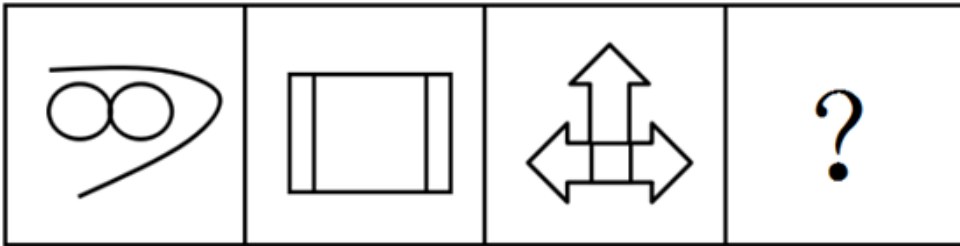
C. 10

D. 12

第四部分 - 判断推理

本部分包括图形推理、定义判断、类比推理与逻辑判断四种类型的试题，请按每道题的答题要求作答。

71. 从所给的四个选项中，选择最合适的一个填入问号处，使之呈现一定的规律性：【2016江西法检071】



A

B

C

D

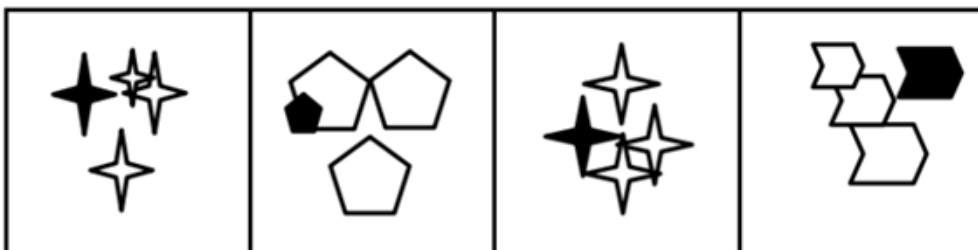

A. 如图所示

B. 如图所示

C. 如图所示

D. 如图所示

72. 从所给的四个选项中，选择最合适的一个填入问号处，使之呈现一定的规律性：【2016江西法检072】



A

B

C

D

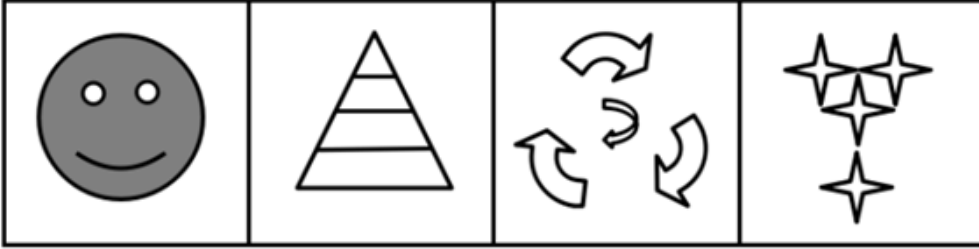
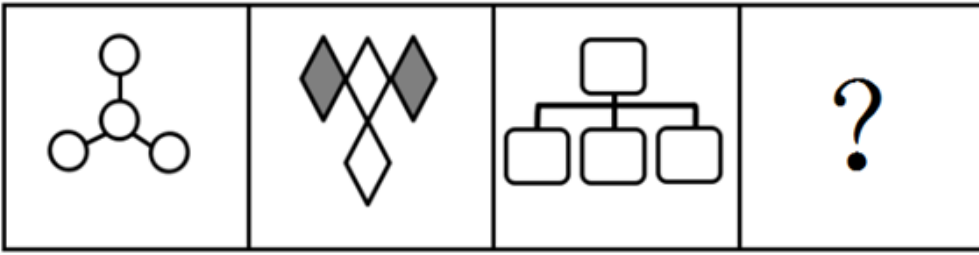
A. 如图所示

B. 如图所示

C. 如图所示

D. 如图所示

73. 从所给的四个选项中，选择最合适的一个填入问号处，使之呈现一定的规律性：【2016江西法检073】



A

B

C

D

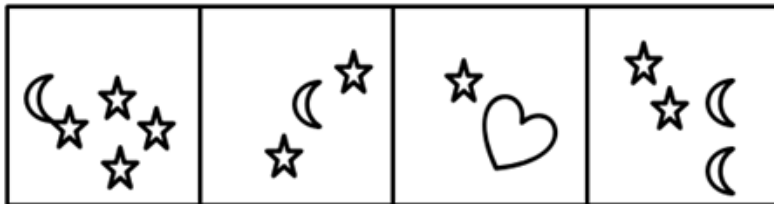

A. 如图所示

B. 如图所示

C. 如图所示

D. 如图所示

74. 从所给的四个选项中，选择最合适的一个填入问号处，使之呈现一定的规律性：【2016江西法检074】



A

B

C

D

A. 如图所示

B. 如图所示

C. 如图所示

D. 如图所示

75. 由于官方不公布题目，所有题目均来自互联网，本题暂无收集到，给您造成不便敬请谅解。如果您有题目，可以通过“报错”或联系在线客服反馈给我们。

A. 正确答案为A

B. 正确答案为A

C. 正确答案为A

D. 正确答案为A

76. 晕轮效应，也叫光环效应，是指当一个人因为其自身的一些优势或者在社会领域中取得成功得到大多数人

的认可，导致其弱点或不足被掩盖起来的一种现象。

属于晕轮效应的是：

- A. 小王在演讲与辩论大赛中获得冠军后被选为演讲与辩论协会理事
- B. “一俊遮百丑”、“情人眼里出西施”
- C. 张教授在国外知名期刊发表论文后引起学界的密切关注
- D. 某歌星吸毒后，其粉丝纷纷倒戈抨击他

77. 知情权，是指公民有权知道他应该知道的事情，国家应该最大限度地确认和保障公民知悉，获取信息的权利。

属于知情权的是：

- A. 小丽是其父母从小自别人家抱养的孩子，长大后要求知道其生父母
- B. 为满足公众获取信息的权利，某记者通过隐藏拍摄的方法跟踪拍摄明星生活
- C. 高女士投诉某产品生产过程存在的违反食品卫生法规定的情况
- D. 小学生小明坚持要求父母告诉家庭的财务支出情况

78. 逆向思维方法，是指一个人在认识事物过程中采用的方法与通常大多数人采用的方法往往相反或截然不同。

属于逆向思维方法的是：

- A. 小王学习成绩优异，小李也模仿小王的学习方法
- B. 面对素数猜想问题，张教授采取与众不同的崭新方式，最终取得了重大突破
- C. 小王性格古怪乖张，交往中经常与别人格格不入
- D. 大多数工程师在设计时采用归纳与实验方法，李工程师在设计时采用了演绎与抽象方法

79. 绝对无效民事行为，是指其内容违反法律禁止性规定的民事行为。包括以合法行为掩盖非法目的的民事行为；双方恶意串通，损害国家，集体或第三人利益的民事行为；内容违反公共利益，损害公共秩序的民事行为等。

不属于绝对无效民事行为的是：

- A. 两家汽车生产商为了骗取国家新能源汽车补贴，私下交换销售信息并向国家相关部门提供虚假的汽车销售记录与数据
- B. 某人表面上开了一家外贸公司，实际上却在从事贩毒活动
- C. 张三与李四一起诱骗王五签订违反法规的合同，导致王五破产
- D. 某企业违反劳动法处理违规的员工

80. 劳动权，是指有劳动能力的公民有从事劳动并取得相应报酬的权利，在一定意义上就是指受雇权和从事生产活动的权利。

与劳动权有关的是：

- A. 未满18岁的小丽被父母经常要求做家务
- B. 小李经常在工作之余帮助自己的朋友打理酒店的生意
- C. 刚刚毕业的大学生小王被一家外资企业招聘为人力资源部的员工
- D. 张华根很孝敬父母，经常帮父母做家务，有空经常陪父母聊天

81. 贸易摩擦，是指国家之间由于在贸易活动中为了保护国内市场或争夺第三方市场产生的竞争斗争。主要表现为提高关税，互设贸易壁垒、贸易报复、反倾销、反补贴、保障措施等。

属于贸易摩擦的是：

- A. 为防止国家信息安全受到威胁，世界各国都在加强信息安全建设
- B. 由于担心中国军事技术水平提升带来的威胁，欧美国家长期对中国实行武器禁运
- C. 欧盟与美国针对中国的光伏产业实施反倾销政策
- D. 由于担心竞争对手的赶超，某企业对竞争对手都有一些产品实行大幅降价

82. 微信营销，是指商家为了更好地推销自己的商品，通过微信平台 and 手段传播商品的信息，提高商品销售量和知名度。

属于微信营销的是：

- A. 李某经常在微信朋友圈里面把他店里的产品照片公布出来
- B. 李老师经常通过微信传播课件、布置作业等方式来提高教学效果
- C. 小王经常在朋友圈发一些自己做的美食，获得很多朋友的点赞
- D. 一些政府部门通过微信平台发布一些时政，提高政府部门的办事效率

83. 红海战略，是指在已知的市场空间中进行竞争的战略，在已知的市场空间中，竞争规则已经制定，竞争激烈，利润率不断下降。蓝海战略，是指打破现有的产业边界，在一片全新的、无人竞争的市场开拓进取，其主要的是摆脱竞争，创造和获得新的需求，追求差异化和低成本，获取更高利润率。

属于蓝海战略的是：

- A. 国内一些手机生产商通过网络营销来拓展销路
- B. 国产汽车为了提高销量大打价格战
- C. 美国特斯拉公司设计出以前从未出现过的全新电动汽车，占据了新能源汽车的制高点
- D. 某企业通过加强市场宣传与改变销售策略提高市场占有率

84. 代际公平，是指按照可持续发展要求，使得当代人公平地使用自然资源（包括环境）。当代人是未来世代人的资源与财富的托管者，当代人在利用自然资源的同时须要考虑后代人利用资源的机会和获取可持续资源的数量，不能以牺牲未来时代人的利益过度使用资源，以体现无论哪一代人在资源分配中都没有支配权地位的公平原则。

属于代际公平的是：

- A. 既要金山银山，更要绿水青山
- B. 某地为了提高GDP增长速度，不断地占用农业用地
- C. 某地为了均衡区域经济发展，对该地的水资源、土地资源等平均分配使用
- D. 某企业为了长远发展不断提高企业发展预留金

85. 道德危险因素，是指保险业中投保人或者被投保及其关系人图谋保险合同上的利益而人为制造“危险”，或故意促使危险发生，或在损失后加重其后果，以觊觎合同上的利益。保险公司对因道德因素所致的损失不负赔偿责任。

不属于道德危险因素的是：

- A. 张某为了骗取保险赔偿，故意伪造交通事故现场
- B. 李某驾驶不当导致汽车轻微刮伤，为了换掉汽车整个保险杠，于是加大油门撞向栏杆
- C. 刘某为了更早地从副总做到总裁，与人合谋把总裁黄某撞成重伤
- D. 某企业故意把已经投了财产的厂房纵火烧毁以获得保险金

86. 秩序：混乱：整顿

- A. 环境：污染：提高
- B. 交通：拥堵：疏导
- C. 生活：艰苦：改变
- D. 困难：学习：解决

87. 阳光：明媚

- A. 作家：天才
- B. 科学家：聪明
- C. 农民：淳朴
- D. 清晰：结构

88. () 对于 原则性 相当于 实事求是 对于 ()

- A. 循规蹈矩 客观性
- B. 按部就班 灵活性
- C. 抱残守缺 主观性
- D. 刻舟求剑 随便性

89. 水果：桔子：维生素

- A. 科学：物理学：自然规律
- B. 花卉：牡丹：欣赏
- C. 交通工具：汽车：出行
- D. 衣服：皮夹克：保暖

90. 白衣天使：医生：病人

- A. 人民卫士：警察：罪犯
- B. 钢铁长城：军人：军队

- C. 灵魂工程师：教师：学生
D. 人民公仆：党员：群众
91. 朝三暮四：一如既往
A. 一诺千金：言而有信
B. 雪中送炭：锦上添花
C. 颠沛流离：安居乐业
D. 巧夺天工：鬼斧神工
92. 恒山：五台山：山西
A. 三清山：井冈山：江西
B. 武夷山：武当山：湖北
C. 九华山：齐云山：安徽
D. 普陀山：黄山：浙江
93. () 对于 处分 相当于 见义勇为 对于 ()
A. 开除 刑罚
B. 撤职 刑法
C. 严厉 严重
D. 作弊 表扬
94. 《半月谈》：《人民日报》：《瞭望》：新闻媒体
A. 电视直播：网络直播：网络主播：现场直播
B. 篮球：足球：排球：体育用品
C. 地铁：高铁：动车：交通工具
D. 电脑：书籍：杂志：学习资料
95. 花蕾：花朵
A. 白天：黑夜
B. 胚胎：婴儿
C. 春天：夏天
D. 鸡蛋：小鸡
96. 四位同事对单位年底评优结果进行猜测：
甲：小王努力工作，成绩突出；
乙：小王一定可以评上优秀；
丙：小王可能不能评上优秀；
丁：如果努力工作，成绩突出就一定可以评上优秀。
结果四个人中只有一位同事判断错了，由此不能推出：
A. 小王可能评上优秀
B. 小王一定没有评上优秀
C. 小王一定评上优秀
D. 小王努力工作，成绩突出
97. “不忘初心，方得始终”的意思是只有一直坚持最初的理想，不断努力，才能够最后获得成功，实现目标。
论断必定正确的是：
A. 小李坚持理想，不断努力，但没有成功
B. 小李最后实现目标，因为他一直孜孜不倦地追求自己的理想
C. 小李坚持理想，不断努力，所以最后获得成功
D. 小李没有成功，因为他没有坚持理想和不断努力
98. 江大中学今年的升学率有明显的提高，很多家长认为是因为该中学师资队伍水平高，因此希望自己的小孩也要进入该中学接受优质的教育。
最能反驳上述家长观点的是：
A. 该中学仍然实行的是以应试教育为主，素质教育在该中学没有很好地推广
B. 该中学的教育方法与方式并不先进
C. 该校的各类教育设施很落后
D. 该中学升学率提高是因为该校入学时招收的都是成绩好、素质高的学生
99. 某高校就业处汪处长说：“最近，哲学专业的毕业生到其他专业岗位就业去了。这说明该专业岗位不受欢迎，所以这种专业应该限制招生人数。”
最能削弱汪处长看法的是：
A. 哲学专业的就业岗位本来数量就很少
B. 哲学专业毕业的学生本来就很少
C. 哲学专业毕业的学生综合素质都很高
D. 很多高校没有开设哲学专业

100. 近来有报道称，大多数自来水厂的水质由于使用的漂白物质中都含有亚硝酸类的致癌物质，因此，目前自来水厂对人体会带来严重威胁。

最能质疑上述观点的是：

- A. 大多数自来水厂的水含亚硫酸铵的含量没有超标，不会对人体健康产生明显影响
- B. 有些自来水厂的水亚硝酸胺的含量很低
- C. 自来水厂处理水质过程中不使用漂白物质是不可能的
- D. 自来水厂改变水处理方式可以有效降低亚硝酸胺的含量

101. 目前，大多数水果在生长阶段都会喷洒一些杀虫剂。但是，一些专家建议，我们吃水果时不应该削皮，因为大多数水果的果皮里含有一些对身体非常有益的维生素，而这些维生素在水果果肉里含量很少。

最能反驳专家观点的是：

- A. 水果生长阶段喷洒在果皮上的杀虫剂残留物对人体几乎没有影响
- B. 吸收果皮上杀虫剂残留物的危害太大，超过了吸收果皮中的维生素对身体的益处
- C. 果皮上的残留物很难被洗干净
- D. 果皮中的维生素不能够全部被人体吸收消化

102. 一种金属检测仪在检测到金属做成的考试作弊工具时会亮起红灯警示。制造商称该检测仪器可大大减少考试作弊现象。

不能成为该制造商观点依赖的假设前提是：

- A. 大多数作弊的人都会采取金属做成的作弊工具
- B. 很多人考试时会采取作弊行为
- C. 使用金属检测仪的工作人员能够正确地操作检测仪器
- D. 大多数考场能够配备这种金属检测仪器

103. 现代政治学理论与实践表明，政策的制定越是能够听取民众的意见，符合民众的利益就越能够推行下去，取得良好的效果。

不能支持上述观点的是：

- A. 群众利益无小事，水能载舟亦能覆舟
- B. 不充分吸取民众意见的政策在推行过程中很难得到群众的大力支持，政策执行效果就差
- C. 一些专业性很强的政策决定，民众并不熟悉相关领域，民众的意见往往会阻碍政策的有效推行
- D. 凡是执行效果好的政策很少出现民众的反对意见

104. 一篇好的文章或者因为观点新颖深刻，或者因为论证逻辑清晰，或者因为语言表达生动感人。现在有人认为韩某的文章是一篇好的文章，但是他的文章观点并不新颖深刻。

一定为假的是：

- A. 韩某的文章论证逻辑清晰且语言表达生动感人
- B. 韩某的文章论证逻辑不清晰但语言表达生动感人
- C. 韩某的文章论证逻辑不清晰且语言表达也不生动感人
- D. 韩某的文章论证逻辑清晰但语言表达不生动感人

105. 在一次国际会议上，甲、乙、丙、丁4人相遇，他们分别掌握英语、俄语、德语、汉语四种语言中的两种，其中有3人会英语，但没有一种语言是4人都会的，并且知道：

- (1) 没有人既会汉语又会俄语；
- (2) 甲会汉语，而乙不会，但他们可以用另一种语言交谈；
- (3) 丙不会德语，甲和丁交谈时，需要丙为他们做翻译；
- (4) 乙、丙、丁不会同一种语言。

4人分别会的两种语言是：

- A. 甲会英语和汉语，乙会英语和俄语，丙会英语和德语，丁会俄语和德语
B. 甲会英语和德语，乙会英语和汉语，丙会英语和俄语，丁会俄语和德语
C. 甲会英语和汉语，乙会英语和德语，丙会英语和俄语，丁会俄语和德语
D. 甲会英语和德语，乙会英语和俄语，丙会俄语和德语，丁会英语和汉语

第五部分 - 资料分析

针对下列图、表或文字回答问题。你应根据资料提供的信息进行分析、比较、计算、处理。你可以在题本上运算。

2015年，在监测的我国338个城市中，城市空气质量达标的城市占21.6%，未达标的城市占78.4%。

在监测的321个城市中，城市区域声环境质量好的城市占4.0%，较好的占68.5%，一般的占26.2%，较差的占0.9%，差的占0.3%。

2015年末，城市污水处理厂日处理能力达到13784万立方米，比上年末增长5.3%；城市污水处理率达到91.0%。城市生活垃圾无害处理率达到92.5%，提高0.7个百分点。城市集中供热面积64.2亿平方米，增长5.1%。城市建成区绿地面积189万公顷，增长3.7%；建成区绿地率达到36.3%；人均公园绿地面积13.16平方米，增加0.08平方米。

106. 2014年人均公园绿地面积多少平方米：

- A. 13.1 B. 13.08 C. 13.24 D. 0.08

107. 2015年，在监测的338个城市中，城市空气达标的城市约有多少个？

- A. 106 B. 73 C. 132 D. 8

108. 2015年，在监测的321个城市中，城市区域声环境质量较好以上的城市有多少个？

- A. 13 B. 220 C. 233 D. 268

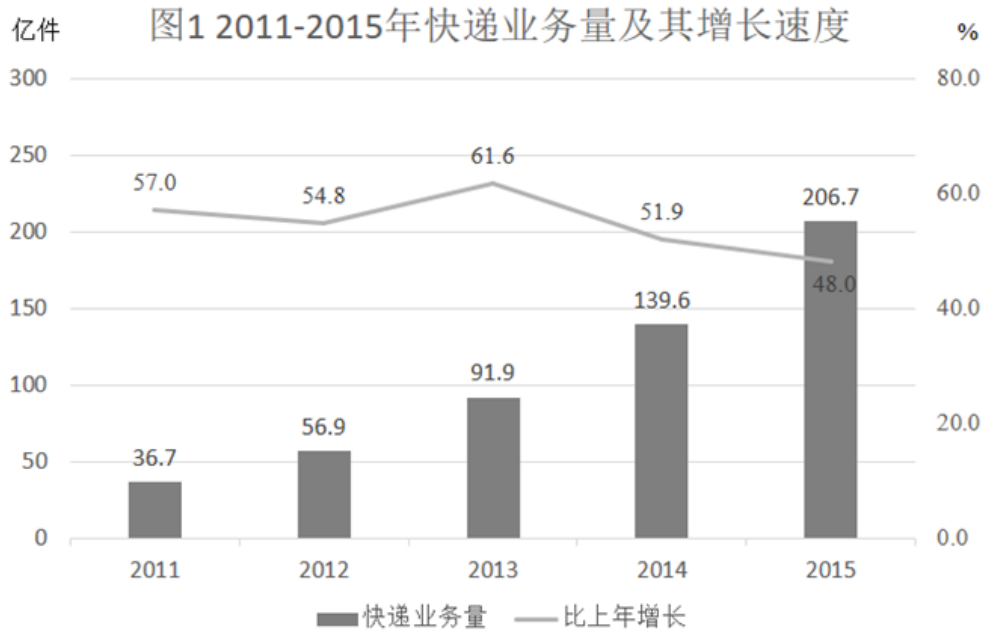
109. 根据上述资料，不能推出的是：

- A. 2015年城市污水处理厂日处理能力比2014年有所提高
B. 2015城市生活垃圾无害化处理能力比2014年稍有提高
C. 2014年城市集中供热面积超过60亿平方米
D. 2015年在监测的321个城市中，城市区域声环境质量差的超过5个

110. 根据上述资料，可以推出：

- ①2014年城市建成区绿地率为32.6%
②2015年城市污水处理率比2014年提高0.8个百分点
③2014年城市生活垃圾无害化处理率高于90%

- A. ① B. ①② C. ②③ D. ③



111. 2012-2015年，哪年相比上一年快递业务增长量最多？

- A. 2013 B. 2012 C. 2014 D. 2015

112. 2015年快递业务量约是2010年的多少倍？

- A. 5.6 B. 5.1 C. 8.3 D. 4.2

113. 下列说法正确的是：

- A. 2012-2015年，每年的快递业务量比上年增长均超出50%
 B. 2013-2015年，快递业务量的年均增产率低于52%
 C. 2011-2015年，年平均快递业务量约为86.4亿件
 D. 2015年的快递业务量比2011年翻了四番以上

114. 2010年的快递业务量是：

- A. 23.4亿件 B. 16.7亿件 C. 18.2亿件 D. 28.5亿件

115. 快递业务量增长幅度最大的是：

- A. 2011年至2012年 B. 2012年至2013年 C. 2013年至2014年 D. 2014年至2015年

表1. 2016年1-8月份东中西部地区房地产开发投资情况

地区	投资额（亿元）		同比增长率（%）	
		住宅		住宅
全国总计	64387	43076	5.4	4.8
东部地区	35915	24188	5.4	3.9
中部地区	14078	9812	10.7	10.7
西部地区	14394	9076	5.9	1.5

表2. 2016年1-8月份东中西部地区房地产开发销售情况

地区	商品房销售面积		商品房销售额	
	绝对数（万平方米）	同比增长率（%）	绝对数（亿元）	同比增长率（%）
全国总计	87451	25.5	66623	38.7
东部地区	42766	27.4	42668	44.7
中部地区	23883	31.7	13249	41.7
西部地区	20802	15.7	10706	16.3

116. 2016年1-8月份，中西部地区房地产开发投资额占全国房地产开发投资额的比重是：
 A. 44.2% B. 55.8% C. 21.9% D. 51.1%
117. 2016年1-8月份，东中西部地区房地产开发投资同比增长最快的地区是：
 A. 东部地区 B. 中部地区 C. 西部地区 D. 无法判断
118. 2016年1-8月份，中部地区的商品房销售额比东部地区少多少亿元？
 A. 14376 B. 50309 C. 63568 D. 29419
119. 2016年1-8月份，全国商品房平均每平方米售价约：
 A. 5300元 B. 6000元 C. 7600元 D. 8200元
120. 根据上面表格，下列说法不正确的是：
 A. 2016年1-8月份，东部地区是全国房地产开发投资额度最大的地区
 B. 2016年1-8月份，东部地区的房地产投资额占总投资额一半以上
 C. 2016年1-8月份，东部地区的商品房每平方米售价最高
 D. 2016年1-8月份，东部地区的商品房销售面积占了一半以上

扫一扫，对答案

