

2016年深圳市公务员录用考试《行测》真题（考生回忆版）

更新时间：2024年12月09日15:20:27

扫描下方二维码下载星光公考APP 刷海量题库掌握最新热点



QQ扫码直接下载
微信扫码到应用市场下载
支持所有机型哦

第一部分 - 常识判断

根据题目要求，在四个选项中选出一个最恰当的答案。

1. 我国目前应对雾霾污染，改善空气质量的重要任务之一是控制PM2.5，PM2.5：

- A. 在空气中含量（浓度）越高，质量越好
- B. 与较粗的大气颗粒物相比，PM2.5粒径小、面积大、活性强，更易附带病毒，有毒物质
- C. 在大气中的滞留时间长，输送距离短
- D. 是指环境空气中空气动力学当量直径小于等于2.5纳米的细颗粒物

2. 《中国共产党纪律处分条例》规定，党员干部违反有关规定从事营利活动，拥有（ ）的股份或者证券，情节较轻的，给予警告或者严重警告处分，情节较重的，给予撤销党内职务或者留党察看处分，情节严重的，给予开除党籍处分。

- A. 股份有限公司
- B. 外资公司
- C. 债券型上市公司
- D. 非上市公司（企业）

3. 人民群众创造历史的活动，要受到一定社会历史条件的制约。制约人民群众创造活动的首要因素是：

- A. 社会政治条件
- B. 社会经济条件
- C. 精神文化条件
- D. 意识形态条件

4. 2015年11月18日习近平在亚太经合组织工商领导人峰会上的主旨演讲中指出，要解决世界经济深层次问题，单纯靠货币刺激政策是不够的，必须下决心在推进经济结构性改革方面作更大努力，使“供给”体系更适应需求结构的变化，关于供给侧结构性改革，表述不正确的是：

- A. 是一种寻求经济增长新动力的新思路
- B. 有利于加速消化过剩产能
- C. 改善人口结构和提高劳动力质量是其路径之一
- D. 其核心是提高供给总量

5. 下列童话故事中，并非出自《安徒生童话》的是：

- A. 《海的女儿》
- B. 《丑小鸭》
- C. 《拇指姑娘》
- D. 《灰姑娘》

6. 每月15日为深圳“公务员志愿者服务日”，身穿（ ）的深圳公务员志愿者在深圳全市主要交通路口、地铁口、公交站等500多个工作点统一开展志愿行动。

- A. “红马甲”
- B. “绿马甲”
- C. “黄马甲”
- D. “蓝马甲”

7. 危害后果是危害行为给刑法所保护的法益所造成的现实侵害事实与现实危险状态，下列关于危害后果说法错误的是：

- A. 小李与人斗殴，将对方打成轻伤，小李事后自首，小李的行为没有造成危害后果
- B. 某顾客携带水果刀进入火车站候车，安检时，水果刀被没收，该旅客的行为没有造成危害后果
- C. 刘某见邻居的汽车很少使用，便私自偷出使用，使用期间勤于保养，汽车不但没有被损坏，而且性能更胜从前，其行为造成了危害后果
- D. 某活禽市场老板故意不配合活禽卫生检疫检查，但未造成疫病传播，该老板的行为没有造成危害后果

8. 货币政策是政府宏观调控最常用的经济手段之一，下列不属于货币政策的是：

- A. 央行在公开市场买进5000亿债券
- B. 政府支出数万亿用于基础设施建设
- C. 央行连续五次降息
- D. 降低存款准备金率

9. 名联“风声雨声读书声声入耳、家事国事天下事事事关心”的作者是：

- A. 朱熹
- B. 顾炎武
- C. 黄宗羲
- D. 顾宪成

10. 国家建立健全突发事件预警制度，危害程度分为一级、二级、三级和四级，其中三级的标示颜色是：

- A. 蓝色
- B. 白色
- C. 红色
- D. 黄色

11. 2015年政府工作报告提出，制定“互联网+”行动计划，推动移动互联网、云计算、大数据、物联网等与现

代制造业结合，促进电子商务，工业互联网和互联网金融健康发展，“互联网+”模式指的是互联网“+”：

- A. 技术变革 B. 传统的各行各业 C. 创新产业 D. 现代服务业

12. “理国要道，在于公平正直”，维护社会公平正义的最后一道防线是：

- A. 立法 B. 执法 C. 司法 D. 道德

13. 人口问题是社会经济发展的重大问题，中国长期以来实施计划生育政策，下列关于我国计划生育政策，说法错误的是（）

- A. 计划生育于1982年被确立为我国的基本国策，并写入宪法
B. 十八届三中全会决定启动实施“单独两孩”政策
C. 自2016年1月1日起，我国实施“全面两孩”政策
D. “全面两孩”政策的落地，标志着计划生育不再列为我国基本国策

14. 根据《党政机关公文格式》（GB/T 9704-2012），下列有关公文编排的说法，不正确的是：

- A. 公文如需标注保密期限，其中数字用阿拉伯数字标注
B. 公文如有多个附件，使用汉字大写数字标注附件顺序号
C. 加盖印章的公文，印章应是红色，不得出现空白印章
D. 公文发文机关标志应居中排布

15. 电子政务在具体内容和运行模式上，包含不同的形式，其中G2E是指：

- A. 政府间的电子政务 B. 政府与公众间的电子政务
C. 政府与商业机构间的电子政务 D. 政府与其所属的工作人员间的电子政务

16. 决议适用于重大事项的决策，其适用的前提是：

- A. 经领导批示 B. 经会议讨论通过
C. 确属政治经济发展重大事项 D. 所有相关部门协商一致

17. 下列关于深圳市行政执法类公务员职级的说法，不正确的是（）

- A. 各职级间不存在上下级隶属关系
B. 各职级执法员均按规定实行任职条件和职数管理
C. 根据职位特点和管理需要，市公务员主管部门可在部分职组、职系的七级执法员之下增设助理执法员职级
D. 职级划分的依据为任职条件，年功和工作业绩要求

18. 根据《中华人民共和国公务员法》的规定，公务员交流的范围不包括：

- A. 国有企业事业单位 B. 人民团体 C. 群众团体 D. 集体企业

19. 位于深圳的亚洲第一大地下火车站是：

- A. 深圳北站 B. 深圳站 C. 深圳福田站 D. 深圳西站

20. 实行薪级工资制度的深圳市聘任制公务员，其试用期工资按照入职薪级工资标准的（）执行

- A. 70% B. 80% C. 90% D. 100%

第二部分 - 言语理解与表达

本部分包括表达与理解两方面的内容。请根据题目要求，在四个选项中选出一个最恰当的答案。

21. 这几家百货公司不仅是美国零售领域的佼佼者，其电商业务也做得_____，然而，在中国，这种线上线下通吃的情形却不存在。中国的电子商务企业和传统零售企业之间隔着一座天堑——一个难落地，一个难上网。填入划横线部分最恰当的一项是：

- A. 声势浩大 B. 有声有色 C. 声势汹汹 D. 绘声绘色

22. 我国每年因为泥石流和滑坡损失达数十亿元，特别是公路和铁路附近的泥石流和滑坡。每年造成几百乃至上

千人伤亡，损坏农田、铁路和公路等设施，造成严重的后果，而这一问题与路边、山坡的设备损坏有直接关系。“_____”，我们应该避免哪怕是很小的破坏行为，同时提倡植树种草，护路护坡，美化我们的生存空间。下列选项哪项与空缺处语意不相符？

- A. 有备无患 B. 祸患常积于忽微 C. 防微杜渐 D. 千里之堤，溃于蚁穴

23. ①湖南省曲艺家协会创办“笑工场”，协会主席大兵_____，要将“笑工厂”打造成湖南的“德云社”。

②某表演团体演出时曾一度因观众太少，收入不够支付场租而不得不靠曲协支持_____难关。

③记者的不负责还是给这位著名的运动员原本就遭人_____的性格雪上加霜。

依次填入横线上的词语，最恰当的一组是：

- A. 志得意满 度过 唾弃 B. 志得意满 渡过 诟病
C. 踌躇满志 渡过 诟病 D. 踌躇满志 度过 唾弃

24. ①当春到来时，百花盛开，各自争相斗艳，一片繁荣。当夏到来时，满池荷花，蝉鸣伴奏，_____。

②凶猛的网络经济_____着传统媒体，差不多已经击垮了传统书店。

依次填入横线上的词语，最恰当的一项是：

- A. 其乐融融 蚕食 B. 熙熙攘攘 蚕食 C. 其乐融融 吞食 D. 熙熙攘攘 吞食

25. 没有中国共产党的助力，没有中国共产党的加入做中国人民的_____，中国的独立和解放是不可能有的，中国工业化和农业现代化也是不可能的。

填入画横线处最恰当的一项是：

- A. 中流砥柱 B. 击楫中流 C. 击钟陈鼎 D. 尾生抱柱

26. ①善心、诚心和恒心——刘真茂感动、感染和_____着当地几十个村庄的村民积极投入到爱林护林行列中来，形成了强大的群防群护力量。

②影视创作不接地气儿，故事就是无源之水，无法_____出精彩。

③在一周时间里，习主席密集开展多边活动，广泛接触各界人士，生动_____了我国是负责任的大国形象。

依次填入横线上的词语，最恰当的一组是：

- A. 感化 诠释 演绎 B. 感召 演绎 诠释
C. 感化 演绎 诠释 D. 感召 诠释 演绎

27. ①在学习、工作中，人总会碰到这样和那样的问题，碰到问题多向人请教，这样才会有进步，俗话说的好，_____。

②我们对秦陵开展现代意义上的考古已有四十多年，多次震惊中外考古大发现只是_____，大量珍宝还深藏地下。

依次填入横线上的词语，最恰当的一组是：

- A. 众人拾柴火焰高 凤毛麟角 B. 一个好汉三个帮 冰山一角
C. 众人拾柴火焰高 冰山一角 D. 一个好汉三个帮 凤毛麟角

28. 这些文字巨匠_____了古典主义，现实主义、人文主义等众多派别，他们的作品很直观反映了由艺术复兴，工业革命所带来的法国文化的辉煌，也淋漓尽致地_____了社会的现实状况。

依次填入横线上的词语，最恰当的一组是：

- A. 包涵 映射 B. 涵盖 映射 C. 包涵 折射 D. 涵盖 折射

29. 丰子恺的漫画_____有人情冷暖，_____与欲爱无缘，笔下人物_____年龄大小均似有淳朴童心，_____排斥基于欲望的伦理，_____反对过分抒情对日常生活的撕裂。

依次填入横线上的词语，最恰当的一组是：

- A. 虽 却 无论 既 亦
B. 虽 却 不管 甚至 且

- C. 不仅 而且 不管 甚至 且
D. 即使 也 不论 既 亦

30. ①央视优秀主持人不在少数，但是几十年如一日受到观众喜爱，尤其是受到孩子_____的并不多，鞠萍姐姐算是最成功的一位。

②“9.11事件”发生后，因快速有力的反应，时任纽约市长的朱利安尼得到了市民的一致好评，其强势作风顿时_____称赞。

③杨丽萍深入人迹罕至的蛮荒野岭，竭尽心力_____民间最本真的歌舞精神，与现代舞有机融合，编导出原生态舞剧《云南映象》。

依次填入横线上的词语，最恰当的一项是：

- A. 追随 倍受 撷取
B. 追捧 备受 采摘
C. 追随 倍受 采摘
D. 追捧 备受 撷取

31. 下面选项中，没有语病的一项是：

- A. 菲律宾航空部门官员2月28日称，该国一小型飞机上的飞机驾驶员因心脏病发作猝死后，依靠无线电指挥成功地将飞机进行了迫降
B. 二氧化碳排放增多，不仅会引发温室效应，还威胁到地球生命的源头——海洋
C. 他发愤苦读，用三年时间就学完了大学所有课程
D. 60年代初，在黄河源头的鄂陵湖，第一次发现了世界各地已经灭绝了的动物——黑颈鹤

32. 下列选项中，有语病的一项是：

- A. 古埃及文字和巴比伦楔形文字虽然比汉字来源可能更远，但早在纪元前就已经不再通行，而汉字延续至今仍然是正式通行的记录汉语的书写符号
B. 掌柜是副凶脸孔，主顾也没有好气色，教人活泼不得，只是孔乙己到店，可以笑几声，所以至今还记得
C. 网络在现代教育发展中扮演着重要的角色，它使教育信息能快速传递，保证整体招生计划能顺利快速科学地前行
D. CNN发出警告说：随着其他国家同龄人学习成绩与毕业率的提高，美国教育在世界上的地位正在下滑

33. 下面选项中，没有语病的一项是：

- A. 在干净整洁的火车车厢里，响起了列车员亲切的广播，我听到一些国际花园城市，真是太美了
B. 改革开放是一项长期的、艰巨的、繁重的事业，必须一代又一代人接力干下去
C. 统计数据显示，国庆黄金周期间，有大约超过10万人次参观了北京天安门
D. 这次世界跳水锦标赛上，我国健儿在此囊括了15枚金牌中的14枚，为祖国争得了荣誉

34. 下列选项中，有语病的一项是：

- A. 男同学能够意识到塑造体形，是一件不容易的事情
B. 不少初中生的素描能力甚至达不到小学毕业生应达到的水平
C. 当学生了解了美是什么，就会以美的标准规范自己的行为 and 思想
D. 有的家长让孩子学习艺术，其目的在于使孩子成为特长生或多学几门生存的技能

35. 下面选项中，没有语病的一项是：

- A. 经过仔细观察，我发现美国人称得上是爱书，但是他们的藏书观却跟我们大相径庭
B. 大约6岁左右的那一年，外祖父从天而降，于是凭空多出一个爱我的外祖父，宛如神迹
C. 我外祖父也在大西北度过了失意的30年光阴
D. 当然，这部小说已经尽力呈现出小人物在大时代的挟持之下如飘蓬般转徙

36. 下面选项中，没有语病的一项是：

- A. 由于古木雕版年画蕴含着丰富的内涵，雕刻手法精细严谨，所以至今已属凤毛麟角

- B. 在此之前的老年画，即使出处上佳，也难说升值潜力就超过不了清中晚期作品
- C. 近年来木板年画在京沪拍场经常出现，每张价位500元-3000元上下
- D. 此外，模板底本是否存在，是否能够再印，也是衡量木板年画价格的因素

37. 下面选项中，没有语病的一项是：

- A. 刚刚过去的2015年，中国文化可谓繁花似锦，享受到了前所未有的文化盛宴
- B. 为了让人们关注、探讨艺术人才的培养问题，我们特意采访了一些艺术专家，请他们畅谈了看法
- C. 中央戏剧学院院长徐晓钟指出，中央戏剧学院从建院以来，为我们国家的戏剧、电影、艺术事业培养了一大批人才
- D. 2015年，实体书店渐渐回暖，亚马逊这家曾经给予实体书店沉重打击的网络书店宣布要开设1000家实体店，而首家第一个书店已经开业

38. 下列选项中，语病与其他三项语病不同的是：

- A. 学校通过并研发了新的规章制度
- B. 校党委讨论了发动全校师生开展爱国卫生运动
- C. 通过学习雷锋的感人事迹，使我明白了许多做人的道理
- D. 看到他的照片，我便想起了当年我们玩耍、同桌共读

39. 在下面几个句子组成语意连贯的一段文字，排序正确的是。

- (1) 也许是由于过度近视，他的眼光有时很模糊；讲话的调子有点像唱歌
- (2) 他的头很小却很漂亮，乌木色的浓密卷发从头上一直披到肩上，和卷曲的胡须连成一片
- (3) 他举止活跃，手势生动，具有一切南方人的特征
- (4) 他习惯用手捋着自己的胡子尖，他的眼睛像切开的长缝，眯缝着，却从中射出一道墨一样的黑光
- A. 1-3-2-4 B. 2-4-1-3 C. 2-1-4-3 D. 1-2-4-3

40. 下面几个句子组成语意连贯的一段文字，排序正确的一项是：

- (1) 走到崎岖的境界，愈是奇趣横生，觉得在此奇绝壮绝的境界，愈能感到一种冒险的美趣
- (2) 老于旅途的人，走到平坦的地方，固是高高兴兴地向前走
- (3) 旅途上的征人所经过的地方
- (4) 有时是坦荡平原，有时是崎岖险路
- (5) 人类在历史上的生活正如旅行一样
- A. 5-2-1-3-4 B. 5-3-4-2-1 C. 3-4-2-1-5 D. 2-1-3-4-5

41. 沙尘暴是一种风与沙相互作用的灾害性天气现象，它的形成与地球温室效应、厄尔尼诺现象、森林锐减、植被破坏、物种灭绝、气候异常等因素有着不可分割的关系。其中，人口膨胀导致的过度开发自然资源、过量砍伐森林、过度开垦土地是沙尘暴频发的主要原因。沙尘暴作为一种高强度风沙灾害，并不是所有有风的地方都能发生，只有那些气候干旱、植被稀疏的地区，才有可能发生沙尘暴，裸露的土地表层浮土很容易被大风暴卷起形成沙尘暴甚至强沙尘暴，沙尘暴对人畜和建筑的危害绝不亚于台风和龙卷风，近年来，我国西北乃至东北地区都有沙尘暴的出现，尤以西北地区最为厉害，目前已遭沙尘暴肆虐20多次。

下列几种说法，与原文意思不一致的一项是：

- A. 沙尘暴的形成与多种自然和人为因素密不可分
- B. 人类的过度砍伐树木是沙尘暴发生的主要原因之一
- C. 沙尘暴是高强度风沙灾害，对人畜和建筑的危害已高于台风和龙卷风
- D. 近年来，西北地区多次遭遇沙尘暴，饱受荼毒

42. 人有休息的需要，动物也有打盹的时候，很多人往往一看到动物休息就不悦，只希望动物随时给自己展现身姿、表演动作，也不管人家是否疲倦，这是将自己的快乐建筑在别人的痛苦之上的非礼行为。有人以为喂喂动物表示一下爱心总可以吧，错了！随便投喂只会给动物带来伤害。人工饲养的动物往往运动量小，进食过多或

摄入高脂肪、高糖度的食物会使其身体发胖，从而影响体质和营养均衡，甚至影响正常繁殖。随意投喂，还容易传染疾病。因而，接近动物时，请文明观赏或拍照，让人与动物相互都留下美好的印象。

根据原文，不能推出的是：

- A. 人们不应一味的强求动物随时保持充足的精力
- B. 人们应该懂得爱护动物，在注意膳食结构的基础上多多投喂
- C. 人工饲养的动物要做到膳食平衡，否则有可能会影响繁殖
- D. 不注意卫生随意投喂动物易导致动物得病

43. 想一想肥沃土地的来历，你会不由得涌起一种遥接万代的感情。我们居住的这个世界在最古老时代原是一个寂寞的大石球，没有一层土壤。经过了多少亿万年，太阳风雨的力量，原始生物的尸骸，才给地球造成了一层层土壤，每经历千年万年，土壤才增加薄薄的一层。想一想我们那土壤厚达五十米的华北黄土高原吧！那该是大自然在多长的时间里的杰作！

下列选项，对原文理解有误的一项是：

- A. 肥沃土地的形成历时久远，不得不让人惊叹
- B. 华北黄土高原的土壤达五十米真是大自然的杰作
- C. 凭借太阳风雨的力量再加上原始生物的尸骸，经过了多少亿万年，才给地球造成了一层层土壤
- D. 我们居住的这个世界在最古老时代原是一个罕有生命迹象的寂寞的大石球

44. 英国科学家研制出了一种专门清除太空垃圾的人造卫星，这就是我们所说的太空“清洁工”，它可以帮助解决太空垃圾这个令人头疼的问题，太空“清洁工”的质量只有6千克，制造和发射的全部费用不到100万美元。别看它个儿不大，本领可不小。它装有4台摄像机，用于搜索上下、左右、前后的情况。一看到太空垃圾，它就立刻靠近过去，然后紧紧抓住那个“捣蛋鬼”，接着迫使太空垃圾和自己一起减慢飞行速度，在重力的作用下降低高度，一旦进入稠密的大气层，剧烈的大气摩擦而产生的高温就会将它们一同烧毁。从地面上看，就像天空坠落的流星一样，假如垃圾的体积太大，来不及在大气中完全烧毁，“清洁工”还能控制降落时间，让它的残骸掉到沙漠或海洋中，既不再威胁空中的航天器，也不会给地上的人们带来麻烦。

对上述材料理解有误的一项是：

- A. 这段材料的主要内容是说明太空“清洁工”的特点及其用途
- B. 太空“清洁工”依靠其自身设备的摄像机多方位搜索太空垃圾
- C. 太空“清洁工”在和太空垃圾一起烧毁的过程中还能控制下落时间
- D. 太空“清洁工”的质量轻，成本低，因此能和太空垃圾进入稠密的大气层一同烧毁

45. 历史上有许多仁人志士在与挫折的斗争中做出了不平凡的业绩。司马迁在遭受宫刑之后，发愤著书，写出了被鲁迅誉为“史家之绝唱，无韵之离骚”的名著《史记》。音乐家贝多芬，一生遭遇的挫折是难以形容的。他十七岁失去母亲，三十二岁耳聋，接着又陷入了失恋的痛苦中。对一个音乐家来说，这打击是多么的大啊！可贝多芬不消沉、不气馁，他在一封信中写道：“我要扼住命运的咽喉，它妄想使我屈服，这绝对办不到。”他始终顽强地生活，艰难地创作，成为世界不朽的音乐家。

这段话主要支持了这样一种观点，是：

- A. 只有经历挫折才能成就不平凡的业绩
- B. 仁人志士扼住了命运的喉咙，所以成功了
- C. 挫折虽给人带来了痛苦，但它往往可以磨练人的意志
- D. 历史长河中，大批伟大人物坚持与磨难斗争并成就非凡

46. 钛合金强度大，质量轻，耐热性能好，适用于船只、汽车、航空航天工业，被人们视为未来材料。新型波音777客机采用了约9%的钛合金材料。然而，钛合金的加工难度极大，如加工一个钛合金船用涡轮压缩机轮需要50个小时，而加工一个铝合金的同样部件仅需5个小时。德国布伦瑞克大学的科学家采用了一种专门热处理方法，将氢原子渗入材料，掺氢的钛合金相对软化。对软化的钛合金进行切削加工，加工设备所承受的机械和热负载明显降低，切削力仅需过去50%，大大降低了加工成本。加工完毕后，再经专门的热处理工序，材料的特性

则回到原先状态。科学家称，该方法非常适用于大批量的钛合金铸件加工。

对这段文字的主要内容概括最为准确的是：

- A. 钛合金被视为未来材料，但加工难度大，德国科学家采用专门热处理方法非常适用于大批量的钛合金铸件加工
- B. 钛合金被视为未来材料，德国科学家采用专门热处理方法降低其加工难度及成本
- C. 钛合金加工难度大，德国科学家采用专门热处理方法降低其加工难度
- D. 钛合金被视为未来材料，但加工难度极大，德国科学家采用专门热处理方法降低其加工难度及成本

47. 中国美学不以认识外在美德知识为重心，而强调返归内心，由对知识的荡涤，进而体验万物，适于天地，融自我和万物为一体，从而让人获得灵魂的适意。中国美学是一种生命安顿之举。

下列表述不符合原文意思的一项是：

- A. 中国美学强调返归内心，不主张认识外在美
- B. 把自我和万物融为一体是中国美学的必经之途
- C. 中国美学能让人获得灵魂的适意
- D. 中国美学是一种生命安顿之举，重视生命的体验

48. 按照达尔文的物竞天择理论，“鸟男们”如此特殊的歌舞只有一个解释——取悦雌性。因为澳大利亚的这片丛林，是个“男多女少”的卖方市场，琴鸟姑娘每年仅产卵一枚，受荷尔蒙困扰的小伙子们竞争格外激烈。这一学说得到了科学的印证。科学家研究了从38000只日本鹌鹑身上提取的大脑样本，然后将其分别放在光线下接受时间长短不一的照射。他们发现，当春天来临时，鸟儿就开始唱歌是因为春天日照时间比冬天长，在鸟类特殊的大脑细胞与阳光的共同作用下，其体内便开始分泌荷尔蒙。它们用唱歌来吸引异性。然而，这只是众多解释之一。另一种令人信服的理论指出，鸟儿歌唱是为保卫自己的领地。

上述文段中“这只是众多解释之一”中“这”指的是：

- A. 用唱歌来吸引异性
- B. “鸟男们”受到荷尔蒙困扰
- C. 春天日照影响鸟类行动
- D. 物竞天择理论

49. 任侠精神之所以能够成为唐代突出的文学现象，是因为当时的社会生活为它提供了深厚的土壤。社会上盛行的任侠风气，一旦和特定时期的历史需要、社会思潮相结合，就形成强大的精神力量，从而影响了人们的生活理想和文学理想。商业资财的积累和城市规模的扩大，为任侠的活动提供了物质基础；北方游牧民族的大规模内附和迁徙，不仅给中华文化注入了新鲜的血液，而且也使其雄杰剽悍的风尚深入内地。但是，盛唐的诗人们之所以不约而同地从任侠风气中吸取诗情，其根本原因在于它提供了这个时代所需要的精神力量。它所体现出的，是一种力的美，运动的美，是构成唐诗永久魅力的奥秘之一。

任侠精神能够成为唐代突出的文学现象，其原因不包括：

- A. 盛行的任侠风气提供了深厚的土壤
- B. 商业资财的积累和城市规模的扩大提供了物质基础
- C. 北方游牧民族的大规模内地迁徙注入了新鲜的血液
- D. 任侠精神是构成唐诗永久魅力的奥秘之一

50. 美国一家叫奥星翁的小公司30日宣布推出两款低能耗的微型超级计算机，运算速度可达每秒3000亿次，硬盘储量为9.6万亿字节，据该公司介绍，他们推出的两款微型超级计算机中，一款采用12枚低能耗“全美达”芯片，另一款则采用96枚低能耗“全美达”芯片，后者常规运算速度为每秒1500亿次，峰值运算速度达3000亿次。目前个人电脑的运算速度在每秒20亿至30亿次之间，而超级计算机的运算速度则以万亿次计算，因此奥里翁公司指出该公司的微型超级计算机可以填补中间的空缺，其销售对象主要为科研部门、设计事务所和其他需要高性能电脑的公司。

下列有关“微型超级计算机”的说法，与原文意思有差异的一项是：

- A. 微型超级计算机的运算速度在每秒千亿次范围内
- B. 微型超级计算机适用于科研部门、设计事务所和其他需要高性能电脑的公司

- A. 72 B. 96 C. 112 D. 132

63. 两箱同样多的蛋黄派分别分发给两队志愿者做早餐，分给甲队每人6块缺8块，分给乙队每人7块剩6块，已知甲队比乙队多6人，则1箱蛋黄派有（ ）块。

- A. 120 B. 160 C. 180 D. 240

64. 某研究小组中一部分人在野外采集数据并实时传回实验室由另一部分人进行分析，据经验表明，在A处每人每天平均能采集到20条数据，其中40%为有效数据。在B处每人每天平均能采集到40条数据，其中25%为有效数据，实验室人员必须对每条数据逐个甄别以筛选出有效数据，实验室里的实验人员每人每天可以甄别100条数据，该研究小组共有16人，为使最终筛选出的有效数据最多，应该分别在A处、B处、实验室安排（ ）人。

- A. 8、4、4 B. 10、3、3 C. 2、10、4 D. 4、8、4

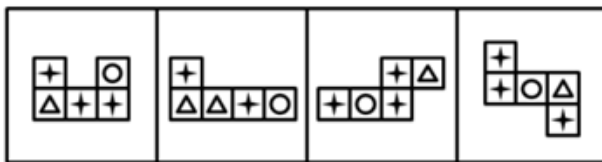
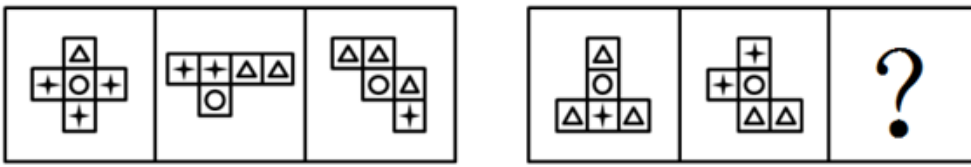
65. 两根同样长的木炭，燃烧完一根粗的木炭需要2小时，燃烧完一根细的木炭需要1小时。现同时点燃这两根木炭，若干分钟后将两根木炭同时熄灭，发现粗木炭的剩余长度是细木炭的剩余长度的2倍，则燃烧了（ ）分钟。

- A. 35 B. 40 C. 45 D. 50

第四部分 - 判断推理

本部分包括图形推理、定义判断、类比推理与逻辑判断四种类型的试题，请按每道题的答题要求作答。

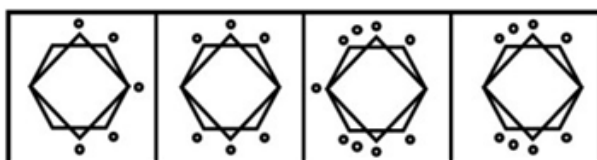
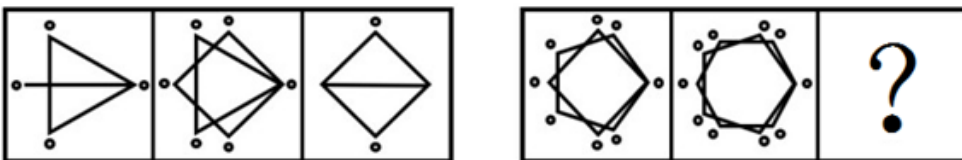
66. 从所给四个选项中，选择最合适的一个填入问号处，使之呈现一定规律性：【2016深圳066】



- A B C D

- A. 如图所示 B. 如图所示 C. 如图所示 D. 如图所示

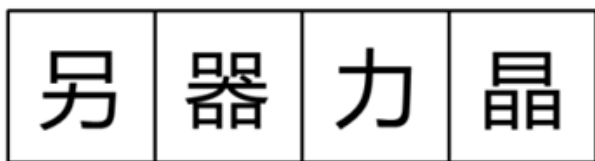
67. 从所给四个选项中，选择最合适的一个填入问号处，使之呈现一定规律性：【2016深圳067】



- A B C D

- A. 如图所示 B. 如图所示 C. 如图所示 D. 如图所示

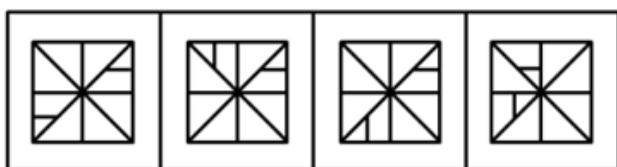
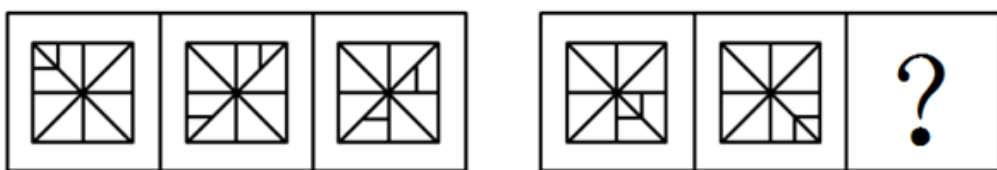
68. 从所给四个选项中，选择最合适的一个填入问号处，使之呈现一定规律性：【2016深圳068】



A B C D

A. 如图所示 B. 如图所示 C. 如图所示 D. 如图所示

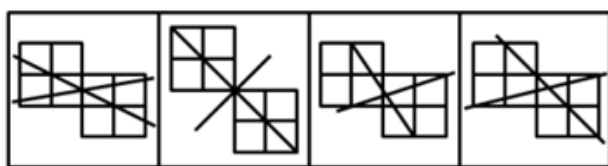
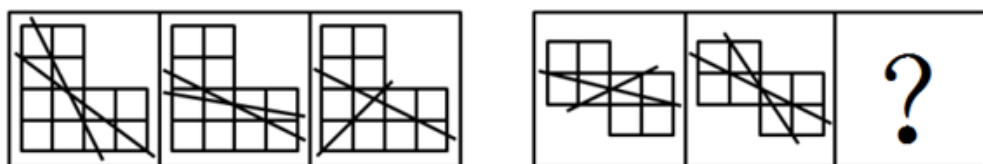
69. 从所给四个选项中，选择最合适的一个填入问号处，使之呈现一定规律性：【2016深圳069】



A B C D

A. 如图所示 B. 如图所示 C. 如图所示 D. 如图所示

70. 从所给四个选项中，选择最合适的一个填入问号处，使之呈现一定规律性：【2016深圳070】



A B C D

A. 如图所示 B. 如图所示 C. 如图所示 D. 如图所示

71. (1) 提高健康素质
 (2) 改善人类生活质量
 (3) 取得基因组研究突破
 (4) 加入人类基因组计划
 (5) 完成承担的科研计划

A. 4-1-2-3-5 B. 5-3-4-2-1 C. 4-5-3-1-2 D. 5-4-2-3-1

72. (1) 得到有效控制

- (2) 掌握病的流行规律和特点
(3) 某传染病流行
(4) 开发接种疫苗
(5) 大规模调研和防治实践
- A. 5-3-1-4-2 B. 3-2-5-4-1 C. 3-5-2-4-1 D. 5-4-3-2-1

73. (1) 日本人质遭斩首
(2) 国际社会同声谴责
(3) 民众在首相官邸外示威
(4) 表态确保海内外日本人安全
(5) 借机推动海外派兵
- A. 1-3-2-4-5 B. 1-4-2-3-5 C. 3-4-2-5-1 D. 4-5-3-2-1

74. (1) 夏朝灭亡
(2) 商鞅变法
(3) 统一六国
(4) 周公吐哺
(5) 卧薪尝胆
- A. 4-1-5-2-3 B. 4-1-2-3-5 C. 1-4-2-5-3 D. 1-4-5-2-3

75. (1) 尽职工作
(2) 受到表彰
(3) 支援西部
(4) 大学毕业
(5) 开发创新
- A. 4-1-3-5-2 B. 3-4-5-1-2 C. 4-3-1-5-2 D. 3-4-5-2-1

76. 牛奶的包装盒设计成方形，是因为方形比圆形的包装盒更节约储存牛奶所需的冷藏空间，这样一个冷藏柜中可以摆放更多的牛奶，可乐的瓶子设计成圆形是因为该形状更容易随手拿取和携带。

如果以上的观点是正确的，那么必须以下列（）为前提：

- A. 储存牛奶的冷藏空间比储存可乐的空间小 B. 可乐不需要冷藏而牛奶需要
C. 产品的包装设计以实用为主要目的 D. 人们无法接受圆形的牛奶盒和方形的可乐瓶

77. 有苹果、草莓、香蕉、桔子四种水果，甲、乙、丙、丁四个人每人领一种，

甲：“我领到了苹果”，

乙：“我领到了桔子”，

丙说：“甲说谎，他领到了香蕉”，

丁：“我领到了草莓”。

如果只有两个人说的是真话，则一定可以推出的是：

- A. 乙领到的是桔子 B. 丁领到的是草莓 C. 丙领到的不是香蕉 D. 甲领到的不是苹果

78. “惯性思维”是由先前的活动而造成的一种对活动的特殊的心理准备状态或者倾斜性，表现为这样解决了一个问题，下次遇到类似的问题或表面看起来相同的问题，不由自主地还是沿着上次思考的方式或次序去解决。

以下选项中最不能推出的一项是：

- A. 在情境不变时，惯性思维有利于迅速解决问题
B. 在情境不变时，惯性思维有利于新方法的产生
C. 惯性思维可能是束缚创造性思维的枷锁
D. 惯性思维一定程度上是产生创造性思维的根源

79. 一池塘边竖着一块“牌子”，“池塘水有剧毒，下水即死。否则，不承担医药费”，以下（ ）与题干犯的是同样的逻辑错误：

- A. 妈妈对小孩说：“我很爱你，你决定做任何事，我都会支持你，但是你必须按我说的做！”
- B. 老师说：“这位同学的想法是否正确，我们还不好下结论，否则，对他不公平。”
- C. 老师要批评一批同学，也要表扬一批同学，要爱憎分明。
- D. 文化大革命有其正确的地方，也有其不正确的地方，我们要一分为二地评论。

80. 以下（ ）前项不是后项的充分条件：

- A. 无规矩不成方圆
- B. 人若犯我，我必犯人
- C. 人心齐，泰山移
- D. 招手即停

81. 煤炭采掘业发言人提出建议：为了维持国产煤炭的价格，必须限制较便宜的国外煤炭的进口，否则，我国的煤炭采掘业将难以经营。有色金属冶炼业发言人对上述建议的回应：我国有色金属冶炼业购买的煤炭75%都是国产的。如果煤炭的价格不是按国际价格支付，那么，由于成本的提高，国产的有色金属就会卖不出去，这样对国产煤炭的需求就会下跌。

以下（ ）是对有色金属冶炼业发言人的论证最恰当的评价：

- A. 该论证无的放矢，和煤炭采掘业发言人的建议无关
- B. 该论证是循环论证，它预先假设了为了评论煤炭采掘业发言人的建议而需要证明的东西
- C. 该论证说明煤炭采掘业发言人的建议如果实施的话将会对其自身产生负面影响
- D. 该论证没有给出理由说明为什么上述建议的实施并不能减轻煤炭采掘业难以经营的担心

82. 当前人们越来越热爱旅游，许多游客会到一些著名的城市旅游。常常有这样一种现象：在前往游览风景名胜的路上，导游小姐总会在几个工艺品加工厂前停车，劝大家去厂里参观，说产品便宜，而且买不买都没有关系。为此，一些游客常有怨言，但此种行为仍在继续，甚至一年胜似一年。

以下最不可能成为造成上述现象原因的是：

- A. 虽然有的人不满意，但许多游客是愿意的，他们从厂里出来时的笑容就是证据
- B. 绝大多数游客经济上都是富裕的，他们只想省时间，不在意商品的价格
- C. 有些游客来旅游的一项重要任务就是购物，若是空手回家，家里人会不高兴的
- D. 厂家产品直销，质量有保证，价格也确实便宜，何乐而不为

83. 在超市里有四个存物柜，打开柜子后发现，

第一个柜子里写着：“所有的柜子里都装着购物袋”；

第二个柜子里写着：“本柜子里有购物礼品”；

第三个柜子里写着：“本柜子里没有食品”；

第四个柜子里写着：“有些柜子里没有购物袋”。

如果只有一个柜子里的描述是真实的，以下肯定为真的是：

- A. 所有的柜子里都有购物袋
- B. 所有的柜子里都没有购物袋
- C. 所有的柜子里都没有购物礼品
- D. 第三个柜子里有食品

84. 小张对小李说：“红色象征着热情，我一看到红色就热血沸腾。”小李于是书写了红色两个字，对小张说：“你觉得热血沸腾吗？”

以下句子的逻辑表述方法与所给题干一致的是：

- A. 小张对小李说：“海水咸吗？要不，你去尝尝那两个字，看看有咸味不？”
- B. 小张对小李说：“你的朋友真是个好人啊，你看，长得就非常漂亮”
- C. 小张对小李说：“一年四季都有花盛开，花就像美女一样，人人爱看”
- D. 小张对小李说：“这个人真麻烦，一点麻烦都解决不了”

85. 三段论推理是演绎推理中的一种简单推理判断，它包含：一个一般性的原则（大前提），一个附属于前面大前提的特殊化陈述（小前提），以及由此引申出的特殊化陈述符合一般性原则的结论。

根据以上定义，下列推理过程正确的是：

- A. 骄兵必败，我们胜利，所以我们不是骄兵
- B. 勇者无畏，我无畏，所以我是勇者
- C. 英雄难过美人关，我是英雄，所以我难过美人关
- D. 狭路相逢勇者胜，我们胜利，所以勇者胜

第五部分 - 资料分析

针对下列图、表或文字回答问题。你应根据资料提供的信息进行分析、比较、计算、处理。你可以在题本上运算。

根据《国务院关于开展第三次全国经济普查的通知》（国发[2012]60号）要求，我国进行了第三次全国经济普查，这次普查的标准时点为2013年12月31日，普查时期资料为2013年年度资料，普查对象是在我国境内从事第二产业和第三产业的全部法人单位，产业活动单位和有证照个体经营户，相关调查显示，2013年末，全国共有从事第二产业和第三产业的法人单位1085.7万个，比2008年末（2008年是第二次全国经济普查年份，下同）增加375.8万个，产业活动单位1303.5万个，增加417.1万个，有证照个体经营户3279.1万个，增加405.4万个。

从行业角度看，2013年末，在第二产业和第三产业的法人单位中，位居前三位的行业是：批发和零售业281.1万个，占25.9%；制造业225.3万个，占20.7%，公共管理社会保障和社会组织152万个，占14%。在第二产业和第三产业的有证照个体经营户中，位居前三位的行业是：批发和零售业1642.7万个，交通运输仓储和邮政业878.6万个，住宿和餐饮业240.8万个。

从单位性质看，2013年末，在第二产业和第三产业的法人单位中，企业法人单位占75.6%，比2008年末提高了5.7个百分点；机关事业法人单位占9.6%，比2008年末下降了3.9个百分点；社会团体和其他法人占14.8%，比2008年末下降了1.8个百分点。

从登记注册类型看，2013年末，在第二产业和第三产业企业法人单位中，内资企业法人、外商投资企业法人和港澳台商投资企业法人分别为800.6万个、10.6万个和9.7万个。在内资企业法人中，国有企业法人占全部企业法人单位的1.4%，私营企业法人占全部企业法人单位的68.3%。

86. 2008年末，列入上述资料所示的普查对象的数量合计为：

- A. 4072.1万
- B. 4845.8万
- C. 4470.0万
- D. 5262.9万

87. 2013年末，在第二产业和第三产业的有证照个体经营户中，批发和零售业、交通运输、仓储和邮政业，住宿和餐饮业三者合计所占的比重约为：

- A. 50.1%
- B. 26.8%
- C. 67.3%
- D. 84.2%

88. 与第二次全国经济普查时相比，第三次经济普查时，下列普查对象数量增长最快的是：

- A. 第二产业和第三产业法人单位数
- B. 第二产业和第三产业有证照个体经营户数
- C. 第二产业和第三产业企业法人单位数
- D. 第二产业和第三产业活动单位数

89. 下列法人单位中，数量最多的是：

- A. 2013年末，港、澳、台商投资企业法人单位数
- B. 2013年末，外商投资企业法人单位数
- C. 2013年末，国有企业法人单位数
- D. 2008年末与2013年末间，社会团体和其他法人单位增加数

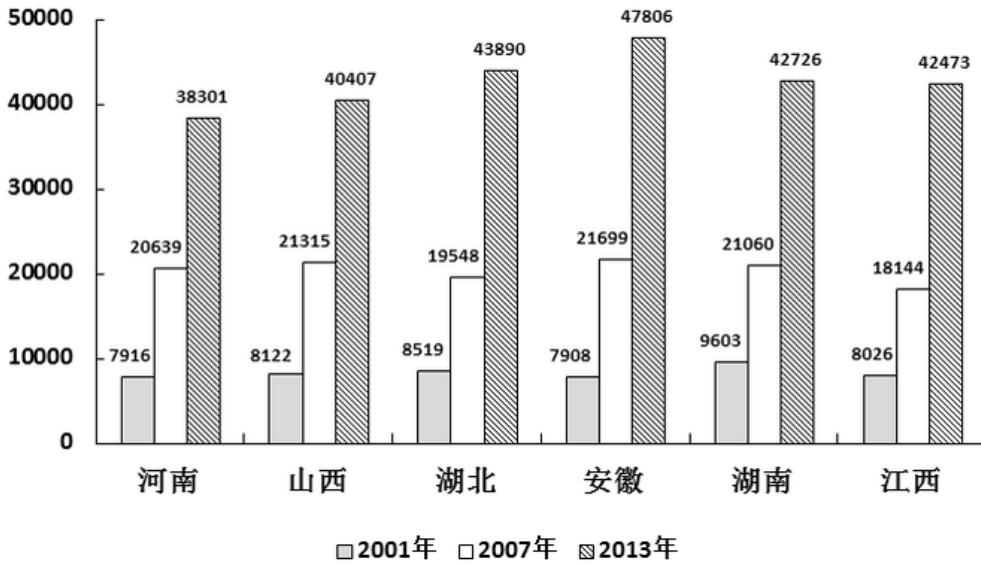
90. 根据上述资料，下列说法错误的是：

- A. 2013年末，第二产业和第三产业法人单位中，批发和零售业单位数比制造业多约24.8%
- B. 与2008年相比，2013年第二产业和第三产业法人单位中，企业法人、机关事业法人、社会团体和其他法人单位数均有不同幅度的增长
- C. 2013年末，第二产业和第三产业有证照个体经营户中，批发和零售业个体经营户占据一半以上

D. 2008年末至2013年末间，第二产业和第三产业法人单位数年均增长率超过10%

我国中部6省城镇单位就业人员平均工资

单位：元



91. 2013年中部六省城镇单位就业人员平均工资的算术平均值与2001年相比：

- A. 增长了32583元 B. 翻了两番 C. 增长了5倍以上 D. 增长了约4.2倍

92. 以下省份中，2007年和2001年相比，城镇单位就业人员平均工资增加值最大的是：

- A. 山西 B. 湖北 C. 安徽 D. 湖南

93. 2013年和2007年相比，下列省份中，城镇单位就业人员平均工资增长率最高的省份是：

- A. 河南 B. 安徽 C. 湖北 D. 湖南

94. 2007年中部六省城镇单位就业人员平均工资的中位数为：

- A. 20849.5元 B. 20639元 C. 21060元 D. 20400.8元

95. 根据上述统计图，下列说法中正确的是：

- A. 所有统计年份中，河南省城镇单位就业人员平均工资均为中部六省最低
 B. 假设年均增长率不变，按照2007-2013年均增长率来计算，2015年江西省城镇单位就业人员平均工资超过6万元。
 C. 湖南省2001-2007年城镇就业人员平均工资年均增速快于2007-2013年
 D. 2001年，中部六省城镇单位就业人员平均工资超过8000元的省份不到50%。

| 地区 | 水资源总量 (亿立方米) | 地表水资源 (亿立方米) | 地下水资源 (亿立方米) | 地表水与地下 水资源重复量 (亿立方米) | 人均水资源量 (立方米/人) |
|----|-----------------|-----------------|-----------------|----------------------------|-------------------|
| 北京 | 24.8 | 9.4 | 18.7 | 3.4 | 118.6 |
| 上海 | 28.0 | 22.8 | 8.2 | 3.0 | 116.9 |
| 天津 | 14.6 | 10.8 | 5.0 | 1.2 | 101.5 |
| 重庆 | 474.3 | 474.3 | 96.4 | 96.4 | 1603.9 |
| 湖北 | 790.1 | 756.6 | 251.3 | 217.8 | 1364.9 |
| 广东 | 2263.2 | 2253.7 | 532.5 | 523.1 | 2131.2 |
| 四川 | 2470.3 | 2469.1 | 607.5 | 606.4 | 3052.9 |
| 陕西 | 353.8 | 331.5 | 118.5 | 96.2 | 941.3 |
| 福建 | 1151.9 | 1150.7 | 337.6 | 336.3 | 3062.7 |
| 江西 | 1424.0 | 1405.3 | 378.4 | 359.7 | 3155.3 |
| 西藏 | 4415.7 | 4415.7 | 991.7 | 991.7 | 142530.5 |
| 宁夏 | 11.4 | 9.5 | 22.1 | 20.2 | 175.3 |
| 广西 | 2057.3 | 2056.3 | 478.1 | 477.1 | 4376.8 |
| 云南 | 1706.7 | 1706.7 | 573.3 | 573.3 | 3652.2 |

96. 根据上述数据，不能得出的结论是：

- A. 我国上述省（市）的水资源分布不平衡
 B. 我国上述省（市）的地下水资源分布不平衡
 C. 我国上述省（市）的江河数量分布不平衡
 D. 我国上述省（市）的地表水资源分布不平衡

97. 上表中，所有直辖市的人均水资源量约为：

- A. 无法计算
 B. 480立方米/人
 C. 550立方米/人
 D. 610立方米/人

98. 关于上述省（市）的水资源情况，下列说法正确的是：

- A. 地表水资源都比地下水资源丰富
 B. 四川的地表水资源量与地下水资源量的差距最大
 C. 地表水资源量最小的省（市）为宁夏
 D. 西藏的地表水资源与地下水资源储量均居各省（市）之首

99. 下列四个省份中，人口最少的是：

- A. 云南
 B. 江西
 C. 广西
 D. 湖北

100. 根据上表数据，下列说法正确的是：

- I. 地表水资源量越大的省（市），水资源总量越大
 II. 水资源总量越大的省（市），人均资源量越大
 III. 人口越多的省（市），人均水资源量越小
 A. I、II、III均不正确
 B. 仅有 I 正确
 C. 仅有 II、III正确
 D. 仅有III正确

扫一扫，对答案

