

# 2017年江苏省公务员录用考试《行测》真题（C卷-考生回忆版）

更新时间：2024年12月09日15:19:08

扫描下方二维码下载星光公考APP 刷海量题库掌握最新热点



QQ扫码直接下载  
微信扫码到应用市场下载  
支持所有机型哦

## 第一部分 - 常识判断

根据题目要求，在四个选项中选出一个最恰当的答案。

1. 党的十八大以来，习近平总书记在强调不断增进中国特色社会主义道路自信、理论自信、制度自信的同时，多次提到文化自信。

下列对文化自信理解正确的是：

- ①文化自信具有鲜明的民族特色和价值色彩
- ②文化自信是对自身文化传统的深刻认知和高度自觉
- ③文化自信是对自身文化生命力和影响力所持有的坚定信心
- ④文化自信是对自身文化身份与价值的充分肯定和积极践行

A. ①②                      B. ②③④                      C. ①②④                      D. ①②③④

2. 2013年以来，每年的中央一号文件都聚焦农业现代化，强调要加快发展现代农业，其根本原因是：

- A. 农业现代化是目前我国社会主义现代化建设的突出“短板”
- B. 农业现代化在我国社会主义现代化建设中最重要
- C. 全面建成小康社会目标的实现取决于农业现代化
- D. 我国目前已经有了足够的财力支持农业现代化的发展

3. 下列古文中能够体现领导者榜样效应的是：

- A. 止宿公署，夜则祷于天，昼则出赈饥民，终日无少怠
- B. 为政以德，譬如北辰，居其所而众星共之
- C. 其身正，不令而行；其身不正，虽令不从
- D. 乐民之乐者，民亦乐其乐；忧民之忧者，民亦忧其忧

4. 达尔文观察到，养猫越多的地方，羊也可以养的越多，原因在于“猫——田鼠——花蜂——三叶草——羊”之间存在着生物食物链。

这体现的哲学原理是：

- A. 矛盾具有普遍性和客观性，矛盾是事物发展的源泉和动力
- B. 联系具有普遍性和多样性，任何事物都处在普遍联系之中
- C. 真理具有绝对性和相对性，绝对真理包含在相对真理之中
- D. 认识具有反复性和无限性，认识是一个辩证运动的过程

5. 我国先秦诸子提出了许多重要主张。下列对应正确的是：

- A. 孔子——道法自然                      B. 墨子——兼相爱、交相利
- C. 老子——夫子之道，忠恕而已矣                      D. 韩非——阴阳者，天地之道也

6. 欧洲一位伟人曾说过：我的光荣不在于取得四十个战役的胜利，滑铁卢会摧毁这一切，能够永世长存的是我的民法典。

这里所说的“我的民法典”是：

- A. 法国民法典                      B. 德国民法典                      C. 瑞士民法典                      D. 奥地利民法典

7. 下列不符合我国《居民身份证法》规定的是：

- A. 甲是大陆投资、定居的台商，不能申请领取居民身份证
- B. 乙到派出所办理常住户口登记变更手续，应当出示居民身份证
- C. 丙遗失了居民身份证，可办理户籍证明来证明身份并乘坐火车
- D. 丁在码头候船遇警察查验身份时，应向警察出示居民身份证

8. 机场、银行等服务窗口实行“一米线”制，要求等候服务的顾客必须与正在接受服务的顾客之间保持一米的距离。

这一制度的主要功能是：

- A. 维持服务秩序                      B. 保护顾客隐私                      C. 提升服务质量                      D. 提高道德水准

9. 下列诗句描写的地方都位于长江流域，按照从上游到下游排序正确的是：

- ①猿愁鱼踊水翻波，自古流传是汨罗  
②白帝城中云出门，白帝城下雨翻盆  
③昔登江上黄鹤楼，遥爱江中鹦鹉洲  
④钟山如龙独西上，欲破巨浪乘长风

- A. ①②③④                      B. ②①④③                      C. ②①③④                      D. ①②④③

10. 下列有关世界地理的说法错误的是：

- A. 俄罗斯横跨欧亚大陆，是世界上面积最大的内陆国家  
B. 亚洲是世界上面积最大的洲，也是世界上人口最多的洲  
C. 澳大利亚大陆是最小的大陆，也是只有一个国家的大陆  
D. 南极洲是世界上海拔最高的洲，北冰洋是世界最小的大洋

11. 下列成语与历史人物对应错误的是：

- A. 卧薪尝胆——勾践                      B. 退避三舍——晋文公                      C. 完璧归赵——蔺相如                      D. 纸上谈兵——沈括

12. 党在新民主主义革命时期形成了很多富有时代特色的革命精神，按照形成时间先后排序正确的是：

- ①延安精神  
②西柏坡精神  
③井冈山精神  
④古田会议精神

- A. ①②③④                      B. ②③④①                      C. ③④①②                      D. ④②①③

13. 某厂发生粉尘爆炸事故，造成人员伤亡和财产的严重损失。下列条件的组合会引起粉尘爆炸的是：

- ①粉尘有可燃性且达到一定浓度  
②天气持续高温  
③存在火源和助燃物  
④空间受限

- A. ②③                      B. ③④                      C. ①③④                      D. ①②③

14. 下列关于算盘的说法错误的是：

- A. 算盘是世界上最早的计算工具之一                      B. 算盘能够锻炼人的思维和协调能力  
C. 算盘采取十进制的计数法                      D. 算盘只能进行加减乘除四则运算

15. 下列现象对应的光学原理错误的是：

- A. 汽车后视镜扩大驾驶员视野——折射                      B. 雨夜路灯出现一圈圈的光环——色散  
C. 看立体电影需戴上特殊眼镜——偏振                      D. 使用闪光灯拍照时出现红眼——反射

16. 中国加入世界贸易组织以来，价廉物美的“中国制造”走入国外亿万家庭，走向海外的中国企业贡献卓著，规模庞大的中国市场充满吸引力，数以亿计的中国游客出境旅游。

对此，下列说法错误的是：

- A. 中国的发展给全球经济提供巨大动力源泉                      B. 中国与世界各国开始共同分享发展红利  
C. 中国在世界经济体系中拥有绝对的话语权                      D. 中国入世后所做贡献得到了国际社会认可

17. 某企业最近推出的一款指甲钳，在刀口上方装了放大镜，特别适合眼花的老年人使用，卖得很红火。这个事例体现了经济学原理在日常生活中的应用。

对此，下列说法正确的是：

- A. 只有精准掌握需求才能推出畅销产品
- B. 市场细分使产品的生产成本有所减少
- C. 带有放大镜的指甲钳是剪刀的替代品
- D. 装有放大镜的指甲钳改变了使用价值

18. 下列古诗词中，表达作者对友人的思念之情的是：

- A. 上邪，我欲与君相知，长命无绝衰
- B. 问世间，情为何物，直教人生死相许
- C. 曾经沧海难为水，除却巫山不是云
- D. 红豆生南国，春来发几枝。愿君多采撷，此物最相思

19. 五禽戏是依据中医基础理论创编的一种传统养生健身拳法。

下列关于五禽戏的说法错误的是：

- A. 五禽戏的创编者是华佗
- B. 五禽戏对后世医学的发展有重要的影响
- C. 五禽戏模仿的是虎、鹿、熊、猿、鸟的动作
- D. 五禽戏已经获批国家级物质文化遗产项目

20. 在日常生活和工作中，人们遭受挫折后有时会找理由自我安慰，以降低挫折感，恢复心理平衡，这是心理防御机制中心的“合理化”方法，下列不属于采用这种方法进行心理防御的是：

- A. 小朱上班途中发现包裹被盗，笑着说破财免灾
- B. 小邢的请求被同事拒绝，认为同事肯定有自己的难处
- C. 小范竞争上岗未能如愿，心想这个辛苦的岗位不干也罢
- D. 小马因工作失误受到批评，感觉领导在利用职权公报私仇

## 第二部分 - 言语理解与表达

本部分包括表达与理解两方面的内容。请根据题目要求，在四个选项中选出一个最恰当的答案。

21. 国家机关、政党组织和其他社会成员必须按照特定的规则运行和活动，这是法治的应有之义。在当代中国，规范国家权力运行和社会成员活动的各类规则可谓浩如烟海，但国家法律体系和党内法规体系显然是最有影响力和最为重要的规则体系。十八届四中全会审议通过的《中共中央关于全面推进依法治国若干重大问题的决定》将形成“完备的法律规范体系”和“完善的党内法规体系”纳入建设中国特色社会主义法治体系，确立了全面推进依法治国的总目标。

这段文字之后作者最有可能阐述的是：

- A. 中国特色社会主义法治体系的建构
- B. 依法治国建设全面小康社会的构想
- C. 党内法规与国家法律的衔接和协调
- D. 建立健全党内法规体系的对应措施

22. 晨练是一种好习惯，但未必人人适合。从人的生理特点来看，早上6点左右，人体的血压开始升高，心率逐渐加快，上午10点左右达到峰值，如果有冠心病、高血压的人此时锻炼，尤其是进行剧烈运动，就有可能发生意外。清晨6点到8点，人体血小板的凝聚力明显增强，血液相对黏稠，这段时间运动可能会使心脑血管梗塞率增大。

这段文字意在强调：

- A. 晨练总的来说还是弊大于利
- B. 晨练不宜选在6至8点之间
- C. 晨练应尽可能避免剧烈运动
- D. 晨练时间和强度要因人而异

23. 木器和石器代表了人类历史上的两大类型材料——有机材料和无机材料。但历史的发展很不均衡，数千年中，有机材料除了木器以外，就是毛皮、秸秆这些可以从生物中直接获取的材料，没有什么大的变化。但无机材料发展出了陶器、瓷器、金属、玻璃等人造材料，除了石器之外，全是依靠人类智慧使已知物发生化学变化之后创造出的新材料。即使是游离状态的金、银、汞等，人们也都开发了一些利用化学反应进行的提纯方法。

以下概括不符合文意的是：

- A. 有机材料几乎都是直接取之于生物
- B. 石器是无机材料家族的原生态成员

C. 陶瓷、金属是人类创造的无机材料

D. 人造材料未来将全面取代有机材料

24. 中国历史上的三大名锦中，蜀锦最有人气，云锦最为贵气，而宋锦尽显文人雅士之韵，有“锦绣之冠”的美名。宋锦，是指具有宋代织锦风格的锦缎，始产于南宋高宗年间，因产地主要在苏州，故又称苏州宋锦。明清以后织出的宋锦称为“仿古宋锦”或“宋式锦”，统称“宋锦”。

以下说法不符合文意的一项是：

A. 宋锦更富有文人雅士的风采

B. 宋锦的命名主要与年代相关

C. 明清后仍有锦缎被称为“宋锦”

D. 宋锦的工艺水平远高于蜀锦

25. 如今，传统的社会就业观的坚冰在一层层融化，科学的事业发展的阳光在一点点升温，学子们终于豁然开朗，体面和尊严不是外在的虚荣，而在于自己辛勤劳动的成就，事业腾挪的空间。如果乡村同样能够圆梦，有实现人生价值的机会，有事业发展的天地，为什么还要株守于城市的蜗居甘为“蚁族”？

这段文字意在强调：

A. 乡村也是学子们大展宏图的天地

B. 学子们的社会就业观已经在发生改变

C. 不是所有人都适合于在城市发展

D. 体面尊严并非只在城市才能获得

26. 中国历史上也曾有犀牛栖息。春秋时期气候温暖湿润，长江一带分布有许多苏门答腊犀牛。那时的楚国人捕猎犀牛，用它们的皮制作犀甲。《关尹子》中有一个为后人熟知的成语“犀牛望月”，说的就是犀牛因独角挡住视线而看不到月亮。《墨子·公输》中也有这样的描述：“荆有云梦，犀兕麋鹿满之。”但到了战国以后，气候开始转冷，加上人为捕猎的因素，犀牛一再南迁，最终在中国境内不再有它们的踪迹。

以下叙述不符合文意的是：

A. 犀牛曾与麋鹿同时在我国生存

B. 犀牛要在温暖湿润的地方生存

C. 过度捕猎是导致犀牛南迁的主要因素

D. 中国古人曾经因为军事用途捕猎犀牛

27. 劳动力总量大、成本低，曾是“中国制造”的比较优势，但随着人口结构的变化，这一优势正在不断消减。按照联合国的标准，65岁以上的人口比率超过总人口的7%，就被称为老龄化社会；超过14%，就是老龄社会。中国实际上在2001年就已经进入了老龄化社会。近年来东南沿海中小型制造企业的“用工荒”，已经凸显出这一人口结构变化带来的问题。

这段文字重在说明：

A. 老龄化社会与老龄社会的标准如何确定

B. 老龄化社会将使中国企业劳动力供给不足

C. 中国东南沿海地区已首先步入了老龄社会

D. 人口结构变化会影响“中国制造”竞争力

28. 海洋微生物大多是海洋的生产者，参与海洋物质生产、传递、沉降、分解和转化的过程，为海洋植物的生存提供良好的环境和资源。除此之外，多数海洋微生物具有分解有机物质的能力，能将有机物分解成氨、硝酸盐以及二氧化碳等，为海洋植物提供营养物，对海洋无机营养再生起了重要作用。海洋中具有光合作用的微生物能利用简单无机物合成有机物和氧，有利于其他生物生存。

关于海洋微生物的作用，这段文字未涉及的是：

A. 参与海洋的物质循环

B. 保护海洋的生态平衡

C. 促使海洋的富营养化

D. 维护海洋的食物链

29. 研究发现，人们看待互联网的方式，就像看待交换记忆系统的人类伙伴。人们把记忆分摊给“云端”，就像分摊给家人、朋友一样轻而易举。但是，互联网又跟交互记忆系统的人类伙伴不一样——云端知道得更多，而且能更快提取信息。现今几乎所有信息都能轻易通过快速的网络搜寻取得。互联网不只降低了把信息分享给人类伙伴的必要性，或许也降低了人们想把刚学到的重要事情存进自己大脑记忆库里的渴望。

这段文字意在说明：

A. 互联网和我们的关系近于亲友伴侣

B. 互联网正成为我们的外部记忆资源

C. 互联网带来了云端这样的信息大全

D. 互联网使得人类不再认为记忆重要

30. 很多疾病的患病风险，除了自身基因以外，还有非常重要的环境因素，所以单由基因来决定疾病的风险也是

不负责任的。综合这些原因，美国FDA叫停了这类疾病风险分析服务。作为个人，如何看待“风险分析”的结果是见仁见智的事情。有些人希望了解，从而提前预防，有些人觉得哪怕知道了风险也不会改变自己的生活方式。美国FDA叫停根据基因做疾病风险分析服务的主要原因是：

- A. 很多疾病患病风险是由环境因素引起的
- B. 根据基因分析患病风险是不负责任的行为
- C. 某种疾病的产生并非单纯由基因决定的
- D. 有人并不希望提前知道自己有患病风险

31. 文字是人类继语言之后的一大发明，如果说，语言的出现使人类实现了由动物到人的转变的话，那么文字的发明，则使人类从原始社会的低级阶段上升到文明社会的高级阶段，从而使人们的生活发生了质的飞跃。

这段文字主要强调的是：

- A. 人类使用的语言和文字不是同时出现的
- B. 文字发明前人类处于原始社会低级阶段
- C. 文字在人类社会发展历史上具有重要作用
- D. 文字是人类社会处于高级阶段的显著标志

32. 改革开放和市场经济扩展了农民的视野和接触空间，但经过潜移默化、世代相传而积淀的心理结构和文化传统并没有变化。大量研究表明，不仅留在农村从事农业生产劳动的农民仍然在延续着以己为中心、以亲情关系为纽带的差序格局，而且进城务工的农民工也很大程度上保持着乡村社会的行为方式和思维方式。

这段文字主要说明的是：

- A. 进城务工农民仍然保持着乡村社会生活方式
- B. 农民的乡村社会行为和思维方式很难一下子改变
- C. 留守农民和进城农民的心理结构及文化传统是相同的
- D. 进城务工农民应该尽快转变行为方式和思维方式

33. 说到食品安全的治理，人们首先想到的是，中国依然是一个发展中国家，各个方面的制度建设不够完善。面对现实，人们自然而然将问题引向法律法规制度、政府监管体系、社会治理机制的完善。这一指向当然是正确的，政府也沿着这些方向做了许多努力。但是这类治理方案的一个问题是，“远水解不了近渴”。

作者引用“远水解不了近渴”想要表达的意思是：

- A. 中国短时期之内无法真正解决食品安全问题
- B. 相关法律及机制建设不是短时间内可以完成的
- C. 作为发展中国家要解决食品安全问题难度极大
- D. 想解决食品安全问题必须做好长期工作的准备

34. 现代经济学作为市场经济制度的基本理论基础，非常注重引入自然科学的研究方法分析框架来研究社会经济行为和现象，强调从假设到推理到结论的内在逻辑，强调用数学和数理模型作为基本逻辑分析工具，强调以数理统计和计量经济学为基础的实证，具有很强的应用性、实证性和自然科学性，与其他人文社会科学有很大的不同。

这段文字主要说明的是：

- A. 现代经济学的研究方法与其他人文社会科学有很大不同
- B. 现代经济学是一门以实证研究为基础的社会科学
- C. 数学方法数理模型在研究经济问题时有重要作用
- D. 自然科学的很多研究方法可以用于人文社会科学研究中

35. ①西汉时期的扬雄就提出了“书为心画”，这个观念深入人心。

②明代汤显祖写的《牡丹亭》里面，柳梦梅则透过自画像上题字风格来想象杜丽娘的灵心慧性。

③元代王实甫的戏剧《西厢记》中，张君瑞曾通过书信的字迹揣摩崔莺莺的心态。

④在中国，自古以来人们普遍认为字迹就是心迹。

⑤这两个戏剧情节反映了社会大众对于字迹的普遍认识。

将以上5个句子重新排列，语序正确的是：

- A. ①③②⑤④
- B. ④①③②⑤
- C. ④②③①⑤
- D. ①②③⑤④

从大蒜、生姜，到香蕉、菠萝，在农产品价格暴跌中，农民很受伤。订单农业作为以销定产的重要手段，对稳定农产品价格、确保农民合理收益、抵御市场价格风险具有一定的作用。然而，经调查发现，订单农业在实际运行过程中却因为部分农民契约意识差、恶意违约而变得难以推行，这反过来又伤害了商户和农民。

作为抵御农产品价格周期波动的重要机制，订单农业一度被各方寄予厚望。然而近些年的实践表明，这一理想化的风险平抑工具，远远未能发挥预想中的作用。不少农民契约意识\_\_\_\_\_，动辄毁约，一次次使得一纸购销合同\_\_\_\_\_。轮番上演的单方面毁约事件，不仅让相关企业蒙受了巨大损失，也让农民群体本身付出了惨痛代价。

众所周知，农业生产天然存在着滞后性和长周期性，这决定了农民很难及时、准确地安排生产过程。也正是基于这一原因，才形成了农产品价格“周期怪圈”现象。而所谓订单农业，其核心逻辑就在于“以销定产”。倘若严格执行，这一模式将有效实现供需平衡，避免由生产不足或过剩而引发价格巨震。令人遗憾的是，现实中一些农民受眼前短利驱动，往往会选择性执行购销合同，这无异于亲手解除了“自我保护”的机制。

现如今，订单农业所面临的困境，很大程度上还是源于“小农心理”作祟。农民群体中的很大一部分人，并不熟悉商品社会的那套契约体系和交易方式，而且对违约行为的性质和后果也缺乏完整的认知。再加上大多数的涉农购销合同，都不具备必要的担保机制和强制执行的可能。一旦农民单方面撕毁合同，企业顾忌于超高的催收成本，往往也只能听之任之。

没有“履约保证金”作保，没有追责索赔渠道兜底，订单农业以及相关产销合同，当然没有任何约束力可言，对此已有学者提出，要加强农村征信体系建设。可是在此之前，我们最先应该做的，还是改变分散化、个性化的农业生产模式：将孤立的农业生产者，吸收进组织化的专业生产合作社中，吸收进金融惠农和科技惠农的扶持体系之内——只有让他们处于更为紧密的人际网络和利益结构之内，其才会更为重视个人诚信的价值。

当反思订单农业所面临的尴尬遭遇，我们往往将矛头指向农民契约精神的缺失。试问，有没有一套合理的议价机制，能够保证农民可以获得一个相对实惠的合同收购价？又有没有一种动态的博弈平台，来回应农民由短期市场行情所产生的利益关切？相较于培育农民的信用意识，建立真正公平合理的市场定价和交易体制，对于发展订单农业同样至关重要。

36. 依次填入文章第二段画横线处最恰当的是：

- A. 薄弱 形同虚设      B. 孱弱 灰飞烟灭      C. 缺乏 化为乌有      D. 缺少 徒有虚名

37. 关于订单农业一度被各方寄予厚望的根本原因是：

- A. 订单农业可使农民与商户谈判时确保收益      B. 订单农业能帮助解决农业生产不可预期性  
C. 订单农业可使农民预先知道农产品价格      D. 订单农业可使农产品供需平衡价格平稳

38. 关于订单农业购销合同缺乏约束力的原因，作者特别强调的是：

- A. 农民不熟悉商品社会的契约的体系和交易方式  
B. 农民对违约的行为的性质和后果没有充分认识  
C. 大部分农民的合同没有保障执行的担保机制  
D. 企业因素赔偿代价太高放弃追究违约行为

39. 下列选项文中未涉及的是：

- A. 应将订单农业与金融惠农科技惠农对接  
B. 加强相关培训提升订单农户的契约意识  
C. 破解订单农业困局应该加强农村征信体系建设  
D. 改变现有农业生产模式有助于破解订单农业困局

40. 下列最适合做文章标题的是：

- A. 订单农业困局伤害了谁      B. 订单农业发展面临多重困难  
C. 订单农业困局的真相      D. 如何走出订单农业困局

41. 现代白话文与文言文的区别只是语体的不同，但它们使用的象形表意的方块字，作为中华民族文化的独特创

造，其中\_\_\_\_\_的民族精神、民族生命是血脉\_\_\_\_\_的。

依次填入画横线处最恰当的一项是：

- A. 蕴含 贯通                      B. 沉积 相通                      C. 呈现 流通                      D. 体现 连通

42. 很多体育运动都可以提高民族自豪感，但足球比赛的效果更为\_\_\_\_\_。在赛场上，有太多国家标志的体现——赛前的国歌、队服的颜色，更不用说看台上\_\_\_\_\_的球迷阵营。

依次填入画横线处最恰当的一项是：

- A. 明显 黑白分明                  B. 突出 泾渭分明                  C. 显著 与众不同                  D. 明确 标新立异

43. 读书有两种情形，一种是看大意，\_\_\_\_\_地看故事消磨时间，一种细细品味，去\_\_\_\_\_寻找文章的构思，寻找文外的寓意。这就是读书的两种不同的方式和目的。不过，不管是哪一种读书方式都是一种知识的积累。

依次填入画横线处最恰当的一项是：

- A. 走马观花 字斟句酌                  B. 囫囵吞枣 字里行间  
C. 一目十行 全神贯注                  D. 漫不经心 片言只语

44. 统计学家告诉我们，买一张彩票正好中大奖的概率\_\_\_\_\_——比如说，英国国家彩票的中奖概率大概就只有1400万分之一，相当于你连续投24次硬币全是正面朝上，远远低于被\_\_\_\_\_的陨石砸中的可能性。

依次填入画横线处最恰当的一项是：

- A. 微不足道 祸从天降                  B. 绝无仅有 不期而至  
C. 不可多得 不期而遇                  D. 微乎其微 从天而降

45. 当前，在\_\_\_\_\_、积淀丰厚而又背负着沉重历史包袱的中国文学研究不断面临学科交融、学术创新的\_\_\_\_\_挑战之际，建立中国文学地理学这一新兴交叉学科，具有重要的理论与实践意义。

依次填入画横线处最恰当的一项是：

- A. 历史悠久 严酷                      B. 源远流长 严峻                      C. 年深日久 严肃                      D. 历久弥新 严厉

46. 人口迁移改变了中国城乡的人口格局，以最\_\_\_\_\_的方式推动了移民城市的形成，这一城市形态与传统的\_\_\_\_\_城市在性质上有着本质的区别。

依次填入画横线处最恰当的一项是：

- A. 直接 地域                          B. 一般 地方                          C. 简单 地区                          D. 基本 区域

47. 以和为贵、\_\_\_\_\_的精神，贯穿中华民族发展的全部历史，渗透在社会生活的方方面面，使我们不同族群、不同地域的不同文化，不断相互吸取、相互融合，形成了\_\_\_\_\_、丰富多彩的中华文化。

依次填入画横线处最恰当的一项是：

- A. 和睦相处 无与伦比                  B. 谦顺礼让 不绝如缕  
C. 和而不同 博大精深                  D. 守望相助 兼收并蓄

48. 北京有大量历史文化保护区，它们是古都北京的文化\_\_\_\_\_，而位于北京历史城区中轴线西侧的什刹海区域，更是以宁静而优雅的环境、自然与人文的和谐\_\_\_\_\_。

依次填入画横线处最恰当的一项是：

- A. 特色 举世闻名                      B. 特征 远近闻名                      C. 标志 著称于世                      D. 指标 为人称道

49. 自然是神奇美妙的。自然文学的作者\_\_\_\_\_在读者面前的，是含有风景、声音及心绪的多维画面。这三者相互交织，相辅相成，形成了自然文学的独特之处，也\_\_\_\_\_出独特的审美情趣和美学价值。

依次填入画横线处最恰当的一项是：

- A. 展现 引申                          B. 呈现 衍生                          C. 描摹 演化                          D. 描绘 发展

50. 多名全国人大代表提出议案，建议修订我国土地管理法，兼顾土地的资源与资产双重\_\_\_\_\_，坚持物权平等保护\_\_\_\_\_，提高\_\_\_\_\_补偿标准。



依次填入画横线处最恰当的一项是：

- A. 特征 规定 征用  
B. 要素 法案 征调  
C. 标准 措施 征集  
D. 属性 原则 征收

51. 他们笔下的中国古建筑测绘图，一方面\_\_\_\_\_了西方建筑学制图手法的西方古典主义美学精神，另一方面又创造性地\_\_\_\_\_了中国传统工笔和白描的技巧，更好地呈现出中国古建筑独特的美感，这在世界建筑史经典著作的插图中也可谓\_\_\_\_\_。

依次填入划横线处最恰当的一项是：

- A. 秉承 融入 独树一帜  
B. 沿袭 引进 绝无仅有  
C. 接受 发扬 别具一格  
D. 承袭 发挥 可圈可点

52. 人类成为万物之灵的主要条件是发展了语言。语言是最基本的信息\_\_\_\_\_，文字、传声技术和电脑提高了语言的\_\_\_\_\_功能，国家共同语和国际共同语扩大了语言的\_\_\_\_\_范围。

依次填入画横线处最恰当的一项是：

- A. 符号 交际 交换  
B. 手段 形象 使用  
C. 载体 传播 流通  
D. 工具 互动 言说

53. 文学翻译，尤其是经典文学的翻译，是特别专业的事情，需要锲而不舍的\_\_\_\_\_、旁征博引的考证和\_\_\_\_\_的付出才能做好。可惜绝大多数读者没有认识到这一点，他们当中有些人甚至对文学翻译有一种\_\_\_\_\_的傲慢与偏见。

依次填入画横线处最恰当的一项是：

- A. 追求 长年累月 理所当然  
B. 追寻 不离不弃 自以为是  
C. 求索 持之以恒 根深蒂固  
D. 探求 聚精会神 前所未有

54. 哥白尼所发动的这一场天文学革命，\_\_\_\_\_了中世纪以来的神学权威，\_\_\_\_\_起科学的理性精神，\_\_\_\_\_了一整套观察、实验与思考的方法，由此为西方近代科学的产生奠定了基础。

依次填入画横线处最恰当的一项是：

- A. 质疑 成立 发现  
B. 铲除 确立 建成  
C. 挑战 树立 形成  
D. 打破 建立 发展

55. 导演在摄影方法的运用上，\_\_\_\_\_近景和特写，而采取长镜头、中远景和深焦镜头的拍摄，这种方法的运用，可说是与法国电影理论家巴赞的主张\_\_\_\_\_的。它不但会使画面气势更加雄伟，同时也使表演区域的造型形象更为清晰和更具真实感，从而使影片每个镜头都好像一幅幅中国画卷，给人们以特殊的美感并留下冷静思考的\_\_\_\_\_。

依次填入画横线处最恰当的一项是：

- A. 舍弃 不谋而合 余地  
B. 摒弃 一拍即合 痕迹  
C. 摒除 遥相呼应 余味  
D. 丢弃 一脉相承 轨迹

### 第三部分 - 数量关系

在这部分试题中，每道试题呈现一段表述数字关系的文字，要求你迅速、准确地计算出答案。你可以在草稿纸上运算。

56. 23, 1, -5, 5, 31, ( )

- A. -11  
B. 47  
C. 73  
D. 83

57. 2, 3, 6, 18, 108, ( )

- A. 1944  
B. 1620  
C. 1296  
D. 1728

58. 4.1, 4.3, 12.1, 12.11, 132.1, ( )

A. 120.8                      B. 124.12                      C. 132.131                      D. 132.12

59.  $-\frac{7}{2}, -1, -\frac{1}{8}, \frac{1}{8}, \frac{5}{32}, ( )$  【2017-江苏C-059】

- A.  $\frac{7}{64}$   
B.  $\frac{7}{32}$   
C.  $\frac{1}{8}$   
D.  $\frac{5}{16}$

60. 4, 5, 7, 16, 80, ( )

- A. 296                      B. 423                      C. 592                      D. 705

61. 小王打靶共用了10发子弹，全部命中，都在10环、8环和5环上，总成绩为75环，则命中10环的子弹数是：

- A. 1发                      B. 2发                      C. 3发                      D. 4发

62. 某一楼一户住宅楼共17层，电梯费按季交纳，分摊规则为：第一层的住户不交纳；第三层及以上的住户，每层比下一层多交纳10元。若一季度该住宅楼某单元的电梯费共计1904元，则该单元第7层住户一季度应交纳的电梯费是：

- A. 72元                      B. 82元                      C. 84元                      D. 94元

63. A、B两个容器装有质量相同的酒精溶液，若从A、B中各取一半溶液，混合后浓度为45%；若从A中取 $\frac{1}{2}$ 、B中取 $\frac{1}{4}$ 溶液，混合后浓度为40%。若从A中取 $\frac{1}{5}$ 、B中取 $\frac{4}{5}$ 溶液，则混合后溶液的浓度是：

- A. 48%                      B. 50%                      C. 54%                      D. 60%

64. 某单位有72名职工，为丰富业余生活，拟举办书法、乒乓球和围棋培训班，要求每个职工至少参加一个班。已知三个班报名人数分别为36、20、28，则同时报名三个班的职工数至多是：

- A. 6人                      B. 12人                      C. 16人                      D. 20人

65. 甲、乙两人用相同工作时间共生产了484个零件，已知生产1个零件甲需5分钟、乙需6分钟，则甲比乙多生产的零件数是：

- A. 40个                      B. 44个                      C. 45个                      D. 46个

66. 设正整数a、b、c，满足 $a < b < c$ ，且 $ab + ac + bc = abc$ ，则c的值是：

- A. 4                      B. 5                      C. 6                      D. 9

67. 小车和客车从甲地开往乙地，货车从乙地开往甲地，它们同时出发，货车与小车相遇20分钟后又遇客车。已知小车、货车和客车的速度分别为75千米/小时、60千米/小时和50千米/小时，则甲、乙两地的距离是：

- A. 205千米                      B. 203千米                      C. 201千米                      D. 198千米

68. 玻璃厂委托运输公司运送400箱玻璃。双方约定：每箱运费30元，如箱中玻璃有破损，那么该箱的运费不支付且运输公司需赔偿损失60元。最终玻璃厂向运输公司共支付9750元，则此次运输中玻璃破损的箱子有：

- A. 25箱                      B. 28箱                      C. 27箱                      D. 32箱

69. 两公司为召开联欢晚会，分别编排了3个和2个节目，要求同一公司的节目不能连续出场，则安排节目出场顺

序的方案共有：

- A. 12种                      B. 18种                      C. 24种                      D. 30种

70. 某公司管理人员、技术人员和后勤服务人员一月份的平均收入分别为6450元、8430元和4350元，收入总额分别为5.16万元、33.72万元和5.22万元。则该公司这三类人员一月份的人均收入是：

- A. 6410元                      B. 7000元                      C. 7350元                      D. 7500元

### 第四部分 - 判断推理

本部分包括图形推理、定义判断、类比推理与逻辑判断四种类型的试题，请按每道题的答题要求作答。

71. 兔：青草

- A. 蚕：桑叶                      B. 狗：老鼠                      C. 鱼：河水                      D. 虫：小鸡

72. 中山陵：金陵

- A. 城隍庙：寺庙                      B. 青海湖：青海                      C. 碧云天：青天                      D. 钱塘江：长江

73. 文物：建筑

- A. 烹饪：佐料                      B. 故宫：楼房                      C. 诗人：教授                      D. 皮鞋：布鞋

74. 聪明：耳聪目明

- A. 长安：长治久安                      B. 卑鄙：卑微鄙陋                      C. 悲愤：悲痛愤怒                      D. 辨症：辨别症候

75. 眼睛：鼻子：五官

- A. 西湖：东湖：五湖                      B. 五律：五绝：五言诗                      C. 父子：夫妇：五伦                      D. 五音：五色：五线谱

76. 学生：学霸：学习

- A. 军人：军官：卫国                      B. 房奴：孩奴：还贷                      C. 白领：金领：管理                      D. 女士：护士：护理

77. 医患关系 之于 ( ) 相当于 师生关系 之于 ( )

- A. 理解 原谅                      B. 紧张 活泼                      C. 信任 平等                      D. 医闹 旷课

78. 丝绸之路 之于 ( ) 相当于 万里长征 之于 ( )

- A. 敦煌 遵义                      B. 骆驼 草鞋                      C. 沙漠 海洋                      D. 贸易 解放

79. &\$\square\square\gamma\&\gamma\$

- A. \$\gamma\&\square\square\gamma\&\$                      B. \$\&\gamma\gamma\square\square\&\$  
C. \$\&\square\gamma\&\gamma\gamma\$                      D. \$\square\&\&\gamma\&\square\gamma\$

80. + - × - ÷ + +

- A. ÷ + - + - ÷ ÷                      B. ÷ + - + × ÷ ÷                      C. + × - ÷ - + +                      D. × - ÷ - ÷ × ×

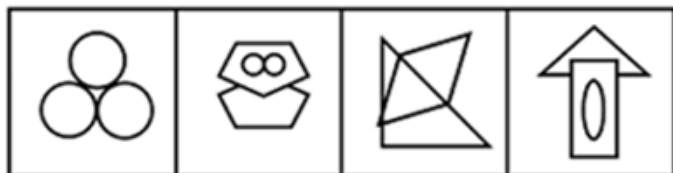
81. 从所给的四个选项中，选择最合适的一个填入问号处，使之呈现一定规律：【2017江苏C081】



A                      B                      C                      D

A. 如图所示      B. 如图所示      C. 如图所示      D. 如图所示

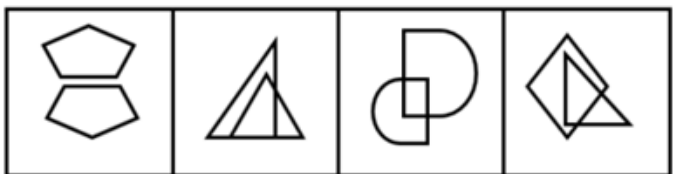
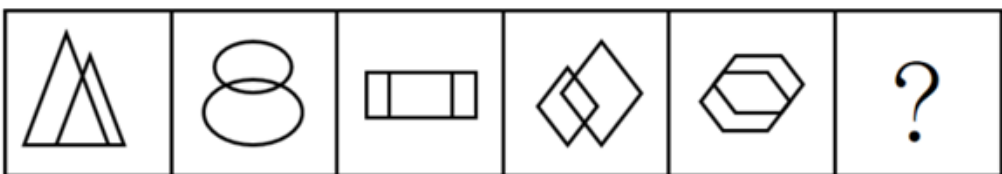
82. 从所给的四个选项中，选择最合适的一个填入问号处，使之呈现一定规律：【2017江苏C082】



A      B      C      D

A. 如图所示      B. 如图所示      C. 如图所示      D. 如图所示

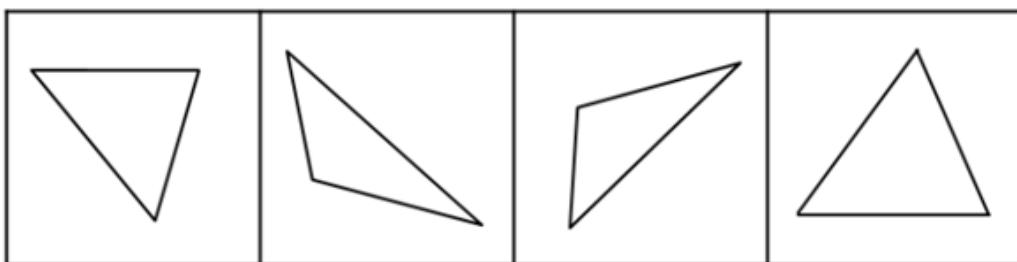
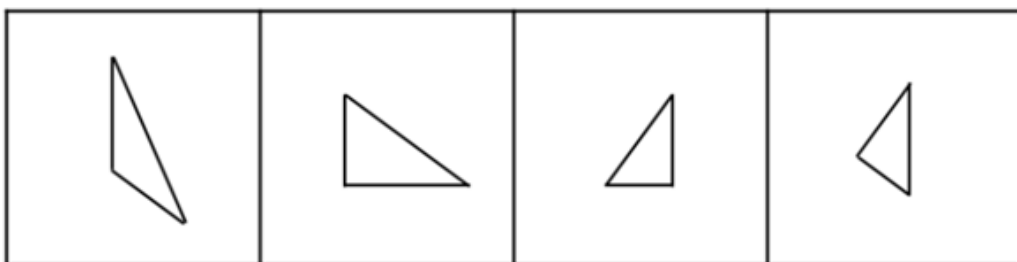
83. 从所给的四个选项中，选择最合适的一个填入问号处，使之呈现一定规律：【2017江苏C083】



A      B      C      D

A. 如图所示      B. 如图所示      C. 如图所示      D. 如图所示

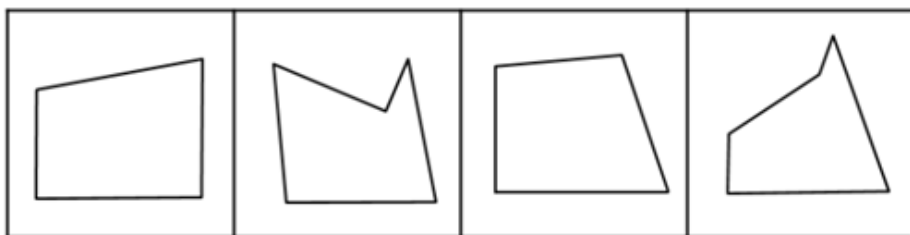
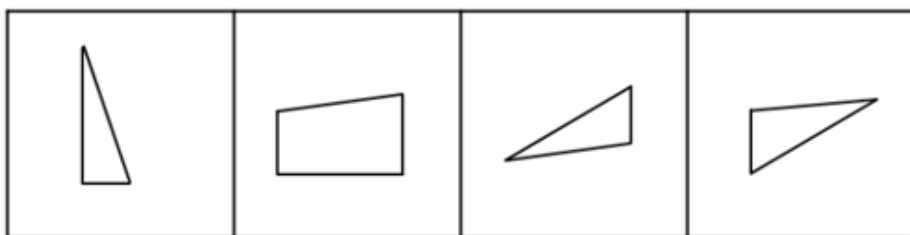
84. 下边四个图形中，只有一个是上边的四个图形拼合（只能通过上、下、左、右平移）而成的，请把它找出来。【2017江苏C084】



A      B      C      D

A. 如图所示      B. 如图所示      C. 如图所示      D. 如图所示

85. 下边四个图形中，只有一个是上边的四个图形拼合（只能通过上、下、左、右平移）而成的，请把它找出来。【2017江苏C085】



A

B

C

D

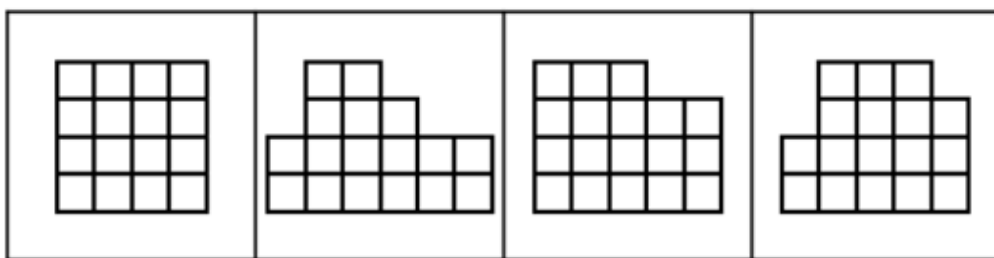
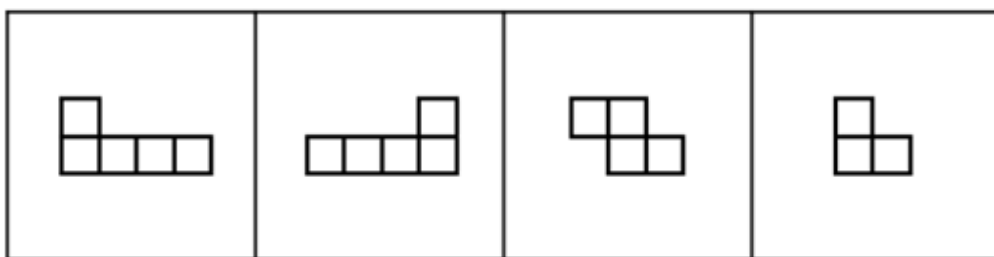
A. 如图所示

B. 如图所示

C. 如图所示

D. 如图所示

86. 下边的四个图形中，只有一个是上边的四个图形拼合（只能通过上、下、左、右平移）而成的，请把它找出来：【2017江苏C086】



A

B

C

D

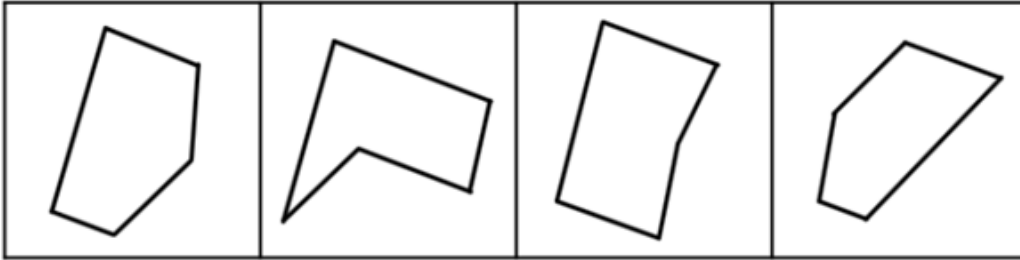
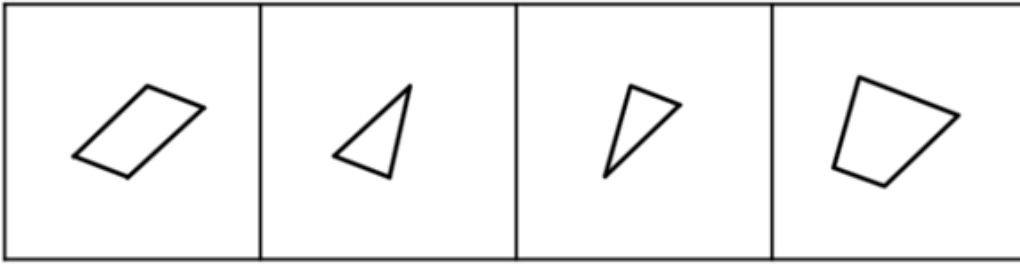
A. 如图所示

B. 如图所示

C. 如图所示

D. 如图所示

87. 下边四个图形中，只有一个是上边的四个图形拼合（只能通过上、下、左、右平移）而成的，请把它找出来：【2017江苏C087】



A

B

C

D

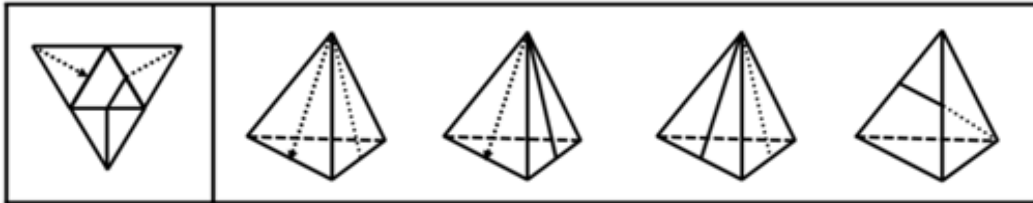
A. 如图所示

B. 如图所示

C. 如图所示

D. 如图所示

88. 左边给定的是纸盒外表面的展开图，右边哪一项能由它折叠而成：【2017江苏C088】



A

B

C

D

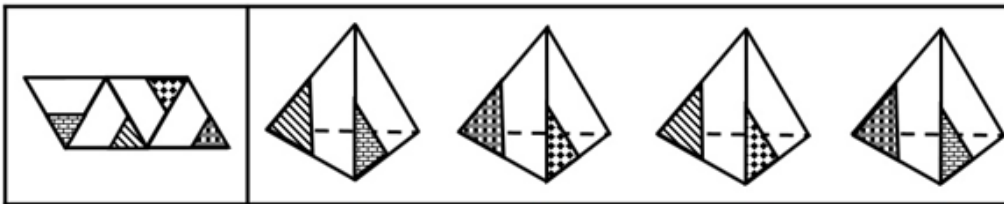
A. 如图所示

B. 如图所示

C. 如图所示

D. 如图所示

89. 左边给定的是纸盒外表面的展开图，右边哪一项能由它折叠而成：【2017江苏C089】



A

B

C

D

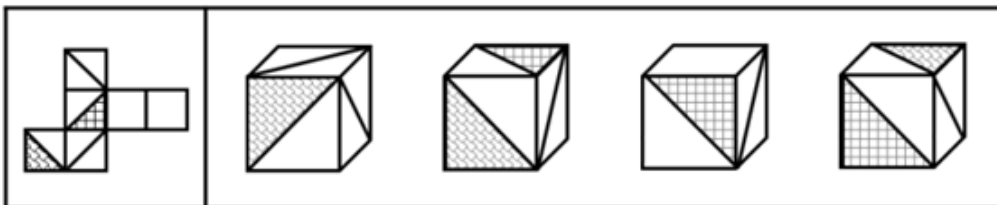
A. 如图所示

B. 如图所示

C. 如图所示

D. 如图所示

90. 左边给定的是纸盒外表面的展开图，右边哪一项能由它折叠而成：【2017江苏C090】



A

B

C

D

A. 如图所示

B. 如图所示

C. 如图所示

D. 如图所示

91. 茶叶是中国人喜爱的健康饮品。一般人将茶叶冲泡饮用几次之后，就将喝剩的茶叶倒掉。某专家对此指出，其实茶叶中能够溶解于水的物质是有限的，大量有营养的物质仍然保留在茶叶中，白白倒掉实在可惜，人们应

该将喝剩的茶叶吃掉。

以下哪项如果为真，最能反驳该专家的观点：

- A. 茶叶中许多没有营养的物质也不能溶于水
- B. 茶叶中含有茶叶碱和微量元素，可以提神醒脑
- C. 一般人喝茶已成为习惯，并非为了吸收营养物质
- D. 很多人将喝剩的茶叶留下来做茶饼，茶叶蛋等

92. 甲、乙、丙、丁、戊5人近期均到一座大型购物美食广场打工。她们打工的商家有家用电器店、服装店、药店、馄饨店、拉面馆，每人各去一家。每人开始打工的时间各不一样，分别是去年的3月、4月、5月、6月、7月。已知：

- (1) 甲是厨师，她在一家小吃店顺利找到工作；
- (2) 乙去了服装店，但她开始打工的时间比甲晚3个月；
- (3) 丙与去家用电器打工的人是同乡，5人中她开始打工的时间最晚；
- (4) 丁比戊开始打工的时间早，她去的是药店。

根据以上信息，可以得出以下哪项：

- A. 3月份甲开始到馄饨店打工
- B. 5月份戊开始到家用电器店打工
- C. 6月份丁开始到药店打工
- D. 7月份丙开始到拉面馆打工

93. 将东西方两位戏剧大师的生平经历、文学造诣及身后影响作对比，是一个有趣的话题，有专家认为，将汤显祖称作“东方的莎士比亚”有很大的问题，因为无论是就人格的魅力，还是就文本美感而言，汤显祖都是不逊于莎士比亚的。

以下哪项最可能是上述专家观点所包含的假设：

- A. 汤显祖的人格魅力及其文本的美感均高于莎士比亚
- B. 汤显祖在西方的影响要大于莎士比亚在东方的影响
- C. 汤显祖和莎士比亚都不愿意别人用他人的名字来称呼自己
- D. “东方的威尼斯”是逊色于真正的威尼斯的

94. 对于小李、小王和小苗能否考取研究生，有以下4种猜测：

- (1) 小李能考取；
- (2) 要是小王能考取，那么小苗也能考取；
- (3) 或是小王能考取，或者小李能考取；
- (4) 小王能考取。

事后证实，这4种猜测中只有一种是对的。

根据以上信息，可以得出以下哪项：

- A. 小李考取了
- B. 小苗没有考取
- C. 小苗考取了
- D. 小李没有考取

95. 老张：你在这儿摆摊设点属于占道经营！

小王：这儿是中山北路又不是中山北道，我占的什么道？

以下哪项与上述对话方式最为相似：

- A. 甲：你这种执法行为一点人情味都没有！  
乙：我严格执法是为了保障人民群众的生命财产安全。
- B. 甲：你成天打游戏是在虚度年华！  
乙：我只有在游戏中才觉得年华没有虚度。
- C. 甲：你工作时间不能抽烟！  
乙：我抽烟时从不工作。
- D. 甲：你这种说法是栽赃陷害！  
乙：你这种说法是血口喷人！

96. 某专家对已故诺贝尔经济学奖得主的寿命进行统计，发现他们的平均寿命是85岁，其中超过90岁的占多数，还有不少过百岁的，去世时年龄最小的也高达74岁。该专家由此认为，获得诺贝尔经济学奖能使人长寿。

以下哪项如果为真，最能削弱上述专家的观点：

- A. 诺贝尔经济学奖只颁给在世的学者，这一颁奖规则对已经长寿的学者极为有利
- B. 获得诺贝尔奖能带来功成名就的巨大身心愉悦，而愉悦的身心状态可延年益寿
- C. 宏观经济学之父凯恩斯年仅63岁就去世了，很遗憾他没有获得诺贝尔经济学奖
- D. 获得诺贝尔物理学奖的学者寿命也很长，但他们都没有获得过诺贝尔经济学奖

97. 某单位的孔、陈、孟、刘4人需要分配到甲、乙、丙、丁4个村庄开展扶贫工作，每人各去一个村庄。根据工作需要，分配满足如下条件：

- (1) 若孔去甲村庄，则刘去丁村庄；
- (2) 要么陈去乙村庄，要么孟去丙村庄，两者仅有一项成立；
- (3) 孟去丁村庄。

如果上述条件均得到满足，则可以得出以下哪项：

- A. 孔去丙村庄，刘去甲村庄
- B. 孔去甲村庄，刘去丙村庄
- C. 孔去丙村庄，刘去乙村庄
- D. 孔去乙村庄，刘去丙村庄

暑假到了，父亲、母亲、儿子、女儿一行4人驾车去旅行。小汽车前排坐两人（一人当司机），后排也坐两人。4人各有不同爱好：音乐、体育、摄影、书法，所学专业也各不相同：数学、历史、逻辑、物理。已知：

- (1) 儿子学物理；
- (2) 母亲酷爱音乐；
- (3) 学逻辑的摄影爱好者与女儿分两排斜向而坐。

98. 如果儿子坐在司机斜后方，则可以得出以下哪项：

- A. 父亲是司机
- B. 母亲是司机
- C. 儿子是司机
- D. 女儿是司机

99. 如果爱好摄影的人坐在前排，则以下除了哪项其他均是可能的：

- A. 父亲是司机
- B. 母亲是司机
- C. 儿子是司机
- D. 女儿是司机

100. 如果学历史的人不爱好音乐，则可以得出以下哪项：

- A. 父亲学历史，爱好摄影
- B. 母亲学数学，爱好音乐
- C. 儿子学物理，爱好体育
- D. 女儿学历史，爱好书法

101. 斜杠青年：指不满足于从事单一职业，追求拥有多重职业身份及多元生活方式的年轻人。他们在自我介绍时往往喜欢用斜杠来区分自己的不同身份，如：张三，金牌律师/企划师/专栏作家。

下列属于斜杠青年的是：

- A. 最近两三年，八零后导演黄某某先后出演了10多次男配角，去年在一个著名的国际电影节上斩获了最佳男配角奖
- B. 小丁在国外获得博士学位后，任职于国内一所著名高校，因科研成就突出，被破格聘为教授，并入选省“双百”人才计划
- C. 某公司程序员小陈爱好广泛，性格温和，人际关 系融洽，节假日常邀上三五好友一起登山、打球、游泳
- D. 李总做过保安，送过快递，当过安装工，开过小杂货店，他经常自豪地向员工讲述自己30多年来丰富的职业经历

102. 影子工作：指消费者使已购商品变为可用物品所付出的任何劳动。

下列属于影子工作的是：

- A. 小孙到饭店就餐，老板告诉他，这几天大部分服务员都已经放假，顾客需要点餐，并递给他一支笔和一张菜单



- B. 小李的儿子快出生了，他赶紧抽时间将同事老王给的婴儿车拿出来修理一番，车子焕然一新，十分好用
- C. 经不住软磨硬泡，爸爸终于答应给小明买两条金鱼，小明高兴坏了，连夜在网上收集了十几页的金鱼养殖攻略
- D. 将拼板餐桌从商场运回家后，老冯忙乎了半天，对照安装说明，拆了装，装了拆，终于组装成功，中午就派上了用场

103. 价值自认：指人们常常高估自己行为的价值，并从中获得快乐和美感。

下列属于价值自认的是：

- A. 小张毕业后刚到工作单位，幸运地分到了一套单身公寓。他花了半个月把房间布置得像新房一样，每天一走进去，心里就乐开了花
- B. 小星在校园机器人竞赛中获得一等奖后，他的父亲老吴整天乐呵呵的，逢人就夸儿子多么多么优秀
- C. 谢先生的成名曲一夜走红后，很快就跨入影视圈出演了多部电视剧，虽然观众反响平平，他却一直对自己的演技充满自信
- D. 老赵的作品获得了省书法协会二等奖，同事们纷纷前来向他表示祝贺，他暗下决心：明年一定争取拿到更高的奖项

104. 随机试验：指在同一条件下会出现多种可能结果且可以重复进行的试验；试验的所有可能结果虽预先可知，但每次具体实验的结果却无法预知。

下列属于随机试验的是：

- A. 将一壶淡水加热到沸腾，观察其状态变化的实验
- B. 在狮子身上安装定位设备了解其生活习性的实验
- C. 为检测某辆新款汽车的安全性能所做的撞击实验
- D. 抛一枚硬币观察带有数字的一面朝上次数的实验

105. 临时救助：指家庭或个人遭遇突发事件、意外伤害、重大疾病等变故，基本生活陷入困境时，政府有关部门提供的应急性、过渡性救助。

下列属于临时救助的是：

- A. 80岁的李大爷无儿无女，独自生活，社区工作人员定期到他家中探望，把每月的养老金交到他手上，还时不时地送来一些生活用品
- B. 老张患上了强直性脊柱炎，巨额医疗费花光了积蓄，夫妻名下的房子也变卖了，一家三口只得暂住在街道办为他们租来的小房子里
- C. 地震发生后，社会各界积极响应市政府号召，通过多种渠道捐款捐物，很快就筹集了大批物资并分发到了灾民手中
- D. 老赵在几年前的一次车祸中失去了左腿，从那以后再也不能外出工作，每月数百元的低保金就成了家里主要的经济来源

106. 渐进式退休：指员工到了法定退休年龄，用人单位根据实际工作需要对部分人员灵活确定退休时间。

下列属于渐进式退休的是：

- A. 马教授临近退休年龄，因为他是国内最具影响力的学者之一，对学科发展作出了重大贡献，学校决定聘任他为终身教授
- B. 赵先生已经到了退休年龄，但是他主持的重大攻关项目还没有结题，他所在的研究所决定聘用他继续工作，直到项目完成
- C. 近年来，李工程师的身体状况越来越糟糕，还患上了轻度的抑郁症，无法坚持工作，公司领导经过研究，决定让他提前退休
- D. 某研究机构决定，从下半年开始，本单位申请提前退休的职工，初、中级职称不低于54岁，高级职称不低于58岁

107. 创伤后成长：指一个人在经历重大的生活挫折之后发生的积极性改变。

下列属于创伤后成长的是：

- A. 一名车祸幸存者说，事故之后她能更主动地掌控自己的生活
- B. 在多次丢失手机以后，小张照看自己的随身物品比以前细心多了
- C. 在同事突然撒手人寰后，小刘深感生命脆弱，开始坚持健身锻炼
- D. 赴震区考察归来后，王工程师对建筑物防震设计有了更深刻的认识

108. 地块经济：指大量的同质化制造加工小企业集中在一个相对小的区域内，形成比较完整的产业链的区域经济发展模式。

下列不属于地块经济的是：

- A. 义乌小商品闻名遐迩，是国内规模最大的小商品生产和批发基地之一。在那里，各种各样的小商品可以说应有尽有
- B. 桂林一年四季都挤满了来自全国各地的游客，当地的饭店宾馆、旅游品商店、出租车公司一个个都赚得盆满钵满
- C. 嵊州堪称“中国领带之乡”，每年生产领带3亿条，出口1.6亿条，在国内、国际市场分别占了90%、60%以上的份额
- D. 亳州素有“药都”的美誉，每天都有无数商家从四面八方来到这里，运送药材的车队常常是一眼望不到头

109. 新乡贤：指长期扎根农村，利用自己的知识、技术、财富为村民热心服务并作出突出贡献，在当地社会生活及民众心目中具有较高威望和影响力的乡村人士。

下列属于新乡贤的是：

- A. 10多年来，老李虽然一直在外经商，但他时时惦念着家乡，每年都会捐出大量资金为家乡修桥铺路，资助家乡的特困大学生完成学业，乡亲们经常千里迢迢地跑来看望他
- B. 小张复员后回到家乡，两三年就成了远近闻名的“养殖大王”，为了带动乡亲们共同致富，他开办了多期培训班，免费传授实用养殖技术和经验，受到了大家的称赞
- C. 20多年来，某市商会会长孙先生利用自己长期积累的丰富经验，为经营各种农副产品的家乡村民牵线搭桥，指导他们寻找商机，被乡亲们誉为贴心的“诸葛亮”
- D. 某乡村小学校长程某退休后，利用自己学生多、关系广的优势，为挖掘家乡历史文化资源、发展乡村文化旅游业积极谋划、东奔西走，被乡亲们传为佳话

110. 咕咚效应：由于谣言传播而导致的集体无意识恐慌蔓延的现象，源自童话《咕咚来了》，讲述木瓜落进湖中后响起的“咕咚”声在动物中以讹传讹引发恐慌的故事。

下列属于咕咚效应的是：

- A. 某市去年房价暴涨，老李看到自己辛苦上班多年还不如别人买一套房一转手赚得多，担心房价继续飙涨，对自己的资产贬值感到恐慌，认为买房可以增值保值，于是忍不住加入到抢房的行列
- B. 英国脱欧公投结果出来后，由于担心一旦脱欧后在英国的金融机构会无法再获得欧盟的“单一护照”在伦敦设立欧洲总部的银行纷纷计划撤离，不少外资银行开始准备迁往巴黎、法兰克福、柏林等地
- C. 某网络大V杜撰“来自自来水的避孕药”博文，声称由于药物滥用，自来水中的避孕药含量过高，且无法通过常规的净化装置过滤，弄得人心惶惶，许多家庭担心饮水安全，纷纷抢购瓶装水
- D. 网上疯传一则“硅油可致脱发并易致癌”的文章，披露市面上的洗发水九成含有硅油。微商小郑借机在朋友圈推销自制的天然皂角手工皂和茶籽洗发水，受到了推崇健康生活、回归自然者的追捧

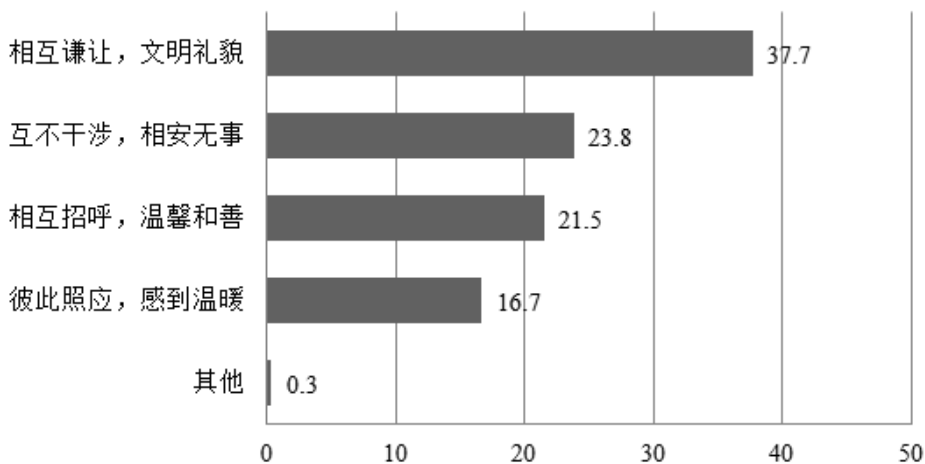
### 第五部分 - 资料分析

针对下列图、表或文字回答问题。你应根据资料提供的信息进行分析、比较、计算、处理。你可以在题本上运算。

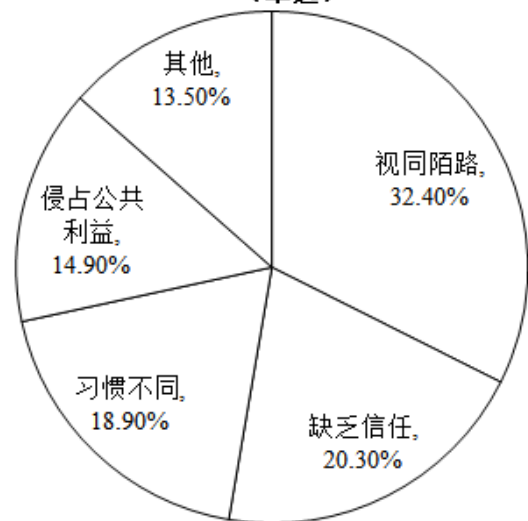
2016年某市一次有关市民邻里关系的调查显示，在受访的951位市民中，“没有邻居”的有6位。“有邻居”的

受访市民中，对邻居表示“了解”的占55.8%（“了解”分“很了解”和“部分了解”，占比分别为26.9%和28.9%），其余的表示“不了解”；对邻里关系表示“满意”的占88.4%（“满意”分为“很满意”和“比较满意”，占比分别为20.1%和68.3%），“不满意”的占7.8%，其余不愿表态，对邻里关系感到“满意”和“不满意”的主要原因分别见图1和图2。

图1 对邻里关系感到“满意”的主要原因（单选）



对邻里关系感到“不满意”的主要原因（单选）



111. 受访市民中，“不了解”邻居的有：  
 A. 275人                      B. 365人                      C. 412人                      D. 418人
112. 对邻里关系感到“不满意”的受访市民中，主要原因是“视同陌路”的占比比“习惯不同”多几个百分点：  
 A. 13.5个百分点              B. 15.7个百分点              C. 17.5个百分点              D. 18.9个百分点
113. “有邻居”的受访市民中，感到“比较满意”的人数比“很满意”的多多少人：  
 A. 402人                      B. 455人                      C. 458人                      D. 470人
114. 在感到“满意”的受访市民中，主要原因为“相互谦让，文明礼貌”的受访市民是“彼此照应，感到温暖”受访市民的多少倍：  
 A. 1.6倍                      B. 1.8倍                      C. 2.3倍                      D. 3.1倍

115. 下面判断正确的是：  
 本试卷由星光公考提供

- A. 有531位受访市民“了解”邻居
- B. 超过20%的受访市民因感到与邻居“缺乏信任”而对邻里关系“不满意”
- C. 对邻里关系感到“很满意”的受访市民数不及“比较满意”市民数的三分之一
- D. 对邻居表示“了解”的受访市民中，对邻里关系感到“很满意”的超过三分之一

2014-2015年全国医院病人门诊和住院费用情况

项目	医院		公立医院					
	2014	2015	公立医院		三级医院		二级医院	
			2014	2015	2014	2015	2014	2015
次均门诊费用(元)	220.0	233.9	221.6	235.2	269.8	283.7	176.0	184.1
按当年价格上涨(%)	6.6	6.3	6.6	6.1	5.1	5.2	5.9	4.6
按可比价格上涨(%)	1.5	4.9	4.5	4.7	3.0	3.7	3.8	3.2
人均住院费用(元)	7832.3	8268.1	8290.5	8833.0	12100.2	12599.3	5114.6	5358.2
按当年价格上涨(%)	5.2	5.6	5.5	6.5	3.2	4.1	2.9	4.8
按可比价格上涨(%)	3.2	4.1	3.4	5.1	1.2	2.7	0.9	3.3
日均住院费用(元)	811.9	861.8	843.8	903.1	1132.4	1024.6	581.5	605.4
按当年价格上涨(%)	7.4	6.1	7.8	7.0	6.7	6.4	5.2	4.1
按可比价格上涨(%)	5.3	4.7	5.7	5.6	4.6	4.9	3.2	2.7

注：①费用均值按当年价格计算；②次均门诊费用指门诊人次均医药费用，人均住院费用指出院病人住院期间人均医药费用，日均住院费用指出院病人住院期间日均医药费用。

116. 2014年全国医院次均门诊费用按当年价格计算比2013年多：  
 A. 13.6元                      B. 14.5元                      C. 16.6元                      D. 18.1元
117. 2015年全国公立三级医院人均住院费用比公立二级医院多：  
 A. 1.1倍                      B. 1.4倍                      C. 1.7倍                      D. 2.0倍
118. 2014~2015年全国医院次均门诊费用，“按当年价格上涨”不同于“按可比价格上涨”的幅度，主要影响因素是：  
 A. 就诊人数                      B. 统计误差                      C. 计算方法                      D. 通货膨胀
119. 2015年全国公立二级医院出院病人人均住院天数是：  
 A. 7天                      B. 9天                      C. 11天                      D. 13天
120. 下列判断正确的是：  
 A. 2015年全国公立二级医院日均住院费用不足公立三级医院的一半  
 B. 2014~2015年全国医院次均门诊费用、人均住院费用和日均住院费用按可比价格计算年增幅均未超过5%  
 C. 2015年全国公立医院、公立三级医院、公立二级医院日均住院费用按当年价格计算增幅均低于2014年  
 D. 无论按当年价格还是可比价格计算，2015年全国公立三级医院次均门诊费用、人均住院费用和日均住院费用增幅均高于2014年

2005年我国GDP为187318.9亿元人民币，主要能源生产总量为228.9百万吨标准煤，主要能源为原煤、原油、天然气和水风核电，分别生产177.2百万吨标准煤、25.9百万吨标准煤、6.6百万吨标准煤和19.2百万吨标准煤。“十一五”“十二五”时期我国主要能源生产情况见下表。

**2006~2015年我国主要能源生产情况**

单位：百万吨标准煤

年份	原煤	原油	天然气	水风核电
2006	189.7	26.4	7.8	20.8
2007	205.5	26.7	9.2	22.7
2008	213.1	27.2	10.8	26.4
2009	219.7	26.9	11.4	28.0
2010	237.8	29.0	12.8	32.5
2011	264.7	28.9	13.9	32.7
2012	267.5	29.8	14.4	39.3
2013	270.5	30.1	15.8	42.3
2014	266.3	30.4	17.0	48.1
2015	261.0	30.8	17.7	52.5

121. 2012~2015年我国主要能源生产总量年增加最少的年份是：

- A. 2015年                      B. 2014年                      C. 2013年                      D. 2012年

122. 自2016年起，若我国水风核电年产量均按2006~2015年平均增速增长，则2025年我国水风核电产量将为：

- A. 84.2百万吨标准煤          B. 85.8百万吨标准煤          C. 132.5百万吨标准煤          D. 143.6百万吨标准煤

123. 2015年我国非原煤主要能源产量之和占主要能源生产总量的比重与2005年相差：

- A. 4.3个百分点                  B. 5.3个百分点                  C. 6.3个百分点                  D. 7.3个百分点

124. 2006~2015年我国原煤产量年增长率超过10%的年份个数有：

- A. 0个                              B. 1个                              C. 2个                              D. 3个

125. 下列判断正确的是：

- A. 2005年我国单位GDP能耗为12.38万吨标准煤/亿元人民币  
 B. “十二五”时期，我国原煤产量比“十一五”时期增长超过30%  
 C. 2015年我国水风核电产量占主要能源生产总量的比重比上年有所提升  
 D. 2011~2015年我国原油、天然气和水风核电总产量均逐年增加

在以2015年11月1日零时为标准时点进行的全国1%人口抽样调查中，江苏最终样本量占全省常住人口总数的0.94%。调查显示：2015年11月1日零时江苏常住人口为7973万人，同以2010年11月1日零时为标准时点进行的第六次全国人口普查相比，增加107万人，增长1.36%。

全省常住人口中，0~14岁人口为1064万人，占13.35%；15~64岁人口为5910万人，占74.13%；65岁及以上人口为999万人，占12.53%。同第六次全国人口普查相比，0~14岁人口的比重上升0.34个百分点，15~64岁人口的比重下降1.97个百分点，65岁及以上人口的比重上升1.64个百分点。

全省常住人口中，大专及以上学历文化程度人口为1230万人，高中（含中专）文化程度人口为1356万人；初中文化程度人口为2741万人；小学文化程度人口为1744万人。

126. 以2015年11月1日零时为标准时点进行的1%人口抽样调查中，江苏最终样本量为：

- A. 75万人                          B. 79万人                          C. 82万人                          D. 86万人

127. 2010年第六次全国人口普查时，江苏0~14岁人口比重比65岁及以上人口：

- A. 少0.48个百分点              B. 少2.12个百分点              C. 多0.48个百分点              D. 多2.12个百分点

128. 两次调查的5年间，江苏常住人口中65岁及以上人口增加：

- A. 142万人                          B. 107万人                          C. 116万人                          D. 99万人

129. 2015年11月1日零时江苏常住人口中，高中（含中专）及以上文化程度人口占：

A. 15.43%

B. 17.01%

C. 32.43%

D. 41.66%

130. 下列说法不正确的是：

A. 两次调查的5年间，江苏常住人口年平均增加21万人

B. 两次调查的5年间，江苏常住人口中15~64岁人口下降了1.97%

C. 两次调查的5年间，江苏常住人口中65岁及以上人口的增长率高于其他年龄段

D. 2015年11月1日零时江苏常住人口中，小学文化程度以下（不含小学）人口为902万人

扫一扫，对答案

