

# 2018年江西省公务员录用考试《行测》真题（法检卷-考生回忆版）

更新时间：2024年12月09日15:27:12

扫描下方二维码下载星光公考APP 刷海量题库掌握最新热点



QQ扫码直接下载  
微信扫码到应用市场下载  
支持所有机型哦

### 第一部分 - 言语理解与表达

本部分包括表达与理解两方面的内容。请根据题目要求，在四个选项中选出一个最恰当的答案。

1. 熬，是一种坚持，一种历练，一种毅力。饱经风霜，饱览沧桑，饱通世事，阅历中有\_\_\_\_\_，挣扎中有\_\_\_\_\_。

填入划线部分最恰当的一项是：

- A. 品味 领悟                      B. 品味 感悟                      C. 品位 感悟                      D. 品位 领悟

2. 梦想为现实提供精神动力，现实则为梦想构筑前进的阶梯。我们既有“扶遥直上九万里”的\_\_\_\_\_，也有“不积跬步，无以至千里”的\_\_\_\_\_。寻梦的旅程不可能一蹴而就、步履轻松。

填入划线部分最恰当的一项是：

- A. 登高望远 脚踏实地                      B. 登高望远 韬光养晦  
C. 谋篇布局 脚踏实地                      D. 谋篇布局 韬光养晦

3. “打磨”是一种追求、一种品质、一种习惯。就年轻干部而言，“打磨”的过程，\_\_\_\_\_的是崇高追求的思想境界，\_\_\_\_\_的是不忘初心的政治定力，\_\_\_\_\_的是精益求精的工匠精神。经不起“打磨”的人生，便会黯然失色。

填入划线部分最恰当的一项是：

- A. 检查 衡量 传承                      B. 检视 考量 培植  
C. 检视 衡量 发扬                      D. 检查 考量 培养

4. 现实生活中，许多人面对严苛的鞭策，只一味地感到\_\_\_\_\_，继而意志\_\_\_\_\_，慢慢地变得\_\_\_\_\_；另外一些人，在鞭打中意识到自己的价值，将鞭策化为动力，扬蹄奋进，勇敢地登上人生的顶峰。

填入划线部分最恰当的一项是：

- A. 委屈 消沉 平庸                      B. 沮丧 低落 颓废  
C. 沮丧 瓦解 颓废                      D. 委屈 崩溃 平庸

5. 用脚步\_\_\_\_\_马拉松赛道，用心灵\_\_\_\_\_城市发展脉动，这是城市马拉松赛吸纳诸多跑者投身其中的初始动力。

填入划线部分最恰当的一项是：

- A. 测量 感触                      B. 测量 感悟                      C. 丈量 感悟                      D. 丈量 感触

6. 耐心是一种修养，需要修炼养成。耐心不够，或因心里想法太多、欲望太强，或因沉不住气、性子太急。少一点功利，多一份\_\_\_\_\_；少一点焦虑，多一份\_\_\_\_\_；少一点杂念，多一份纯净；少一点\_\_\_\_\_，多一份宁静。

填入划线部分最恰当的一项是：

- A. 实在 冷静 嘈杂                      B. 淡泊 淡定 喧嚣  
C. 实在 淡定 嘈杂                      D. 淡泊 冷静 喧嚣

7. 如何把国庆节过出味道？借照片与影片\_\_\_\_\_历史，借诗词与歌舞抒写当下，借规划图与设计展\_\_\_\_\_未来，相关文化活动都有着家与国的永恒命题。

填入划线部分最恰当的一项是：

- A. 回溯 遥望                      B. 回溯 憧憬                      C. 回顾 憧憬                      D. 回顾 遥望

8. ①不论对寒冷、暑热、长途行军、通宵不眠以及其他战争中的艰难困苦，他都能\_\_\_\_\_。

②在读者未读原著的情况下请他们先看太多的有关评论，恐贻\_\_\_\_\_之讥。

填入划线部分最恰当的一项是：

- A. 随遇而安 舍本逐末                      B. 安之若素 舍本逐末  
C. 随遇而安 本末倒置                      D. 安之若素 本末倒置

9. 面对改革重任，要的是上下一条心、全国一盘棋的大胸襟、大担当。在中央的决策部署、群众的切身利益和国家的长远发展面前，瞻前顾后、\_\_\_\_\_只能贻误改革时机，表里不一、\_\_\_\_\_更会阻碍发展大计。

填入划线部分最恰当的一项是：

- A. 故步自封 两面三刀                      B. 抱残守缺 阳奉阴违  
C. 抱残守缺 两面三刀                      D. 故步自封 阳奉阴违

10. ①经典作品也脱离不了它所处的时代背景，反映其时代的文化特征，其中难免有时代的局限性。但\_\_\_\_\_，这些作品的文学价值和思想价值及其对一代代文人墨客的影响丝毫没有减弱。

②他知道他永远不会再去看玛丽温泉，也不会再去卡尔温泉，永远不会再在那些无忧无虑的人们游玩嬉戏的场所\_\_\_\_\_了。

填入划线部分最恰当的一项是：

- A. 瑕瑜互见 流连忘返                      B. 瑕不掩瑜 恋恋不舍  
C. 瑕瑜互见 恋恋不舍                      D. 瑕不掩瑜 流连忘返

11. 时间不能倒流，但生活可以同样精彩，不一定是儿时的无知，却可以有当时的\_\_\_\_\_；不一定是此时的四平八稳，却可以像小时候那样\_\_\_\_\_；不一定要抓住过往牢牢不放，却可以珍惜当下创造不凡。

填入划线部分最恰当的一项是：

- A. 天真 天马行空                      B. 无邪 颠沛流离                      C. 无邪 天马行空                      D. 天真 颠沛流离

12. ①一座座大城市风雨飘摇，鸡犬不宁。人们啼饥号寒，\_\_\_\_\_爆发瘟疫，各地盗贼四起。

②闻先生对于诗的贡献真太多了！创作《死水》，研究唐诗\_\_\_\_\_《诗经》《楚辞》，一直追求到神话，又批评新诗，抄选新诗。

填入划线部分最恰当的一项是：

- A. 继而 以致                      B. 既而 以致                      C. 继而 以至                      D. 既而 以至

13. 老字号，传承历史，\_\_\_\_\_文化，\_\_\_\_\_代代乡愁。然而，随着消费观念的迭代，固守“一招鲜，吃遍天”“酒香不怕巷子深”，很容易遭到新生代的\_\_\_\_\_，而一味求新求异，又会让老顾客迷失方向。

填入划线部分最恰当的一项是：

- A. 积淀 寄托 冷遇                      B. 积淀 承载 忽略  
C. 沉淀 寄寓 忽视                      D. 沉淀 承续 冷落

14. ①他的样子让人感到他希望那种饮料会致他于死地，他是在用死\_\_\_\_\_他应该履行一种比死更难过的责任。

②他们分别的时候，露西心里总是存有几分疑虑，只有同他再交谈半个小时才能\_\_\_\_\_。

填入划线部分最恰当的一项是：

- A. 推脱 消释                      B. 推脱 消逝                      C. 推托 消释                      D. 推托 消逝

15. 一些不顾现实情况的\_\_\_\_\_取悦他人，看似长袖善舞，实则急功近利。这些矫揉与\_\_\_\_\_长此以往，侵蚀的是一个民族的独立人格。

填入划线部分最恰当的一项是：

- A. 特意 粉饰                      B. 刻意 掩饰                      C. 特意 掩饰                      D. 刻意 粉饰

16. 如果怀念过去的书信形式，最好的做法是重新拾起情怀，即在写电子邮件或者使用其他即时通讯工具的时候，\_\_\_\_\_，拒绝被新媒体时代轻快、浮躁的交流形式所侵袭。

填入画横线部分最恰当的一项是：

- A. 尽量让表达多点诗意                      B. 能够勇敢地说“不”                      C. 能够多一点郑重感                      D. 尽量让交际慢下来

17. 留守儿童的父母、留守监护人固然是关键，但也不能忽视政府、学校以及社会组织的作用。政府机关应当建立必要的教育和监督机制，督促父母或留守监护人认真对待孩子的心理问题；学校可以对留守儿童做好专门登记，定期对留守儿童进行心理疏导和询问；社会组织则应协助政府机关、留守儿童父母或监护人做好相应工作。

这段文字意在强调：

- A. 从根本上解决留守儿童的问题，需要全社会的共同关注和参与
- B. 留守儿童的出现是经济发展、社会转型的阶段性产物
- C. 相关部门应加强对留守儿童父母的教育和监督
- D. 解决留守儿童问题的根本在于父母的陪伴

18. ①“新国货崛起”这个逐渐升温的词汇印证了“中国制造”向“中国质造”的转变。

②最近几年，这种观念发生了很大变化，在科技创新上，中国品牌在不少领域已具有领先优势，如高铁、网络通信等高技术领域和移动支付、共享单车等全新业态。

③十几年前，提到国产品牌，人们往往想到“价廉质差”，甚至山寨横行，即便“Made in China”风靡全球，很多人仍然迷信外国货。

④而在质量提升上，“新国货”的成就也有目共睹。

⑤据统计，我国产品质量国家监督抽查合格率已连续四年保持在90%以上，更多人对“新国货”信心满满。

将以上5个句子重新排列，语序正确的是：

- A. ①③②④⑤
- B. ②④③⑤①
- C. ③②⑤①④
- D. ⑤④②①③

19. 人车争道是影响我国城市交通安全的顽疾之一。“斑马线之争”不仅让市民出行心惊胆战，造成交通拥堵事故频发，还严重影响了公共交通文明和城市形象。据公安部交管局统计，近三年以来，全国共在斑马线发生机动车与行人的交通事故1.4万起，造成3898人死亡。

这段文字主要阐述的是：

- A. 交通出行与每个人生活息息相关
- B. 倡导礼让斑马线需要长期坚持
- C. 斑马线文明是城市文明的缩影
- D. 机动车驾驶员法律意识、文明意识淡薄

20. 除了传承历史的人文价值、观察时代的窗口价值，语言在今天还具有极强的经济价值。很多人或许想不到，语言中潜藏着巨大的经济宝库。随着语言文字事业的不断前行，我国提供语言文字类产品及相关研究咨询、技术研发、工具应用等专业化服务的现代服务业迅猛发展。传统的翻译业只是其中一种，人工智能如何“说话”、大数据如何检索，都离不开语言服务。

这段文字意在强调：

- A. 语言是人类最重要的交际工具
- B. 当下社会，语言的经济价值巨大
- C. 语言是历史文化的重要载体之一
- D. 语言能为众多行业的推进提供必要支撑

21. 移风易俗殊为不易，更无法一蹴而就、一劳永逸。近年来，一些地方纷纷发文限制天价彩礼，但效果不彰。事实证明，单靠一纸禁令，难以改变传统心理或激活当事人的道德自觉。因此，除了善于激发深蕴于乡土熟人社会中的道德力量，还应因地制宜、因时制宜，在创新中做好教育引导、实践养成、制度保障。

这段文字意在强调：

- A. 应采取有效措施限制天价彩礼
- B. 移风易俗的困境
- C. 倡导年轻人树立正确的婚姻观和价值观
- D. 激活“零彩礼”背后的乡风文明

22. 网络热词的生命力，不在于会不会吸引眼球、是不是引人发笑，而在于有没有创造出社会价值、能不能经历时间的沉淀。从“任性”一词写进政府工作报告，剑指权力使用乱象；到“APEC蓝”来之不易，成为环保重要目标；再到“工匠精神”热度不减，一系列利好举措出台……这些经久不衰的流行语之所以能够深入人心，在于兼具了有效、有用、有趣的属性，既反映时代又推动时代的改变。

这段文字意在强调：

- A. 网络热词丰富了汉语的表达方式
- B. 网络热词的生命力极为旺盛
- C. 要让网络热词成为正能量的载体
- D. 网络热词是社会发展态势的晴雨表

23. 信息技术本身是中立的，关键在于怎么使用。进而言之，必须善用治理手段与规则加以规范。为什么个人信息泄露屡禁不止？各种非法渠道死而复生？关键原因仍在于全方位立体式的互联网隐私及个人信息安全治理体

系的缺位。这是一项长期而艰巨的任务，需要通过立法逐步完善，渐进式地加以解决。而在此之前，需要充分运用法治思维和手段，用足用好现有的法律资源，守护个人信息安全。

这段文字意在强调：

- A. 要以法治守护隐私安全
- B. 个人信息安全状况堪忧
- C. 个人信息安全治理难
- D. 信息技术发展的利与弊

24. 近年来，随着中国日益走进世界舞台中央，不少国家掀起了“汉语热”，汉语拼音成为了解中国的先修课。在最新版的《牛津英语词典》中，“Jiaozi”（饺子）“Renminbi”（人民币）赫然在列，拼音化的汉语词汇逐渐被世界接受。当汉语拼音从“中国标准”变为讲述中国故事的“国际标准”，这把“语言钥匙”也就成了世界的“文化桥梁”。

这段文字意在说明：

- A. “汉语热”方兴未艾
- B. 汉语拼音有益于中国文化的国际传播
- C. 汉语拼音比汉字更受其他国家的欢迎
- D. 中国在国际上的影响力日益增大

25. 必须承认，某一领域的重大发明和发现，绝大多数是由本领域的行家完成的。但是，精通自己专业的内行，有时好比攀上一棵大树，左右纵横的枝枝叶叶，常常挡住了自己前进的视线。而外行的好处在于，他站在“树”下或远处，反而能看清主干和树枝的成长趋势，从而可能有惊喜之见。

这段文字意在强调：

- A. 大多数领域的发展是由“外行”推动的
- B. 隔行如隔山
- C. 坚持一切从实际出发，敢于创新
- D. 重视“外行”的智慧

26. 当下，各类自媒体都讲究细分化、个性化，但很多自媒体的内容，看上去热闹丰富，实际上却营养匮乏，甚至误读连篇起、谣言满天飞。从营销软文到洗稿生意，从恶意炒作到传播谣言，对于一些自媒体，点击量成为信息的唯一考量。在一次次反转又辟谣的新闻热点里，在一个个荒诞又流传甚广的段子里，一些自媒体公号将真相当成骰子一样掷来掷去，挑动整个社会的情绪。

这段文字意在说明：

- A. 自媒体将点击量作为唯一标准
- B. 自媒体的内容本质上乏味无价值
- C. 自媒体时代，谣言止于智者
- D. 自媒体经营者普遍缺乏行业自律精神

27. 圆梦顶尖名校、欧洲文化探秘、国际学生领导力峰会……各色名目赚足了家长的眼球。随着人们收入水平的提高、教育理念的改变以及出国政策的优化，海外游学热的出现可谓应时当令。游与学，本身就包含了寓教于乐的期望。在不少家长心中，与其把假期改造成为“第三学期”，不如用游学让孩子得一闲暇、放松身心，独自体验国外教育、了解风土人情也有助于开拓视野、锻炼能力，其出发点是好的。

作为一篇文章的引言，作者接下来最有可能介绍的是：

- A. 游学的价值
- B. 游学的市场状况
- C. 游学的内容
- D. 游学的历史发展

28. “天价片酬”的恶果已充分显现。由于少数知名演员的片酬占据了总预算的大头，在其他众多的生产制作环节中，所需经费都受到了严重挤压。在“无米之炊”的窘境下，剧本粗制滥造、服装舞美因陋就简、“五毛”特效横行，成为众多国产影视作品的通病。其结果，就是少数知名演员独享“天价片酬”，国产影视作品则付出了整体质量滑坡的代价。

这段文字意在说明：

- A. “天价片酬”扭曲了一些演员的价值观和财富观
- B. 国产影视行业发展态势堪忧
- C. 国内有一部分知名演员缺失职业道德
- D. “天价片酬”导致国产影视作品质量下滑

29. 老人们承担“责任重、风险高”的带娃压力，本质是生育成本过高导致的结果，有一定的必然性。它与不少家庭不敢生二孩，其实是同一问题的一体两面。加快优化生育成本的社会分担机制，解除更多家庭在养育孩子

上的后顾之忧，才是“解放”老人，缓解社会生育焦虑的要诀。

这段文字意在强调：

- A. 国家和社会应承担更多的生育成本
- B. “二孩时代”的老人不堪重负，亟需“解放”
- C. 生育成本过高导致“二孩”政策效用不大
- D. 育儿观念的代际隔阂日益突显，代际矛盾日益突出

30. 激活实体书店，不只是进行资金输血就能轻松实现。更重要的是，书店是否满足了读者需求、让人在购书过程中享受到愉悦？能否让读者把逛书店当做一种生活方式？现实中，有的书店营业空间逼仄，分类杂乱，店面混乱，缺少必要的导购，也不举办任何让读者参与的活动。有的“新型书店”顶着书店的牌子，主业则是售卖食品、文具、咖啡等商品，几乎没有可供挑选的新书。还有不少书店，陈列的书籍缺乏精品，无法满足读者的需求。

这段文字意在强调：

- A. 实体书店激活难度大
- B. “新型书店”名不符实，无法满足读者需要
- C. 实体书店要找准定位，明确自己的比较优势和市场价值
- D. 时代在改变，人们的读书方式、阅读习惯也在发生改变

31. 信息技术革命方兴未艾，个人信息具有很高的商业价值。从数字经济规模跃居全球第二，到手机支付、共享经济、“互联网+”等新业态、新模式引领世界潮流，当下中国，数字经济正成为驱动高质量发展、引领经济社会革新的加速器。互联网大范围、深层次地拓展了发展空间，也带来了隐私保护的风险挑战。信息技术推动社会变革与信息安全风险不断加剧的矛盾这一世界性课题，日益摆在我们面前。

这段文字意在说明：

- A. 个人信息的商业价值
- B. 数字经济发展的态势
- C. 数字经济发展的困境
- D. 信息技术与信息安全的矛盾

32. 据统计，2016年我国纸及纸板生产量达10855万吨，人均年消费量75千克，其中很大部分用于包装；每天塑料袋的使用量高达30亿个，全年超过680万吨；而金属包装材料中，仅易拉罐一项，每年至少消耗100亿只。环保部年报显示，全国246个大、中城市生活垃圾在2016年达到18069.5万吨，其中40%为包装废弃物。

这段文字意在强调：

- A. 治理由包装废弃物引发的环境问题刻不容缓
- B. 对包装问题的治理必须全面覆盖，人人参与，点滴做起
- C. 唯有让绿色理念深入人心，才能推动中国包装业真正实现由大到强
- D. 企业往往以增加包装附加值作为追求目标，忽视了企业应承担的社会责任

33. 近些年我国在名胜古迹保护方面取得了很大的发展，其管理、利用水平不断提高，但也要清醒看到，我国拥有的自然遗产、文化遗产规模庞大，相关法律的实施应当跟上社会发展的步伐。特别是在根除一些长期形成的游客陋习方面，仅仅停留在谴责不文明行为的层面还远远不够，必须在执行中明确划出法律红线，让公众逐渐树立起“损坏名胜违法”的认识，才能倒逼其敬畏法律，敬畏文化。

这段文字意在强调：

- A. 保护名胜古迹的必要性
- B. 对游客的不文明行为要划出法律红线
- C. 我国在名胜古迹保护方面取得了实质性的进展
- D. 我国在名胜古迹保护方面面临不少的困难

34. 13日13时许，成都航空一架ARJ21飞机平稳降落在江西省上饶市三清山机场。成都至上饶航线的开通，标志着ARJ21国产飞机正式执飞首条国内支线航线，对国产飞机的商业应用具有重要意义。

最适合做这段文字报道标题的是：

- A. ARJ21首飞国内支线航线  
B. 成都至上饶航线正式开通  
C. 国产飞机发展态势良好  
D. ARJ21飞机助力三清山

35. ①这些剧院不乏豪华气派的外观、不缺顶级的设备和宽敞的剧场，单就硬件而言，一些甚至已经堪比国际一流大剧院。

②从一线大城市到二三线城市直到一些县城，都建起了自己的剧院。

③近年来，剧院在全国各地拔地而起。据不完全统计，国内剧院总数已经超过2000家。

④多形式少内容、有空间少利用、高配置低效能……国内剧院建设还处于粗放阶段。

⑤有人说，要想了解一座城市的文明和灵魂，就去看看它的剧院。随着我国城市发展步伐加快，剧院的建设也进入加速度。

⑥但是，与华丽的“硬件”相比，剧院在演出剧目、演出场次、观众人数等“软件”上，却远远没有那么漂亮。将以上6个句子重新排列，语序正确的是：

- A. ③②①⑥④⑤  
B. ⑤③②①⑥④  
C. ⑤⑥②③①④  
D. ③⑥②①④⑤

36. 学术水平的提升与学术期刊的发展本应“同频共振”，但与我国科研成果呈现“井喷”的态势不同，我国本土科技学术期刊多年来发展缓慢，“散、乱、杂”局面难改。《科学通报》《中国科学》等曾经响当当的名字，如今也难以充分吸引优秀科学家的注意力。

这段文字主要阐述的是：

- A. 本土期刊的尴尬处境  
B. 我国科学研究水平明显提升  
C. 学术水平与学术期刊理应同进退  
D. 本土优秀科学家不支持本土期刊的发展

37. 场景直播引发了不少争议，甚至有网友称，“无所不播”的场景直播正在成为社会“公害”。然而，不可否认的是，作为一种新事物，场景直播如果运用恰当，也可以发挥积极的作用。因此，如何对其加以管理和引导是需要思考的问题。

这段文字意在强调：

- A. 场景直播“无所不播”惹人忧  
B. 场景直播可以发挥正面效应  
C. 场景直播日益兴起，发展迅速  
D. 场景直播亟需规范和监管

38. 在全球娱乐产业爆发增长的背景下，国产网剧想要得以进益，其工业制作水平还必须在“一虚一实”两个方面予以重视：“实”的方面就是需要有好剧本，好的剧本自然会有好的语言和情节；“虚”的方面就是在影视剧传达的价值观上，尽量融入世界主流体系。

这段文字意在说明：

- A. 随着全球化发展，影视剧成为民族文化的展示窗  
B. 国产网剧将接受多元文化视角的检验  
C. 全球娱乐产业发展态势良好  
D. 国产网剧需要重视“虚实”两面

39. 传统文化的传承与发扬是个老话题，但也时常遭遇新困境。一方面，由于传承手段缺乏创新，传统文化并未真正“活在当下”；另一方面，如何处理好深与浅、博与专的平衡问题，仍待探索。专家指出，在新的历史时期，亟需创新表达方式、传播方式，增强互动性、时代感，让更多人乐于接受传统文化，领略其魅力。

这段文字意在强调：

- A. 换个方式拥抱传统文化  
B. 传统文化的新困境  
C. 传统文化的新价值  
D. 重新燃起对传统文化的敬畏

40. 在巨大的市场驱动下，国内外移动支付公司和硬件厂商、传统金融机构纷纷将目光瞄准中国市场。2016年2月，苹果公司联手中国银联正式在中国市场推出苹果支付，完成了银行卡关联等设置。华为、小米、三星等国内外硬件厂商也先后与银联合作推出手机支付功能。

这段文字意在强调：

- A. 移动支付时代已经来临
- B. 移动支付市场争夺激烈
- C. 国外硬件厂商瞄准中国市场
- D. 移动支付刺激消费的效果明显

## 第二部分 - 常识判断

根据题目要求，在四个选项中选出一个最恰当的答案。

41. 地球日，也叫环境保护日，定为每年的：

- A. 6月22日
- B. 5月22日
- C. 4月22日
- D. 7月22日

42. 2018年7月21日至29日，国家主席习近平出席金砖国家领导人第十次会晤，并访问了塞内加尔、卢旺达、毛里求斯和\_\_\_\_\_。

- A. 南非
- B. 赞比亚
- C. 埃及
- D. 埃塞俄比亚

43. 下列选项中，不是莎士比亚所著的是：

- A. 《哈姆雷特》
- B. 《李尔王》
- C. 《堂·吉珂德》
- D. 《威尼斯商人》

44. 下列书法家中，“草圣”指的是：

- A. 张旭
- B. 王羲之
- C. 米芾
- D. 董其昌

45. 从化学组成来看，现在太阳质量大约四分之三是：

- A. 氢
- B. 氧
- C. 碳
- D. 氦

46. 三省六部制是中国古代封建社会一套组织严密的中央官制。三省不包括：

- A. 中书省
- B. 门下省
- C. 尚书省
- D. 礼乐省

47. 决定于发音体在一定时间内振动次数多少的是：

- A. 音长
- B. 音高
- C. 音色
- D. 音强

48. 关于封建社会，下列说法错误的是：

- A. 以封建主占有土地、剥削农民（或农奴）剩余劳动为基础的社会制度
- B. 在封建制度下，封建地主阶级拥有最大部分的土地
- C. 在封建社会，自然经济占主要地位
- D. 在封建制度下，农民没有人身自由，也没有自己的生产工具

49. 关于墨家，下列说法错误的是：

- A. 战国时的重要学派，创始人为墨子
- B. 墨家在初期主张“兼爱”“非攻”“尚贤”“明鬼”等
- C. 唐宋以后，统治者崇儒抑墨，墨学渐趋衰微
- D. 战国末期，墨子后学克服了墨子学说中宗教迷信成分，对逻辑学、几何学等都有一定的研究和贡献

50. 关于暖锋，下列说法错误的是：

- A. 即使暖空气异常活跃，也产生不了对流天气
- B. 暖气团向冷气团区移动时两者的分界面
- C. 暖空气常沿暖锋滑升于冷空气之上，使其中水汽凝结，产生云雨
- D. 暖锋临近一地时，常伴有大范围的连续性雨或雪

51. 关于剩余价值，下列说法错误的是：

- A. 雇佣工人剩余劳动所创造并被资本家有偿占有的价值
- B. 榨取剩余价值是资本主义生产的目的
- C. 剩余价值是资本主义社会各剥削阶级集团剥削收入的总源泉



D. 剩余价值表现为利润、地租、利息等形式

52. 关于赣江，下列说法错误的是：

- A. 江西省最大河流
- B. 东源贡水出武夷山，西源章水出大庾岭，在赣州汇合后称赣江
- C. 赣江主流在星子县蛟塘东入鄱阳湖
- D. 下游多礁石险滩，中、上游宽阔多沙洲

53. “走”字的原始义是：

- A. 跳
- B. 跑
- C. 步行
- D. 下蹲

54. 关于国民生产总值，下列说法错误的是：

- A. 英语缩写为GNP（Gross National Product）
- B. 一个国家（或地区）所有常住机构单位在一定时期内收入初次分配的最终结果
- C. 是收入概念，所以也叫“国民总收入”
- D. 从分配角度计算，等于所有常住机构单位分配的原始收入之和

55. 2018年6月19日，十三届全国人大常委会第三次会议在京举行，会议初次审议了个人所得税修正案草案，拟将综合所得基本减除费用标准提高到每月\_\_\_\_\_。

- A. 4000元
- B. 5000元
- C. 6000元
- D. 8000元

56. 甲有一古董，因出国委托乙保管，乙因资金周转需要将古董卖给不知情的丙，丙又赠与女友丁，丁拿到古董5天后被戊偷走，戊后又遗失于街头，为庚拾得。根据《物权法》的规定，对该古董享有所有权的是：

- A. 甲
- B. 丙
- C. 丁
- D. 庚

57. 关于法的规范作用，下列说法正确的是：

- A. 甲依据诉讼法规定主动申请回避，体现了法的评价作用
- B. 法院判决乙的行为构成故意伤害罪，体现了法的教育作用
- C. 丙参加法律知识培训后开始重视企业的劳动者权益保护，体现了法的指引作用
- D. 丁因闯红灯被罚款200元，体现了法的强制作用

58. 关于数罪并罚，下列选项错误的是：

- A. 甲在判决宣告以前犯强奸罪、盗窃罪与故意伤害罪，分别被判处13年、8年、15年有期徒刑。法院数罪并罚决定执行22年有期徒刑
- B. 乙犯抢劫罪、盗窃罪分别被判处13年、6年有期徒刑，数罪并罚决定执行18年有期徒刑。在执行5年后，发现乙在判决宣告前还犯有贩卖毒品罪，应当判处15年有期徒刑。法院数罪并罚决定应当执行19年有期徒刑，乙实际还应当执行刑期14年
- C. 丙犯抢劫罪、诈骗罪分别被判处13年、8年有期徒刑，数罪并罚决定执行18年有期徒刑。在执行5年后，丙又犯越狱罪，被判处15年有期徒刑。法院数罪并罚决定应当执行16年有期徒刑，丙总共应执行刑期21年
- D. 丁在判决宣告前犯有三罪，被分别判处有期徒刑3万元、7万元和没收全部财产。法院无需执行罚金10万元，只要没收全部财产即可

59. 关于《刑事诉讼法》中规定的辩护律师的权利和义务，说法错误的是：

- A. 辩护律师在侦查期间可以为犯罪嫌疑人提供法律帮助；代理申诉、控告；申请变更强制措施；向侦查机关了解犯罪嫌疑人涉嫌的罪名和案件有关情况，提出意见
- B. 辩护律师可以同在押的犯罪嫌疑人、被告人会见和通信；辩护律师持律师执业证书、律师事务所证明和委托书或者法律援助公函要求会见在押的犯罪嫌疑人、被告人的，看守所应当及时安排会见，至迟不得超过二十四小时
- C. 辩护律师自人民检察院对案件审查起诉之日起，可以查阅、摘抄、复制本案的案卷材料。辩护律师经人民检

察院或者人民法院许可，并且经被害人或者其近亲属、被害人提供的证人同意，可以向他们收集与本案有关的材料

D. 辩护律师在执业活动中知悉委托人或者其他入，准备或者正在实施危害国家安全、公共安全以及严重危害他人人身安全的犯罪的，应当及时告知司法机关

60. 关于权利人申请行政复议，下列说法错误的是：

- A. 甲殴打乙，甲被公安局罚款1000元。乙作为受害人认为公安局的处罚决定过轻而不服，可以申请行政复议
- B. 规划局许可建设商贸大厦，该大厦周边平房的居民认为该行政许可侵害了其采光、通风等相邻权，有权申请行政复议
- C. 张某和李某同时申请开办一个幼儿园，区政府许可张某的申请而拒绝李某，李某认为自己的公平竞争权遭到侵犯，有权申请行政复议
- D. 某股份制企业股东吴某认为物价局的定价行为侵犯了企业的自主经营权，有权申请行政复议

### 第三部分 - 数量关系

在这部分试题中，每道试题呈现一段表述数字关系的文字，要求你迅速、准确地计算出答案。你可以在草稿纸上运算。

61. 要求厨师从7种主料中挑选出2种、从10种配料中挑选出3种来烹饪一道菜肴，烹饪的方式共有6种，那么该厨师最多可以做出多少道不一样的菜肴？

- A. 10290
- B. 18470
- C. 19826
- D. 15120

62. 甲、乙、丙三人工作的效率比为7：9：8，现将A、B两项工作量相同的工程交给这三个人，甲负责A工程，乙负责B工程，丙作为机动参与A工程若干天后转而参与B工程，两项工程同时开工，耗时8天同时结束，问丙在A工程中参与施工多少天？

- A. 3
- B. 4
- C. 5
- D. 6

63. 甲乙两地之间高速公路设有4个服务区，从甲地驾车以90千米时速行驶并在每个服务区休息10分钟需要4小时20分钟到达乙地。若从乙地驾车以时速120千米并在每个服务区休息5分钟，到达甲地需要的时间是多少？

- A. 2小时45分钟
- B. 3小时5分钟
- C. 3小时25分钟
- D. 4小时20分钟

64. 一个矩形的周长为100，它的面积可能是多少？

- A. 600
- B. 650
- C. 700
- D. 750

65. 由1，3，5，7，9五个数字组成的没有重复数字的五位数有120个，将它们从小到大排列起来，第50个数是多少？

- A. 51739
- B. 53197
- C. 53179
- D. 51397

66. 某高校今年共招收新生6060人，比去年增长1%，其中本科新生比去年减少5%，研究生新生比去年增加13%。那么，该高校今年本科新生有多少人？

- A. 4200
- B. 4120
- C. 3900
- D. 3800

67. 从一瓶浓度为52%的酒精溶液中倒出 $\frac{1}{3}$ ，加满纯净水，再倒出 $\frac{1}{3}$ ，又加满纯净水，此时酒精溶液的浓度是多少？

- A. 5.8%
- B. 23.1%
- C. 17.3%
- D. 31.5%

68. 用6位数字表示日期，如170226表示的是2017年2月26日。如果用这种方法表示2019年的日期，则全年中六个数字都不相同的日期有多少天？

- A. 12
- B. 24
- C. 30
- D. 36

69. 一个布袋中装有大小相同的3个白球、4个红球和2个黑球，每次从袋中摸出一球不再放回。问恰好在第3次取得黑球的概率是多少？

- A.  $\frac{2}{9}$   
 B.  $\frac{1}{6}$   
 C.  $\frac{1}{12}$   
 D.  $\frac{1}{42}$

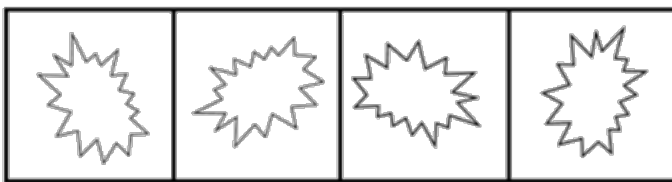

70. 社区组织自驾游。如果7辆车上每车3人，其余的每4人一车，那么会有6人无车可乘；如果5辆车上每车4人，其余的每5人一车，则会有2辆空车。问一共有多少辆车？

- A. 10                                      B. 12                                      C. 13                                      D. 14

#### 第四部分 - 判断推理

本部分包括图形推理、定义判断、类比推理与逻辑判断四种类型的试题，请按每道题的答题要求作答。

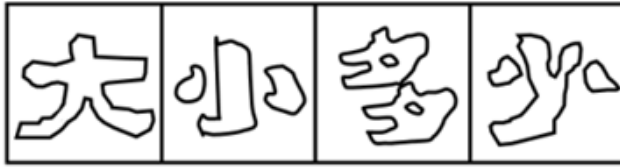
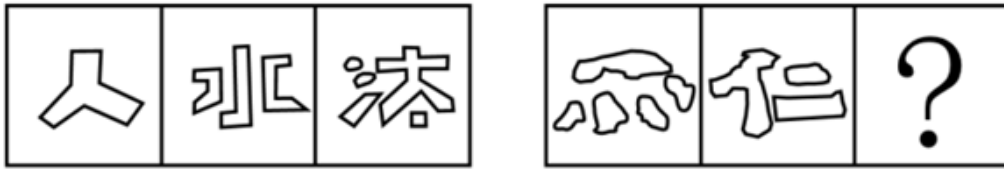
71. 从所给4个选项中，选择最适合的一个填入问号处，使之呈现一定的规律性：【2018江西法检071】



- A                      B                      C                      D

- A. 如图所示                      B. 如图所示                      C. 如图所示                      D. 如图所示

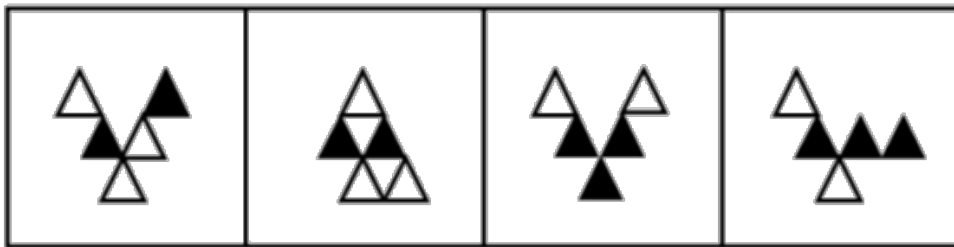
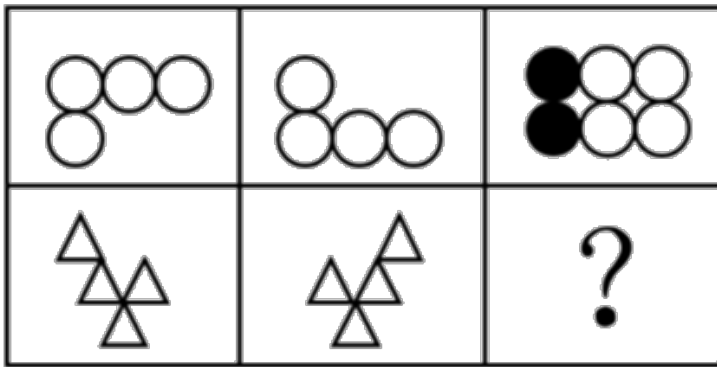
72. 从所给4个选项中，选择最适合的一个填入问号处，使之呈现一定的规律性：【2018江西法检072】



A B C D

- A. 如图所示      B. 如图所示      C. 如图所示      D. 如图所示

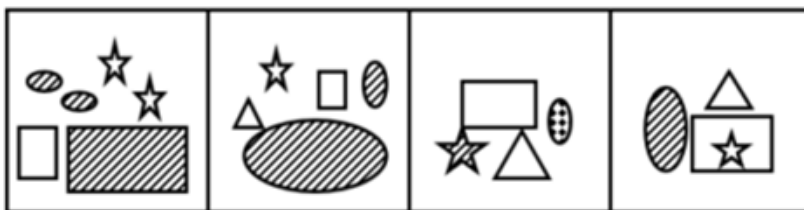
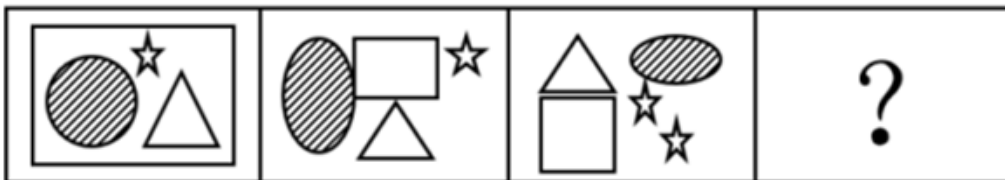
73. 从所给4个选项中，选择最适合的一个填入问号处，使之呈现一定的规律性：【2018江西法检073】



A B C D

- A. 如图所示      B. 如图所示      C. 如图所示      D. 如图所示

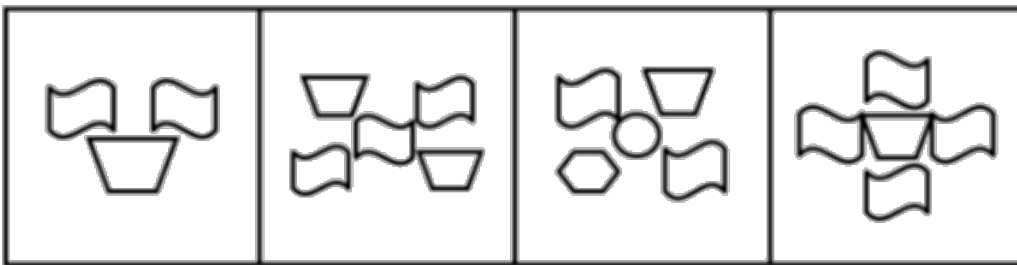
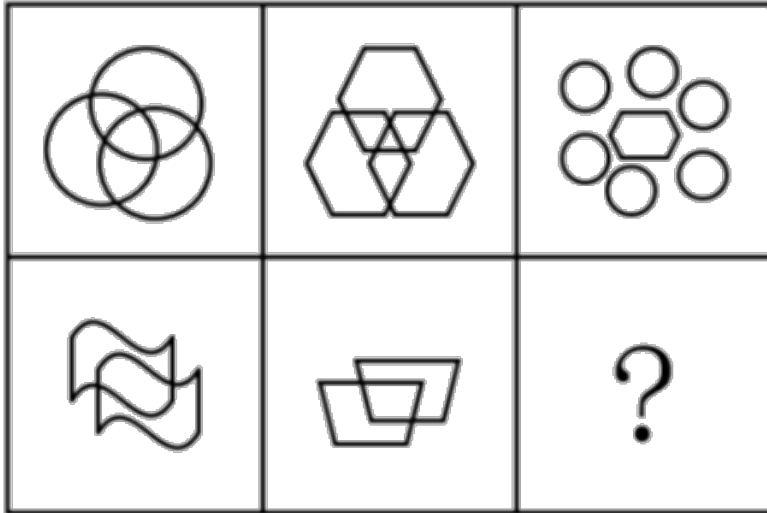
74. 从所给4个选项中，选择最适合的一个填入问号处，使之呈现一定的规律性：【2018江西法检074】



A B C D

- A. 如图所示      B. 如图所示      C. 如图所示      D. 如图所示

75. 从所给4个选项中，选择最适合的一个填入问号处，使之呈现一定的规律性：【2018江西法检075】



A

B

C

D

A. 如图所示

B. 如图所示

C. 如图所示

D. 如图所示

76. “CIS”是英文Corporate Identity System的缩写，意即“企业形象识别系统”，又有人称为企业形象设计系统。它将企业经营活动以及运作此经营活动的企业经营理念或经营哲学等企业文化，运用视觉沟通技术，以视觉化、规范化、系统化的形式，通过传播媒介传达给企业的相关者，包括企业员工、社会大众、政府机关等团体和个人，以塑造良好的企业形象，使他们对企业产生一致的认同和价值感，以赢取社会大众及消费群的肯定，从而达成产品销售的目的，为企业带来更好的经营绩效。

根据上述定义，下列对“CIS”理解错误的是：

- A. 企业形象识别系统是为树立企业形象服务的，是企业形象塑造的唯一途径和手段，目的在于推销产品
- B. 企业形象识别系统主要由企业理念识别系统、企业行为识别系统和企业视觉识别系统三部分内容组成
- C. 企业的各种行为只有在企业理念的指导下规范统一，并有特色，才能被公众识别、认知、接受认可
- D. 企业信息只有符合公众的心理倾向、价值观念及其需要，才能被公众认同并接受

77. 绿色贸易壁垒是指为保护生态环境而直接或间接采取的限制甚至禁止贸易的措施。绿色贸易壁垒通常是进出口国为保护本国生态环境和公众健康而设置的各种保护措施、法规和标准等，也是对进出口贸易产生影响的一种技术性贸易壁垒。它是国际贸易中的一种以保护有限资源、环境和人类健康为名，通过蓄意制定一系列苛刻的、高于国际公认或绝大多数国家不能接受的环保标准，限制或禁止外国商品的进口，从而达到贸易保护目的而设置的贸易壁垒。

根据上述定义，下列对绿色贸易壁垒理解错误的是：

- A. 绿色贸易壁垒是以保护世界资源、环境和人类健康为名，行贸易限制和制裁措施之实，具有名义上的合理性
- B. 绿色贸易壁垒措施以一系列国际国内公开立法作为依据和基础，具有形式上的合法性
- C. 绿色贸易壁垒在具体实施和操作时，很容易被某些发达国家用来对来自于世界各国的产品随心所欲地加以刁难和抵制，保护措施具有不确定性和可塑性
- D. 绿色贸易壁垒的各种检验标准不仅极为严格，而且繁琐复杂，使出口国难以应付和适应，保护方式具有极强

的隐蔽性

78. 附带民事诉讼是指公安司法机关在解决被告人刑事责任的同时，附带解决由遭受物质损失的被害人或者人民检察院提起的，由于犯罪嫌疑人、被告人的犯罪行为所引起的物质损失的赔偿而进行的诉讼。国家机关工作人员在行使职权时，侵犯他人人身、财产权利构成犯罪，被害人或者其法定代理人、近亲属提起附带民事诉讼的，人民法院不予受理，但应当告知其可以依法申请国家赔偿。

根据上述定义，下列法院可以受理被害人提起的附带民事诉讼的是：

- A. 抢劫案，要求被告赔偿被抢走并变卖的金项链
- B. 寻衅滋事案，要求被告赔偿所造成的物质损失
- C. 虐待被监管人案，要求被告赔偿因体罚虐待致身体损害所产生的医疗费
- D. 故意伤害案，要求被告赔偿因硫酸毁容所造成的精神损失

79. 证明责任是指当事人对自己提出的诉讼请求所依据的事实或者反驳对方诉讼请求所依据的事实，应当提供证据加以证明，但法律另有规定的除外。在作出判决前，当事人未能提供证据或者证据不足以证明其事实主张的，由负有举证证明责任的当事人承担不利的后果。

根据上述定义，下列对证明责任理解错误的是：

- A. 只有在待证事实处于真伪不明情况下，证明责任的后果才会出现
- B. 对案件中的同一事实，只有一方当事人负有证明责任
- C. 当事人对其主张的某一事实没有提供证据证明，必将承担败诉的后果
- D. 证明责任的结果责任不会在原、被告间相互转移

80. 受贿罪是指国家工作人员利用职务上的便利，索取他人财物，或者非法收受他人财物，为他人谋取利益的行为。

根据上述定义，下列说法正确的是：

- A. 甲系教育局局长，2015年赵某为解决女儿就近上学问题，多次找到甲，希望甲帮帮忙。甲考虑到赵某的实际情况，便违规给他批了条子，但未向赵某提出任何不法要求。2018年甲退休后欲自己开办公司，就向赵某提出：3年前自己帮助了赵，希望赵给2万元作为甲自己公司的启动资金。赵推脱不过，只好给钱。甲应当构成受贿罪
- B. 乙（女）因涉嫌诈骗而被公安机关收审，龚某负责审理这个案子。乙想龚某帮助她，即以身相许，尔后龚某便利用自己的职权设法使乙逃避了法律制裁。龚某不构成受贿罪
- C. 丙为了在一项市政工程投标中中标而给某副市长李某5万元钱，希望其在评标时多多关照。李某收过钱，点了点头。但事后，丙的投标未获通过。李某虽然收受他人财物，但由于没有为他人谋取利益，所以不构成受贿罪
- D. 丁的妻子在乡村小学教书，丁试图通过关系将其妻调往县城，就请县公安局局长胡某给教育局局长黄某打招呼，果然事成。事后，丁给胡某2万元钱，胡将其中1万元给黄某，剩余部分自己收下。本案中，黄某构成受贿罪，胡某构成介绍贿赂罪，丁构成行贿罪

81. 委任性规则是指没有明确规定行为规则的内容，只是规定了某种概括性的指示，授权或委托某一机关或某一机构加以具体规定的法律规则。

根据上述定义，下列属于委任性规则的是：

- A. 我国《医疗事故处理条例》第62条规定：“军队医疗机构的医疗事故处理办法，由中国人民解放军卫生主管部门会同国务院卫生行政部门依据本条例制定。”
- B. 我国《产品质量法》第69条规定：“以暴力、威胁方法阻碍产品质量监督部门或者工商行政管理部门的工作人员依法执行职务的，依法追究刑事责任；拒绝、阻碍未使用暴力、威胁方法的，由公安机关依照治安管理处罚条例的规定处罚。”
- C. 我国《国家赔偿法》第38条规定：“人民法院在民事诉讼、行政诉讼过程中，违法采取对妨害诉讼的强制措施、保全措施或者对判决、裁定及其他生效法律文书执行错误，造成损害的，赔偿请求人要求赔偿的程序，适用本法刑事赔偿程序的规定。”
- D. 我国《合同法》第175条规定：“当事人约定易货交易，转移标的物的所有权的，参照买卖合同的有关规

定。”

82. 政府监管是市场经济条件下政府为实现某些公共政策目标，对微观经济主体进行的规范与制约，主要通过对特定产业和微观经济活动主体的进入、退出、资质、价格及涉及国民健康、生命安全、可持续发展等行为进行监督、管理来实现。

根据上述定义，下列属于政府监管范围的是：

- A. 甲农民根据对市场的预测确定饲养猪的规模
- B. 乙工厂生产的某种饮料可能含有超标的有害物质
- C. 丙企业根据市场行情的变化及时调整产品价格
- D. 丁劳动者将政府发放的失业救济金用于购买股票

83. 社会保障制度是指在政府的管理之下，以国家为主体，依据一定的法律和规定，通过国民收入的再分配，以社会保障基金为依托，对公民在暂时或者永久性失去劳动能力以及由于各种原因生活发生困难时给予物质帮助，用以保障居民的最基本的生活需要的社会安全制度。

根据上述定义，下列属于社会保障制度的是：

- A. 残疾人甲某在民政局的帮助下申请了优惠贷款，开办了自己的工厂，为许多下岗职工提供了再就业的机会
- B. 乙市领导在地震发生后探望了灾区人民，并指示有关部门为他们送去了食品、衣物及彩电等物资，希望他们能渡过难关
- C. 女职工丙某被单位解聘，失业期间领取了失业救济金
- D. “希望工程”资助的偏远山区小学生免费午餐项目

84. 货币政策也就是金融政策，是指中国人民银行为实现其特定的经济目标而采用的各种控制和调节货币供应量和信用量的方针、政策和措施的总称。货币政策的实质是国家对货币的供应根据不同时期的经济发展情况而采取“紧”“松”或“适度”等不同的政策趋向。

根据上述定义，下列说法错误的是：

- A. 货币政策调节的对象是货币供应量，即全社会总的购买力，具体表现形式为流通中的现金和个人、企事业单位在银行的存款
- B. 货币政策包括信贷政策、利率政策和外汇政策
- C. 中央银行应根据不同的情况选择具体的货币政策目标
- D. 如果经济中出现例如投资增长过快、信贷增长过快、国际国内经济失衡、通货膨胀等要么属于货币领域的问题，要么跟货币有直接或者间接关系的问题，那么就应该采取宽松的货币政策以促进经济的良性运行

85. 居民纳税人是指在中国境内有住所或者无住所而在境内居住满一年的个人。在居住期间内临时离境的，即在一个纳税年度中一次离境不超过30日或多次离境累计不超过90日的，不扣减日数，连续计算。

根据上述定义，下列案例说法正确的是：

詹姆斯是英国人，2016年3月12日来华工作，2017年3月15日回国，2017年4月2日返回中国，2017年11月15日至2017年11月30日期间，因工作需要去了美国，2017年12月1日返回中国，后于2018年10月20日离华回国，则该纳税人

- A. 2016年度为我国居民纳税人，2017年度为我国非居民纳税人
- B. 2016年度为我国非居民纳税人，2017年度为我国居民纳税人
- C. 2016年度和2017年度均为我国非居民纳税人
- D. 2016年度和2017年度均为我国居民纳税人

86. 《法律与道德》：美：庞德

- A. 《论法的精神》：法：孟德斯鸠
- B. 《社会契约论》：英：卢梭
- C. 《君主论》：英：约翰·洛克
- D. 《政府论》：意大利：尼克罗·马基亚维利

87. 招摇撞骗：违法犯罪：锒铛入狱

- A. 班门弄斧：东施效颦：貽笑大方  
C. 兢兢业业：厚积薄发：一鸣惊人

- B. 强买强卖：欺人太甚：众叛亲离  
D. 见死不救：违背道德：良心谴责

88. 制度 对于 ( ) 相当于 ( ) 对于 实施

- A. 建设 执行                      B. 章程 管理                      C. 完善 政策                      D. 欠缺 延缓

89. 历史：明智

- A. 国家：政策                      B. 小说：诗歌                      C. 制度：学问                      D. 法律：约束

90. 背水一战：《史记·淮阴侯列传》

- A. 乐此不疲：《汉书》                      B. 揭竿而起：《过秦论》  
C. 朝秦暮楚：《论语》                      D. 阳春白雪：《离骚》

91. ( ) 对于 司汤达 相当于《高老头》对于 ( )

- A. 《红与黑》 巴尔扎克                      B. 《雾都孤儿》 雨果  
C. 《傲慢与偏见》 狄更斯                      D. 《战争与和平》 奥斯特

92. 祸兮福之所倚，福兮祸之所伏：老子

- A. 官无常贵，民无终贱：庄子                      B. 彼窃钩者诛，窃国者为诸侯：韩非子  
C. 劳心者治人，劳力者治于人：孟子                      D. 刑过不避大臣，赏善不遗匹夫：墨子

93. 快：速度：慢

- A. 强：飓风：弱                      B. 手动：汽车：自动                      C. 远：距离：近                      D. 好：吸烟：坏

94. 山东：青岛

- A. 湖南：长沙                      B. 浙江：宁波                      C. 辽宁：沈阳                      D. 江西：萍乡

95. 月季：玫瑰：蔷薇

- A. 牛郎：织女：天狼                      B. 日月：星辰：宇宙                      C. 江河：湖泊：海洋                      D. 瓜子：核桃：大豆

96. 孟子曰：“离娄之明，公输子之巧，不以规矩，不能成方圆；师旷之聪，不以六律，不能正五音；尧舜之道，不以仁政，不能平治天下。今有仁心仁闻而民不被其泽，不可法于后世者，不行先王之道也。故曰，徒善不足以为政，徒法不能以自行。”

下列选项与“不以规矩，不能成方圆”的逻辑推论不符的是：

- A. 只有遵循合理的道德行为规范，社会才能正常运转  
B. 若遵循合理的道德行为规范，社会则能正常运转  
C. 除非遵循合理的道德行为规范，否则社会不能正常运转  
D. 凡是能够正常运转的社会，它都应该是遵循合理的道德行为规范的

97. 某公共政策研究院主持召开的研讨会议题包括“民主政治与贤能政治”“发展中国的政治秩序”“发达国家的市场与政府”“发展中国家的市场与政府”“技术进步与社会变迁”“中国的法治与秩序”“圆桌讨论：经验与教训”等7个内容。

议程规定：

- (1) 每天讨论的内容数量不超过3个；
- (2) “发展中国家的市场与政府”必须安排在第二天讨论；
- (3) “民主政治与贤能政治”“技术进步与社会变迁”必须安排在同一天；
- (4) “发展中国家的市场与政府”的讨论安排在“发展中国的政治秩序”之后，但是在“发达国家的市场与政府”之前；
- (5) “发达国家的市场与政府”的讨论安排在“民主政治与贤能政治”之前，但是在“中国的法治与秩序”之后。



若第二天讨论一个内容，则一定在第一天讨论的是：

- A. 民主政治与贤能政治
- B. 发展中国的政治秩序
- C. 发达国家的市场与政府
- D. 发展中国的市场与政府

98. 法律格言说“不知自己之权利，即不知法律”。由此可以推知：

- A. 不知道法律的人不享有权利
- B. 任何人只要知道自己的权利，就等于知道整个法律体系
- C. 权利人所拥有的权利，既是事实问题也是法律问题
- D. 权利构成法律上所规定的一切内容，在此意义上，权利即法律，法律亦权利

99. 一天晚上，某餐厅经理被人杀死了，警察对四名嫌疑犯进行了审讯。四个人都只讲了四句话，并且都有一句是假话。

甲说：“我从来就没有去过那家餐厅；我没有杀人；我对这个案件一无所知；星期六我和丁一起在电影院度过。”

乙说：“我没有杀人；我在案发那天与丁闹翻了；我不认识甲；甲是无罪的。”

丙说：“乙是罪犯；丁和甲那天根本没有去过电影院；我是无辜的；是甲和乙一起杀了餐厅经理。”

丁说：“我没有杀人；案发那天我和甲在电影院；我以前从未见过丙；丙说甲和乙杀人的这句话是谎言。”

请问，杀人凶手是：

- A. 甲
- B. 乙
- C. 丙
- D. 丁

100. 有一盗窃案件，据侦查系二人作案。并初步认定甲乙丙丁戊五人是嫌疑犯。而且查知以下情况：

- (1) 甲、丁二人中至少有一人是罪犯；
- (2) 如果丁是罪犯，戊一定是罪犯；
- (3) 只有在丙参与时，乙才能作案；
- (4) 如果乙不是罪犯，那么甲也不是罪犯；
- (5) 丙没有作案时间。

请问，罪犯是：

- A. 乙和丙
- B. 丁和戊
- C. 甲和乙
- D. 甲和戊

101. 《中华人民共和国刑法修正案（八）》和修改后的《中华人民共和国道路交通安全法》将醉酒后驾驶机动车的行为以“危险驾驶罪”入刑，可判处六个月以下拘役。那么，醉驾入刑的实施情况到底如何？据有关统计发现，2011年5月1日至2016年10月1日，S区检察院共起诉1103宗1105人醉驾案件。醉驾的状况得到一定程度的遏制。尽管后果很严重，但仍有少数驾驶员抱着“少喝一点没关系”、“应该不会被查”的侥幸心理铤而走险。这说明，醉驾入刑的查处力度不够，不足以对所有驾驶员产生震慑力。

以下哪项如果为真，最能削弱上述论证：

- A. 醉驾入刑实施后，S区上路行驶的机动车数量有了大的增长
- B. 严格实施醉驾入刑，将不可避免地提高S区交警执法成本
- C. 醉驾入刑实施后，对违法者的惩罚力度有所增大
- D. 醉驾入刑实施后，S区每天都有交警上路严查酒驾

102. 通过调查得知，并非所有的影视明星都有偷税、逃税行为。如果上述调查的结论是真实的，则以下哪项一定为真：

- A. 所有的影视明星都没有偷税、逃税行为
- B. 多数影视明星都有偷税、逃税行为
- C. 并非有的影视明星有偷税、逃税行为
- D. 有的影视明星确实没有偷税、逃税行为

103. 某市的公务员招考是公正的，则以下两个条件必须满足：第一，有健全的公开透明的招考规则；第二，能力差异是允许的，但必须同时确保考生符合录用资格和每个考生事实上都有公平竞争的机会。

根据题干的条件，最能够得出的结论是：

- A. 某市有健全的公开透明的招考规则，同时又在确保考生符合录用资格的前提下，允许能力差异的存在，并且绝大多数考生事实上都有公平竞争的机会。因此，某市招考公务员是公正的
- B. 某市有健全的公开透明的招考规则，但这是以能力差异为代价的。因此，某市招考公务员是不公正的
- C. 某市招考公务员允许能力差异，但所有人都由此获益，并且每个考生都事实上都有公平竞争的权利。因此，某市招考公务员是公正的
- D. 某市公务员招考虽然不存在能力差异，但这是以招考规则不健全不公开不透明为代价的。因此，某市招考公务员是不公正的

104. 小张、小王、小李、小刘、小陈是某学校学生会候选成员，其中小张、小王、小李对此次竞选的结果预测如下：

小张：如果小陈没有当选，则我也不会当选；

小王：我和小刘、小陈三人要么都当选，要么都不当选；

小李：如果我当选，则小王也当选；

竞选结果出来后，发现三个人的预测都是错误的，则最终有（ ）个人当选。

- A. 1                                  B. 2                                  C. 3                                  D. 4

105. 阿里巴巴董事局主席马云认为，“互联网不是一种技术，是一种思想。如果你把互联网当思想看，你自然而然会把你的组织、产品、文化都带进去，你要彻底重新思考你的公司。今天很多人都说网上营销好，但是营销好了，麻烦也就开始了，你整个组织、人才、思考、战略都要进行调整。你以为是你的胃口太好，但换一只胃，你的肝也出问题，脾也出问题，因为所有内部的体系是连在一起的。这世界没有传统的企业，只有传统的思想。”

以下哪项为真，最能支持马云的观点：

- A. 只要掌握了互联网技术，就不会成为传统企业
- B. 互联网企业发展不需要技术，只需要思想
- C. 互联网企业相对传统企业来说更难管理
- D. 互联网企业需要具备互联网思维，才有可能摆脱束缚，发展壮大

### 第五部分 - 资料分析

针对下列图、表或文字回答问题。你应根据资料提供的信息进行分析、比较、计算、处理。你可以在题本上运算。

9月份，全国一般公共预算收入12963亿元，同比增长2%。其中，中央一般公共预算收入5919亿元，同比增长0.9%；地方一般公共预算本级收入7044亿元，同比增长29%。全国一般公共预算收入中的税收收入10269亿元，同比增长6%；非税收入2694亿元，同比下降10.9%。

1-9月累计，全国一般公共预算收入145831亿元，同比增长8.7%。其中，中央一般公共预算收入69582亿元，同比增长9.8%；地方一般公共预算本级收入76249亿元，同比增长7.8%。全国一般公共预算收入中的税收收入127486亿元，同比增长12.7%；非税收入18345亿元，同比下降12.8%。

**表1. 1-9月主要收入项目情况**

收入项目	金额（亿元）	同比增长（%）
国内增值税	47356	12
国内消费税	9886	16.3
企业所得税	30754	12.5
个人所得税	11349	21.1
进口货物增值税、消费税	13220	12
关税	2216	-0.9
出口退税	11403	9.2
城市维护建设税	3694	13.7
车辆购置税	2684	11.4
印花税	1809	1.2
其中：证券交易印花税	881	-6.5
资源税	1258	22
环境保护税	99	-
土地和房地产相关税收：		
契稅	4517	19.3
土地增值税	4583	14.7
房产税	1967	6.8
城镇土地使用税	1760	-1.6
耕地占用税	1026	-29.2
车船税、船舶吨税、烟叶税等其他各项税收收入合计	711	4.9

9月份，全国一般公共预算支出22616亿元，同比增长11.7%。其中，中央一般公共预算本级支出2533亿元，同比增长10.9%；地方一般公共预算支出20083亿元，同比增长11.8%。

1-9月累计，全国一般公共预算支出163289亿元，同比增长7.5%，为年初预算的77.8%，比序时进度快2.8个百分点。其中，中央一般公共预算本级支出22959亿元，同比增长8.8%；地方一般公共预算支出140330亿元，同比增长7.3%。

**表2. 1-9月主要支出项目情况**

支出项目	金额（亿元）	同比增长（%）
教育	23760	6.5
科学技术	5439	16.7
文化体育与传媒	2186	5
社会保障和就业	21792	9.3
医疗卫生与计划生育	12766	7.9
节能环保	4147	8.8
城乡社区	18895	7.5
农林水	13326	6.1
交通运输	8250	3.1
债务付息	5528	16.8

106. 1-9月累计，契税占土地和房地产相关税收约为：

A. 14.7%

B. 19.3%

C. 32.6%

D. 33.1%

107. 1-9月累计，教育支出占全国一般公共预算支出约为：

- A. 14. 6%                      B. 16. 7%                      C. 16. 8%                      D. 11. 7%

108. 1-9月主要收入项目中，同比增长率最大的是：

- A. 耕地占用税                      B. 个人所得税                      C. 国内增值税                      D. 资源税

109. 9月份，全国一般公共预算支出比收入多：

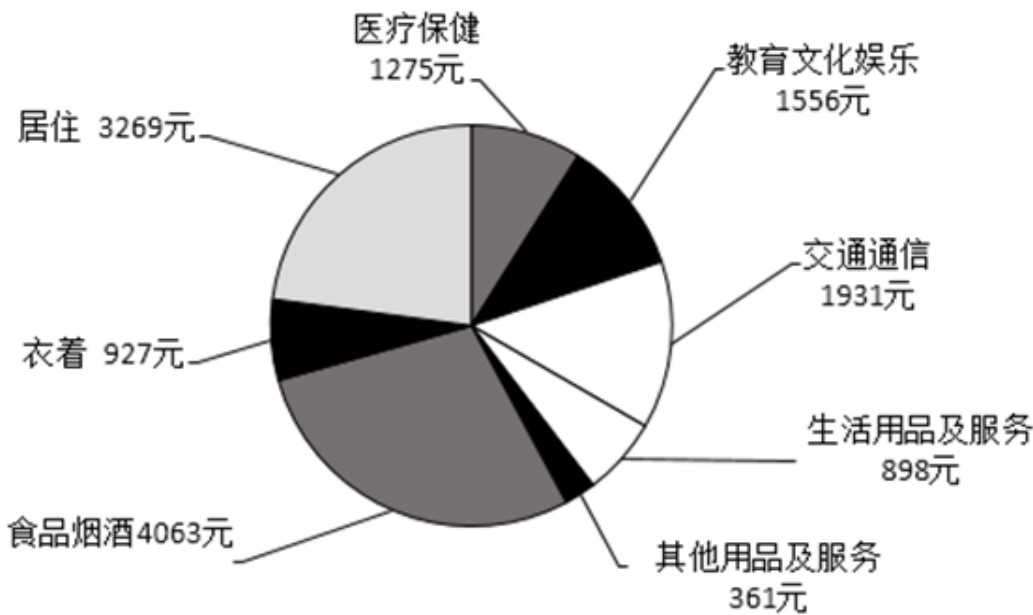
- A. 17458亿元                      B. 9653亿元                      C. 5919亿元                      D. 2646亿元

110. 以下说法中，错误的是：

- A. 1-9月累计，“国内增值税”与“企业所得税”之和超过全国一般公共预算收入的一半  
 B. 1-9月累计，“教育”与“社会保障和就业”两项支出之和超过全国一般公共预算支出的四分之一  
 C. 1-9月累计，税收收入约占全国一般公共预算收入的87. 4%  
 D. 1-9月累计，烟叶税收入约占全国一般公共预算收入的1%

2018年前三季度，全国居民人均消费支出14281元，比上年同期名义增长8. 5%，扣除价格因素，实际增长6. 3%。其中，城镇居民人均消费支出19014元，增长6. 5%，扣除价格因素，实际增长4. 3%；农村居民人均消费支出8538元，增长12. 0%，扣除价格因素，实际增长9. 8%。

2018年前三季度居民人均消费支出及构成



111. 2018年前三季度，农村居民人均消费支出是全国居民人均消费支出的：

- A. 59. 8%                      B. 75. 1%                      C. 85. 1%                      D. 63. 4%

112. 2018年前三季度，全国居民人均消费支出中所占比例最大的是：

- A. 居住                      B. 医疗保健                      C. 食品烟酒                      D. 教育文化娱乐

113. 2018年前三季度，全国居民人均消费支出中居住消费所占的比例约为：

- A. 28. 5%                      B. 22. 9%                      C. 13. 5%                      D. 8. 9%

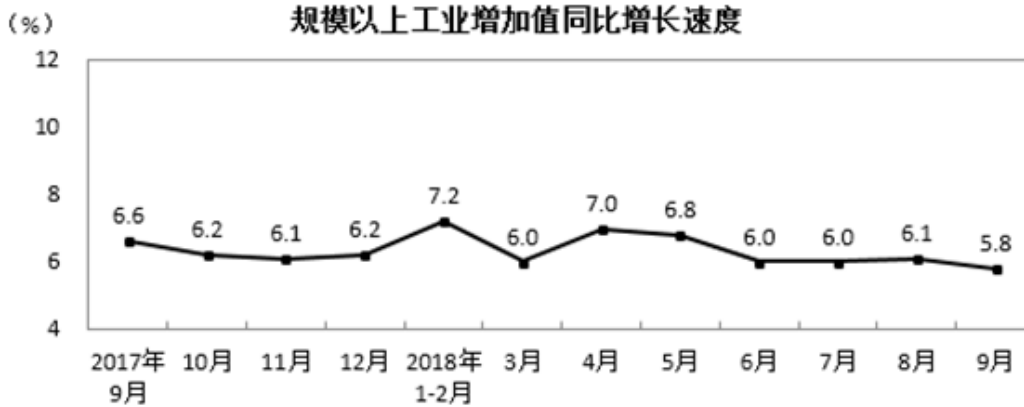
114. 2017年前三季度，全国居民人均消费支出：

- A. 13162元                      B. 13067元                      C. 13434元                      D. 13381元

115. 2018年前三季度，消费价格指数（CPI）增长了：

- A. 6. 3%                      B. 4. 3%                      C. 3. 3%                      D. 2. 2%

2018年9月份，规模以上工业增加值同比实际增长5.8%（以下增加值增速均为扣除价格因素的实际增长率），比8月份回落0.3个百分点。从环比看，9月份，规模以上工业增加值比上月增长0.5%。1-9月份，规模以上工业增加值同比增长6.4%，增速较1-8月份回落0.1个百分点。



分三大门类看，9月份，采矿业增加值同比增长2.2%，增速较8月份加快0.2个百分点；制造业增长5.7%，回落0.4个百分点；电力、热力、燃气及水生产和供应业增长11.0%，加快1.1个百分点。

分经济类型看，9月份，国有控股企业增加值同比增长5.6%；集体企业增长2.0%，股份制企业增长6.3%，外商及港澳台商投资企业增长3.2%。

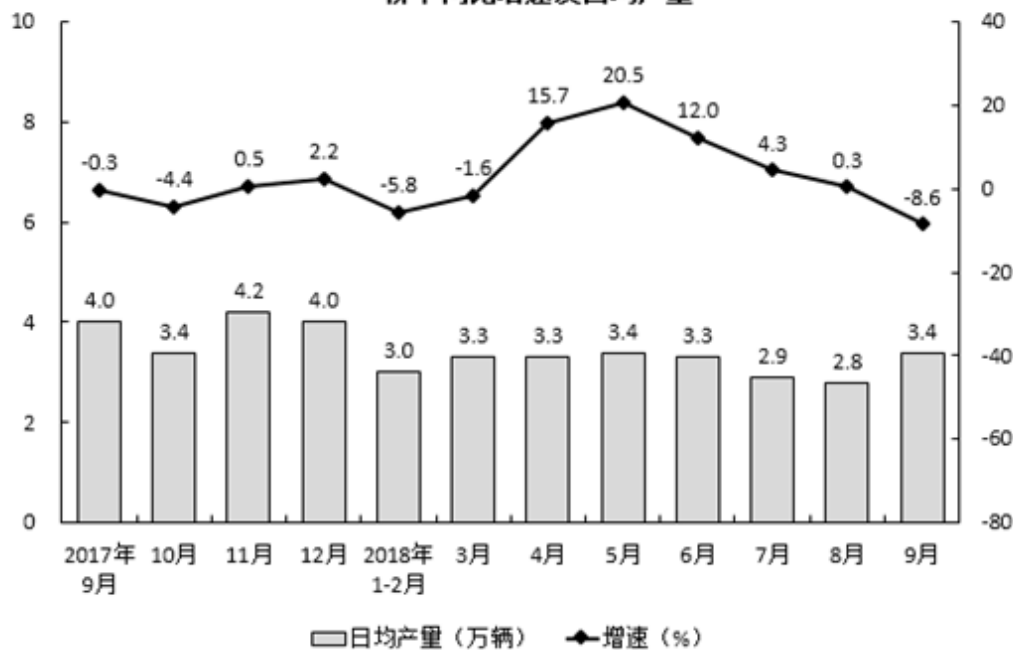
分行业看，9月份，41个大类行业中有38个行业增加值保持同比增长。其中，农副食品加工业增长5.5%，纺织业增长0.8%，化学原料和化学制品制造业增长5.0%，非金属矿物制品业增长5.2%，黑色金属冶炼和压延加工业增长10.1%，有色金属冶炼和压延加工业增长9.8%，通用设备制造业增长6.1%，专用设备制造业增长9.7%，汽车制造业增长0.7%，铁路、船舶、航空航天和其他运输设备制造业增长2.4%，电气机械和器材制造业增长5.2%，计算机、通信和其他电子设备制造业增长12.6%，电力、热力生产和供应业增长11.0%。

分地区看，9月份，东部地区增加值同比增长4.8%，中部地区增长7.0%，西部地区增长7.4%，东北地区增长4.7%。

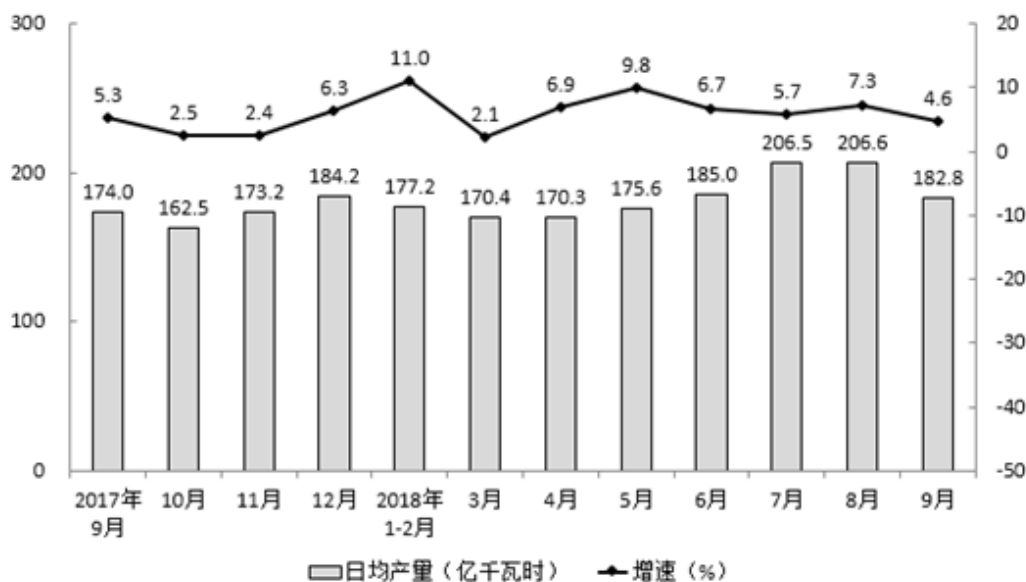
分产品看，9月份，596种产品中有324种产品同比增长。其中，钢材9675万吨，同比增长9.8%；水泥20781万吨，增长5.0%；十种有色金属456万吨，增长5.8%；乙烯161万吨，增长3.5%；汽车242.6万辆，下降10.6%；轿车102.8万辆，下降8.6%；发电量5483亿千瓦时，增长4.6%；原油加工量5134万吨，增长4.9%。

9月份，工业企业产品销售率为98.8%，比上年同月下降0.4个百分点。工业企业实现出口交货值11839亿元，同比增长11.7%。

轿车同比增速及日均产量



发电量同比增速及日均产量



116. 2017年9月至2018年9月，发电量最多的月份是：

- A. 2017年12月                      B. 2018年1月                      C. 2018年7月                      D. 2018年8月

117. 2018年9月水泥产量比2017年同期增加约：

- A. 990万吨                      B. 1039万吨                      C. 864万吨                      D. 948万吨

118. 2017年9月至2018年9月，轿车产量超过百万辆的月份有几个：

- A. 7个                      B. 6个                      C. 5个                      D. 3个

119. 9月份，下列经济类型按照增加值同比增长率由高到低排列正确的是：

- A. 国有控股企业——集体企业——股份制企业——外商港澳台投资企业  
 B. 股份制企业——集体企业——国有控股企业——外商港澳台投资企业  
 C. 股份制企业——国有控股企业——外商港澳台投资企业——集体企业  
 D. 集体企业——外商港澳台投资企业——国有控股企业——股份制企业

120. 以下说法中，错误的是：

- A. 2018年8月，规模以上工业增加值同比实际增长6.1%
- B. 2017年9月工业企业产品销售率为99.2%
- C. 2017年9月至2018年9月规模以上工业增加值月同比增长速度都超过6%
- D. 2018年9月轿车产量超过了8月轿车产量

扫一扫，对答案

