

2020年新疆公务员录用考试《行测》真题（考生回忆版）

更新时间：2024年12月09日15:40:53

扫描下方二维码下载星光公考APP 刷海量题库掌握最新热点



QQ扫码直接下载
微信扫码到应用市场下载
支持所有机型哦

C. 夯实基层基础

D. 农业供给侧结构性改革

10. 作为新疆第三条出疆铁路，全长1213.7公里的（ ）于2020年7月全线铺轨完成，它是我国又一条入疆大动脉。

A. 青喀铁路

B. 兰库铁路

C. 兰喀铁路

D. 格库铁路

11. 被业内专家称为“新疆三峡工程”的（ ）水利枢纽工程于2019年11月19日下闸蓄水，使叶尔羌河彻底告别千年水患。该工程是新疆最大水利枢纽工程，将保证塔里木河生态供水条件下，发挥防洪、灌溉、发电的综合利用功能。

A. 大石门

B. 阿尔塔什

C. 大石峡

D. 乌鲁瓦提

12. 2019年12月29日23时，新疆首个光热发电项目——（ ）一次并网成功。该项目是国家首批光热发电示范项目之一，可实现年供电量1.983亿度。

A. 中核克拉玛依100MW光热发电项目

B. 伊犁尼勒克县大唐60MW光热发电项目

C. 新疆华能电气股份有限公司25万千瓦兆光热发电项目

D. 哈密熔盐塔式50MW光热发电项目

13. 坐落在吐鲁番盆地中央平原的（ ），是新疆地区规模最大、延续时间最长、形制最复杂、影响最深远的一座名城。它奠基于公元前1世纪，是汉魏以来河西及中原移民所营建的中心城市。

A. 高昌故城

B. 楼兰古城

C. 交河故城

D. 北庭故城

14. 下列哪一项不是新疆出土的文物？

A. 阿斯塔那伏羲女娲图

B. 司禾府印

C. 透雕人鸟兽玉饰件

D. “五星出东方利中国”

15. 下列与丝绸之路无关的名胜古迹是：

A. 敦煌莫高窟

B. 克孜尔千佛洞

C. 洛阳白马寺

D. 云冈石窟

16. 关于甲骨文，下列说法不正确的是：

A. 是我国现存最早的文字

B. 既可以表音又可以表意

C. 所用的骨片曾经被当作药材

D. 记录内容大多是卜辞

17. 关于我国税收制度，下列说法不符合法律规定的是：

A. 房产税和车船税都属于财产行为税

B. 目前中央人民政府不在特别行政区征税

C. 我国现行个人所得税征税起征点是5000元

D. 所有税种均由税务部门负责征收

18. 儒释道是影响我国传统文化的主要思想，下列与之相关的说法错误的是：

A. 佛教传入中国后曾被称为“浮屠教”

B. 山西悬空寺是一座儒释道三教合一的寺院

C. 宋代将四书五经确定为唯一的科举考试内容

D. 北魏拓跋焘确立了儒学的主体地位

19. 关于我国农业，下列说法错误的是：

A. 广西、广东、云南三省是我国主要糖料产区

B. 温室大棚占地面积居世界第一

C. 耕地灌溉面积超过10亿亩

D. 农林牧渔中产值占比最低的是畜牧业

20. 下列关于生活常识说法错误的是：

A. 心肺复苏抢救时，胸外心脏按压与人工呼吸的比例为30：2

B. 照相馆废相纸属于可回收垃圾

C. 5G的优势支撑了无人驾驶汽车和无人机的操控

D. 海水稻具有抗病虫和耐盐碱等特性

21. 摄影作品先后顺序：

- ①海浪中的脸
- ②胜利旗帜插到帝国国会大厦
- ③南京大屠杀
- ④希特勒在巴黎

- A. ③④①② B. ②③④① C. ④①③② D. ①②④③

22. 下列关于天文学说法错误的是：

- A. 银河系里存在大量恒星
- B. 就整个地球而言，日环食发生次数少于日全食
- C. 对流层集中了大气中大部分水汽
- D. 大批流星群闯入大气层造成的电离效应可能使远距离电讯异常

23. 下列关于高速铁路说法正确的是：

- A. 沪昆高铁横跨第一、二、三级阶梯
- B. 徐兰高铁经过安徽和湖北
- C. 京广高铁连接了我国两大工业基地
- D. 京哈高铁穿过温带大陆性气候区

24. 关于生活常识，下列说法正确的是：

- A. 双层玻璃中间有一个空气层，是因为空气能保温和隔热
- B. 汽车车身设计成流线型，是为了加大汽车行驶时受到的阻力
- C. 对着电视画面拍照，应开启照相机闪光灯，这样画面更清晰
- D. 看电影时从每个角度都能看到银幕上的画面，是因为银幕产生了光的折射

25. 化学与生产生活息息相关，下列说法错误的是：

- A. 桥梁吊绳中所使用的聚乙烯纤维属于有机合成材料
- B. 蔬菜中残留的农药用酸性物质泡，可降低农药的药性
- C. 印刷电路板常用化学腐蚀剂来生产，这种化学腐蚀剂是氯化铁
- D. 点燃蜡烛的炭黑具有吸附性，因此可点燃蜡烛去除烟味

第二部分 - 言语理解与表达

本部分包括表达与理解两方面的内容。请根据题目要求，在四个选项中选出一个最恰当的答案。

26. 目前存世最早的一张藏书票的制作年代大约是1450年，画面为一只刺猬衔着一枝野花，画面顶端的缎带上写着一行德文，大意是“慎防刺猬随时一吻”，_____不要偷书。

填入划横线处最恰当的一项是：

- A. 警示 B. 预示 C. 揭示 D. 暗示

27. “一带一路”跨文化认同的矛盾除了语言障碍外，还源自文化冲突、利益偏差、政治误解等多种因素。实现价值共识的最好方式就是_____共同的文化记忆，打开被现实利益束缚的_____，找到“一带一路”沿线国家的感情共鸣。

依次填入划横线处最恰当的一项是：

- A. 唤醒 牵绊 B. 挖掘 枷锁 C. 搭建 锁链 D. 追溯 牢笼

28. 猫咪都有着俊俏的脸、明亮的眼睛和毛茸茸的身体，天生可爱讨喜，加上平衡感高，就像体操选手，一举一动、姿态_____。文人都是追求美、歌颂美的，因此光是观察、欣赏猫咪的模样和举动，就是一种绝佳的美感_____，便足以让文人成为猫痴。

依次填入划横线处最恰当的一项是：

- A. 妩媚 玩味 B. 迷人 共鸣 C. 优雅 体验 D. 横生 享受

29. 伴随文化产业的不断创新发展，文创产品不再_____于杯子、笔记本、帆布袋等传统样式。出版业、博物馆、非遗技艺都在跨界融合中结合自身特点，积极拥抱新领域，_____让市场认可且具经济价值的创新产品。依次填入划横线处最恰当的一项是：

- A. 拘泥 研发 B. 倾向 立志 C. 挑战 争取 D. 束缚 渴望

30. 全世界的博物馆正在_____一场数字化革命，用数字技术开拓新的展览形式、增强展览效果、提升参观_____、加强文物保护……数字技术使博物馆在实体之外再造了无数个性化、可以随时随地访问的贴身博物馆。

依次填入划横线处最恰当的一项是：

- A. 部署 距离 B. 酝酿 机遇 C. 了解 情绪 D. 掀起 体验

31. 朱元璋还曾命令手下的天文学家对中国和阿拉伯天文历法系统进行会通，即“欲合而为一，以成一代之历志”，通过将两者结合，制定出一部更为_____的历法。因为两种天文系统存在一些显著的差异，最终未能如愿，但这两种历法在明代_____都被相互参用，成为官方正式采用的两部历法。

依次填入划横线处最恰当的一项是：

- A. 精细 的的确确 B. 明确 或多或少 C. 优秀 毫无疑问 D. 杰出 自始至终

32. 加拿大研究人员选取757名3~4个月大的婴儿，对他们的体重增长情况追踪调查了3年，结果显示：3岁时已经面临超重甚至肥胖问题的孩子，肠道菌群与体重正常的孩子不同。研究人员对参试婴儿的生活环境进行进一步考察后发现，在消毒剂用量最多的家庭中成长的婴儿肠道中所含毛螺菌比平均水平高出了两倍。毛螺菌科细菌以人体内未被消化的碳水化合物纤维为食，使之分解后为身体提供额外的热量。这种细菌的增多导致孩子体内产生过多热量，小小年纪就开始发胖。

这段文字意在：

- A. 揭示家庭消毒剂与婴儿体重的关系 B. 指出婴幼儿时期控制热量摄入的必要性
C. 指出维持肠道菌群正常对健康的重要意义 D. 说明碳水化合物是婴儿时期的重要来源

33. 美国坦普尔大学研究人员以2500多名志愿者为对象，利用计算机对影响未来财富的决定性因素进行排名。这些因素包括：年龄、职业、教育、种族、性别、身高、地理位置以及延迟“即刻满足”的能力（自控力）等。结果显示，职业和教育是预测高收入的最重要因素，其次是所处地理位置和性别，紧跟其后的就是人的自控能力，它对收入的预测性明显超过年龄、种族和身高等因素。研究人员认为，重视儿童自控力的培养有助挖掘孩子未来的赚钱潜力。

最适合做这段文字标题的是：

- A. 性格决定命运 B. 自控力强的人更富有 C. 财富从孩子抓起 D. 神奇的财富猎手

34. 拿破仑去世后，其尸检报告给出的拿破仑官方身高是5尺2寸（法寸），即1.68米左右。按照现在的标准来看并不算高，但有历史学家估计，十八世纪末、十九世纪初，法国人的平均身高大致为1.66米至1.67米。拿破仑是矮个子的说法其实与英法两国间的国际政治相关。1803年《亚眠和约》破裂之后，英国媒体把拿破仑5尺2寸的身高写在了报纸上，画在了漫画中，却没有标明其“法寸”的长度单位。英国读者便用英寸来理解拿破仑的身高，换算为1.57米。

这段文字意在说明：

- A. 说拿破仑是个矮个子纯属误解 B. 其实拿破仑比一般法国人要高
C. 英国人污蔑拿破仑是矮个子 D. 要用历史眼光看拿破仑的身高

35. 世界其他地方的人们也面临着骑乘时安全、便捷、行动多样性等各种因素难以兼顾的难题，为此曾提出各种解决方案，如古罗马人把马鞍四角的鞍鞅大幅垫高，来固定骑手在马背上的位置，古波斯人则用绳带把骑手双腿固定到马鞍上。但构造简单、制作方便、功能全面、使用安全的马镫显然更加完美地解决了痛点，受到广泛欢迎，能够很快取代当地原有的技术。在中世纪伊斯兰史料中，马镫也被称作“中国鞋”，彰显出人们对这一发明原产地的认可。

下列说法与原文不相符的是：

- A. 马镫因便捷、安全、灵活广受欢迎
- B. 马镫是通过丝绸之路传到西方的技术
- C. 古罗马和古波斯人对马镫进行过改良
- D. 伊斯兰地区曾把马镫称作“中国鞋”

36. 吃饱了就困，在医学上称为“醉饭”。人在吃进食物之后，一方面要分泌大量消化液，一方面要消化道蠕动，以消化食物，这两个功能被中医认为是脾气的一部分。这个过程需血液、氧气、水分等帮助工作，导致其他脏器的供血有所减少，大脑也会出现暂时性的缺血现象，人因此出现嗜睡、困倦之感，饭后尤其明显。如果他原本就是脾气虚的，饭后大脑的缺血就会更加严重。这种情况如果不加以干预，严重的可能导致低灌注性的脑中风或者心绞痛。

下列说法与原文不相符的是：

- A. “醉饭”严重决不能掉以轻心
- B. “醉饭”是一种正常的生理反应
- C. “醉饭”是由大脑缺血导致的
- D. 脾气虚的人“醉饭”更强烈

37. 中国特殊的气候环境，使中国形成了热食的习俗。热食不能用手直接接触，需要餐具帮助进餐。战国时期，漆器进入到了饮食器具当中，并逐渐取代了青铜器。在使用漆器承载食物时，如果使用刀、叉来进食，会在漆器表面造成大量的划痕和损伤，影响到漆器的美观。中国古代的先民们利用竹子良好的弹性，首先制造出了“竹夹”，并在使用中积累了经验，最终演化出了筷子。

文中没有提及下列哪一信息：

- A. 中国的筷子由“竹夹”演化而来
- B. 古人用筷子与使用漆器餐具有关
- C. 吃热食的习俗促成了筷子的产生
- D. 战国时期人们放弃刀叉改用竹筷

38. 惠山细货泥人，主要指手捏戏文，更加脱离耍货的样态，成为纯粹的装饰品。细货重手工，有打泥、揉泥、捏脚、捏身、装头、开相、装鸾等约15道工序。塑造极细的手指不开裂断掉，则仰仗惠山地区黑色黏土所具备的特佳的强度硬度。手捏戏文主要表现京昆戏剧场景和一些佛道形象，多以两三人为一组。前面所说王春林、周阿生等敬献的作品当属此类。由于人物造型比例准确，抓住戏剧高潮时人物典型动作，彩绘生动、顾盼生姿，观之如临剧场。

关于惠山细货泥人文段未提及的是：

- A. 传承关系
- B. 主要用途
- C. 材料特点
- D. 工艺流程

39. 如果说，人类已知的“明知识”（即可以用文字、公式、程序、语言表达出来的知识）是冰山的一小角，那么“暗知识”（人类不可感受又不可表达的新知识，即今天正被新机器“发现”的新一类知识）就是冰山下面最大的那块。暗知识会是未来统治和占领整个知识空间最大量的一种知识。我们要做好心理准备。人类知识的权威现在刚刚开始被动摇。未来，机器能掌握和发现的知识会越来越多。慢慢地，我们可能成为小岛一般的存在，被暗知识这个海洋淹没。

这段文字意在说明：

- A. 人类将会被暗知识孤立起来
- B. 暗知识将主宰未来知识领域
- C. 人类的知识权威正逐渐丧失
- D. 人工智能是暗知识的创造者

40. 针对近年来青蒿素在全球部分地区出现的“抗药性”难题，屠呦呦及其团队经过多年攻坚，在“抗疟机理研究”“抗药性成因”“调整治疗手段”等方面取得新突破，于近期提出应对“青蒿素抗药性”难题的切实可行治疗方案，并在“青蒿素治疗红斑狼疮等适应症”“传统中医药科研论著走出去”等方面取得新进展，获得世界卫生组织和国内权威专家的高度认可。

这是一段引言，文章接下来最不可能展开介绍的是：

- A. 青蒿素抗药性研究领域的新突破
- B. 青蒿素治疗红斑狼疮的独特效果
- C. 传统中医药科研论著对世界的贡献
- D. 青蒿素“抗药性”问题出现的原因

41. 美国康奈尔大学通过研究肥胖老鼠和正常老鼠的舌头，发现食用脂肪含量高的饮食会让味蕾数量减少。味蕾是舌头上的结构物，包括约100个细胞，老鼠增肥后，成熟味蕾细胞死亡速度变快，而新生细胞生长速度变慢。

味蕾减少会导致味觉迟钝，味觉迟钝会让肥胖人群很难固定食用某种饮食，因为他们要像比他们多味蕾的正常人一样品尝到同样的美味，就得吃味道更重的食物，这就表明要摄入更多的糖、脂肪、卡路里。

这段文字意在说明：

- A. 味蕾细胞实现新陈代谢的方式
- B. 味觉在食物种类选择中的影响
- C. 肥胖的人更容易长胖的生理因素
- D. 过量食用高脂肪饮食的严重危害

42. 定窑是我国宋代五大名窑之一，与汝、官、哥、钧窑齐名。窑址在河北曲阳，曲阳县宋代属定州，故名定窑。定窑受邢窑影响，以烧制白瓷为主，同时还兼烧黑釉、绿釉等，白瓷釉质莹润，色泽温和，宛若牙雕，透影性相当好。装饰上以生动有力的刻、印花白瓷驰名古今，胜过邢窑。宋金时期清丽素雅的刻花白瓷与富丽堂皇的印花白瓷，是定窑最主要的两个品种，代表了定窑鼎盛时期的典型艺术风格。

下列哪一说法与原文不符：

- A. 宋代和金代是定窑的鼎盛时期
- B. 刻花和印花白瓷是定窑的代表作品
- C. 定窑的白瓷借鉴邢窑又超过了邢窑
- D. 清丽素雅是定窑典型的艺术风格

43. 德国研究人员对1364名志愿者进行跟踪调查，以了解他们在5456天调查期内如何分配时间。结果表明，总体而言，参试者平均每天会花1小时29分钟做家务，但神经质程度级别最高组的人每天比该平均值多做24分钟家务；比情绪最稳定的一组人每天花在家务上的时间则多41分钟。研究人员推测，情绪稳定性差的人比较容易产生焦虑、抑郁情绪，需要一个更整洁的环境以维持心理上的舒适和安全感，因此，他们会花更多的时间打扫。

下列说法与原文不符的是：

- A. 多做家务是神经质人的心理需要
- B. 爱做家务的人情绪稳定性差
- C. 神经质的人容易产生不稳定情绪
- D. 神经质的人需要更整洁的环境

44. 根据目前的考古报道和多项考古证据，中国最早的家绵羊在年代约为距今5600—5000年的甘肃省和青海省一带突然出现，而后向东部传播，在距今约4500年前后进入中原地区。中原地区在年代约为距今4500—4000年的不同地区的多个考古遗址里均发现绵羊骨骼。从历时性的角度观察，中原地区绵羊的出现有一个明显的从无到有、从少到多的发展过程，中国古代家绵羊的出现则明显是西部早、东部晚，很可能有一个自中国西北地区向东传播的过程。

这段文字主要介绍：

- A. 家绵羊在中国的传播过程
- B. 家绵羊在中原地区的考古发现
- C. 古代中原地区家绵羊的来源
- D. 地理环境对家绵羊生存的影响

45. 汉语、藏语、羌语、缅语等400多种东亚语言被认为拥有共同的祖先语言，合称为汉藏语系，这一语系的母语使用人数仅次于印欧语系。一直以来，语言学家对汉藏语系内部各语支亲缘关系、分化时间以及起源地点长期存在争议。近日，复旦大学研究团队宣布，综合运用语言学和遗传学等分析方法，他们发现汉藏语系起源于新石器时代的中国北方，并于约6000年前出现了第一次分化。该成果近日以原创性研究论文形式，在线发表于英国《自然》杂志。

这段文字接下来不太可能介绍的是：

- A. 该团队的研究过程与详细结论
- B. 这一研究所提供的研究范式
- C. 各界对这一研究成果的评价
- D. 汉藏语系与印欧语系的关系

46. ①这些钟虽然用途迥异，但形制没有明显差别，自魏晋南北朝时期出现后，一直沿用至近代，学术界将这一新的古钟类型泛称为“梵钟”。

②这种新的古钟类型包括佛寺宫观使用的“佛道用钟”，还包括城市钟楼报时的“更钟”，以及朝堂禁宫安置的“朝钟”等。

③梵钟的名称虽有“梵”字，但并不是随佛教传入中国，而是由古印度的一种敲击的木板与中国的古钟文化结合而成。

④这是一种完全不同于先秦乐钟的古钟类型。

⑤魏晋南北朝时期，随着佛教的传播与道教的兴起，圆筒形梵钟开始广泛出现。

⑥自此，中国古钟的形制、声韵等都因其应用范围的拓展和使用功能的变化而发生了相应变化。

将以上6个句子重新排列，语序正确的是：

- A. ③⑤⑥④②① B. ⑤③⑥④②① C. ⑤④⑥②①③ D. ④①③⑥⑤②

47. ①早期的铜鼎，因铸造技术的局限，形制比较单一，以锥足圆鼎为主，器壁较薄，纹样简单，充满了原始性

②从公元前21世纪至公元前5世纪，在大约1500年的历史进程中，鼎从一件日常的生活用器逐渐走向政治舞台，成为国家政权的标志

③值得一提的是在商代中期偏晚的时候，以族徽与日名为主题所构成的铭文开始出现，中国国家博物馆藏的后母戊鼎就是这一时期的代表。青铜鼎由此进入了它的繁荣期

④商中期以后，随着铸造技术的提高和日益重要的祭祀的需要，鼎的形制也发生了很大变化：出现了方鼎和分档鼎，且形体也不断变大

⑤鼎是青铜时代最具代表性的器物，贯穿了整个青铜时代的始终

⑥尊贵的社会地位，深厚的精神内涵，完美的艺术形式，汇聚于铜鼎一身，使其成为中国青铜文化的代表

将以上6个句子重新排列，语序正确的是：

- A. ⑤②⑥①④③ B. ②⑤①④⑥③ C. ⑤③①④⑥② D. ①④③⑥⑤②

48. ①进入博物馆，一本本古籍文献知识图书、一张张古籍修复流程和修复前后的对比照片、一件件客家姓氏图腾等文创产品展示，为参观者提供了古籍文献保护、抢救、修复的知识图谱

②古籍修复师们则在三层聚精会神地操作。配纸染纸、配制浆糊、分解书籍、填补虫洞……

③走进洛带古镇，浓郁的客家气息袭来：歇山顶、攒尖顶等各色客家民居古老雅致，广东会馆、川北会馆等客家会馆错落在古镇屋宇间

④古籍修复师们或坐或站、或贴或刻、或裁或粘，按照“整旧如旧”的原则，将善本古籍、古字画、碑帖、档案、票据等还原本来模样

⑤在二楼核心展陈区，杜伟生、徐建华等九位中国当代古籍修复大师、高浮雕传拓大师的修复业绩及学术成果图高高悬挂，他们用过的修复物件整齐摆放，传递着大师们精益求精的“工匠精神”

⑥不多时，一座三层小楼映入眼帘，白墙灰瓦，这便是由四川西部文献修复中心创建的古籍文献修复博物馆

将以上6个句子重新排列，语序正确的是：

- A. ③⑥①⑤②④ B. ①④⑤②③⑥ C. ③①②⑥④⑤ D. ①⑤④②⑥③

49. ①所以，国务院印发了《2019年全国减轻企业负担工作实施方案》

②然而，近年来，一些地方政府拖欠相关方款项的新闻时有发生

③一些地方政府、国企长期拖欠款项可能严重影响经济正常运行

④除了政府，国有大型企业也时有拖欠民营企业款项的情况

⑤提出今年的工作目标之一是持续推进清欠专项行动

⑥现代经济运行中，政府部门被认为是信用最高的，有政府背书的单位在信用评级中都享有较高的评级

将以上6个句子重新排列，语序正确的是：

- A. ③④①②⑥⑤ B. ③①⑥②④⑤ C. ⑥②④③①⑤ D. ⑥②①③④⑤

50. ①这是当今全球城市智能化的必要性和可能性

②若对上述关系处理不当，就会产生各种各样的“城市病”，如交通拥堵、环境污染等

③城市里的人类社会活动与组织也越来越复杂，如基建、服务、交通、物流、能源、通信等诸多子系统，彼此构成错综复杂的共生、促进或制约关系

④社会科学、自然科学和工程技术从这些关系中已形成大量学术成果，但由于学科区分，综合性分析研究较为稀缺

⑤随着城市不断变得更大、更复杂，在城市物理空间中，人造物开始打破与自然物的平衡关系，如建筑、街道、车辆、包装物、垃圾、污水、雾霾，使土壤、江河、大气等面临严峻考验

⑥近年来，互联网、传感器网、大数据、云平台崛起，城市中错综复杂的关系已通过数字化映射到信息空间，对它们的学习、分析、综合变得可能

将以上6个句子重新排列，语序正确的是：

- A. ⑤③②④⑥① B. ⑥①③⑤②④ C. ⑥①④⑤③② D. ⑤③④②⑥①

第三部分 - 数量关系

在这部分试题中，每道试题呈现一段表述数字关系的文字，要求你迅速、准确地计算出答案。你可以在草稿纸上运算。

51. 86, 41, 27, 18, 13, 6, 5, ()

- A. 1 B. 2 C. 3 D. 4

52. 1, 1, 7, 8, 10, 18, ()

- A. 21 B. 25 C. 30 D. 45

53. 18, 26, 50, 122, 338, ()

- A. 628 B. 961 C. 986 D. 1014

54. 40, 56, 78, 106, 122, (), 172

- A. 137 B. 144 C. 148 D. 166

55. 2, 12, 28, 56, 102, 172, ()

- A. 202 B. 214 C. 242 D. 272

56. 某阶梯会议室有16排座位，后一排比前一排多2个，最后一排有40个座位。这个阶梯会议室共有多少个座位？

- A. 300 B. 350 C. 400 D. 440

57. 某美术馆计划展出12幅不同的画，其中有3幅油画、4幅国画、5幅水彩画，排成一行陈列，要求同一种类的画必须连在一起，并且油画不放在两端，问有多少种不同的陈列方式？

- A. 不到1万种 B. 1万—2万种之间 C. 2万—3万种之间 D. 超过3万种

58. 某新型建材生产车间计划生产480个建材，当生产任务完成一半时，暂时停止生产，对器械进行维修清理，用时20分钟。恢复生产后工作效率提高了三分之一，结果完成任务时间比原计划提前了40分钟，问对器械进行维修清理后每小时生产多少个建材？

- A. 80 B. 87 C. 94 D. 102

59. 某地居民生活使用天然气每月标准立方数的基本价格为4元/立方，若每月使用天然气超过标准立方数，超出部分按其基本价格的80%收费。某用户2月份使用天然气100立方，共交天然气费380元，则该市每月使用天然气标准立方数为多少立方？

- A. 60 B. 65 C. 70 D. 75

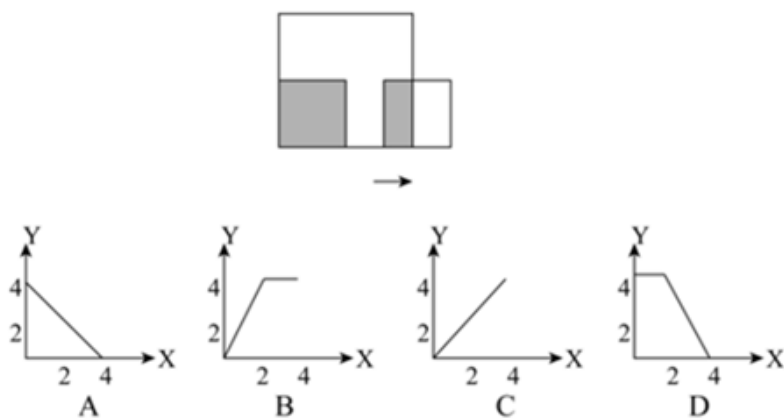
60. 某单位共有240名员工，其中订阅A期刊的有125人，订阅B期刊的有126人，订阅C期刊的有135人，订阅A、B期刊的有57人，订阅A、C期刊的有73人，订阅3种期刊的有31人，此外，还有17人没有订阅这三种期刊中的任何一种。问订阅B、C期刊的有多少人？

- A. 57 B. 64 C. 69 D. 78

61. 56人参加户外拓展训练，将22人安排在A营地，34人安排在B营地。从12:01开始，每逢整点A营地派出12人前往B营地，B营地派出8人前往A营地。已知两个营地之间的单程用时为30分钟，问以下哪个时间点，位于B营地的人数正好是A营地的3倍？

- A. 13:20 B. 13:40 C. 14:20 D. 14:40

62. A、B两地相距600千米，甲车上午9时从A地开往B地，乙车上午10时从B地开往A地，到中午13时，两辆车恰好



A. 如图所示

B. 如图所示

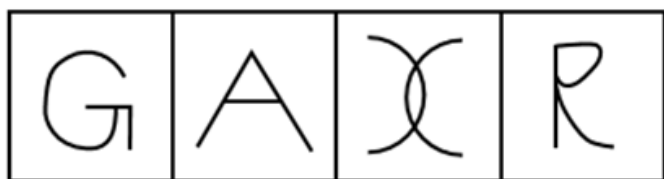
C. 如图所示

D. 如图所示

第四部分 - 判断推理

本部分包括图形推理、定义判断、类比推理与逻辑判断四种类型的试题，请按每道题的答题要求作答。

71. 从所给的四个选项中，选择最合适的一个填入问号处，使之呈现一定的规律性：【2020新疆071】



A

B

C

D

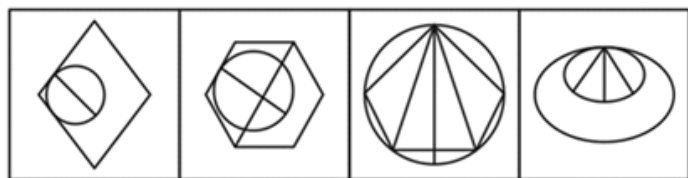
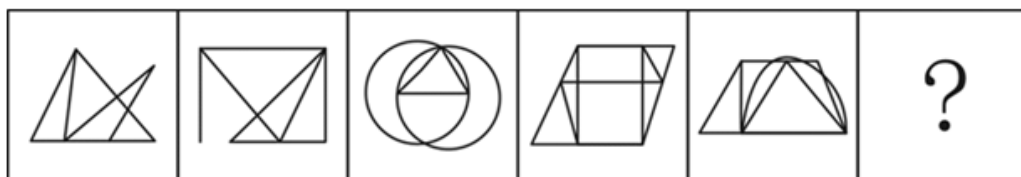
A. 如图所示

B. 如图所示

C. 如图所示

D. 如图所示

72. 从所给的四个选项中，选择最合适的一个填入问号处，使之呈现一定的规律性：【2020新疆072】



A

B

C

D

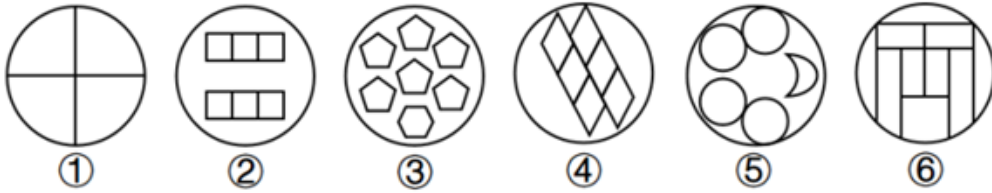
A. 如图所示

B. 如图所示

C. 如图所示

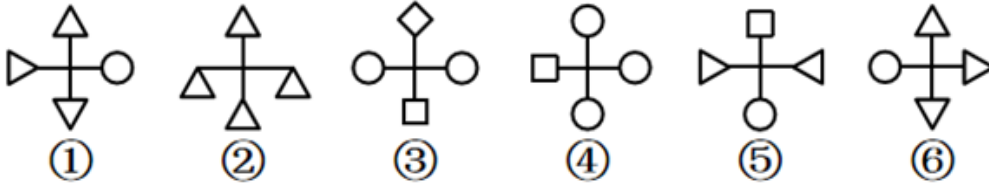
D. 如图所示

73. 把下面的六个图形分为两类，使每一类图形都有各自的共同特征或规律，分类正确的一项是：【2020新疆073】



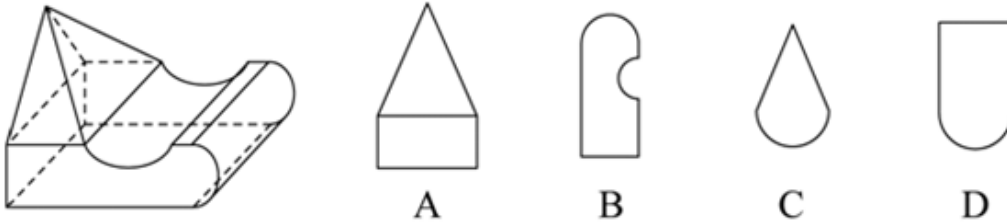
- A. ①④⑤, ②③⑥ B. ①⑤⑥, ②③④ C. ①③⑤, ②④⑥ D. ①④⑥, ②③⑤

74. 把下面的六个图形分为两类, 使每一类图形都有各自的共同特征或规律, 分类正确的一项是: 【2020新疆074】



- A. ①④⑤, ②③⑥ B. ①②⑤, ③④⑥ C. ①②⑤, ③④⑥ D. ①④⑥, ②③⑤

75. 左图是给定的立体图形, 将其从任一面剖开, 立体截面是: 【2020新疆075】



- A. 如图所示 B. 如图所示 C. 如图所示 D. 如图所示

76. 教育斗富是指在教育领域里打着“造福孩子”的旗帜相互攀比建设豪华学校, 而忽视其实用性的现象。根据上述定义, 下列哪项不涉及“教育斗富”?

- A. 某中学增建大广场, 校园里的建筑物使用的是大理石, 教室内配备了有线电视、广播、同声监控等系统, 但是这些设备在教学中很少使用
B. 某中学配备了现代化的教学设施, 但这些设施平常束之高阁, 只有领导来视察时才会被启用
C. 某小学配备了众多高端且先进的教学设施, 校园各处随时方便上网, 造成不少孩子一下课就上网
D. 某大学增建学生宿舍, 花大量资金更新各实验室设备, 高薪聘请精专人才来校执教, 大量高端人才慕名而来

77. 绿色消费, 是指以节约资源和保护环境为特征的消费行为, 主要表现为崇尚勤俭节约, 减少损失浪费, 选择高效、环保的产品和服务, 降低消费过程中的资源消耗和污染排放。

根据上述定义, 下列不属于绿色消费的是:

- A. 刘阿姨在孩子电动玩具中, 从不使用镍镉电池, 更喜欢使用充电电池
B. 小李个人比较讲究卫生, 在食堂就餐时经常选择一次性木筷和纸杯
C. 老王对食材比较讲究, 喜欢简单烹饪的天然食品, 不喜欢反复加工和带防腐剂的食品
D. 某装饰公司宣传新的家装理念, 强调用天然材料装饰房间, 倡导旧家具翻新利用

78. 求同法也叫契合法, 是探求事物之间因果联系的方法之一。其基本内容是, 在被研究现象a出现的若干场合中, 只有一个先行情况是相同的, 那么, 这个相同的先行情况就是被研究现象a的原因。

根据上述定义, 下列属于求同法的是:

- A. 在若干要求离婚的案例中, 情况各不相同, 但双方感情破裂是相同的。可见, 双方感情破裂是要求离婚的重要原因
B. 一些社区居民牙齿都非常健康, 居民也注重保护牙齿, 经调查研究发现, 这些社区水源中都含有天然氟化物, 可见, 水源中含有氟化物是这些社区居民牙齿健康的原因

- C. 某人连续三个夜晚出现失眠，第一晚，他看了两小时书，喝了几杯浓茶；第二晚，他看了两小时书，抽了很多烟；第三晚，他看了两小时书，喝了两杯咖啡。可见喝浓茶、喝咖啡、吸烟是失眠的原因
- D. 一对双胞胎去饭店就餐，所吃其他食物相同，一个吃了冰激凌，出现腹泻，另一个没吃冰激凌，没出现腹泻，因此，吃冰激凌是导致腹泻的原因

79. 外显学习是有意搜寻或把规则应用于刺激物领域的学习。在外显学习的过程中，人们的学习行为受意识的控制、有明确目的、需要注意资源、要作出一定的努力。内隐学习是指一种无需意志努力的潜意识的学习。这种学习的特点在于人们潜意识地获得某种知识，而且无需意志努力就可以将这些知识提取出来，并应用于特定任务的操作中。

根据上述定义，下列属于外显学习的是：

- A. 小红经常听姐姐唱歌，时间一长，她也掌握了唱歌的技巧
- B. 生长在相声世家的小刘，经耳濡目染，很小就会说几句相声了
- C. 小周在中考前做了大量的英语习题，因此在英语考试中获得满分
- D. 小方经常陪着爷爷去下围棋，不知不觉他也会下围棋了

80. 玩忽职守罪是指国家机关工作人员对工作严重不负责任，不履行或者不正确履行自己的工作职责，致使公共财产、国家和人民利益遭受重大损失的行为。

根据上述定义，下列行为属于玩忽职守罪的是：

- A. 法官执行判决时严重不负责任，因未履行法定执行职责，致当事人利益遭受重大损失
- B. 值班警察与女友电话聊天时接到杀人报警，又闲聊10分钟后才赶往现场，因延迟出警，致被害人被杀、歹徒逃走
- C. 检察官讯问犯罪嫌疑人甲时，甲要求上厕所，因检察官违规打开械具后未跟随，致甲在厕所翻窗逃跑
- D. 市政府基建负责人因听信朋友介绍，未经审查便与对方签订建楼合同，致被骗300万元

81. 共情可以划分为情绪共情和认知共情。前者是共情的初级形式，指的是“感其所感”，即我们的情绪会受到他人情绪（如痛苦、快乐）的感染；后者则指认知上采纳他人的观点，进入另一个人的角色，使得我们能理解他人，知道他人感受到了什么，并准确理解他人的想法。

根据上述定义，下列属于认知共情的是：

- A. 将心比心 B. 感同身受 C. 志同道合 D. 身临其境

82. 彼得原理也被称为“向上爬”原理，是美国学者劳伦斯·彼得根据千百个有关组织中不能胜任的失败实例进行分析而归纳得出的一个结论，即在各种组织中，由于习惯于对在某个等级上称职的人员进行晋升提拔，因而雇员总是趋向于晋升到其不称职的地位。

根据上述定义，下列现象中符合彼得原理的是：

- A. 赵某因业务能力强，业绩突出，最近被提升为部门经理
- B. 优秀女排运动员张某，退役后被女排国家队聘为教练，工作获得高度认可
- C. 李某因岳父是公司的董事，入职后就被任命为中层管理者，但由于没有相关经验，他干得力不从心
- D. 奥克曼是莱姆汽修公司的杰出技师，当公司调升他做行政主管后，他每天忙得焦头烂额，疲惫不堪，毫无成就感

83. 虚假同感偏差也叫虚假一致性偏差，是指人们常常会高估或夸大自己的信念、判断及行为的普遍性。在认知他人时总喜欢把自己的特性赋予他人身上，假定他人与自己是相同的，而当遇到与此相冲突的信息时，会坚信自己信念和判断的正确性。

根据上述定义，下列不属于虚假同感偏差的是：

- A. 小明非常喜欢玩网络游戏，经常逃课去玩游戏，他认为那些整天学习的同学，是因为家里看得紧想玩却玩不成
- B. 张某和李某都是人文学院的青年教师，经常在一起讨论学术问题，两人往往各执一词，都认为对方是错的

- C. 妈妈边带孩子边做家务，干得大汗淋漓，就把自己的外衣脱了。她生怕旁边的孩子也热着，就帮孩子把衣服也脱掉了，导致孩子受凉感冒
- D. 有一些大学生会挂着广告牌在校园里闲逛以获得报酬，他们认为那些不同意挂的人是自命清高的胆小鬼，而不同意挂广告牌的人 would 认为同意挂的人是装疯卖傻

84. “模棱两不可”是违反普通逻辑基本规律排中律要求所犯的逻辑错误。排中律要求，在同一时间、同一关系下，对同一对象做出的具有矛盾关系或下反对关系的命题，不能都加以否定。如果都加以否定，就会犯“模棱两不可”的错误。

根据上述定义，下列犯了“模棱两不可”错误的是：

- A. 并非有人去考试了，也并非没人去考试
- B. 不能任何人的话都相信，也不能任何人的话都不信
- C. 不是所有人都看电视直播了，也不是所有人都没看电视直播
- D. 讨论某甲是否有罪时，起初有人说：不能说某甲是有罪的；随着调查的深入，又有人说：也不能说某甲就没有罪

85. 划分就是把一个概念所反映的对象分为几小类来明确概念外延的逻辑方法，也可以说是把一个外延较大的属概念分成几个并列的种概念的逻辑方法。分解是在思维中将一个对象分成几个部分，反映部分的概念和反映整体的概念之间不是种属关系。

根据上述定义，下列属于正确划分的是：

- A. 定义分为被定义项、定义项和定义联项
- B. 呼和浩特市分为新城区、回民区、赛罕区、玉泉区
- C. 宇宙中的天体可分为自然天体和人造天体
- D. 刑罚分为主刑、剥夺政治权利、没收财产等

86. 根据国家卫健委的数据，约有三分之一的中小学生每天户外运动时间不足一小时，超过的中小学生睡眠时间不达标，同时，重压也对青少年的健康造成影响，近视率不断上升，原因主要是家庭作业耗时太长。为此，有教育部门认为，晚上睡个好觉或许对孩子们更重要，在父母同意的情况下，孩子可在指定的睡眠时间后不做尚未完成的作业。但家长们并不感到高兴，他们担心自己的孩子最终只能上低质量的学校。

以下哪项如果为真，最有助于解释家长们的担心：

- A. 新规虽可能会减轻学生的作业负担，但现行规则下，大学都是依据高考成绩选择学生
- B. 未来将开展人工智能辅助教学，学生们耗费在家庭作业上的时间将大大减少
- C. 有研究证明，良好的睡眠能够提高学习效率，有助于提高学习成绩
- D. 高校录取机制将进行新的改革，关注学生成绩的同时也会更加重视学生的综合素质

87. 近年来，“斜杠青年”成为很多人的时尚追求。它指的是一群不再满足“专一职业”生活方式，而选择拥有多重职业和身份的多元生活人群。对此，有人认为，新产业新技术新业态不断更迭，激烈的竞争促使青年人不断进行自我更新，“我们已经开始进入‘不斜杠即淘汰’的快速变化的社会”，然而，也有反对者指出，对于“斜杠青年”，社会可给予更多的理解和支持，但不能成为多数人的盲目追捧。

以下哪项如果为真，最能支持上述反对者的观点：

- A. “斜杠青年”本身就给人一种不踏实，不靠谱的感觉，不值得提倡
- B. 人一辈子精力有限，今天学这个，明天干那个，最后哪个也没干好，所以要专注才行
- C. “斜杠青年”的生活方式需要实力来支撑，他们实际上都是一群自控力强，经历过长期的自我投资与积累，并且拥有某种核心竞争力的人
- D. 斜杠与年龄无关，越成熟的人成为斜杠的可能性越大，因为时间和阅历会让人更了解自己，并且有足够多的时间投入到喜欢的事情中

88. 电动车和内燃汽车的竞争已有百余年的历史。很长一段时间里，内燃汽车发展一枝独秀，获得了长足的进步。

近十几年，随着电池技术的发展，电动车已占领多个领域，如自行车、摩托车、小型运输车以及大型的城市公交、机场港口摆渡车等。由此，有人提出电动车全面取代内燃汽车的时刻即将到来，甚至一些国家和地方纷纷提出了禁售燃油汽车时刻表。但也有反对者称，未来在相当长的时期内，内燃动力与电动力汽车还会相向而行。以下哪项如果为真，最能支持反对者上述观点：

- A. 内燃动力汽车经一百多年的发展，已十分成熟
- B. 废旧电池处理、电池中特殊材料的资源应用，可能会带来一些社会问题
- C. 有专家指出，从纯电动车生命周期评估，二氧化碳的排放量未必少于汽油车
- D. 电动汽车发展的三大焦虑即里程焦虑、充电焦虑与电池焦虑表明，动力电池技术远未成熟，攻关道路仍很漫长

89. 近年来，压力重重的城市居民一直在绿色空间中寻找避风港，因为事实证明，绿色空间对身心健康有积极作用，而这常常被用作修建更多的市内公园和开辟更多林地的论据。而“蓝色空间”——海洋、河流、湖泊、瀑布甚至喷泉的好处没有那么广为人知。然而至少10年来，科学家始终认为：临水对人的身心都有好处。

以下哪项如果为真，最不能支持上述结论：

- A. 研究发现，每周至少去海边两次的人精神健康状况更好
- B. 有研究证明，持续待在城市环境中更让人容易感到疲劳，心情抑郁
- C. 水生环境有独特的有利环境因素，如空气污染少、阳光更多，临水生活的人往往更加积极地参与体育锻炼，如水上运动、步行，临水还具有心理康复作用
- D. 研究表明，与绿色空间相比，待在水生环境中或附近可以激发积极情绪同时减少消极情绪和压力

90. 一直以来，科学家们为鸟类祖先是誰争论不休。关于鸟类的起源主要有槽齿类起源说、恐龙起源说和鳄类姊妹群说三种，其中槽齿类起源说和恐龙起源说最近争论得比较激烈。近年新发现的化石特别是在中国辽西发现的一系列化石再一次挑起鸟类起源的争论，证明鸟真的是恐龙的后代。

以下哪项如果为真，最能支持上述结论：

- A. 在恐龙家族中，有的恐龙不仅有羽毛，还有翅膀
- B. 北美发现的原鸟比中华龙鸟和始祖鸟要早几千万年，如果原鸟确实是鸟类，则鸟类几乎与恐龙同时出现
- C. 科学家利用电子显微镜，在恐龙化石里找到了一种黑色素体，这种黑色素体在现在鸟类的羽毛中也有，是恐龙基因的延续
- D. 有研究认为中华龙鸟是长有“羽毛”的兽脚类恐龙，与美颌龙类似，其“羽毛”与真正鸟类的羽毛有所不同

91. “裸婚”是指不办婚礼甚至没有婚戒而直接领证结婚的一种简朴的结婚方式。由于生活压力以及现代人越来越强调婚姻的自由和独立，婚礼在年轻一代的婚姻中被重视的程度日益削弱。裸婚的盛行，在社会上引起了广泛的关注和热议。有社会学家认为，年轻人主动选择裸婚的做法值得大力提倡，它是一种打破数千年来封建观念束缚的结婚方式，更是一种价值取向进步的体现。

以下哪项如果为真，最能质疑上述观点：

- A. 一项关于裸婚态度的调查结果显示，42.8%的人表示因条件所限才会选择裸婚，有八成人坦承裸婚风险很大
- B. 裸婚的出现，是对“有房有车有钻戒”的传统择偶条件和结婚标准的否定，但作为新生事物，发展中可能会有很多阻力
- C. 据网上一项调查显示，赞成裸婚的年轻人占了大约六成，他们认为“爱情就应该抛弃金钱的世俗，真心相爱才是最重要的”
- D. 裸婚一方面体现了现代社会对婚姻理解的转变，另一方面也体现了现代社会物质观念的转变

92. 我国的交强险于2006年7月正式实行，于2007年7月开始普遍推行。作为第一项法定强制险种，交强险经营的总体要求是不亏不盈。而事实上，自2007年开办以来，除了2008年实现盈利7.6亿元外，其余年份均为亏损，交强险累计承保利润为-508亿元，承保利润率为，直到2018年才扭转了12年半的亏损局面。但在66家经营交强险的公司中，40家盈利，仍有26家亏损。对一些保险公司来说，交强险是一种非但不赚钱，还多年连续亏损，却始终坚持不能放弃的业务。

101. 轮胎：自行车：代步

- A. 针头：注射器：预防 B. 衣服：晾衣架：晾晒 C. 风机：油烟机：排烟 D. 乘客：公交车：通勤

102. 甲早于乙：乙早于丙：甲早于丙

- A. 甲战胜乙：乙战胜丙：甲战胜丙 B. 甲属于乙：乙属于丙：甲属于丙
C. 甲信任乙：乙信任丙：甲信任丙 D. 甲帮助乙：乙帮助丙：甲帮助丙

103. 竞聘 对于 () 相当于 () 对于 回报

- A. 演讲 报酬 B. 岗位 补偿 C. 连任 投资 D. 任期 付出

104. 喀纳斯 对于 () 相当于 () 对于 云南

- A. 新疆 丽江 B. 景区 旅游 C. 喀什 米线 D. 青海 傣族

105. () 对于 做饭 相当于 车间 对于 ()

- A. 厨师 机器 B. 燃气 零件 C. 刀具 噪音 D. 厨房 生产

第五部分 - 资料分析

针对下列图、表或文字回答问题。你应根据资料提供的信息进行分析、比较、计算、处理。你可以在题本上运算。

2014年，全国房地产开发投资95036亿元，比上年增长10.5%，增速比2013年回落9.3个百分点。其中，住宅投资64352亿元，增长9.2%。

2014年，全国商品房销售面积120649万平方米，比上年下降7.6%，降幅比1—11月份收窄0.6个百分点，2013年为增长17.3%；商品房销售额76292亿元，下降6.3%，降幅比1—11月份收窄1.5个百分点，2013年为增长26.3%。

2014年分地区房地产开发投资额及同比增速

地区	总投资		住宅投资	
	金额(亿元)	增速(%)	金额(亿元)	增速(%)
东部	52941	10.4	35477	8.5
中部	20662	8.5	14552	9.7
西部	21433	12.8	14323	10.3

2014年，东部地区商品房销售面积54756万平方米，比上年下降13.7%，降幅比1—11月份收窄1.3个百分点；销售额43607亿元，下降11.6%，降幅收窄2.1个百分点。中部地区商品房销售面积33824万平方米，下降3.9%，降幅收窄0.4个百分点；销售额16558亿元，增长0.2%，1—11月份为下降0.9%。西部地区商品房销售面积32068万平方米，增长0.6%，增速回落0.6个百分点；销售额16127亿元，增长3.5%，增速回落0.6个百分点。

106. 2012年全国房地产开发投资额为多少亿元？

- A. 71790.8 B. 67835.2 C. 31248.1 D. 24156.3

107. 2014年，全国商品房销售面积比上年减少多少万平方米？

- A. 10004.7 B. 9923.5 C. 9014.2 D. 8799.3

108. 2013年西部地区商品房销售价格为：

- A. 3694元/平方米 B. 4674元/平方米 C. 4888元/平方米 D. 5008元/平方米

109. 2013年，东部地区住宅投资占投资额的比重约为：

- A. 72% B. 68% C. 52% D. 47%

110. 能够从上述资料中推出的是：

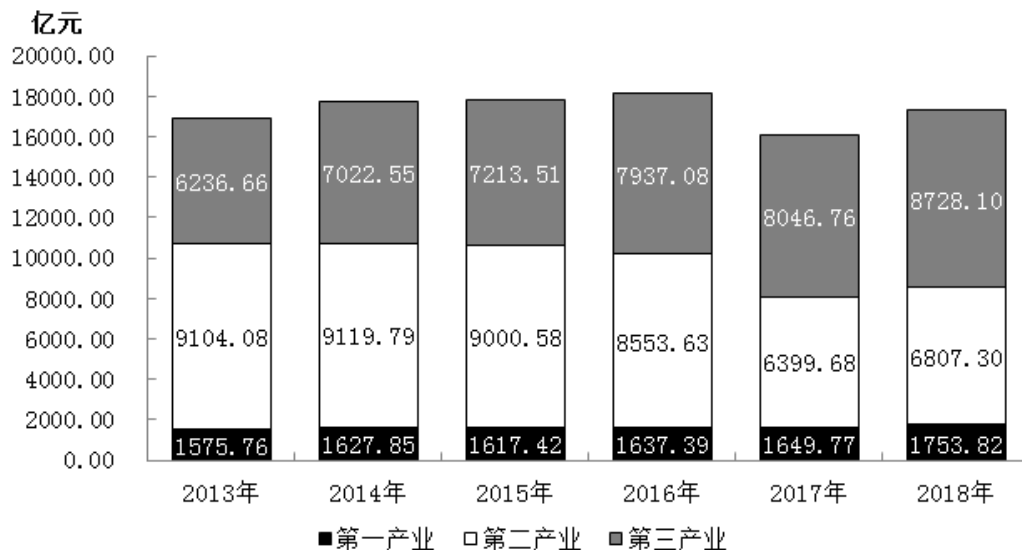
- A. 2013年东部地区的商品房销售额超过50000亿元

- B. 2014年我国东部地区住宅投资额低于中、西部地区之和
- C. 2014年我国东部地区房地产投资额是西部地区的3倍多
- D. 2014年住宅投资占房地产开发投资的比重不到七成

2018年N省规模以上工业增加值比上年增长7.1%，增速比上年提高4.0个百分点。其中，新产品增长强劲。石墨及碳素制品增长42.8%，单晶硅增长1.2倍，多晶硅增长47.1%，汽车增长26.6%。

1—11月，N省规模以上工业企业实现利润总额达到1332.8亿元，同比增长16.2%，同期全国平均水平为11.8%。其中，制造业利润474.48亿元，同比增长24.7%。规模以上工业企业主营业务收入利润率为10.6%，同比提高0.3个百分点，也高于全国平均水平4.1个百分点。

2013—2018年N省GDP中三大产业构成



111. 2018年1—11月，N省制造业利润额约占规模以上工业企业实现利润总额的：

- A. 24.7%
- B. 35.6%
- C. 40.2%
- D. 46.5%

112. 2018年1—11月，全国规模以上工业企业主营业务收入利润率平均水平为：

- A. 10.9%
- B. 10.3%
- C. 6.5%
- D. 4.1%

113. 将N省2018年规模以上工业新产品按增加值增速从高到低排序，正确的是：

- A. 单晶硅>多晶硅>石墨及碳素制品>汽车
- B. 单晶硅>石墨及碳素制品>多晶硅>汽车
- C. 汽车>石墨及碳素制品>多晶硅>单晶硅
- D. 单晶硅>石墨及碳素制品>汽车>多晶硅

114. 2013—2018年间，N省GDP中第二产业增加值占比过半的年份有几个？

- A. 1
- B. 2
- C. 3
- D. 4

115. 不能从上述资料中推出的是：

- A. 2016年N省GDP同比增量高于2015年水平
- B. 2017年，N省规模以上工业增加值增速超过11%
- C. 2018年1—11月，N省规模以上工业企业中，非制造业企业利润同比正增长
- D. 2016—2018年，N省累计GDP低于2013—2015年水平

2018年，M省进出口总值达到1034.4亿元，比上年增长9.9%。其中，出口378.6亿元，增长14.4%；M省加工贸易进出口总值比上年增长82.1%。与“一带一路”沿线国家贸易保持快速增长，其中对蒙古国、越南、德国、荷兰进出口分别比上年增长24.1%、1.4倍、64.2%和40.3%。全省实际利用外资31.6亿美元，比上年增长0.3%。

煤、锯材、铜矿砂为进口值前三的商品，三者合计占同期进口总值的55.8%；钢材、机电产品、农产品为出口值

前三的商品，三者合计占同期出口总值的53.9%。2018年M省对“一带一路”沿线国家外贸进出口699.3亿元，增长14.6%，占同期外贸进出口总值的67.6%。其中对蒙古国外贸进出口327.7亿元，增长24.1%。

图1 2018年M省分类型出口贸易占比

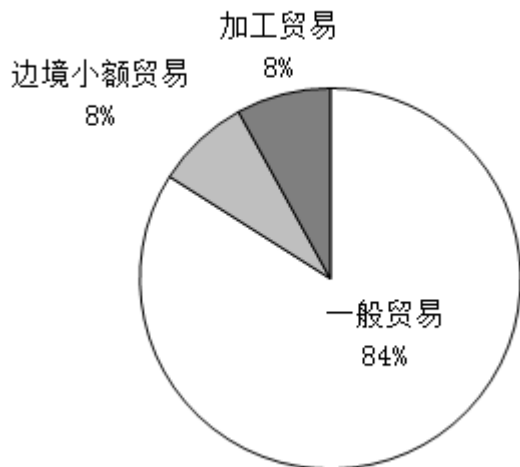
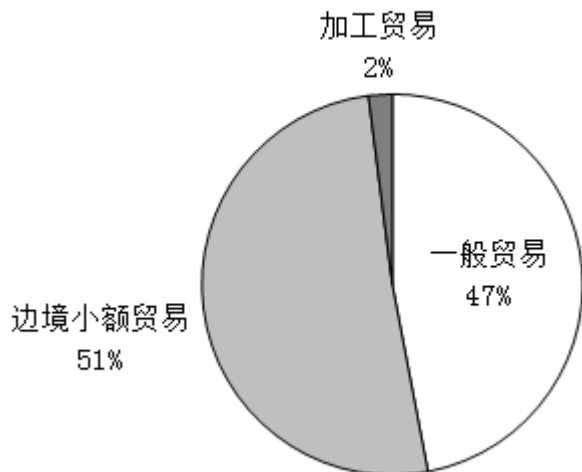


图2 2018年M省分类型进口贸易占比



116. 2018年，M省进口总值为：

- A. 330.9亿元 B. 378.6亿元 C. 655.8亿元 D. 657.9亿元

117. 2018年下列“一带一路”沿线国家中，与M省贸易额同比增速最快的是：

- A. 蒙古国 B. 荷兰 C. 德国 D. 越南

118. 2017年M省对“一带一路”沿线国家外贸进出口总值为多少亿元？

- A. 509.2 B. 610.2 C. 699.3 D. 819.3

119. 2018年M省边境小额贸易中，进口额约是出口额的多少倍？

- A. 6 B. 8 C. 11 D. 13

120. 关于2018年M省进出口情况，不能从上述资料中推出的是：

- A. 进口总值同比增速低于10%
 B. 对蒙古国外贸进出口总值低于对“一带一路”沿线国家外贸进出口总值的一半
 C. 外贸出口中边境小额贸易与加工贸易所占比例相等
 D. 钢材、机电产品、农产品三者合计出口额超过240亿元

扫一扫，对答案

