

2021年新疆兵团公务员录用考试《行测》真题（行政执法卷-考生回忆版）

更新时间：2024年12月09日15:39:00

扫描下方二维码下载星光公考APP 刷海量题库掌握最新热点



QQ扫码直接下载
微信扫码到应用市场下载
支持所有机型哦

第一部分 - 常识判断

根据题目要求，在四个选项中选出一个最恰当的答案。

1. 关于习近平新时代中国特色社会主义思想，表述不正确的是：

- A. 中国特色社会主义最本质的特征是以人民为中心
- B. 新时代我国社会主要矛盾是人民日益增长的美好生活需要和不平衡不充分的发展之间的矛盾
- C. 全面推进依法治国总目标是建设中国特色社会主义法治体系、建设社会主义法治国家
- D. 中国特色大国外交要推动构建新型国际关系，推动构建人类命运共同体

2. 关于《中华人民共和国民法典》，以下表述正确的是：

- A. 编纂民法典是坚持和完善中国特色社会主义制度的现实需要
- B. 民法典由全国人大常委会办公室负责牵头制定
- C. 最高人民法院对民法典作出的法律解释不具有法律效力
- D. 民法典施行后，之前颁布的民事单行法律自动作废

3. 下列新思想与新提法按照提出的时间先后顺序排列正确的是：

①五大发展理念②三严三实③五位一体④四个意识⑤四个自信

- A. ③②①④⑤
- B. ③④⑤①②
- C. ⑤④①③②
- D. ⑤④③②①

4. 下列哪一项成语所关联的主要人物与其他三项不同？

- A. 多多益善
- B. 才高八斗
- C. 一饭千金
- D. 暗度陈仓

5. 下列“三部曲”的作者与其包含的作品对应错误的是：

- A. 巴金—爱情三部曲—《家》《春》《秋》
- B. 茅盾—农村三部曲—《春蚕》《秋收》《残冬》
- C. 郭沫若—女神三部曲—《女神之再生》《湘累》《棠棣之花》
- D. 曹禺—话剧三部曲—《雷雨》《日出》《原野》

6. 下列经济名词解释错误的是：

- A. 寡头垄断是指整个行业中只有一个生产者的市场结构
- B. 洛伦兹曲线是用以反映国民收入分配平均程度的一种曲线
- C. 基尼系数是一个衡量分配不平等程度的指标
- D. 边际效用是指消费者在一定时间内增加单位商品所引起的总效用的增加量

7. 下列关于我国主要地理分界线的说法，表述正确的是：

- A. 长江水系和黄河水系的分水岭是南岭
- B. 冬小麦和春小麦种植区的分界线是黄河一线
- C. 汉水和渭河的分界线是武夷山
- D. 季风区和非季风区的分界线包含巴颜喀拉山脉

8. 下列说法错误的是：

- A. 洛川会议把领导农民进行秋收起义作为党的最主要的任务
- B. 古田会议通过了关于纠正党内错误思想的决议案，是中国共产党和红军建设的纲领性文件
- C. 八七会议确立了农村包围城市的革命路线
- D. 遵义会议确立了毛泽东在红军和党中央的领导地位，成为党的历史上一个生死攸关的转折点

9. 诗句“已晚相逢半山碧，便忙也折一枝黄。花应冷笑东篱族，犹向陶翁觅宠光。”描写的植物是：

- A. 菊花
- B. 桂花
- C. 迎春花
- D. 向日葵

10. 以下关于我国科技成就的说法错误的是：

- A. 2020年6月23日，在西昌卫星发射中心成功发射第55颗北斗导航卫星
- B. 2020年9月21日，海洋二号C星成功发射，是我国海洋动力环境监测网的第一颗卫星
- C. 2020年5月5日，长征五号B运载火箭在海南文昌首飞成功
- D. 嫦娥四号着陆器和“玉兔二号”月球车分别于2020年11月10日和11月9日结束月夜休眠，迎来第24月昼
11. 下列观点属于客观唯心主义的是：
- A. 万物的本源是水
- B. 万物皆备于我
- C. 存在即是被感知
- D. 世界是绝对观念的异化
12. 下列名词与其英文缩写对应不正确的是：
- A. 博鳌亚洲论坛——BFA
- B. 国民生产总值——GDP
- C. 国际货币基金组织——IMF
- D. 世界卫生组织——WHO
13. 关于京剧艺术，下列说法错误的是：
- A. 京剧腔调以西皮、二黄为主，被视为中国国粹
- B. 昆曲是京剧的前身，表演的艺术手段主要是唱、念、做、打
- C. 《红灯记》《沙家浜》《智取威虎山》是现代京剧的代表作
- D. 2010年京剧被列入“人类非物质文化遗产代表作名录”
14. 下列关于声音的常识，说法错误的是：
- A. 人耳可以听到的声音频率在20Hz-20000Hz之间
- B. 声音在不同介质中传播速度一般是固体大于液体
- C. 未见其人先闻其声，是因为声波波长较长，容易发生反射现象
- D. 音调指声音的高低，响度指声音的强弱，音色主要指声音的特色
15. 表面张力的形成同处在液体表面薄层内的分子的特殊受力状态密切相关。下列现象，与表面张力无关的是：
- A. 毛笔上的墨汁不会掉下来
- B. 荷叶或芋叶上滚动的水珠
- C. 氢气球会浮在空中
- D. 吹出的肥皂泡泡
16. 下列古诗文或俗语中所描写的现象与其蕴含的气象知识对应错误的是：
- A. 随风潜入夜，润物细无声——在春季，由暖锋形成的春雨，一般雨势较小
- B. 一场春雨一场暖，一场秋雨一场寒——暖锋和冷锋过境后的效果
- C. 天无三日晴，地无三尺平——江淮地区准静止锋形成的梅雨现象
- D. 春雨贵如油，夏雨满街流——华北地区春旱，春天仍在冷气团的控制下
17. 生活在东汉时期的医者，在其所在的时期最不可能学习到的著作是：
- A. 《黄帝内经》
- B. 《伤寒杂病论》
- C. 《千金方》
- D. 《神农本草经》
18. 古罗马法学家西塞罗说：“因为法律统治执政官，所以执政官统治人民，我们真正可以说，执政官是会说话的法律，而法律乃是不会说话的执政官。”对这段话的理解，下列表述正确的是：
- A. 只要执政官所说的话，都是法律
- B. 执政官是法律的产物，必须服从法律
- C. 执政官的统治与法律的统治完全相同
- D. 执政官对法律的解释不具有法律效力
19. 下列属于司法活动范畴的是：
- A. 某司法局审查并发放律师执业证
- B. 某区市场监督管理部门检查工厂制造产品
- C. 交警对吴某闯红灯进行口头教育
- D. 检察机关对犯罪嫌疑人范某以涉嫌抢劫罪予以批准逮捕
20. 下列关于我国近代史上的“第一”，表述错误的是：

- A. 中国第一个资产阶级革命团体——兴中会
- B. 中国近代史上第一个不平等条约——《南京条约》
- C. 中国人提出在中国发展资本主义的第一个方案——《天朝田亩制度》
- D. 中国第一个对马克思主义作出系统完整介绍的人——李大钊

第二部分 - 言语理解与表达

本部分包括表达与理解两方面的内容。请根据题目要求，在四个选项中选出一个最恰当的答案。

21. 近年来在许多地方，“校闹”频发让学校疲于招架，让教师_____；学生在校园遭遇安全事故要闹，对老师安排座位不满意要闹，孩子被罚抄课文还要闹……“校闹”现象干扰了正常教学秩序，破坏了良好教育生态，治理“校闹”，目前已有相关规定，却收效不大，需要进一步细化落实。

填入画横线部分最恰当的一项是：

- A. 忧心如焚
- B. 垂头丧气
- C. 无所适从
- D. 人人自危

22. 一直以来，为偶像打榜、刷数据_____，其背后除了粉丝的狂热之外，更有“大粉”们的引导和灰色产业链的助推。此前，“星缘”APP利用粉丝给“爱豆”刷流量的需求，疯狂牟利，不到一年吸金800余万元。

填入画横线部分最恰当的一项是：

- A. 大张旗鼓
- B. 大行其道
- C. 风靡一时
- D. 蔚然成风

23. 老龄化社会遭遇“扫码时代”，如何找到办法让两者_____，如何让老年人过上正常生活进而可以安享便利？解决这一难题，需要个人、家庭、社会通力合作。

填入画横线部分最恰当的一项是：

- A. 不相上下
- B. 并行不悖
- C. 双管齐下
- D. 大同小异

24. 相比踏踏实实的实干，纸上文章好做易做。但扶贫数据看上去很美，不代表贫困群众真的满意。“材料扶贫”无异于_____，非但打不赢决战脱贫攻坚这样的硬仗，长此以往反而会损害全民致富奔小康的国家大计。

填入画横线部分最恰当的一项是：

- A. 画饼充饥
- B. 夸夸其谈
- C. 纸上谈兵
- D. 言之无物

25. 除了季节的变换导致夜的长短发生变化，黑夜本身并无变迁可言，昼夜交替是自然规律，_____。夜的变迁发生在与人类的关系中，人类对黑夜的感情十分复杂，黑夜常常与_____联系起来，令人产生长夜漫漫的感觉。

依次填入画横线部分最恰当的一项是：

- A. 一成不变 邪恶
- B. 亘古不变 恐惧
- C. 有条不紊 孤独
- D. 一以贯之 寒冷

26. 对城市而言，限行的好处显而易见。治堵有很多办法，比如多修点马路、合理科学地规划线路、设置通行信号、加快公共交通建设等，但这些办法都会撞到天花板，而限行则_____，上海限行首日通畅的高架就说明了这点。有限的道路资源、停车位资源，跟不上越来越大的需求，不限的话，迟早有一天大家都会堵在路上，_____。

依次填入画横线部分最恰当的一项是：

- A. 药到病除 一动不动
- B. 立竿见影 寸步难行
- C. 行之有效 长吁短叹
- D. 无所顾忌 一筹莫展

27. 不妨大胆假设，如果不是画家嫌写实的鞋子_____、破坏画面，就是因为世风保守，不便画出女子的绣鞋。还有一种可能：画家无意处理鞋子的问题。既然画家并非以照相式记录为追求，观者何必较真？床上到底有没有人，_____，也恰是趣味所在。

依次填入画横线部分最恰当的一项是：

- A. 错综复杂 不言而喻
- B. 纷然杂陈 模棱两可
- C. 扑朔迷离 不置可否
- D. 乱七八糟 显而易见

28. 生活在北宋末年的画家张择端绘制的《清明上河图》，生动描绘了北宋都城东京汴梁的风土人情，真实反映

了汴京以及汴河两岸的自然风光和街市繁荣情景。街市内店铺_____，各类招幌林立，商贾云集，人流如织，叫卖声_____，一派繁华的都市景象被描绘得绘形绘色，呼之欲出。

依次填入画横线部分最恰当的一项是：

- A. 漫山遍野 活灵活现 B. 浩如烟海 响彻云霄 C. 鳞次栉比 余音绕梁 D. 星罗棋布 此起彼伏

29. 科研需要踏踏实实，需要兢兢业业，更不要说需要夜以继日、_____了。那么，一个科研工作者——即使是诺贝尔奖得主，怎么可能在走马观花中，只蜻蜓点水般地在某处站站脚、说些话，就能_____了？

依次填入画横线部分最恰当的一项是：

- A. 专心致志 扭转乾坤 B. 废寝忘食 脱胎换骨 C. 殚精竭虑 点石成金 D. 披星戴月 画龙点睛

30. 人，当是城市的唯一_____。城市化的逻辑必须修正，城市化的运行亟待转轨。从规模扩张到形象塑造再到品质_____，再聚焦于人性化的张扬，城市化已在书写一个_____的版本。

依次填入画横线部分最恰当的一项是：

- A. 尺度 提升 崭新 B. 标准 改善 多样 C. 牵挂 升级 全新 D. 主宰 升高 鲜明

31. 电视剧人须百倍珍惜传统文化源远流长的文脉传承，自豪地对待中华民族的优秀历史文化传统和革命历史文化资源，_____好民族文化瑰宝，传承好中华文史精粹，辩证把握、理性萃取深厚传统文化的时代价值，古为今用，_____，将中华民族的文化自信、道路自信通过各种方式熔铸到创作实践中，使作品中的人物形象_____出沁人心脾、滋人心智、撼人心魄的民族情怀、社会责任、道德光彩与文化品性。

依次填入画横线部分最恰当的一项是：

- A. 维护 去粗取精 散发 B. 保护 洋为中用 展示
C. 保卫 继往开来 表现 D. 守护 推陈出新 凸显

32. 和平犹如空气和阳光，受益而不觉，失之则难存。弱肉强食不是人类共存之道，穷兵黩武不是人类和平之计。和平而非战争，合作而非对抗，这才是人类社会进步的永恒主题。_____历史、_____先烈、_____和平、_____未来——无论过去、现在还是未来，都是我们共同的心声。

依次填入画横线部分最恰当的一项是：

- A. 牢记 怀念 珍惜 创造 B. 铭记 缅怀 珍爱 开创
C. 谨记 悼念 爱惜 塑造 D. 铭刻 纪念 重视 刻画

33. 运动健身不仅能增强人的体格、提升身体机能，也能磨练人的意志、锤炼人的精神。健身既是对身体机能的一种唤醒提升，也是对精神意志的一种挑战磨练。这种锻炼能够帮助人们增强意志品格，从精神层面提升耐力、抗压力，储备起强大的“心理能量”，让人在应对困难时更为自信从容、勇敢坚定。

这段文字主要讲的是：

- A. 运动健身不仅为身体赋能，也为精神赋能 B. 当今社会健身运动已成为一种风尚
C. 运动健身能够增强身体和心理的承受力 D. 运动健身有助于自身解决困难

34. 现实中医护人员和患者及家属往往站在不同角度考虑问题，受时间、环境、岗位责任等多种因素影响，医患之间沟通不顺畅，容易引发医患关系紧张和矛盾。但是有了医务社工，可以参与诊疗团队，从患者心理和社会角度提出诊疗建议，同时也可以耐心帮助患者理解诊疗方案，与医生和患者双方充分沟通提高诊疗效率，推动构建和谐医患关系。

这段文字意在说明：

- A. 医务社工的普及一定能够构建和谐医患关系
B. 医患关系紧张的原因是医护人员和家属沟通不畅
C. 医务社工能帮助患者得到更好更适合的治疗和就医体验
D. 医务社工是促进医患有效沟通和医疗信息传递的桥梁

35. 如果从专业发展的角度看，同届不同专业的学生“混居”，不仅会拓展学生的知识面，从更多维度构建学生

的知识结构，还会给学生带来非专业的专业视角，在4年或更长学习时间里相互交流，让学习科学专业的学生从同住的学习文科专业的学生那里感受人文气息，同时也让学习文科专业的学生从学习科学专业的学生那里熏陶到科学精神，这样的住宿“布局”，是不是更有利于培养视野宽阔的人才？

这段文字旨在说明：

- A. “混居”模式帮助学生拓展知识结构
- B. “混居”模式的独特之处
- C. 学生“混居”对人才培养的好处
- D. 学生“混居”优势大于劣势

36. 对于外国游客而言，除了中国广袤大地上的壮美风光之外，中国的魅力还来自于传统文化。尽管目前入境游还未恢复，以入境游为业务的旅游企业却已在提前谋划布局。然而无论怎样，让外国游客发现中国文化的独特魅力，应成为这些企业的着力点和突破口。

这段文字意在强调：

- A. 外国游客被中国的传统文化所吸引
- B. 旅游企业需做好向外国游客宣传讲解中国文化的日常工作
- C. 旅游企业需提前计划安排好入境游业务
- D. 引导外国游客发现中国文化魅力是旅游企业的工作关键

37. 数据只有在流动、分享、加工、处理的过程中才有价值，海量数据集合而成的大数据，在带来便利和机遇的同时，也产生了安全风险。找到保护和利用之间的平衡点，数据分级分类很有必要。一旦实现数据的分级分类，什么是可收集、使用、交易的一般信息，什么是不可使用、不可交易的个人隐私或敏感信息，就会有明确界定。相应的，根据数据级别和类别，就有了不同的安全防护措施和判断违规违法行为的依据。可见，数据分级分类既是数据安全治理过程的重要环节，也是数据精细化管控的依据。

这段文字意在说明：

- A. 数据分级分类可以防止数据泄露
- B. 数据分级分类对于数据安全保障的重要性
- C. 如何进行数据分级分类
- D. 数据保护的必要性

38. 一则报告显示，从数字化阅读方式的人群分布特征来看，中国成年数字化阅读方式接触者中，18-29周岁人群占31.7%，30-39周岁人群占24.8%，40-49周岁人群占23.1%，50-59周岁人群占12.8%。对倾向阅读形式的研究发现，36.7%的成年国民更倾向于“拿一本纸质图书阅读”，比2018年的38.4%下降了1.7个百分点；有43.5%的国民倾向于“手机阅读”，比2018年的40.2%上升了3.3个百分点。

以下说法与原文不相符的是：

- A. 中国成年数字化阅读接触者中，近八成是18-49周岁人群
- B. 倾向手机阅读的读者比例有所上升
- C. 超过半数成年国民倾向于数字化阅读方式
- D. 18-29周岁人群在数字化阅读人群中所占比重最大

39. 穿着汉服等传统服饰、一次又一次地“复习”国乐跨界视频，是不少年轻人眼里的古风时尚。近些年古风逐渐被大众了解、接受并喜爱。古风文化作为一个圈层文化，尤其在年轻人中间有较大的吸引力。谈到“李子柒为什么这么火”时，业界普遍认为，除了得益于李子柒在商业运作上的高超得当，也与古风在时下的流行风潮密不可分。这归根结底是年轻人对传统文化的认同和向往。

这段文字最后一句话中的“这”指的是：

- A. 穿着汉服等传统服饰
- B. 年轻人喜欢并追求古风文化
- C. 李子柒为什么这么火
- D. 古风对于大众的吸引力

40. 火热的短视频，为传统文化的传播提供了新的渠道。然而，进入各大短视频平台会发现，玩模仿秀、秀萌宠、拼搞笑、竞才艺、秀美食、炫技能等各种内容比比皆是，可跟传统文化有关的内容却少之又少，在全面复兴优秀传统文化的时代背景下，传统文化缘何缺席短视频平台？

这段文字接下来最可能讲述的是：

- A. 传统文化与短视频渠道的衔接
B. 传统文化大量通过短视频传播的原因
C. 传统文化应该怎么在短视频平台发展
D. 传统文化通过新媒体传播时面临的短板

41. 社交工具升级、社交能力降级，是当下年轻人群体的一种生活交际尴尬。当下许多年轻人自称的“社恐”尚未达到疾病的程度，只是一种对社交回避、抗拒的负面情绪，但这种带有倾向性的社交焦虑，却需引发人们关注。年轻人热衷线上社交的热闹，非但不能消解“社恐”焦虑，反而会拉大与他人的心理距离。

这段文字接下来最可能讲述的是：

- A. 年轻人群体“社恐”的危害
B. 年轻人群体“社恐”的发展
C. 年轻人群体“社恐”的表现
D. 年轻人群体“社恐”的成因

42. 现代思维方式随着时代和实践的发展不断变化，形成了与传统思维方式区别很大的新角度、新方法。从静态性思维向动态性思维转变表现出系统综合性、动态开放性和自主创新性的特点。

这段文字主要支持的观点是：

- A. 现代思维方式与传统思维方式的研究方法不同
B. 现代思维方式注重新角度和新方法
C. 现代思维方式从静态向动态转变
D. 思维方式随着实践的发展而发展

43. 有人认为只有当经济发展到一定水平，才有可能有效地去治理环境。但是如果等到了严重污染后，再行治理，就需要花费数倍乃至数十倍的经济代价。因此，“先污染，后治理”的观点是不可取的。

这段文字主要支持的观点是：

- A. 环境治理花费较大
B. 环境治理应防治结合，以防为主
C. 环境问题事关个人切身利益
D. 经济发展要与环境相适应

44. 古往今来，诚信的力量从来都不曾被忽视。商鞅徙木立信的故事广为流传，季布一诺千金的佳话不绝于史，“信义兄弟”孙水林、孙东林兄弟20年信守承诺生死接力给农民工送薪。对个人而言，诚信是立身之本，是做人做事必须坚守的道德底线；对企业而言，诚信是无形资产，靠信誉打造品牌才能赢得百姓信赖。

下列最适合做这段文字标题的是：

- A. 言必信，行必果
B. 人而无信，不知其可也
C. 人无信不立
D. 巧诈不如拙诚

45. 微藻是一种古老的低等植物，广泛地分布在海洋、淡水湖泊等水域，种类繁多。微藻可直接利用阳光、二氧化碳和含氮、磷等元素的简单营养物质快速生长，并在细胞内合成大量油脂。因此，微藻为生物柴油生产提供了新的油脂资源。与大豆、油菜和麻疯树等油料植物相比，微藻的生长周期短，从初生到可以制油仅需一个星期左右，而大豆等油料植物一般需要几个月。此外，微藻的含油量高，油脂产率高，单位面积产油量是大豆的数百倍，每公顷可年产几万升生物柴油。微藻还不会占用耕地，利用滩涂、盐碱地、荒漠等，以及海水、荒溪地区的地下水等，就可以大规模地开发“微藻油田”，不会与农作物争地、争水。

对上述文段理解错误的是：

- A. 微藻种类很多且在海洋中可以找到它们的踪迹
B. 微藻的生命周期短，存活时间大约为一周
C. 油脂是在微藻的细胞内合成的
D. 微藻不占用耕地，不与农作物争水

46. 有人说，书香是一座城市最亲切的味道。一看到新华书店的招牌，就想起儿时无数个周末的阅读时光；离家最近的图书馆里，某排架子上还静静躺着曾在迷茫时汲取力量的那册书；越来越丰富的数字阅读资源，不经意间一翻就有意想不到的收获。在安静的书架间，无论是本地居民，还是外来务工者，都有一个共同的名字：_____。

填入画横线部分最恰当的一项是：

- A. 学者，在安静的图书馆里，徜徉在知识的海洋
- B. 学生，在一本本书中，渴求地汲取力量
- C. 普通人，都在努力地汲取知识，获得力量
- D. 读者，在书香的氤氲中，他们获得同样的滋养

47. _____。可是，由于不能考驾照，一些超龄老年人纷纷选择老年代步车作为出行工具，反而带来新的安全隐患。首先，老年代步车的质量参差不齐，不少“三无产品”充斥其中，安全系数低。其次，老年人上路前没有经过专业驾驶技术培训，对各项交通法规更是一知半解，很容易造成交通违法行为，引发道路交通事故。

填入画横线部分最恰当的一项是：

- A. 开车是个技术活，能否申请驾照主要看当事人的身体情况
- B. 由于人们生活水平的不断提高和人均寿命的不断延长，老年人的身体素质普遍提高
- C. 设置申请驾照年龄上限的初衷，是确保驾驶者的身体能力，保障道路交通安全
- D. 老年人开车有自身的优势，小心谨慎、心态平和，遇到“斗气车”也不会去较劲儿

48. _____。然而，随着我国经济快速发展，人民生活水平日益提高，婚俗悄然“变味”。“辛辛苦苦几十年，一婚回到贫困线”不是段子，而是屡见不鲜的现实。动辄十几万到几十万不等的惊人“天价彩礼”，高攀不起的“份子钱”，一摆就是几十桌甚至上百桌的豪华婚宴，尽显低俗甚至触及法律底线的“婚闹”……凡此种种，不一而足，婚俗中的一些不正之风，打着传统文化的旗号，传播的却是不健康、不文明的文化气息。

填入画横线部分最恰当的一项是：

- A. 最令人深恶痛绝的是无底线的低俗乃至愚俗的“婚闹”
- B. 文明的婚俗，是践行社会主义核心价值观的生动实现，是良好社会风尚的重要载体
- C. 婚俗礼仪传承千年，全国各地已形成了各具特色的婚礼习俗，也成为传统文化的重要组成部分
- D. 婚俗之“俗”，乃传统习俗、公序良俗之意，绝无半点庸俗、低俗的味道

49. 迈克尔博士在酵母菌、线虫和果蝇身上试验了一种药物，能够在其他任何条件都不变的情况下延长这三种常用模型生物的寿命。其中酵母菌的寿命延长了17%，线虫和果蝇的寿命延长了10%左右，换算成人类的话大概相当于多活8年。什么药物居然能有这么神奇的功效呢？答案是布洛芬，药店里随便可以买到的止痛药。如此普通而又廉价的小药片居然还能增寿？会不会是试验误差呢？检索一下论文数据库就可以知道，这个发现不是偶然的，还有好几个实验室得出过类似的结论，只可惜类似试验尚未在人类身上做过。

下列说法和文段相符的是：

- A. 好几个实验室都做过和迈克尔博士一样的研究
- B. 事实证明布洛芬可以延长人类8年的寿命
- C. 布洛芬是人们普遍使用的止痛药
- D. 布洛芬是否能够延长人类寿命还有待研究

50. ①一出门，一阵微风轻轻地拂过我的脸颊，拂过山上的树木，发出沙沙的声音，也带来了清新的空气和泥土的芳香

②皎洁的月光倾泻下来，如流水般洒向大地，给万物披上了一层银白色

③夏天的夜晚，不像白天那样炎热，很凉爽

④受不了家里的闷热，我决定出去看看

⑤不像中秋的月亮那样圆润美丽，却别有一番风韵

⑥深蓝色的天空犹如一块巨大的幕布，挡住了太阳，上面挂着一轮弯弯的明月

将以上6个句子重新排列，语序正确的一项是：

- A. ④①⑥②⑤③
- B. ⑥⑤②③④①
- C. ④①③⑥⑤②
- D. ⑥④①②⑤③

第三部分 - 数量关系

在这部分试题中，每道试题呈现一段表述数字关系的文字，要求你迅速、准确地计算出答案。你可以在草稿纸上运算。

51. 8个包装盒里面分别装有17、19、26、27、35、40、42、50包小蛋糕，小李先取走一盒，其余的被小王、小周、小孙拿走，已知小王和小周取走的蛋糕包数相同，并且是小孙拿走的两倍，则小王取走的盒子里面的蛋糕包数最可能是：

- A. 19、26、35 B. 19、35、42 C. 17、27、26 D. 17、35、40

52. 已知某宾馆共有30个房间，一名清洁工拿着30把钥匙，她只知道一把钥匙开一把锁，但是不知道哪把钥匙开哪把锁，现在她要打扫每一间房子，需要将钥匙和房间一一匹配，她最多要试多少次？

- A. 365 B. 385 C. 435 D. 465

53. 某仓库有一批货物以75%的利润率出售，售出90%后，剩下的货物全部以6折出售，那么这批货物的最终利润率为：

- A. 68% B. 62% C. 54% D. 51%

54. 甲乙两人同时沿直线跑道两端匀速相向而行，两人第一次迎面相遇时距跑道中点50米，两人到达跑道尽头时立即掉头重新出发，重新出发后两人第二次相遇，第二次两人相遇也为迎面相遇，且距跑道中点150米。则此时两人中速度较快一人比速度较慢一人多行走多少米？

- A. 150 B. 400 C. 200 D. 300

55. 已知2021年7月1日星期四，那么2021年12月10日是星期几？

- A. 星期二 B. 星期三 C. 星期四 D. 星期五

56. 某商店2020年3月每天的营业额比前一天高X元，该月10号的营业额是1号的4倍，12号的营业额为420元。问该商店2020年3月的营业额是多少元？

- A. 16740 B. 18425 C. 24120 D. 31620

57. 甲、乙、丙三人都报名去摄影馆学习摄影技术，甲每隔4天去一次，乙每隔5天去一次，丙每隔6天去一次，三人在星期四第一次相遇，下次相遇的日期为：

- A. 星期一 B. 星期三 C. 星期四 D. 星期五

58. 天气预报对未来五天的天气情况进行了预测，每天晴天的概率都是0.7，不晴天的概率是0.3。那么这5天中恰好3天晴天的概率是多少？

- A. 0.031 B. 0.343 C. 0.185 D. 0.309

59. 某部门有9名员工，从中随机抽取2人参加公司代表大会，要求女员工人数不得少于1人。已知该部门女员工比男员工多1人，则共有多少种方案符合要求？

- A. 24 B. 30 C. 36 D. 72


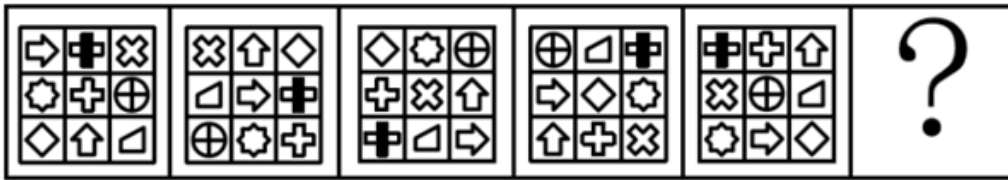
60. 小王平时骑摩托车上班，如果他提速20%，那么他到公司的时间比平时要提早10分钟。假如他提速25%，则他到公司的时间比平时早多长时间？

- A. 16分钟 B. 15分钟 C. 13分钟 D. 12分钟

第四部分 - 判断推理

本部分包括图形推理、定义判断、类比推理与逻辑判断四种类型的试题，请按每道题的答题要求作答。

61. 从所给的四个选项中，选择最合适的一个填入问号处，使之呈现一定的规律性：【2021新疆行政执法061】



A

B

C

D

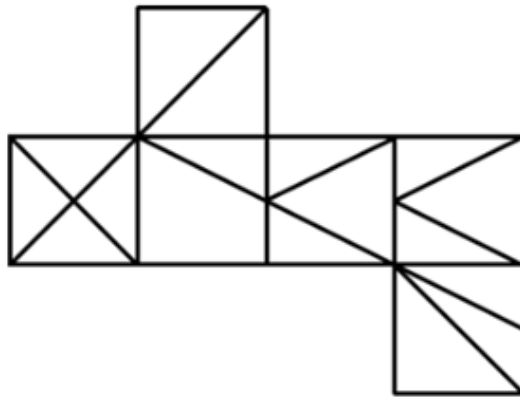
A. 如图所示

B. 如图所示

C. 如图所示

D. 如图所示

62. 左边给出的是纸盒的外表面，右边哪一项能由其折叠而成？【2021新疆行政执法062】



A



B



C



D

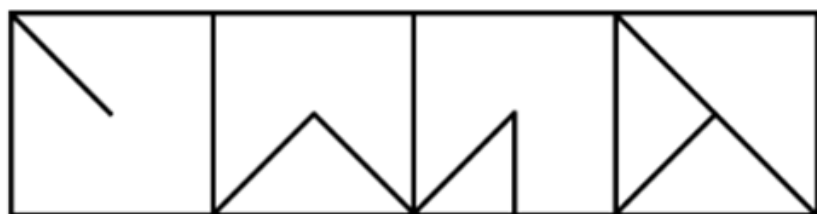
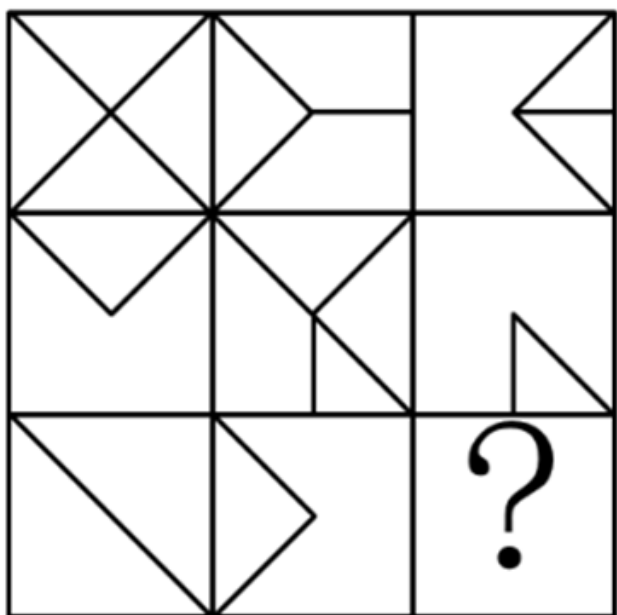
A. 如图所示

B. 如图所示

C. 如图所示

D. 如图所示

63. 从所给的四个选项中，选择最合适的一个填入问号处，使之呈现一定的规律性：【2021新疆行政执法063】



A B C D

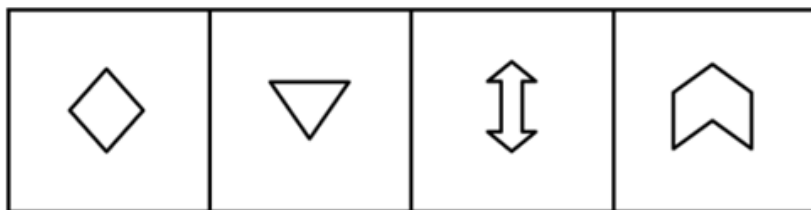
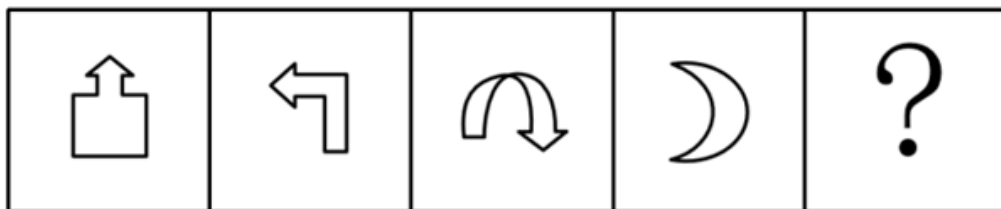
A. 如图所示

B. 如图所示

C. 如图所示

D. 如图所示

64. 从所给的四个选项中，选择最合适的一个填入问号处，使之呈现一定的规律性：【2021新疆行政执法064】



A B C D

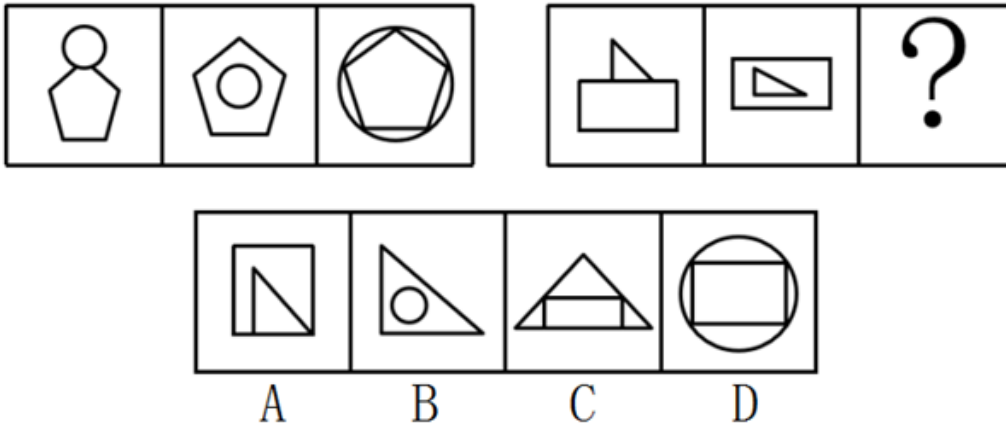
A. 如图所示

B. 如图所示

C. 如图所示

D. 如图所示

65. 从所给的四个选项中，选择最合适的一个填入问号处，使之呈现一定的规律性：【2021新疆行政执法065】



- A. 如图所示 B. 如图所示 C. 如图所示 D. 如图所示

66. 我们对一个难题束手无策，不知从何入手时，思维就进入了“酝酿阶段”。直到有一天，当我们抛开面前的问题去做其他的事情时，百思不得其解的答案却突然出现在我们面前，这就叫“酝酿效应”。

根据上述定义，下列哪一诗句是这一效应的写照？

- A. 云外经年见双阙，马头乘兴数前山 B. 不识庐山真面目，只缘身在此山中
C. 山重水复疑无路，柳暗花明又一村 D. 风飒沉思眼忽开，尘埃污得是庸才

67. 幸存者偏差指的是当取得资讯的渠道，仅来自于幸存者时，此资讯可能会与实际情况存在偏差。

根据上述定义，下列结论的得出存在幸存者偏差的是：

- A. 李老师通过小刚的成绩单看出小刚偏好文科
B. 警察通过调查监控发现小赵并没有偷超市里的东西
C. 王老师分别与小明、小亮谈话后总结出了他们俩打架的原因
D. 媒体对长寿老人进行采访发现他们都喜欢喝葡萄酒，便得出喝葡萄酒可以长寿的结论

68. 共生营销就是两个或两个以上的企业通过分享市场营销中的资源，达到降低成本、提高效率、增强市场竞争力目的的一种营销策略。

根据上述定义，下列属于共生营销的是：

- A. 某印刷厂和图书发行公司决定整合资源，成立新的集团公司
B. 安踏公司推出的安踏和漫威联名款产品，受到漫威狂热粉的争相抢购
C. 某企业售卖自己公司产品的同时，也在帮忙售卖朋友公司推出的新产品
D. 五个家具企业整合各自品牌优势，联合共同举办看样订货会，吸引了更多商客

69. 阳性强化法是建立、训练某种良好行为的治疗技术或矫正方法，也称“正强化法”或“积极强化法”。通过及时奖励目标行为，忽视或淡化异常行为，促进目标行为的产生。

根据上述定义，如果要纠正一名经常乱扔玩具、把饭撒桌子上等不断制造麻烦的儿童的行为，下列治疗方法不属于阳性强化法的是：

- A. 当他乱扔玩具时，及时制止，并让他旁观其他小朋友整理玩具的过程，然后引导他将自己的玩具放置好
B. 当他出现认真收拾饭桌上自己撒的饭渣行为时，家长和老师及时积极鼓励和表扬，让他感受到更多的关注，促进他不断重复目标行为
C. 当他随便乱扔玩具、哭闹不停时，周围人对他的这种不良行为不予关注，没有半分反应
D. 家长对于他不乱扔玩具的行为，每减少一次就奖励一次他自己喜欢的东西，慢慢的他乱扔玩具的频率越来越低

70. 旁观者效应也称为责任分散效应，是指对某一件事来说，如果是单个个体被要求单独完成任务，责任感就会很强，会做出积极的反应。但如果是要求一个群体共同完成任务，群体中的每个个体的责任感就会很弱，面对

困难或遇到责任往往会退缩。

根据上述定义，下列属于旁观者效应的是：

- A. 小赵开车在公路上行驶时，车辆发生故障，小赵在车道设立警示标识，示意后面车辆绕行
- B. 运送水果的货车在高速路上发生侧翻，附近居民一哄而上捡拾水果带回家
- C. 小李看到路旁停放的自行车被风吹倒，跟着行人一起绕开走了
- D. 小孙看到有人在路边突然晕倒，见周围无人见证，怕承担责任不敢上前帮助

71. 知觉恒常性是指，当客观条件在一定范围内改变时，我们的知觉印象在相当程度上，保持着它的稳定性。即对物体某种特性的知觉，在外界条件与感觉信号输入改变时，仍保持常定的倾向。

根据上述定义，下列未体现出知觉恒常性的是：

- A. 在观察一本书时，不管从正上方看还是从斜上方看，看起来都是长方形的
- B. 一个成人从远处走向近处，眼睛看到的人像虽然相应缩小，但不会把他当成儿童
- C. 室内的家具，在不同色光照明下，对其颜色知觉仍保持相对不变
- D. 古语说：窥一斑而知全豹，就是通过豹子的一个斑点，就可以得出这个动物是豹子

72. 气候贫穷，是指由于全球气候变化带来的影响及产生的灾害所导致的贫穷或使得贫穷加剧的现象。

根据上述定义，下列不属于气候贫穷的是：

- A. 西北地区夏季增温幅度大而降水增加量少，影响农业生产导致农民返贫
- B. 突然发生的地震给人们的生命财产造成了极大的损失，使他们一夜致贫
- C. 气候变化增加了疾病的发生和传播的机会，危害人类健康，贫困地区劳动力不断减少，贫者愈贫
- D. 全球气温不断升高，冰川面积缩减进一步加剧了某地的水资源矛盾，给他们的生产生活造成极大影响，使贫困加剧

73. 反馈原来是物理学中的一个概念，心理学借用这一概念，以说明学习者对自己学习结果的了解，而这种对结果的了解又起到了强化作用，促进了学习者更加努力学习，从而提高学习效率。这一心理现象被称作“反馈效应”。

根据上述定义，下列说法符合反馈效应的是：

- A. 小李参加公司的新员工培训成绩最差，心灰意冷，未过试用期就提出了辞职
- B. 老师习惯于按照学习成绩的好坏来划分学生的优劣，并据此来指导学生的学习
- C. 让学生自己来评改练习作业，比由老师来评改所起到的激励作用要大，学习效果更佳
- D. 小明帮妈妈打扫卫生，妈妈却嫌弃小明打扫得不干净

74. 法的适用，通常是指国家司法机关根据法定职权和法定程序，具体应用法律处理案件的专门活动。

根据上述定义，下列属于法的适用的是：

- A. 某科技公司根据法律相关规定和李某签订了劳动合同
- B. 张某依法将子女送入学校进行义务教育
- C. 某海关工作人员认为刘某涉嫌走私手机，因而对其进行查办
- D. 某地检察机关对王某的渎职案依法进行侦查

75. 蝴蝶效应，是指在一个动力系统中，初始条件下微小的变化能带动整个系统长期巨大的连锁反应。它是一种混沌现象，说明了任何事情发展均存在定数与变数，事物在发展过程中，其发展轨迹有规律可循，同时也存在不可测的变数，往往还会适得其反，一个微小的变化能影响事物的发展，证实了事物的发展具有复杂性。

根据上述定义，下列没有反应蝴蝶效应的是：

- A. 美国发现一宗疑假疯牛病案例，牛肉产业遭到冲击，作为养牛业主要饲料来源的美国玉米和大豆业，期货价格呈现下降趋势。美国消费者对牛肉产品出现的信心下降，给刚刚复苏的美国经济带来一场破坏性很强的飓风
- B. 某员工因不公平待遇离职，带走了有同样遭遇的几名员工，他们自主创业后，与原公司竞争，导致原公司破产

C. 丢失一个钉子，坏了一只蹄铁；坏了一只蹄铁，折了一匹战马；折了一匹战马，伤了一位骑士；伤了一位骑士，输了一场战斗；输了一场战斗，亡了一个帝国

D. 某公司因经济不景气面临破产的危机，为了节源，他们裁掉了很大一部分员工，只留下骨干员工

76. 文科：历史

A. 手提包：双肩包 B. 咸水湖：鄱阳湖 C. 桃：水果 D. 微量元素：铅

77. 患得患失：三三两两

A. 好大喜功：浑浑噩噩 B. 居安思危：口口声声 C. 能屈能伸：兢兢业业 D. 捕风捉影：茕茕孑立

78. 教练：学员

A. 歌唱家：唱歌 B. 医生：病人 C. 律师：法庭 D. 作家：读者

79. 布：衣服

A. 牛奶：酸奶 B. 粮食：酒 C. 木材：餐桌 D. 朱古力：巧克力

80. 手：足

A. 口：鼻 B. 钢：铁 C. 心：肝 D. 男：女

81. 七上：八下

A. 五颜：六色 B. 三长：两短 C. 欺上：瞒下 D. 万紫：千红

82. 黄果树瀑布：西江苗寨：贵州

A. 洪泽湖：洞庭湖：江苏 B. 黄山：太湖：浙江
C. 庐山：会稽山：江西 D. 泰山：大明湖：山东

83. 负荆请罪：廉颇：蔺相如

A. 萧规曹随：萧何：曹奇 B. 一字之师：齐己：郑谷
C. 图穷匕见：张良：秦王 D. 手不释卷：吴蒙：孙权

84. 莫愁前路无知己 对于 () 相当于 () 对于 感恩

A. 爱情 恩疏媒劳志多乖 B. 场所 千古兴亡多少事
C. 离别 报答平生未展眉 D. 送别 西出阳关无故人

85. () 对于 冰箱 相当于 () 对于 教师

A. 空调 医生 B. 食物 教室 C. 冷冻 校长 D. 防腐 家长

86. 某社区公共财物被损毁，公安机关锁定了四名犯罪嫌疑人，并分别对他们进行了审问：

甲：我没有做这件事，这件事是乙做的；

乙：甲、丙、丁中肯定有一人做了这件事；

丙：此事是由甲和乙中的一人做的；

丁：甲说的是事实。

经过调查，发现两个人说的真话，由此可以推出：

A. 甲是罪犯 B. 乙是罪犯 C. 丙是罪犯 D. 丁是罪犯

87. 某兴趣小组成员都是艺术特长生，有的艺术特长生体育很好，小明体育很好。由此可以推出：

A. 小明是艺术特长生 B. 小明不是艺术特长生
C. 该兴趣小组成员体育都很好 D. 该兴趣小组成员可能体育都不好

88. 某研究团队最新研究显示，偏头痛患者的大脑视觉皮层会“过度兴奋”。招募60名志愿者参加了相关试验，其中有一半人患有偏头痛。试验中研究人员向志愿者展示了条纹栅格测试图，并让他们回答看后是否感到不舒服；进一步的测试中，还让他们在看图的同时接受脑电图测试。结果发现那些患偏头痛的志愿者在看到条纹栅

格测试图后脑部的视觉皮层出现了较明显的反应。

以下哪项为真，最不能削弱研究者的结论？

- A. 在那些没有患偏头痛但对视觉刺激比较敏感的某些志愿者中，视觉皮层也会出现类似反应
- B. 此项研究中所研究的样本数量过少没有说服力
- C. 偏头痛患者看除条纹栅格测试图之外的其他测试图，大脑视觉皮层并未有明显反应
- D. 志愿者在做此项试验之前并未受到其他因素干扰

89. 发酵乳制品因为其丰富的营养和益生菌含量，给人们带来了广泛的健康益处，比如，益生菌中最突出的乳酸杆菌和双歧杆菌能够减少病理改变，刺激粘膜免疫与炎症介质相互作用和增强免疫系统。最近，有科学家通过对190多万人的研究得出，发酵乳制品能够降低肿瘤的发生风险。

以下哪项如果为真，最能支持上述结论？

- A. 目前国内未有此类明确的专业报道
- B. 发酵物产生的益生菌都是对身体有益的
- C. 喝酸奶能够降低19%的肿瘤发生风险，此说法受到权威专家的认可
- D. 发酵乳制品中的益生菌可以维持肠道稳态并发挥潜在的抗癌作用

90. 相比那些不练习瑜伽的人来说，经常练习瑜伽的人体型更好一些。可见，瑜伽能锻炼人的柔韧性，塑造完美体型。

以下哪项如果为真，最能对上述结论提出质疑？

- A. 大部分人喜欢瑜伽，就是因为瑜伽能够让人拥有更好的体型
- B. 塑造完美体型的方式不仅仅只有瑜伽
- C. 瑜伽不仅能够塑造人的完美体型，还能预防关节炎
- D. 真正体型不好的人一般不会选择练习瑜伽

91. 某公司发生失窃案，公安机关经过调查锁定了犯罪嫌疑人是该公司会计张某。办案民警小王说：“一定不是他”，办案民警小李发表了反对观点：“当其他可能性被排除了，剩下的不管看起来多么不可能，但一定是事情的真相。”

以下哪项如果为真，最能削弱小李的说法？

- A. 追究违法行为最重要的是用证据说话
- B. 办案民警无法极尽所有可能性
- C. 办案民警小王比小李更了解案件经过
- D. 公司职员评价张某平时为人老实诚恳

92. 只有市值超过100亿的企业才能加入企业联盟。只要加入企业联盟的企业就会被评为优秀企业。甲市的部分企业是企业联盟会员。乙市的企业市值都没有超过100亿。

根据上述论断，不能推出的是：

- A. 甲市的部分企业被评为优秀企业
- B. 乙市有的企业被评为优秀企业
- C. 乙市的企业都没有加入企业联盟
- D. 甲市的部分企业市值超过100亿

93. 要保证学生的视力健康，就必须让他们与不卫生的用眼习惯作斗争；如果不对他们错误的用眼行为加以纠正，就会助长他们的不卫生用眼习惯。因此：

- A. 有不卫生的用眼习惯的人中没有学生
- B. 只有学生才会与不卫生的用眼习惯作斗争
- C. 如果不让学生与不卫生的用眼习惯作斗争就无法保证学生的视力健康
- D. 所有学生都与不卫生的用眼习惯作斗争

94. 小明根据明天的课程制定了预习计划，数学、语文、英语、政治、历史、地理、生物七科，每一科都要预习，但是预习的顺序必须符合如下要求：

- (1) 预习地理之前要先预习英语，预习这两科之间还要预习另外两科（生物除外）；
- (2) 第一科或者最后一科预习政治；

(3) 第三科预习历史;

(4) 预习生物要在地理之前或者刚预习完地理之后。

如果小明首先预习英语，则可以确定他的预习顺序是：

- A. 第二科预习语文 B. 第五科预习生物 C. 第五科预习地理 D. 第二科预习数学

95. 某次幼儿园的课堂上，老师拿出五种水果，并依次编号为①—⑤，然后要求小朋友说出其中任意两种水果的名称。

小李说：③是苹果，②是龙眼。

小赵说：④是香蕉，②是猕猴桃。

小钱说：①是香蕉，⑤是梨子。

小孙说：④是梨子，③是猕猴桃。

小王说：②是苹果，⑤是龙眼。

结果是他们每人只说对了一半，根据以上条件下列正确的是：

- A. ①是香蕉，②是苹果 B. ②是猕猴桃，③是梨子
C. ③是苹果，④是梨子 D. ④是龙眼，⑤是梨子

第五部分 - 资料分析

针对下列图、表或文字回答问题。你应根据资料提供的信息进行分析、比较、计算、处理。你可以在题本上运算。

2019年前三季度，全国居民人均可支配收入22882元，比上年同期名义增长8.8%。其中，城镇居民人均可支配收入31939元，增长（以下如无特别说明，均为同比名义增长）7.9%；农村居民人均可支配收入11622元，增长9.2%。前三季度，全国居民人均可支配收入中位数19882元，增长9.0%，中位数是平均数的86.9%。其中，城镇居民人均可支配收入中位数29304元，增长7.6%，是平均数的91.8%；农村居民人均可支配收入中位数10172元，增长10.0%，是平均数的87.5%。

按收入来源分，前三季度，全国居民人均工资性收入13020元，增长8.6%；人均经营净收入3757元，增长9.3%；人均财产净收入1949元，增长12.3%；人均转移净收入4157元，增长7.2%。

2019年前三季度，全国居民人均消费支出15464元，比上年同期名义增长8.3%。其中，城镇居民人均消费支出20379元，增长7.2%；农村居民人均消费支出9353元，增长9.5%。

前三季度，全国居民人均食品烟酒消费支出4310元，增长6.1%；人均衣着消费支出962元，增长3.8%；人均居住消费支出3607元，增长10.3%；人均生活用品及服务消费支出926元，增长3.2%；人均交通通信消费支出2078元，增长7.6%；人均教育文化娱乐消费支出1766元，增长13.5%；人均医疗保健消费支出1414元，增长10.9%；人均其他用品及服务消费支出401元，增长11.1%。

96. 2018年前三季度，全国居民人均可支配收入是多少元？

- A. 20112.35 B. 21031.25 C. 22314.56 D. 27456.32

97. 2019年前三季度，四种收入来源中收入同比增量最高的是：

- A. 人均工资性收入 B. 人均经营净收入 C. 人均财产净收入 D. 人均转移净收入

98. 2019年前三季度，城镇居民人均可支配收入平均数约是农村居民人均可支配收入平均数的多少倍？

- A. 2.43 B. 2.56 C. 2.75 D. 2.91

99. 2019年前三季度，排名前三的人均消费支出约占总消费支出的比重为：

- A. 55% B. 60% C. 65% D. 71%

100. 根据以上资料，可以推出的是：

- A. 2018年前三季度，全国居民人均消费支出高达2万元
B. 2019年前三季度，全国居民人均经营净收入占全国居民人均可支配收入的20%以上

- C. 2019年前三季度,全国居民人均食品烟酒消费支出的增长量约为247.79元
D. 2019年前三季度,全国居民人均可支配收入比全国居民人均消费支出多7500元以上

2018年共进口木材11194.4万立方米(原木锯材合计,原木材积)金额210.9亿美元,同比分别增长3.2%和5.6%。数量增幅比上年同期下降了12.9个百分点,金额增幅下降了17.6个百分点。

2018年进口木材及木制品总金额245.89亿美元(不含纸及纸制品),增长6.3%。出口总金额362.53亿美元,增长2%。2018年进口原木5974.9万立方米,金额101.08亿美元,分别增长7.9%和10.7%;进口锯材3674万立方米,金额101.08亿美元,分别下降1.7%和增长0.4%。

2018年木家具进口金额9.24亿美元,增长3.6%,木框架坐具进口金额3.32亿美元,增长13.8%。刨花板2016年进口增幅41%,2017年增幅21%,2018年进口69.2万吨,为负增长(-2.7%)。2018年木制品出口金额仅增长2%。2018年木家具出口数量增长5.68%,金额负增长1.6%,木地板出口26.6万吨,3.85亿美元,分别下降24.8%和下降25.9%。胶合板出口1137.8万立方米,55.56亿美元,数量增长5%,金额增长9%,纤维板出口179万吨,38.35亿美元,数量下降14.9%,金额增长6.2%。木制品出口企业普遍效益下降。2018年进口针叶原木4159.7万立方米,金额57.86亿美元,同比分别增长8.8%和12.6%。

针叶原木从新西兰进口1729.4万立方米,增长23.2%,俄罗斯795.3万立方米,下降10.1%。美国502.8万立方米,增长2.3%,澳大利亚413.4万立方米,下降3.7%。乌拉圭209万立方米,同比增长175.4%,从日本进口针叶原木92.3万立方米,同比增长23%。2018年进口针叶锯材2488万立方米,金额49.91亿美元,分别下降0.7%和增长2.3%。其中来自俄罗斯针叶锯材1567.4万立方米,增长9.7%,占进口针叶锯材63%,从加拿大进口417.4万立方米,大幅下降18.2%,占进口针叶锯材的17%。

101. 2017年,针叶原木进口量排第四的是哪个国家?

- A. 俄罗斯 B. 美国 C. 澳大利亚 D. 乌拉圭

102. 2017年进口原木约是进口锯材的多少倍?

- A. 1.48 B. 1.63 C. 1.74 D. 1.85

103. 2017年从加拿大进口的针叶锯材占总进口的比重约为:

- A. 62.70% B. 40.25% C. 34.68% D. 20.37%

104. 2018年,下列三种产品出口金额增长值从大到小的顺序排列正确的是:

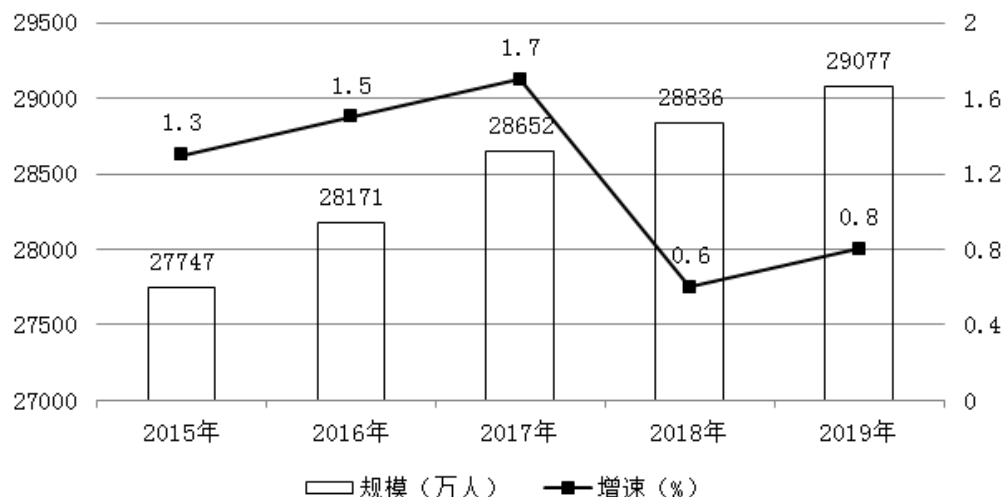
- A. 木地板、胶合板、纤维板 B. 胶合板、纤维板、木地板
C. 木地板、纤维板、胶合板 D. 胶合板、木地板、纤维板

105. 可以根据上述资料推出的是:

- A. 2018年进口木材增长量小于340万立方米
B. 2018年进口原木金额的增长值小于进口锯材金额的增长值
C. 2018年木框架坐具进口金额约占木家具进口金额的35.93%
D. 2018年刨花板的进口数量比2017年多

2019年农民工总量达到29077万人,比上年增加241万人,增长0.8%。其中,本地农民工11652万人,比上年增加82万人,增长0.7%;外出农民工17425万人,比上年增加159万人,增长0.9%。在外出农民工中,年末在城镇居住的进城农民工13500万人,与上年基本持平。

2015-2019年我国农民工规模及增速



在外出农民工中，在省内流动的农民工9917万人，比上年增加245万人，增长2.5%；跨省流动农民工7508万人，比上年减少86万人，下降1.1%。省内流动农民工占外出农民的56.9%，所占比重比上年提高0.9个百分点。分地区看，除东北地区省内流动农民工占外出农民工的比重比上年下降3.4个百分点以外，东部、中部和西部地区省内流动农民工占比分别比上年提高0.1、1.4和1.2个百分点。

2019年外出农民工地区分布及构成

单位:万人、%

按输出地分	外出农民工总量			构成		
	外出农民工			外出农民工		
		跨省流动	省内流动		跨省流动	省内流动
合计	17425	7508	9917	100.00	43.1	56.9
东部地区	4792	821	3971	100.00	17.1	82.9
中部地区	6427	3802	2625	100.00	59.2	40.8
西部地区	5555	2691	2864	100.00	48.4	51.6
东北地区	651	194	457	100.00	29.8	70.2

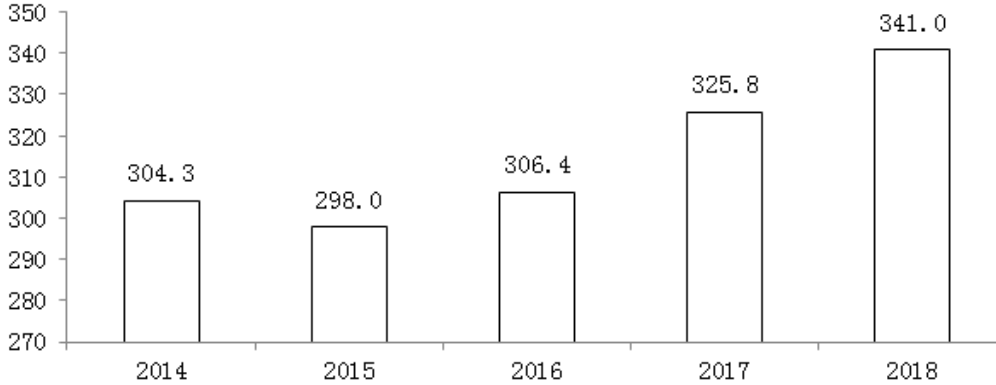
106. 2018年外出农民工中，在省内流动农民工大约是跨省流动农民工的多少倍？
A. 1.34 B. 1.30 C. 1.27 D. 1.37
107. 2015-2019年期间，共出现几次农民工规模年增长人数高于400万人的情况？
A. 0 B. 1 C. 2 D. 3
108. 2018年，中部地区外出农民工中，省内流动农民工约占：
A. 40.7% B. 39.4% C. 39.6% D. 37.4%
109. 2019年，中部地区跨省流动外出农民工数量占跨省流动外出农民工总量的比重比西部地区高多少？
A. 14.80% B. 15.80% C. 14.59% D. 15.10%
110. 下列选项不能够从上述材料中推出的是：
A. 2018年，东北地区省内流动农民工数量约占外出农民工总量的73.6%
B. 2019年，本地农民工比外出农民工少5773万人
C. 2019年，西部地区外出农民工工人数量比东部地区少763万人
D. 2018年，跨省流动农民工数量约占外出农民工总量的44%

2018年H市粮食种植面积235.7千公顷，油料种植面积3.0千公顷，棉花种植面积0.02千公顷。在粮食种植面积中，

玉米种植面积199.3千公顷，小麦种植面积4.7千公顷。全年粮食产量150.2万吨。其中，夏粮2.4万吨，秋粮147.9万吨。

2018年H市完成邮电业务总量108.2亿元。其中，邮政业务总量40.8亿元，同比增长26.5%；电信业务总量67.4亿元，同比增长56.7%。年末移动电话用户达到341万户，其中，3G移动电话用户达到25.7万户，4G移动电话用户达到241.4万户。全市互联网接入用户89.9万户，其中，新增互联网用户23.8万户。

2014—2018年全市年末移动电话用户数量(单位:万户)



2018年全年全市保费收入65.4亿元，增长0.7%。其中，寿险业务保费收入39.5亿元，下降5.1%；健康和意外险业务保费收入9.1亿元，增长21.6%，增速同比增加5个百分点；财产险业务保费收入3.4亿元，增长25.2%；车险业务保费收入13.3亿元，增长1.8%。全年支付各类赔款及给付21.2亿元，增长5.3%。其中，寿险业务保费赔付11.0亿元，增长1.4%；健康和意外险业务保费赔付3.0亿元，增长68.7%；财产险业务保费赔付0.9亿元，增长5.7%；车险业务保费赔付6.4亿元，下降5.0%。

111. 2018年H市平均每公顷的粮食产量约是：

- A. 5.34吨 B. 5.87吨 C. 6.12吨 D. 6.37吨

112. 2018年H市邮电业务总量同比增速在下列哪一个范围内？

- A. 23%—41% B. 41%—57% C. 57%—71% D. 高于71%

113. 2014年—2018年年末移动电话用户数量同比增速大于3%的年份有几个？

- A. 1个 B. 2个 C. 3个 D. 4个

114. 2016年全年全市健康和意外险业务保费收入约为多少亿元？

- A. 7.5 B. 6.9 C. 6.4 D. 6.1

115. 下列不能从上述资料中推出的是：

- A. 2018年秋粮的产量约是夏粮的62倍
 B. 2017年邮政业务总量约占电信业务总量的75%
 C. 2017年寿险业务保费赔付金额约0.85亿元
 D. 2018年全年保费收入同比增速高于10%的业务类型有2个

扫一扫，对答案

